



PREFEITURA MUNICIPAL DE CURRALINHO-PARÁ
Concurso Público – Edital N°. 001/2008

PROVA OBJETIVA

C A R G O

MICROSCOPISTA

N°. DE INSCRIÇÃO: _____.

O R I E N T A Ç Õ E S

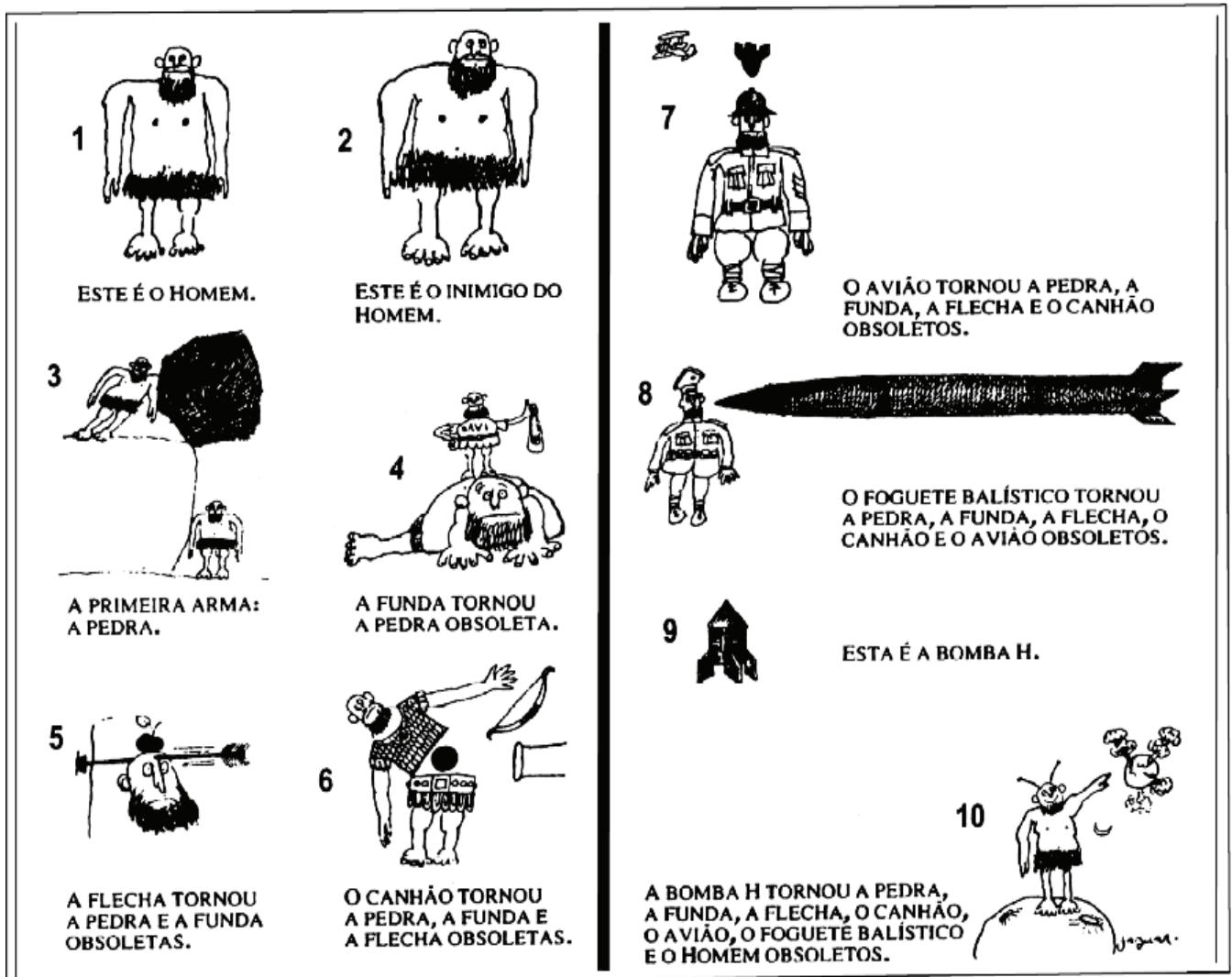
- 1- Este **CADERNO DE PROVA** é composto de 30 (trinta) questões com 04 (quatro) alternativas e somente uma correta e caso exista algum problema de impressão, ou outro qualquer, comunique imediatamente aos fiscais de sala.
- 2- Somente depois de decorridos quarenta e cinco minutos do início da prova, o candidato poderá entregar o seu Cartão Resposta e o Caderno de Questões, e **após decorridos duas horas do início da mesma o candidato poderá levar o Caderno de Questões.**
- 3- Assine seu nome no **CARTÃO RESPOSTA** que você recebeu e transcreva para o mesmo a resposta definitiva de cada questão. Marque somente uma alternativa, pois a marcação de mais de uma alternativa ou a ausência de marcação, **anula a questão.** Preencha corretamente o **CARTÃO RESPOSTA**, pois o mesmo **não será substituído** por erro do candidato e assinale, com caneta esferográfica azul ou preta, a questão correta, conforme exemplo abaixo:

QUESTÃO	ALTERNATIVAS			
01	A	B	C	D

- 4- Esta prova terá duração de 03 (três) horas, com início previsto para às 09 (nove) horas e término às 12 (doze) horas.
- 5- Não será permitido ao candidato entrar e/ou permanecer com armas ou aparelhos eletrônicos (*bip*, telefone celular, relógio do tipo data *banck*, *walkman*, agenda eletrônica, *note book*, *palmtop*, receptor, gravador etc.) ou algum tipo de material para consulta.
- 6- Ao final da prova, devolva ao fiscal o **CARTÃO RESPOSTA**, devidamente preenchido e **assine a lista de presença**, do mesmo modo como está no Documento de Identidade.
- 7- Não será permitido aos fiscais tirarem dúvidas em relação às questões da prova, pois a interpretação faz parte da avaliação.
- 8- O candidato que não assinar o Cartão Resposta, estará automaticamente eliminado.
- 9- Leia atentamente estas instruções e cada questão da prova antes de responder.

BOA PROVA!

LEIA O TEXTO ABAIXO E RESPONDA AS QUESTÕES DE 01 A 05.



JAGUAR. *Átila, você é barbaro*. Rio de Janeiro: Civilização Brasileira, 1968. p. 166-167.

01 - A idéia principal do texto é:

- A- () Mostrar o poder letal que as armas podem gerar para a humanidade.
- B- () Mostrar que sozinho o homem pode fazer armas e pode guardar para matar outros homens.
- C- () O principal inimigo do homem é o próprio homem.
- D- () Mostrar que as armas ao longo do tempo mudam, mas seu poder de destruição não é tão grande.

02 - Ao analisarmos o cartum, verifica-se que o mesmo possui dois tipos de linguagem: a verbal (palavras) e a não-verbal (imagens). Quanto à segunda é correto afirmar:

- A- () O homem possui uniformes militares destacando sua grande força.
- B- () As armas apresentam-se em gradação ascendente quanto ao seu poder letal.
- C- () A imagem seis (6) não é uma realidade no cartum.
- D- () A imagem oito (8) é a mesma coisa que a imagem nove (9).

03 - Marque a opção em que todas as palavras são dissílabas:

- A- () Tornou, pedra, arma, avião.
- B- () Obsoletas, homem, pedra, primeira.
- C- () Avião, funda, bomba, pedra.
- D- () Flecha, canhão, esta, bomba.

04 - Na imagem quatro (4) encontra-se pela primeira vez a palavra “obsoleta”, a qual vai se repetir ao longo do texto. O sinônimo dessa palavra no texto seria:

- A- () pouco poder.
- B- () Impotente.
- C- () Ruim.
- D- () Ultrapassado.

05 - As imagens 1, 2 e 9 apresentam um pronome, classificado sintaticamente como um termo essencial da oração denominado de:

- A- () Predicado.
- B- () Sujeito.
- C- () Objeto direto.
- D- () Adjunto adnominal.

TEXTO PARA AS QUESTÕES DE 05 A 10

Controle Remoto

Fernanda Silva Dora

Txxxxx... ó meu Deus não faça isso, não faça isso, nãããããããããããã! ...txxxxx... realmente, houve a intenção do jogador, e isso caracteriza o pênalti, está correto o árbitro ...txxxxx... quinta-feira, nove da noite, rock história e acústico Nirvana ...txxxxx... não Jack, largue esta arma, pense Jack, não vai valer a pena, pare Jack, pare ...txxxxx... sem querer interromper, já interrompendo, qual a sua atuação em relação à CPI dos Precatórios... bem, eu não tenho nada a ver com isto, quem está me envolvendo nisso está mentindo ...txxxxx... mama África, a minha mãe, é mãe solteira, e tem que fazer mamadeira todo o dia, além de trabalhar como empacoteira nas Casas Bahia ...txxxxx... Carly, please, open the door, c'mom, open the door, I love you, I love...txxxxx... daí o senhor Jesus me libertou daquela angústia ...txxxxx... o Cineview chegou ao fim, mas não fique triste, semana que vem tem mais ...txxxxx... incêndio em prédio no centro de Belém assusta moradores... txxxxx... uhhh, aahhh, ligue, estou esperando você, 0900211076 ...txxxxx... and the Chigaco Bulls have the last shot...txxxxx... boa noite ...txxxxx... e, um beijo do gordo.

06 - Após a leitura do texto, compreendemos que ele emite uma simbologia sonora mais semelhante a que objeto:

- A- () Televisão.
- B- () Telefone.
- C- () Rádio.
- D- () Computador.

07- Qual a passagem que indica que há a presença de uma conjunção coordenada adversativa.

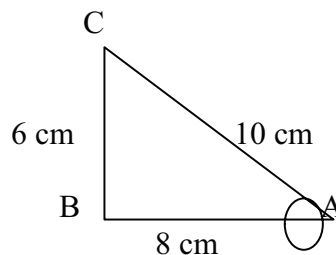
- A- () “Txxxxx... ó meu Deus não faça isso, não faça isso, nãããããããããããã!”.
- B- () “sem querer interromper, já interrompendo, qual a sua atuação em relação à CPI dos Precatórios...”.
- C- () “o Cineview chegou ao fim, mas não fique triste, semana que vem tem mais...”.
- D- () “boa noite ...txxxxx... e, um beijo do gordo.”.

- 08- O uso das reticências indica uma sugestão tanto sonora quanto sintática ao texto. Do início ao final do mesmo ela foi empregada para qual outra finalidade?
- A- () Para indicar que o narrador ou a personagem interrompe uma idéia que começou a exprimir, e passa a considerações acessórias.
- B- () Para marcar suspensões provocadas por hesitação, surpresa, dúvida ou timidez de que fala.
- C- () Para assinalar certas inflexões de natureza emocional (de alegria, de tristeza, de cólera, de sarcasmo, etc.).
- D- () Para indicar que a idéia que se pretende exprimir se completa com o término gramatical da frase, e que não deve ser suprida com a imaginação do leitor.
- 09 - O texto se apresenta em uma forma humorística bem intencionada, para isso se utilizou da rica pontuação, expressões que lembram o dia-a-dia das pessoas e frases famosas ditas por pessoas famosas. Para esse tipo de construção textual, o autor focalizou seu interesse em escrever, predominantemente, qual tipo de texto.
- A- () Argumentativo.
- B- () Descritivo.
- C- () Carta.
- D- () Narrativo.
- 10 - Indique a alternativa em que foi empregada a classe morfológica das interjeições.
- A- () "...realmente, houve a intenção do jogador, e isso caracteriza o pênalti, está correto o árbitro...".
- B- () "...sem querer interromper, já interrompendo, qual a sua atuação em relação à CPI dos Precatórios...".
- C- () "...mama África, a minha mãe, é mãe solteira, e tem que fazer mamadeira todo o dia, além de trabalha como empacotadeira nas Casas Bahia ...".
- D- () "...uhhh, aahhh, ligue, estou esperando você, 0900211076...".

MATEMÁTICA

- 11- Calcule o valor de $(3^{-2} \cdot 3^{-4})^{-3}$.
- A- () 3^{-9}
- B- () 3^{+18}
- C- () 3^{-24}
- D- () 3^{+12}
- 12- Efetuando o produto $4 \sqrt[5]{x^4 y^3} \cdot 5 \sqrt[10]{x^3 y^7} \cdot 2 \sqrt{xy}$, obtemos:
- A- () $40 \sqrt[10]{x^5 y^7}$
- B- () $40 \sqrt[5]{x^8 y^{11}}$
- C- () $40 \sqrt[5]{x^{12} y^{11}}$
- D- () $40 xy \sqrt[5]{x^3 y^4}$
- 13- Dados os segmentos de reta $\overline{MN} = a$ e $\overline{OP} = b$, proporcionais aos segmentos $\overline{RS} = c$ e $\overline{TU} = d$, determine o segmento desconhecido, sabendo que $a = 2$ cm, $b = 6$ cm e $c = 21$ cm.
- A- () $d = 40$ cm
- B- () $d = 54$ cm
- C- () $d = 63$ cm
- D- () $d = 43$ cm

14- Determine o seno do ângulo \hat{A} no triângulo abaixo:



- A- () $3/5$
- B- () $4/5$
- C- () $3/4$
- D- () $4/3$

15- Qual é o conjunto solução da equação $5x^2/4 - x/6 = -3x/8$?

- A- () $S = \{0,6\}$
- B- () $S = \{2,3\}$
- C- () $S = \{0, -1/6\}$
- D- () $S = \{2, 1/6\}$

16- Dada a equação $x^2 + (3m - 9)x - 25 = 0$, para que valor de m teremos uma equação com raízes, cujos valores sejam números simétricos?

- A- () $m = -1$
- B- () $m = 3$
- C- () $m = 6$
- D- () $m = -2$

17- Resolvendo a equação biquadrada $x^4 - 12x^2 = 0$, obtemos:

- A- () $\{-3\sqrt{3}, 0, 3\sqrt{3}\}$
- B- () $\{-6\sqrt{2}, 0, 6\sqrt{2}\}$
- C- () $\{-4\sqrt{2}, 0, 4\sqrt{2}\}$
- D- () $\{-2\sqrt{3}, 0, 2\sqrt{3}\}$

18- Qual o conjunto solução da equação irracional $x - 2 = \sqrt{2x + 20}$?

- A- () $S = \{8\}$
- B- () $S = \{2\}$
- C- () $S = \{-2\}$
- D- () $S = \{-8\}$

19- Resolva o sistema de equações abaixo.

$$\begin{cases} 2x^2 + 3y = -13 \\ 2x - y = 3 \end{cases}$$

- A- () $(1, 2); (5, 7)$
- B- () $(-1, -5); (-2, -7)$
- C- () $(-1, -4); (-2, -9)$
- D- () $(-3, -1); (-2, -8)$

20- Calcule o valor de c na equação $x^2 - 10x + c = 0$ para que uma raiz da equação seja o quádruplo da outra.

- A- () $c = -16$
- B- () $c = 8$
- C- () $c = -4$
- D- () $c = 16$

CONHECIMENTOS GERAIS

21- Leia o texto, observe a figura abaixo e assinale a alternativa correta.

“Continente é uma grande massa de terra emersa e contínua cercada pelas águas oceânicas e mares.”



- A- () A *África* concentra 60% de toda a população mundial e tem a maior área territorial do planeta.
- B- () As baixas temperaturas, inferiores a 0° C no verão e a - 80°C no inverno tornam as condições de vida praticamente impossíveis na *Europa*.
- C- () Na *América* existem países que apresentam um forte atraso econômico e outros problemas, como conflitos armados, doenças e fome.
- D- () A *Oceania* apresenta dois países com alto índice de desenvolvimento econômico e social e os demais países vivem de atividades como agricultura, pesca e turismo.

22 - Observe o mapa abaixo e em seguida leia as afirmações.

I - Com relação aos hemisférios, a maior parte do território brasileiro encontra-se no hemisfério Sul e ao mesmo tempo estão totalmente localizadas no hemisfério Oeste ou Ocidental.

II - O Brasil tem boa parte de suas terras localizadas na zona climática temperada.

III - O Brasil apresenta uma grande extensão territorial e, por essa razão, o país conta com apenas dois fusos horários.

IV - Além da extensa costa litorânea banhada pelo oceano Atlântico, o Brasil tem fronteira com os países da América do Sul, exceto Chile e Equador.



Após a leitura das afirmativas, marque a alternativa que contenha somente itens verdadeiros.

- A- () I e II.
- B- () II e III
- C- () I e IV
- D- () III e IV

23 - Observe a figura e assinale a alternativa correta identificando os pontos extremos e o estado em que se localiza.

- A- () O ponto mais extremo do território brasileiro no sentido norte é a nascente do rio Moa, na serra de Contamana, estado do Acre.
- B- () O ponto mais extremo do território brasileiro ao sul localiza-se no Rio Grande do Sul: o Arroio Chuí.
- C- () O ponto mais extremo do território brasileiro ao leste e a nascente do rio Ailã, localizada no Monte Caburaí, no estado de Roraima.
- D- () O ponto mais extremo do território brasileiro a oeste é a Ponta do Seixas, no estado da Paraíba.



24 - Leia o texto, observe a figura e assinale a alternativa correta.

O clima constitui um fator primordial para o desenvolvimento das sociedades. Muitas tribos indígenas, por exemplo, acreditavam que o clima era controlado por deuses como Sol, a Chuva, a Lua, entre outros.

As variedades de paisagens e vegetações são influenciadas pelos diferentes tipos de clima que ocorreram no nosso planeta.

O clima também influencia as atividades desenvolvidas pelas sociedades como, por exemplo, a escolha dos lugares para plantar e também os costumes, a alimentação e o modo de vestir.

A maior parte do território brasileiro encontra-se nas áreas de baixas latitudes, entre o Equador e o Trópico de Capricórnio. Por causa disso, no Brasil, predominam características do ambiente tropical, mas existem algumas diferenças de uma área para outra, nesse sentido temos os climas Equatorial, Tropical e Subtropical.

O Brasil, pelas suas dimensões continentais possui uma diversificação climática bem ampla, influenciada pela sua configuração geográfica, sua significativa extensão costeira, seu relevo e a dinâmica das massas de ar sobre seu território. Esse último fator assume grande importância, pois atua diretamente sobre as temperaturas e os índices pluviométricos nas regiões do país.



- A- () O Brasil apresenta o clima super-úmido com características diversas, tais como o super-úmido quente (equatorial), em trechos da região Norte; super-úmido mesotérmico (subtropical), na Região Sul do Brasil e sul de São Paulo, e super-úmido quente (tropical), numa estreita faixa litorânea de São Paulo ao Rio de Janeiro, Vitória, sul da Bahia até Salvador, sul de Sergipe e norte de Alagoas.
- B- () O clima semi-árido, também com várias características: clima úmido quente (equatorial), no Acre, Rondônia, Roraima, norte de Mato Grosso, leste do Amazonas, Pará, Amapá e pequeno trecho a oeste do Maranhão; clima úmido subquente (tropical), em São Paulo e sul do Mato Grosso do Sul, e o clima úmido quente (tropical), no Mato Grosso do Sul, sul de Goiás, sudoeste e uma estreita faixa do oeste de Minas Gerais, e uma faixa de Sergipe e do litoral de Alagoas à Paraíba
- C- () O clima subtropical quente (tropical), corresponde a área sul do Mato Grosso do Sul, Goiás, Tocantins, sul do Maranhão, sudoeste do Piauí, Minas Gerais, uma faixa bem estreita a leste da Bahia, a oeste do Rio Grande do Norte e um trecho da Bahia meridional.
- D- () O clima equatorial, com diversificação quanto a umidade, correspondendo a uma ampla área do clima tropical quente. Assim, tem-se o clima semi-árido brando, no nordeste do Maranhão, Piauí e parte sul da Bahia; o semi-árido mediano, no Ceará, Rio Grande do Norte, Paraíba, Pernambuco e interior da Bahia; o semi-árido forte, ao norte da Bahia e interior da Paraíba, e o semi-árido muito forte, em pequenas porções do interior da Paraíba, de Pernambuco e norte da Bahia.

- 25 - Leia o texto, observe as figuras e assinale corretamente a que formação vegetal brasileira pertence as seguintes características e localizações.

A vegetação que ocupa a maior extensão do território brasileiro são as florestas, pois isso existe cinco principais tipos de vegetação que ocorrem no Brasil: as florestas (Amazônica, Mata Atlântica e a Mata de Araucárias), os Cerrados, a Caatinga, Pantanal e os Campos.



- A- () A Mata Atlântica no Brasil ocupa toda região Norte; parte da região centro-oeste e nordeste apresenta uma grande variedade de plantas e animais. Cerca de 300 espécies vegetais diferentes podem ser encontradas em 2 km² de floresta.
- B- () A Floresta Amazônica é a floresta tropical que originalmente recobria extensa faixa do litoral brasileiro. Hoje, existem apenas 5% da mata original. Como essa mata ocupa áreas com latitudes diferentes, as formações vegetais variam de acordo com as taxas de umidade de cada localidade. Mas, em geral, toda essa floresta tem como característica principal a diversidade e a exuberância da vegetação.
- C- () A Mata de Araucárias ou Mata dos Pinhais localiza-se em toda a região Sul do Brasil e nas áreas de serras no Sudeste. É a floresta subtropical do país, apresentam uma pequena variedade de espécies vegetais. Os pinheiros predominam na paisagem.
- D- () A Caatinga predomina na região central do Brasil. Suas árvores têm, geralmente, o tronco retorcido e estão espaçadas no terreno. Não há escassez de água, mesmo nas estações secas existe bastante umidade. Porém os solos apresentam pequena quantidade de nutrientes, impedindo o crescimento de grandes árvores.

- 26 - **Leia o texto e assinale a alternativa correta.**

Era Vargas é o nome que se dá ao período em que Getúlio Vargas governou o Brasil (de 1930 a 1945 e de 1951 a 1954). Essa época foi um divisor de águas na história brasileira, por causa das inúmeras alterações que Vargas fez no país, tanto sociais quanto econômica, marcadas pelo aumento gradual da intervenção do Estado na economia e na organização da sociedade e também pelo crescente autoritarismo e centralização do poder. Divide-se em três fases distintas: governo provisório, governo constitucional e Estado Novo.

- A- () Getúlio Vargas é conduzido ao poder em 3 de novembro de 1930 pela Junta Militar que depôs o presidente Washington Luís.
- B- () O governo provisório é marcado por conflitos entre os grupos oligárquicos e os chamados tenentes que não apóiam a Revolução de 30. No dia 25 de janeiro de 1932, aniversário da cidade, houve um imenso comício na Praça da Sé, colorido com bandeiras do município. Partidos políticos que eram rivais estavam unidos
- C- () Em fevereiro a situação se agravou. O Partido Democrático (PD) rompeu com Vargas e seu governo, ao mesmo tempo que se aproximou dos antigos adversários do Partido Liberal Paulista (PLP), formando a Frente Única Paulista (FUP), que se tornou a porta-voz das

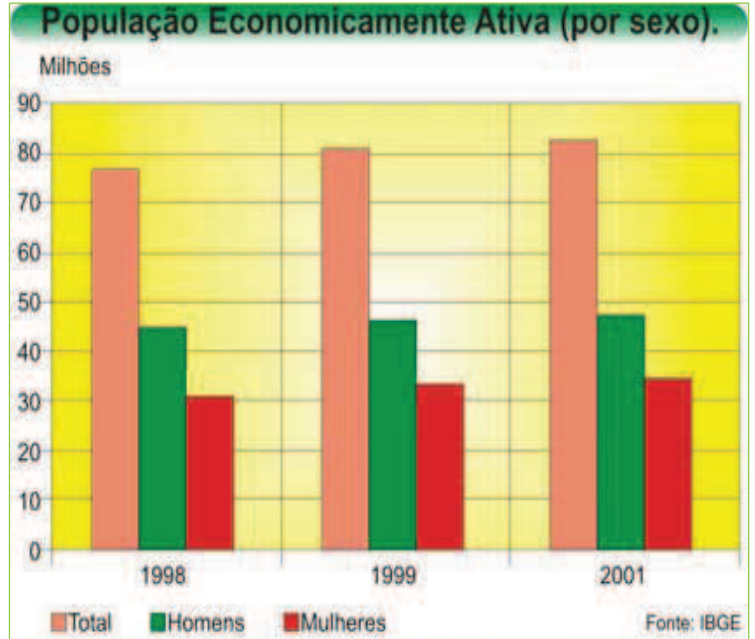
reivindicações de reconstitucionalização e de autonomia administrativa para o estado de São Paulo.

- D- () No dia 9 de julho de 1932, o interventor Pedro de Toledo telegrafava ao ditador Getúlio Vargas: "Esgotados os meios que ao meu alcance estiveram para evitar o movimento que acaba de se verificar na guarnição desta Região ao qual aderiu o povo paulista, não me foi possível caminhar ao revés dos sentimentos do meu povo". Começava o Estado Novo.

27 - Leia o texto, observe a figura e assinale a alternativa correta.

As atividades de trabalho da população se classificam em setores. No Brasil, grande parte da população que trabalha concentra-se no setor terciário.

- A- () A população economicamente ativa distribui-se em dois setores da economia: primário e terciário.
 B- () Setor primário: constituído pelas atividades industriais.
 C- () Setor secundário: compreende as atividades agropecuárias e extrativistas.
 D- () Setor terciário: formado pelas atividades de comércio, de prestação de serviços e da administração pública.



28 - Leia o texto, observe a figura e marque a alternativa correta.

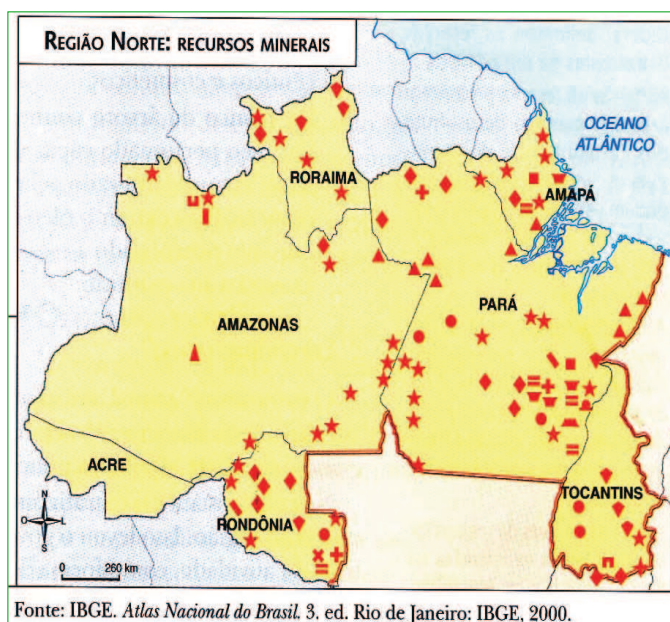
A paisagem da região Amazônica revela um espaço físico de peculiaridades marcantes: terras baixas, calor e umidade constantes, rica vegetação e muitos rios.

- A- () O relevo da região Norte é caracterizado por altas altitudes. Predominam as áreas de depressões, como as depressões e planaltos, entre as quais se destacam as depressões amazônicas e o planalto do rio Amazonas e seus afluentes.
 B- () A região Norte tem uma das mais ricas redes hidrográficas mundiais. Nela se localiza o rio de maior volume de água do planeta: o rio São Francisco.
 C- () O clima dominante na região Norte é o subtropical, de temperatura e umidade elevadas.
 D- () A vegetação da região Norte compõe-se basicamente da floresta amazônica: uma floresta densa, latifoliada (de folhas largas e grandes), heterogênea (formada por diversas espécies) e perene (que não perde as folhas no inverno)



29 - Observe as figuras, leia o texto assinale a alternativa correta.

O Pará é uma das 27 unidades federativas do Brasil. É o segundo maior estado do país com uma extensão de 1.247.689,515 km² (pouco maior que Angola) e está situado no centro da região norte e tem como limites o Suriname e o Amapá a norte, o oceano Atlântico a nordeste, o Maranhão a leste, Tocantins a sudeste, Mato Grosso a sul, o Amazonas a oeste e Roraima e a Guiana a noroeste. O extrativismo é uma das atividades econômicas mais importantes da região Norte. De modo geral, a população local utiliza técnicas simples, que causam um menor impacto ambiental. O extrativismo nesse caso serve a subsistência. A região Norte abriga algumas das maiores reservas minerais do mundo. Destacam-se as reservas de minério de ferro, manganês, bauxita, cassiterita e ouro.



Fonte: IBGE. Atlas Nacional do Brasil, 3. ed. Rio de Janeiro: IBGE, 2000.

▲ Bauxita	✕ Chumbo
■ Tório	■ Manganês
■ Tungstênio	■ Ferro
■ Zinco	■ Prata
● Calcário	◆ Cobre
■ Níquel	▲ Cromo
★ Ouro	◆ Diamante
▲ Petróleo e Gás	◆ Cassiterita

- A- () A economia se baseia apenas no extrativismo vegetal (castanha-do-pará, guaraná, cacau, açaí, látex, óleo de pau-rosa, piaçava, juta, baunilha, pimenta, canela e madeiras nobres), na agricultura, na pecuária e nas criações, na indústria e no turismo.
- B- () A mineração é atividade preponderante na região sudeste do estado, sendo Santarém a principal cidade que a isso se dedica. As atividades agrícolas são mais intensas na região nordeste do estado, onde destaca-se o município de Castanhal; a agricultura também se faz presente, desde a década de 1960, ao longo da malfadada Rodovia Transamazônica (BR-230).
- C- () O Pará é o maior produtor de pimenta do reino do Brasil e está entre os primeiros na produção de coco da Bahia e banana. São Geraldo do Araguaia é o município com maior produção de banana do país. A pecuária é mais presente no sudeste do estado, que possui um rebanho calculado em mais de 14 milhões de cabeças de bovinos.
- D- () A incipiente indústria do estado concentra-se mais na região metropolitana de Belém, com os distritos industriais de Icoaraci e Ananindeua. Pela característica natural da região, destacam-se também como fortes ramos da economia as indústrias madeireira e moveleira, tendo um pólo moveleiro instalado no município de Paragominas.

30 - Leia o texto, observe a quadro e assinale a alternativa correta.

O Pará teve um elevado número de imigrantes portugueses, espanhóis, japoneses, ingleses, alemães, italianos, libaneses, barbadianos, judeus e franceses. Estes povos têm suas trajetórias contadas em um espaço permanente, a “Sala Vicente Salles” do “Memorial dos Povos”, situado em Belém. Os índios foram os primeiros a chegar e, depois, os portugueses chegaram e trouxeram negros da África. Os lusitanos foram seguidos pelos espanhóis, que chegaram a capital quase que exclusivamente por questões políticas, graças as disputas pela Península Ibérica. Em seguida vieram os italianos e seu poder desbravador marítimo

Seguidos pelos alemães e pelos franceses e seus sonhos de transformar Belém na “Paris da América”, vieram também os judeus marroquinos, que enxergaram a Amazônia como o “Gran Éden” e dela tiraram seu sustento, criando em Belém várias casas comerciais; além de libaneses, barbadianos e a grande comunidade nipônica. Após deixar sua contribuição para o surgimento da cidade de Belém, os japoneses estabeleceram-se no interior agrário, fixando-se em municípios como Tomé-açu. A maioria da população é parda, devido à grande herança genética indígena e, em menor parcela, africana.

Cor/Raça	Porcentagem
Pardos	73,0%
Brancos	23,0%
Negros	3,5%
Amarelos ou Indígenas	0,6%

- A- () A presença dos portugueses, espanhóis e franceses no Pará, deu-se no século XVII. Em Janeiro de 1616, o capitão português, Francisco Caldeira de Castelo Branco iniciou a ocupação da terra, fundado o Forte Presépio, núcleo da futura cidade de Belém. A fixação portuguesa foi efectivada com as missões religiosas e as bandeiras, que ligavam o Forte do Presépio a São Luís do Maranhão, por terra e subiram o Rio Amazonas.
- B- () Os Espanhóis foram os primeiros a chegar no Pará, deixando contribuições que vão desde a culinária à arquitetura.
- C- () Os primeiros imigrantes japoneses que se destinaram a Amazônia saíram do Porto de Kobe, no Japão, no dia 24 de julho de 1926, e só chegaram ao município de Tomé-Açu, no dia 22 de setembro do mesmo ano, com paradas no Rio de Janeiro e Belém.
- D- () Os emigrantes italianos e franceses que vieram para o Pará são predominantemente da região Sul da Itália e norte da França, originários da Calábria, Campania e Basilicata e de Nice. Eram todos colonos, mas aqui se dedicaram ao comércio. Em Belém, os se dividiram entre a atividade comercial e os pequenos serviços.

Boa Sorte!!!