



CONCURSO PÚBLICO

**2. PROVA OBJETIVA**  
Conhecimentos Gerais e Conhecimentos Específicos

ASSISTENTE EM ADMINISTRAÇÃO

INSTRUÇÕES

- ♦ VOCÊ RECEBEU SUA FOLHA DE RESPOSTAS E ESTE CADERNO CONTENDO 60 QUESTÕES OBJETIVAS.
- ♦ CONFIRA SEU NOME E NÚMERO DE INSCRIÇÃO IMPRESSOS NA CAPA DESTE CADERNO.
- ♦ LEIA CUIDADOSAMENTE AS QUESTÕES E ESCOLHA A RESPOSTA QUE VOCÊ CONSIDERA CORRETA.
- ♦ RESPONDA A TODAS AS QUESTÕES.
- ♦ ASSINALE NA FOLHA DE RESPOSTAS, COM CANETA DE TINTA AZUL OU PRETA, A ALTERNATIVA QUE JULGAR CERTA.
- ♦ A DURAÇÃO DA PROVA É DE 4 HORAS.
- ♦ A SAÍDA DO CANDIDATO DO PRÉDIO SERÁ PERMITIDA APÓS TRANSCORRIDA 1 HORA DO INÍCIO DA PROVA OBJETIVA.
- ♦ AO SAIR, VOCÊ ENTREGARÁ AO FISCAL A FOLHA DE RESPOSTAS E LEVARÁ ESTE CADERNO.

AGUARDE A ORDEM DO FISCAL PARA ABRIR ESTE CADERNO DE QUESTÕES.



## CONHECIMENTOS GERAIS

### MATEMÁTICA

01. No mundo, a carne suína é a mais consumida (42%). Em seguida, aparecem as carnes de frango e bovina, com 33% e 24%, respectivamente. No Brasil, o consumo de carnes em geral per capita é de 12,8 kg/habitante, considerado baixo em comparação com o do Paraguai (30 kg/habitante) e o da Europa (45 kg/habitante).

Se no Brasil e no Paraguai a proporção entre os tipos de carnes consumidos seguir a tendência mundial, o consumo per capita de carne bovina é de aproximadamente

- (A) 10,8 kg/habitante no Brasil e 28,2 kg/habitante no Paraguai.
- (B) 9,6 kg/habitante no Brasil e 22,5 kg/habitante no Paraguai.
- (C) 5,4 kg/habitante no Brasil e 12,6 kg/habitante no Paraguai.
- (D) 4,2 kg/habitante no Brasil e 9,9 kg/habitante no Paraguai.
- (E) 3,1 kg/habitante no Brasil e 7,2 kg/habitante no Paraguai.

02. A função  $f$ , definida por  $f(x) = \frac{1}{x^2}$  tem como domínio:

- (A)  $\mathbb{R}$
- (B)  $\mathbb{R}^*$
- (C)  $\{x \in \mathbb{Z} / x \neq 1\}$
- (D)  $\{x \in \mathbb{R} / x > 1\}$
- (E)  $\{x \in \mathbb{Z} / -1 < x < 10\}$

03. O resultado da expressão  $\sqrt{\pi} - 1$  é um número

- (A) natural menor que 1.
- (B) inteiro negativo menor que  $-1$ .
- (C) racional positivo menor que 1.
- (D) real não racional menor que 1.
- (E) real negativo menor que  $-1$ .

04. Rodrigo fez uma aplicação inicial de R\$ 48.000,00. No contrato constava a seguinte informação:

“A aplicação renderá sob o sistema de juro simples à taxa de 1% ao mês e só terá validade se ficar nessas condições por, no mínimo, 12 meses.”

Após 12 meses, Rodrigo retirou o montante inicial e deixou apenas o rendimento aplicado por mais 12 meses, nas mesmas condições. Os juros obtidos nesses últimos 12 meses foram de

- (A) R\$ 911,20.
- (B) R\$ 852,00.
- (C) R\$ 760,00.
- (D) R\$ 712,15.
- (E) R\$ 691,20.

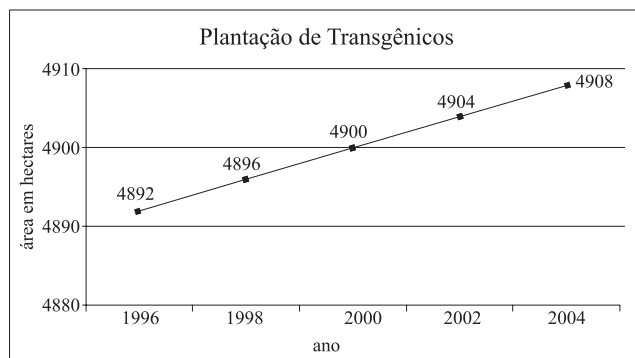
05. Ao reunir os dados dos 478 alunos das turmas do curso de Administração de uma universidade, obtiveram-se os seguintes dados:

SITUAÇÃO	SEXO	
	Masculino	Feminino
É estagiário em uma empresa	175	215
Tem emprego fixo	29	21
Não tem outra ocupação além da faculdade	12	26

Escolhendo-se ao acaso um desses alunos, a probabilidade de que ele seja um estagiário é igual a

- (A)  $\frac{88}{478}$ .
- (B)  $\frac{175}{478}$ .
- (C)  $\frac{215}{478}$ .
- (D)  $\frac{390}{478}$ .
- (E)  $\frac{412}{478}$ .

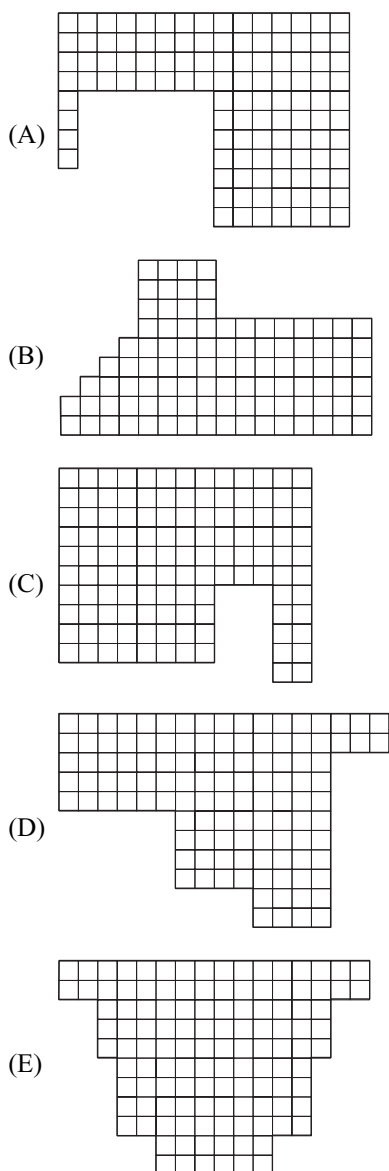
06. Em certa cidade, ao longo dos anos, a área destinada ao plantio de produtos transgênicos tem crescido, conforme dados apresentados no gráfico:



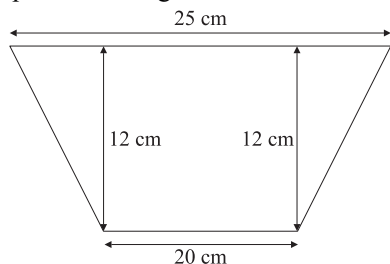
Seguindo essa tendência, em 2009, a área, em hectares, destinada ao plantio de produtos transgênicos será de

- (A) 4 914.
- (B) 4 916.
- (C) 4 918.
- (D) 4 920.
- (E) 4 922.

07. Miguel quer comprar um terreno para plantar e já tem 5 opções. Entretanto, ele quer que o terreno tenha área igual a  $3\,000\text{ m}^2$  e que seu perímetro seja de 280 metros. Considerando que cada quadradinho representa  $25\text{ m}^2$ , o terreno que tem essas características é o representado na alternativa



08. A embalagem de um produto tem o fundo na forma e dimensões que aparecem na figura.



Esse fundo é reforçado com uma camada de plástico para que possa conservar melhor o produto que ali será armazenado. Em cada caixa usa-se  $x\text{ cm}^2$  de plástico. Logo, o valor de  $x$  é igual a

- (A) 120.  
(B) 150.  
(C) 200.  
(D) 270.  
(E) 540.

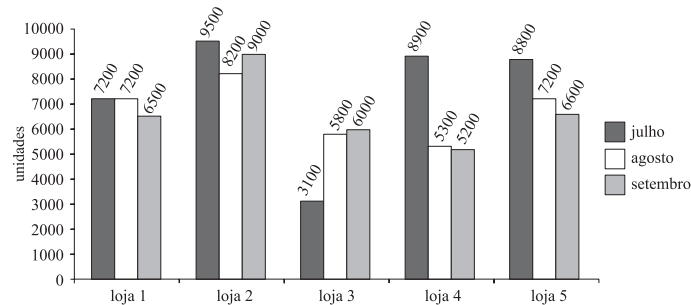
09. Em um trabalho de escola um grupo de estudantes teve que inventar três seqüências numéricas para que seus colegas investigassem a lógica que nelas havia. As seqüências criadas foram:

	1.º elemento	2.º elemento	3.º elemento	4.º elemento	5.º elemento
seqüência A	14	-8	-30	-52	-74
seqüência B	1	4	9	16	25
seqüência C	-13	12	39	68	100

Sabendo que a seqüência C foi feita a partir das seqüências A e B, o 6.º elemento da seqüência C será

- (A) 129.  
(B) 132.  
(C) 145.  
(D) 151.  
(E) 163.

10. Uma rede de padarias tem 5 lojas e registrou nos últimos meses as seguintes vendas de pães:



A loja que obteve uma média mensal mais próxima de 6 500 unidades, foi a loja

- (A) 5.  
(B) 4.  
(C) 3.  
(D) 2.  
(E) 1.

11. Em um dado instante, um portão de 1,2 m de altura projeta uma sombra de 2 metros. Nesse mesmo instante, um poste de iluminação tem uma sombra de 23 metros.

A altura desse poste de iluminação é de

- (A) 13,8 m.  
(B) 13,2 m.  
(C) 12,5 m.  
(D) 12,1 m.  
(E) 11,7 m.

## LEGISLAÇÃO

12. Num evento aberto ao público, meia hora antes do início havia apenas 8 cadeiras disponíveis, mas chegaram, ao mesmo tempo, 11 pessoas querendo assistir ao evento.

Há diferentes maneiras de as pessoas ocuparem as 8 cadeiras sendo que o total delas é igual a

- (A) 99.  
(B) 900.  
(C) 990.  
(D) 999.  
(E) 1900.

13. Ao organizar a tabela de jogos de futebol de seu bairro, Maurício observou que havia uma relação entre o número de times participantes e o número de partidas que deveriam ser disputadas. Essa relação foi escrita sob a forma de uma função:

$F(t) = t^2 - t$ , onde  $t$  é o número de times participantes e  $F(t)$  representa o total de partidas em função de  $t$ .

Em 2007, o total de partidas disputadas em um só campeonato chegou a 156. Ou seja, em 2007 estavam envolvidos no campeonato um total de

- (A) 12 times.  
(B) 13 times.  
(C) 14 times.  
(D) 15 times.  
(E) 16 times.

14. Nos superatletas, o ventrículo esquerdo chega a bombear 45 litros de sangue por minuto, mais que o dobro da população em geral que é de cerca de 20 litros.

Nessas condições, em 30 dias, o ventrículo esquerdo de um superatleta pode chegar a bombear, em milhões de litros de sangue, cerca de

- (A) 190.  
(B) 19.  
(C) 1,9.  
(D) 0,19.  
(E) 0,019.

15. Na cidade de São Paulo, ainda há poucas opções para andar de bicicleta com segurança, ou seja, em ciclovias. Veja os números atuais:

Ciclovias	
Total em ruas	4,5 km
Total em parques	19 km
Total em obras	49,7 km

(Estado de S.Paulo 27.07.2008)

A razão entre a quilometragem de ciclovias já existentes e aquela que será concluída é de aproximadamente

- (A) 0,1.  
(B) 0,2.  
(C) 0,3.  
(D) 0,4.  
(E) 0,5.

16. O servidor público civil será aposentado voluntariamente, com proventos proporcionais

- (A) aos 35 anos de efetivo exercício, em função do magistério, se homem ou mulher.  
(B) por invalidez, quando decorrente de acidente em serviço.  
(C) por invalidez, quando decorrente de moléstia profissional curável.  
(D) aos sessenta anos de idade, se homem.  
(E) aos sessenta anos de idade, se mulher.

17. Em relação aos direitos e garantias fundamentais previstos na Constituição Federal, assinale a alternativa correta.

- (A) A lei punirá qualquer forma de discriminação atentatória aos direitos e liberdades fundamentais.  
(B) A sucessão de bens de estrangeiros situados no País será somente regulada pela lei estrangeira.  
(C) Há crime mesmo que a lei anterior não o regule.  
(D) A lei penal não retroagirá para beneficiar o réu.  
(E) São permitidos o anonimato e a livre manifestação do pensamento.

18. Assinale a alternativa incorreta.

- (A) A prática de racismo constitui crime inafiançável e imprescritível.  
(B) De acordo com a Constituição Federal, em nenhuma hipótese haverá pena de morte.  
(C) A lei não prejudicará o ato jurídico perfeito, a coisa julgada e o direito adquirido.  
(D) A reunião em local aberto ao público depende de aviso prévio à autoridade competente.  
(E) A lei não excluirá da apreciação do Poder Judiciário lesão ou ameaça a direito.

19. Compete privativamente à União

- (A) cuidar da saúde e assistência pública, da proteção e garantia das pessoas portadoras de deficiência.  
(B) legislar sobre proteção ao patrimônio histórico e cultural.  
(C) legislar sobre educação, cultura, ensino e desportos.  
(D) legislar sobre trânsito e transporte.  
(E) legislar sobre defesa do solo e proteção ao meio ambiente.

20. Conforme dispõe a Constituição Federal, são direitos sociais:

- (A) o domicílio, a propriedade e a iniciativa privada.
- (B) a inviolabilidade do direito à vida, à segurança, à propriedade, à igualdade e à liberdade.
- (C) a educação, a saúde, o trabalho, o lazer, a segurança, a moradia, a previdência social, a proteção à maternidade e à infância e a assistência aos desamparados.
- (D) a soberania, a cidadania e o pluralismo político, bem como a democracia e a liberdade.
- (E) a iniciativa popular, o pleno exercício dos direitos de votar e se sindicalizar, a liberdade de expressão e o direito a greve.

#### ATUALIDADES

21. Como faz anualmente, o G8 – Grupo dos sete países mais ricos do mundo mais a Rússia, reuniu-se, desta vez no Japão, para tratar de muitos assuntos, dentre eles, um que pode ser considerado como de interesse planetário e que tem sido alvo de grandes debates em vários partes do mundo. Trata-se

- (A) da expansão de epidemias como a Aids e a gripe aviária por todos os continentes.
- (B) da proliferação de armas nucleares em países pobres como o Irã e a Coreia do Norte.
- (C) do conjunto de medidas necessárias para combater o aquecimento global.
- (D) da ampliação das funções da ONU, atualmente em franca decadência geopolítica.
- (E) do combate ao terrorismo através da criação de uma força de Paz internacional.

22. Na China, 4.<sup>a</sup> economia mundial, as conquistas econômicas não foram acompanhadas por reformas democráticas, fato que ficou demonstrado durante as Olimpíadas, quando foi tornado público que o governo chinês

- (A) exerce forte controle sobre a Internet.
- (B) veta o trabalho feminino em atividades comerciais.
- (C) exige que seus cidadãos só se casem após os 25 anos.
- (D) proíbe os chineses de professar qualquer religião.
- (E) promove o rodízio de veículos em todas as cidades chinesas.

23. Recentemente foi apresentado pelo atual Ministro do Meio Ambiente o *Fundo Amazônia* que apresenta como um de seus objetivos centrais

- (A) o remanejamento de tropas das forças armadas pela região Amazônica para combater a circulação e o tráfico de drogas.
- (B) a imediata retirada das ONGs estrangeiras da Amazônia, muitas das quais praticantes de biopirataria com produtos da região.
- (C) a liberação de espaços destinados à construção de usinas hidrelétricas de pequeno porte que não provoquem danos ambientais.
- (D) a instalação de um sistema de radares na região Amazônica para proteger as áreas de fronteiras com os países vizinhos.
- (E) a captação de doações de entidades brasileiras e internacionais para o combate ao desflorestamento da região Amazônica.

24. Em Agosto, após inúmeras reuniões com representantes de vários países do mundo, fracassa novamente a rodada de Doha.

Essa manchete estampada em jornais e revistas do mundo todo demonstra a preocupação sobre o destino

- (A) das ações de combate a Aids em países pobres, pois as potências detentoras das patentes de remédios para a doença negam-se a liberá-las ou fornecê-las para a produção em massa.
- (B) das máfias e cartéis que controlam o tráfico de drogas, uma vez que esses grupos têm ramificações poderosas e exercem influência em vários países, mesmo nas grandes potências.
- (C) da imigração ilegal, pois as grandes potências firmaram posição no sentido de combater a entrada de imigrantes sob pena de promover intervenções armadas nos países de emigração.
- (D) do comércio mundial, uma vez que um dos objetivos da Rodada é discutir e diminuir as tarifas alfandegárias e subsídios agrícolas que prejudicam o comércio dos países pobres.
- (E) dos paraísos fiscais espalhados por várias partes do mundo que se especializaram em acolher recursos originários da corrupção política comum em vários países subdesenvolvidos.

25. O Presidente norte-americano diz estar profundamente preocupado, pois esta invasão russa a um estado soberano é inaceitável no século XXI.

(www.bbc.co)

A declaração do presidente faz referência ao conflito militar entre a Rússia e a Geórgia. Sobre essa questão analise as informações:

- I. O estopim dessa questão foi a ocupação da Ossétia do Sul por tropas georgianas com o objetivo de abafar o movimento de separatistas ossetianos que querem a independência.
- II. O poderio bélico dos dois países é semelhante, fato que provocou mais de 2 mil mortes.
- III. A Geórgia foi, até recentemente, parte da antiga União Soviética e tornou-se independente na década de 1990.

Está correto somente o que se afirma em

- (A) I.
- (B) I e II.
- (C) I e III.
- (D) II.
- (E) II e III.

26. Neste ano de 2008, a reserva indígena Raposa Serra do Sol, em Roraima, foi amplamente discutida e colocou à mostra

- (A) a ausência de políticas públicas destinadas a cuidar da saúde de indígenas.
- (B) as constantes disputas de terras de grupos indígenas com fazendeiros e garimpeiros.
- (C) os vários problemas de delimitação de fronteiras entre o Brasil e a Venezuela.
- (D) a necessidade de controlar a exploração de borracha na floresta amazônica.
- (E) os problemas ambientais provocados pela exploração de minérios na região.

27. A produção de biocombustíveis, principalmente do etanol, tem sido motivo de debates acalorados entre os defensores e os opositores desse tipo de energia. Uma das críticas apresentadas pelos opositores é que

- (A) os biocombustíveis não reduzem os gases de efeito estufa como se divulga.
- (B) a tecnologia de produção está concentrada nos países ricos que as mantêm em sigilo.
- (C) o custo de produção dessa energia é mais elevado que a do petróleo.
- (D) o etanol produzido de cereais, como o milho, reduz a oferta desse alimento.
- (E) as áreas de cultivo de biocombustíveis ameaçam a zona temperada do globo.

28. Em termos de política sul-americana, vários países têm promovido referendos populares no sentido de buscar a opinião pública sobre assuntos de interesse nacional. O mais recente referendo ocorreu

- (A) na Bolívia, onde a população foi consultada sobre a permanência de Evo Morales à frente do governo.
- (B) em Cuba, com o objetivo de manter a presença de Raul Castro como substituto de seu irmão Fidel Castro.
- (C) na Colômbia, onde a população foi convocada a opinar sobre o destino político das Farc.
- (D) na Venezuela, para acolher a opinião do povo sobre as nacionalizações realizadas por Hugo Chávez.
- (E) no Paraguai, com o objetivo de atender às necessidades do novo governo que luta pela nacionalização de Itaipu.

29. A presença do Exército nas ruas desta cidade tem sido uma constante. Recentemente, o governador do estado solicitou novamente o suporte das Forças Armadas para manter a ordem nas eleições municipais da cidade

- (A) de Florianópolis.
- (B) de Porto Alegre.
- (C) do Rio de Janeiro.
- (D) de Fortaleza.
- (E) de São Luís.

30. Recente pesquisa, baseada no resultado do ENADE (Exame Nacional de Desempenho dos Estudantes) foi divulgada pelo Ministério da Educação e trata da qualidade dos cursos universitários no Brasil. Segundo a pesquisa, pelo fato de serem importantes para a população como um todo, merecem maior atenção e nova regulamentação os cursos de

- (A) engenharia civil.
- (B) medicina.
- (C) administração de empresas.
- (D) nutrição.
- (E) psicologia.

## CONHECIMENTOS ESPECÍFICOS

### INFORMÁTICA

31. Assinale a alternativa que descreve corretamente as principais funções de um Sistema Operacional.

- (A) Programa ou conjunto de programas que gerenciam os recursos do computador e que servem de interface entre o computador e o usuário.
- (B) Aplicativo que utiliza tabelas compostas de linhas e colunas, que é utilizado para realização de cálculos ou apresentação de dados.
- (C) Programa usado para criar desde documentos simples até arquivos profissionais e que, em essência, simula uma máquina de escrever.
- (D) Ferramenta de software que permite aos usuários interagirem com sites ou páginas HTML e que estão hospedadas em um servidor Web.
- (E) Aplicativo que permite ao usuário a composição, o envio e o recebimento de mensagens através de sistemas eletrônicos de comunicação.

32. O programa Windows Explorer, que integra o Microsoft Windows XP em sua configuração original, permite a utilização do teclado do computador para executar ações com os arquivos de uma pasta. Assinale a alternativa que relaciona corretamente a tecla pressionada com sua respectiva ação.

( 1 ) CTRL + C	( ) Colar arquivo.
( 2 ) CTRL + V	( ) Copiar arquivo.
( 3 ) CTRL + X	( ) Desfazer operação.
( 4 ) CTRL + Z	( ) Recortar arquivo.

- (A) 1, 2, 3 e 4.
- (B) 2, 1, 4 e 3.
- (C) 2, 3, 4 e 1.
- (D) 3, 1, 4 e 2.
- (E) 4, 2, 1 e 3.

33. O recurso que possibilita um documento conter referências a outros documentos ou a outros recursos armazenados em um site da World Wide Web recebe o nome de

- (A) e-mail.
- (B) hard disk.
- (C) hyperlink.
- (D) interface.
- (E) webmail.

34. Os protocolos TCP/IP constituem o grupo de protocolos de comunicação sobre o qual a Internet e a maioria das redes comerciais funcionam. Assinale a alternativa que contém, correta e respectivamente, os nomes dos protocolos TCP e IP.

- (A) Transport Central Protocol e Interface Protocol.
- (B) Transport Connection Protocol e Interface Protocol.
- (C) Transmission Control Protocol e Internet Protocol.
- (D) Transmission Central Protocol e Internet Protocol.
- (E) Transition Control Protocol e International Protocol.

35. Sabe-se que um usuário está utilizando o programa BrOffice Writer 2.0.2, em sua configuração padrão, para a elaboração de um texto. Assinale a alternativa que contém o efeito que será obtido no texto em edição, depois que o usuário acionar o botão ¶ que está disponível na barra de ferramentas do programa.

- (A) A Barra Fórmulas será acionada para a inserção de expressões matemáticas.
- (B) A janela do texto que está sendo editado será dividida em duas partes iguais.
- (C) O navegador padrão, que está instalado no computador em uso, será carregado.
- (D) Tornar-se-ão visíveis os caracteres não imprimíveis do texto que está em edição.
- (E) Será aberta uma janela exibindo a origem de dados da Mala Direta em utilização.

36. Sabe-se que o menu Janela da barra de menus do programa Microsoft Word XP, em sua configuração padrão, permite controlar a exibição dos documentos que estão sendo editados. Assinale a alternativa que contém a correta afirmação referente às opções existentes no menu Janela.

- (A) A opção “Dividir” divide a janela que está ativa em painéis, de modo que esses painéis possam exibir diferentes arquivos em edição.
- (B) A opção “Nova janela” abre uma nova janela no programa, que possuirá exatamente o mesmo conteúdo da janela que está ativa.
- (C) A opção “Organizar tudo” exibe todos os arquivos de texto gravados no disco rígido, de modo que as janelas não se sobreponham.
- (D) A opção “Padronizar” permite que sejam configuradas as opções da janela ativa, incluindo cores, ícones, menus e funcionalidades.
- (E) A opção “Transportar” permite que sejam transferidas informações entre os arquivos que estão sendo editados nas diferentes janelas.



Leia o texto para responder às questões de números 41 a 47.

*E-mail: informalidade sim, desleixo, não!*

Os últimos anos do século XX trouxeram uma nova ordem de comunicação entre as pessoas, consolidada definitivamente nos primeiros anos do século XXI. As nostálgicas cartas manuscritas – no caso das correspondências pessoais – e os ofícios comerciais datilografados cederam lugar à correspondência virtual, hoje maciçamente usada para praticamente todas as finalidades, das missivas para os amigos às discussões de caráter profissional. No entanto, essa nova forma de se comunicar trouxe consigo uma série de problemas de ordem ética e lingüística, relacionados principalmente à questão da confidencialidade dos documentos e à forma da escrita.

É cada vez mais comum as empresas baixarem regras rígidas e incentivarem cursos entre os colaboradores depois de enfrentarem crises provocadas por *e-mails* enviados aos destinatários errados e pornografia infiltrada em intranet. Isso sem falar na redação descuidada, talvez motivada pelo caráter informal do *e-mail*, sugerido quando a internet começou a se alastrar pelo mundo e era usada principalmente como diversão. Todos esses problemas, enfim, passaram a colocar em risco a imagem das empresas.

Mas a questão da ética e da moral não é o único inconveniente da era da comunicação virtual. A nossa bela Língua Portuguesa também está em risco. Na esfera comercial, por conta da informalidade já abordada, os funcionários das empresas se descuidam demais do texto, além de se esquecerem de que o que está em pauta são assuntos profissionais. É comum escreverem da forma como falam e acrescentarem recadinhos pessoais dispensáveis e inadequados às mensagens. E, mesmo na esfera particular, não é recomendado mandar textos mal escritos e redirecionar mensagens sem controle, fatos que já se transformaram em rotina na rede mundial de computadores.

(Adriana Gomes, Revista *Vencer!*, 02.2003)

37. No programa Microsoft Excel XP, em sua configuração padrão, é possível utilizar a ferramenta de substituição de caracteres das células de uma planilha sem o uso do mouse. Para ativar a ferramenta de substituição, é necessário pressionar as teclas CTRL e

- (A) A.
- (B) E.
- (C) O.
- (D) \$.
- (E) U.

38. Um técnico preencheu as células de uma planilha que está sendo editada com o programa BrOffice Calc 2.0.2, em sua configuração padrão, como mostra a figura:

	A	B
1	1	3
2	2	4
3		

Sabendo que a célula A3 é selecionada e, em seguida, copiada para a célula B3, determine o valor numérico obtido em B3, caso a célula A3 contenha a expressão = SOMA (\$A1:A2).

- (A) 10.
- (B) 9.
- (C) 8.
- (D) 7.
- (E) 6.

39. Para proteger as informações que trafegam em uma rede de computadores, os sistemas computacionais podem ser configurados para realizar sua codificação segundo regras conhecidas somente pelos usuários autorizados. A técnica de cifrar os dados, de modo a impedir que eles sejam violados por usuários não autorizados, é denominada

- (A) criminologia.
- (B) criogenia.
- (C) crioscopia.
- (D) criptografia.
- (E) criptomania.

40. Software malicioso é um programa capaz de se infiltrar em um sistema computacional alheio de forma ilícita, com o intuito de causar algum dano ou de realizar o roubo de informações. Assinale a alternativa que contém somente tipos de softwares maliciosos.

- (A) Browser, PaintBrush e Spyware.
- (B) Excel, Notepad e Trojan Horse.
- (C) Explorer, Firefox e Netscape.
- (D) Vírus, Windows e WordPad.
- (E) Spyware, Trojan Horse e Vírus.

41. Pela leitura do texto, pode-se concluir que são características da correspondência virtual

- (A) a praticidade, a rapidez e a segurança.
- (B) a praticidade, a rapidez e a informalidade.
- (C) o desleixo com a língua e a garantia de privacidade.
- (D) a confidencialidade e a informalidade nas mensagens.
- (E) o desleixo com a língua e a formalidade nas mensagens.

42. No texto, faz-se uma crítica

- (A) aos vários *sites* que incentivam a pornografia.
- (B) à correspondência eletrônica redigida de forma negligente.
- (C) à internet, usada na esfera pessoal, como meio de diversão.
- (D) aos *e-mails* que abordam estritamente assuntos profissionais.
- (E) aos destinatários que não especificam seus dados para a empresa.

43. Em – As *nostálgicas* cartas manuscritas – no caso das correspondências pessoais... – a palavra em destaque pode ser substituída, sem prejuízo para o sentido do trecho, por

- (A) ineficientes.
- (B) cômicas.
- (C) saudosas.
- (D) inadequadas.
- (E) retrógradas.

44. De acordo com o texto, o profissional que escreve *e-mails* com recadinhos dispensáveis e inadequados, confundindo esfera pessoal e empresarial, tem uma postura

- (A) conservadora.
- (B) responsável.
- (C) autoritária.
- (D) anti-social.
- (E) inapropriada.

45. Considere o trecho:

Os *últimos* anos do século XX trouxeram uma *nova* ordem de comunicação entre as pessoas, *consolidada* definitivamente nos primeiros anos do século XXI.

Todos os termos em destaque são

- (A) substantivos, pois nomeiam os seres, as ações e os sentimentos.
- (B) advérbios, pois indicam as circunstâncias em que um fato ocorre.
- (C) pronomes, pois substituem termos mencionados previamente no texto.
- (D) adjetivos, pois associam características aos elementos aos quais se referem.
- (E) numerais, pois indicam a quantidade dos seres ou o lugar que ocupam em uma seqüência.

46. Assinale a alternativa cujos termos substituem, respectivamente e sem alteração de sentido, as expressões em destaque em:

*No entanto*, essa nova forma de se comunicar trouxe consigo uma série de problemas...

É comum escreverem da forma *como* falam e acrescentarem recadinhos...

- (A) entretanto ... conforme
- (B) entretanto ... à medida que
- (C) ainda que ... porque
- (D) ainda que ... à medida que
- (E) embora ... porque

47. Considere o trecho:

E mesmo na esfera particular, não é recomendado mandar textos *mal* escritos e redirecionar mensagens sem controle...

Assinale a alternativa em que a palavra *mal* está empregada corretamente e na mesma função com que aparece no trecho escolhido.

- (A) Os diretores concluíram que foi um *mal* negócio não investir em tecnologia.
- (B) Neste departamento, todos evitam trabalhar de *mal* humor.
- (C) Algumas questões sobre os novos cursos ainda estão *mal* resolvidas.
- (D) Ele agiu como um *mal* caráter ao prejudicar os colegas do curso.
- (E) O *mal* andamento dos projetos foi consequência da ausência de recursos.

48. O emprego correto das vírgulas aparece na alternativa:

- (A) Profissionais, que escrevem com desleixo, e descuido desrespeitando a bela Língua Portuguesa comprometem a sua imagem e a da empresa em que atuam.
- (B) Profissionais que escrevem com desleixo e descuido desrespeitando, a bela Língua Portuguesa, comprometem a sua imagem e a da empresa em que atuam.
- (C) Profissionais que escrevem com desleixo e descuido desrespeitando, a bela Língua Portuguesa comprometem a sua imagem, e a da empresa em que atuam.
- (D) Profissionais que, escrevem com desleixo e descuido desrespeitando, a bela Língua Portuguesa comprometem a sua imagem e a da empresa em que atuam.
- (E) Profissionais que escrevem com desleixo e descuido, desrespeitando a bela Língua Portuguesa, comprometem a sua imagem e a da empresa em que atuam.

49. Assinale a alternativa cuja expressão completa corretamente a frase a seguir, dando-lhe coesão e coerência.

Um problema \_\_\_\_\_ as empresas se deparam é a crise provocada por *e-mails* inadequados.

- (A) com o qual
- (B) com os quais
- (C) ao qual
- (D) aos quais
- (E) para o qual

50. Assinale a alternativa em que o grupo de palavras está acentuado em obediência à mesma regra de acentuação.

- (A) lingüística ... ofícios ... além.
- (B) lingüística ... rígidas ... único.
- (C) destinatário ... também ... além.
- (D) destinatário ... correspondências ... está.
- (E) ética ... ofícios ... também.

51. Observe a relação entre a locução adjetiva e o adjetivo correspondente: a imagem *da empresa* → a imagem *empresarial*.  
A mesma relação ocorre em
- (A) partido da minoria → partido majoritário.  
(B) confiança entre irmãos → confiança filial.  
(C) região de lagos → região pantanosa.  
(D) assembléia de alunos → assembléia discente.  
(E) observação dos astros → observação estelar.
52. A conjunção *que* estabelece entre as orações a relação de consequência em:
- (A) Só esperamos uma coisa: *que* os investimentos sejam bem geridos.  
(B) *Que* saibamos, para este departamento não haverá concurso público.  
(C) É preciso *que* todos colaborem escrevendo criteriosamente os *e-mails*.  
(D) Agora *que* todas as instalações estão prontas, podemos inaugurar o laboratório.  
(E) O desempenho dos alunos foi tão significativo *que* projetou o nome da universidade.
53. Assinale a frase em que a forma verbal, em destaque, está escrita e empregada corretamente.
- (A) Como combinado, todo o material para a realização do vestibular havia *chego* da gráfica.  
(B) Se as faculdades *manterem* o alto nível de exigência, no futuro, haverá bons profissionais.  
(C) É importante que o motorista *esteja* aqui, na hora marcada, para transportar os visitantes.  
(D) O departamento responsável pelas finanças tem *descobrido* sérios erros nas planilhas.  
(E) *Houveram* muitas discussões entre os professores antes da aprovação do currículo básico.
54. Assinale a alternativa cuja frase respeita as regras de concordância verbal estabelecidas pela norma culta.
- (A) Grande parte dos inscritos compareceram ao exame classificatório.  
(B) Ano passado, ocorreu, durante a Semana Cultural, palestras produtivas.  
(C) Fazem anos que este prédio do campus espera por reformas na fachada.  
(D) Resta apenas algumas pessoas para a segunda etapa do processo seletivo.  
(E) Deve existir vários casos complexos para o comitê analisar até o fim deste ano.

55. Considere as frases:

Haverá uma festa \_\_\_\_\_ no campus da faculdade de Medicina.

É um \_\_\_\_\_ estudar em uma universidade pública.

A \_\_\_\_\_ professora orientará os alunos selecionados para o curso.

Completam as frases, correta e respectivamente, as palavras da alternativa:

- (A) beneficente ... privilégio ... própria  
(B) beneficente ... privilégio ... própria  
(C) beneficente ... privilégio ... própria  
(D) beneficente ... privilégio ... própria  
(E) beneficente ... privilégio ... própria

56. Considere o trecho:

A chefia do Departamento de Pós-Graduação quer saber o \_\_\_\_\_ de os documentos terem sido extraviados. Por enquanto, não há explicações plausíveis \_\_\_\_\_ os funcionários são muito competentes.

Assinale a alternativa cujas palavras completam, correta e respectivamente, o trecho apresentado.

- (A) porque ... por quê  
(B) por que ... por quê  
(C) por que ... porque  
(D) porquê ... porque  
(E) porquê ... por que

57. Observe o quadro:

I. Ata	Documento escrito em um único parágrafo e que se destina a registrar todas as ocorrências de uma reunião ou assembléia.
II. Ofício	Correspondência oficial de caráter externo que pode conter tanto comunicação de ordem administrativa como de ordem social.
III. Requerimento	É um pedido por escrito, em geral encaminhado a uma autoridade pública, no qual se solicita algo que é permitido por lei.
IV. Memorando	Documento de comunicação interna e que passa informações sobre atividades administrativas corriqueiras.

Está correto o que se afirma em

- (A) I, II e III, apenas.  
(B) I, II e IV, apenas.  
(C) I, III e IV, apenas.  
(D) II, III e IV, apenas.  
(E) I, II, III e IV.

58. A correspondência oficial encaminhada a reitores de universidades deve trazer, como forma de tratamento, a expressão
- (A) Vossa Senhoria.
  - (B) Vossa Eminência.
  - (C) Vossa Meritíssima.
  - (D) Vossa Magnificência.
  - (E) Vossa Reverendíssima.

59. Frank & Ernest – Bob Thaves



(O Estado de S.Paulo)

Considere as afirmações sobre a tirinha:

- I. A tirinha faz referências à demagogia presente nas campanhas políticas.
- II. Em – políticos que *têm duas caras* – a expressão em destaque é denotativa, isto é, está em sentido próprio.
- III. A forma verbal *têm* recebe o acento circunflexo para marcar a idéia de plural.

Está correto o que se afirma em

- (A) I, apenas.
  - (B) II, apenas.
  - (C) I e III, apenas.
  - (D) II e III, apenas.
  - (E) I, II e III.
60. Considere a frase:

As eleições estão chegando, e a sociedade deve estar atenta aos políticos que têm duas caras e que não se intimidam em assumir *essas duas caras*.

Assinale a alternativa em que o verbo e o pronome, que substituí os termos em destaque, estão empregados corretamente.

- (A) ...assumi-las.
- (B) ...assumir-las.
- (C) ...assumir-lhes.
- (D) ...lhes assumir.
- (E) ...assumir-se.