

CARGO: MOTORISTA (M006)

TEXTO:

Um cão apenas

Subidos, de ânimo leve e descansado passo, os quarenta degraus do jardim – plantas em flor, de cada lado; borboletas incertas; salpicos de luz no granito – eis-me no patamar. E a meus pés, no áspero capacho de coco, à frescura da cal do pórtico, um cãozinho triste interrompe o seu sono, levanta a cabeça e fita-me. É um triste cãozinho doente, com todo o corpo ferido; gastas, as mechas brancas do pêlo; o olhar dorido e profundo, com esse lustro de lágrimas que há nos olhos das pessoas muito idosas. Com grande esforço acaba de levantar-se. Eu não lhe digo nada; não faço nenhum gesto. Envergonha-me haver interrompido o seu sono. Se ele estava feliz ali, eu não devia ter chegado. Já lhe faltavam tantas coisas, que ao menos dormisse: também os animais devem esquecer, enquanto dormem...

Ele, porém, levantava-se e olhava-me. Levantava-se com dificuldade dos enfermos graves: acomodando as pastas da frente, arrastando o resto do corpo, sempre com os olhos em mim, como à espera de uma palavra ou de um gesto. Mas eu não queria vexar nem oprimir. Gostaria de ocupar-me dele: chamar alguém, pedir-lhe que o examinasse, que receitasse, encaminhá-lo para um tratamento... Mas tudo é longe, meu Deus, tudo é tão longe. E era preciso passar. E ele estava na minha frente, inábil, como envergonhado de se achar tão sujo e doente, com o envelhecido olhar numa espécie de súplica.

Até o fim da vida guardarei seu olhar no meu coração. Até o fim da vida sentirei esta humana infelicidade de nem sempre poder socorrer, neste complexo mundo dos homens.

Então, o triste cãozinho reuniu todas as suas forças, atravessou o patamar, sem nenhuma dúvida sobre o caminho, como se fosse um visitante habitual, e começou a descer as escadas e suas rampas, com as plantas em flor de cada lado, as borboletas incertas, salpicos de luz no granito, até o limiar da entrada. Passou por entre as grades do portão, prosseguiu para o lado esquerdo, desapareceu.

Ele ia descendo como um velhinho andrajoso, esfarrapado, de cabeça baixa, sem firmeza e sem destino. Era, no entanto, uma forma de vida. Uma criatura deste mundo de criaturas inumeráveis. Esteve ao meu alcance; talvez tivesse fome e sede: e eu nada fiz por ele; amei-o, apenas, com uma caridade inútil, sem qualquer expressão concreta. Deixei-o partir, assim humilhado, e tão digno, no entanto: como alguém que respeitosa e pede desculpas de ter ocupado um lugar que não era seu.

Depois pensei que nós todos somos, um dia, esse cãozinho triste, à sombra de uma porta. E há o dono da casa, e a escada que descemos e a dignidade final da solidão.

(Cecília Meireles, Crônicas, 1965)

01) Sobre o texto, é correto afirmar:

- A) Predomina a descrição/narração.
- B) Destaca a insensibilidade da autora.
- C) Apresenta uma ironia àqueles que se comovem com o sofrimento.
- D) É técnico com algumas descrições.
- E) Mostra o sofrimento das pessoas.

02) Todas as afirmativas estão de acordo com o texto, EXCETO:

- A) A autora ficou preocupada com o estado do cão.
- B) Um sentimento de infelicidade por não prestar ajuda está evidente.
- C) Uma analogia é feita do estado do cão ao de uma pessoa idosa.
- D) O fim de todas as criaturas, um dia, é a solidão.
- E) A caridade foi praticada concretamente com o cãozinho doente.

03) No texto, a autora tem o objetivo de:

- A) Mostrar-nos a vida difícil de inúmeras criaturas.
- B) Fazer-nos refletir sobre situações de sofrimento diante dos quais não temos ação concreta.
- C) Mostrar que não devemos nos preocupar com os problemas alheios.
- D) Mostrar o abandono dos animais.
- E) Evidenciar a grande vontade de viver do cãozinho doente.

04) Em “Ele, porém, levantava-se e olhava-me” (2º§), o termo grifado possui o valor semântico de:

- A) Acréscimo.
- B) Oposição.
- C) Conclusão.
- D) Explicação.
- E) Causa.

05) As palavras grifadas pertencem à mesma classe gramatical, EXCETO:

- A) “Até o fim da vida guardarei seu olhar.”
- B) “Levantava-se com a dificuldade dos enfermos graves.”
- C) “... Mas tudo é longe, meu Deus, tudo é tão longe.”
- D) “... com o envelhecido olhar numa espécie de súplica.”
- E) “Ele ia descendo como um velhinho andrajoso...”

06) “Uma criatura deste mundo de criaturas inumeráveis.” Assinale a alternativa em que a palavra destacada tem o mesmo processo de formação da que foi grifada anteriormente:

- A) Amei-o com uma caridade inútil.
- B) “...e a dignidade final da solidão.”
- C) “...um cãozinho triste interrompe o seu sono...”
- D) “E ele estava na minha frente, inábil, como envergonhado de se...”
- E) “Ele ia descendo como um velhinho andrajoso.”



07) Assinale a alternativa em que a palavra grifada está de acordo com a ortografia oficial:

- A) Houve um impecilho para um bom relacionamento.
- B) Este salgado leva muçarela.
- C) Alguns possuem certos previlégios.
- D) Faremos um almoço beneficiente para a casa dos idosos.
- E) O meretíssimo Juiz compareceu ao jantar de confraternização entre funcionários.

08) A frase que, na reescrita, NÃO manteve o sentido original é:

- A) “Até o fim da vida guardarei seu olhar no meu coração.” “No meu coração, guardarei seu olhar até o fim da vida.”
- B) “Até o fim da vida sentirei esta humana infelicidade de nem sempre poder socorrer.” “De nem sempre poder correr até o fim da vida.”
- C) “Ele, porém, levantava-se e olhava-me.” “Porém ele levantava-se e olhava-me.”
- D) “Depois pensei que nós todos somos, um dia, esse cãozinho triste à sombra de uma porta.” Pensei, depois, que nós todos, um dia, somos esse cãozinho triste à sombra de uma porta.”
- E) “Envergonha-me a ver interrompido o seu sono.” “Ter interrompido o seu sono envergonha-me.”

09) Assinale a alternativa INCORRETA quanto à concordância:

- A) Escolhi má hora e lugar para nosso encontro.
- B) Sempre admirei as culturas grega e romana.
- C) Já me faltava tantas coisas.
- D) É proibido entrada de estranhos.
- E) Dez quilos de carne é suficiente para o churrasco.

10) Deve levar o acento grave, indicador da crase:

- A) Duas a duas as alunas entravam na sala.
- B) Temos celular a cartão.
- C) Muitas pessoas saíram as pressas para assistir ao jogo.
- D) Sou a favor dos mais fracos.
- E) Comida feita em fogão a lenha.

MATEMÁTICA

11) Na escola de Ricardo, no bimestre passado, foram aplicadas três provas de matemática com questões que valem um ponto cada uma, mas os pesos das provas eram diferentes. Jorge, que acertou 3 questões na primeira prova, 6 na segunda e 6 na terceira, obteve no final um total de 54 pontos. Fernando acertou 5 questões na primeira prova, 8 na segunda e 3 na terceira totalizando 49 pontos. Por sua vez, Marcos acertou 6 questões na primeira prova, 5 na segunda e 4 na terceira, atingindo a soma de 47 pontos no final. Já Ricardo, fez 2 questões certas na primeira prova, 7 na segunda e 5 na terceira. Qual foi o total de pontos de Ricardo?

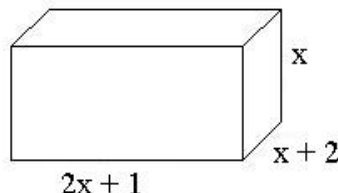
- A) 70
- B) 65
- C) 45
- D) 50
- E) 68

12) Numa fábrica, o refeitório é retangular e o comprimento tem 15m a mais que a largura. A cozinha é quadrangular e seu comprimento é o dobro da largura do refeitório. Os dois ambientes têm áreas iguais. Qual é o perímetro da cozinha?

- A) 40m
- B) 100m
- C) 25m
- D) 20m
- E) 50m

13) A figura abaixo representa uma caixa na forma de um paralelepípedo. Qual é a equação que corresponde à soma das áreas das faces laterais se o valor dessa soma for 880?

- A) $2x^2 + 5x + 2$
- B) $6x^2 + 6x$
- C) $2x^2 - 5x + 2$
- D) $6x^2 - 6x - 880$
- E) $3x^2 + 3x - 440$

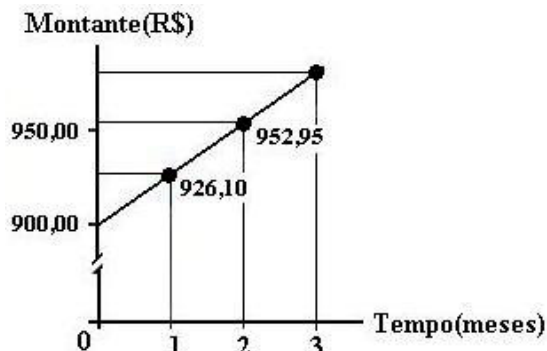


14) Para acessar a Internet, Umberto Fadul escolheu uma senha formada por seis letras diferentes, todas presentes no seu nome. A senha começa com vogal e vai alternando consoante e vogal. De quantos modos pode ser formada essa senha?

- A) 4.200
- B) 2.100
- C) 12.600
- D) 20.160
- E) 25.200

15) Pedro irá realizar uma aplicação financeira de R\$900,00. No gráfico abaixo está representada a aplicação sugerida pelo Banco. Qual será o montante que Pedro receberá no terceiro mês?

- A) R\$842,50
- B) R\$980,59
- C) R\$972,30
- D) R\$971,20
- E) R\$1.000,30



- 16) Artur recebeu um pedido para fazer o projeto de construção de uma coluna de concreto, que vai sustentar uma ponte que está sendo construída em seu município. Ele quer fazer uma coluna que tenha a forma de um prisma hexagonal regular de aresta da base 2m e altura 8m. Qual o volume de concreto será necessário para encher a fôrma da coluna?
- A) $61,7m^3$ B) $81,6m^3$ C) $13,6m^3$ D) $27,2m^3$ E) $54,4m^3$


LEGISLAÇÃO BÁSICA

- 17) Marque entre as alternativas abaixo, o conjunto de ações que tem como objetivo promover o desenvolvimento sócio-econômico, por intermédio da concessão de financiamentos de incentivo ao investimento e à operação ou da participação no capital de empresas instaladas em Santa Catarina:
- A) PROMSC B) PRODEC C) FADESC D) FISESC E) PROMEC
- 18) **Compete ao Conselho Estadual de Recursos Hídricos do Estado de Santa Catarina, EXCETO:**
- A) Analisar as propostas de estudos e projetos sobre o uso, preservação e recuperação de recursos hídricos.
B) Propor as diretrizes para o programa estadual de defesa contra as cheias.
C) Estabelecer normas para a institucionalização de Comitês de Bacias Hidrográficas.
D) Identificar obstáculos reais ou potenciais, de natureza político-institucional, legal, econômico-financeira, jurídica, administrativa, cultural e tecnológica que se interponham à consecução das metas e objetivos estabelecidos.
E) Propor normas para o uso, preservação e recuperação dos recursos hídricos.
- 19) **No estado de Santa Catarina são objetivos da Política Estadual de Saneamento, EXCETO:**
- A) Promover a organização, o planejamento e o desenvolvimento do setor de saneamento no Estado de Santa Catarina.
B) Promover o desenvolvimento da capacidade tecnológica, financeira e gerencial dos serviços públicos de saneamento no Estado de Santa Catarina.
C) Assegurar os benefícios da salubridade ambiental à totalidade da população do estado de Santa Catarina.
D) Promover a mobilização e a integração dos recursos institucionais, tecnológicos, econômico-financeiros e administrativos disponíveis.
E) Contribuir para o desenvolvimento sustentado do meio ambiente, para a desconcentração econômica e espacial das atividades produtivas e para o desenvolvimento dos municípios.
- 20) **“Compreende o processo que objetiva reduzir, o máximo possível, os impactos negativos causados pela disposição inadequada dos resíduos sólidos no solo, considerando-se a decisão de encerrar a operação no local.” Marque a alternativa que corresponde ao conceito anterior:**
- A) Remediação. D) Recuperação.
B) Minimização. E) Padrão de produção e consumo sustentáveis.
C) Prevenção da poluição ou redução na fonte.

CONHECIMENTOS ESPECÍFICOS

- 21) **São infrações graves, EXCETO:**
- A) Conduzir o veículo sem portar a autorização para condução de escolares.
B) Conduzir o veículo sem acionar o limpador de pára-brisas quando estiver chovendo.
C) Deixar o condutor ou passageiro de usar o cinto de segurança.
D) Usar o fecho de luz alta dos faróis em vias providas de iluminação pública.
E) Estacionar o veículo em viadutos, pontes e túneis.
- 22) **Observe a placa abaixo e assinale a alternativa correspondente:**
- A) Proíbe a circulação de ônibus.
B) Adverte a existência de quebra molas.
C) Indica a existência à frente de sinalização obrigando a circulação rotatória.
D) Alerta que à frente há uma faixa sinalizada para passagem de escolares.
E) Regulamenta que ciclistas andem pela esquerda e pedestres pela direita.
- 23) **Sobre as normas de circulação e conduta, marque V para as afirmativas verdadeiras e F para as falsas:**
- () Os veículos que se deslocam sobre os trilhos terão preferência de passagem sobre os demais, respeitadas as normas de circulação.
() O condutor que for ingressar numa via, procedente de um lote lindeiro a essa via, deverá dar preferência aos veículos e pedestres que por ele estejam transitando.
() Deve-se conduzir o veículo pelo lado direito das vias, salvo em caso de exceções justificadas e adequadamente sinalizadas.
- A seqüência está correta em:**
- A) V, F, V B) F, F, V C) V, V, F D) F, V, F E) V, V, V
- 24) **O pedestre terá prioridade de passagem sobre o veículo quando:**
- I. Tratar-se de deficiente físico, criança, idoso ou gestante.
II. Transitar sobre as calçadas, canteiros centrais, acostamentos e refúgios em geral.
III. O condutor do veículo pretenda entrar ou sair de fila de veículos estacionados.
- Está(ão) correta(s) apenas a(s) afirmativa(s):**
- A) I B) II e III C) I, II e III D) III E) I e II
- 25) **O veículo será retirado de circulação quando:**
- A) Não estiver devidamente registrado e licenciado.



- B) Estiver bloqueando a via.
C) Houver transposição, sem autorização, de bloqueio policial.
D) Estiver equipado com dispositivo anti-radar.
E) Todas as alternativas anteriores estão corretas.
- 26) Fazem parte do Kit de primeiros socorros, EXCETO:**
A) Pacotes de gaze. D) Agulhas para procedimento de suturas.
B) Luvas de procedimentos descartáveis. E) Esparadrapo.
C) Rolos de atadura de crepom.
- 27) Transitar em marcha à ré é:**
A) Proibido. D) Permitido somente nas vias de mão única.
B) Permitido somente para pequenas manobras. E) Permitido apenas nas vias sinalizadas.
C) Permitido para sair de congestionamento.
- 28) Analise as afirmativas abaixo e marque a correta:**
A) É dever do condutor parar antes de transpor linha férrea ou entrar em via preferencial.
B) O retorno poderá ser feito em qualquer local, desde que facilite o trânsito para os demais.
C) Em congestionamentos é permitido trafegar pelos acostamentos.
D) O condutor deverá ultrapassar outro veículo pela direita sempre que o veículo a sua frente impedir a ultrapassagem pela esquerda.
E) O condutor deve dar preferência aos pedestres apenas sobre a faixa de segurança.
- 29) Analise as afirmativas abaixo:**
I. O motor é composto por um conjunto de peças que, em funcionamento, atritam entre si.
II. O sistema de transmissão é composto por: embreagem, caixa de câmbio(caixa de marcha), árvore de transmissão, diferencial, semi-árvore(semi-eixo), além do sistema automático.
III. O sistema de freios tem a finalidade de parar o veículo ou reduzir a sua velocidade.
Está(ão) correta(s) apenas a(s) afirmativa(s):
A) II B) I e III C) I, II e III D) III E) II e III
- 30) Assinale a alternativa que apresenta uma infração gravíssima:**
A) Falsificar ou adulterar documento de habilitação e de identificação do veículo.
B) Estacionar na contra-mão de direção.
C) Usar buzina prolongada e sucessivamente, a qualquer pretexto, entre as vinte e duas e as seis horas.
D) Deixar de reduzir a velocidade à aproximação de animais na pista, em declive ou ao ultrapassar ciclista.
E) Estacionar o veículo impedindo a movimentação de outro veículo.
- 31) Analise as afirmativas abaixo e marque V para as verdadeiras e F para as falsas:**
() Para virar à direita deve-se sinalizar, aproximar-se o máximo possível da margem direita da via, diminuir a velocidade e, com cuidado, concluir a manobra.
() Deve-se ultrapassar somente pela direita, em locais onde seja permitido e haja boa visibilidade.
() O Motorista não deve parar sobre a faixa de pedestres, na mudança de sinal.
A seqüência está correta em:
A) F, F, V B) V, F, V C) V, V, F D) F, V, V E) F, V, F
- 32) Observe a placa ao lado e assinale o seu significado:**
A) Passagem obrigatória.
B) Proibido ultrapassar.
C) Cruzamento de vias.
D) Sentido proibido.
E) Sentido único.
- 
- 33) Analise as afirmativas abaixo e marque a INCORRETA:**
A) Não deve-se usar pneus de modelo ou dimensões diferentes das recomendadas pelo fabricante para não reduzir a estabilidade e desgastar outros componentes da suspensão.
B) O cinto de segurança existe para limitar a movimentação dos ocupantes de um veículo, em casos de acidentes ou numa freada brusca.
C) Deve-se transportar crianças com até dez anos de idade só no banco traseiro do veículo e acomodadas em dispositivo de retenção afixado ao cinto de segurança do veículo, adequado à sua estatura, peso e idade.
D) O cinto de segurança não é de utilização individual.
E) A finalidade da suspensão e dos amortecedores é manter a estabilidade do veículo.
- 34) Acerca dos conhecimentos básicos de mecânica e elétrica de caminhões, analise:**
I. A bateria recebe e acumula a energia produzida pelo alternador, deixando-a disponível para acionar o motor de partida e os equipamentos elétricos.
II. O alternador gera eletricidade quando o motor do veículo está em movimento.
III. O sistema de lubrificação do motor tem como finalidade diminuir o atrito e evitar o desgaste prematuro dessas peças, além de dispersar parte do calor gerado pelo funcionamento do motor.
Está(ão) correta(s) apenas a(s) afirmativa(s):
A) I e III B) II e III C) III D) II E) I, II e III



35) Fazem parte do Sistema de Lubrificação, EXCETO:

- A) Bulbo indicador de óleo. D) Filtro de óleo.
B) Pescador. E) Cárter.
C) Radiador.

36) Analise as afirmativas abaixo e marque **V** para as verdadeiras e **F** para as falsas:

- () Nenhum condutor deverá frear bruscamente seu veículo, salvo por razões de segurança.
() Os veículos lentos, quando em fila, não deverão manter distância suficiente entre si para permitir que veículos que os ultrapassem possam se intercalar na fila de segurança.
() Nas interseções e suas proximidades, não poderá ser efetuada ultrapassagem.

A seqüência está correta em:

- A) V, V, V B) F, V, F C) F, F, V D) V, F, V E) V, V, F

37) São regras básicas de circulação viária, EXCETO:

- A) Observar as preferências especiais de pedestres.
B) Dar preferência de passagem ao veículo que trafega pela esquerda.
C) Ter cuidado ao penetrar em outra via.
D) Utilizar as faixas próprias, inclusive nas conversões.
E) Ultrapassar somente pela esquerda e com critérios.

38) Sobre as vítimas de acidentes, marque o INCORRETO:

- A) Não deve-se dar água para a vítima beber. D) Não deve-se remover objeto empalado.
B) Deve-se movimentar a vítima sempre. E) Deve-se impedir movimentos do pescoço.
C) Nunca deve-se aplicar torniquetes.

39) Analise as afirmativas abaixo e marque a INCORRETA:

- A) É necessário desconectar os cabos da bateria com o motor em funcionamento.
B) Deve-se evitar deixar faróis ou outros equipamentos elétricos ligados enquanto o veículo não estiver em funcionamento.
C) É necessário manter sempre a água do sistema de arrefecimento limpa e com aditivo.
D) Verificar se o catalisador e o escapamento estão em perfeito estado.
E) É necessário manter sempre os pneus do veículo calibrados.

40) A penalidade por ultrapassar na contramão e nos cruzamentos é:

- A) Remoção do veículo. D) Multa e prisão.
B) Retenção do veículo. E) N.R.A.
C) Multa.

CONHECIMENTOS GERAIS

41) Com muita polêmica, no dia 29 de maio, o Supremo Tribunal Federal liberou por seis votos contra cinco as pesquisas científicas com células tronco embrionárias sem nenhuma restrição, como previsto na Lei de Biossegurança. Sobre este assunto, é correto afirmar que:

- A) A lei prevê que os embriões usados nas pesquisas sejam inviáveis ou estejam congelados há três anos ou mais.
B) A Lei não permite a comercialização do material biológico.
C) Segundo a Lei, o material pode ser extraído mesmo sem autorização do casal.
D) As células tronco podem ter aplicações no tratamento de diversos órgãos e membros do corpo humano como coração, cérebro, coluna, ossos, etc.
E) N.R.A.

42) *“A pressão sobre o estado de Mato Grosso é maior do que nos outros estados, até porque nós temos aqui uma agricultura muito forte e uma pecuária muito forte, o que não tem nos outros estados.”* Com esta afirmação, o governador do Mato Grosso comentou a pressão que vem sofrendo devido a constatação de que o desmatamento da Amazônia foi o maior em seu estado. Seu nome é:

- A) Aécio Neves. B) José Serra. C) Sérgio Cabral. D) Paulo Hartung. E) Blairo Maggi.

43) Um cruzamento de dados realizado pelo Instituto de Pesquisa Econômica Aplicada(Ipea) com utilização de informações do IBGE revela que 34,5 milhões de brasileiros, moradores de áreas urbanas não têm acesso à coleta de esgoto. Que regiões do país apresentaram o maior e o menor índice, consecutivamente, de moradores em domicílios urbanos sem saneamento básico adequado?

- A) Nordeste e Sudeste. D) Nordeste e Sudeste.
B) Centro-Oeste e Sul. E) Norte e Sul.
C) Norte e Sudeste.

44) O Brasil travou com os E.U.A. por cerca de cinco anos, uma bem sucedida batalha junto à Organização Mundial do Comércio(OMC) contra os subsídios agrícolas americanos que estavam prejudicando os produtores brasileiros. O produto que se encontra no centro desta disputa é o(a):

- A) Algodão. B) Soja. C) Café. D) Cana-de-açúcar. E) Milho.

45) Atualmente no Brasil, cerca de 60 mil pacientes aguardam algum tipo de transplante de órgão, enquanto se registra uma média de 15 mil operações anuais, mesmo estando o país em terceiro lugar no mundo na lista de países mais preparados para este tipo de cirurgia. Quando o possível doador é uma pessoa com morte cerebral, qual é o procedimento inicial para que o transplante se efetue?

- A) Determinação judicial para que os órgãos possam ser transplantados.



- B) Liberação de familiares para que a doação se efetive.
- C) Diagnóstico médico de que a doação deve ser feita.
- D) Verificação no Cartório para saber se o paciente é um doador registrado.
- E) N.R.A.

CONHECIMENTOS DO ESTADO DE SANTA CATARINA

- 46) Sobre o estado de Santa Catarina é correto afirmar, EXCETO:
- A) É o menor estado que compõe a Região Sul do Brasil.
 - B) Tem grande fluxo de turistas no verão, principalmente, para as cidades litorâneas de Florianópolis, Blumenau e Balneário Camboriu.
 - C) A vegetação é formada pelos mangues, a mata de araucárias, campos e faixas de florestas.
 - D) O clima predominante é mesotérmico, tendo como ponto mais elevado o morro Boa Vista, na serra Anta Gorda.
 - E) Sua etnia é formada por quase 90% de população branca, com expectativa de vida superior a 74 anos.
- 47) Com uma renda *per capita* em torno de US\$ 6.500,00 – bem superior à média nacional – e mais de 120 indústrias que a denominaram “Cidade dos Tecidos” por ser o maior pólo de pronta-entrega de confecções do sul do Brasil, esta cidade catarinense recebe o nome de:
- A) Fraiburgo.
 - B) Pomerode.
 - C) Blumenau.
 - D) Brusque.
 - E) Itajaí.
- 48) Dez festas compõem o circuito de outubro, onde tradições alemãs, portuguesas, austríacas e italianas são mescladas em farta gastronomia e muita cerveja. Relacione as festas apresentadas abaixo, que fazem parte deste circuito, com sua cidade sede:
- | | |
|-------------------|---------------------|
| I. Fenarreco. | () Itapiranga. |
| II. Fenachopp. | () Treze Tílias. |
| III. Scützenfest. | () Brusque. |
| IV. Musikfest. | () Jaraguá do Sul. |
| V. Kegelfest. | () Rio do Sul. |
| VI. Oktoberfest. | () São Bento. |
| VII. Tiro Lurfes. | () Joinville. |
- A seqüência está correta em:
- A) II, VI, III, I, V, VII, IV
 - B) VII, I, III, VI, II, V, IV
 - C) III, I, VI, IV, VII, II, V
 - D) VII, VI, I, III, V, IV, II
 - E) IV, III, I, V, VI, II, VII
- 49) Sobre a colonização do território de Santa Catarina é correto afirmar que:
- A) O primeiro grupo de poloneses a chegar no Brasil veio para o Paraná, transferindo-se mais tarde para Brusque.
 - B) A cultura italiana está inserida em seis momentos na história migratória do estado, como a colônia Nova Itália fundada no Vale do Rio Tijucas.
 - C) Os alemães foram os primeiros a chegar, vindos de Viena e se instalando em Blumenau, por volta de 1830.
 - D) Os açorianos colonizaram no século XVIII a região Nordeste do estado, deixando resquícios de sua cultura em cidades como São José, Imbituba e Itajaí.
 - E) Austríacos e japoneses povoaram a região Oeste do estado com atividades econômicas baseadas na agroindústria, na criação de bovinos e na produção de maçã.
- 50) O que significou o Tratado de Santo Ildefonso para Santa Catarina?
- A) A anexação do estado à região colonizada por espanhóis.
 - B) O domínio dos açorianos da região onde hoje se encontra o estado brasileiro de Santa Catarina.
 - C) O retorno das terras onde hoje se encontra Santa Catarina para o domínio português.
 - D) A independência política da República Juliana, formada entre catarinenses e gaúchos do Brasil.
 - E) O término da Guerra dos Farrapos, na qual os catarinenses lutavam junto com gaúchos e paranaenses pela independência política do Sul.

