

**INSTRUÇÕES**

- 01 - Material a ser utilizado: caneta esferográfica azul ou preta. Os objetos restantes devem ser colocados em local indicado pelo fiscal da sala, inclusive aparelho celular desligado e devidamente identificado com etiqueta.
- 02 - Não é permitido consulta, utilização de livros, códigos, dicionários, apontamentos, apostilas, calculadoras e etc. Não é permitido ao candidato ingressar na sala de provas sem o devido recolhimento com respectiva identificação de telefone celular, bip e outros aparelhos eletrônicos. É expressamente proibido ao candidato entrar ou permanecer com armas no local de realização das provas.
- 03 - Durante a prova, o candidato não deve levantar-se, comunicar-se com outros candidatos e nem fumar.
- 04 - A duração da prova é de 04(QUATRO) horas, já incluindo o tempo destinado à entrega do Caderno de Questões e à identificação – que será feita no decorrer da prova – e ao preenchimento da FOLHA/CARTÃO DE RESPOSTAS (GABARITO).
- 05 - Somente em caso de urgência pedir ao fiscal para ir ao sanitário, devendo no percurso permanecer absolutamente calado, **podendo** antes e depois da entrada sofrer revista através de detector de metais. Ao sair da sala no término da prova, o candidato não poderá utilizar o sanitário. Caso ocorra uma emergência, o fiscal deverá ser comunicado.
- 06 - O Caderno de Questões consta de 60 (SESSENTA) questões objetivas de múltipla escolha. Leia-o atentamente e marque apenas uma alternativa.
- 07 - As questões das provas objetivas são do tipo múltipla escolha, com cinco opções (A a E) e uma única resposta correta.**
- 08 - Deve-se marcar na FOLHA/CARTÃO DE RESPOSTAS (GABARITO) apenas uma opção em cada questão, com caneta azul ou preta, SEM RASURÁ-LA, SEM AMASSÁ-LA, SEM PERFURÁ-LA. Caso contrário, a questão será anulada.
- 09 - Ao terminar a conferência do Caderno de Questões, caso o mesmo esteja incompleto ou tenha qualquer defeito, o candidato deverá solicitar ao fiscal de sala que o substitua, não cabendo reclamações posteriores neste sentido.
- 10 - Os fiscais não estão autorizados a emitir opinião e prestar esclarecimentos sobre o conteúdo das provas. Cabe, única e exclusivamente ao candidato, interpretar e decidir.
- 11 - O candidato somente poderá retirar-se do local de realização das provas **após 60 (sessenta) minutos** de seu início e só poderá levar o Caderno de Questões no decurso dos últimos **60 (sessenta) minutos** anteriores ao horário previsto para o seu término.
- 12 - É proibida a reprodução total ou parcial deste material, por qualquer meio ou processo, sem autorização expressa da **Consulplan**. Em nenhuma hipótese a **Consulplan** informará o resultado por telefone.
- 13 - A desobediência a qualquer uma das recomendações constantes nas presentes instruções poderá implicar na anulação da prova do candidato.

**RESULTADOS E RECURSOS**

- Os gabaritos oficiais preliminares das provas escritas objetivas de múltipla escolha serão divulgados na Internet, no site [www.consulplan.net](http://www.consulplan.net), às 16h00min do primeiro dia útil subsequente ao da realização da prova escrita.
- Os recursos deverão ser apresentados conforme determinado no **item 08** do Edital 02/2008, não esquecendo principalmente dos seguintes aspectos:
- a) Caberá recurso contra questões das provas e contra erros ou omissões no gabarito, até **48(quarenta e oito) horas** ininterruptas, iniciando-se às **16:00 horas do dia 10 de novembro de 2008, encerrando-se às 16:00 horas do dia 12 de novembro de 2008.**
- b) A decisão proferida pela Banca Examinadora tem caráter irrecorrível na esfera administrativa, razão pela qual não caberão recursos adicionais.
- c) A interposição de recursos poderá ser feita somente via Internet, através do Sistema Eletrônico de Interposição de Recursos, com acesso pelo candidato com o fornecimento de dados referentes à sua inscrição, apenas no prazo recursal à Consulplan, conforme disposições contidas no site [www.consulplan.net](http://www.consulplan.net), no link correspondente à Seleção Pública Simplificada.
- d) Serão rejeitados os recursos não fundamentados, enviados via postal, via fac-símile (fax) e os que não contiverem dados necessários à identificação do candidato.

C  
A  
D  
E  
R  
N  
O  
D  
E  
R  
E  
S  
U  
L  
T  
A  
D  
O  
S  
E  
R  
E  
C  
U  
R  
S  
O  
S

**CARGO: GESTÃO E INFRA-ESTRUTURA****TEXTO:****Pensar é transgredir**

Não lembro em que momento percebi que viver deveria ser uma permanente reinvenção de nós mesmos — para não morrermos soterrados na poeira da banalidade embora pareça que ainda estamos vivos.

Mas compreendi, num lampejo: então é isso, então é assim. Apesar dos medos, convém não ser demais fútil nem demais acomodada. Algumas vezes é preciso pegar o touro pelos chifres, mergulhar para depois ver o que acontece: porque a vida não tem de ser sorvida como uma taça que se esvazia, mas como o jarro que se renova a cada gole bebido.

Para reinventar-se é preciso pensar: isso aprendi muito cedo.

Apalpar, no nevoeiro de quem somos, algo que pareça uma essência: isso, mais ou menos, sou eu. Isso é o que eu queria ser, acredito ser, quero me tornar ou já fui. Muita inquietação por baixo das águas do cotidiano. Mais cômodo seria ficar com o travesseiro sobre a cabeça e adotar o lema reconfortante: “Parar pra pensar, nem pensar!”

(...)

Somos demasiado frívolos: buscamos o atordoamento das mil distrações, corremos de um lado a outro achando que somos grandes cumpridores de tarefas. Quando o primeiro dever seria de vez em quando parar e analisar: quem a gente é, o que fazemos com a nossa vida, o tempo, os amores. E com as obrigações também, é claro, pois não temos sempre cinco anos de idade, quando a prioridade absoluta é dormir abraçado no urso de pelúcia e prosseguir, no sono, o sonho que afinal nessa idade ainda é a vida.

Mas pensar não é apenas a ameaça de enfrentar a alma no espelho: é sair para as varandas de si mesmo e olhar em torno, e quem sabe finalmente respirar.

Compreender: somos inquietos de algo bem maior do que o nosso pequeno segredo individual. É o poderoso ciclo da existência. Nele todos os desastres e toda a beleza têm significado como fases de um processo.

Se nos escondermos num canto escuro abafando nossos questionamentos, não escutaremos o rumor do vento nas árvores do mundo. Nem compreenderemos que o prato das inevitáveis perdas pode pesar menos do que o dos possíveis ganhos.

(...)

Para viver de verdade, pensando e repensando a existência, para que ela valha a pena, é preciso ser amado; e amar; e amar-se. Ter esperança; qualquer esperança.

Questionar o que nos é imposto, sem rebeldias insensatas mas sem demasiada sensatez. Saborear o bom, mas aqui e ali enfrentar o ruim. Suportar sem se submeter, aceitar sem se humilhar, entregar-se sem renunciar a si mesmo e à possível dignidade.

Sonhar, porque se desistimos disso apaga-se a última claridade e nada mais valerá a pena. Escapar, na liberdade do pensamento, desse espírito de manada que trabalha obstinadamente para nos enquadrar, seja lá no que for.

E que o mínimo que a gente faça seja, a cada momento, o melhor que afinal se conseguiu fazer.

(Lya Luft, texto adaptado, [http://www.pensador.info/p/artigo\\_de\\_opiniao\\_lya\\_luft/1/](http://www.pensador.info/p/artigo_de_opiniao_lya_luft/1/))

**01) No primeiro parágrafo do texto, o travessão foi usado com o mesmo propósito que em:**

- A) Avante! — gritou o comandante.
- B) A ponte Rio — Niterói.
- C) Posso contribuir com alguma coisa? — perguntou o viajante.
- D) O Bolsa Família — programa do governo federal — ajuda muitas famílias carentes.
- E) Todos são capazes de alcançarem seus objetivos — ainda que haja obstáculos — se houver vontade para isso.

**02) A respeito da afirmativa de que por baixo das águas do cotidiano existe muita inquietação, é correto afirmar que neste trecho:**

- A) Há uma oposição quanto ao significado das palavras, no sentido de que a inquietação transgredir a mesmice do cotidiano.
- B) Há uma conclusão estabelecida, já que a busca da inquietação tem como conseqüência o cotidiano, a rotina.
- C) O aspecto semântico norteia uma visão negativista do cotidiano em que não há grandes inquietações.
- D) A inquietação é algo natural do homem pós-moderno.
- E) A inquietação citada é algo irreal, já que se encontra “por baixo das águas do cotidiano”.

**03) O lema, segundo a autora, ironicamente reconfortante: “Parar pra pensar, nem pensar!”, tem o seu significado preservado na seguinte construção:**

- A) É aconselhável praticar o pensamento sem pensar!
- B) Não parar pra pensar, nem pensar!
- C) Pensar parado, nem pensar!
- D) Não pensar, nem pensar!
- E) Não é bom pensar em parar pra pensar!

**04) “E com as obrigações também, é claro, pois não temos sempre cinco anos de idade, quando a prioridade absoluta é dormir abraçado no urso de pelúcia e prosseguir, no sono, o sonho que afinal nessa idade ainda é a vida.” O trecho destacado por um grifo anteriormente é introduzido por vocábulo indicativo de:**

- A) Tempo.
- B) Regressão.
- C) Modo.
- D) Proporção.
- E) Finalidade.

**05) Considerando a ortografia oficial vigente, indique a seqüência que preenche corretamente as lacunas da frase a seguir: “Espero que você \_\_\_\_\_ sempre assim, este tipo de ação \_\_\_\_\_ um \_\_\_\_\_ para a população carente.”**

- A) continue – constitui – benefício
- B) continui – constitui – benefício
- C) conteneu – constetui – benefício
- D) continue – constitui – benefício
- E) continui – constitui – benefício

- 06) O uso da expressão metafórica “pegar o touro pelos chifres” é justificado no decorrer do texto através do trecho:
- Mais cômodo seria ficar com o travesseiro sobre a cabeça e adotar o lema reconfortante: “Parar pra pensar, nem pensar!”
  - “Somos demasiado frívolos: buscamos o atordoamento das mil distrações...”
  - “Se nos escondermos num canto escuro abafando nossos questionamentos, não escutaremos o rumor do vento nas árvores do mundo.”
  - “Nem compreenderemos que o prato das inevitáveis perdas pode pesar menos do que o dos possíveis ganhos.”
  - “E que o mínimo que a gente faça seja, a cada momento, o melhor que afinal se conseguiu fazer.”
- 07) É correto inferir a respeito do texto, que para a autora, viver de verdade denota:
- Ser radical a respeito das suas atitudes, visto que a mesmice deve ser eliminada.
  - Não tomar atitudes precipitadas, esperar o momento certo de agir, deixar que a vida aconteça por si mesma.
  - Buscar o equilíbrio, agir quando é preciso enfrentar as questões naturais do viver, refletindo sobre as mesmas.
  - Agir pelos outros e deixar que os outros ajam por você, realizando assim uma positiva troca de experiências.
  - Investir na reflexão acerca dos obstáculos a serem vencidos de forma a eliminar toda ação propriamente dita.
- 08) Assinale a alternativa que exprime corretamente as idéias do segundo parágrafo transcrito:
- É preciso encarar a vida de frente, apesar dos medos que possam existir.
  - A vida deve ser vivida de forma agressiva, no sentido de que vale a pena passar por cima de tudo para que os objetivos sejam alcançados.
  - O futuro é algo duvidoso, incerto, desta forma nunca se deve preocupar com o amanhã, o que importa é o hoje.
  - Por causa dos medos, é preciso pensar bem para depois agir, usando de cautela e até mesmo de neutralidade.
  - O comodismo faz parte da vida, não importa o que se faça para modificar esta realidade.
- 09) O acento agudo foi usado INCORRETAMENTE em:
- A Terra gira e não pára.
  - Os preços não páram de subir.
  - Há muitas construções antigas nesta região.
  - Tenho certeza que ela está aqui.
  - A Antártica é o continente onde está localizado o pólo Sul.
- 10) Leia e analise:
- Aluga-se apartamento e vendem-se casas.
  - O anúncio dizia: precisa-se de empregados.
  - Sou uma pessoa que acredita em Deus.
- Está(ão) de acordo com a norma culta da língua, referente à concordância verbal:
- I e II
  - II e III
  - I e III
  - I, II e III
  - II
- 11) Em “para que ela valha a pena”, na expressão sublinhada não ocorre o uso do sinal indicativo de crase. Indique a opção em que este sinal foi usado INCORRETAMENTE:
- Nunca fui à festa alguma.
  - Os bombeiros ficaram à distância de cento e cinquenta metros.
  - Àquela época tudo era melhor.
  - À entrada da casa havia um cartaz: vende-se.
  - Nenhuma referência foi feita àquilo.
- 12) “Não lembro em que momento percebi que viver deveria ser uma permanente reinvenção de nós mesmos...” O segmento destacado tem a mesma função do trecho destacado em:
- “... porque a vida não tem de ser sorvida como uma taça que se esvazia...”
  - “... mas como o jarro que se renova a cada gole bebido.”
  - “Mais cômodo seria ficar com o travesseiro sobre a cabeça...”
  - “... buscamos o atordoamento das mil distrações...”
  - “... isso aprendi muito cedo.”
- 13) O título apresentado: “Pensar é transgredir” juntamente com o contexto textual revela que para a autora, o pensamento deve ser:
- Uma ação comum a todos os seres humanos.
  - Um processo criativo em que idéias passadas não importam mais, podendo ser descartadas.
  - A demonstração da capacidade que o ser humano tem de se rebelar sempre contra tudo ao seu redor.
  - Uma demonstração de inteligência em um nível acima da média.
  - Uma forma que o ser humano tem de romper com a mesmice, infringir ou aperfeiçoar conceitos estabelecidos.
- 14) Através de uma linguagem metafórica, a autora afirma que comodidade seria:
- Ter a oportunidade de praticar de vez em quando seu poder de escolha nas situações do dia-a-dia.
  - Dormir o dia inteiro literalmente sem ter com o quê se preocupar.
  - Ter atitudes infantis, como brincadeiras e sonhos fantásticos.
  - Não utilizar o pensamento, simplesmente deixar que as coisas aconteçam por si mesmas sem qualquer interferência do mesmo.
  - Seguir o pensamento alheio sem quaisquer tipos de questionamentos.

**15) De acordo com a norma culta, indique a alternativa correta:**

- A) Elas disseram obrigadas. D) Nossa participação é necessário neste trabalho.  
B) Aquela casa não custa barata. E) É preciso a presença de todos.  
C) A gasolina não está barato.

**CONHECIMENTOS ESPECÍFICOS**

**16) As seguintes modalidades de licitação exigem a publicação de edital, EXCETO:**

- A) Convite. B) Pregão. C) Tomada de preço. D) Concurso. E) Concorrência.

**17) Estão excluídas da possibilidade de aquisição pela modalidade pregão:**

- A) Bens comuns. D) Obras e serviços de engenharia.  
B) Contratação de serviços. E) Serviços de informática.  
C) Compras em geral.

**18) A modalidade de licitação realizada para a contratação de trabalho técnico, científico ou artístico, mediante a instituição de prêmios ou remuneração aos vencedores, é:**

- A) Concurso. B) Tomada de preços. C) Carta convite. D) Pregão. E) Leilão.

**19) Em relação à Teoria de Sistemas, são considerados parâmetros, EXCETO:**

- A) Organização informal. D) Ambiente.  
B) Entradas (*input*). E) Saídas (*output*).  
C) Retroação.

**20) São categorias de entidades com personalidade jurídica da Administração Indireta:**

- A) Os municípios. D) Os Estados.  
B) O Distrito Federal. E) N.R.A.  
C) As autarquias e Fundações Públicas.

**21) A ação governamental obedecerá a planejamento que vise a promover o desenvolvimento econômico-social do País e a Segurança Nacional, compreendendo a elaboração e atualização dos seguintes instrumentos básicos, EXCETO:**

- A) Prestação de contas da gestão pública.  
B) Plano geral de governo.  
C) Programas gerais, setoriais e regionais, de duração plurianual.  
D) Orçamento-programa anual.  
E) Programação financeira de desembolso.

**22) No terceiro estágio da despesa pública ocorre o(a):**

- A) Empenho da despesa. D) Verificação do direito do credor.  
B) Extinção da obrigação do Estado. E) Autorização da despesa.  
C) Lançamento contábil do pagamento.

**23) A contratação temporária de servidores por excepcional interesse público para combater a emergências ambientais, na hipótese de declaração, pelo Ministro de Estado do Meio Ambiente, da existência de emergência ambiental na região específica, deverá observar o prazo máximo de:**

- A) 1 ano.  
B) 2 anos.  
C) Não há prazo, podendo o contrato vigorar enquanto perdurar a emergência.  
D) 4 anos.  
E) 6 meses.

**24) O pessoal contratado por excepcional interesse público NÃO poderá:**

- A) Sofrer processo administrativo.  
B) Ser nomeado ou designado, ainda que a título precário ou em substituição, para o exercício de cargo de carreira.  
C) Ser novamente contratado, com fundamento nesta Lei, antes de decorridos vinte e quatro meses do encerramento de seu contrato anterior, salvo nas hipóteses dos incisos I e IX do artigo 2º, mediante prévia autorização.  
D) Receber gratificação natalina.  
E) Gozar as férias regulamentares.

**25) Assinale a proposição correta:**

- A) O regime estatutário é caracterizado pelo princípio da unicidade normativa.  
B) A relação jurídica entre as partes no regime trabalhista é de natureza contratual.  
C) O regime trabalhista é caracterizado pelo princípio da pluralidade normativa.  
D) A relação jurídica entre as partes no regime estatutário é de natureza contratual.  
E) Todas as proposições anteriores estão corretas.

**26) Fornecedores referem-se a toda empresa interessada em suprir as necessidades de outra empresa no tocante à matéria-prima, serviços e mão-de-obra. Em relação aos fornecedores habituais, pode-se concluir que:**

- A) São os fabricantes de produtos exclusivos dentro do mercado.  
B) São os fornecedores que não possuem uma regularidade de fornecimento para a empresa, dificultando o planejamento da produção.  
C) São os fornecedores que ocasionalmente prestam serviços, ofertam mão-de-obra e até mesmo fabricam produtos que requerem equipamentos especiais.

- D) São fornecedores que a empresa cadastra como esporádicos, pois nem sempre possuem itens a serem ofertados no mercado.
- E) São fornecedores tradicionais que sempre são consultados numa cotação de preços, possuem uma linha de produto padronizada e bastante comercial.
- 27) **A liderança é um fenômeno social que ocorre em grupos sociais e nas organizações. É exercida como uma influência interpessoal em uma determinada situação e dirigida através do processo de comunicação para a consecução de objetivos específicos. Logo, é uma forma de poder pessoal. Em relação ao poder de competência, pode-se afirmar que:**
- A) É o poder baseado na atuação e no apelo, onde o líder é admirado por certos traços de personalidade.
- B) É o poder que decorre do cargo ocupado pelo líder no grupo ou na hierarquia organizacional.
- C) É o poder baseado na especialidade, nas aptidões ou no conhecimento técnico da pessoa.
- D) É o poder que tem seus alicerces em alguma recompensa, incentivo, elogio ou reconhecimento que o liderado pretende obter do líder.
- E) É o poder baseado no temor e na coerção.
- 28) **Guilherme Alvarenga é responsável pela gerência de projetos da Companhia Siderúrgica Mato Verde. Ele precisa levantar e dimensionar informações de quatro variáveis básicas para o projeto. Assinale a alternativa abaixo que NÃO representa uma variável crítica de desempenho acerca do plano de um projeto:**
- A) Escopo. D) Níveis hierárquicos.
- B) Prazos. E) Custos.
- C) Riscos.
- 29) **As disponibilidades de caixa dos órgãos e entidades da administração direta e indireta deverão obedecer aos seguintes dispositivos legais:**
- I.** As disponibilidades de caixa dos regimes de previdência social, geral e próprio dos servidores públicos, ficarão depositados em conta separada das demais disponibilidades de cada ente.
- II.** É vedada a aplicação das disponibilidades dos regimes de previdência em títulos da dívida pública estadual e municipal.
- III.** As disponibilidades de caixa dos entes deverão ser depositados em instituições financeiras regulares.
- IV.** As disponibilidades de caixa constarão de registro próprio, de modo que os recursos vinculados a órgão, fundo ou despesa obrigatória fiquem identificados e escriturados de forma individualizada.
- Estão corretas apenas as afirmativas:**
- A) I, II e III B) II, III e IV C) I, II e IV D) I, II, III e IV E) I, e IV
- 30) **Para efeito do disposto na Lei Complementar nº 101/200 – Responsabilidade Fiscal, as afirmativas abaixo estão corretas, EXCETO:**
- A) A receita corrente líquida será apurada somando-se as receitas arrecadas no mês em referência e nos onze anteriores, excluindo as duplicidades.
- B) A despesa total com pessoal será apurada somando-se as despesas pagas no mês em referência com as dos onze imediatamente anteriores.
- C) Na determinação das disponibilidades de caixa, para efeito de cumprimento do artigo 42 – Restos a Pagar, serão considerados os encargos e despesas compromissadas a pagar até o final do exercício.
- D) A demonstração das variações patrimoniais dará destaque à origem e ao destino dos recursos provenientes da alienação de ativos.
- E) A administração pública manterá sistema de custos que permita a avaliação e o acompanhamento da gestão orçamentária, financeira e patrimonial.
- 31) **É dispensável a licitação:**
- A) Quando as propostas apresentadas consignarem preços manifestamente superiores aos praticados na sede do ente federativo responsável pelo certame.
- B) Para obras e serviços de engenharia de valor até 20% do limite previsto no artigo 23 da Lei Federal nº 8666/93.
- C) Para a aquisição, por pessoa jurídica de direito público interno, de bens produzidos por entidade que integre a administração pública e que tenha sido criado para esse fim específico anteriormente à Lei Federal nº 8666/93.
- D) Para a contratação de pessoa responsável pela limpeza urbana, desde que os preços sejam compatíveis com as referências de mercado.
- E) Para obras e serviços de engenharia de valor até 15% do limite previsto no artigo 23 da Lei Federal nº 8666/93.
- 32) **Para a contratação de serviços de forma direta, deverá a administração pública instruir o ato com plano de trabalho aprovado pela autoridade máxima do órgão ou entidade, ou a quem esta delegar competência, com os seguintes requisitos:**
- A) Relação entre a demanda prevista e a qualidade de serviço a ser contratada.
- B) Demonstrativo de resultados a serem alcançados em termos de economicidade e de melhor aproveitamento dos recursos humanos, materiais ou financeiros disponíveis.
- C) Demonstrativo de impacto orçamentário e financeiro.
- D) Lei autorizativa específica diante da indispensabilidade de ratificação do ato pelo Poder Legislativo.
- E) Demonstrativo de existência de todos os requisitos mencionados nas proposições anteriores.

- 33) Constitui motivo para rescisão do contrato celebrado nos termos da Lei Federal nº 8666/93, EXCETO:**
- A) Lentidão no seu cumprimento capaz de impossibilitar a sua conclusão no prazo estipulado.
  - B) Dissolução da sociedade ou o falecimento do contratado.
  - C) Alteração da sede da contratada.
  - D) Alteração social da finalidade da contratada.
  - E) Supressão dos serviços pela administração pública.
- 34) Quanto à investidura de cargos ocupados por Agentes Particulares Colaboradores, assinale a proposição correta:**
- A) Não pode ocorrer por delegação do Poder Público.
  - B) Ocorre por requisição, nomeação ou designação da autoridade competente.
  - C) Ocorre por seleção prévia em prova de conhecimentos específicos.
  - D) Ocorre por seleção prévia em prova de títulos.
  - E) Não pode ocorrer por requisição, nomeação ou designação da autoridade competente.
- 35) Pedro Antunes Almeida Neto, gerente de projetos e infra-estrutura da Empresa VHS Ltda, está contratando um novo colaborador para trabalhar diretamente com ele. Após vários processos seletivos, teve que decidir entre dois candidatos: Maria José e José Maria. De acordo com as abordagens mais avançadas de gestão de pessoas, Pedro decidiu pela promoção de Maria José, pois ela demonstrou ser proativa, possuir capacidade de liderança e de delegação, além de sólida formação acadêmica e habilidade interpessoal. Pedro foi orientado para valorização do fator:**
- A) Cumprimento de rotinas de trabalho.
  - B) Competência.
  - C) Experiência.
  - D) Visão de mercado.
  - E) Personalidade.
- 36) Em relação à estratégia empresarial, pode-se afirmar que uma estratégia de diferenciação refere-se a:**
- A) Explorar novo mercado com a oferta de novos produtos.
  - B) Explorar mercados tradicionais a oferta de novos produtos.
  - C) Projetar uma forte identidade própria para o serviço ou produto, que o torne distinto dos produtos e serviços concorrentes.
  - D) Oferecer um produto ou serviço a preços mais baixos devido à redução de custos.
  - E) Escolher um nicho de mercado ou segmento do mercado e concentrar-se nele.
- 37) O layout de processo ou funcional representa o fluxo das etapas de fabricação que convergem para um mesmo conjunto de máquinas. São características do layout de processo, EXCETO:**
- A) É utilizado para a fabricação de um só produto ou alguns produtos padronizados.
  - B) O equilíbrio de mão-de-obra e material torna-se difícil.
  - C) A mesma máquina ou estação de trabalho é utilizada para duas ou mais operações.
  - D) Estudos de tempos e movimentos são mais difíceis ou mesmo inviáveis.
  - E) As operações exigem grande número de inspeções.
- 38) Para se tomar a decisão de estocar ou não determinado item, devem ser considerados dois fatores: se é econômico estocar e se é interessante estocar um item indicado como antieconômico com o objetivo de satisfazer os clientes. O lote econômico propicia uma medida fundamental como subsídio a essas indagações. Porém, existem algumas críticas relacionadas ao lote econômico. Assinale abaixo a alternativa que representa uma crítica ao lote econômico de compra:**
- A) Não é viável o seu cálculo, já que envolve variáveis matemáticas e não variáveis que representam a realidade do mercado.
  - B) O modelo de lote econômico pressupõe a demanda constante durante o intervalo de tempo de estudo e a avaliação dos custos de carregamento.
  - C) Não é válido o seu cálculo quando a empresa trabalha com estoques.
  - D) Deve ser efetuado uma vez a cada doze meses já que é previsível o giro de estoques.
  - E) Deve ser estabelecido juntamente com uma pesquisa de mercado junto aos concorrentes.
- 39) Existem, na estrutura organizacional, dois tipos de organização: a organização formal e a organização informal. São aspectos da organização formal, EXCETO:**
- A) Hierarquia de autoridade.
  - B) Objetivos e planos.
  - C) Cargos.
  - D) Padrões de liderança.
  - E) Órgãos.
- 40) Alberto Montes é o diretor da Empresa Mecal Ltda. Ele tem uma tarefa para ser realizada e, para isso, necessita estabelecer uma equipe de projetos. Para que ele consiga realçar o status da equipe e obter a participação de todos ele precisa:**
- A) Incentivar para que todos os funcionários interessados participem da equipe, independente do nível hierárquico.
  - B) Designar funcionários de prestígio, dispostos a participar como membros desta equipe.
  - C) Não vincular esta equipe a qualquer tipo de recompensa de desempenho social e/ou financeira.
  - D) Explicitar à equipe e à organização a importância da tarefa a ser realizada, bem como os riscos que correm os que dela participarem.
  - E) Fazer com que a equipe aumente de tamanho, incentivando adesões irrestritas.






41) Qual NÃO pertence ao grupo?

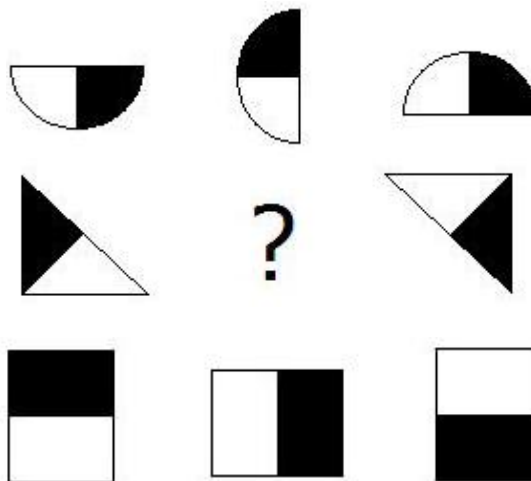
- A) Lâmina.      B) Barra.      C) Placa.      D) Chapa.      E) Folha.

42) Uma pesquisa em uma determinada escola, mostrou que todos os pais de alunos que ganham mais de 8 salários mínimos, têm menos de 8 filhos. João estuda nessa escola e tem 6 irmãos, logo:

- A) seu pai ganha mais de 8 salários mínimos.      D) seu pai não ganha mais de 8 salários mínimos.  
 B) seu pai ganha 8 salários mínimos.      E) nada se pode afirmar.  
 C) seu pai não ganha 8 salários mínimos.

43) Qual das opções abaixo substitui corretamente a interrogação?

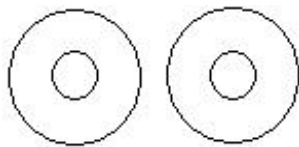
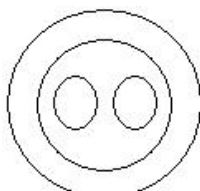
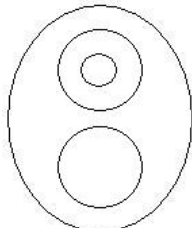
- A) 
- B) 
- C) 
- D) 
- E) 

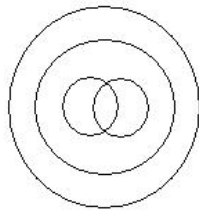
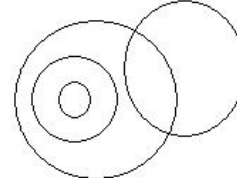


44) Marque a alternativa INCORRETA:

- A)  $\log_4 4^3 > 2$       D)  $\frac{\log_3 16}{\log_3 2} = \log_3 (16 - 2)$   
 B)  $\log_5 1 = 0$       E)  $\log_3 27 + \log_3 9 = \log_3 (27 \cdot 9)$   
 C)  $\log_{1/25} 5 < 0$

45) Qual dos diagramas abaixo relaciona corretamente os elementos pássaro, ave, beija-flor, avestruz?

- A) 
- B) 
- C) 

- D) 
- E) 

46) Dadas as proposições abaixo, analise:

- I. Todas as pessoas são seres humanos. Todos os seres humanos erram. Logo, todas as pessoas erram.  
 II. Os bombeiros trabalharam no incêndio até amanhecer o dia.  
 III. Márcio é mais novo que João, mas João não é mais velho que Márcio.

A seqüência está correta em:

- A) I – tautologia; II – silogismo; III – negação. D) I – contradição; II – tautologia; III – silogismo.  
 B) I – silogismo; II – equivalência; III – contradição. E) I – tautologia; II – negação, III – silogismo.  
 C) I – silogismo; II – tautologia; III – contradição.

- 47) Frederico tinha uma certa quantia depositada na sua conta do banco no último dia do mês de junho de 2008. Durante uma viagem de férias que durou todo o mês seguinte, ele gastou exatamente dois terços da quantia de sua conta, efetuando saques diários sempre iguais. Sabe-se que os saldos de sua conta, após os referidos saques nos dias 19 e 25 de julho eram respectivamente iguais a R\$680,00 e R\$440,00. Qual era o saldo de sua conta no dia 30 de junho?  
 A) R\$1380,00 B) R\$1420,00 C) R\$1440,00 D) R\$1530,00 E) R\$1560,00
- 48) Adriana tem a metade da idade de sua mãe e três quartos da idade de seu irmão mais velho, Pedro. Sabendo que a diferença entre as idades de Adriana e Pedro é de 9 anos, qual a soma das idades dessas três pessoas?  
 A) 113 B) 115 C) 117 D) 119 E) 123
- 49) Um triângulo tem perímetro igual a  $3x/2$ . Sendo  $x$  um número natural, qual das opções abaixo NÃO pode representar um lado desse triângulo?  
 A)  $\frac{x}{4}$  B)  $\frac{x}{16}$  C)  $\frac{3x}{8}$  D)  $\frac{x}{2}$  E)  $\frac{3x}{4}$
- 50) Rogério, Ricardo e Henrique compraram, cada um deles, três aparelhos: uma geladeira, um computador e uma máquina de lavar, por preços diferentes nas lojas A, B e C. Ricardo gastou R\$1800,00 e não comprou na loja B. Rogério comprou a geladeira e Henrique não comprou o computador. Sabe-se ainda, que Rogério gastou R\$1900,00 e não comprou na loja A e que a máquina de lavar foi comprada na loja B. Marque a alternativa correta:  
 A) Rogério comprou na loja B. D) A geladeira foi comprada na loja C.  
 B) A geladeira custou R\$1800,00. E) Henrique não comprou a máquina de lavar.  
 C) A compra efetuada na loja C foi de R\$1800,00.

### NOÇÕES DE INFORMÁTICA

- 51) Quando se tem uma pequena rede corporativa ou residencial que não possui Servidor de Domínio, os computadores configurados a esta rede, para facilitar sua organização, devem pertencer ao mesmo...  
 A) grupo de computadores. D) grupo administrativo.  
 B) grupo de trabalho. E) subgrupo.  
 C) subdomínio.
- 52) NÃO pertence a arquivos que podem ser utilizados como Papel de Parede da área de Trabalho do Windows:  
 A) \*.jpg. B) \*.bmp. C) \*.xls. D) \*.html. E) \*.gif.
- 53) Quando recebemos um e-mail, em alguns casos, ele pode possuir um ou mais arquivos de diversos formatos (\*.doc, \*.xls, \*.jpg, etc). Assinale como são denominados esses arquivos:  
 A) Downloads. B) Anexos. C) Apêndices. D) Índices. E) Sumários.
- 54) Assinale a afirmativa INCORRETA:  
 A) *Download* (significa descarregar ou baixar em português) é a transferência de dados de um computador remoto para um computador local.  
 B) Em informática, um vírus de computador é um programa malicioso desenvolvido por programadores que, tal como um vírus biológico, infecta o sistema, faz cópias de si mesmo e tenta se espalhar para outros computadores, utilizando-se de diversos meios.  
 C) Bancos de dados (ou bases de dados) são conjuntos de registros, dispostos em estrutura regular que possibilitam a reorganização dos mesmos e produção de informação. Um banco de dados, normalmente agrupa registros utilizáveis para um mesmo fim.  
 D) *Upload* é a transferência de dados de um servidor para uma página *Web*, normalmente conhecida como *Webmail*.  
 E) Um site ou sítio é um conjunto de páginas *Web*, isto é, de hipertextos acessíveis geralmente pelo protocolo HTTP na Internet.
- 55) *Webmail* é uma interface da *World Wide Web* que permite ao utilizador ler e escrever *e-mail* usando um navegador. Acerca disso, assinale a alternativa correta:  
 A) A maior vantagem do *webmail* é o fato de não ser necessário possuir um programa específico para a leitura ou envio de mensagens de correio eletrônico. Qualquer computador, ligado à Internet com um navegador, é suficiente.  
 B) Como todos os protocolos de comunicação na *web*, para ler seu *e-mail* no *webmail*, é necessário utilizar sempre o mesmo computador.  
 C) No *webmail*, todas as mensagens existentes na caixa de correio são transferidas sequencialmente para o computador local.  
 D) As mensagens, após baixadas para seu computador, são apagadas da caixa de correio (opcionalmente, o protocolo pode ser configurado para que as mensagens não sejam apagadas da caixa de correio).  
 E) A característica *off-line* do protocolo *webmail*, é particularmente útil para utilizadores que se ligam à Internet através de redes públicas comutadas, em que o custo da ligação é proporcional ao tempo, pois a ligação apenas precisa estar ativa durante a transferência das mensagens; a leitura e o processamento das mensagens podem, depois, serem efetuadas com a ligação inativa.



- 56) No MS Word, para se inserir uma Tabela através do Menu, é necessário ir ao:
- A) Menu Inserir – opção Tabela.
  - B) Menu Tabela – opção Inserir Tabela.
  - C) Menu Editar – opção Criar Tabela.
  - D) Menu Tabela – opção Inserir depois Tabela.
  - E) Menu Arquivo – opção Inserir Tabela.
- 57) No Internet Explorer, para se inserir a página que está sendo visualizada na lista de Favoritos através das Teclas de atalho do teclado, é necessário teclar:
- A) CTRL+B
  - B) CTRL+F
  - C) CTRL+I
  - D) CTRL+A
  - E) CTRL+D
- 58) No MS Excel, os gráficos têm apelo visual e facilitam, para os usuários, a visualização de comparações, padrões e tendências nos dados. Por exemplo, em vez de ter que analisar várias colunas de números de planilha, pode-se ver imediatamente, se as vendas estão caindo ou subindo a cada trimestre ou como as vendas reais se comparam às vendas estimadas. Pode-se criar um gráfico na própria planilha ou como um objeto incorporado a uma planilha. É possível também publicar um gráfico em uma página da Web. Para criar um gráfico, primeiro deve-se inserir os dados do mesmo na planilha. Em seguida, deve-se selecionar os dados e usar o Assistente de Gráfico para passar pelo processo de escolha do tipo de gráfico e das várias opções de gráficos, ou usar a barra de ferramentas Gráfico, para criar um gráfico básico, que poderá ser formatado posteriormente. Através do menu, para acessar o Assistente de Gráfico, é necessário ir ao menu:
- A) Inserir – Gráfico.
  - B) Ferramentas – Assistente de Gráfico.
  - C) Editar – Gráfico.
  - D) Editar – Assistente de Gráfico.
  - E) Arquivo – Inserir Gráfico.
- 59) No MS Excel, para inserir uma borda em uma ou mais células deve-se selecionar as células nas quais se deseja adicionar uma borda, e:
- A) Ir ao menu Editar – Bordas e Sombreamentos.
  - B) Ir ao menu Editar – Células – na Janela, selecionar a guia bordas e Sombreamentos.
  - C) Ir ao menu Formatar – Células – na Janela, selecionar a guia bordas e Sombreamentos.
  - D) Ir ao menu Editar – Células – na Janela, selecionar a guia bordas.
  - E) Ir ao menu Formatar – Células – na Janela, selecionar a guia bordas.
- 60) OpenOffice é uma suíte de aplicativos para escritório livre e multiplataforma, sendo distribuída para diversos sistemas operacionais. A suíte usa o formato ODF (*OpenDocument*). Acerca disso, assinale a afirmativa correta:
- A) O OpenOffice, não lê arquivos criados no MS Word com o formato \*.doc.
  - B) O OpenOffice, funciona apenas em sistemas baseados em Unix ou Linux.
  - C) O OpenOffice, funciona apenas em Sistema Operacional Microsoft Windows.
  - D) Os documentos criados pelo OpenOffice, são lidos em qualquer editor de texto, mantendo suas características originais.
  - E) O OpenOffice, é distribuído para diversos sistemas operacionais, incluindo Microsoft Windows, Unix, Solaris, Linux e Mac Osx.