

- De acordo com o comando a que cada um dos itens de **1 a 120** se refira, marque, na **folha de respostas**, para cada item: o campo designado com o código **C**, caso julgue o item **CERTO**; ou o campo designado com o código **E**, caso julgue o item **ERRADO**. A ausência de marcação ou a marcação de ambos os campos não serão apenadas, ou seja, não receberão pontuação negativa. Para as devidas marcações, use a **folha de respostas**, único documento válido para a correção das suas provas.
- Nos itens que avaliam **Noções de Informática**, a menos que seja explicitamente informado o contrário, considere que: todos os programas mencionados estão em configuração-padrão, em português; o *mouse* está configurado para pessoas destros; expressões como **clique**, **clique simples** e **clique duplo** referem-se a cliques com o botão esquerdo do *mouse*; **teclar** corresponde à operação de pressionar uma tecla e, rapidamente, liberá-la, acionando-a apenas uma vez. Considere também que não há restrições de proteção, de funcionamento e de uso em relação aos programas, arquivos, diretórios, recursos e equipamentos mencionados.

CONHECIMENTOS BÁSICOS

1 Na esteira da leitura do mundo pela palavra, vemos
emergir uma tecnologia de linguagem cujo espaço de
apreensão de sentido não é apenas composto por palavras,
4 mas, junto com elas, encontramos sons, gráficos e diagramas,
todos lançados sobre uma mesma superfície perceptual,
amalgamados uns com os outros, formando um todo
7 significativo e de onde sentidos são complexamente
disponibilizados aos navegantes do oceano digital. É assim
o hipertexto. Com ele, ler o mundo tornou-se virtualmente
10 possível, haja vista que sua natureza imaterial o faz ubíquo
por permitir que seja acessado em qualquer parte do planeta,
a qualquer hora do dia e por mais de um leitor
13 simultaneamente. O hipertexto concretiza a possibilidade
de tornar seu usuário um leitor inserido nas principais
discussões em curso no mundo ou, se preferir, fazê-lo
16 adquirir apenas uma visão geral das grandes questões do ser
humano na atualidade. Certamente, o hipertexto exige do seu
usuário muito mais que a mera decodificação das palavras
19 que flutuam sobre a realidade imediata.

Antonio Carlos Xavier. *Leitura, texto e hipertexto*. In:
L. A. Marcuschi e A. C. Xavier (Orgs.). *Hipertexto e
gêneros digitais*, p. 171-2 (com adaptações).

A partir do texto acima, julgue os itens de **1 a 8**.

- 1 A idéia expressa por “uma tecnologia de linguagem” (ℓ.2) é retomada, no desenvolvimento do texto, por “hipertexto” (ℓ.9), “ele” (ℓ.9) e “o” (ℓ.10).
- 2 Preservam-se as relações semânticas e a correção gramatical do texto bem como tornam-se mais claras as relações entre as palavras “tecnologia” (ℓ.2) e “espaço” (ℓ.2), ao se substituir o pronome “cujo” por **de que o**.
- 3 Preservam-se a correção gramatical do texto e as relações semânticas entre as expressões “sentido” (ℓ.3) e “superfície perceptual” (ℓ.5), ao se retirar a preposição do termo “de onde” (ℓ.7).
- 4 Na linha 10, a flexão de feminino em “haja vista” deve-se à concordância com a palavra feminina “natureza”.
- 5 O trecho iniciado pela preposição “por” (ℓ.11) fornece explicações para a qualidade de ubiqüidade do hipertexto, mencionada na oração que o antecede.

- 6 O uso da conjunção “ou” (ℓ.15) mostra que, no texto, estar “inserido nas principais discussões em curso no mundo” (ℓ.14-15) ou “adquirir apenas uma visão geral das grandes questões do ser humano na atualidade” (ℓ.16-17) devem ser interpretadas como duas maneiras diferentes de se expressar lingüisticamente a mesma ação.
- 7 Seria mantida a correção gramatical caso o elemento **do** fosse inserido entre “mais” e “que”, na linha 18.
- 8 Depreende-se da argumentação do texto que a razão de a leitura do hipertexto ir além da “mera decodificação das palavras” (ℓ.18) é ser ele composto também por um amálgama de “sons, gráficos e diagramas” (ℓ.4).

1 Até José Saramago abriu um *blog*. Até o Prêmio
Nobel de Literatura. O celebrado escritor, que completou
86 anos em novembro, intensifica sua aproximação com
4 o público. Caiu a última trincheira de resistência contra
a ferramenta. O autor de **Ensaio sobre a Cegueira** e
O Evangelho Segundo Jesus Cristo decidiu criar “um
7 espaço para comentários, reflexões, simples opiniões sobre
isto ou aquilo, o que vier a talhe de foice”. Se antes os
blogueiros tomaram as estantes e livrarias, em uma invasão
10 organizada dos *posts* para as páginas, os escritores
descobriram que estavam perdendo espaço e procuraram
recuperar o tempo perdido. Sucedendo o movimento da rede
13 aos livros, a trajetória agora é dos livros para a rede.

O *blog* perdeu seu estigma de catarse e escrita
sentimental para adquirir o *status* de uma janela fundamental
16 para a comunicação com os leitores. São muitos os
ficcionistas que estão adquirindo sítios e realizando uma
verdadeira migração digital. A facilidade de *postar*, o
19 desembaraço de abrir uma página pessoal e a necessidade de
prolongar reflexões sobre a literatura dobraram os mais
empedernidos discípulos do papel e da caneta.

Revista da Cultura, out./2008, p. 24 (com adaptações).

Tomando por base o texto acima, julgue os itens de **9 a 15**.

- 9 Fazendo-se os devidos ajustes nas iniciais maiúsculas, é possível omitir a primeira ocorrência de “Até” (ℓ.1), sem prejudicar a correção gramatical e a coerência textual; no entanto, a segunda ocorrência deve ser mantida para que sejam preservadas a correção gramatical e a coerência na argumentação do texto.
- 10 Depreende-se da argumentação que o termo “ferramenta” (ℓ.5) está empregado como um outro nome para designar “*blog*” (ℓ.1).

- 11 Subentende-se do desenvolvimento das idéias do texto que o trecho entre aspas, nas linhas de 6 a 8, é uma citação de palavras de José Saramago.
- 12 Preserva-se a correção gramatical ao se reescrever a expressão ‘a talhe de foice’ (l.8) com crase: à talhe de foice.
- 13 O desenvolvimento das idéias do texto mostra que, se a condição expressa pela oração iniciada por “Se” (l.8) não se tivesse realizado, os escritores não procurariam “recuperar o tempo perdido” (l.12).
- 14 A inserção da preposição **a** no complemento de “Sucedendo” (l.12), escrevendo-se **ao movimento**, preserva a coerência da argumentação e atende às regras da norma culta da língua portuguesa.
- 15 A relação entre as idéias das duas últimas orações do texto permite que se substitua o ponto final após a palavra “digital” (l.18) pelo sinal de dois-pontos, desde que seja feita a substituição de “A” por **a**.

Declaração sobre o uso do progresso científico e tecnológico no interesse da paz e em benefício da humanidade

Proclamada pela Assembléia Geral das Nações Unidas em 10 de novembro de 1975 — Resolução n.º 3.384 (XXX).

1 A Assembléia Geral,

Tomando nota de que o progresso científico e tecnológico converteu-se em um dos fatores mais importantes do desenvolvimento da sociedade humana,

Levando em consideração que o progresso científico e tecnológico, ao mesmo tempo que cria possibilidades cada vez maiores de melhorar as condições de vida dos povos e das nações, pode, em certos casos, dar lugar a problemas sociais, assim como ameaçar os direitos humanos e as liberdades fundamentais do indivíduo,

(...)
Proclama solenemente que:

Todos os Estados promoverão a cooperação internacional com o objetivo de garantir que os resultados do progresso científico e tecnológico sejam usados para o fortalecimento da paz e da segurança internacionais, a liberdade e a independência, assim como para atingir o desenvolvimento econômico e social dos povos e tornar efetivos os direitos e liberdades humanas de acordo com a Carta das Nações Unidas.

Internet: <www.mp.ma.gov.br>.

A partir do fragmento de documento apresentado, julgue os itens de **16 a 20**.

16 Como documento oficial, a declaração acima deve ser precedida de identificação e data no seguinte padrão:

AGNU – Declaração n.º 3.384/1975

Nova York, 10 de novembro de 1975.

- 17 O uso das letras iniciais maiúsculas em “Tomando” (l.2) e “Levando” (l.5) indica que as vírgulas depois de “Geral” (l.1) e “humana” (l.4) devem ser substituídas por ponto, para se atender às regras gramaticais da norma culta usada em documentos oficiais.
- 18 Na linha 16, justifica-se a flexão de plural em “internacionais” pela concordância desse adjetivo tanto com “paz” quanto com “segurança”; se a flexão fosse de singular, as regras gramaticais seriam atendidas, mas a clareza do documento seria prejudicada.
- 19 Por causa das ocorrências da conjunção “e” (l.15-16) no mesmo período sintático, o conectivo “assim como” (l.17) tem a dupla função de marcar a relação de adição entre as orações e deixar clara a hierarquia das relações semânticas.
- 20 Diferentemente do documento declaração, o fecho de um documento no padrão edital deve seguir o seguinte modelo.

Brasília, 7 de dezembro de 2008.

Fulano da Silva Tal

Fulano da Silva Tal

Diretor-presidente da BRBRBR

- 1 No século XVIII, o Parlamento Inglês ofereceu uma pequena fortuna a quem inventasse uma forma que permitisse aos marinheiros calcular a longitude em alto-mar. Quem
4 levou o prêmio foi John Harrison, um desconhecido relojoeiro do interior da Inglaterra. Ele criou o primeiro cronômetro marítimo, instrumento que revolucionou a
7 navegação. Hoje, uma dezena de sítios na Internet usa o mesmo princípio em benefício da inovação no mundo dos negócios. Na maioria desses sítios, as empresas descrevem
10 anonimamente um problema que não conseguem resolver e recebem propostas de solução de cientistas, técnicos e outros interessados, muitos sem nenhuma formação acadêmica.

Veja, 20/8/2008 (com adaptações).

Julgue os seguintes itens, a respeito das estruturas lingüísticas do texto acima.

- 21 Preservam-se a coerência textual e a correção gramatical ao se substituir “a quem” (l.2) por **à pessoa que**.
- 22 O emprego do modo subjuntivo em “inventasse” (l.2) e “permitisse” (l.2) demonstra ser o invento apenas uma hipótese, que as informações das orações seguintes, apoiadas no indicativo em “levou” (l.4) e “criou” (l.5), mostram como realizada.
- 23 O desenvolvimento das idéias do texto permite que se substitua “uma dezena de” (l.7) pela expressão **cerca de dez**, sem prejuízo para a correção gramatical e a coerência entre os argumentos.
- 24 A expressão “um desconhecido relojoeiro do interior da Inglaterra” (l.4-5) e o pronome “Ele” (l.5) retomam o referente “John Harrison” (l.4).
- 25 A argumentação do texto mostra que a expressão “o mesmo princípio” (l.8) refere-se ao princípio científico de funcionamento do cronômetro marítimo.

1 Era uma vez uma rotina em que criança bem-criada e educada era aquela que tinha horário para tudo e não misturava as coisas: brincar era brincar, estudar era estudar.

4 Pobres dos pais que ainda alimentam alguma ilusão de ritmo seqüencial. Cercadas de aparelhos eletrônicos que dominam desde cedo, as crianças da era dos estímulos constantes e

7 simultâneos são capazes de executar três, quatro, cinco atividades ao mesmo tempo — e prestar pelo menos alguma atenção a todas elas. São crianças multitarefa e encaram isso

10 com total naturalidade.

Mas a rapidez e a multiplicidade podem ter certo custo. Para quem tem pressa em determinar as conseqüências

13 futuras das atividades simultâneas, a ciência ainda responde em ritmo de passado. Vamos ter de esperar uma ou duas gerações para saber se a multitarefa será predominantemente

16 positiva ou negativa na fase adulta.

Veja, 6/8/2008 (com adaptações).

A partir do texto acima, julgue os itens que se seguem.

- 26 Preservam-se a coerência da argumentação e o atendimento às regras gramaticais ao se retirar a preposição “em” do termo “em que” (ℓ.1).
- 27 Na linha 3, o sinal de dois-pontos depois de “coisas” tem a função de introduzir uma explicação, ou justificativa, para a idéia expressa nas orações anteriores. Essa função deixaria de ser marcada pela pontuação caso esse sinal fosse substituído pelo ponto — com o correspondente ajuste na letra inicial de “brincar” —, mas a coerência e a correção gramatical do texto seriam preservadas.
- 28 O desenvolvimento das idéias do texto permite inferir que a expressão “ritmo seqüencial” (ℓ.4-5) é usada para caracterizar o procedimento de **não misturar as atividades**.
- 29 A organização dos argumentos mostra que o conectivo “e” em “e encaram” (ℓ.9) tem o valor de **mas** e por essa conjunção poderia ser substituído, sem prejuízo da coerência ou da correção do texto.
- 30 O emprego da primeira pessoa do plural em “Vamos ter” (ℓ.14) indica que tanto o autor quanto o leitor do texto não estão incluídos entre o conjunto de pessoas com “pressa em determinar as conseqüências futuras das atividades simultâneas” (ℓ.12-13).

Uma proposição é uma sentença que pode ser julgada verdadeira (V) ou falsa (F). As proposições são normalmente representadas pelas letras maiúsculas A, B, C etc. A partir de proposições dadas, podem-se construir novas proposições compostas, mediante o emprego de símbolos lógicos chamados conectivos: “e”, indicado pelo símbolo lógico \wedge , e “ou”, indicado pelo símbolo lógico \vee . Usa-se o modificador “não”, representado pelo símbolo lógico \neg , para produzir a negação de uma proposição; pode-se, também, construir novas proposições mediante o uso do condicional “se A então B”, representado por $A \rightarrow B$.

O julgamento de uma proposição lógica composta depende do julgamento que se faz de suas proposições componentes. Considerando os possíveis julgamentos V ou F das proposições A e B, tem-se a seguinte tabela-verdade para algumas proposições compostas.

A	B	$A \wedge B$	$A \vee B$	$\neg A$	$A \rightarrow B$
V	V	V	V	F	V
V	F	F	V		F
F	V	F	V	V	V
F	F	F	F		V

Considerando-se a proposição A, formada a partir das proposições B, C etc. mediante o emprego de conectivos (\wedge ou \vee), ou de modificador (\neg) ou de condicional (\rightarrow), diz-se que A é uma tautologia quando A tem valor lógico V, independentemente dos valores lógicos de B, C etc. e diz-se que A é uma contradição quando A tem valor lógico F, independentemente dos valores lógicos de B, C etc. Uma proposição A é equivalente a uma proposição B quando A e B têm as tabelas-verdade iguais, isto é, A e B têm sempre o mesmo valor lógico.

Com base nas informações acima, julgue os itens a seguir.

- 31 A proposição $(A \rightarrow B) \rightarrow (\neg A \vee B)$ é uma tautologia.
- 32 Em relação às proposições A: $\sqrt{16} = \pm 4$ e B: 9 é par, a proposição composta $A \rightarrow B$ é uma contradição.
- 33 A proposição $A \rightarrow B$ é equivalente à proposição $\neg B \rightarrow \neg A$.

RASCUNHO

Dois *software*, S1 e S2, são utilizados diariamente por participantes de diferentes grupos de trabalho em certa empresa. Um desses grupos de trabalho está interessado na fabricação de dois produtos, P1 e P2; a fabricação de cada unidade de P1 requer 2 horas de utilização de S1 e 3 horas de utilização de S2, enquanto a fabricação de cada unidade de P2 requer 3 horas de utilização de S1 e 4 horas de utilização de S2. Foi decidido que, por motivos estratégicos, o *software* S1 estará disponível a esse grupo de trabalho por 12 horas por dia, enquanto o *software* S2 estará disponível por 9 horas diárias a esse grupo de trabalho. Os pesquisadores desse grupo desejam saber quantas unidades de P1 e quantas unidades de P2 conseguem produzir nessas condições diariamente e observaram que uma maneira de saber isso seria resolver o sistema de equações lineares
$$\begin{cases} 2x + 3y = 12 \\ 3x + 4y = 9 \end{cases}.$$

Com base nas informações acima, julgue os itens a seguir.

- 34** A solução do sistema de equações lineares
$$\begin{cases} 2x + 3y = 12 \\ 3x + 4y = 9 \end{cases}$$
 fornece, de fato, uma possível quantidade a ser produzida de P1 e P2.
- 35** Nas condições apresentadas, não é possível produzir mais que três unidades diárias do produto P1.

Uma empresa de consultoria realizou um levantamento estatístico para obter informações acerca do tempo (T) gasto por empregados de empresas brasileiras na Internet em sítios pessoais durante suas semanas de trabalho. Com base em uma amostra aleatória de 900 empregados de empresas brasileiras com um regime de trabalho de 44 h semanais, essa empresa de consultoria concluiu que cada empregado gasta, em média, 6 h semanais na Internet em sítios pessoais durante uma semana de trabalho; 50% dos empregados gastam 5 h semanais ou mais na Internet em sítios pessoais durante uma semana de trabalho; e o desvio padrão do tempo gasto na Internet em sítios pessoais durante o regime de trabalho é igual a 4 h semanais por empregado.

Com base nas informações da situação hipotética acima descrita, julgue os itens a seguir.

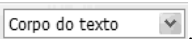
- 36** Os empregados observados no levantamento gastaram, em média, mais de 12% do regime de trabalho semanal na Internet em sítios pessoais.
- 37** Os tempos gastos na Internet em sítios pessoais durante o regime de trabalho pelos empregados observados no levantamento foram superiores a 2 h e inferiores a 10 h semanais.
- 38** A mediana da distribuição dos tempos gastos na Internet é superior a 5,5 h/semana.
- 39** Considerando que o tempo útil semanal do regime de trabalho seja a diferença $U = 44 - T$ (em horas), o desvio padrão de U será inferior a 5 h.
- 40** Considerando que a probabilidade de um empregado gastar mais do que 8 h semanais na Internet em sítios pessoais durante seu regime de trabalho seja igual a 0,2 e considerando, também, que X seja uma variável aleatória que represente o número de casos de pessoas que gastam mais do que 8 h/semana na Internet em sítios pessoais durante seus regimes de trabalho na amostra aleatória de 900 empregados, o desvio padrão de X será igual ou inferior a 12.


Com relação a conceitos básicos de informática e sistema operacional Linux, julgue os itens a seguir.


- 41 Uma desvantagem da utilização do *notebook* é a ausência de porta USB, que permite conexão rápida com a Internet.
- 42 O Linux, por ser um *software* livre, apresenta diversas vantagens em relação a outros sistemas operacionais, mas tem a desvantagem de não permitir a conexão de *pendrive* ao computador.
- 43 O Linux é um sistema operacional multitarefa que pode ser instalado em servidores ou em computadores pessoais.
- 44 Os *notebooks* atuais possuem funcionalidade de *mouse* sem fio, bastando que o usuário aproxime o *mouse* do equipamento para o reconhecimento automático, sem necessidade de outros dispositivos.

Considerando a figura ao lado, que ilustra uma janela do BrOffice, julgue os itens subseqüentes.




- 45 Para se alterar o estilo da fonte do parágrafo selecionado, é suficiente escolher o estilo desejado no campo .

- 46 Ao se clicar o botão , a calculadora padrão do BrOffice é acionada.


- 47 No trecho , situado no canto direito da régua, arrastando-se e soltando o triângulo, é possível alterar o recuo do parágrafo selecionado.

Considerando a figura ao lado, que apresenta uma página da Web acessada pelo Internet Explorer 6, julgue os itens que se seguem.



- 48 Ao se clicar a ferramenta , uma nova página do SERPRO será apresentada.

- 49 Um usuário pode fazer um acesso seguro à *intranet* do SERPRO usando a tecnologia VPN, que cria um túnel virtual com o computador do usuário, usando criptografia.

- 50 A ferramenta  permite cadastrar e organizar sítios e contatos favoritos.

CONHECIMENTOS ESPECÍFICOS

Julgue os itens que se seguem de acordo com as normas instituídas pela Lei de Responsabilidade Fiscal.

- 51** Caso, ao final de um bimestre, se verifique que a realização da receita poderá não comportar o cumprimento das metas fiscais de resultado primário ou nominal, o Poder Executivo deve promover, nos trinta dias subseqüentes, limitação de empenho e movimentação financeira, segundo os critérios fixados pela lei de diretrizes orçamentárias.
- 52** As despesas que constituam obrigações constitucionais e legais do ente, inclusive aquelas destinadas ao pagamento do serviço da dívida, e as ressalvadas pela lei de diretrizes orçamentárias podem ser objeto de limitação de despesas, caso necessário ao cumprimento das metas fiscais.
- 53** Os planos, orçamentos e leis de diretrizes orçamentárias, as prestações de contas e o respectivo parecer prévio são instrumentos de transparência da gestão fiscal, aos quais será dada ampla divulgação, inclusive em meios eletrônicos de acesso público.
- 54** As inscrições em restos a pagar e a assunção de compromissos junto a terceiros deverão ser escrituradas de modo a evidenciar o montante e a variação da dívida pública no período, detalhando-se, pelo menos, a natureza e o tipo de credor.

Acerca das normas previstas na Lei n.º 8.666/1993, julgue os itens de **55** a **61**.

- 55** A Lei de Licitações estabelece normas gerais sobre licitações e contratos administrativos pertinentes a obras e serviços, inclusive os de publicidade.
- 56** Cláusulas ou condições que comprometam, restrinjam ou frustrem o caráter competitivo da licitação e estabeleçam preferências ou distinções em razão da naturalidade, da sede ou do domicílio dos licitantes são vedadas.
- 57** A Lei de Licitações preconiza que, como primeiro critério de desempate, será assegurada preferência aos bens e serviços produzidos ou prestados por empresas que invistam em pesquisa e no desenvolvimento de tecnologia no país.
- 58** As licitações para execução de obras e para prestação de serviços devem obedecer à seguinte seqüência: projeto básico; projeto executivo e execução das obras e serviços. O projeto básico, por sua vez, é o conjunto dos elementos necessários e suficientes à execução completa da obra, de acordo com as normas da Associação Brasileira de Normas Técnicas (ABNT).
- 59** O autor do projeto básico ou do projeto executivo não pode participar, direta ou indiretamente, da licitação ou da execução da obra ou serviço licitado. Excetua-se da proibição, no entanto, a situação em que a licitação ou contratação da obra ou serviço inclua a elaboração de projeto executivo como encargo do contratado ou pelo preço previamente fixado pela administração.
- 60** Salvo nos casos de inexigibilidade de licitação, os contratos para a prestação de serviços técnicos profissionais especializados deverão, preferencialmente, ser celebrados mediante a realização de concurso, com estipulação prévia de prêmio ou remuneração. Exemplo de serviços técnicos profissionais especializados que se incluem nesta regra são os trabalhos de perícias, assessorias ou consultorias técnicas e restauração de obras de arte.

- 61** Quando apresentar relação de integrantes de seu corpo técnico em procedimento licitatório, a empresa de prestação de serviços técnicos especializados ficará obrigada a garantir que os referidos integrantes realizem pessoal e diretamente os serviços objeto do contrato.

A respeito das sanções aplicáveis aos fornecedores da administração pública, contratados por meio de procedimento licitatório, julgue os itens subseqüentes.

- 62** O atraso injustificado na execução do contrato sujeitará o contratado à multa de mora, na forma prevista no instrumento convocatório ou no contrato, após regular processo administrativo, e a aplicação da multa não impede a rescisão unilateral do contrato por parte da administração pública.
- 63** A inexecução total do contrato administrativo por parte da contratada possibilita à administração pública a aplicação das sanções de advertência, multa, suspensão temporária de participação em licitação e declaração de inidoneidade. Tais sanções, no entanto, não se aplicam às situações de inexecução parcial do contrato.
- 64** A suspensão temporária de participação em licitação e o impedimento de contratar com a administração, por prazo não superior a dois anos, podem ser aplicados às empresas ou profissionais que, em razão de contratos com a administração pública, tenham sofrido condenação definitiva por fraude fiscal no recolhimento de tributos.
- 65** A penalidade de declaração de inidoneidade para licitar ou contratar com a administração pública é sanção de competência do dirigente do órgão afetado pela conduta ilícita da pessoa física ou jurídica contratada.

Julgue os itens a seguir, que se relacionam à modalidade licitatória denominada pregão.

- 66** Na fase preparatória do pregão, a autoridade competente justificará a necessidade de contratação e definirá o objeto do certame, bem como as exigências de habilitação e os critérios de aceitação das propostas. Igualmente, as sanções por inadimplemento e as cláusulas do contrato, com fixação dos prazos para fornecimento, fazem parte dessa fase do pregão.
- 67** Os atos essenciais do pregão, quando realizados por meio eletrônico, dispensam documentação no processo respectivo.
- 68** Aquele que for convocado dentro do prazo de validade da sua proposta e não celebrar o contrato ou apresentar documentação falsa no certame ficará impedido de licitar e contratar com a União, estados, Distrito Federal ou municípios e será descredenciado no SICAF ou nos sistemas de cadastramento de fornecedores.
- 69** A equipe de apoio do pregoeiro deve ser integrada obrigatoriamente por servidores ocupantes de cargo efetivo ou emprego da administração, pertencentes ao quadro permanente do órgão ou da entidade promotora do evento.
- 70** O pregão pode ser realizado por meio da utilização de recursos de tecnologia da informação.

Em matéria contratual, um dos aspectos mais controvertidos — sobretudo em relação aos contratos de execução continuada — diz respeito à necessidade de definição dos mecanismos necessários à manutenção do equilíbrio econômico-financeiro do acordo.

Lucas Rocha Furtado. Curso de direito administrativo. Belo Horizonte: Forum, 2007.

Acerca do reequilíbrio econômico dos contratos administrativos, julgue os próximos itens.

- 71 Na repactuação contratual, busca-se recompor as perdas inflacionárias que atingiram o contrato, mediante a aplicação de um índice específico de correção monetária previamente fixado em cláusula contratual.
- 72 Em caso de repactuação contratual o interregno mínimo para ocorrer a revisão contratual, é de 24 meses e deve ser contado conforme dispuserem o contrato e o edital da licitação, podendo ser contado da data da apresentação das propostas ou da data da assinatura do contrato.
- 73 A repactuação contratual é uma modalidade especial de reajustamento de contrato, aplicável apenas aos contratos de serviços contínuos.
- 74 Estará presente a figura do fato príncipe na situação em que, após a celebração do contrato para a execução de uma obra, o contratado descubra que os terrenos onde esta se realizaria não foram previamente desapropriados pela administração, como deveriam ter sido.
- 75 Caso um contrato de fornecimento de bens importados à administração pública seja celebrado e, dias depois, o dólar, repentinamente, sofra súbita e inesperada valorização frente ao real, essa ocorrência será considerada uma situação de força maior.
- 76 No momento da revisão do contrato é que se define o equilíbrio entre as prestações a serem efetuadas pelas partes, e, como causa implícita em todos os contratos, está presente a cláusula *rebus sic stantibus*, cujo propósito é recompor o equilíbrio eventualmente alterado.

Julgue os itens subseqüentes de acordo com a legislação de marcas e patentes.

- 77 Para ser patenteável, a invenção deve atender aos requisitos de novidade, atividade inventiva e aplicação industrial.
- 78 Descobertas, teorias científicas, métodos comerciais, métodos de sorteio e de fiscalização não podem ser considerados invenção ou modelo de utilidade.
- 79 O pedido de patente originário do Brasil, cujo objeto interesse à defesa nacional será mantido em sigilo durante dezoito meses contados da data de depósito ou da prioridade mais antiga, quando houver, após o que será publicado.
- 80 A proteção aplicada às marcas notoriamente conhecidas em seu ramo de atividade nos termos do previsto na Convenção da União de Paris para Proteção da Propriedade Industrial, não se estende às marcas de serviço.

Determinada organização pública tem tido dificuldades para gerir seus estoques de material. Sua grande dificuldade refere-se ao controle de compras, em face do excedente e, por outras vezes, de escassez de material. A organização utiliza o método do último período para definir a quantidade a ser adquirida para o período de ano seguinte. Seus principais produtos estão apresentados na seguinte tabela.

produtos	preço unitário	consumo anual	valor do consumo (R\$/ano)	consumo mensal (médio)	tempo de reposição (dias)
papel A4 (resma)	8,00	9.000	72.000,00	750	120
cartucho para impressora	60,00	130	7.800,00	11	50
caneta esferográfica	4,00	2.800	11.200,00	234	60
maquinário de informática	800,00	12	9.600,00	1	90
lápiz	2,00	190	3.800,00	16	60
blocos pautados	8,00	700	5.600,00	58	20
detergente	3,00	360	1.080,00	30	20
álcool	1,00	300	300,00	25	20

Com referência à situação hipotética acima descrita e à gestão de estoques, julgue os itens subseqüentes.

- 81 O cartucho para impressora é considerado como um produto acabado, pois é caracteristicamente um item já finalizado pelo seu processo de produção.
- 82 Sendo C o consumo e TR o tempo de reposição, se o estoque mínimo (Em) para o produto caneta esferográfica, calculado pelo método da raiz quadrada — $Em = \sqrt{C \times TR}$ — for de 118 unidades, então, ao se calcular o ponto de pedido desse produto, a quantidade encontrada será maior do que 120 unidades.
- 83 O tempo de reposição da organização em apreço refere-se à emissão do pedido, norteadada pela Lei n.º 8.666/1993; à preparação do pedido, que inclui o tempo de produção e a disponibilização pelo fornecedor; e o transporte e entrega à demandante.
- 84 A curva ABC é um instrumento de gestão de estoque que possibilita a identificação e análise das prioridades, seja para a programação da produção e de receitas, seja para resolução de problemas, escalonamento de custos etc. Assim, nos itens listados na tabela, o álcool é considerado integrante da classe A, pois ele impacta menos nos custos da organização, devendo ser tratado com atenção pelo gestor de estoques.

RASCUNHO

ano	consumo anual (efetivado)	consumo anual (previsto)	fator de importância em %
2003	75.800	–	3
2004	81.900	–	5
2005	91.690	–	10
2006	83.780	–	10
2007	85.900	–	30
2008	–	90.000	42

Considerando que, em determinada organização, os últimos 5 anos, o papel A4 teve o consumo mostrado no quadro acima, julgue os itens seguintes.

- 85** Supondo a consolidação da previsão de consumo para 2008, e utilizando o método da média com ponderação exponencial ($XT = \alpha Xt + (1 - \alpha) X_{t-1}$) com a constante de amortecimento α de 20%, é correto afirmar que a previsão para 2009 será de 86.720 unidades.
- 86** Supondo a consolidação da previsão de consumo para 2008, e utilizando o método da média móvel ponderada, é correto afirmar que a previsão para 2009 será de 87.486 unidades.

De acordo com Pozo (2001, p. 34), a importância da correta administração de materiais pode ser mais facilmente percebida quando os bens necessários não estão disponíveis no momento exato e correto para atender às necessidades de mercado. Com relação a esse assunto, julgue os itens que se seguem.

- 87** Quando um material, integrante do processo produtivo, é definido como sucata, isso significa que ele é composto por restos de materiais provenientes dos trabalhos executados e geralmente julgados imprestáveis, diferindo do conceito de material ocioso, que se refere aos materiais que, embora em perfeitas condições de uso, não estão sendo aproveitados nas atividades organizacionais.
- 88** O estoque mínimo é a quantidade de produto em estoque que identifica o início da necessidade de reposição de material.
- 89** Intervalo de ressurgimento é o período gasto desde a verificação de que o estoque precisa ser repostado até a efetiva chegada do material no almoxarifado da empresa.
- 90** A depreciação de um bem está diretamente ligada à sua utilidade. Isso significa que, à medida que o tempo passa, a depreciação ocorre, e, na mesma proporção, a utilidade do bem diminui.

Acerca da movimentação, da alienação e de outras formas de desfazimento de materiais, julgue os itens de **91** a **96**.

- 91** Um dos objetivos de um sistema de logística industrial eficiente deve ser a coordenação do movimento de estoques de matéria-prima, para que os níveis de estoque e o capital empatado sejam reduzidos ao mínimo.
- 92** Nenhum equipamento ou material permanente poderá ser distribuído à unidade requisitante sem respectiva carga, que efetiva tal movimentação com o competente termo de responsabilidade, assinado pelo consignatário.
- 93** Os equipamentos, os materiais de expediente e os bens permanentes deverão receber número seqüencial de registro patrimonial que deverá ser apostado ao material, mediante gravação, fixação de plaquetas ou etiqueta apropriada, salvo o material bibliográfico, que poderá ser apostado mediante carimbo e quando destinado a órgão fiscalizador.

- 94** A alienação consiste na operação que transfere o direito de propriedade do material mediante venda, permuta ou doação.
- 95** A descrição do material para o pedido de compra deverá ser elaborada por meio de dois métodos. Um deles, o método descritivo, identifica com clareza o item por meio da enumeração de suas características físicas, mecânicas, de acabamento e de desempenho, possibilitando sua perfeita caracterização para a boa orientação do processo licitatório, e deverá ser utilizado com absoluta prioridade, sempre que possível.
- 96** O recebimento é a operação segundo a qual se declara, na documentação fiscal, que o material recebido satisfaz às especificações contratadas.

Considere que determinado órgão público movimentou do seu acervo cerca de 40 móveis, entre os quais cadeiras, poltronas, mesas e arquivos, para uma autarquia federal recém-criada. Acerca dessa situação e da gestão de patrimônio, julgue os itens subseqüentes.

- 97** Na situação considerada, ocorreu a movimentação denominada transferência.
- 98** Nessa situação, o tipo de inventário a ser realizado será o inventário de transferência de responsabilidade, pois houve a mudança dos bens para outro gestor.
- 99** Se, durante o processo de mudança dos bens, um servidor público integrante do órgão de origem tiver derrubado uma impressora, a única pessoa que poderá ser chamada à responsabilidade é o novo gestor que assumiu a posse dos bens, pois a responsabilidade já estava vinculada pela aceitação do novo gestor.
- 100** Se, após a mudança dos bens, detectar-se a falta de um grampeador nas instalações do órgão receptor destes e não se conhecer o paradeiro desse grampeador, seu gestor não deverá tê-lo como objeto de sindicância, pois, por sua natureza, não possui custo superior ao do risco de perda do bem.

RASCUNHO

Uma loja de eletrônicos anunciou um televisor de plasma no valor de R\$ 6.000,00 e ofereceu a um cliente três opções de pagamento para a compra do televisor:

- I à vista com 12% de desconto;
- II em duas prestações mensais iguais e consecutivas, sem desconto, a primeira vencendo um mês após a compra;
- III em três prestações mensais iguais e consecutivas, sem desconto, a primeira vencendo no ato da compra.

A propósito dessa situação, tomando 0,91 e 0,83 como os valores aproximados de $1,1^{-1}$ e $1,1^{-2}$, respectivamente, e sabendo que o cliente consegue aplicar seu capital a juros compostos mensais de 10%, julgue os itens seguintes.

- 101** A opção I é a mais vantajosa para o cliente.
- 102** A opção menos vantajosa para o cliente é a opção III.
- 103** Se o cliente escolher a opção II e aplicar, no ato da compra, um capital de R\$ 2.730,00, então, um mês após a compra, o montante auferido será suficiente para pagar a primeira prestação.

Se uma dívida de R\$ 10.000,00 for paga, com juros de 5% ao mês, em 4 meses, pelo sistema de amortização constante (SAC),

- 104** o valor da amortização será de R\$ 2.000,00.
- 105** os juros pagos na segunda prestação serão de R\$ 375,00.
- 106** após se pagar a terceira prestação, a dívida será de R\$ 5.000,00.
- 107** a última prestação paga será de R\$ 2.625,00.

Márcia tomou um empréstimo de R\$ 2.100,00 a juros compostos mensais de 10%. Após um mês da tomada do empréstimo, Márcia pagou a quantia relativa aos juros de um mês. Nos dois meses seguintes, Márcia quitou sua dívida, pagando uma mesma quantia por mês.

Com base nessa situação hipotética, julgue os itens subseqüentes.

- 108** O valor dos juros pagos por Márcia, um mês após a tomada do empréstimo, foi de R\$ 310,00.
- 109** Márcia pagou, nos dois últimos meses, uma quantia mensal inferior a R\$ 1.300,00.
- 110** Os juros pagos por Márcia pelo empréstimo correspondem a um percentual superior a 27% da quantia emprestada.

Com relação à arquivologia e aos aspectos legais relativos à gestão documental na esfera pública federal, julgue os seguintes itens.

- 111** A preservação e a organização de documentos de arquivo são garantidas por lei porque tais documentos podem servir de apoio às atividades administrativas, ser elementos de informação e prova, além de contribuir para o desenvolvimento cultural e científico do país.
- 112** Arquivo é definido como o local onde são armazenadas coleções de livros e documentos textuais, produzidos, comprados ou recebidos em doação, reunidos devido à semelhança de tema e de suporte e organizados para apoio administrativo e estudo.
- 113** Os documentos públicos são identificados como ativos, reservados e permanentes. Os ativos são aqueles que estão em tramitação. Os reservados são aqueles documentos que, tendo seu trâmite encerrado, são guardados indefinidamente devido a seu valor como prova jurídica. Os permanentes são os documentos que nascem sem valor administrativo, mas têm grande valor informativo e histórico, sendo guardados para fins de consulta pública e pesquisa.
- 114** Todos os órgãos públicos têm a obrigação de garantir o acesso de qualquer cidadão brasileiro a informações que sejam de seu interesse particular, ou de interesse coletivo ou geral, com exceção das informações cujo sigilo seja necessário à segurança da sociedade e do Estado, além daquelas que violam a privacidade, a honra e a imagem de outros cidadãos.
- 115** A fim de garantir o acesso à informação e aos documentos, mas pensando também na melhoria da eficiência na organização documental, bem como na racionalização de custos, espaço físico e mão-de-obra, a legislação determina que os documentos permanentes devem ser guardados por um período mínimo de 30 anos, podendo ser eliminados após esse prazo.
- 116** O órgão responsável pela definição da política nacional de arquivos é o Conselho Nacional de Arquivos (CONARQ), que é vinculado ao Arquivo Nacional. O CONARQ é presidido pelo diretor-geral do Arquivo Nacional e integrado por representantes de instituições arquivísticas e acadêmicas, públicas e privadas.

Julgue os itens a seguir, que abordam a classificação e a avaliação de documentos arquivísticos.

- 117** A tabela básica de temporalidade e destinação de documentos de arquivo relativos às atividades-meio da administração pública e o Código de Classificação de Documentos de Arquivo para a Administração Pública: atividades-meio são instrumentos essenciais à organização dos arquivos, aumentando a eficácia dos serviços arquivísticos da administração pública porque possibilitam o controle e a rápida recuperação de informações, influenciam a racionalização da produção e do fluxo dos documentos e orientam as atividades de avaliação dos documentos produzidos e recebidos.
- 118** A avaliação é uma atividade realizada exclusivamente pelo arquivista, responsável por definir quais os documentos que têm valor para fins administrativos e probatórios, quais os documentos que têm valor para a pesquisa e quais os documentos que podem ser eliminados.
- 119** O código de classificação de documentos de arquivo é um instrumento de trabalho utilizado nos órgãos federais para classificar os documentos segundo as funções e atividades desempenhadas pelo órgão; reflete a hierarquia funcional, definida por meio de classes, subclasses, grupos e subgrupos; identifica espécies e tipos documentais, que são denominados genericamente assuntos, recebendo códigos numéricos que se relacionam à citada hierarquia funcional.
- 120** Em um órgão público federal, quando há, na tabela de temporalidade, a indicação para eliminação de documentos, os funcionários elaboram a lista dos documentos a serem destruídos, encaminham-na para análise no Congresso Nacional e, uma vez aprovada a eliminação naquela instância, deverá, ainda, ser sancionada pelo presidente da República, para que possa ser executada.

