

- De acordo com o comando a que cada um dos itens de 1 a 120 se refira, marque, na **folha de respostas**, para cada item: o campo designado com o código C, caso julgue o item **CERTO**; ou o campo designado com o código E, caso julgue o item **ERRADO**. A ausência de marcação ou a marcação de ambos os campos não serão apenadas, ou seja, não receberão pontuação negativa. Para as devidas marcações, use a **folha de respostas**, único documento válido para a correção das suas provas.
- Nos itens que avaliam **Noções de Informática**, a menos que seja explicitamente informado o contrário, considere que todos os programas mencionados estão em configuração-padrão, em português, que o *mouse* está configurado para pessoas destras e que expressões como clicar, clique simples e clique duplo referem-se a cliques com o botão esquerdo do *mouse*. Considere também que não há restrições de proteção, de funcionamento e de uso em relação aos programas, arquivos, diretórios e equipamentos mencionados.

CONHECIMENTOS BÁSICOS

1 As capitais brasileiras perdem quase metade (45%)
da água retirada dos mananciais em vazamentos de redes de
abastecimento, fraudes e falhas de medição. Os 6,14 milhões
4 de litros desperdiçados diariamente nas grandes cidades do
país seriam suficientes para atender a 38 milhões de
consumidores.

7 Os dados sobre as coberturas e desperdícios nas
redes públicas de abastecimento de água e de saneamento
estão reunidos em um estudo elaborado pelo Instituto
10 Socioambiental (ISA). O estudo, inédito pela abrangência,
ressalta a necessidade urgente de adoção de medidas para
expandir as regiões de preservação ambiental e as redes de
13 saneamento básico, assim como para conter a invasão de
áreas de mananciais e recuperar aquelas que já foram
degradadas em função da falta de planejamento urbano
16 eficaz — o que acontece na maior parte das grandes cidades.
O estudo recomenda, ainda, a intensificação dos esforços de
educação ambiental, para que a população compreenda que
19 também é responsável pela conservação da água.

O Estado de S. Paulo, 23/11/2007 (com adaptações).

Em relação às idéias e às estruturas lingüísticas do texto acima,
julgue os itens a seguir.

- 1 A vírgula logo após “abastecimento” (ℓ.3) é empregada para isolar expressão apositiva.
- 2 A expressão “seriam suficientes” (ℓ.5) está no plural para concordar com “Os 6,14 milhões de litros” (ℓ.3-4).
- 3 Subentende-se, logo após “como” (ℓ.13), o segmento “a necessidade urgente de adoção de medidas”.
- 4 Depreende-se das informações do texto que a falta de planejamento urbano eficaz tem como consequência a degradação de áreas de mananciais.
- 5 O termo “para que” (ℓ.18) pode, sem prejuízo para a informação original do texto, ser substituído por qualquer um dos seguintes: afim de que, de modo que, de forma que, contanto que.

1 Um longo período de bonança econômica e de farta
liquidez internacional, melhoria nos indicadores de emprego,
perspectivas de crescimento menos medíocre do que
4 nos anos anteriores e uma redução consistente na
desigualdade social devido a uma política mais universalista
e sistemática de transferência de renda não devem obscurecer
7 um fato que é uma miséria em si: o país é tão desigual,
amargou tantos anos de estagnação econômica, concentrou
tanta renda que qualquer melhora, com essa base de
10 comparação, é relativa. Uma evolução consistente na
redução da desigualdade depende de uma visão mais global,
que contemple as chamadas “portas de saída” dos programas
13 sociais, o desenvolvimento inclusivo e uma visão igualitária
que também seja federativa.

Valor Econômico, 23/11/2007.

Julgue os itens que se seguem, relativos às idéias e às estruturas
lingüísticas do texto acima.

- 6 Na linha 3, a eliminação de “do” após a palavra “medíocre” prejudica a correção gramatical do período.
- 7 A forma verbal “devem” (ℓ.6) está no plural para concordar com o sujeito composto.
- 8 A expressão “amargou” (ℓ.8) está sendo empregada no mesmo sentido que tem na frase: O refresco depois de algum tempo amargou.
- 9 O emprego da vírgula logo após “global” (ℓ.11) justifica-se por isolar oração subordinada adjetiva explicativa.
- 10 A expressão “desenvolvimento inclusivo” (ℓ.13) equivale a desenvolvimento interno.

1 Há hoje poucas dúvidas de que, na ausência de
ações incisivas e permanentes, o planeta se tornará cada vez
mais hostil à vida humana. A Conferência do Clima, da
4 Organização das Nações Unidas (ONU), a ser realizada em
Bali, em dezembro, está cercada pela urgência e pela
necessidade e ameaçada pela politicagem e estreiteza de
7 interesses econômicos. Movem-se em direções opostas
os diagnósticos severos lançados pelo Painel
Intergovernamental sobre Mudanças Climáticas (IPCC), que
10 coloca as transformações ambientais no limiar da
irreversibilidade, e a conduta dos principais países
poluidores do mundo, na maior parte dos casos, negligente
13 e desinteressada.

Diante da gravidade das ameaças, as metas do
Protocolo de Kyoto se tornaram tímidas. O balanço feito
16 pelo secretário-executivo da Convenção do Clima, da ONU,
Yvo de Boer, indica que o objetivo de reduzir em 5,2% as
emissões de gases nocivos à atmosfera, com base em 1990,
19 será atingido em 2012.

Idem, ibidem.

Acerca das idéias e das estruturas lingüísticas do texto acima,
julgue os itens seguintes.

- 11 Na linha 3, o sinal indicativo de crase em “à vida humana”
justifica-se pela regência de “hostil”, que exige preposição,
e pela presença de artigo definido feminino.
- 12 Depreende-se das informações do texto que os principais
países poluidores do mundo são aqueles a que são atribuídas
as ameaças de politicagem e de estreiteza de interesses
econômicos para a Conferência do Clima, em Bali.
- 13 Os termos “cercada” (l.5) e “ameaçada” (l.6) estão no
feminino singular porque concordam com “Conferência”
(l.3).
- 14 O segundo período do texto — “A Conferência (...)”
interesses econômicos” — está adequado para textos de
correspondência oficial.
- 15 Em “se tornaram” (l.15), o “se” indica sujeito
indeterminado.

1 Obter sucesso no tratamento de doenças
consideradas incuráveis parecia sonho sem possibilidade de
realização. Distrofia muscular, Alzheimer ou Parkinson são
4 doenças que condenam as pessoas a carregá-las vida afora.
Há cerca de 10 anos, acendeu-se uma luz no horizonte.
Depois de décadas de pesquisa, cientistas anunciaram a
7 descoberta da célula-tronco embrionária humana — capaz de
se transformar em qualquer tipo de tecido. A novidade
provocou reações. De um lado, juntaram-se fervorosos
10 entusiastas. Eles viram na conquista arma capaz de vencer
males sem esperança de recuperação. De outro, apaixonados
opositores, que ergueram barreiras morais. Para eles, a vida
13 humana começa na fecundação. Não se pode, pois, destruir
os embriões em favor da pesquisa. Mais: o avanço dos
estudos poderia levar à clonagem humana e à
16 comercialização de órgãos.

A descoberta de método de produzir célula-tronco
sem embrião reacende a esperança de se chegar com mais
19 rapidez à cura de enfermidades e à criação de órgãos
sobressalentes. Duas equipes independentes de cientistas
(uma japonesa e outra norte-americana) conseguiram obter
22 células-tronco a partir de tecido comum. A regressão celular,
que dispensa clonagem, deve superar resistências éticas e
religiosas.



Correio Braziliense, 22/11/2007.

Julgue os próximos itens, referentes às idéias e a aspectos
gramaticais do texto acima.

- 16 O sujeito de “parecia” (l.2) é “tratamento” (l.1).
- 17 Na linha 4, o termo “-las”, em “carregá-las”, retoma o
antecedente “doenças”.
- 18 Subentende-se, imediatamente antes da expressão
“apaixonados opositores” (l.11-12), a forma verbal
“juntaram-se”.
- 19 As ocorrências de “Eles” (l.10) e “eles” (l.12) têm o mesmo
referente.
- 20 Subentende-se das informações do texto que a regressão
celular, que parte de tecido comum para obter células-tronco,
vai enfrentar argumentos contrários de fundo ético e
religioso.






Considerando a figura acima, que mostra a janela do Word 2003, com parte de um texto extraído do sítio www.vitoria.es.gov.br, julgue os seguintes itens.

- 21 Para se obter o sublinhado do título, utiliza-se a ferramenta .
- 22 O botão , na barra inferior da janela, permite iniciar a correção ortográfica do texto.
- 23 O texto pode ser copiado, sem prejuízo de formatação, para a célula A1 de uma planilha do Excel.





Com relação à segurança da informação e à figura acima, que mostra uma janela do Windows Explorer, executado em um computador cujo sistema operacional é o Windows XP, julgue os itens a seguir.

- 24 A pasta  Prefeitura possui 3 subpastas.
- 25 O arquivo contido na pasta  Orçamentos é um arquivo do Excel.
- 26 Para se fazer a *backup* da pasta  Prefeitura e de todo o seu conteúdo, é suficiente clicar com o botão direito do *mouse* sobre essa pasta e executar o programa WinZIP.
- 27 *Hijackers* são programas ou *scripts* que *seqüestram* navegadores de Internet, principalmente o Internet Explorer.






Considerando os conceitos de Internet e a figura acima, que mostra uma janela do Outlook Express com uma página do Internet Explorer 6, julgue os próximos itens.

- 28 Ao se acessar a página no Internet Explorer 6.0, é possível encaminhá-la usando-se o botão , conforme o exemplo da figura.
- 29 O campo  Coc deve ser utilizado para encaminhar *e-mail* com anexo em segurança.
- 30 Para se enviar o *e-mail* da figura, é necessário estar conectado à Internet, usando-se Plug and play.
- 31 No Internet Explorer 6, é possível configurar recursos de segurança, como, por exemplo, sítios confiáveis.



Considerando a figura acima, julgue os itens subseqüentes, acerca do Excel 2003.

- 32 Considerando-se que o valor do IPVA é 10% do valor do ICMS, a fórmula para a execução desse cálculo é =10%*B10.
- 33 O valor disponível pode ser calculado usando-se a ferramenta .
- 34 Para se formatar com estilo moeda a célula B10, é suficiente selecionar essa célula e clicar a ferramenta .
- 35 Pode-se alterar a cor da fonte das células mediante a utilização da ferramenta .

Texto para os itens de 36 a 45

Com um deságio de 35% sobre o preço-teto de R\$ 122,00 por megawatt/hora, o governo federal licitou a usina hidrelétrica Santo Antonio, a primeira das duas usinas que compõem o complexo hidrelétrico do rio Madeira, em Rondônia. Santo Antonio é a terceira maior hidrelétrica prevista no Programa de Aceleração do Crescimento (PAC), atrás de Jirau e Belo Monte. “Esse leilão marca a retomada da participação de grandes projetos hidrelétricos na expansão do setor elétrico, o que reforça a vocação brasileira para a geração de energia limpa, renovável e de menor custo para o consumidor brasileiro”, avalia o ministro interino de Minas e Energia, Nelson Hubner.

Leilão do Madeira garante energia para o crescimento. Em questão, Secretaria de Comunicação Social da Presidência da República, n.º 579, 10/12/2007 (com adaptações).

Tomando o texto acima como referência inicial, julgue os itens que se seguem, relativos ao tema da energia no Brasil e no mundo.

- 36** Energia é um tema de interesse relativo dos Estados nacionais ante a crescente diversificação de oferta no mercado internacional.
- 37** A vulnerabilidade energética na parte meridional da América do Sul vem se apresentando como elemento limitante do crescimento econômico de países como a Argentina.
- 38** Empresas internacionais como a Gasprom, da Rússia, têm apresentado gerenciamento aberto, mas pouco estratégico, das grandes reservas de gás daquele país.
- 39** A água em movimento nos rios ou barrada por represas, fonte de energia renovável em hidrelétricas, é cada vez mais valorizada no mercado global.
- 40** A base nuclear da energia produzida no mundo amplia-se cada vez mais ante o esgotamento iminente do petróleo.

Julgue os seguintes itens, relativos à relação entre energia, preço e crescimento econômico no Brasil.

- 41** O deságio de 35% obtido pelo governo brasileiro no leilão da hidrelétrica de Santo Antonio tende a ser benéfico ao preço final da produção e distribuição da energia ao consumidor.
- 42** A imagem de um país que trabalha com energia limpa e renovável é um ganho político no mundo, reafirmada no primeiro leilão realizado para aproveitamento hidroelétrico do rio Madeira.
- 43** Na área de geração de energia elétrica, o Brasil ainda subestima as fontes não-fósseis como a hídrica, a eólica e a biomassa.
- 44** A descoberta de novas fontes de gás no Brasil na plataforma marítima brasileira causou regozijo à sociedade e ao governo.
- 45** A manutenção do crescimento econômico brasileiro na proporção dos países emergentes exige oferta segura e proporcional de energia nos próximos anos.

A América do Sul, região na qual o Brasil se vincula ao meio internacional por sua geografia e história, é objeto de grande debate no país. A respeito desse tema, julgue os itens que se seguem.

- 46** Dotada de países com baixa capacidade de interferir na construção de normas internacionais, uma saída plausível para a América do Sul participar das coisas do mundo é o programa de integração regional.
- 47** O Brasil, país que possui fronteira com todos os países da América do Sul, tem levado adiante, sem ressalvas internas, o programa de integração.
- 48** A Venezuela, já parte integrante do MERCOSUL, teve sua adesão plenamente ratificada pelo Congresso Nacional do Brasil.
- 49** A Argentina, com nova presidente, a única mulher com tal responsabilidade na América do Sul, já iniciou agenda de cooperação importante com o Brasil.
- 50** A Venezuela, na qual proposta de reforma constitucional foi rejeitada em referendo pela população, é país estratégico para a integração energética na América do Sul.

CONHECIMENTOS ESPECÍFICOS

A teoria microeconômica estuda o processo de decisão dos agentes econômicos, incluindo-se aí, consumidores e produtores. A esse respeito, julgue os itens a seguir.

- 51 A curva de demanda individual, para um determinado bem, é construída pressupondo-se que reduções no preço desse produto levam a aumentos de utilidade para o consumidor, já que ele faz sua escolha ótima em uma curva de indiferença mais distanciada em relação à origem.
- 52 O fato de a queda no preço das chamadas de telefones celulares recentemente observada ter sido concomitante com a redução das chamadas originadas de telefones fixos é consistente com a idéia de que telefones fixos e celulares são bens substitutos.
- 53 Para os bens inferiores, como, por exemplo, transporte público no Brasil, tanto o efeito renda como o efeito substituição são negativos, reforçando-se mutuamente.
- 54 A alta do preço do gás veicular, decorrente do fim de incentivos para o uso desse produto, anunciado recentemente pelo governo para evitar o desabastecimento, se consumada, deslocará a curva de demanda de mercado desse tipo de gás, para cima e para a direita.
- 55 A redução dos estoques mundiais de petróleo, que contribuiu para a alta recente do preço desse produto, desloca a curva de oferta de gasolina, para cima e para a esquerda.
- 56 Se, para determinado bem, a curva de demanda de mercado é linear, então, a elasticidade preço da demanda ao longo dessa curva é constante e, portanto, independe do preço.
- 57 Supondo-se que, para a população de baixa renda, a demanda de transporte coletivo é relativamente inelástica em relação à tarifa cobrada, então, é possível afirmar que um aumento dessa tarifa elevará a receita das empresas que atuam nesse setor.
- 58 De acordo com a lei dos retornos marginais decrescentes, em uma determinada empresa, o aumento do emprego, para um dado estoque de capital e dos demais fatores de produção, conduzirá à redução da produtividade marginal do trabalho.
- 59 O fato de que, no hemisfério norte, um inverno excessivamente rigoroso aumenta a demanda de petróleo acima do patamar considerado normal é compatível, no curto prazo, com o deslocamento, para cima, das curvas de custos médio total das empresas aéreas, que utilizam derivados desse produto como combustível.
- 60 A escala eficiente de produção corresponde àquela que minimiza o custo marginal, igualando-o ao custo médio.
- 61 O aumento da capacidade de endividamento e do potencial para levantar capital nas empresas de maior porte reduz os custos de produção dessas empresas, constituindo, assim, uma das razões para a obtenção de economias de escala, no âmbito das firmas.
- 62 A existência de economias externas de escala que contribuem para reduzir os custos das firmas é incompatível, no longo prazo, com a existência de concorrência perfeita.

- 63 A existência, na indústria farmacêutica, de patentes para novos medicamentos confere poder de monopólio aos fabricantes desses remédios, que trabalham na parte inelástica da curva de demanda desses produtos, garantindo-lhes, assim, a obtenção de lucros máximos.
- 64 A empresa americana Procter & Gamble, que comercializa, no Brasil, produtos como pastilhas Vick, sabão em pó Ariel e os aperitivos Pringles, constitui um exemplo bem-sucedido de firma dominante de um oligopólio baseado na liderança de preço e que utiliza, para reduzir o crescimento de suas rivais e preservar a sua posição de dominância, a diversificação de marcas similares, as quais, inclusive, competem entre si.
- 65 Empresas que atuam em mercados organizados sob a forma de concorrência monopolística, protegidas por barreiras à entrada que lhes garantem auferir, no longo prazo, lucros econômicos puros, transacionam produtos diferenciados.
- 66 No mercado de refrigerantes, a rivalidade entre a Coca-Cola e a Pepsi-Cola constitui um exemplo típico de força competitiva, que se origina na disputa entre formas concorrentes para a obtenção de uma vantagem competitiva que lhes permita melhorar a posição no mercado.
- 67 Para uma determinada empresa, a redução de custo obtida por meio do redesenho da cadeia de custo-produção no sentido de se obter uma forma mais eficiente de integração vertical, tanto para frente como para trás, da cadeia produtiva em relação aos demais competidores ilustra bem o uso de estratégias de diferenciação por firmas, para ampliarem sua participação no mercado.
- 68 As alianças estratégicas correspondem a acordos de cooperação entre firmas para a obtenção de economias de escala na produção/promoção de vendas, de forma a facilitar o acesso aos mercados e a compartilharem a tecnologia.

A teoria macroeconômica estuda a mensuração e o comportamento dos grandes agregados econômicos. Utilizando os conceitos básicos dessa teoria, julgue os itens subseqüentes.

- 69 O produto interno bruto (PIB) constitui uma forma plausível de se mensurar o desempenho econômico do país porque, além de mensurar o valor de mercado dos bens e serviços finais, leva em conta a composição do produto e a distribuição de renda entre os diferentes indivíduos de determinada economia.
- 70 No Brasil, nos últimos anos, a poupança interna bruta corresponde a menos de 40% da renda nacional bruta.
- 71 No Brasil, tradicionalmente, a conta financeira do balanço de pagamentos é deficitária, o que indica que o país é importador líquido de capital.
- 72 Em 2006, a redução do imposto sobre produtos industrializados (IPI) aplicada a determinados itens de materiais de construção, por ter aumentado a renda disponível da economia brasileira, provocou um deslocamento ao longo da curva IS da economia brasileira.
- 73 O uso extensivo de caixas eletrônicos desloca a curva LM para baixo e para a direita.
- 74 Políticas monetárias expansionistas elevam a oferta monetária, reduzem as taxas de juros e, no curto prazo, deslocam a curva de demanda agregada para cima e para a direita.

- 75** No Brasil, o aumento expressivo da carga tributária provoca um deslocamento ao longo da curva de oferta agregada da economia brasileira, o que contribui para elevar o nível de preços.
- 76** Se a expansão dos gastos públicos, por reduzir a poupança doméstica, eleva as taxas de juros e reduz o impacto do multiplicador keynesiano, então, ocorre efeito deslocamento (*crowding out*).
- 77** De acordo com a visão keynesiana, a política fiscal afeta a economia mediante variações na demanda agregada e no PIB, obtidas por meio do multiplicador keynesiano.
- 78** O fato de, atualmente, no Brasil, os depósitos nas cadernetas de poupança superarem as retiradas é consistente com o aumento dos agregados monetários M1 e M2.
- 79** A venda de títulos públicos por meio das operações de mercado aberto constitui um exemplo de política monetária restritiva, utilizada para combater processos inflacionários.
- 80** A assimetria cíclica da política monetária faz que esse tipo de política seja menos eficaz para restaurar o pleno emprego durante os períodos caracterizados por fortes recessões.
- 81** A idéia de que políticas fiscais e monetárias expansionistas reduzem as taxas de desemprego às expensas do aumento das taxas de inflação é consistente com a existência de uma curva de Phillips de curto prazo positivamente inclinada.
- 82** Para se atingirem o pleno emprego, a estabilidade dos preços e o crescimento econômico, os adeptos do monetarismo se opõem à regra do orçamento equilibrado e preconizam o uso de políticas fiscais e monetárias discricionárias.

A globalização do espaço econômico e o surgimento de blocos econômicos tornam importante o estudo da economia internacional e das instituições que regem as relações econômicas entre países. Com relação a esse assunto, julgue os itens seguintes.

- 83** A utilização extensiva de tarifas elevadas, destinadas a proteger a produção doméstica da concorrência mundial, impede que o mercado internacional promova uma alocação eficiente dos recursos.
- 84** A imposição de quotas à importação, em vez de tarifas, não eleva o preço do produto submetido à quota no mercado doméstico e, portanto, não gera perdas de bem-estar para os consumidores.
- 85** Contrariamente às quotas e tarifas, os subsídios à exportação não alteram os preços relativos e, portanto, não geram perdas de bem-estar.
- 86** A progressividade das tarifas e das quotas, que atuam como impostos sobre o consumo, favorecem os consumidores de baixa renda e, portanto, conduzem a melhorias na distribuição de renda.
- 87** O Tratado Norte-Americano de Livre Comércio (NAFTA) estabeleceu uma zona de livre comércio que contribuiu não só para a diminuição substancial das tarifas entre Estados Unidos, México e Canadá, mas também para a redução de outras barreiras comerciais entre esse países.
- 88** O MERCOSUL, cujos membros são Argentina, Brasil, Paraguai e Uruguai, constitui um exemplo de mercado comum porque esse bloco econômico, além de eliminar as barreiras alfandegárias e estabelecer uma tarifa externa comum, permitiu a livre circulação dos fatores produtivos entre países-membros.
- 89** O Banco Interamericano de Desenvolvimento (BID), além de financiar o crescimento econômico sustentável, nos países da América Latina e do Caribe, apóia políticas destinadas a elevar a competitividade e promover o livre comércio.

As análises da economia do setor público, incluindo-se aí as tópicos associados às finanças públicas no Brasil, são importantes para se entender o papel desempenhado pelo governo nas economias de mercado. A respeito desse assunto, julgue os itens a seguir.

- 90** A provisão de serviços de utilidade pública, tais como saneamento e serviços de segurança pública, que não são ofertados adequadamente pelos mercados privados, exemplifica a função alocativa do governo.
- 91** A adoção dos sistemas de imposto de renda progressivo, além de refletir a função distributiva do governo, contribui para estabilizar a economia.
- 92** Em muitos países, os serviços de saúde são ofertados pelo Estado, muitas vezes a custo zero, o que decorre do fato de que esses serviços são bens públicos puros, cujos custos marginais de produção são nulos.
- 93** No Brasil, o imposto sobre circulação de bens e serviços (ICMS), que constitui um imposto sobre o valor agregado, é implementado pelo método da nota-crédito, o que lhe garante um caráter autofiscalizador.
- 94** A contribuição provisória sobre a movimentação ou transmissão de valores e de créditos e direitos de natureza financeira (CPMF), de natureza cumulativa, não é um imposto neutro no que concerne à eficiência econômica.
- 95** Subtraindo-se do resultado operacional do setor público a atualização monetária da dívida, obtém-se o resultado nominal, que não leva em conta a desvalorização monetária decorrente da inflação.
- 96** A relação dívida pública/PIB é tanto maior quanto mais elevado for o *superavit* primário e quanto menor for a razão entre a senhoriagem e o PIB.
- 97** No Brasil, as elevadas taxas de inflação explicam, em parte, a queda da importância relativa da dívida pública, nos primeiros anos da década de 90 do século passado.
- 98** No período 1994-1998, com o advento da estabilização econômica, observou-se um aumento expressivo do resultado primário do setor público no Brasil.
- 99** No período 1985-1995, a senhoriagem foi uma importante fonte de financiamento do setor público no Brasil.

O estudo da economia brasileira, incluindo-se aí o fenômeno inflacionário que a caracterizou durante um longo período, é importante para a compreensão da situação econômica atual. No que concerne a esse assunto, julgue os itens subseqüentes.

- 100** O financiamento do Plano de Metas se realizou, principalmente, por meio da inflação, decorrente da expansão monetária, que financiava o gasto público, e do aumento do crédito, que viabilizava os investimentos privados.
- 101** A expansão da indústria de bens de consumo e o desempenho marcante do setor agrícola constituíram as principais fontes de crescimento da economia brasileira durante o período do denominado *milagre econômico*.
- 102** O foco do II PND (Plano Nacional de Desenvolvimento) foi eliminar as restrições, tanto estruturais como externas, ao crescimento da economia brasileira, mediante investimentos nos setores de infra-estrutura, bens de produção, energia e exportações.

103 Em face dos choques externos — incluindo-se aí o aumento do preço do petróleo e a alta das taxas de juros no mercado internacional —, o ajuste estrutural do governo Geisel, embora bem-sucedido, aumentou a vulnerabilidade externa da economia e o estoque da dívida pública.

104 Na economia brasileira, as elevadas taxas de crescimento observadas durante o chamado *milagre econômico* coexistiram com uma redução significativa da participação e da intervenção do setor público.

105 O crescimento substancial das exportações brasileiras no período 1968–1973 deveu-se, em parte, ao crescimento da economia mundial e aos incentivos fiscais, acordados no âmbito da política comercial vigente no período.

106 Durante a vigência do Plano Cruzado, o aumento da demanda, pressionado pela expansão fiscal, mas atenuado pela adoção de uma política monetária restritiva, não se traduziu em pressão substancial sobre os preços, o que viabilizou os baixos níveis de inflação.

107 A forte apreciação do real, no âmbito da chamada âncora cambial — um dos pilares do Plano Real para controlar a inflação —, resultou no aumento do desequilíbrio externo.

108 Entre as reformas implementadas nos governos de Fernando Henrique Cardoso, a reforma do setor financeiro incluiu a privatização da maioria dos bancos estaduais, melhorou o monitoramento do nível de risco do sistema por parte do Banco Central e reduziu, fortemente, o grau de concentração do setor bancário, mediante o aumento do número de bancos que atuam no Brasil.

109 A desvalorização cambial realizada no ajuste de 1999 não teve os efeitos inflacionários previstos, devido, em parte, à adoção de uma política monetária rígida, que conteve as remarcações e a apreciação do real.

110 Em meados de 1980, a subindexação da dívida pública, decorrente da aceleração inflacionária, aliada à expressiva redução do *deficit* fiscal, concorreu para reduzir a dívida pública.

111 Os acordos de parcerias público-privadas (PPP) estabelecem complementaridades entre os setores público e privado na repartição de investimentos, risco e lucro, o que permite a viabilização de projetos de infra-estrutura e de prestação de serviços de interesse público.

As questões de desenvolvimento econômico e social assumem papel relevante no debate econômico no Brasil. A esse respeito, julgue os próximos itens.

112 A privatização dos serviços públicos, que vem ocorrendo no Brasil e no resto do mundo, não elimina a intervenção do Estado nesses mercados, apenas redefine suas funções: de provedor, o Estado passa a agente regulador desses serviços.

113 No Brasil, a taxa de crescimento da renda média dos 10% mais pobres, no período 1960-1980, foi substancialmente inferior às taxas dos demais estratos de renda, o que contribuiu para elevar as disparidades de renda entre os brasileiros.

114 A redução da pobreza no período entre 1995 e 2002, no Brasil, é consistente com o fato de o crescimento econômico ser um instrumento mais efetivo para diminuir a pobreza, quando ele ocorre em um ambiente de estabilidade macroeconômica.

115 Nos anos 70 do século XX, no debate envolvendo a questão distributiva, os economistas que defendiam uma conexão direta entre as políticas econômicas vigentes e o aumento observado da desigualdade afirmavam que a educação era o principal fator responsável por essas desigualdades.

116 Na região Nordeste, a emigração, em resposta às precárias condições de vida, contribuiu para atenuar, ainda que parcialmente, os níveis de pobreza na região.

117 Embora ainda ocupem as mais baixas colocações, relativamente ao Índice de Desenvolvimento Humano Municipal (IDH-M), os estados da região Nordeste, ao longo da década de 90 do século passado, em virtude da rápida evolução dos índices educacionais, conseguiram os maiores avanços relativos desse indicador, se comparados aos das demais unidades da Federação.

118 O Banco Nacional de Desenvolvimento Econômico e Social (BNDES), além de financiar grandes empreendimentos industriais e de infra-estrutura, apóia investimentos nas micro, pequenas e médias empresas e os investimentos sociais, direcionados para educação e saúde, agricultura familiar, saneamento básico e ambiental e transporte coletivo de massa.

No que se refere à Lei de Responsabilidade na Gestão Fiscal (LRF) e à Lei Federal n.º 4.320/1964 e suas alterações, que estabelece normas gerais de Direito Financeiro para elaboração e controle dos orçamentos e balanço da União, dos estados, dos municípios e do Distrito Federal, julgue os itens subseqüentes.

119 No âmbito da LRF, a concessão de incentivos fiscais que implique renúncia de receita, inclusive no que concerne a alterações das alíquotas dos impostos de importação e do IPI, deverá ser acompanhada de estimativa do impacto orçamentário-financeiro no exercício em que deva iniciar sua vigência.

120 Apesar da distinção entre os objetivos da LRF e da Lei n.º 4320/1964, referindo-se esta a normas gerais para elaboração e controle dos orçamentos e balanços, elas estão intrinsecamente ligadas e, se existir algum dispositivo conflitante, deve prevalecer o contido na LRF, visto que esta, além de ser lei complementar, é mais recente que aquela.