

CARGO: PEDREIRO

TEXTO:

Cadela salva criança

Uma cadela vira-lata, Catita, salvou a vida de duas crianças atacadas pelo cão Holls, da raça pit bull, em Campos, no estado do Rio. Os irmãos Lucas Martins, de 4 anos, e Leandro, de 10, brincavam na rua, quando o cachorro surgiu e passou a mordê-los. A cadela, atraída pelo choro dos meninos, avançou contra Holls. Após muita briga o cão fugiu. Os garotos foram hospitalizados, mas já receberam alta.

(O Estado de S. Paulo)

01) Assinale a alternativa que, de acordo com o texto, apresenta a raça da cadela Catita:

- A) Labrador. B) Pit bull. C) Vira-lata. D) Bassêt. E) Pastor alemão.

02) O texto apresentado é um(uma):

- A) Poesia. B) Notícia. C) Receita. D) Bula de remédio. E) Manual de instrução.

03) O assunto do texto é:

- A) Cachorro ataca crianças em São Paulo. B) Brincadeiras de criança. C) Os irmãos são atacados pelo cão Holls. D) A fuga do cão. E) Duas crianças são salvas por uma cadela vira-lata.

04) Onde aconteceu o fato relacionado no texto?

- A) Na cidade de Campos. B) Na cidade do Rio de Janeiro. C) Na cidade de São Paulo. D) Na cidade de Belo Horizonte. E) Na cidade de Montes Claros.

05) Assinale a alternativa que está de acordo com o momento em que aconteceu o fato:

- A) As crianças chegavam da escola. B) As crianças brincavam na rua. C) As crianças brigavam na rua. D) As crianças estavam no hospital. E) As crianças estavam dormindo.

06) Assinale a alternativa em que a qualidade atribuída à Catita está INCORRETA:

- A) Bondosa. B) Corajosa. C) Inteligente. D) Carinhosa. E) Covarde.

07) Assinale a alternativa em que a palavra se apresenta no plural:

- A) País. B) Raiz. C) Lápis. D) Pais. E) Giz.

08) “Após muita briga o cão fugiu”. O sinônimo da palavra grifada é:

- A) Afastou. B) Ficou. C) Atendeu. D) Atraíu. E) Salvou.

09) Em “Após muita briga o cão fugiu”, as palavras grifadas estão acentuadas corretamente. Assinale a alternativa em que isso NÃO acontece:

- A) Fubá. B) Experiência. C) Arvóres. D) Enxágüe. E) Pé.

10) Assinale a alternativa em que as palavras NÃO estão escritas corretamente:

- A) Dirigir – canjica. B) Vagem – jeito. C) Hoje – fugiu. D) Beringela – trage. E) Gilete – jibóia.

MATEMÁTICA

11) Ana, professora de matemática, perguntou aos seus alunos: “– Quantos ossos há ao todo nas mãos e nos pés humanos, sabendo-se que em cada mão há 27 ossos e em cada pé, 26 ossos?”

A resposta correta dos alunos será:

- A) 50 ossos. B) 53 ossos. C) 80 ossos. D) 106 ossos. E) 212 ossos.

12) Dona Estela é costureira e comprou um carretel de linha com 80 metros. Quantos centímetros de linha há nesse carretel?

- A) 800cm B) 8.000cm C) 80.000cm D) 0,8cm E) 0,08cm

13) Faltam 240 horas para o aniversário da professora Ana e os alunos estão preparando uma festa surpresa. Quantos dias faltam para o aniversário da professora Ana?

- A) 4 dias. B) 10 dias. C) 20 dias. D) 15 dias. E) 24 dias.

14) Quais destes pares de números NÃO são consecutivos?

- A) 15 e 16 B) 32 e 33 C) 29 e 30 D) 66 e 68 E) 91 e 92



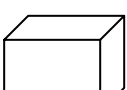
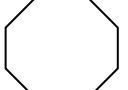

15) O Estádio do Maracanã, um dos símbolos da cidade do Rio de Janeiro, foi inaugurado no ano de 1950. Quantos anos tem o Maracanã, desde a sua inauguração?

- A) 52 anos. B) 58 anos. C) 62 anos. D) 158 anos. E) 220 anos.

16) Para a festa do aniversário de Paulo, os seus filhos compraram 312 garrafas de refrigerantes. Se em cada engradado cabem 12 garrafas, quantos engradados eles compraram?

- A) 31 B) 120 C) 46 D) 374 E) 26

17) Na tarefa de geometria de Eduarda foi pedido para desenhar figuras planas. Qual das figuras abaixo Eduarda NÃO poderia desenhar?

- A)  B)  C)  D)  E) 



CONCURSO PÚBLICO – PREFEITURA MUNICIPAL DE SÃO FIDÉLIS/RJ

- 18) Na classe de Eva há 36 alunos e $\frac{2}{3}$ são meninas. Quantas são as meninas?
A) 24 B) 12 C) 54 D) 30 E) 6
- 19) Para medir a temperatura corporal usa-se o instrumento chamado termômetro, cuja unidade de medida é o grau Celsius ($^{\circ}\text{C}$). Qual a alternativa que representa a medida de um termômetro cuja leitura é trinta e sete graus Celsius e cinco décimos?
A) 375°C B) $3,75^{\circ}\text{C}$ C) $0,375^{\circ}\text{C}$ D) $37,5^{\circ}\text{C}$ E) 3750°C
- 20) O governo organiza, periodicamente, campanhas de vacinações contra a paralisia infantil. Numa dessas campanhas em um determinado município, foram vacinadas 2.736 crianças da zona urbana e 1.539 crianças da zona rural. Quantas crianças foram vacinadas ao todo nesse município?
A) 4.275 B) 3.365 C) 4.365 D) 1.197 E) 3.275

CONHECIMENTOS ESPECÍFICOS

- 21) O reconhecimento de um solo próprio para uma determinada construção, deverá ser feito através de:
A) Consulta ao arquiteto. D) Terreno sem ondulações.
B) Sondagem. E) Nenhuma das respostas anteriores.
C) Limpeza do espaço.
- 22) Para constituir um concreto são necessários alguns materiais, como:
A) Pedra. D) Água.
B) Areia. E) Todas as alternativas anteriores estão corretas.
C) Cimento.
- 23) A máquina que é usada atualmente para misturar o concreto denomina-se:
A) Pá mecânica. D) Usinado.
B) Betoneira. E) Pega.
C) Cuba.
- 24) Depois de misturado, o concreto é colocado dentro de um carrinho transportador e neste caso, algumas recomendações são úteis. Nas alternativas abaixo, marque a que está INCORRETA em relação às recomendações de transporte:
A) Deve-se formular um concreto pobre em cimento.
B) Não colocar muita água, pois se transforma em sopa.
C) Fazer uma mistura compacta e bem rodeada de cimento.
D) Evitar uma mistura muito seca e quebradiça.
E) Os agregados graúdos devem ficar mergulhados na argamassa.
- 25) A prumada é uma operação que consiste em posicionar numa direção vertical, os elementos de uma construção. A ferramenta utilizada para obter a prumada denomina-se:
A) Prumo de face. D) Alinhamento.
B) Prumo de centro. E) As alternativas A e B estão corretas.
C) Triângulo retângulo.
- 26) Nas definições de ferramentas usadas pelo Pedreiro, marque abaixo a alternativa INCORRETA:
A) Colher de pedreiro – utilizada para colocar as argamassas de rejuntamento ou de revestimento.
B) Pá – utilizada para abertura de valas de fundação ou encher lata ou carro de mão.
C) Picareta – utilizada para acerto do terreno e abertura de valas.
D) Furador para brocas – utilizado para cortar tijolos ou blocos de alvenaria.
E) Betoneira – usada para misturar o concreto, pode ser manual ou elétrica.
- 27) Na interpretação de plantas e esboços do projeto de uma obra, pode-se verificar com clareza:
A) Espessura das paredes.
B) Número de cômodos (quartos, salas, etc.).
C) Altura e dimensão de portas, janelas, basculantes, etc.
D) Piso com localização de aparelhos sanitários, pias, lavanderias, etc.
E) Todas as alternativas anteriores estão corretas.
- 28) No reparo de uma parede externa, o revestimento deverá ser retirado e o local deverá:
A) Receber uma camada de chapisco sobre a alvenaria. D) Ser feito novamente com vergas.
B) Ser rejuntado na superfície. E) Nenhuma das respostas anteriores.
C) Receber amarrações de peso.
- 29) O disposto no artigo 100 da Lei Orgânica de São Fidélis, estabelece que é vedada a conversão de férias ou licenças em:
A) Tempo de serviço. D) Tempo para aposentadoria.
B) Dinheiro. E) Em contagem de tempo paralela.
C) Folgas.
- 30) Inciso XIV Art. 98 da Lei Orgânica de São Fidélis: “os vencimentos dos cargos do Poder Legislativo não poderão ser _____ aos pagos pelo Poder Executivo”. Marque abaixo, a alternativa que melhor completa o inciso anterior:
A) superiores B) inferiores C) relevantes D) publicados E) mantidos



CONHECIMENTOS GERAIS

- 31) **A maior floresta tropical do mundo fica no Brasil e recebe o nome de:**
A) Floresta Atlântica. D) Bio-Floresta.
B) Floresta Amazônica. E) Floresta Tropicana.
C) Floresta do Xingu.
- 32) **A floresta tropical citada na questão anterior está localizada no Brasil, na região:**
A) Sudoeste. B) Sudeste. C) Norte. D) Sul. E) Leste.
- 33) **No ano de 2008 acontecerão eleições diretas no Brasil, para que sejam ocupados os cargos de:**
A) Prefeito e Vereadores. D) Presidente da República.
B) Deputados Estaduais. E) Presidente e Governadores.
C) Governadores.
- 34) **O *Aedes aegypti* trouxe de volta uma doença, que se tornou uma epidemia no Rio de Janeiro, chamada:**
A) Malária. B) Doença de Chagas. C) Dengue. D) Pneumonia. E) Hanseníase.
- 35) **O atual Presidente do Brasil está no governo por que foi reeleito em que ano?**
A) 2004 B) 2005 C) 2006 D) 2007 E) 2008
- 36) **A atual Ministra da Casa Civil do Governo Federal e atual coordenadora do PAC (Programa de Aceleração do Crescimento) chama-se:**
A) Marta Suplicy. B) Dilma Rousseff. C) Mariza Letícia. D) Marina Silva. E) Rute Cardoso.
- 37) **As forças armadas no Brasil são constituídas por:**
A) Polícia Civil e Militar. D) Exército e Polícia Rodoviária.
B) Polícia Federal e Militar. E) Polícia Federal e Civil.
C) Marinha, Aeronáutica e Exército.
- 38) **No Rio de Janeiro encontra-se uma das maravilhas do mundo, com a denominação de:**
A) Pão de Açúcar. D) Cristo Redentor.
B) Floresta da Tijuca. E) Aterro do Flamengo.
C) Praia de Copacabana.
- 39) **As cidades de Macaé e Campos têm seu crescimento econômico baseado na:**
A) Extração de ouro. D) Exploração de areia.
B) Extração de petróleo. E) Exposição agropecuária.
C) Praia de águas claras.
- 40) **Na região serrana de Teresópolis existe uma montanha que tem um pico chamado:**
A) Dedo de Deus. D) Pico do Caparaó.
B) Agulhas Fortes. E) Pico da Neblina.
C) Pico da Bandeira.

