

- De acordo com o comando a que cada um dos itens de **1 a 120** se refira, marque, na **folha de respostas**, para cada item: o campo designado com o código **C**, caso julgue o item **CERTO**; ou o campo designado com o código **E**, caso julgue o item **ERRADO**. A ausência de marcação ou a marcação de ambos os campos não serão apenadas, ou seja, não receberão pontuação negativa. Para as devidas marcações, use a **folha de respostas**, único documento válido para a correção das suas provas.
- Nos itens que avaliam **Noções de Informática**, a menos que seja explicitamente informado o contrário, considere que todos os programas mencionados estão em configuração-padrão, em português, que o *mouse* está configurado para pessoas destros e que expressões como clicar, clique simples e clique duplo referem-se a cliques com o botão esquerdo do *mouse*. Considere também que não há restrições de proteção, de funcionamento e de uso em relação aos programas, arquivos, diretórios, recursos e equipamentos mencionados.

CONHECIMENTOS BÁSICOS

Texto para os itens de 1 a 13

1 Uma decisão singular de um juiz da Vara de Execução Criminal de Tupã, pequena cidade a 534 km da cidade de São Paulo, impondo critérios bastante rígidos para que os estabelecimentos penais da região possam receber novos presos, confirma a dramática dimensão da crise do sistema prisional. A sentença determina, entre outras medidas, que as penitenciárias somente acolham presos que residam em um raio de 200 km.

2 Segundo o juiz, as medidas que tomou são previstas pela Lei de Execução Penal e objetivam acabar com a violação dos direitos humanos da população carcerária e “abrir o debate a respeito da regionalização dos presídios”. Ele alega que muitos presos das penitenciárias da região são de famílias pobres da Grande São Paulo, que não dispõem de condições financeiras para visitá-los semanalmente, o que prejudica o trabalho de reeducação e de ressocialização.

3 Sua sentença foi muito elogiada. Contudo, o governo estadual anunciou que irá recorrer ao Tribunal de Justiça, sob a alegação de que, se os estabelecimentos penais não puderem receber mais presos, os juízes das varas de execuções não poderão julgar réus acusados de crimes violentos, como homicídio, latrocínio, seqüestro ou estupro. Além disso, as autoridades carcerárias alegam que a decisão impede a distribuição de integrantes de uma quadrilha por diversos estabelecimentos penais, seja para evitar que continuem comandando seus “negócios”, seja para coibir a formação de facções criminosas.

4 Com um *deficit* de mais de 40 mil vagas e várias unidades comportando o triplo de sua capacidade de lotação, a já dramática crise do sistema prisional de São Paulo se agrava todos os dias. O mérito da sentença do juiz de Tupã, que dificilmente será confirmada em instância superior, é o de refrescar a memória do governo sobre a urgência de uma solução para o problema.

Estado de S. Paulo, 13/1/2008, p. A3 (com adaptações).

Com referência às idéias do texto, julgue os itens de 1 a 7.

- 1 De acordo com o texto, não ocorrem crimes violentos, como homicídio, latrocínio, seqüestro e estupro, na cidade de Tupã.
- 2 Depreende-se do texto que a crise do sistema prisional de São Paulo pode ser resolvida com a adoção de medidas que restrinjam o deslocamento dos presos e dos seus familiares.
- 3 Infere-se do texto que o juiz mencionado, ao proferir sua sentença, se preocupou com a reabilitação dos presos.

4 Subentende-se da leitura do terceiro parágrafo que o governo de São Paulo considera inviável cumprir a sentença e recorrerá à instância superior.

5 De acordo com o terceiro parágrafo do texto, o encarceramento de criminosos em diferentes penitenciárias possibilita a desmobilização de quadrilhas.

6 Segundo o autor do texto, a sentença salienta a necessidade de uma solução para a grave situação do sistema prisional de São Paulo.

7 O texto caracteriza-se como texto descritivo devido à sua complexidade e à apresentação de fatos que ocorreram com personagens reais.

Julgue os itens seguintes, referentes às estruturas lingüísticas do texto.

8 As palavras “singular” (l.1) e “dramática” (l.5) qualificam, respectivamente, os substantivos “decisão” (l.1) e “dimensão” (l.5).

9 O trecho “pequena cidade a 534 km da cidade de São Paulo” (l.2-3) encontra-se entre vírgulas por exercer a função de aposto.

10 A correção gramatical do texto seria mantida se, na linha 3, a palavra “bastante” fosse flexionada no plural, para concordar com o substantivo “critérios”.

11 No trecho “para visitá-los semanalmente” (l.15), o pronome refere-se a “presos” (l.13).

12 As orações subordinadas “que as penitenciárias somente acolham presos” (l.7), “que tomou” (l.9) e “que irá recorrer ao Tribunal de Justiça” (l.18) desempenham a função de complemento do verbo.

13 Na linha 17, o emprego da conjunção “Contudo” estabelece uma relação de causa e efeito entre as orações.

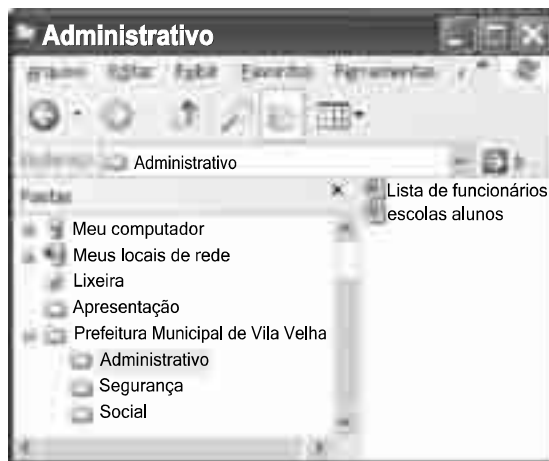
1 Falara com voz sincera, exaltando a beleza da
paisagem e revelando que, se dependesse só dele, passaria o
resto da vida ali, morreria na varanda, abraçado à visão do rio
4 e da floresta. Era isso o que mais queria, se Alicia estivesse
ao seu lado.

Agora, ao vê-lo assim, suado e nervoso, mudando de
7 lugar o tempo todo e murmurando palavras que me
escapavam, temia que me abordasse para conversar sobre o
filho. Não parecia estar no iate, e sim em sua casa, em
10 Manaus: sentado, pernas e pés juntos, tronco ereto, a cabeça
oscilando, como se fizesse um não em câmera lenta.
Despertava como quem leva um susto, ia lavar o rosto e
13 retomava sua ronda, que me deixava mareado. Eu esperava
o fim da tarde com ansiedade; mal escurecia, entrava no
camarote para ler, mas ficava pensando nos dois: Mundo e
16 seu pai. Quando não conseguia dormir, subia ao convés e via
o vulto sentado na popa, o focinho de Fogo no colo; Jano não
se voltava.






Milton Hatoum. *Cinzas do Norte*. São Paulo: Companhia da Letras, 2005, p. 86-7.

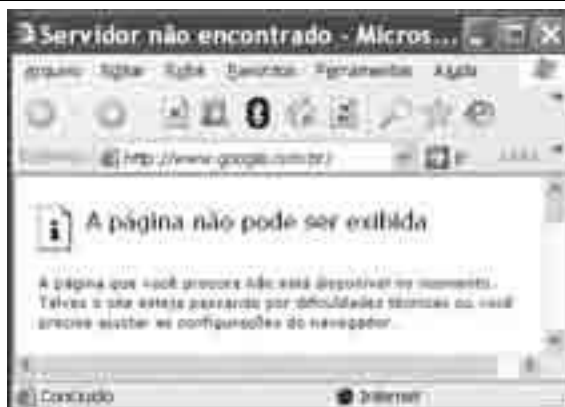
Considerando as idéias e a linguagem do texto acima, julgue os
itens que se seguem.

- 14 As orações “se dependesse só dele” (l.2) e “se Alicia estivesse ao seu lado” (l.4-5) estabelecem circunstância de condição em relação às orações às quais se subordinam.
- 15 Na linha 3, o emprego da crase antes do substantivo “visão” é optativo, visto que o termo “abraçado” pode ser seguido por complemento direto ou indireto.
- 16 A correção gramatical do texto seria mantida se o pronome “que”, em “que me escapavam” (l.7-8), fosse substituído por **quê**.
- 17 Na linha 8, a forma verbal “temia” concorda com o sujeito de terceira pessoa do singular **ele**, que foi omitido pelo narrador.
- 18 A oração “como se fizesse um não em câmera lenta” (l.11) expressa uma comparação estabelecida pelo narrador.
- 19 A correção gramatical e o sentido do texto seriam mantidos se a preposição **a** fosse incluída após a forma verbal “esperava” (l.13), de forma a obter a seguinte oração: Eu esperava ao fim da tarde com ansiedade.
- 20 A correção gramatical do texto seria mantida se a vírgula empregada antes da conjunção “mas” (l.15) fosse omitida.





A figura acima mostra uma janela do Windows Explorer, executada em um computador cujo sistema operacional é o Windows XP. Com relação a essa figura, julgue os itens a seguir.

- 21 O item  'escolas alunos' é uma pasta com arquivos do Word.
- 22 A opção  'Painel de controle', que não está mostrada na figura, tem, como funcionalidade principal, permitir controlar o tamanho máximo dos arquivos criados no Word.
- 23 A pasta  'Administrativo' é uma subpasta da pasta  'Prefeitura Municipal de Vila Velha'.
- 24 Ao se clicar a ferramenta , a lista de pastas será ocultada.






Considerando a figura acima, que mostra uma janela do navegador Internet Explorer 6 (IE6), julgue os itens que se seguem.

- 25 Para se iniciar o *download* da página www.google.com.br, é suficiente clicar a ferramenta .
- 26 No endereço www.google.com.br, o termo **.br** indica que o URL é de um sítio do governo brasileiro.
- 27 O acesso à Internet só é possível com a utilização do navegador Internet Explorer.
- 28 Ao se clicar a ferramenta , é iniciado um processo por meio do qual o sítio atual poderá ser acrescentado a uma lista de favoritos.
- 29 Utilizando-se o menu **Ferramentas**, é possível executar a janela Opções da Internet, que permite, entre outras operações, definir configurações de conexão com a Internet.





Considerando a figura acima, julgue os itens subsequentes, acerca do Excel 2003.

- 30 O total de ordens de serviços pode ser calculado utilizando-se a ferramenta Soma que é iniciada por meio do botão .
- 31 O sombreadimento dos títulos pode ser alterado utilizando-se a ferramenta .
- 32 A ferramenta  permite fazer a correção ortográfica da planilha mostrada na figura acima.



Com base na figura acima, julgue os itens que se seguem com relação ao Word 2003.

- 33 O título do texto pode ser formatado com borda utilizando-se a ferramenta .
- 34 O parágrafo selecionado está formatado com alinhamento justificado.
- 35 Considerando-se que a impressora padrão esteja configurada corretamente, para se imprimir o documento, é suficiente clicar a ferramenta .

Envelhecimento de consumidores e da força de trabalho, desastres ecológicos de conseqüências imprevisíveis, campanha de consumidores contra empresas que não respeitam o meio ambiente. Até pouco tempo atrás considerados de importância secundária, esses temas hoje já dividem espaço com questões tradicionais, como falta de energia, inflação e aspectos regulatórios na pauta dos mais sérios riscos para a perenidade de grandes corporações globais. É o que aponta recente estudo, que também relaciona alguns problemas que devem ganhar força em breve, como uma desaceleração na China, a briga por talentos e a incapacidade das empresas de inovar.

Gazeta Mercantil, 15/1/2008, capa (com adaptações).

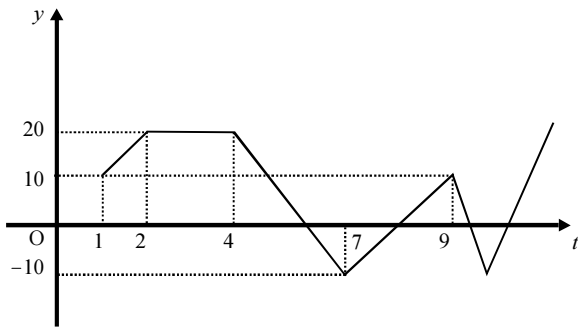
Tendo o texto acima como referência inicial e considerando aspectos relevantes do atual panorama mundial, julgue os itens que se seguem.

- 36 Em seu conjunto, o texto menciona tópicos característicos do atual estágio da economia mundial, marcado pela expansão de suas atividades em escala cada vez mais planetária.
- 37 A globalização pressupõe a necessidade de domínio do conhecimento como forma de se assegurarem as constantes inovações tecnológicas, das quais tanto se nutre o sistema produtivo contemporâneo.
- 38 A questão ambiental, embora com peso crescente na agenda mundial e suscitando preocupação de autoridades e da sociedade, ainda não influi nos rumos do comércio internacional.
- 39 Vítima de séria crise energética em passado recente, popularmente chamada de apagão, o Brasil volta a se preocupar com a possibilidade de eventual escassez de energia motivada pela irregularidade das chuvas.
- 40 Surpreendentemente, o texto não menciona a insegurança gerada pela instabilidade da legislação reguladora da economia como potencial perigo para as grandes empresas transnacionais.
- 41 A China apresenta-se, na atualidade, como país emergente, ostentando um dos mais altos índices de crescimento econômico no mundo e presença crescentemente ampliada no volume de comércio global.
- 42 Infere-se do texto que uma eventual redução do nível de expansão da economia chinesa seria benéfica para as grandes corporações mundiais porque significaria menos concorrência para elas.
- 43 O texto sugere que a capacidade de reciclar-se e de inovar é condição imposta pela globalização para que as empresas não declinem ou desapareçam, tragadas pela extrema competitividade que hoje vigora na economia.
- 44 Ao mencionar as grandes corporações globais, o texto certamente se refere às empresas transnacionais, também conhecidas como multinacionais.
- 45 A Organização Mundial do Comércio (OMC) é o órgão multilateral que tem por finalidade elaborar as regras a serem seguidas no comércio internacional e zelar pela observância delas.

Considerando que, para melhorar seu desempenho comercial, uma empresa planeja gastar em infra-estrutura R\$ 315.000,00, em 3 parcelas, julgue os itens seguintes.

- 46** Considere a seguinte situação hipotética.
A empresa gastou, em infra-estrutura, 40% do montante referido acima e aplicou o restante em uma instituição financeira, antes de realizar os outros gastos. Após 5 meses do início da aplicação, sem ter feito uma nova aplicação ou retirada, o saldo da empresa nessa aplicação era de R\$ 226.800,00. Nesse caso, se a instituição financeira opera no regime de juros simples, então a taxa mensal de juros pagos pela aplicação, no período mencionado, foi superior a 5%.
- 47** Considerando-se que as parcelas a serem gastas estejam em progressão aritmética crescente e que a última parcela seja de R\$ 160.000,00, então a primeira parcela é inferior a R\$ 45.000,00.
- 48** Caso as parcelas a serem gastas estejam em progressão geométrica crescente e a primeira parcela seja de R\$ 15.000,00, então a última parcela é superior a R\$ 230.000,00.

O lucro de uma empresa, em milhares de reais, é dado pela função $L(t) = f(t) - c(t)$, em que $f(t)$ e $c(t)$ representam, respectivamente, o faturamento e os custos da empresa, em milhares de reais, e $t \geq 0$ é o tempo, em meses, contado a partir do início do funcionamento da empresa. O gráfico de $y = L(t)$, no sistema cartesiano yOt , é mostrado na figura a seguir.



Com base nas informações acima, julgue os itens subseqüentes.

- 49** No período em que $2 \leq t \leq 9$, o faturamento da empresa foi igual aos seus custos em apenas 2 momentos.
- 50** Se, para $4 \leq t \leq 7$, os custos da empresa foram constantes e iguais a 40 mil reais — $c(t) = 40$ —, então o faturamento dessa empresa pode ser expresso por $f(t) = -10t + 100$.
- 51** Suponha-se que, para $2 \leq t \leq 4$, o faturamento $f(t)$ e os custos $c(t)$ da empresa tenham sido constantes e diretamente proporcionais aos números 3 e 2, respectivamente. Nesse caso, é correto concluir que os custos dessa empresa foram inferiores a 35 mil reais.

Julgue os itens que se seguem.

- 52** Considere-se que Mauro tenha aplicado o montante de R\$ 10.000,00 em uma instituição financeira que paga juros compostos de 8% ao ano. Nessa situação, tomando-se 0,3 e 0,033 como valores aproximados para $\log_{10}(2)$ e $\log_{10}(1,08)$, respectivamente, é correto afirmar que o tempo decorrido para que a aplicação realizada por Mauro alcance o montante de R\$ 20.000,00 é inferior a 8 anos.
- 53** Considere-se que uma aplicação de R\$ 10.000,00 tenha alcançado, após um ano, um montante de R\$ 11.550,00. Nesse caso, se a taxa de inflação no período foi de 10%, então a taxa real de juros dessa aplicação no período foi inferior a 6%.
- 54** O volume de $0,5 \text{ dm}^3$ é igual a 50 mL.
- 55** A solução do sistema de equações a seguir satisfaz às desigualdades $z > x > y$.
- $$3x - y + z = 8$$
- $$x + y + z = 4$$
- $$2x + y - z = -8$$

Uma palavra sobre $\Sigma = \{0, 1\}$ consiste nos próprios símbolos de Σ — 0 e 1 — e também de uma concatenação de qualquer dos símbolos de Σ , como, por exemplo, 00, 01, 000, 001, 1001 etc. Uma palavra tem comprimento N quando possui N símbolos. Define-se por Σ^N o conjunto de todas as palavras sobre Σ que têm comprimento N . Com base nessas informações, julgue os itens a seguir.

- 56** O conjunto Σ^4 contém exatamente 16 palavras.
- 57** Se $\Gamma = \{0, 2\}$, então o conjunto $\Gamma^3 \cap \Sigma^3$ contém um único elemento, a palavra 012.

Uma proposição é uma afirmação que pode ser julgada como verdadeira — V —, ou falsa — F —, mas não como ambas. Uma proposição é simples quando não contém nenhuma outra proposição como parte de si mesma e, quando a proposição é formada pela combinação de duas ou mais proposições simples, é denominada proposição composta. Uma proposição simples é, normalmente, representada simbolicamente por letras maiúsculas do alfabeto. As expressões $A \rightarrow B$ e $A \vee B$ representam proposições compostas, que são lidas, respectivamente, como “se A então B” e “A ou B”. A primeira proposição tem valor lógico F quando A é V e B é F, nos demais casos é V; a segunda tem valor lógico F quando A e B são F, nos demais casos é V. A expressão $\neg A$ também representa uma proposição composta, lida como “não A”, e tem valor lógico V quando A é F, e tem valor lógico F quando A é V. Com base nessas definições, julgue os itens subseqüentes.

- 58** Considere que as proposições listadas abaixo sejam todas V.
- I Se Clara não é policial, então João não é analista de sistemas.
- II Se Lucas não é policial, então Elias é contador.
- III Clara é policial.
- Supondo que cada pessoa citada tenha somente uma profissão, então está correto concluir que a proposição “João é contador” é verdadeira.
- 59** As proposições $A \rightarrow B$ e $(\neg B) \rightarrow (\neg A)$ têm a mesma tabela verdade.
- 60** A proposição “Se a vítima não estava ferida ou a arma foi encontrada, então o criminoso errou o alvo” poderia ser corretamente simbolizada na forma $(\neg A) \vee B \rightarrow C$.

CONHECIMENTOS ESPECÍFICOS

Acerca do direito constitucional, julgue os itens a seguir.

- 61** No sistema jurídico brasileiro, é competência privativa do Supremo Tribunal Federal (STF) o controle de constitucionalidade das leis federais.
- 62** Compete ao Congresso Nacional exercer o controle externo das contas prestadas anualmente pelo presidente da República.
- 63** A invocação de controle judicial da legalidade de atos administrativos somente é cabível após o esgotamento das instâncias de controle interno da administração.
- 64** As empresas públicas, diferentemente das sociedades de economia mista, são submetidas ao dever de contratar empregados mediante concurso público.
- 65** Seria inconstitucional a quebra de sigilo telefônico, mediante determinação judicial, para fins de investigação voltada à apuração de infrações administrativas.
- 66** Por força constitucional, cada município brasileiro deve instituir um tribunal de contas municipal.

Acerca da administração do município de Vila Velha-ES, julgue os itens que se seguem.

- 67** Entre os atos administrativos praticados pelo prefeito de Vila Velha, apenas os discricionários são sujeitos a revogação.
- 68** A prefeitura municipal de Vila Velha é um órgão da administração direta municipal.

O município de Vila Velha realizou concurso público para provimento de cargos públicos, estabelecendo que o prazo de validade para esse concurso seria de um ano, prorrogável pelo mesmo período, se houvesse interesse da administração.

Com base na situação hipotética apresentada, julgue os itens subsequentes.

- 69** Nessa situação, os referidos cargos devem ser de provimento efetivo.
- 70** O referido concurso é uma espécie de licitação realizada na modalidade melhor técnica.

Negócio jurídico é o poder de auto-regulamentação dos interesses que contém a enunciação de um preceito, independentemente do querer interno do agente.

Maria Helena Diniz. *Curso de Direito Civil Brasileiro*, v. I. 24 ed. Saraiva. São Paulo, 2006, p. 428 (com adaptações).

Acerca desse tema, julgue os itens a seguir.

- 71** Para a aquisição de um direito não basta a mera manifestação da vontade, mas também que o efeito visado pelo interessado esteja conforme a norma jurídica.
- 72** Quanto à manifestação da vontade dos agentes, o negócio jurídico classifica-se em principal e acessório.
- 73** O erro, o dolo e a coação são vícios sociais e invalidam o negócio jurídico.
- 74** São nulos os atos negociais se praticados por pessoa relativamente incapaz, sem a devida assistência de seus pais, tutor ou curador.

A obrigação é a relação jurídica, de caráter transitório, estabelecida entre devedor e credor, cujo objeto consiste em uma prestação pessoal econômica, positiva ou negativa, devida pelo primeiro ao segundo, garantindo-lhe o adimplemento por meio de seu patrimônio.

Washington Barros Monteiro. *Curso de Direito Civil*, v. 3 ed. Saraiva. São Paulo, p. 8. (com adaptações).

A respeito desse assunto, julgue os itens seguintes.

- 75** Quanto ao objeto, as obrigações pessoais são as de dar, fazer e não fazer, positivas ou negativas, líquidas ou ilíquidas.
- 76** A cláusula penal tem funções compulsória e indenizatória por constituir um meio de forçar o cumprimento da obrigação, além de estimar previamente as perdas e os danos.
- 77** Contrato sinalagmático é aquele que confere vantagens somente a um dos contratantes.
- 78** A cláusula resolutiva tácita confere ao lesado pela inexecução a opção de pedir a rescisão contratual, se não preferir exigir o cumprimento, e indenização por perdas e danos.

Acerca do contrato de trabalho, julgue os itens a seguir.

- 79** Por ser um pacto solene, o contrato de trabalho é válido somente se for ajustado por escrito.
- 80** Denomina-se alteridade o requisito do contrato de trabalho segundo o qual o empregado presta serviços por conta própria.
- 81** O empregado poderá considerar rescindido o contrato de trabalho e pleitear a devida indenização quando o empregador não cumprir as obrigações do contrato.
- 82** Por ser *intuitu personae*, inexistente contrato de trabalho em que o empregado seja pessoa jurídica.

À luz da Constituição Federal de 1988, julgue os seguintes itens.

- 83** Prescreve em cinco anos o direito de ação do empregado quanto aos créditos resultantes das relações de trabalho, até o limite de dois anos após a extinção do contrato de trabalho.
- 84** São vedadas diferenças de salário e de critérios de admissão por motivo de sexo, idade, cor ou estado civil, autorizando-se, contudo, o pagamento de salário proporcional à produtividade alcançada pelo empregado portador de deficiência.
- 85** É direito dos trabalhadores urbanos e rurais a jornada de seis horas para o trabalho realizado em turnos ininterruptos de revezamento, salvo negociação coletiva.

Com relação aos conceitos e às normas de auditoria concernentes ao setor público, julgue os itens a seguir.

- 86** A Câmara Municipal é responsável pelo controle externo do município, contando, para tanto, com o auxílio do Tribunal de Contas do estado, sem prejuízo da existência de sistemas de controle interno.
- 87** Quando o ente público substituir o auditor independente que lhe prestava serviços, esse auditor deve fornecer a quem lhe suceder todas as informações necessárias à continuação do trabalho, independentemente de qualquer autorização ou comunicação com o ente contratante.
- 88** A inexistência, na prefeitura, de sistema de controle interno ou a verificação de falha grave no seu funcionamento é uma condição suficiente para o Tribunal de Contas da União determinar a suspensão de transferências voluntárias da União para o município.
- 89** Entre os procedimentos recomendados no exame do fluxo da arrecadação, destaca-se a disponibilização de recursos na conta do ente auditado em face da defasagem entre o pagamento pelo contribuinte e o recolhimento à conta do Tesouro.
- 90** Identificar recursos vinculados e de convênios destinados a bens permanentes e seus respectivos prazos de usufruto ou condições de incorporação, junto aos potenciais repassadores, é procedimento aplicável à auditoria do ativo financeiro.
- 91** O Conselho Federal de Contabilidade define o risco de auditoria como a probabilidade de se evidenciarem e comprovarem os indícios de irregularidades apontados no parecer do auditor.

Com fundamento na legislação tributária, julgue os itens seguintes.

- 92** As recuperações de créditos, em particular quando resultantes do trabalho de empresas especializadas, requerem toda a atenção dos auditores. No caso dos créditos extemporâneos, por exemplo, é relevante identificar a correspondente fundamentação legal ou jurisprudencial que respalde o pleito do contribuinte.
- 93** Se a pessoa jurídica estiver sujeita à incidência não-cumulativa da COFINS e do PIS em relação a mais de 50% de suas receitas, os créditos outorgados por lei poderão ser atribuídos à totalidade de seus custos, despesas e encargos.
- 94** Os estados e o Distrito Federal podem adotar limites diferenciados de faixas da receita bruta para efeito de enquadramento das empresas de pequeno porte no Simples Nacional, de acordo com as respectivas participações no PIB brasileiro. Do mesmo modo, os municípios podem adotar sublimites correspondentes à sua participação no PIB estadual.
- 95** Os municípios fazem jus a 25% dos recursos da CIDE devidos pela União ao estado. A aplicação desse valor é destinada à infra-estrutura de transportes.
- 96** No caso de o ente público pagar benefícios a título de remuneração indireta a seus servidores, esses valores deverão ser adicionados à remuneração mensal do beneficiário e estarão sujeitos à aplicação da tabela progressiva do imposto de renda na fonte.
- 97** As importações realizadas pelos municípios, suas autarquias e fundações estão, normalmente, sujeitas à COFINS e ao PIS/PASEP, pois a imunidade recíproca entre os entes da Federação só se aplica ao patrimônio, à renda ou aos serviços.

Com referência a tópicos da área de finanças, julgue os seguintes itens.

- 98** Entre as diferenças normalmente apontadas entre o *leasing* operacional e o financeiro, destaca-se que, no primeiro caso, ao contrário do segundo, não há previsão de valor residual garantido, utilizando-se, para efeito de cálculos de contraprestação e custos financeiros, o conceito de valor de mercado estimado.
- 99** O regime de *drawback* concede isenção ou suspensão não apenas de tributos federais, mas também do ICMS, não sendo praticamente mais utilizado o *drawback* de restituição.
- 100** Entre os típicos agentes econômicos interessados no mercado de derivativos, o importador de produtos estrangeiros é o que busca proteção diante da possibilidade de valorização cambial.

Com relação à Lei de Responsabilidade Fiscal e a seus desdobramentos, julgue os itens a seguir.

- 101** As contas prestadas pelo prefeito devem incluir as da Câmara Municipal e receber parecer prévio, separadamente, do Tribunal de Contas, em princípio, no prazo de 60 dias de seu recebimento, pois a lei orgânica municipal pode fixar prazo diferente.
- 102** Na hipótese de a prefeitura conceder crédito a pessoa jurídica não-controlada, os encargos financeiros, comissões e despesas congêneres, se inferiores ao custo de captação, dependerão de autorização em lei específica.
- 103** Em 2008, o município só poderá efetuar operação de crédito por antecipação de receita até o final do primeiro quadrimestre, e deverá ser liquidada até o dia 10 de dezembro.

Considere que a receita tributária de um município de mais de 500 mil habitantes, acrescida às transferências constitucionais recebidas das demais esferas da administração, tenha sido de R\$ 5.000.000.000,00 no exercício, e que a receita corrente líquida tenha alcançado R\$ 4.000.000.000,00. Com base nesses dados, julgue os próximos itens.

- 104** As despesas de pessoal com o Executivo não poderão exceder R\$ 2.700.000.000,00.
- 105** As despesas da Câmara Municipal com a folha de pagamento não devem exceder R\$ 240.000.000,00.

Com relação à Lei n.º 4.320/1964, suas alterações e desdobramentos, julgue os itens seguintes.

- 106** O controle da execução financeira e física dos programas de trabalho é uma responsabilidade atribuída pela referida lei ao próprio órgão incumbido da elaboração da proposta orçamentária.
- 107** O controle da execução orçamentária, expressão utilizada pela lei mencionada, foi incorporando novos enfoques e aumentando sua abrangência, culminando em disposição da Constituição de 1988, em que o conceito da legitimidade se sobrepõe ao da própria legalidade.
- 108** As tomadas de contas especiais, modalidade de controle prévio, são aplicáveis aos casos de encerramento de gestão.

Considere que um órgão tenha apresentado a seguinte situação final do exercício.

- Receitas e despesas no orçamento inicial: R\$ 600.000,00
- Receitas arrecadadas no exercício: R\$ 625.000,00
- Despesas empenhadas e pagas no exercício: R\$ 470.000,00
- Despesas empenhadas e inscritas em restos a pagar: R\$ 60.000,00 (das quais R\$ 20.000,00 não foram liquidadas)
- Despesas empenhadas no exercício anterior e pagas no atual exercício: R\$ 35.000,00.

A partir das informações acima, julgue os itens subseqüentes.

- 109** O resultado da execução orçamentária do exercício, nos termos da Lei n.º 4.320/1964, foi superavitário em R\$ 115.000,00.
- 110** A variação entre os saldos inicial e final no balanço financeiro foi de R\$ 80.000,00.

Com relação à doutrina e à legislação contábil em geral, julgue os itens a seguir.

- 111** De acordo com a teoria da entidade, nas sociedades em que o controle está diluído e o sócio não pode dispor sumariamente do lucro ou retirar-se a qualquer momento, a equação patrimonial é representada corretamente a seguir.
ativo = passivo + patrimônio líquido
- 112** Constituem contas patrimoniais retificadoras: provisão para férias e provisão de 13.º salário.
- 113** Suponha que uma empresa tenha efetuado uma aplicação em fundo de renda fixa de curto prazo no valor de R\$ 10.000,00, com rendimento mensal de 1% e imposto de renda na fonte — a ser retido apenas no resgate da aplicação — de 20%. Nesse caso, o ativo circulante, ao final do primeiro mês, deveria discriminar uma conta de imposto de renda retido na fonte diferido, no valor de R\$ 20,00.
- 114** A depreciação incidente sobre os bens utilizados no processo de industrialização deve ser imputada à produção e computada no custo dos produtos vendidos, na demonstração do resultado do exercício.

A propósito dos tipos de sociedades, julgue o próximo item.

- 115** Na companhia ou sociedade anônima, quando o acionista adquire ações com ágio, sua responsabilidade está limitada ao valor patrimonial.

Considere que um título de valor nominal igual a R\$ 6.000,00 deva ser descontado 5 meses antes do seu vencimento, a uma taxa de desconto comercial simples de 4% ao mês. A respeito dessa situação, julgue os itens seguintes.

- 116** O valor do desconto é superior a R\$ 1.000,00.
- 117** A taxa efetiva mensal da operação é de 5,5%.

Um terreno foi vendido em 3 prestações mensais de R\$ 10.000,00, iguais e consecutivas. A primeira prestação foi dada como entrada e a taxa de juros compostos do financiamento era de 4% ao mês.

Com base nas informações acima, julgue o item a seguir.

- 118** Tomando 0,96 e 0,92 como valores aproximados, respectivamente, para $(1,04)^{-1}$ e $(1,04)^{-2}$, é correto afirmar que o preço a vista do terreno é inferior a R\$ 30.000,00.

Um empréstimo de R\$ 60.000,00 deve ser pago em 5 prestações anuais, consecutivas, pelo sistema de amortização constante (SAC). A primeira prestação de R\$ 13.800,00 vence um ano após a tomada do empréstimo.

Considerando essa situação hipotética, julgue os itens subseqüentes.

- 119** A taxa de juros do financiamento é superior a 4% ao ano.
- 120** O saldo devedor no final do segundo ano é inferior a R\$ 35.000,00.

