

- De acordo com o comando a que cada um dos itens de **1 a 120** se refira, marque, na **folha de respostas**, para cada item: o campo designado com o código **C**, caso julgue o item **CERTO**; ou o campo designado com o código **E**, caso julgue o item **ERRADO**. A ausência de marcação ou a marcação de ambos os campos não serão apenadas, ou seja, não receberão pontuação negativa. Para as devidas marcações, use a **folha de respostas**, único documento válido para a correção das suas provas.
- Nos itens que avaliam **Noções de Informática**, a menos que seja explicitamente informado o contrário, considere que todos os programas mencionados estão em configuração-padrão, em português, que o *mouse* está configurado para pessoas destros e que expressões como clicar, clique simples e clique duplo referem-se a cliques com o botão esquerdo do *mouse*. Considere também que não há restrições de proteção, de funcionamento e de uso em relação aos programas, arquivos, diretórios e equipamentos mencionados.

CONHECIMENTOS BÁSICOS

1 A Organização das Nações Unidas calcula ser de
1 bilhão o número de pessoas que já sofrem com a escassez
de água potável no planeta. Soma-se a isso o fato de que a
4 demanda crescente impulsionada pelo aumento populacional,
a poluição e a contaminação das fontes hídricas aceleram o
processo de redução da água, cujo principal fator é a
7 devastação ambiental — que inclui a derrubada de florestas,
matas ciliares e outros biomas essenciais à sobrevivência e
à permanência de rios e outras fontes hídricas. A água, sem
10 a qual não existe vida, tende a tornar-se um bem cada vez
mais escasso, e não são poucos os especialistas que já
antevêm, em um futuro não muito distante, a ocorrência de
13 conflitos armados entre povos e nações na disputa por essas
fontes. O Brasil dispõe de 12% das reservas de água doce da
Terra, mas infelizmente não as administra com competência
16 para fazer jus a tamanha generosidade da natureza.

Diário Catarinense, 22/11/2007 (com adaptações).

Em relação às idéias e às estruturas do texto acima, julgue os itens que se seguem.

- 1 A forma verbal “aceleram” (ℓ.5) está no plural para concordar com o sujeito composto.
- 2 A substituição de “cujo” (ℓ.6) por **em qual o** mantém a correção gramatical do período.
- 3 Em “à sobrevivência e à permanência” (ℓ.8-9), o sinal indicativo de crase justifica-se pela regência de “essenciais” (ℓ.8), que exige preposição, e pela presença de artigo definido feminino.
- 4 Em “tornar-se” (ℓ.10), o “-se” indica sujeito indeterminado.
- 5 O segmento que compõe o último período do texto está adequado para correspondências oficiais.

1 A população do Brasil cresceu nada menos que
14 milhões de 2000 a 2007, segundo o IBGE, chegando a
183,9 milhões de pessoas, o que nos inclui entre as dez
4 nações mais populosas do planeta e nos aproxima das cinco
nações da lista com mais de 200 milhões de habitantes.
Somente o crescimento dos últimos sete anos já supera a
7 população de muitos países desenvolvidos, como Holanda,
Bélgica, Áustria ou Dinamarca. É mais do que toda a
população de Portugal.

10 A extensão territorial do Brasil faz com que o país
tenha uma baixa densidade populacional. No entanto, como
somos hoje um país urbano, algumas cidades já se
transformaram em aglomerações com dimensões similares às
13 de megalópoles da Ásia ou da Europa.

Desse modo, o Brasil enfrenta hoje problemas
16 característicos de países com elevada concentração urbana:
periferias inchadas, falta de infra-estrutura e enorme
dificuldade para a administração pública se fazer presente em
19 todas as áreas sob sua responsabilidade.

Editorial. O Globo, 21/11/2007 (com adaptações).

A respeito das idéias e de aspectos gramaticais do texto acima, julgue os itens de **6 a 10**.

- 6 Depreende-se do texto que a população de Portugal é inferior a 14 milhões de pessoas.
- 7 O emprego de “nos” (ℓ.3) inclui no texto o autor e os leitores brasileiros.
- 8 A eliminação de “do” (ℓ.8) prejudica a correção gramatical do período.
- 9 O termo “No entanto” (ℓ.11) pode, sem prejuízo para a correção e para as informações originais do período, ser substituído por qualquer um dos seguintes: Porém, Entretanto, Contanto que.
- 10 O emprego de vírgula após “inchadas” (ℓ.17) justifica-se por isolar expressão apositiva.

1 O Brasil rural está vencendo seus desafios com
mais rapidez. A universalização da educação e o acesso
progressivo a comodidades do mundo moderno, como
4 energia elétrica e telecomunicações, além da importância
crescente do agronegócio na economia, tendem a reduzir
fluxos migratórios para as cidades e ainda a diminuir as
7 diferenças entre os indicadores do campo e dos centros
urbanos (as taxas de fecundidade, por exemplo, já se
aproximam).

10 Mas o Brasil metropolitano continua sem rumo
definido. Intervenções pontuais tentam atacar os problemas,
mas é evidente a falta de articulação entre os municípios que
13 compõem as regiões metropolitanas, até porque parte
significativa das soluções foge à alçada das prefeituras.
Os governos estaduais não têm capacidade financeira para
16 exercer esse papel de articulador, e é dos cofres federais que
as iniciativas dependem quase que inteiramente.

Idem, *ibidem*.

Em relação ao texto acima, julgue os itens a seguir.

- 11 A substituição de “está vencendo” (ℓ.1) por **vence** mantém a correção gramatical do período.
- 12 Em “ainda a diminuir” (ℓ.6), a presença da preposição é exigida pela regência de “tendem” (ℓ.5).
- 13 Infere-se das informações do texto que, no Brasil, a migração do campo para a cidade tende a diminuir.
- 14 Na linha 13, a forma verbal “compõem” está no plural porque concorda com “regiões metropolitanas”.
- 15 Na linha 14, o sinal indicativo de crase em “à alçada” justifica-se pela regência de “soluções”, que exige preposição, e pela presença de artigo feminino.

1 Basta ter eleições para um país ser considerado democrático? Não, dizem os cientistas políticos que comparam regimes pela história afora. Adam Przeworski
4 argumenta que só é democrática a eleição em que há contestação porque há mais de um partido competindo pelo poder. E, claro, alternância de partidos no poder.

7 Outro modo de comparar países é a maturidade de seu regime político. A idéia é que um país acumula experiências de resolução democrática de conflitos
10 pelos anos ininterruptos de democracia. Isso quer dizer respeito às regras estabelecidas no jogo democrático, sem mudanças de última hora para servir aos interesses
13 dos poderosos.

A idade da Constituição torna-se importante porque revela o respeito que os competidores têm pelas
16 regras do jogo ali estabelecidas. O país que muda as regras ao sabor dos interesses eventuais e momentâneos, de quem pode manipular o Poder Legislativo com o seu
19 poder, não pode ser considerado um país de democracia consolidada.

Alba Zaluar. *Folha de S.Paulo*, 19/11/2007 (com adaptações).

A propósito das idéias e de aspectos gramaticais do texto acima, julgue os próximos itens.

16 Pelas informações do texto, só é considerado democrático o país que tem mais de um partido que se alternam no poder por meio de eleições e que mantém a Constituição por muito tempo sem mudança de regras de última hora.


17 O segmento “que comparam regimes pela história afora” (l.2-3) tem natureza restritiva em relação aos termos antecedentes.

18 Subentende-se, após “claro,” (l.6) a estrutura “só é democrática a eleição em que há”.

19 Haveria prejuízo para a correção gramatical do período com o emprego de sinal de dois-pontos logo após “dizer” (l.10).

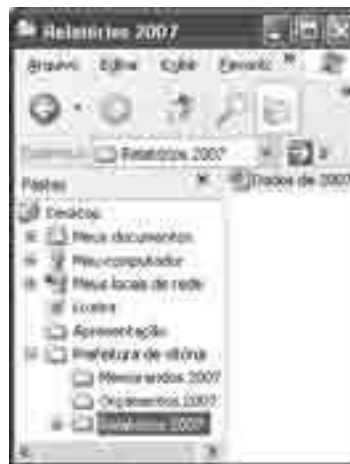
20 A substituição de “ao sabor dos” (l.17) por **conforme** prejudica a correção gramatical do período e altera as informações originais.

Com relação ao Word 2003 e ao Excel 2003, julgue os itens que se seguem.



21 A ferramenta correspondente ao botão  permite fazer correções gramaticais e de grafia das palavras.

22 O menu Inserir permite alterar o tipo de fonte.

23 Uma planilha do Excel 2003 pode ser colada com vínculo em um documento do Word 2003; dessa forma, qualquer alteração feita na referida planilha será atualizada no arquivo do Word.



A figura acima mostra uma janela do Windows Explorer, executado em um computador cujo sistema operacional é o Windows XP. Com relação a essa figura e à segurança da informação, julgue os itens subsequentes.

24 O procedimento de clicar o ícone  e arrastar para a pasta associada ao ícone  fará que o arquivo de nome Dados de 2007 permaneça na pasta Relatórios 2007 e uma cópia seja enviada para a pasta Orçamentos 2007.

25 Ao se clicar a ferramenta , o arquivo de nome Dados de 2007 será movido para a pasta Orçamento 2007.

26 O Windows XP possui uma ferramenta que auxilia o usuário na realização de *backup* dos arquivos.

27 O *firewall* é um antivírus que permite detectar e eliminar diversos tipos de vírus.




Considerando a figura acima, que mostra uma janela do Outlook Express 6 (OE6) com uma mensagem contendo uma planilha copiada do Excel, julgue os próximos itens.


28 O e-mail será encaminhado para Paulo com cópia para Ana.

29 Uma desvantagem do OE6 é que, quando o usuário termina de editar a mensagem, deve imediatamente encaminhá-la, caso contrário ela será descartada.

30 Considerando que a planilha foi criada no Excel a partir da célula A1, é correto afirmar que o número de escolas construídas no ano de 2005 é igual ao resultado da execução da fórmula =B4-B3.

31 Para se centralizar o título da planilha, é suficiente selecioná-lo e clicar o botão .

Julgue os itens subsequentes, acerca do Internet Explorer 6 (IE6) e de conceitos de Internet.

- 32 Um cuidado que os usuários devem ter em relação ao acesso à Internet é fazer *download* apenas de arquivos confiáveis para evitar a contaminação por vírus.
- 33 O IE6 possui uma ferramenta de antivírus que detecta sítios não confiáveis.
- 34 Ao se digitar www.mec.gov.br na barra de endereço do IE6 e pressionar a tecla , terá início o *upload* de todos os arquivos, imagens e textos da página do MEC.
- 35 No endereço <http://www.mec.gov.br>, os caracteres “http” indicam a existência de um servidor de arquivos ftp.

Julgue os itens que se seguem, a respeito do projeto de transposição do rio São Francisco, um dos principais empreendimentos incluídos no Plano de Ação de Aceleração do Crescimento (PAC), do governo federal, e de suas implicações para a sociedade e a política nacionais.

- 36 Apesar de o referido projeto ser de interesse de alguns estados do Nordeste do Brasil, em outros estados da mesma região houve manifestações de preocupação com o enfraquecimento do caudal do mencionado rio, econômica e socialmente importante para suas populações.
- 37 A inclusão do projeto de transposição do rio São Francisco no PAC vem sendo apontada pelo governo federal como uma forma de articular, política e economicamente, ações que necessitam ser realizadas.
- 38 A decisão de suspender o projeto de transposição do rio São Francisco, tomada pelo tribunal regional federal, é inédita, uma vez que questões ambientais não foram debatidas antes do início dos trabalhos de transposição desse rio.
- 39 Conflitos de competência legal entre conselhos federais e instâncias locais e regionais da área ambiental exemplificam a tensão latente no campo do direito ambiental no Brasil.
- 40 Apesar das tensões que envolvem o processo legal acerca do assunto, a opinião pública nacional é amplamente favorável ao projeto citado, entendido como estratégico não apenas para o Nordeste do país, mas também para o Sul e o Sudeste.

A propósito do crescimento econômico do Brasil, conforme os resultados dos últimos relatórios divulgados por grupos de estudo e consultorias de todo o país, julgue os itens a seguir.

- 41 O Brasil, depois de crescimento modesto em anos anteriores, retomou, gradualmente, em 2007, índices de crescimento econômico mais alentados, apresentando cerca de 5% de aumento no PIB.
- 42 O crescimento da agropecuária e da indústria, associado à expansão do crédito e do consumo de bens de massa, é um aspecto da retomada do crescimento brasileiro em 2007.
- 43 De acordo com os dados de crescimento econômico divulgados por estudos realizados pela iniciativa privada e por órgãos públicos, o Brasil voltou a liderar o crescimento da América Latina.
- 44 Crescimento econômico com a presença de elementos inflacionários é característica do modelo de desenvolvimento em curso no país.
- 45 Mesmo com previsão de expressiva taxa de crescimento do PIB para o final do ano de 2007, o crescimento econômico do Brasil segue aquém daquele obtido por grandes economias emergentes como a Índia e a China.
- 46 O crescimento econômico brasileiro continua concentrado no Sudeste e Sul do país, sem alteração relativa à presença do Centro-Oeste ou do Nordeste do país na produção nacional.

Acerca da situação da segurança em países da América Latina, julgue os próximos itens.

- 47 O tema central da campanha de eleição presidencial na Argentina, ocorrida no segundo semestre de 2007, foi segurança.
- 48 No Brasil, o êxito de bilheteria do filme **Tropa de Elite** evidenciou que a situação da segurança causa grande apreensão na população brasileira.
- 49 As grandes capitais de países da América Latina apresentam situação relativamente semelhante no que se refere à insuficiência da segurança pública, mesmo com os esforços recentes de Bogotá nessa área.
- 50 Em matéria de segurança pública, o Chile é exceção ao quadro apresentado pela América Latina.

CONHECIMENTOS COMPLEMENTARES

Considerando os conhecimentos acerca da história natural das doenças, segundo o modelo de Laevell e Clark, julgue os itens a seguir.

- 51 Historicamente, a prevenção às doenças infecciosas somente pode ser efetiva após a compreensão da patogênese da doença.
- 52 A história natural da doença desenvolve-se em dois períodos seqüenciados: o epidemiológico e o patológico.
- 53 O período pré-patogênico da produção da doença engloba fatores sociais, políticos, econômicos e sociais.
- 54 Na etapa da interação estímulo-suscetível, a doença ainda não se manifestou, porém todos os fatores necessários para o seu desenvolvimento já estão presentes.
- 55 As medidas tomadas para que se evitem complicações e seqüelas são classificadas como de prevenção terciária.

Acerca da reforma sanitária e dos modelos de assistência à saúde, julgue os itens seguintes.

- 56 A reforma sanitária brasileira foi um movimento social que propôs mudanças nos parâmetros da assistência à saúde no Brasil e teve seu momento mais acentuado em meados da década passada, na 7.^a Conferência Nacional de Saúde.
- 57 O conceito ampliado de saúde e o reconhecimento da saúde como direito de todos e dever do Estado foram proposições suscitadas pelo movimento da reforma sanitária.
- 58 No Brasil, o modelo assistencial sanitário é mais conhecido e prestigiado que o privatista.
- 59 No Brasil, o modelo assistencial baseado na demanda espontânea é característico do setor privado, que se diferencia, nesse sentido, do setor público.
- 60 Desde a promulgação da Constituição de 1988, a maior parte da produção de serviços voltados ao atendimento individual no Brasil vem sendo realizada por unidades de saúde do setor público vinculadas ao Sistema Único de Saúde (SUS).

Com relação ao SUS, julgue os itens que se seguem.

- 61 A Constituição Federal estabelece três diretrizes básicas para o SUS: descentralização, com direção única em cada esfera de governo; atendimento integral, com prioridade para as atividades preventivas, sem prejuízo dos serviços assistenciais; e participação da comunidade.
- 62 As instituições privadas podem participar do SUS, de forma complementar, exclusivamente por meio de contrato de direito público ou convênio, tendo preferência as entidades sem fins lucrativos e as filantrópicas.
- 63 No Brasil, como regra geral, é vedada a participação direta ou indireta de empresas ou capitais estrangeiros na assistência à saúde.
- 64 Segundo a legislação vigente, as ações que se destinam a garantir às pessoas e à coletividade condições de bem-estar físico, mental e social também dizem respeito à saúde.
- 65 A atenção à saúde indígena, um subsistema do SUS, é financiado pela União e pelos estados.
- 66 A coordenação da execução das ações de vigilância epidemiológica e sanitária está a cargo da direção nacional do SUS.
- 67 Para receberem os recursos do Fundo Nacional de Saúde, os municípios, os estados e o Distrito Federal (DF) deverão contar, no mínimo, com fundo de saúde, conselho de saúde com composição paritária e comissão de elaboração do plano de carreira, cargos e salários.
- 68 A direção do SUS, em cada esfera de governo, é composta pelo órgão setorial do Poder Executivo e pelo respectivo conselho de saúde.

Acerca da metodologia dos estudos epidemiológicos e dos indicadores de saúde na população, julgue os itens a seguir.

- 69 O estudo de caso, por não ter aplicação para a população geral, não é reconhecido como método válido para análise de morbimortalidade.
- 70 Os estudos transversais, como o de coorte ou o experimental, visam detectar a incidência de determinados eventos em determinada população, no período estudado.
- 71 O risco relativo é a medida de associação utilizada nos estudos descritivos de incidência.
- 72 O coeficiente de mortalidade infantil é composto pelo número de óbitos de crianças menores de um ano de idade, dividido pelo número de crianças menores de um ano de idade na população geral, multiplicado pela base 1.000.
- 73 Os indicadores de mortalidade e de esperança de vida são classificados como indicadores demográficos de relevância para o campo da saúde pública.

Julgue os itens subseqüentes, que tratam dos sistemas de informação em saúde no Brasil.

- 74 Os Indicadores e Dados Básicos para a Saúde (IDB) apresentam os indicadores de saúde distribuídos por grandes regiões, estados, DF, regiões metropolitanas e municípios das capitais.
- 75 Com o objetivo de viabilizar parcerias que propiciem informações úteis ao conhecimento e à compreensão da realidade sanitária brasileira e suas tendências, a Rede Interagencial de Informações para a Saúde (RIPSA) articula entidades representativas dos segmentos técnicos e científicos nacionais envolvidos na produção e na análise de dados.
- 76 Os dados de mortalidade podem ser obtidos por meio de CD-ROM, distribuído pela Secretaria de Vigilância em Saúde e de consultas na página do DATASUS na Internet.
- 77 O Sistema de Informação de Agravos de Notificação (SINAN) deve ser alimentado exclusivamente pelos casos de doenças e agravos que constam da lista nacional de doenças de notificação compulsória.

A educação em saúde é considerada medular para o campo do sanitário. Acerca desse assunto, julgue os seguintes itens.

- 78 Tones discrimina cinco enfoques diferentes para a educação em saúde: educativo, preventivo, de desenvolvimento pessoal, social e ecológico.
- 79 A educação em saúde pode ser definida como uma prática social que preconiza a mudança de hábitos, práticas e atitudes e a transmissão e apreensão de conhecimentos, além da mudança gradual na forma de pensar, sentir e agir, por meio da seleção e da utilização de métodos pedagógicos participativos e problematizadores.
- 80 Os processos baseados na educação permanente em saúde destinam-se a públicos multiprofissionais e enfocam os problemas cotidianos das práticas das equipes de saúde, inserindo-se de forma institucionalizada no processo de trabalho e gerando compromissos entre os trabalhadores, os gestores, as instituições de ensino e os usuários para o desenvolvimento institucional e individual.

CONHECIMENTOS ESPECÍFICOS

Estudos revelam que há duas classes de fatores de risco para os transtornos alimentares: uma inclui os transtornos psiquiátricos em geral, a outra é específica para os transtornos alimentares. Os fatores de primeira classe incluem a comorbidade com outras patologias psiquiátricas, história de transtornos psiquiátricos na família, abuso sexual e físico e adversidades na infância. Os fatores mais específicos incluem traços de personalidade, risco para desenvolvimento da obesidade e realização de dieta calórica restritiva.

S. Tamai. *Revista Brasileira de Psiquiatria* (supl. III), 2002, p. 18-19 (com adaptações).

Tendo como referência inicial o texto acima, julgue os itens a seguir.

- 81 Traços como obsessividade, perfeccionismo, passividade e introversão são comuns em paciente com anorexia nervosa e permanecem mesmo após a recuperação do peso.
- 82 As características de personalidade de indivíduos com bulimia nervosa são semelhantes às características de personalidade de indivíduos com anorexia, diferindo apenas quanto à impulsividade e à instabilidade afetiva.
- 83 Como existe uma associação entre a anorexia nervosa e os transtornos de compulsão alimentar, são indicadas dietas hipocalóricas para pacientes portadores daquela patologia.
- 84 A bulimia nervosa está associada aos transtornos caracterizados pela impulsividade e instabilidade, enquanto o transtorno de compulsão alimentar periódica está associado ao transtorno do tipo evitativo e ansioso.
- 85 Está provado cientificamente que os valores da noradrenalina e seus metabólitos estão aumentados na anorexia nervosa, enquanto as concentrações séricas da serotonina estão diminuídas na bulimia nervosa.

O transtorno obsessivo-compulsivo (TOC) vem recebendo muita atenção dos pesquisadores nos últimos anos, possivelmente pela conjunção de dois fatores: estudos epidemiológicos mostram que esse é um transtorno comum em praticamente todas as culturas, atingindo em média 2% da população, e os avanços terapêuticos mais recentes.

A. Torres e C. C. Miguel. *Revista Brasileira de Psiquiatria*, n.º 23 (supl. II), 2003, p. 1 (com adaptações).

Acerca do transtorno abordado o no texto acima, julgue os itens que se seguem.

- 86 De acordo com Del-Porto, o TOC é o quarto transtorno psiquiátrico mais comum, sendo precedido apenas, em termos de frequência, por fobias, abuso e dependência de drogas e depressão maior.
- 87 Antes da puberdade, o TOC é mais predominante nas meninas. A partir dos 13 anos de idade, há um aumento em meninos, e, na idade adulta, a proporção é de 1:1 para ambos os sexos.
- 88 Pacientes com TOC que manifestam tiques crônicos ou a síndrome de Tourette constituem um grupo com características específicas de respostas a tratamento, tanto clínicas quanto fenomenológicas.

89 No tratamento do TOC, os antidepressivos que inibem a recaptação da serotonina devem ser usados em associação com o haloperidol, para a contenção da agressividade.

90 Para pacientes com TOC que respondem bem à medicação farmacológica, o início da diminuição da medicação deve ocorrer somente seis meses após o desaparecimento dos sintomas. Nesse caso, deve-se, reduzir a dose em 50% a cada 45 dias.

91 Para pacientes com TOC grave que respondem ao tratamento, a medicação deve ser mantida por toda a vida após duas ou quatro recidivas.

Um paciente de 30 anos de idade que apresentava comportamento estranho há seis meses foi atendido no ambulatório de psiquiatria. Relatou-se que, nas últimas cinco semanas, apresentou delírios paranóides bizarros e alucinações e, nos últimos 30 dias, apresentou discurso urgente e desorganizado, mostrando-se grandioso. Estava distraído e hiperativo e permanecia longos períodos sem dormir e sem conseguir realizar seu trabalho cotidiano.

Com relação a esse caso clínico, julgue os seguintes itens.

92 Esse paciente apresenta sintomas mais compatíveis com abstinência de álcool que com abstinência de drogas estimulantes do tipo anfetaminas ou cocaína.

93 Os sintomas indicam que o paciente tem transtorno de personalidade esquizóide, com quadro delirante e comportamento maníaco.

94 Para esse paciente, é correto que se investigue se ele apresenta neoplasia cerebral, que pode produzir os sintomas psicóticos citados.

95 Para diminuir os sintomas de agitação e induzir o sono, é correto que se prescreva ao paciente benzodiazepínico potente de ação rápida.

96 Caso seja constatado que o paciente apresenta esquizofrenia, a clozapina pode ser uma droga de escolha para o seu tratamento, quando os outros antipsicóticos falharem, já que não produz efeito extrapiramidal, não causa discinesia tardia e não eleva a prolactina, mas é necessário considerar que de 0,5% a 2% dos pacientes correm risco de apresentar agranulocitose.

De acordo com o conceito de Akiskal (1992), os sintomas maníacos e depressivos estariam em combinação com o temperamento básico ciclotímico, hipertímico e depressivo. Na formulação teórica de Akiskal, essas misturas levariam a três diferentes tipos de transtornos mistos bipolares. A respeito dessa teoria, julgue os itens subseqüentes.

97 O transtorno bipolar do tipo I é, em geral, psicótico — com sintomas psicóticos incongruentes com o humor — e representa a intrusão de um temperamento depressivo de base em paciente maníaco superposto parcialmente a transtornos esquizoafetivos e a transtornos psicóticos agudos e polimorfos.

98 O transtorno bipolar do tipo II está associado a surtos psicóticos ou crises de hipertímia, o que gera sintomas como labilidade do humor, irritabilidade, fuga de idéias, impulsividade, depressão e erotização.

- 99** Paciente portador de transtorno bipolar do tipo III apresenta temperamento hipertímico, com episódio depressivo. Esses episódios, em geral, estão associados a agitação, excitação sexual e pressão de discurso.
- 100** A eficácia do tratamento com o lítio, considerado tratamento de primeira linha para a mania aguda, está em torno de 70% a 80%, sendo a sintomatologia maníaca clássica, com humor eufórico e grandiosidade, preditiva de boa resposta.

Em relação ao transtorno do pânico, julgue os próximos itens.

- 101** Aproximadamente, entre 15% a 17% dos parentes em primeiro grau dos pacientes com transtorno do pânico apresentam o mesmo quadro.
- 102** O sistema límbico e o *locus ceruleus* estão particularmente envolvidos no ataque de pânico.
- 103** No primeiro ataque de pânico, que é sempre espontâneo e inesperado, os sintomas começam de forma crescente, atingindo, no máximo, em torno de dez minutos e raramente ultrapassando 30 minutos.
- 104** Na diferenciação diagnóstica desse transtorno, deve-se considerar o hipertireoidismo, a abstinência ou intoxicação por drogas, as anemias, a hipoglicemia, o feocromocitoma e a epilepsia do lobo temporal.
- 105** São complicações do transtorno do pânico: transtorno conversivo somatoforme, hipocondria, abuso de álcool e suicídio.
- 106** A melhor opção para o tratamento desse transtorno inclui os benzodiazepínicos, como por exemplo 10 mg/dia de diazepam e 8 mg/dia de clonazepam, e psicoterapia familiar cognitivo-comportamental.
- 107** Os três principais neurotransmissores associados à ansiedade são a noradrenalina, a dopamina e a neurocinina.

Julgue os próximos itens acerca de transtornos de personalidade.

- 108** Considere um paciente do sexo masculino de 35 anos de idade que apresenta tendência a guardar ódio, rancores, que se recusa a perdoar insultos e que, além disso, está sempre desconfiado de tudo e de todos, interpreta as ações neutras ou amistosas dos outros como hostis ou desdenhosas, valoriza-se excessivamente e tem atitude persistente de auto-referência. A hipótese diagnóstica mais provável para esse paciente é a de personalidade esquizóide.
- 109** Considere a seguinte situação hipotética.
Camila é emocionalmente instável, apresentando auto-imagem, objetivos e preferências internas (inclusive sexual) pouco claras ou perturbadas, além de síndrome depressiva intensa, com idéias de suicídio, de curta duração e associadas a sentimentos de rejeição. Seus relacionamentos são intensos (ódio ou amor) e instáveis e causam-lhe repetidas crises emocionais.
Com relação a esse quadro, é correto que Camila seja diagnosticada como portadora de transtorno de personalidade *borderline*.
- 110** Pacientes portadores de transtorno de personalidade caracterizam-se por serem refratários às diversas formas de tratamento, inexistindo indicação precisa para uso de medicações, que são usadas, então, conforme a síndrome apresentada.

A respeito do transtorno do sono, julgue os itens a seguir.

- 111** Insônia, hipersônia e transtorno do ciclo sono-vigília são distúrbios predominantemente da quantidade, da qualidade ou da regulação do sono, respectivamente, e primariamente psicogênicos. Também são chamados de dissonias.
- 112** Sonambulismo, terror noturno e pesadelos ocorrem no estágio 2 do sono, que é representado pelo ritmo delta do sono REM.
- 113** Normalmente, o sonambulismo inicia-se na idade pré-escolar e sua ocorrência persiste até os 15 anos de idade.
- 114** O terror noturno ocorre aproximadamente em 4% dos pré-escolares, acometendo igualmente ambos os sexos. Além disso, a história familiar está presente em 90% dos casos desse transtorno.
- 115** O tratamento dos transtornos do sono envolve medidas de higiene do sono e o uso de medicamentos, principalmente os hipnóticos ou hipnóticos, enquanto se pesquisa o transtorno primário.

Pacientes com suspeita diagnóstica de demência são atendidos com frequência crescente em ambulatórios ou consultórios de profissionais médicos que lidam com idosos. As quatro causas mais frequentes de demência são: doença de Alzheimer (DA), demência vascular (DV), demência com corpos de Lewy (DCL) e demência frontotemporal (DFT).

P. Caranelli e M. T. Barbosa. *Revista Brasileira de Psiquiatria*, n.º 24 (supl. I), 2002 (com adaptações).

Julgue os itens que se seguem acerca do tema abordado no texto acima.

- 116** Pacientes portadores de hipertensão arterial podem apresentar demência de instalação insidiosa e curso lentamente progressivo. Nesses casos, a DA é secundária a infartos lacunares, acometendo a substância branca periventricular e núcleos da base.
- 117** A DA é a causa mais frequente de demência e caracteriza-se por processo degenerativo que acomete inicialmente a formação hipocampal, com posterior comprometimento de áreas corticais associativas e relativa preservação dos córtices primários.
- 118** As demências frontotemporais apresentam quadro clínico característico, com alterações precoces de personalidade e de comportamentos, além de alterações de linguagem (redução da fluência verbal, estereotípias e ecolalia), com início insidioso e caráter progressivo.
- 119** A tomografia computadorizada e, principalmente, a ressonância magnética revelam atrofia da formação temporal e atrofia do córtex cerebral de distribuição lacunar localizadas em regiões anteriores.
- 120** A demência vascular corresponde a 15% dos casos de demência nos países ocidentais e apresenta uma prevalência de 4,2% a 7,2% em pessoas de mais de 60 anos.

