







MOTORISTA – OPERADOR DE MÁQUINAS PESADAS

01. A utilização das vias por pessoas, veículos e animais, isolados ou em grupos, conduzidos ou não, para fins de circulação, parada, estacionamento e operação de carga ou descarga é considerada pelo Código de Trânsito Brasileiro como:
- Fluxo.
 - Trânsito.
 - Via terrestre.
 - Frequência de veículos.
02. As avenidas, os logradouros, os caminhos, as passagens, as estradas e as rodovias, que terão seu uso regulamentado pelo órgão ou entidade com circunscrição sobre elas, são consideradas:
- Vias terrestres.
 - Vias de passeio.
 - Vias de não fluxo.
 - Vias de passagem não implicadas.
03. Quando veículos, transitando por fluxos que se cruzem, se aproximarem de local não sinalizado, terá preferência de passagem:
- No caso de rotatória, aquele que estiver circulando por ela.
 - Veículo que estiver em maior velocidade.
 - Veículo que estiver em menor velocidade.
 - Veículo que se mantiver a esquerda.
04. Todo condutor deverá, antes de efetuar uma ultrapassagem, certificar-se de que:
- Nenhum condutor que venha atrás haja começado uma manobra para ultrapassá-lo.
 - Quem o precede na mesma faixa de trânsito não haja indicado o propósito de ultrapassar um terceiro.
 - A faixa de trânsito que vai tomar esteja livre numa extensão suficiente para que sua manobra não ponha em perigo ou obstrua o trânsito que venha em sentido contrário.
- Está (ão) correta (s) a(s) afirmação (ões):
- Apenas III.
 - Apenas I.
 - I, II e III.
 - Apenas I e II.
05. O condutor utilizará o pisca-alerta nas seguintes situações:
- Em caso de ultrapassagem.
 - Em caso de manobra para estacionar.
 - Em qualquer caso de manobra do veículo.
 - Em imobilizações ou situações de emergência.
06. Onde não existir sinalização regulamentadora, a velocidade máxima em uma via arterial será de:
- 120 quilômetros por hora.
 - 60 quilômetros por hora.
 - 80 quilômetros por hora.
 - 50 quilômetros por hora.
07. Dirigir sob a influência de álcool ou de qualquer substância entorpecente ou que determine dependência física ou psíquica é considerada:
- Infração grave.
 - Infração gravíssima.
 - Infração grave com penalidade de multa.
 - Infração grave sem penalidade de multa.
08. Deixar o condutor de prestar socorro à vítima de acidente de trânsito quando solicitado pela autoridade e seus agentes tem como penalidade:
- Suspensão dos direitos do condutor.
 - Suspensão da habilitação.
 - Suspensão da habilitação e apreensão do veículo.
 - Multa.
09. Para o transporte de toras de madeira bruta em vias públicas, as mesmas devem ser transportadas:
- No sentido longitudinal com disposição vertical ou piramidal.
 - No sentido transversal.
 - No sentido transversal com disposição vertical.
 - No sentido longitudinal com disposição inclinada para a carroceria.
10. Abster-se de todo ato que possa constituir perigo ou obstáculo para o trânsito de veículos, de pessoas ou de animais, ou ainda causar danos à propriedades públicas ou privadas é um dever:
- De usuários de vias de não fluxo.
 - De usuário de vias não implicadas.
 - De usuários de vias terrestres.
 - Nenhuma das alternativas anteriores está correta.
11. Nas áreas urbanas, quando não houver passeios ou quando não for possível a utilização destes, a circulação de pedestres na pista de rolamento será feita:
- Sem prioridade aos veículos.
 - Com prioridade aos veículos.
 - Pelo meio da pista.
 - Pelo vão central da pista.
12. É assegurada ao pedestre a utilização dos passeios ou passagens apropriadas das vias urbanas e dos acostamentos das vias rurais para circulação, podendo a autoridade competente permitir a utilização de parte da calçada para outros fins, desde que:
- Não atrapalhe o trânsito de veículos.
 - Não prejudique o fluxo de automóveis de pequeno porte.
 - Não prejudique o fluxo de pedestres
 - Dificulte o mínimo o fluxo de pedestres.
- Observe o seguinte sinal de regulamentação e responda as questões 13, 14 e 15**
- 
13. O seu uso aplica-se às situações em que estudos de engenharia indicarem a necessidade de implantação de sentido único de circulação para:
- Diminuir a fluidez.
 - Diminuir a capacidade da pista.
 - Aumentar a fluidez e a capacidade da pista.
 - Não viabilizar estacionamento em vias.
14. Esse sinal indica:
- Sentido de circulação da via ou pista.
 - Sentido não obrigatório.
 - Sentido de fluxo opcional.
 - Sentido de fluxo não indicado.
15. Quanto ao seu significado, podemos inferir:
- Informa que a pista tem dois sentidos de circulação.
 - Informa que a pista tem direção aleatória.
 - Informa que a pista não tem sentido para circulação.
 - Informa que a pista tem sentido único para circulação.
- Observe a seguinte sinal de regulamentação e responda as questões 16, 17 e 18**
- 
16. Esse sinal indica:
- Sentido de vias duplas.
 - Sentido de circulação na rotatória.
 - Sentido de fluxo não contínuo.
 - Sentido de rotatória a frente.
17. Esse sinal deve ser usado em rotatórias com raio inferior a
- 12 metros.
 - 5 metros.
 - 8 metros.
 - 4 metros.

18. Quanto ao seu significado, podemos inferir:
- Que haverá aumento do fluxo de veículos.
 - Que haverá diminuição do fluxo de veículos.
 - Assinala ao condutor do veículo a obrigatoriedade do movimento no sentido anti-horário em rotatória.
 - Nenhuma das alternativas está correta.
-
19. Dos sinais de regulamentação, o único associado ao controle de faixas de tráfego é:
- 
 - 
 - 
 - 
-
20. É a forma de dirigir, que permite a você reconhecer antecipadamente as situações de perigo e prever o que pode acontecer com você, com seus acompanhantes, com o seu veículo e com os outros usuários da via. Essa é a definição do termo:
- Direção clássica.
 - Direção defensiva.
 - Direção ofensiva.
 - Direção passiva.
-
21. Os riscos e os perigos a que estamos sujeitos no trânsito estão relacionados com:
- O meio ambiente.
 - Os veículos.
 - Os condutores.
 - As vias de condução exclusivamente.
- Está (ao) correta (s) a (s) afirmação (ões):
- Todas.
 - I e II.
 - Apenas II.
 - I, II e III.
-
22. A educação para o trânsito é direito de todos e constitui dever prioritário para os componentes do Sistema Nacional de Trânsito:
- Sistema Nacional de Habilitação.
 - Sistema Nacional de Trânsito.
 - Dos Municípios.
 - Do Estado.
-
23. A existência de coordenação educacional em cada órgão ou entidade componente do Sistema Nacional de Trânsito é:
- Independente das ações do departamento de trânsito.
 - Ligado exclusivamente as escolas.
 - Obrigatória em cada órgão componente do Sistema Nacional de Trânsito.
 - Não necessário nos órgãos ligados ao trânsito.
-
24. Quem estabelece os cursos e cronogramas relacionados aos programas de educação para o trânsito é:
- A Secretaria de Educação.
 - A Secretaria de Saúde.
 - O Contran.
 - A Secretaria de Obras do Município.
-
25. Parar o veículo nas esquinas e a menos de cinco metros do bordo do alinhamento da via transversal é uma infração:
- Média.
 - Grave.
 - Gravíssima.
 - Não implicada.
-
26. Seguir veículo em serviço de urgência, estando este com prioridade de passagem devidamente identificada por dispositivos regulamentares de alarme sonoro e iluminação vermelha intermitentes é uma infração:
- Gravíssima.
 - Grave.
 - Média.
 - Leve.
-
27. Transpor, sem autorização, bloqueio viário policial segundo artigo 210 do CBT implica em penalidade:
- Multa e apreensão do veículo.
 - Apenas multa.
 - Multa e advertência verbal.
 - Advertência verbal.
-
28. No motor à gasolina ou à álcool o calor é gerado pela centelha da vela. Já o motor à diesel não tem vela, o calor é gerado pela compressão do ar dentro do:
- Vácuo.
 - Câmbio.
 - Cilindro.
 - Motor.
-
29. O funcionamento do motor a diesel dá-se:
- Em 2 tempos.
 - Em 3 tempos.
 - Em 1 tempo.
 - Em 4 tempos.
-
30. Diferentes veículos e equipamentos usam turbo-compressor por diferentes razões. Poderia ser para aumentar o torque, para compensar a reduzida densidade de ar em grandes altitudes, ou - o mais comum – simplesmente para melhorar:
- A vazão.
 - A economia de combustível.
 - O engate.
 - A elevação da calibragem.
-
31. Ao efetuar inspeção de cabeçotes, o primeiro passo deve ser:
- Observação de fluido.
 - Observação de elevação das peças.
 - Observação de ruídos.
 - Inspecionar presença de trincas.
-
32. O sistema de embreagem transmite a energia do motor para o sistema de:
- Alocação do motor.
 - Direção.
 - Fluxo.
 - Transmissão.
-
33. Seriam peças que não têm retífica e exigem substituição:
- Anel.
 - Corrente.
 - Pistão.
 - Todas as alternativas estão corretas.
-
34. São os principais indicadores de que o motor está com problemas e precisa de uma retífica, exceto:
- Alto consumo de combustível.
 - Fluidez.
 - Excesso de fumaça.
 - Redução de potência.
-
35. A quebra da “biela” ocorre quando:
- Há pouco desgaste do equipamento.
 - Não há arranque e nem torque.
 - O motor atinge um elevado grau de desgaste.
 - O motor tem um baixo grau de potência e desgaste.
-
36. Assinale a alternativa em que todas as palavras estão acentuadas incorretamente:
- Água – história – índio.
 - Herói – gás – inglês.
 - Decáda – báu – tenís.
 - Lágrima – ódio – rádio.

37. Analise as frases abaixo e assinale a alternativa correta:
- I- A menina está feliz.
 II- Furou o pneu do carro.
 III- Adoramos o baile.
- a) Todas estão escritas corretamente.
 b) Somente II está errada.
 c) Somente III está errada.
 d) I e II estão erradas.
-
38. Assinale a alternativa em que o plural está escrito corretamente:
- a) Grandes heróis.
 b) Amigos fiel.
 c) Sopas fria.
 d) Roupas rasgada.
-
39. Em qual das alternativas a divisão silábica da palavra está incorreta?
- a) A-mi-za-de.
 b) Di-ri-gir.
 c) E-m-pre-go.
 d) Le-que.
-
40. Assinale a alternativa que contém o masculino das palavras abaixo:
Mulher – cabra – trabalhadora
- a) Homem – cabro – trabalhadora.
 b) Homem – bode – trabalhador.
 c) Macho – bodo – trabalhadora.
 d) Homem – bodi – trabalhador.
-
41. Na frase a seguir, qual das palavras em negrito está escrita incorretamente?
 “O **xarope** do **burguês** foi feito com **ameixa** e **abacachi**”
- a) Xarope.
 b) Burguês.
 c) Ameixa.
 d) Abacachi.
-
42. As medidas da caixa d’água do meu prédio medem 7,5 m de comprimento, a altura é a terça parte do comprimento, e a largura é o dobro da altura. Quantos litros de água pode conter essa caixa quando totalmente cheia?
- a) 9.375,0 l.
 b) 937,50 l.
 c) 93.750 l.
 d) 93,750 l.
-
43. Comprei uma lata de doce cujo peso é $\frac{1}{2}$ de quilo. Se a lata vazia pesa $\frac{1}{8}$ de quilo, quanto pesa o doce?
- a) 0,275 kg.
 b) 0,375 kg.
 c) 0,485 kg.
 d) 0,125 kg.
-
44. Um pai deseja distribuir R\$ 1.150,00 entre seus três filhos. Quer dar R\$ 100,00 a mais para Júlio do que para Beto e R\$ 150,00 a mais para Beto do que para Flávio. Quanto deve receber Júlio?
- a) R\$ 400,00.
 b) R\$ 650,00.
 c) R\$ 250,00.
 d) R\$ 500,00.
-
45. Ele foi chamado de o “Patriarca da Independência”. Seu nome?
- a) Duque de Caxias.
 b) D. Pedro II.
 c) Marechal Deodoro da Fonseca.
 d) José Bonifácio.
-
46. O principal líder da Conjuração Mineira foi?
- a) Domingos de Abreu Vieira.
 b) Joaquim José da Silva Xavier.
 c) Padre Rolim.
 d) Francisco Antonio de Oliveira Lopes.
-
47. Uma terra cercada de águas por todos os lados é chamada de:
- a) Arquipélago.
 b) Ilha.
 c) Promontório.
 d) Baía.
-
48. A capital do Estado do Rio Grande do Sul chama-se:
- a) Florianópolis.
 b) Porto Alegre.
 c) Curitiba.
 d) Londrina.
-
49. O atual Ministro da Justiça do Brasil é o Sr (a):
- a) Marta Suplicy.
 b) José Dirceu.
 c) José Sarney.
 d) Tarso Genro.
-
50. Estamos vivendo uma crise na saúde do Brasil com o surto de:
- a) Febre aftosa.
 b) Febre Amarela.
 c) Tuberculose.
 d) Hanseníase.