

CONCURSO PÚBLICO Nº 001/2008

Cód. 43 – Vigia

Minha vida é minha imagem

Pensando sobre os exemplos da vida, uma frase que sempre me vem à cabeça é: “Uma palavra convence, mas um exemplo arrasta multidões”.

Certa vez, um repórter correu atrás de um trem onde Ghandi estava, no momento em que saía da estação, para pedir – já quase sem fôlego – que lhe desse alguma mensagem para ele transmitir ao seu povo. Ghandi apressadamente rabiscou algumas palavras num pedacinho de papel e o entregou pela janela ao repórter. O papel dizia: “Minha vida é a minha mensagem”.

Em outro episódio, uma mãe levou seu filho pequeno até Ghandi, dizendo: “Ghandi, meu filho come açúcar demais e isso é ruim para os dentes dele. Por favor, diga-lhe que pare”. Ghandi pediu gentilmente que a mulher voltasse daí a duas semanas com o menino, e, quando ela o fez, Ghandi olhou o menino nos olhos e disse: “Você não deve comer tanto açúcar, faz mal para os dentes”.

A mãe, muito feliz, agradeceu o mestre e, já saindo dali com o seu filho, voltou-se e perguntou: “Mas por que o senhor simplesmente não lhe disse isso há duas semanas?” E Ghandi respondeu: “Porque há duas semanas eu ainda comia açúcar”.

Certamente essas histórias nos mostram que podemos dar um sentido mais amplo a nossas vidas, liderando pelo exemplo. A pior coisa, e vemos isso diariamente, são pessoas que acham que são “seres de outro planeta”, daqueles que dizem “faça o que eu digo, não faça o que eu faço”.

O meio mais seguro de influenciar pessoas é através de exemplos da nossa vida. O discurso deve ser coerente com a prática. Hoje as pessoas estão ocupadas demais com os seus problemas e não lhes sobra tempo para cultivarem suas paixões.

O modo como você vê o mundo reflete quem você é, e quem você é determina como você vê o mundo. Seu mundo sempre é subjetivo porque reflete diretamente a sua história de vida.

Na vida há uma distinção entre uma resposta e uma reação. A reação é instantânea, repleta de emoção, desprovida de um pensamento direcionado e consciente e a resposta é uma conduta mais ponderada, porque é dirigida mais pela razão e pela reflexão e menos pela emoção. A reação não leva em conta as conseqüências, ao passo que a resposta é determinada pela reflexão sobre as conseqüências.

Somos as histórias que contamos sobre nós mesmos. Se criamos as histórias que contamos sobre nós mesmos. Se criamos boas histórias e se nossas atitudes são ditadas por uma motivação positiva, nossa vida será muito mais gratificante.

Gilclér Regina, revista *Vencer!*, nº 54.

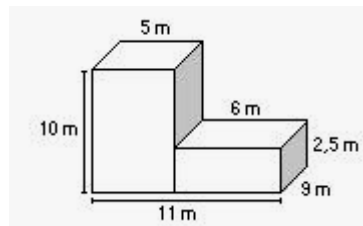
- O título do texto significa que:
 - meu comportamento é determinado pela minha imagem.
 - meu comportamento determina minha imagem.
 - os outros se espelham na minha imagem.
 - minha imagem determina o comportamento dos outros.
- A palavra grifada no terceiro parágrafo do texto – “o” – refere-se:
 - que Ghandi pedisse ao filho que não comesse açúcar.
 - ao fato de que a mãe levou o filho até Ghandi.
 - à frase “que a mulher voltasse daí a duas semanas com o menino”.
 - ao fato de que Ghandi pediu que voltasse com o filho duas semanas depois.
- “Na vida há uma distinção entre uma resposta e uma reação.” A palavra grifada significa o mesmo que:
 - direção.
 - semelhança.
 - separação.
 - diferença.
- “O discurso deve ser coerente com a prática”. Dizer isso significa o contrário do que diz o provérbio:
 - Faça o que eu digo, mas não o que eu faço.
 - Não brinque com fogo ou vai se queimar.
 - Quem planta chuva colhe tempestade.
 - Faça o eu que eu faço, mas não o que eu digo.

5. Está corretamente utilizado o termo grifado da alternativa:
- A) Chapeuzinho vermelho tinha medo do lobo mal.
 - B) Conversamos a cerca de vários assuntos.
 - C) Mal entrou no cinema, o filme começou.
 - D) Diga-me o por que de você não ter ido à aula.
6. Deveria, mas não está acentuada a palavra da alternativa:
- A) pedido.
 - B) segura.
 - C) luxúria.
 - D) soco.
7. Está no modo indicativo o verbo grifado da alternativa:
- A) Queira bem a seus irmãos.
 - B) Fez o que deveria ter feito.
 - C) Quando eu voltar de viagem procurarei por você.
 - D) Se eu puder, passarei em sua casa amanhã.
8. Não há erro de regência verbal na oração da alternativa:
- A) Aonde você foi na semana passada?
 - B) Esqueci do meu livro.
 - C) Precisamos obedecer as leis.
 - D) Pedro namorava com Maria.
9. A crase está corretamente empregada na alternativa:
- A) Ofereceu-se um banquete à convidada.
 - B) Fui a farmácia comprar remédio para dor de cabeça.
 - C) Enviei flores a minha mãe por ser seu aniversário.
 - D) Devemos dar à ele o benefício da dúvida.
10. Não há erro de regência nominal na oração da alternativa:
- A) Este exercício é fácil para fazer.
 - B) Estou indeciso em relação a isso.
 - C) Estou curioso para saber de tudo.
 - D) Os carros eram semelhantes um com o outro.
11. Está corretamente colocado o pronome grifado na oração da alternativa:
- A) Se sabe muito bem o que deve ser feito.
 - B) Fariam-me o favor de não entrar na sala agora?
 - C) Me diga o que quer de uma vez.
 - D) Não me diga que você não vai ao cinema?
12. O sujeito é indeterminado na oração da alternativa:
- A) Choveu a tarde toda em São Paulo.
 - B) Havia muitos que não sabiam nada sobre a história.
 - C) Fez-se justiça ao cantor, finalmente.
 - D) Fiz o que era minha obrigação.
13. “Flores foram oferecidas às meninas aniversariantes.” Os termos grifados nessa oração são respectivamente:
- A) sujeito – agente da passiva.
 - B) sujeito – objeto indireto.
 - C) agente da passiva – objeto indireto.
 - D) sujeito – objeto direto.
14. O preço à vista de um eletrodoméstico é R\$ 962,00. Se for comprado em duas prestações, pagando-se uma entrada de R\$ 499,50 e outra, em 30 dias, no mesmo valor, a taxa de juro simples ao mês praticada pela loja é de:
- A) 6%.
 - B) 8%.
 - C) 9%.
 - D) 10,8%.

15. Negocie um empréstimo de R\$ 800,00 à taxa de 2,6% a.m. de juro composto, para pagar no carnê em 3 prestações mensais iguais, sem entrada. Cada prestação será aproximadamente de:
- A) R\$ 288,00.
 B) R\$ 208,00.
 C) R\$ 236,00.
 D) R\$ 244,00.
16. Uma impressora custa $\frac{1}{5}$ do preço de um computador e os dois juntos custam R\$ 1.776,00. A diferença entre o preço do computador e o da impressora é de:
- A) R\$ 1.184,00.
 B) R\$ 1.480,00.
 C) R\$ 984,00.
 D) R\$ 1.814,00.

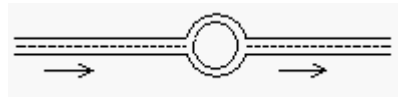
17. O volume total das figuras abaixo corresponde a:

- A) 855 m^3 .
 B) 558 m^3 .
 C) 585 m^3 .
 D) 385 m^3 .



18. A viatura marcou 14.826 km rodados quando o vigia assumiu o turno. O percurso da ronda é de 8.315 m. Se ele faz esse percurso 8 vezes por dia, ida e volta, no final do turno a viatura terá rodado aproximadamente:
- A) 148,92 km.
 B) 14.892 km.
 C) 14.960 km.
 D) 149,60 km.
19. O percurso de uma ronda motorizada compreende dois trechos intercalados por uma rotatória, conforme figura abaixo. Considerando que:
- o 1º trecho tem 84 quarteirões, sendo que metade deles medem 98 metros cada um e cada quarteirão da outra metade mede 4,5 metros a mais,
 - a rotatória tem um diâmetro de 18 metros,
 - o 2º trecho, após a rotatória, tem 78 quarteirões que medem 112 metros cada um,
- Observação: $\pi = 3,14$

o percurso total da ronda é de aproximadamente:



- A) 17,185 km.
 B) 17,157 km.
 C) 17,175 km.
 D) 17,213 km.
20. A soma de um número real inteiro com seu inverso é $\frac{10}{3}$. Esse número é:
- A) 2.
 B) 4.
 C) 5.
 D) 3.

21. Durante a semana pratico natação em horários diferentes, conforme quadro abaixo:

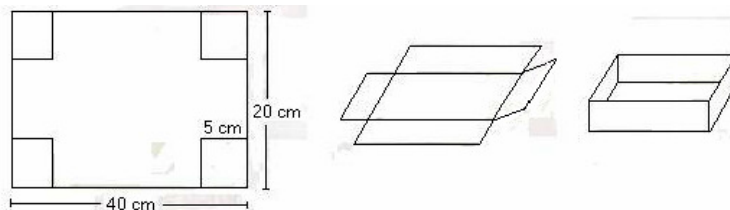
Dia da semana	segunda	terça	quarta	sexta
Início	13h45min	14h30min	13h15min	14h15min
Término	15h05min	15h15min	15h45min	15h45min

Pratico natação _____ por semana.

- A) 5 horas e 10 minutos.
- B) 6 horas e 15 minutos.
- C) 5 horas e 45 minutos
- D) 6 horas e 05 minutos.


22. De um retângulo de 20 cm por 40 cm, é possível fazer uma caixa recortando-se de seus cantos um quadrado de 5 cm de lado. Montada a caixa, sua capacidade será de:

- A) 4.000 cm³.
- B) 5.100 cm³.
- C) 1.500 cm³.
- D) 1.800 cm³.



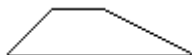
23. A pilha representada pela figura abaixo é formada por cubos. Para a pilha ficar completa, faltam _____ cubos.

- A) 31.
- B) 29.
- C) 41.
- D) 28.



24. O perímetro de um terreno com a forma da figura abaixo (4 lados de tamanhos diferentes) é 208 metros e as medidas de seus lados são números naturais ímpares e consecutivos. O lado maior mede:

- A) 51 m.
- B) 53 m.
- C) 55 m.
- D) 49 m.



25. Reservei R\$ 686,00 para fazer uma reforma no meu carro e gastei:

- 15% em acessórios.
- 13% em instalação de insufilme.
- 19% em reforma dos estofados.
- 8% em mão-de-obra.
- Abastecimento do carro ao retirá-lo da oficina.

Se me sobraram R\$ 210,90 da quantia reservada inicialmente, meu gasto no posto de combustível foi de:

- A) R\$ 98,70.
- B) R\$ 97,80.
- C) R\$ 89,90.
- D) R\$ 79,80.

26. Uma das funções do vigia é colaborar na prevenção de incêndios. Para isso ele deve:

- 1) saber usar os extintores de incêndio.
- 2) conhecer os locais onde estão instalados os extintores e outros equipamentos de proteção contra fogo.
- 3) manter livre o acesso aos extintores ou hidrantes.
- 4) não retirar lacres, etiquetas ou selos colocados no corpo dos extintores.
- 5) não mexer nos extintores de incêndio e hidrantes, a menos que seja necessária a sua utilização ou revisão periódica.

São afirmações corretas:

- A) 1, 2, 3, 4 e 5.
- B) 2, 4 e 5 apenas.
- C) 1, 3 e 4 apenas.
- D) 1, 2, 3 e 5 apenas.

27. Analise as afirmações:

- 1) O vigia deve manter disponíveis os números de telefones úteis, como o de bombeiros, polícia, gás, eletricidade, telecomunicação, hospitais mais próximos, para as emergências.
- 2) A proteção do perímetro (muros e grades) é fundamental para a segurança do patrimônio.
- 3) Nos horários de limpeza e recolhimento de lixo, as entradas do edifício podem permanecer abertas até o término da tarefa.

Estão corretas:

- A) 1 e 3 apenas.
- B) 2 e 3 apenas.
- C) 1, 2 e 3.
- D) 1 e 2 apenas.

28. Constituem pontos a serem checados periodicamente a fim de garantir a segurança do patrimônio e das pessoas:

- 1) elevadores e bombas.
- 2) interfones e portões automáticos.
- 3) gerador e iluminação de emergência.
- 4) hidrantes e luz piloto.

Estão corretos os conjuntos que constam dos itens:

- A) apenas 1, 2 e 3.
- B) apenas 2, 3 e 4.
- C) 1, 2, 3 e 4.
- D) apenas 3 e 4.

29. Um trabalho eficiente de vigia exige que o profissional, exceto:

- A) familiarize-se com hábitos rotineiros da empresa e de seus funcionários.
- B) recorra ao máximo de grosseria e autoridade, para ser respeitado.
- C) obedeça pontualmente as escalas e instruções que lhe forem passadas.
- D) encaminhe aos responsáveis, as reclamações que recebe.

30. Do perfil de um vigia não deve constar:

- A) calma.
- B) sensatez.
- C) intolerância
- D) paciência.

31. Será reconhecido como bom profissional o vigia que:

- A) age com prudência diante de circunstâncias adversas e inesperadas.
- B) enfrenta suspeitos, sem solicitação de reforço.
- C) envolve-se emocionalmente em situações conflitantes.
- D) numa desavença que venha a presenciar, privilegia e defende um dos envolvidos que lhe inspire simpatia.

32. No controle do fluxo das pessoas dentro da empresa, o vigia não tem autoridade para:

- A) identificar as pessoas.
- B) algemar e prender adolescentes.
- C) revistar as pessoas.
- D) separar brigas.

33. Para cada cargo de uma empresa, exigem-se determinadas qualidades individuais. O vigia precisa demonstrar:

- 1) saúde, vigor, destreza.
- 2) discernimento, conhecimento, experiência.
- 3) energia, iniciativa, indecisão, tato.

Podemos concluir que:

- A) os itens 2 e 3 contêm incorreção.
- B) o item 1 contém incorreção.
- C) o item 3 contém incorreção.
- D) os itens 1 e 3 contêm incorreção.

34. Ao receber materiais e equipamentos o vigia deve:

- 1) abordar e identificar o entregador.
- 2) verificar a documentação da mercadoria recebida.
- 3) conferir o material recebido.
- 4) examinar o estado da mercadoria.

São afirmações corretas:

- A) 2, 3 e 4 apenas.
- B) 1, 3 e 4 apenas.
- C) 1, 2, 3 e 4.
- D) 1, 2 e 3 apenas.

35. Para ser bem aceito e respeitado, no relacionamento com os colegas e usuários da empresa, o vigia deve cultivar atitudes tais como:

- 1) queixar-se de seus problemas pessoais.
- 2) superar suas antipatias.
- 3) controlar suas reações agressivas.

Atendem corretamente ao enunciado:

- A) 1 e 2 apenas.
- B) 1 e 3 apenas.
- C) 1, 2 e 3.
- D) 2 e 3 apenas.

36. Age inadequadamente o funcionário que, no trato com usuários e visitantes da empresa:

- A) evita discriminações.
- B) demonstra paciência para com as pessoas idosas.
- C) orienta corretamente quem lhe solicita informações.
- D) faz agrados e oferece doces às crianças desconhecidas.

37. A figura do vigia por si só já constitui obstáculo para suspeitos que se interessam em invadir a empresa. Para reforçar essa imagem e garantir a segurança do patrimônio, entre outros procedimentos, o vigia deve:

- 1) apresentar-se com o uniforme em perfeito estado e com todos os acessórios que lhe são permitidos usar.
- 2) procurar fazer a ronda das dependências utilizando percursos alternativos para não denunciar uma rotina que poderá ser anotada por suspeitos.
- 3) observar atentamente a iluminação do edifício para substituição de lâmpadas, caso necessário.

São itens corretos:

- A) 1, 2 e 3.
- B) 1 e 2 apenas.
- C) 1 e 3 apenas.
- D) 2 e 3 apenas.

38. A abordagem de suspeitos é um procedimento que requer algumas precauções. É considerada uma abordagem correta aquela feita:
- A) com truculência e coronhadas.
 - B) de maneira impessoal e profissional.
 - C) usando palavrões e gestos obscenos.
 - D) com voz alterada, para chamar a atenção de outras pessoas e servir de exemplo.
39. Poderá salvar sua própria vida e de outras pessoas o vigia que trabalha:
- A) fazendo seu turno a pé, com fone no ouvido, ouvindo suas músicas preferidas.
 - B) lendo revista durante seu horário noturno, para se distrair e espantar o sono.
 - C) sempre desconfiado, observando bem as pessoas.
 - D) afastando-se do posto de trabalho para conversar com conhecidos e amigos.
40. Merecem atenção especial do vigia os indivíduos estranhos que:
- 1) ao avistarem o vigia, disfarçam ou mudam de direção.
 - 2) ficam parados por muito tempo nas imediações do local de trabalho.
 - 3) insistem em entrar na empresa sem motivo justificável.
 - 4) são funcionários de empresas de manutenção, devidamente identificados.

Atendem corretamente ao enunciado:

- A) 2, 3 e 4 apenas.
- B) 1, 3 e 4 apenas.
- C) 1, 2, 3 e 4.
- D) 1, 2 e 3 apenas.