



TÉCNICO DE CONTABILIDADE JÚNIOR

LEIA ATENTAMENTE AS INSTRUÇÕES ABAIXO.

01 - Você recebeu do fiscal o seguinte material:

a) este caderno, com o enunciado das 50 questões das Provas Objetivas, sem repetição ou falha, assim distribuídas:

LÍNGUA PORTUGUESA I		MATEMÁTICA		INFORMÁTICA I		CONHECIMENTOS ESPECÍFICOS	
Questões	Pontos	Questões	Pontos	Questões	Pontos	Questões	Pontos
1 a 5	1,0	11 a 15	1,0	16 a 20	1,5	21 a 30	2,0
6 a 10	1,5					31 a 40	2,5
						41 a 50	3,0

b) 1 **CARTÃO-RESPOSTA** destinado às respostas às questões objetivas formuladas nas provas.

02 - Verifique se este material está em ordem e se o seu nome e número de inscrição conferem com os que aparecem no **CARTÃO-RESPOSTA**. Caso contrário, notifique **IMEDIATAMENTE** o fiscal.

03 - Após a conferência, o candidato deverá assinar no espaço próprio do **CARTÃO-RESPOSTA**, preferivelmente a caneta esferográfica de tinta na cor preta.

04 - No **CARTÃO-RESPOSTA**, a marcação das letras correspondentes às respostas certas deve ser feita cobrindo a letra e preenchendo todo o espaço compreendido pelos círculos, a **caneta esferográfica de tinta na cor preta**, de forma contínua e densa. A LEITORA ÓTICA é sensível a marcas escuras; portanto, preencha os campos de marcação completamente, sem deixar claros.

Exemplo: (A) ● (C) (D) (E)

05 - Tenha muito cuidado com o **CARTÃO-RESPOSTA**, para não o **DOBRAR, AMASSAR ou MANCHAR**. O **CARTÃO-RESPOSTA SOMENTE** poderá ser substituído caso esteja danificado em suas margens superior ou inferior - **BARRA DE RECONHECIMENTO PARA LEITURA ÓTICA**.

06 - Para cada uma das questões objetivas, são apresentadas 5 alternativas classificadas com as letras (A), (B), (C), (D) e (E); só uma responde adequadamente ao quesito proposto. Você só deve assinalar **UMA RESPOSTA**: a marcação em mais de uma alternativa anula a questão, **MESMO QUE UMA DAS RESPOSTAS ESTEJA CORRETA**.

07 - As questões objetivas são identificadas pelo número que se situa acima de seu enunciado.

08 - **SERÁ ELIMINADO** do Processo Seletivo Público o candidato que:

a) se utilizar, durante a realização das provas, de máquinas e/ou relógios de calcular, bem como de rádios gravadores, *headphones*, telefones celulares ou fontes de consulta de qualquer espécie;

b) se ausentar da sala em que se realizam as provas levando consigo o Caderno de Questões e/ou o **CARTÃO-RESPOSTA**.

09 - Reserve os 30 (trinta) minutos finais para marcar seu **CARTÃO-RESPOSTA**. Os rascunhos e as marcações assinaladas no Caderno de Questões **NÃO SERÃO LEVADOS EM CONTA**.

10 - Quando terminar, entregue ao fiscal **O CADERNO DE QUESTÕES E O CARTÃO-RESPOSTA** e **ASSINE A LISTA DE PRESENÇA**.

Obs. O candidato só poderá se ausentar do recinto das provas após **1 (uma) hora** contada a partir do efetivo início das mesmas. Por motivo de segurança, o candidato **não** poderá levar o Caderno de Questões, a qualquer momento.

11 - **O TEMPO DISPONÍVEL PARA ESTAS PROVAS DE QUESTÕES OBJETIVAS É DE 3 (TRÊS) HORAS.**

12 - As questões e os gabaritos das Provas Objetivas serão divulgados no primeiro dia útil após a realização das provas na página da **FUNDAÇÃO CESGRANRIO** (www.cesgranrio.org.br).

LÍNGUA PORTUGUESA I

Quem são nossos ídolos?

Eu estava na França nos idos dos anos 80. Ligando a televisão, ouvi por acaso uma entrevista com um jovem piloto de Fórmula I. Foi-lhe perguntado em quem se inspirava como piloto iniciante. A resposta foi pronta: Ayrton Senna. O curioso é que nessa época Senna não havia ganho uma só corrida importante. Mas bastou ver o piloto brasileiro se preparando para uma corrida: era o primeiro a chegar no treino, o único a sempre fazer a pista a pé, o que mais trocava idéias com os mecânicos e o último a ir embora. Em outras palavras, sua dedicação, tenacidade, atenção aos detalhes eram tão descomuns que, aliadas a seu talento, teriam de levar ao sucesso.

Por que tal comentário teria hoje alguma importância?

Cada época tem seus ídolos, pois eles são a tradução de anseios, esperanças, sonhos e identidade cultural daquele momento. Mas, ao mesmo tempo, reforçam e ajudam a materializar esses modelos de pensar e agir.

Já faz muito tempo, Heleno de Freitas foi um grande ídolo do futebol. Segundo consta, jactava-se de tomar uma cachacinha antes do jogo, para aumentar a criatividade. (...) O ídolo era a genialidade pura do futebol-arte.

Mais tarde, Garrincha era a expressão do povo, com sua alegria e ingenuidade. (...) Era a espontaneidade, como pessoa e como jogo, e era facilmente amado pelos brasileiros, pois materializava as virtudes da criação genial. (...)

Até que veio Pelé. Genial, sim. Mas disciplinado, dedicado e totalmente comprometido a usar todas as energias para levar a cabo sua tarefa. (...)

É bem adiante que vem Ayrton Senna. Tinha talento, sem dúvida. Mas tinha mais do que isso. Tinha a obsessão da disciplina, do detalhe e da dedicação total e completa.

Há mais do que uma coincidência nessa evolução. Nossa escolha de ídolos evoluiu porque evoluímos. (...) Era a apologia da genialidade pura. (...) Amadurecemos. Cresceu o peso da razão nos ídolos. A emoção ingênua recuou. Hoje criamos espaço para ídolos cujo êxito é, em grande medida, resultado da dedicação e da disciplina — como Pelé e Senna. (...)

Tais ídolos trazem um ideário mais disciplinado e produtivo. (...)

Nossa educação ainda valoriza o aluno genial, que não estuda — ou que, paradoxalmente, se sente na obrigação de estudar escondido e jactar-se de não fazê-lo. O cê-dê-efe é diminuído, menosprezado, é um pobre-diabo que só obtém bons resultados porque se mata de estudar. A vitória comemorada é a que deriva da improvisação, do golpe de mestre. E, nos casos mais tristes, até competência na cola é motivo de orgulho.

Parte do sucesso da educação japonesa e dos Tigres Asiáticos provém da crença de que todos podem

obter bons resultados por via do esforço e da dedicação. Pelo ideário desses países, pobres e ricos podem ter sucesso, é só dar duro.

O êxito em nossa educação passa por uma evolução semelhante à que aconteceu nos desportos — da emoção para a razão. É preciso que o sucesso escolar passe a ser visto como resultado da disciplina, do paroxismo da dedicação, da premeditação e do método na consecução de objetivos.

MOURA CASTRO, Cláudio de. *Revista Veja*, 6 jun. 2001.

1

O terceiro parágrafo do texto caracteriza-se por
(A) explicitar como uma cultura constrói seus ídolos.
(B) mostrar a excentricidade dos ídolos numa sociedade.
(C) situar cada ídolo em uma determinada época.
(D) desvincular a concepção de ídolo do processo cultural.
(E) comentar a evolução dos ídolos através dos tempos.

2

A alusão a Heleno de Freitas e Garrincha se constitui em argumento para justificar a seguinte afirmação, no texto:
(A) “Há mais do que uma coincidência nessa evolução.” (l. 38)
(B) “Era a apologia da genialidade pura.” (l. 40)
(C) “Amadurecemos.” (l. 41)
(D) “A emoção ingênua recuou.” (l. 42)
(E) “Tais ídolos trazem um ideário mais disciplinado e produtivo.” (l. 45-46)

3

Em “Há mais do que uma coincidência **nessa evolução.**” (l. 38), a parte destacada refere-se à
(A) influência de Ayrton Senna sobre o jovem piloto.
(B) alusão a Garrincha como sucessor de Heleno de Freitas.
(C) alusão a Ayrton Senna como sucessor do piloto entrevistado.
(D) mudança do conceito de ídolo na sociedade francesa.
(E) transformação na forma como a coletividade define seus ídolos.

4

Para o autor, a genialidade se manifesta quando Garrincha
(A) exprime sua simpatia pelos adversários.
(B) expressa, no estilo de jogo, sua personalidade.
(C) demonstra sua irresponsabilidade no estilo de jogo.
(D) dissimula, no estilo de jogo despojado, uma personalidade agressiva.
(E) forma, com Heleno de Freitas, na mesma época, uma dupla irreverente.

5

De acordo com o texto, atualmente, é preciso que os jovens brasileiros se inspirem em modelos de
(A) improvisação / talento.
(B) emoção ingênua / alegria.
(C) espontaneidade / método.
(D) dedicação / talento.
(E) golpes de mestre / disciplina.

6

A locução adverbial **NÃO** está empregada de acordo com o padrão culto em

- (A) Os jogos ocorrerão pela manhã.
 (B) O jornalista entregou os jornais em domicílio.
 (C) O atleta percorreu a pista a cavalo.
 (D) O mecânico examinou o carro à noite.
 (E) O jogador posicionou-se de junto da trave.

7

“**Segundo consta**, jactava-se de tomar uma cachacinha antes do jogo, **para aumentar a criatividade**.” (l. 22-24)

No período acima, os segmentos em destaque indicam, respectivamente,

- (A) condição / consecução.
 (B) conclusão / causa.
 (C) conformidade / finalidade.
 (D) concessão / comparação.
 (E) finalidade / tempo.

8

Substituindo-se os termos em destaque nas frases, pelas indicações correspondentes, a única opção em que o verbo sofrerá alteração é

- (A) “Por que tal comentário teria hoje **alguma importância?**” (l. 14-15) / **tantas interpretações**
 (B) “Já faz **muito tempo**, Heleno de Freitas foi um grande ídolo do futebol.” (l. 21-22) / **muitos anos**
 (C) “É bem adiante que vem **Ayrton Senna**.” (l. 34) / **o aparcimento de novos ídolos**.
 (D) “Há mais do que **uma coincidência** nessa evolução.” (l. 38) / **pontos comuns**
 (E) “Cresceu **o peso da razão** nos ídolos.” (l. 41) / **as exigências de outras qualidades**.

9

A respeito do texto, assinale a afirmativa correta.

- (A) Trata-se integralmente de uma narrativa, haja vista o conteúdo do primeiro parágrafo.
 (B) Constitui-se em modelo de descrição, devido a detalhes pitorescos dos ídolos brasileiros.
 (C) Apresenta aspectos narrativos, objetivando fundamentar o ponto de vista defendido pelo autor.
 (D) Estrutura-se de modo dissertativo-argumentativo por se valer somente de abstrações.
 (E) É predominantemente narrativo-descritivo, na intenção de revelar a biografia de ídolos dos desportos.

10

Observe as frases a seguir.

O êxito _____ confiamos depende de esforço e dedicação.

Os modelos de ídolos _____ todos aspiramos deveriam ser constituídos de valores éticos.

A opção que preenche, respectivamente, as lacunas das frases acima, de acordo com a norma culta, é:

- (A) para que / de que. (B) de que / a que.
 (C) em que / com que. (D) em que / a que.
 (E) a que / em que.

MATEMÁTICA

11

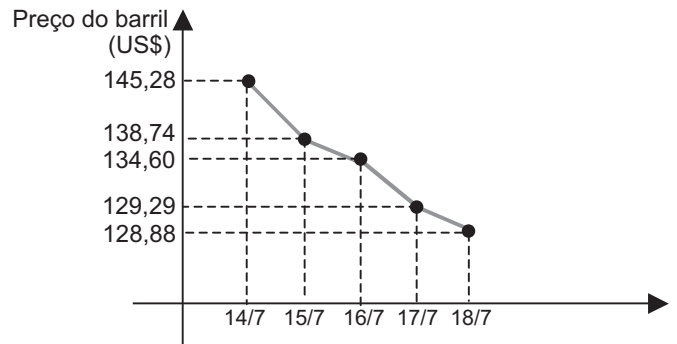
Em 15 partidas que certo time de futebol disputou em um campeonato, houve x empates, y derrotas e z vitórias. Se x , y e z formam, nessa ordem, uma progressão aritmética de razão 2, quantos jogos esse time venceu?

- (A) 5 (B) 6
 (C) 7 (D) 8
 (E) 9

12

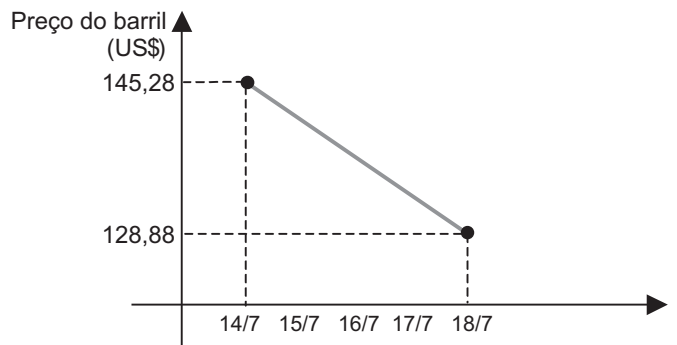
O Gráfico I apresenta a variação na cotação do barril tipo leve americano, durante cinco dias do mês de julho.

Gráfico I - PETRÓLEO
(barril tipo leve americano)



Observe, agora, o Gráfico II, no qual a variação na cotação do barril tipo leve americano, no mesmo período, é considerada linear, constituindo uma função de 1º grau.

Gráfico II - PETRÓLEO
(barril tipo leve americano)



Se a variação na cotação do barril tipo leve americano tivesse ocorrido como apresentado no Gráfico II, o preço do barril no dia 16/7 seria x dólares mais alto. Pode-se concluir que x é igual a

- (A) 1,98
 (B) 2,08
 (C) 2,28
 (D) 2,48
 (E) 2,68

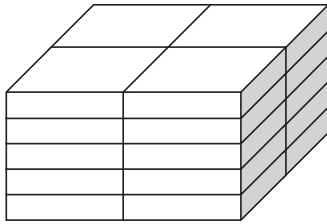
13

Os números complexos z_1 , z_2 e z_3 formam, nessa ordem, uma progressão geométrica de razão i , onde i representa a unidade imaginária. Se $z_3 = 2 + i$, então z_1 é igual a

- (A) $-2 - i$
- (B) $-2 + i$
- (C) $-1 - 2i$
- (D) $+1 - 2i$
- (E) $+2 - i$

14

Vinte caixas iguais, em forma de paralelepípedo, estão empilhadas, como mostra a figura.



Se a pilha de caixas tem 50 cm de altura, 60 cm de comprimento e 40 cm de largura, quais são, em cm, as dimensões de cada caixa?

- (A) 4, 5 e 6
- (B) 5, 10 e 20
- (C) 5, 20 e 30
- (D) 6, 6 e 10
- (E) 10, 20 e 30

15

“A MBR, em um ano de contrato com o Orla Rio, coletou 15.519 litros de óleo de cozinha nos 309 quiosques das praias cariocas. A matéria-prima deu origem a 3 toneladas de sabão pastoso.”

Jornal O Globo, 22 jul. 2008.

Considere que a quantidade de óleo coletada nos primeiros seis meses tenha correspondido à metade da quantidade coletada nos últimos seis meses, mais 618 litros. Quantos litros de óleo foram coletados nos primeiros seis meses?

- (A) 4.967
- (B) 5.585
- (C) 6.687
- (D) 8.334
- (E) 9.934

INFORMÁTICA I

16

Em uma corporação, os serviços proxy são aplicações ou programas que têm acesso à Internet e à sua rede interna. Eles requerem dois componentes básicos que são, respectivamente,

- (A) cliente e servidor.
- (B) cliente e multiplexador.
- (C) multiplexador e roteador.
- (D) roteador e protocolo.
- (E) servidor e multiplexador.

17

No Microsoft Excel 2003, que teclas de atalho devem ser pressionadas para alternar entre exibir e ocultar o painel de tarefas?

- (A) Ctrl + F1
- (B) Ctrl + F3
- (C) Ctrl + F4
- (D) Shift + F5
- (E) Shift + F8

18

No Microsoft Word 2003, ao se criar uma lista de verificação, para a marcação de itens eletronicamente, é preciso executar antes uma ação que consiste em

- (A) formatar uma fonte.
- (B) criar um diagrama.
- (C) desenhar um marcador.
- (D) exibir uma régua.
- (E) bloquear o formulário.

19

As corporações e outras entidades grandes freqüentemente imaginam que suas redes estão contidas em um perímetro seguro. Embora isso possa ter sido verdade quando havia apenas poucas centenas de *hosts*, agora as grandes empresas têm dezenas ou mesmo centenas de milhares de *hosts*.

A esse respeito, considere as afirmações abaixo.

- I - A segurança de uma Intranet não depende da política de segurança dos firewalls corporativos, mas sim das quantidades de acessos feitos à Internet.
- II - As grandes redes possuem várias estações de trabalho configuradas como firewalls para protegê-las dos ataques de vírus e programas maliciosos.
- III - Entre outras, uma grande dificuldade para o gerenciamento de segurança das redes corporativas está diretamente relacionada à falta de cooperação de seus usuários.
- IV - O controle e gerenciamento desse grande conjunto de redes é problemático porque, por projeto, há pouca centralização na tecnologia IP (Internet Protocol), o que melhora a sua robustez, mas dificulta o controle a partir de um ponto central.

São corretas **APENAS** as afirmações

- (A) I e II
- (B) I e III
- (C) I e IV
- (D) II e IV
- (E) III e IV

20

No Microsoft PowerPoint 2003, uma apresentação que está sendo criada ou alterada pode ser exibida pressionando-se a tecla de atalho

- (A) F3
- (B) F4
- (C) F5
- (D) F6
- (E) F7



CONHECIMENTOS ESPECÍFICOS

21

Em 01.10.2007, oito pessoas resolveram fundar uma empresa de reparos em embarcações denominada Barco Renovado S/A. No mesmo dia, os oito fundadores subscreveram todo o capital social, aprovado no estatuto, constituído por 1.000.000 de ações ordinárias nominativas com o valor nominal de R\$ 1,00, cada ação.

Ainda no mesmo dia, os acionistas integralizaram em dinheiro, apenas 20% do capital subscrito.

O lançamento contábil para registrar esta integralização é

(A) Acionistas C/ Capital a Capital a integralizar	R\$ 1.000.000,00	
(B) Capital a integralizar a Acionistas C/ capital	R\$ 200.000,00	
(C) Caixa a Capital integralizado	R\$ 1.000.000,00	
(D) Caixa a Capital a integralizar	R\$ 200.000,00	
(E) Diversos a Acionistas C/ Capital Capital a integralizar	R\$ 800.000,00	
Caixa	R\$ 200.000,00	R\$ 1.000.000,00

22

A Empresa Mar Azul Ltda., em 02.03.2007, adquiriu uma loja por R\$ 150.000,00, nas seguintes condições:

- R\$ 20.000,00, em dinheiro;
- R\$ 30.000,00, com a entrega de um automóvel do Imobilizado;
- R\$ 100.000,00, com o aceite de uma duplicata do mesmo valor.

Ao realizar um único registro contábil desta operação, a Empresa Mar Azul elaborou um lançamento de

- (A) 1ª fórmula. (B) 2ª fórmula.
(C) 3ª fórmula. (D) 4ª fórmula.
(E) 5ª fórmula.

Informações para responder às questões de nºs 23 e 24.

Em junho de 2007, a empresa Ventilada Ltda. vendeu R\$ 25.000,00 de mercadorias, recebendo durante o mês R\$ 15.000,00, restando R\$ 10.000,00 a receber, em duas parcelas iguais, uma em julho e outra em agosto de 2007.

No mesmo mês de junho, a Ventilada incorreu em despesas diversas que montaram a R\$ 18.000,00, pagando 50% no mês, ficando o restante a pagar em julho de 2007.

23

Considerando, exclusivamente, os dados acima, e respeitando o regime de competência, o resultado da empresa em junho de 2007 foi

- (A) lucro de R\$ 7.000,00. (B) lucro de R\$ 6.000,00.
(C) lucro de R\$ 2.000,00. (D) prejuízo de R\$ 2.000,00.
(E) prejuízo de R\$ 3.000,00.

24

Considerando, exclusivamente, as informações apresentadas, o resultado da empresa, em junho de 2007, pelo regime de Caixa, foi

- (A) lucro de R\$ 7.000,00.
(B) lucro de R\$ 6.000,00.
(C) lucro de R\$ 2.000,00.
(D) prejuízo de R\$ 2.000,00.
(E) prejuízo de R\$ 3.000,00.

25

A legislação das Sociedades Anônimas, com a nova redação dada pela Lei nº 11.638/2007, determina que os direitos que tiverem por objeto mercadorias e produtos do comércio da companhia, assim como matérias-primas, produtos em fabricação e bens em almoxarifado, sejam avaliados

- (A) ao valor presente líquido dos fluxos de caixa futuros, quando houver a hipótese de valor interno menor que valor externo.
(B) pelo valor líquido dos títulos, ajustado pelas variações monetárias que se caracterizem como permanentes na época de apuração do balanço.
(C) pelo custo de aquisição menos provisão para reconhecimento de perdas permanentes.
(D) pelo custo de fabricação, deduzidos de amortização, quando o valor for pago antecipadamente.
(E) pelo custo de aquisição ou produção, deduzido de provisão para ajustá-lo ao valor de mercado, quando este for inferior.

26

A Cia. Atlântica S/A apresentou, em reais, em 31.12.2007, o seguinte balancete de verificação:

Contas	Saldos
Caixa	1.150,00
Duplicatas a Receber	23.000,00
Máquinas e Equipamentos	20.000,00
Edificações	75.000,00
Fornecedores	32.500,00
Promissórias a Pagar	10.000,00
Empréstimos a Pagar LP	15.000,00
Receitas de Exercícios Futuros	18.000,00
Capital Social	100.000,00
Estoque de Mercadorias	26.000,00
Reservas de Capital	15.000,00
Bancos Conta Movimento	17.000,00
Reservas de Lucros	5.000,00
Depreciações Acumuladas	4.000,00
CMV	29.000,00
Despesa de Condomínio	250,00
Veículos	15.000,00
Despesa de Energia Elétrica	400,00
Custos e Despesas Referentes a Exercícios Futuros	12.500,00
Despesa de Transporte	200,00
Móveis e Utensílios	15.000,00
Salários a Pagar	4.500,00
Despesas de Salários e Encargos	4.500,00
Receita de Vendas	35.000,00

Elaborando o Balanço, na mesma data, exclusivamente com os dados acima, o valor do Patrimônio Líquido, em reais, foi

- (A) 138.500,00 (B) 126.500,00
(C) 126.000,00 (D) 124.500,00
(E) 120.650,00

27

Observe o lançamento abaixo, em reais, desconsiderando data e histórico.

Móveis e Utensílios		
a Diversos		
a Bancos C/Movimento	10.000,00	
a Duplicatas a Pagar	40.000,00	50.000,00

Este registro contábil representa a

- (A) venda de móveis e utensílios, sendo parte recebida em cheque e parte, em direitos a receber.
(B) aquisição de imóveis, sendo parte paga em cheque e parte assumindo obrigação de pagar.
(C) aquisição de móveis e utensílios, sendo parte paga em cheque e parte assumindo duplicatas para pagar no futuro.
(D) compra de máquinas e equipamentos, sendo parte à vista e parte a prazo.
(E) consignação de móveis e utensílios, pagando a taxa em cheque e assumindo a obrigação de pagar no futuro, caso fique com o bem.

28

Dados extraídos das demonstrações financeiras da Cia. Australiana S/A, em reais, no exercício de 2007

Contas	Valores
Lucro Líquido do Exercício	10.000,00
Pagamento de Dividendos	4.000,00
Aumento da Conta Fornecedores	11.000,00
Aumento da Conta Clientes	2.000,00
Aumento da Conta Estoque de Mercadorias	7.000,00
Redução da Conta Despesas Antecipadas	1.000,00
Compra de Terrenos	3.000,00
Receitas Líquidas	130.000,00
Despesas Administrativas e de Vendas	35.000,00
Custo das Mercadorias Vendidas	85.000,00
Pagamento de Empréstimos a Longo Prazo	7.000,00

Considerando, exclusivamente, os dados acima, na demonstração de fluxo de caixa, método indireto, do exercício de 2007, a variação líquida das disponibilidades, em reais, foi

- (A) 3.000,00 negativa. (B) 2.000,00 negativa.
(C) 1.000,00 negativa. (D) 1.000,00 positiva.
(E) 3.000,00 positiva.

29

Segundo as alterações introduzidas pela Lei nº 11.638/2007 na Lei das Sociedades Anônimas (Lei nº 6.404/76), será avaliada pelo método de equivalência patrimonial a participação permanente em sociedade coligada na qual

- (A) a investidora tenha influência significativa na administração ou participe com 20% ou mais do capital votante.
(B) a investidora tenha participação acionária superior à diferença entre o custo de aquisição e o valor avaliado por ocasião da apuração do balanço patrimonial.
(C) a participação da investidora na investida seja superior ao valor apurado como ajuste de avaliação patrimonial, obtido no exercício anterior.
(D) o somatório do investimento, se sociedade controlada, seja igual ou superior a 15% do valor do patrimônio líquido da sociedade investida.
(E) o investimento, se sociedade controlada, seja relevante para a sociedade investidora.

30

O critério de avaliação de estoques, que permite controlar tanto as entradas quanto as saídas de mercadorias pelo valor de aquisição, podendo, ainda, ser vendida qualquer unidade, independente da ordem de compra, é conhecido como

- (A) preço de controle.
(B) preço específico.
(C) custo de oportunidade.
(D) primeiro que entra, primeiro que sai – PEPS.
(E) último que entra, primeiro que sai – UEPS.

31

A Comercial Panamá levou ao Banco da Matriz, para serem descontadas, 10 Duplicatas a Receber, com vencimento para 25 dias, no montante de R\$ 250.000,00.

O Banco propôs a cobrança de juros simples de 2,4% ao mês e despesas de cobrança de 0,10% sobre o montante dessas duplicatas.

A empresa aceitou as condições do Banco, e o valor líquido da operação foi creditado, pelo Banco, na sua conta corrente. Com base, exclusivamente, nas informações acima, o lançamento desta operação, sem data e histórico, realizado na Empresa Panamá no dia do crédito do valor líquido, em reais, feito pelo Banco em sua conta corrente, é

(A) Diversos			
a Duplicatas Descontadas			
Bancos c/Movimento	244.750,00		
Juros e Descontos a Vencer	5.000,00		
Despesas Bancárias	250,00	250.000,00	
(B) Diversos			
a Duplicatas Descontadas			
Bancos c/Movimento	250.000,00		
Juros e Descontos a Vencer	5.000,00		
Despesas Bancárias	250,00	255.250,00	
(C) Diversos			
a Diversos			
Bancos c/Movimento	242.250,00		
Despesas de Juros a Apropriar	7.750,00	250.000,00	
a Duplicatas Descontadas	244.750,00		
a Juros Passivos	5.250,00	250.000,00	
(D) Duplicatas Descontadas			
a Diversos			
a Duplicatas a Receber	250.000,00		
a Juros Passivos	5.250,00	255.250,00	
(E) Duplicatas a Receber			
a Duplicatas Descontadas			
Bancos c/Movimento	244.750,00		
Despesas Bancárias	5.250,00	250.000,00	

32

A Empresa Irmãos Monteiro Ltda. apresentou, em 30.11.2007, o seguinte balancete:

Em reais	
Contas	Saldos
Caixa	8.900,00
Banco Conta Movimento	32.000,00
Duplicatas a Receber	30.000,00
Estoque de Mercadorias	25.000,00
Móveis e Utensílios	5.000,00
Máquinas e Equipamentos	15.000,00
Instalações	12.000,00
Fornecedores	25.000,00
Duplicatas a Pagar	24.000,00
Capital	70.000,00
CMV	20.000,00
Despesa de Aluguel e Condomínio	500,00
Despesa de Energia Elétrica	250,00
Despesa de Material de Expediente	200,00
Despesa de Telefone, Fax e Telex	150,00
Receita de Vendas	30.000,00

Em dezembro de 2007, a empresa realizou as operações a seguir, com valores em reais.

- Venda de mercadorias a prazo, por 25.000,00, com baixa de estoque de 20.000,00.
- Compra de uma caminhonete usada, por 10.000,00, sendo 3.000,00 à vista, pagos em cheque, e o restante em 5 prestações de 1.400,00.
- Aquisição de mercadorias para revenda, a prazo: 30.000,00.
- Venda de mercadorias à vista, recebidos em cheque: 12.000,00. Baixa de estoque: 10.000,00.
- Pagamento de despesas, em dinheiro:
 - Aluguel e Condomínio 350,00
 - Energia elétrica 500,00
 - Transporte 250,00
- Provisão do salário do mês: 5.000,00.

Considerando-se, exclusivamente, as informações acima, o lucro operacional da empresa, em reais, em 31.12.2007, foi

- (A) 9.900,00 (B) 9.800,00 (C) 8.750,00 (D) 7.900,00 (E) 7.850,00



33

A Usina Cana Doce Ltda. adquiriu um trator, com vida útil estimada em 4 anos, em 30.09.2007, por R\$ 345.600,00. Sabendo-se que o trator começou a ser utilizado no dia seguinte, e que não foi determinado nenhum valor residual, o total da depreciação do trator, lançado no exercício de 2007, encerrado em 31 de dezembro, em reais, foi

- (A) 17.780,00 (B) 18.270,00 (C) 21.460,00 (D) 21.600,00 (E) 23.040,00

34

Dentre os itens abaixo, qual deve sofrer amortização?

- (A) Obras civis (B) Obras de arte
(C) Ferramentas (D) Direito de exploração
(E) Direitos sobre recursos naturais

35

Os elementos fundamentais da obrigação tributária são:

- (A) obrigação, isenção e elisão. (B) norma, direito e jurisdição.
(C) legalidade, fidelidade e constitucionalidade. (D) fixação, arrecadação e liquidação.
(E) lei, objeto e fato gerador.

36

A Empresa Veneza Ltda., ao realizar o pagamento, em cheque, da duplicata de R\$ 70.000,00, correspondente à aquisição de mercadorias, realizada anteriormente, obteve um desconto de 5% pela antecipação do pagamento da duplicata.

Considerando, exclusivamente, as informações acima, o registro contábil desta operação, em reais, desconsiderando data e histórico, será

- (A) Fornecedores
a Diversos
a Bancos c/Movimento 66.500,00
a Descontos Financeiros Obtidos 3.500,00 70.000,00
- (B) Fornecedores
a Diversos 66.500,00
a Caixa 3.500,00 70.000,00
a Juros obtidos 3.500,00 70.000,00
- (C) Diversos
a Estoque de Mercadorias
Fornecedores 70.000,00
Despesa financeira 3.500,00 73.500,00
- (D) Diversos
a Bancos c/ Movimento 70.000,00
Fornecedores 3.500,00 73.500,00
Devolução de compras 3.500,00 73.500,00
- (E) Estoque de Mercadorias
a Diversos 66.500,00
a Caixa 3.500,00 70.000,00
a Despesa financeira 3.500,00 70.000,00

37

Um exame nas contas do Razão da Empresa Everest Ltda. revelou a seguinte situação (valores em reais):

Caixa		Capital		Terrenos	
15.000,00	10.000,00		40.000,00	25.000,00	
	300,00				
	3.000,00				
Bancos C/Movimento		Promissórias a Pagar		Móveis e Utensílios	
10.000,00	1.800,00	3.000,00	3.000,00	3.000,00	
			4.200,00		
Máquinas e Equipamentos		Estoque de Mercadorias		Fornecedores	
6.000,00		40.000,00	28.000,00		40.000,00
Duplicatas a Receber		Despesas Diversas		Despesa de Energia Elétrica	
35.000,00		50,00		100,00	
Despesa de Condomínio		Despesa de Telefone		Custo da Mercadoria Vendida	
100,00		50,00		28.000,00	
Venda de Mercadorias					
	35.000,00				

Com base nos dados ao lado, o resultado com mercadorias (RCM), em reais, foi

- (A) 6.300,00
(B) 6.700,00
(C) 7.000,00
(D) 7.300,00
(E) 12.000,00

38

A Empresa Comercial Amazonas Ltda. comprou, a prazo, para revender, 20.000 bolsas de couro da Indústria Coureira Ltda., pagando R\$ 2,50, cada bolsa, líquidos de ICMS e IPI.

Sabe-se que:

- a operação é tributada com 15% de IPI e 17% de ICMS;
- a Comercial Amazonas adota o controle permanente do estoque;
- o frete foi suportado pela empresa vendedora.

O lançamento desta compra, sem data e histórico, a ser feito pela Comercial Amazonas, é

(A) Compra de mercadorias

a Diversos		
a Fornecedores	50.000,00	
a Impostos incidentes sobre compras	17.275,00	67.275,00

(B) Diversos

a Diversos		
Estoque de mercadorias	50.000,00	
Impostos incidentes sobre compras	16.000,00	66.000,00
a Fornecedores	50.000,00	
a ICMS a recuperar	8.500,00	
a IPI a recuperar	7.500,00	66.000,00

(C) Diversos

a Fornecedores		
Estoque de mercadorias	57.500,00	
ICMS a recuperar	9.775,00	67.275,00

(D) Diversos

a Fornecedores		
Estoque de mercadorias	50.000,00	
ICMS a recuperar	10.240,96	
IPI a recuperar	9.036,14	69.277,10

(E) Diversos

a Fornecedores		
Estoque de mercadorias	59.036,14	
ICMS a recuperar	10.240,96	69.277,10

39

Dados extraídos do balancete de verificação da Empresa Comercial Planaltina Ltda., em reais

Receita de vendas de mercadorias	156.700,00
Compras de mercadorias no período	99.860,00
Despesas de vendas e administrativas	23.750,00
Estoque inicial de mercadorias	12.130,00
Despesas financeiras	18.643,00
Estoque final de mercadorias	17.900,00

Considerando, exclusivamente, os dados acima, o custo das mercadorias vendidas da empresa no período foi

- (A) 20.217,00
- (B) 56.840,00
- (C) 62.610,00
- (D) 94.090,00
- (E) 99.860,00



40

Os dados a seguir foram extraídos da contabilidade da Empresa Comercial Pantanal Ltda..

Em reais

Data	Operação	Quantidade	Preço unitário
02.10.2007	Compra de Mercadorias	2.000	18,00
10.10.2007	Compra de Mercadorias	30.000	20,00
20.10.2007	Compra de Mercadorias	10.000	24,00
30.10.2007	Venda de Mercadorias	22.000	60,00

Considerando-se, exclusivamente, os dados acima, e que a empresa adota como critério de controle dos estoques o primeiro que entra é o primeiro que sai (PEPS), o custo das mercadorias vendidas, em reais, montou a

- (A) 420.000,00
- (B) 436.000,00
- (C) 440.000,00
- (D) 484.000,00
- (E) 514.000,00

41

A Indústria de Tintas Pinta o Sete Ltda. apresentou os seguintes números de sua contabilidade de custos:

CONTAS	SALDO INICIAL	SALDO FINAL
Estoque de Matéria-prima	15.000,00	10.000,00
Estoque de Produtos em Processo	10.000,00	15.000,00
Estoque de Produtos Acabados	15.000,00	12.000,00
Vendas de Produtos		250.000,00
Mão-de-Obra Direta Consumida		30.000,00
Mão-de-obra Indireta Consumida		25.000,00
Luz e Força da Fábrica		12.500,00
Materiais Diversos da Fábrica		2.500,00
Salários de Vendedores		10.500,00
Depreciação das Máquinas da Fábrica		18.500,00
Despesas de Viagens		10.600,00
Seguro da Fábrica		6.500,00
Publicidade e Propaganda		8.500,00
Salários do Escritório		18.000,00
Despesas Diversas do Escritório		7.400,00
Lucro Operacional do Exercício		22.000,00

Considerando, exclusivamente, os dados acima, o valor das compras de matérias-primas do período, em reais, montou a

- (A) 75.000,00
- (B) 72.500,00
- (C) 67.500,00
- (D) 66.700,00
- (E) 57.400,00

42

Dados extraídos do balancete de verificação da Indústria Arteplastic Ltda., em 30 de junho de 2007 (valores em reais)

Caixa	1.000,00	Reserva de Lucros	3.000,00
Bancos C/Movimento	9.000,00	Vendas de Produtos	40.000,00
Clientes	30.000,00	Despesas Administrativas	3.000,00
Capital Social	25.000,00	Fornecedores	10.000,00
Compras de Matérias-primas	20.000,00	Depreciação: Máquina de Fábrica	1.000,00
Estoque de Matérias-primas	2.000,00	Despesas Comerciais	4.000,00
Estoque de Produtos em Elaboração	5.000,00	Mão-de-obra Direta Consumida	4.000,00
Estoque de Produtos Acabados	1.000,00		

Sabendo-se que a indústria iniciou suas atividades em 01.06.2007, e considerando-se, exclusivamente, os dados acima, o custo dos produtos vendidos, em junho de 2007, em reais, foi

- (A) 15.000,00
- (B) 17.000,00
- (C) 18.000,00
- (D) 22.000,00
- (E) 23.000,00

43

Dentre as alternativas abaixo, qual apresenta, somente, custos fixos?

- (A) Propaganda, honorários da diretoria e supervisão de fábrica.
- (B) Matéria-prima direta, combustível e energia elétrica.
- (C) Mão-de-obra indireta, supervisão de fábrica e aluguel de fábrica.
- (D) Depreciação de fábrica, manutenção de máquinas de fábrica e despesas financeiras.
- (E) Materiais diversos de fábrica, comissão de vendedores e mão-de-obra direta.

44

A Indústria Mar Azul Ltda., durante o mês de julho de 2007, para fabricar 10.000 unidades de seu produto, teve os seguintes gastos, em reais:

- matéria-prima 400.000,00
- mão-de-obra direta 300.000,00
- custos fixos 300.000,00

No mês seguinte, a empresa produziu 12.000 unidades desse mesmo produto, gastando a mesma quantia do mês anterior em mão-de-obra e em custos fixos. Em vista disso, o custo por unidade produzida, em agosto, corresponde, em reais, a

- (A) 83,33
- (B) 89,45
- (C) 90,00
- (D) 95,00
- (E) 102,50

45

Custos diretos são aqueles que podem ser

- (A) identificados com o processo produtivo.
- (B) distribuídos aos produtos, através de algum critério de rateio.
- (C) alocados aos produtos, por meio de centros de custos.
- (D) apropriados aos produtos, através de rastreamento.
- (E) apropriados diretamente aos produtos.

Informações para responder às questões de nºs 46 e 47

A Indústria Himalaia Ltda. apresentou os seguintes volumes de produção e vendas do produto X:

Em reais

Período	Produção	Vendas	Estoque Final
janeiro 2007	40.000	20.000	20.000
fevereiro 2007	50.000	40.000	30.000
março 2007	40.000	50.000	20.000
abril 2007	50.000	60.000	10.000

Sabe-se que:

- o método de avaliação de estoques adotado é o PEPS (primeiro que entra, primeiro que sai);
- os custos variáveis montam a R\$ 50,00 por unidade;
- os custos fixos totalizam R\$ 2.000.000,00 por mês;
- o preço de venda unitário é R\$ 200,00.

46

O custo fixo incorrido, apurado em abril de 2007 pelo critério de custeio por absorção, em reais, foi

- (A) 1.700.000,00
- (B) 1.800.000,00
- (C) 2.000.000,00
- (D) 2.200.000,00
- (E) 2.600.000,00

47

O total do CPV (soma dos 4 meses) pelo critério de custeio variável, em reais, é

- (A) 7.000.000,00
- (B) 7.500.000,00
- (C) 8.000.000,00
- (D) 8.500.000,00
- (E) 9.000.000,00

48

Uma aplicação que rendeu juros simples de 2,5% ao mês, durante 4 meses, gerou um montante de R\$ 60.000,00.

O valor aplicado que permitiu chegar a esse valor de resgate, em reais, foi

- (A) 55.555,55
- (B) 55.455,54
- (C) 55.000,00
- (D) 54.545,45
- (E) 50.000,00

49

Que taxa de juros compostos mensais permite que um capital de R\$ 75.000,00 possa dobrar em um período de 6 meses?

- (A) 12,2462%
- (B) 12,50%
- (C) 14,25%
- (D) 14,3333%
- (E) 15,2525%

50

A Empresa Trás os Montes Ltda. obteve do Banco Z, numa operação de desconto de duplicatas, um valor líquido de R\$ 72.000,00.

Sabendo-se que a duplicata tinha vencimento para 25 dias, a contar da data do desconto, e que o Banco cobra uma taxa de desconto simples de 2% ao mês, o valor da duplicata descontada, em reais, é

- (A) 75.000,00
- (B) 74.333,33
- (C) 73.220,36
- (D) 72.999,33
- (E) 71.111,54