



CONCURSO PÚBLICO - Edital N.º 001/2009 - PREFEITURA MUNICIPAL DE IGARAPÉ-MIRI

REALIZAÇÃO DA PROVA OBJETIVA: 29 de Novembro de 2009

NÍVEL SUPERIOR

**Cargo: PROFESSOR DE EDUCAÇÃO BÁSICA III –
GEOGRAFIA**

Nome do Candidato: _____
Nº de Inscrição: _____

Assinatura

INSTRUÇÕES AO CANDIDATO

- Confira se a prova que você recebeu corresponde ao cargo/nível de escolaridade ao qual você está inscrito, conforme consta no seu cartão de inscrição e no cartão resposta. Caso contrário comunique imediatamente ao fiscal de sala.**
- Esta prova contém 40 questões objetivas, sendo 10 de Língua Portuguesa, 05 de Noções de Informática, 05 de Noções de Meio Ambiente, 08 de Regime Jurídico Único dos Servidores da PMIM e 12 de Conhecimentos Específicos. Caso exista alguma falha de impressão, comunique imediatamente ao fiscal de sala. Na prova há espaço reservado para rascunho. Esta prova terá duração de 04 (quatro) horas, tendo seu início às 08:00h e término às 12:00h (horário local).**
- A resposta definitiva de cada questão deve ser obrigatoriamente, assinalada no CARTÃO RESPOSTA, considerando a numeração de 01 a 40.**
- Confira se seu nome, número de inscrição, cargo de opção e data de nascimento, consta na parte superior do CARTÃO RESPOSTA que você recebeu. Caso exista algum erro de impressão, comunique imediatamente ao fiscal de sala, a fim de que o fiscal registre na Ata de Sala a devida correção.**
- É obrigatório que você assine a LISTA DE PRESENÇA e o CARTÃO RESPOSTA do mesmo modo como está assinado no seu documento de identificação.**
- Utilize somente caneta esferográfica de tinta preta ou azul, pois não serão consideradas marcações a lápis no CARTÃO RESPOSTA. O CARTÃO RESPOSTA é o único documento válido para o processamento de suas respostas.**
- A maneira correta de marcar as respostas no CARTÃO RESPOSTA é cobrir totalmente o espaço correspondente à letra a ser assinalada, conforme o exemplo constante no CARTÃO RESPOSTA.**
- Em hipótese alguma haverá substituição do cartão resposta por erro do candidato. O cartão resposta só será substituído se for constatada falha de impressão.**
- O candidato deverá permanecer, obrigatoriamente, na sala de realização da prova por, no mínimo, uma hora após o início da mesma. A inobservância acarretará a eliminação do concurso.**
- O candidato deverá devolver no final da prova, o cartão-resposta e o boletim de questões, recebidos.**
- Será automaticamente eliminado do concurso público da Prefeitura Municipal de Igarapé-Miri, o candidato que durante a realização da prova descumprir os procedimentos definidos no Edital nº 001/2009.**

LÍNGUA PORTUGUESA

TEXTO 1 – QUESTÕES 01 a 03

Você é um assassino de albatroz?



03 Nov 2009

- 1 Por mais incrível – e triste! – que possa ser, a foto acima não é uma
2 montagem. Trata-se “apenas” do resultado da falta de consciência
3 humana, que foi clicado, em setembro deste ano, pelo fotógrafo
4 ambiental Chris Jordan.
- 5 O artista viajou para o Atol Midway, no norte do Oceano Pacífico, e lá –
6 onde o continente mais próximo (e, portanto, o homem) se encontra a,
7 mais ou menos, 2 mil milhas de distância – o fotógrafo se deparou com
8 várias carcaças de albatroz em decomposição, que morreram ao ingerir o
9 lixo plástico que flutua ao redor da ilha.
- 10 São pedaços de rede, isqueiros, sacolas plásticas, tampas de garrafa e
11 mais uma porção de entulhos plásticos que foram atirados no mar e
12 acabaram viajando as aves, dentro do seu
13 próprio santuário.
- 14 As imagens – que viraram um ensaio fotográfico – chocam e o pior é
15 saber que o fato não é isolado. Segundo o Programa das Nações Unidas
16 para o Meio Ambiente (PNUMA), o plástico é responsável pela morte de
17 mais de um milhão de aves marinhas todos os anos – sem contar todo o
18 resto da fauna aquática, como tartarugas marinhas, tubarões e centenas
19 de espécies de peixes.

No ditado popular, uma imagem fala mais do que mil palavras. Quem sabe, agora, com a ajuda de Chris, as pessoas não se conscientizam sobre as consequências de seus atos na natureza. Será?

<http://super.abril.com.br/blogs/planeta/>

01. No texto “Você é um assassino de albatroz?”, chama-se a atenção do leitor para o(a)
- (A) beleza natural da arte do fotógrafo ambiental Chris Jordan.
 - (B) importância do trabalho realizado pelo Programa das Nações Unidas para o Meio Ambiente.
 - (C) resultado catastrófico da falta de preocupação do homem com o reflexo de suas ações na natureza.
 - (D) pobreza da montagem fotográfica de carcaças de albatroz realizada no Atol Midway, no norte do Oceano Pacífico, por Chris Jordan.
02. Em relação às ideias desenvolvidas no texto acima, é incorreto afirmar que
- (A) as aves morreram em consequência da ingestão de entulhos plásticos.
 - (B) o problema retratado por Chris Jordan constitui um fato raro e excepcional.
 - (C) o lugar em que foram encontradas as carcaças de albatroz fica afastado de terras habitadas pelo homem.
 - (D) a interrogação no final do texto põe em dúvida a possibilidade de as pessoas mudarem seu comportamento.

03. Quanto ao fenômeno de coesão, pode-se dizer que

- (A) “seus”, em “seus atos na natureza” (linha 19), é uma referência a Chris Jordan.
- (B) a expressão “continente mais próximo” (linha 5) retoma “Atol Midway” (linha 4).
- (C) o pronome “que”, em “que flutua ao redor da ilha” (linhas 7-8), refere-se a “albatroz” (linha 7).
- (D) “aves”, em “assassinando as aves, dentro do seu próprio santuário” (linha 11), é um hiperônimo de “albatroz” (linha 7).

TEXTO 2 – QUESTÕES 04 a 06

Amazônia tem um Reino Unido em pastos degradados

- 1 Enquanto ambientalistas e ruralistas disputam uma área maior do
2 território brasileiro para a preservação do meio ambiente ou para o
3 agronegócio, uma extensão de terras estimada em quase três vezes o
4 Estado de São Paulo é ocupada por pastagens degradadas, com baixa
5 ou nenhuma produção.
6 Só na Amazônia, as pastagens com grau avançado de degradação
7 equivalem ao tamanho do Reino Unido. Estudo da Embrapa (Empresa
8 Brasileira de Pesquisa Agropecuária) estima que o avanço da pecuária
9 na Amazônia já deixou um rastro de 22,4 milhões de hectares na
10 Amazônia em fase média ou avançada de degradação.
11 Os números são resultado de uma lógica perversa. Avançar sobre a
12 floresta ou a vegetação nativa é mais barato do que recuperar as áreas
13 degradadas.
14 "O custo [da recuperação das áreas degradadas] é relativamente baixo,
15 entre R\$ 1.500 e R\$ 3.000 por hectare, mas o valor não é tão baixo
16 quanto avançar em área virgem e desmatar mais. Isso custa entre R\$
17 300 e R\$ 600 por hectare", avalia o ministro Roberto Mangabeira Unger
18 (Assuntos Estratégicos), que elegeu o tema como uma de suas
prioridades.

"Hoje em dia é muito mais fácil, mais simples e mais barato fazer tudo errado", endossa o ministro Carlos Minc (Meio Ambiente).

<http://www1.folha.uol.com.br/fsp/especial/fj0506200906.htm>

04. Com relação às ideias desenvolvidas no texto, é incorreto afirmar que

- (A) Carlos Minc critica duramente os métodos utilizados no agronegócio.
- (B) o avanço da pecuária na Amazônia tem destruído grandes áreas da floresta.
- (C) ainda é pouco significativa a extensão de áreas devastadas na Amazônia em consequência da pecuária.
- (D) é mais dispendioso e mais difícil recuperar áreas destruídas do que avançar sobre a floresta virgem, devastando-a.

05. Quanto às noções de morfologia, é falso afirmar que

- (A) “avanço” (linha 7) e “custo” (linha 12) são palavras formadas por derivação regressiva.
- (B) “errado” em “mais barato fazer tudo errado” (linha 17) é um adjetivo que funciona como advérbio.
- (C) a palavra “que”, no trecho “que elegeu o tema como uma de suas prioridades” (linha 16), é um pronome relativo.
- (D) as palavras “ambientalistas” (linha 1) e “agronegócio” (linha 2) são substantivos formados por derivação parassintética.

06. Quanto aos fenômenos gramaticais da língua, é correto afirmar que

- (A) “errado” (linha 17) é um predicativo do sujeito.
- (B) o verbo, em “Os números são resultado de uma lógica” (linha 10), está na voz passiva.
- (C) a presença da preposição “em” (linha 14) justifica-se pela regência do verbo “avançar”.
- (D) o pronome “isso” (linha 14) retoma “o custo da recuperação das áreas degradadas”.

TEXTO 3 – QUESTÕES 07 e 08

Reduzir, reutilizar, reciclar

Uma pessoa produz 1,5 kg de lixo por dia.

Para baixar esse índice, reduza, reutilize e recicle.

- 1 Embalagens, copinhos de café, sacolas plásticas e restos de alimento são
- 2 apenas parte dos rastros que deixamos para trás todos os dias. O peso, para o
- 3 qual ainda estamos longe de encontrar a solução definitiva, recai sobre o
- 4 planeta: cada pessoa produz em média 1,5 kg de resíduos por dia. Essa
- 5 engrenagem é, parcialmente, movida pelo desejo. Compramos, consumimos e
- 6 descartamos em ritmo frenético.
- 7 A dica, portanto, é dar preferência a produtos de vida longa, um dos princípios
- 8 do ecodesign. A prática dos três R – reduzir a quantidade de resíduos,
- 9 reutilizar materiais e reciclar por meio da coleta seletiva – é a melhor maneira
- 10 de diminuir o impacto do seu lixo na natureza.

<http://planetasustentavel.abril.com.br/noticia/lixo/reduzir-reutilizar-reciclar-495966.shtml>

07. No texto 3, coloca-se em evidência a necessidade de

- (A) participar da engrenagem do consumo.
- (B) diminuir urgentemente a produção de lixo.
- (C) separar o lixo orgânico dos demais resíduos e materiais não recicláveis.
- (D) descobrir uma solução definitiva para o impacto ambiental provocado pelo lixo.

08. O problema apontado e sua causa são, respectivamente, o(a)

- (A) consumo frenético e a realização da coleta seletiva.
- (B) impacto do lixo no meio ambiente e o consumo desenfreado.
- (C) desejo que move o consumo e as consequências do excesso de lixo para a natureza.
- (D) preferência por produtos de vida curta e a desobediência aos princípios do ecodesign.

09. Com relação aos textos 1, 2 e 3,

- (A) crônicas, predominantemente narrativas, sobre episódios que revelam o descaso do homem com a natureza.
- (B) panfletos informativos, de caráter injuntivo, com medidas que se devem tomar para preservar o planeta.
- (C) textos informativos e argumentativos, cujo propósito é demonstrar a importância da preservação do meio ambiente.
- (D) artigos argumentativos que denunciam a falta de vontade política de resolver o impacto das ações do homem sobre o meio ambiente, sobretudo na Amazônia.

10. No que concerne à redação oficial, é incorreto afirmar que

- (A) é imperativo recorrer a uma certa formalidade de tratamento nas comunicações oficiais.
- (B) se deve dar um tratamento impessoal aos assuntos que constam das comunicações oficiais.
- (C) os textos oficiais, por sua finalidade de informar com clareza e concisão, requerem o uso do padrão culto da língua.
- (D) se emprega Excelentíssimo Senhor, seguido do respectivo cargo, no vocativo de comunicações dirigidas a toda autoridade do Poder Público.

NOÇÕES DE INFORMÁTICA

11. No Microsoft Office Excel 2007 é possível buscar o valor contido numa célula A1, de uma planilha denominada “exemplo”, inserindo-o numa nova planilha, através da fórmula:

- (A) =exemplo!A1
- (B) =exemplo*A1
- (C) =exemplo%A1
- (D) =exemplo@A1

12. Durante a utilização do aplicativo Internet Explorer, em alguns sites é apresentada a seguinte mensagem: "Pop-up bloqueada. Além disso, para proteger sua segurança, o Internet Explorer bloqueou conteúdo adicional deste site. Clique aqui para obter opções...". Para desabilitar o "Bloqueador Pop-up", o usuário deverá desativar a opção "Bloquear Pop-ups" da caixa de diálogo "Opções da Internet", o qual é acionada através do menu:

- (A) Arquivo.
- (B) Editar.
- (C) Exibir.
- (D) Ferramentas.

13. Para alternar entre janelas de programas abertos, exibidos numa caixa de diálogo no Windows XP, é necessário pressionar as teclas:

- (A) ALT + TAB.
- (B) CTRL + DELETE.
- (C) ALT + END.
- (D) CTRL + SHIFT.

14. No Windows Explorer, quando se arrasta um arquivo para outra pasta, enquanto pressiona o botão direito do mouse, soltando-o na pasta destino, é possível visualizar num menu as possíveis opções abaixo, exceto:

- (A) Mover para cá.
- (B) Renomear aqui.
- (C) Copiar aqui.
- (D) Criar atalhos aqui.

15. O endereço de um site escrito corretamente (sintaxe) é o:

- (A) hppt://www.cosmos.site.com
- (B) http://www2.cosmos.site.com
- (C) http://www.cosmos.site.com
- (D) http://www3.cosmos.site.com

NOÇÕES DE MEIO AMBIENTE

16. O lançamento de esgotos em corpos d'água pode causar o crescimento excessivo de plantas aquáticas, em níveis tais que sejam consideradas como causadores de interferências com os usos desejáveis do corpo d'água, fenômeno conhecido como:

- (A) Decomposição.
- (B) Eutrofização.
- (C) Autodepuração.
- (D) Demanda Bioquímica de Oxigênio.

17. É considerada uma atividade de recreação de contato primário:

- (A) Esqui-aquático.
- (B) Navegação.
- (C) Latismo.
- (D) Pesca.

18. Por causar poluição de qualquer natureza em níveis tais que resultem ou possam resultar em danos à saúde humana, ou que provoquem a mortandade de animais ou a destruição significativa da flora, a pena é:

- (A) Detenção de um a três anos e multa.
- (B) Reclusão de um a quatro anos e multa.
- (C) Detenção de três meses a um ano e multa.
- (D) Reclusão de 2 (dois) a 4 (quatro) anos e multa.

19. A norma ISO 14.001 especifica

- (A) as diretrizes para Auditoria Ambiental.
- (B) os princípios para Rotulagem Ambiental.
- (C) os princípios para Análise do Ciclo de Vida.
- (D) os requisitos para um Sistema de Gestão Ambiental.

20. O Conselho Nacional do Meio Ambiente (CONAMA) tem entre suas competências:

- (A) Assessorar o Presidente da política nacional e nas diretrizes governamentais para o meio ambiente e os recursos ambientais.
- (B) Planejar, coordenar, supervisionar e controlar, a política nacional e as diretrizes governamentais fixadas para o meio ambiente.
- (C) Decidir, como última instância administrativa em grau de recurso, mediante depósito prévio, sobre as multas e outras penalidades impostas pelo IBAMA.
- (D) Executar e fazer executar a política e diretrizes governamentais fixadas para o meio ambiente.

REGIME JURÍDICO ÚNICO DOS SERVIDORES DA PMIM

21. No que concerne às formas de provimento em cargo público municipal, considere:

I. A nomeação far-se-á em caráter efetivo, quando se tratar de cargo isolado da carreira, ou em comissão, para cargos de confiança, de livre exoneração, sendo que apenas a primeira depende de prévia habilitação em concurso público de provas ou de provas e títulos.

II. A reversão consiste na reinvestidura do funcionário no cargo anteriormente ocupado ou no cargo resultante de sua transformação, quando invalidada a sua demissão por decisão administrativa ou judicial.

III. A reintegração é o retorno à atividade do funcionário aposentado por invalidez quando, por junta médica oficial, forem declarados insubsistentes os motivos determinantes da aposentadoria.

IV. A readaptação é a investidura do funcionário em cargo de atribuições e responsabilidades compatíveis com a limitação que tenha sofrido em sua capacidade física ou mental, verificada em inspeção médica.

Estão corretos os itens:

- (A) I, III e IV, somente.
- (B) I e IV, somente.
- (C) II e III, somente.
- (D) I, II, III e IV.

22. A Lei Municipal n.º 4.580/1991, do Município de Igarapé-Miri, PA, instituiu o Regime Jurídico Único (RJU) dos servidores públicos municipais. Acerca do mesmo, é correto asseverar:

- (A) Não é aplicável àqueles que detêm cargo em comissão.
- (B) É aplicável a todos os servidores públicos do Município de Igarapé-Miri, incluindo-se os de suas autarquias e os de suas fundações públicas.
- (C) Além de ser aplicável a todos os servidores públicos do Município de Igarapé-Miri, é também aplicável, de forma subsidiária, aos servidores públicos dos municípios ao entorno de Igarapé-Miri, dada a importância local do mesmo.
- (D) É apenas aplicável de forma complementar ao Regime Jurídico Único dos servidores do Estado do Pará, uma vez que o Município de Igarapé-Miri está subordinado ao Governo estadual paraense.

23. No que concerne aos direitos e vantagens do servidor municipal de Igarapé-Miri, considere:

- I. Vencimento é a retribuição pecuniária pelo exercício de cargo público, com valor fixado em lei, reajustado periodicamente de modo a preservar-lhe o poder aquisitivo, sendo vedada a sua vinculação, ressalvado o disposto na Constituição da República Federativa do Brasil.
- II. Remuneração é o vencimento no cargo, acrescido das vantagens pecuniárias, permanentes ou temporárias, estabelecidas em lei.
- III. Subsídio é o tipo de sistema remuneratório devido exclusivamente aos servidores ocupantes de cargo efetivo já aposentados.

Estão corretos os itens:

- (A) I e II, somente.
- (B) I e III, somente.
- (C) II e III, somente.
- (D) I, II e III.

24. Sobre os deveres do servidor público municipal, considere:

- I. Cumprir as ordens superiores, em qualquer circunstância, é dever do servidor público municipal.
- II. Ao servidor lhe é atribuído o dever de atender ao público em geral, prestando as informações requeridas, posto que protegidas por sigilo.
- III. O servidor não deve guardar sigilo sobre assunto da repartição, já que a Administração Municipal é pública, e seus assuntos são pertine
- IV. Deve o servidor tratar com urbanidade apenas aqueles que lhe despendem tratamento recíproco.

Estão incorretos os itens:

- (A) I, III e IV, somente.
- (B) I e IV, somente.
- (C) II e III, somente.
- (D) I, II, III e IV.

25. Ao servidor público municipal é vedado:

- (A) Cometer a outro funcionário atribuições estranhas às do cargo que ocupa, mesmo em situações transitórias de emergência.
- (B) Ausentar-se do serviço durante o expediente com prévia autorização do chefe imediato.
- (C) Promover manifestações de apreço no recinto da repartição.
- (D) Exercer qualquer outra atividade profissional, posto que seja compatível com o cargo ou função e com o horário de trabalho.

26. Acerca da acumulação de cargos públicos, assinale a alternativa correta:

- (A) Em regra, o Regime Jurídico Único dos servidores municipais de Igarapé-Miri permite a acumulação remunerada de cargos públicos.
- (B) A vedação de acumular é extensiva a cargos, empregos e funções em autarquias, fundações, empresas públicas e sociedades de economia mista pertencentes apenas ao Município de Igarapé-Miri.
- (C) No âmbito da Administração Pública Municipal de Igarapé-Miri, a acumulação é excepcionalmente permitida, desde que haja compatibilidade de horários e haja observância ao disposto na Constituição da República Federativa do Brasil.
- (D) O servidor municipal poderá exercer, no máximo, até dois cargos em comissão, desde que não seja remunerado pela participação em órgão de deliberação coletiva.

27. Não é considerada penalidade aplicável a servidores municipais de Igarapé-Miri:

- (A) Remoção.
- (B) Advertência.
- (C) Extinção de aposentadoria ou disponibilidade.
- (D) Destituição de cargo em comissão.

28. Quanto à estabilidade no serviço público municipal, e aspectos a ela atinentes, assinale a alternativa incorreta:

- (A) A estabilidade é o direito de permanência no serviço público outorgado a servidor nomeado para cargo de provimento efetivo em razão de concurso público que tenha transposto o estágio probatório e alcançado aprovação em avaliação de desempenho do órgão de pessoal do Município.
- (B) Estágio probatório é o período em que o servidor será observado pela Administração, com o objetivo de apurar sua aptidão para o exercício do cargo, mediante a verificação de certos requisitos legalmente definidos.
- (C) Caso não satisfaça as condições do estágio probatório, o servidor, além de não obter a estabilidade, será demitido de ofício.
- (D) Os requisitos para a obtenção da estabilidade são: provimento efetivo em razão de concurso público; decurso do estágio probatório; e emissão de parecer concluindo a favor da confirmação do servidor em estágio.

CONHECIMENTOS ESPECÍFICOS

29. “Ao buscar compreender as relações econômicas, políticas, sociais e suas práticas nas escalas local, regional, nacional e global, a Geografia se concentra e contribui, na realidade, para pensar o espaço enquanto uma totalidade na qual se passam todas as relações cotidianas e se estabelecem as redes sociais nas referidas escalas.”

BRASIL. Ministério da Educação. Secretaria de Educação Média e Tecnológica. Parâmetros Curriculares Nacionais, Ensino Médio. Brasília. p 310.

O texto acima está contido nos Parâmetros Curriculares Nacionais para o Ensino Médio (PCNs) no capítulo sobre os Conhecimentos de Geografia. A análise do mesmo possibilita afirmar que o ensino desta disciplina/ciência segundo este documento deve

- (A) considerar a Terra a partir da primeira natureza, destacando o estudo do espaço sem a ação do seu principal agente construtor e organizador, o homem, pois é certo que esses elementos poucas relações exercem entre si.
- (B) dar ênfase à visão substanciada na descrição e memorização dos elementos da natureza e do homem, com informações isoladas do quadro natural, do homem e as atividades por ele praticadas, sem pensar na inter-relação entre os elementos que compõem o espaço geográfico.
- (C) considerar entre seus objetivos primordiais o estudo do espaço geográfico, sem esquecer o papel que desempenha a apropriação antrópica dos lugares, haja vista que é através da organização deste espaço que os homens dão uma feição singular aos arranjos econômicos e aos valores culturais construídos ao longo do tempo, pensando o espaço no sentido mais abrangente.
- (D) dar prioridade a transmissão de conteúdos profundos sem preocupação da aquisição e desenvolvimento de habilidades e competências, pois a Geografia deve considerar os novos desafios que se impõe ao homem contemporâneo, entre eles o da aquisição cada vez maior de conhecimentos científicos, que o conduzirá à condição essencial para ser um cidadão pleno do século XXI.

30. Leia o texto abaixo:

“Como? Vocês não sabiam? Está aberta a passagem para todos os que queiram se dirigir à Berlim Ocidental”. “Com esta declaração estranhamente casual, há vinte anos, no 9 de novembro de 1989, o porta voz do governo da Alemanha Oriental anunciou a queda do Muro de Berlim. Naquela hora, encerrava-se a Guerra Fria e, (...) o curto século XX.”

Jornal Mundo: Geografia e Política Internacional. Ano 17. nº 6. outubro de 2009.

Vinte anos após o acontecimento narrado acima, são fatos a destacar no espaço geográfico mundial o (a):


- (A) plena unificação geopolítica do continente europeu, que ocorreu com a expansão da União Européia aos países do antigo “leste europeu” e também para o sul com o ingresso neste bloco dos países ibéricos, atualmente os grandes dinamos econômicos considerando o contexto continental.
- (B) desaparecimento da ordem internacional bipolar e o aparecimento da ordem unipolar organizada a partir da hegemonia dos Estados Unidos que têm resistido bravamente ao colapso financeiro global, evidenciando que o século XXI, será o “século americano”.

- (C) ascensão econômica da China, que hoje é considerada uma potência mundial, mas no início dos anos 90 do século XX seus destaques eram: seu gigantesco território, a grande população absoluta e os rescaldos das manifestações estudantis. Ressalte-se que neste período as dimensões de sua economia estavam longe do patamar de potência mundial.
- (D) ascensão geopolítica e econômica da Rússia, que passou a ter a mesma influência externa da ex URSS. Tal fato está relacionado à abundância de seus recursos energéticos, a exemplo do Petróleo, que nos dias atuais possui grande importância estratégica para os países que são grandes produtores, como é o caso deste país.

31. As imagens abaixo evidenciam aspectos diferenciados do espaço político-econômico da China. A partir da análise das mesmas, associadas aos conhecimentos sobre o atual espaço geográfico chinês, é verdadeiro afirmar que o (a)



Imagem célebre de manifestações estudantis na praça da Paz Celestial




Cartaz publicitário em Xangai, importante cidade chinesa

- (A) abertura econômica ao capital estrangeiro no país provocou mudanças no regime político adotado, antes um comunismo de partido único e nos dias atuais um socialismo pluripartidário que possibilita liberdades as manifestações populares e estudantis.
- (B) país adota um regime de partido único, com sérias restrições às liberdades individuais dos chineses, enquanto que na economia é adotado o chamado “socialismo de mercado”, que possibilitou a entrada de investimentos estrangeiros e um crescimento econômico acelerado, tornando a China uma das grandes potências do século XXI.
- (C) entrada do capital estrangeiro no país possibilitou não só um crescimento econômico acelerado mas também profundas mudanças na política interna, com introdução de um governo democrático e eleições populares para indicação dos dirigentes máximos do país, que passou a adotar um regime parlamentarista.
- (D) chamado “socialismo de mercado” é adotado apenas nas ZEEs (zonas econômicas especiais) e nas grandes cidades, a exemplo de Xangai, Hong Kong (que ainda continua sob o domínio britânico) e Pequim (capital do país) enquanto nas pequenas cidades e áreas rurais é adotado o “socialismo real”, com a presença inclusive dos famosos planos quinquenais.

32.

“O meio geográfico em via de constituição (ou de reconstituição) tem uma substância científica-tecnológica—informacional(...). A ciência, a tecnologia e a informação estão na base de todas as formas de utilização e funcionamento do espaço(...) participam da criação de novos processos(...) É a cientificização e a tecnicização da paisagem”



SANTOS, Milton. Espaço técnico tempo. Globalização e meio técnico-científico-informacional Ed Hucitec. São Paulo. 1998. p 51. www.pciconcursos.com.br

Imagem e texto acima abordam aspectos do atual meio técnico-científico-informacional, a partir da interpretação dos mesmos e dos conhecimentos geográficos, é verdadeiro afirmar que

- (A) nos dias atuais, apesar da difusão mais rápida e intensa do que em épocas anteriores, as novas variáveis deste processo se distribuem de maneira desigual na escala mundo, surgem então as desigualdades de um novo tipo, com graves conseqüências no processo produtivo, a exemplo do chamado “desemprego estrutural.”
- (B) a instantaneidade da informação globalizada aproxima os lugares, aniquila a relação tempo-espaço, criando uma relação cultural unitária na escala do planeta, fragmentando e extinguindo valores culturais de povos diversos, até mesmo aqueles que vivem nos lugares mais longínquos, ocorrendo uma total ocidentalização cultural.
- (C) o avanço se faz sentir nos setores mais diversos das atividades humanas tornando o cotidiano das sociedades contemporâneas menos difícil, uma vez que várias são as vantagens advindas do desenvolvimento informacional, melhorando inclusive a qualidade de vida de parcelas das sociedades dos países periféricos, antes excluídas desses benefícios.
- (D) há uma polarização deste meio nas áreas urbanas pois este desenvolvimento tão intenso e atual pouco chega às áreas rurais, que ficam então excluídas do processo informacional, daí a reduzida alteração que os hábitos dos homens do campo sofreram, está muito longe ainda de acontecer a chamada desruralização do meio rural.

33. Na atualidade, o uso do solo para atividades agrícolas apresenta novas nuances. A integração dos mercados através dos blocos econômicos e/ou acordos bilaterais e a diminuição do protecionismo em escala mundial aumentam a concorrência entre as grandes potências agrícolas do contexto internacional. Nesta acirrada disputa, o foco principal é o (a)

- (A) utilização cada vez mais freqüente de sementes transgênicas, fato que é aceito pela comunidade científica internacional, e pelas ONGs dos chamados grupos preservacionistas, a exemplo Greenpeace.

- (B) volta às técnicas mais conservadoras, consideradas de cunho preservacionista e ecológicas, haja vista que favorecem a conservação do solo, com vistas ao aumento da fertilidade do solo e da produção agrícola.
- (C) expansão territorial dos espaços favoráveis ao uso agrícola, com a utilização de técnicas e equipamentos modernos, objetivando o aumento da produção de gêneros alimentícios e o extermínio da fome nos países periféricos.
- (D) aumento da produtividade através do emprego de técnicas e equipamentos agrícolas modernos presentes nas várias etapas do processo produtivo, desde a manipulação genética das sementes até a comercialização dos produtos.

34. A configuração do espaço geográfico brasileiro revela significativas marcas do processo de colonização portuguesa. Neste aspecto, são fatos a destacar:

- (A) grande dinamismo industrial nas regiões Norte e Centro- Oeste, que foram as primeiras a serem ocupadas pelos colonizadores.
- (B) a existência de numerosos latifúndios, onde é praticada principalmente a monocultura, com a produção de alimentos básicos para a população.
- (C) a presença das maiores densidades populacionais na faixa litorânea, local onde se concentram importantes centros urbanos do país.
- (D) maiores adensamentos populacionais no interior se comparados as densidades demográficas da faixa litorânea.

35. Ao longo do processo de (re) organização do espaço geográfico brasileiro, o modelo de ocupação, imposto ao território, tem ocasionado sérios impactos sócio-ambientais nos diferentes domínios morfoclimáticos do país, como é o caso do(a)

- (A) intensa ação humana nas áreas do domínio do cerrado, haja vista que o cultivo de grãos, principalmente café e soja, tem contribuído significativamente para o desgaste do solo, considerado um dos mais ricos e férteis do país, não necessitando inclusive de correção ou adubação para fins agrícolas.
- (B) aumento e expansão da semi-árida do sertão”, devido a desmatamentos em determinados trechos do domínio da caatinga, caracterizado pela irregularidade das chuvas que ocasionam longos períodos de estiagem. Em alguns trechos deste domínio já ocorrem processos de desertificação.
- (C) intensa degradação da floresta no domínio amazônico, especialmente pelas populações tradicionais, quilombolas, castanheiros e seringueiros, dentre outros, que exploram intensivamente os recursos naturais, a exemplo da seringueira e castanha-do-pará, como também desmatam para a prática da pecuária intensiva objetivando à sua sobrevivência.
- (D) utilização dos campos da campanha gaúcha, na extensa área do domínio das pradarias, caracterizado pela grande biodiversidade existente, com finalidade de cultivos voltados para o comércio exterior, provocando além do comprometimento do geossistema o rápido esgotamento do solo, considerado de extrema fertilidade.

36. Vestindo a cidade com o gibão (Fragmentos)

Começa tudo na seca
Que muita fortuna faz
E enche os bolsos da beca
De político incapaz
Mas acaba com semente
Que se perdeu no chão quente
De quem já não come mais

Leia os versos acima da literatura de cordel, estes denunciam uma prática comum entre os políticos da Região Nordeste, no que se refere à seca, conhecida como

(A) Transposição do São Francisco, projeto incluído nas políticas recentes do Governo Federal e que tem ocasionado inúmeras discordâncias técnicas e políticas, bem como desvio de verbas destinadas a sua implantação.

(B) Indústria da seca, expressão que se tornou comum nos estudos geográficos da estiagem nordestina, surgida devido à má aplicação das verbas públicas destinadas à ação de estratégias minimizadoras da seca, verbas que muitas vezes abundantes, mas desviadas em prol de políticos ou protegidos destes.

(C) Polígono das secas, área afetada por longas estiagens e bastante beneficiada por verbas públicas que são aplicadas integralmente no combate a pobreza. Uma das ações mais eficientes, neste aspecto, foi a melhora significativa da qualidade de vida dos habitantes do Vale do Jequitinhonha, antes uma área de pobreza crônica.

(D) “o mal do Nordeste não é a seca, mas a cerca”, frase muito usada para caracterizar a existência de uma injusta estrutura fundiária da região, onde os latifúndios muitas vezes são propriedades de políticos influentes, tais propriedades estão concentradas principalmente no sertão.

37. Na Amazônia os primeiros núcleos urbanos surgiram ao longo dos rios e desempenhavam papel estratégico no processo de circulação de mercadorias e de pessoas, inicialmente, devido a atividades como: agricultura comercial, extrativismo vegetal e/ou mineral e exploração da borracha dentre outros. Cada uma dessas expressões econômicas fez surgir cidades ao longo dos rios. Como é o caso de

(A) Igarapé-Miri, que surgiu em função do extrativismo vegetal, exploração e aparelhamento de madeira. Atualmente, este município tem na produção e comercialização do açaí uma de suas atividades de destaque econômico.

(B) Marabá, que teve sua origem vinculada a um núcleo agrícola de grande expressão durante vários anos, hoje tem na exploração das oleaginosas, em especial a castanha-do-pará, a principal atividade do seu setor produtivo.

(C) Curionópolis, cidade situada às margens do Itacaiunas, tendo surgido ainda no século XIX, oriunda de um antigo acampamento de garimpeiros de ouro de aluvião, atividade extrativa que até hoje continua em franca ascensão

(D) Bragança, cidade situada à _____ ue surgiu devido à exploração da seringueira, seu período de maior prosperidade foi a época áurea da borracha, quando foram construídos seus belos casarões coloniais.

38. Leia o texto abaixo:

“Na planície alagada os mururés caminham lentamente, os caboclos de olhos amendoados e tez morena remam suas igarités entre as plantas aquáticas, avistando vez por outra botos, pirarucus e peixes-boi, que vem à tona para respirar. Ao largo uma densa e variada floresta. Esparsamente surgem casebres do tipo palafitas; as distâncias são imensas e muitas vezes aliadas às temperaturas elevadas e as chuvas freqüentes limitam as atividades do homem, que se acostumou a este cenário, para ele um paraíso, e que precisa ser preservado, sempre, sempre e sempre....”.

Trecho de um conto: Quero-te sempre assim. (Lenora Maria)

A partir da leitura do mesmo é verdadeiro afirmar que, no trecho transcrito, a autora

(A) refere-se à planície de várzea da floresta amazônica e a caracteriza como um espaço repulsivo, agressivo e inóspito, por causa das temperaturas elevadas e muitas chuvas, procurando confirmar a expressão usada por Ritter para designar a Amazônia :“inferno verde”.

(B) apresenta a floresta amazônica como uma paisagem vegetal de reduzida biodiversidade, embora de significativa grandiosidade devido o porte de sua vegetação, o que torna a vida humana no seu contexto praticamente impossível, daí ser um espaço de baixa densidade demográfica.

(C) refere-se à paisagem presente nas várzeas amazônicas, com destaque para a presença da floresta, que apresenta grande biodiversidade, além de destacar espécies vegetais e animais característicos do mundo amazônico, local que, embora possua algumas características adversas, é perfeitamente habitável.

(D) deixa entrever o caráter de temporalidade da floresta e do rio, limitando as ações do homem sobre o meio e tornando a vida neste espaço extremamente difícil, pois no período em que os cursos fluviais secam ou diminuem de volume há raridade de peixes para a alimentação dos varzeiros.

39. Em meados do século XIX, a economia tradicional, baseada nas “drogas do sertão” privilegiou uma delas, a borracha. Com efeito, à época, a Amazônia era o único fornecedor mundial da borracha. Durante esse período, foi utilizada, para o trabalho de exploração, a mão-de-obra indígena. Contudo, foram outros trabalhadores que sustentaram a força de trabalho deste produto. Esses trabalhadores foram denominados “soldados da borracha” e eram originários principalmente do (a)

(A) Sul/Sudeste do país, onde naquele momento ocorria uma forte expansão das atividades agroindustriais modernas com forte capitalização do setor rural, diminuindo consideravelmente as possibilidades de acesso à terra e emprego nas áreas rurais.

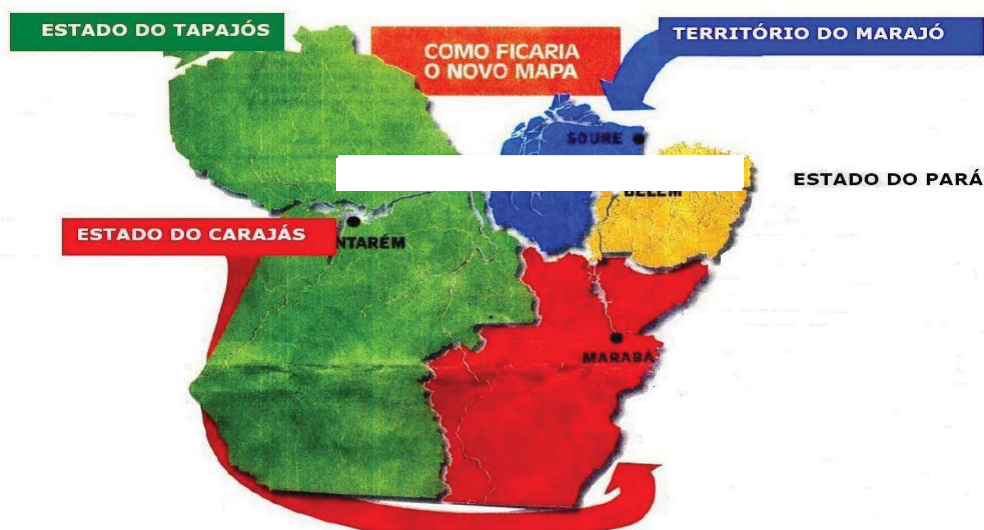
(B) Região Nordeste, onde ocorria uma prolongada estiagem que tornava difícil as possibilidades de trabalho nas áreas atingidas. Essas imigrações foram estimuladas pelo governo federal, tendo a maioria dos migrantes se fixado na porção ocidental da região, área de predomínio dos seringais nativos.

(C) Região Sul, que nesta época entrava em uma fase de estagnação econômica devido à “crise do café”, fato que se estendeu por todo o século XX abalando profundamente a economia regional que tinha neste produto sua base econômica.

(D) Região Sudeste, em especial de São Paulo, onde ocorria a falência de muitas indústrias, principalmente automobilísticas, fato relacionado à abertura econômica, tornava a região e o estado áreas de repulsão populacional.

40.

- Em vários estados do Brasil tem surgido, nos últimos anos, movimentos de criação de novas unidades políticas que constituem a mais nova tendência do federalismo brasileiro e que, sem unidade em torno das propostas de desmembramentos, torna-se difícil alcançar o objetivo, uma nova divisão territorial. No caso do Pará, uma das propostas está representada no mapa abaixo e se aprovada



(A) seriam criados dois novos estados e um território, que abrangeria os municípios da Ilha do Marajó. Nesta proposta o Pará ficaria apenas com a porção sudeste do atual estado, considerada a sub região de menor dinamismo econômico no contexto do atual estado.

(B) dos estados a serem criados, o de Carajás abrangeria terras do oeste, sudoeste e noroeste do atual estado atualmente áreas do Pará de significativo dinamismo econômico. Este espaço atravessa uma fase de expansão das fronteiras econômicas, notadamente as agro-pastoris, com destaque para o cultivo da soja.

(C) ao Pará, restariam as terras do nordeste do atual estado, Belém continuaria como capital, dada a sua estratégica localização e importância como entreposto comercial, além de ser a cidade com maior população no contexto do espaço que seria “o novo estado do Pará.”

(D) dos estados a serem criados, o de maior superfície territorial seria o do Tapajós, contendo espaços de grande importância econômica no atual contexto estadual, a exemplo das áreas dos projetos minero-metalúrgicos; atualmente neste espaço localizam-se alguns dos municípios de significativa arrecadação tributária, a exemplo de Parauapebas e Tucuruí.