

LEIA ATENTAMENTE AS INSTRUÇÕES ABAIXO

01- Você recebeu do fiscal o seguinte material:

a) Este caderno com o enunciado das 40 (quarenta) questões objetivas divididas nas seguintes sessões:

Língua Portuguesa		Conhecimentos de Informática		Conhecimentos Específicos	
Questões	Pontos	Questões	Pontos	Questões	Pontos
1 a 14	2	15 a 20	2	21 a 40	3

b) Uma (1) Folha de Respostas, destinada às respostas das questões objetivas formuladas nas provas, a ser entregue ao fiscal ao término da prova.

02- **É DE RESPONSABILIDADE DO CANDIDATO A CONFERÊNCIA DO NÚMERO DO CADERNO DE PROVA NO CARTÃO RESPOSTA.** Caso não sejam compatíveis, notifique **IMEDIATAMENTE** o fiscal.

03- Verifique se este material está em ordem (tais como se a sequência de páginas está correta e se o número de questões confere com o quadro da alínea "a" do item 1) e se o seu nome e número de inscrição conferem com os que aparecem na confirmação de inscrição. Caso contrário, notifique **IMEDIATAMENTE** o fiscal.

04- Após a conferência, o candidato deverá assinar no espaço próprio da Folha de Respostas, preferivelmente à caneta esferográfica de tinta na cor preta ou azul.

05- Tenha muito cuidado com a Folha de Respostas para não a **DOBRAR, AMASSAR** ou **MANCHAR**. A folha somente poderá ser substituída caso esteja danificada em suas margens superior ou inferior – **BARRA DE RECONHECIMENTO PARA LEITURA ÓTICA**.

06- Na Prova Objetiva, as questões são identificadas pelo número que se situa acima do enunciado.

07- Na Folha de Respostas, as mesmas estão identificadas pelo mesmo número e as alternativas estão identificadas acima da questão de cada bloco de respostas.

08- Para cada uma das questões objetivas são apresentadas 5 alternativas classificadas com as letras (A), (B), (C), (D) e (E); só uma responde adequadamente ao quesito proposto. Você só deve assinalar **UMA RESPOSTA**. A marcação de nenhuma, de mais de uma alternativa ou da rasura de qualquer natureza (borracha, corretivo, etc) anula a questão, **MESMO QUE UMA DAS RESPOSTAS SEJA A CORRETA**.

09- Na **Folha de Respostas**, a marcação das letras correspondentes às respostas certas deve ser feita cobrindo **TODO O ESPAÇO** compreendido pelo retângulo pertinente à alternativa, usando **caneta esferográfica de tinta preta ou azul**, de forma contínua e densa. A LEITORA ÓTICA é sensível a marcas escuras, portanto, preencha os campos de marcação completamente, procurando deixar menos "espaços em branco" possível dentro do retângulo, sem invadir os limites dos retângulos ao lado.

10- Será terminantemente vedado ao candidato copiar seus assinalamentos feitos na folha de respostas da prova objetiva, conforme previsto na alínea "d" do item 9.18 do edital. Ao candidato somente será permitido levar o caderno de questões da prova objetiva ao final do horário previsto para o término da prova, conforme previsto na alínea "c" do item 9.18 do edital.

11- **SERÁ ELIMINADO** do Concurso o candidato que:

a) Se utilizar, durante a realização das provas, de máquinas, relógios e/ou aparelhos de calcular, bem como rádios gravadores, fones de ouvido, telefones celulares ou fontes de consulta de qualquer espécie;

b) Se ausentar da sala em que se realizam as provas levando consigo o **Caderno de Questões e/ou a Folha de Resposta**.

12- Reserve os 30 (trinta) minutos finais para marcar sua **Folha de Respostas**. Os rascunhos e as marcações assinaladas no Caderno de Questões **NÃO SERÃO CONSIDERADOS**.

13- Quando terminar, entregue ao fiscal o Caderno de Questões da Prova Objetiva, a Folha de Respostas da Prova Objetiva, conforme disposto na alínea "e" do item 9.18 do edital, e **ASSINE A LISTA DE PRESENÇA**.

**"Não tenhamos pressa. Mas não percamos tempo."
(José Saramago)**

◆ Língua Portuguesa ◆

Instruções: Para responder às questões 1 a 5, considere o seguinte parágrafo, que inicia o conto “A noite em que prenderam Papai Noel”, de José Eduardo Agualusa:

O velho Pascoal tinha uma barba comprida, branca, esplendorosa, que lhe caía em tumulto pelo peito. Estilo? Não: era apenas miséria. Mas foi por causa daquela barba que ele conseguiu trabalho. Por isso e por ter nascido albino, pele de osga e piscos olhinhos cor-de-rosa, sempre escondidos por detrás de uns enormes óculos escuros. Naquela época já nem pensava mais em procurar emprego, certo de que morreria em breve numa rua qualquer da cidade, mais de tristeza que de fome, pois para se alimentar bastava-lhe a sopa que todas as noites lhe dava o General, e uma ou outra côdea de pão descoberta nos contentores. À noite dormia na cervejaria, na mesa de bilhar, enrolado num cobertor, outro favor do General, e sonhava com a piscina.

Questão 01

A organização do parágrafo contém informações suficientes para se dizer que

- A) predominam os elementos dissertativos sobre os narrativos.
- B) ocorrem unicamente passagens narrativas em terceira pessoa.
- C) estão combinados elementos tipicamente narrativos e descritivos.
- D) há alternância entre as passagens narrativas e as dissertativas.
- E) existe uma descrição inicial e um trecho dissertativo posterior.

Questão 02

A primeira frase do texto fala da barba do velho Pascoal e diz que ela “lhe caía em tumulto pelo peito”. Para introduzir essa informação, o autor empregou o pronome relativo QUE. Se o trecho fosse alterado com a intenção de se empregar, dentro das normas da língua padrão, um outro pronome relativo, o resultado poderia ser o seguinte:

- A) Esta é a história de um velho chamado Pascoal, no qual a sua barba caía em tumulto pelo peito.
- B) Vou falar de um velho chamado Pascoal, de quem a barba lhe caía em tumulto pelo peito.
- C) Estou falando do velho chamado Pascoal, aquele da barba caindo em tumulto pelo peito.
- D) Conheci um velho chamado Pascoal, cuja barba lhe caía em tumulto pelo peito.
- E) Ouvei contar que um velho chamado Pascoal tinha uma barba em que tumultuava pelo peito.

Questão 03

Observe o trecho “À noite dormia na cervejaria, na mesa de bilhar, enrolado num cobertor”. Assinale a alternativa em que a proposta de inversão da ordem das palavras tem efeito estilístico, mas preserva o significado e a estrutura sintática original.

- A) Dormia num cobertor enrolado na cervejaria, à noite, na mesa de bilhar.
- B) À noite na cervejaria, enrolado na mesa de bilhar, dormia num cobertor.
- C) Enrolado num cobertor, à noite dormia na mesa de bilhar da cervejaria.
- D) Dormia à noite na mesa da cervejaria, enrolado num cobertor de bilhar.
- E) À noite, enrolado num cobertor, dormia na cervejaria, na mesa de bilhar.

Questão 04

O parágrafo de J. E. Agualusa faz uso de elementos linguísticos que constroem a coesão textual. Na frase “Mas foi por causa daquela barba que ele conseguiu trabalho”, exemplifica esse recurso

- A) o pronome pessoal “ele”, que faz referência ao velho Pascoal.
- B) o demonstrativo “aquela”, que evita a repetição da palavra “barba”.
- C) a forma verbal “foi”, que indica uma ação transcorrida no passado.
- D) o conectivo “que”, pronome relativo com antecedente implícito.
- E) o substantivo “trabalho”, sinônimo de “emprego remunerado”.

Questão 05

No trecho “para se alimentar bastava-lhe a sopa que todas as noites lhe dava o General”, o pronome LHE está empregado duas vezes, sendo correto afirmar que

- A) retoma a significação de velho Pascoal apenas na segunda passagem.
- B) retoma a significação de velho Pascoal apenas na primeira passagem.
- C) atua como um complemento verbal apenas ao lado do verbo bastar.
- D) desempenha a mesma função textual e gramatical nas duas ocorrências.
- E) atua como um complemento verbal apenas ao lado do verbo dar.

Instruções: Para responder às questões 6 a 10, considere o seguinte texto, transcrito da coluna do Jornal do Brasil, que noticia lançamentos de discos. A nota comenta o CD “DE BEM COM A VIDA”, de Alberto Rosenblit:

Autor de trilhas sonoras de novelas e minisséries globais – boa parte do clima bossanovista do Leblon de Manoel Carlos se deve a ele – Alberto Rosenblit reúne, em seu segundo disco, nomes como Ney Matogrosso, Ivan Lins, Zélia Duncan e Lenine nos vocais. A canção *Leblon*, parceria com Costa Netto, abre o disco em clima solar; a reverência à cidade e suas cores segue em *Beco das Garrafas*, *Pixinguinha morreu de rir* (ambas com Paulinho Tapajós) e *Esprei* (com Joyce).

Questão 06

Observando-se a relação entre letras e fonemas das palavras empregadas no texto, o único dos antropônimos abaixo que contém um número maior de grafemas do que de fonemas é

- A) Tapajós.
- B) Lenine.
- C) Alberto.
- D) Joyce.
- E) Pixinguinha.

Questão 07

Ao classificar o clima das novelas de Manoel Carlos como “bossanovista”, o jornalista fez uso do mesmo processo de formação de palavras que ocorre em

- A) passatempo.
- B) delicadeza.
- C) gelo-baiano.
- D) pré-vestibular.
- E) microrregião.

Questão 08

O emprego de travessões e de parênteses na matéria do jornal tem a seguinte finalidade textual:

- A) destacar passagens que se intercalam na estrutura frasal.
- B) disfarçar a extensão dos períodos e das orações.
- C) ironizar o conteúdo dos próprios segmentos separados.
- D) inserir comentários do redator no enunciado.
- E) substituir vírgulas que estariam mal empregadas.

Questão 09

Ao escrever que “Alberto Rosenblit reúne nomes como Ney Matogrosso, Ivan Lins, Zélia Duncan e Lenine nos vocais”, o autor do texto empregou um verbo que tem a mesma transitividade utilizada em

- A) O Rio de Janeiro acolherá atletas de todo o mundo no evento marcado para 2016.
- B) A candidatura da cidade do Rio de Janeiro mostrou ao mundo as maravilhas cariocas.
- C) Os atletas brasileiros unirão sua qualidade técnica ao amor pela cidade-sede.
- D) Todos os níveis governamentais atuaram harmônica e conjuntamente no projeto.
- E) A medalha de ouro dos esportes coletivos dará uma alegria especial aos torcedores.

Questão 10

O acento indicativo de crase empregado em “a reverência à cidade e suas cores” está corretamente mantido na seguinte reescritura do trecho:

- A) a reverência à esta cidade e à sua coloração.
- B) a reverência à nossa cidade e às suas cores.
- C) a reverência à nossa cidade e à seu colorido.
- D) a reverência à nossa cidade e à esta coloração.
- E) a reverência à esta cidade e à suas cores.

Para responder às questões 11 a 14, considere a letra da canção “Dom João”, de Octavio Burnier e Reinaldo Pimenta:

Deus salve Dom João!
Sete cavaleiros perguntaram por quê,
Sete navegantes perguntaram pra quê
E sete corvos responderam nunca mais.
Sete corvos rindo: nunca mais.

Deus salve Dom João!
Sete cavaleiros responderam talvez,
Sete navegantes responderam depois
E sete corvos responderam nunca mais.
Sete corvos rindo: nunca mais.

Nas memórias, nos corações,
Beijos do mesmo amor.
Nas bocas dos canhões,
Morrem gritos de sangue e dor.

Salve o rei e sua espada cega e gentil!
Salve o rei e o meu silêncio valendo ouro,
Seu tesouro, meu azar.
Meu desdouro, seu tesouro, azar.
Meu azar de ouro, seu bazar.
Meu agouro ouro, seu azar.

Questão 11

O eu poético da canção emprega a primeira pessoa do singular apenas na última estrofe, mas se percebe a subjetividade do texto desde o início da canção pelo uso de alguns recursos linguísticos, como

- A) o paralelismo das rimas oxítonas.
- B) o ponto de exclamação e a interjeição.
- C) o campo semântico dos verbos.
- D) a insistência na numerologia.
- E) o tom interrogativo indireto.

Questão 12

Na estrofe final da canção, observa-se a exploração da camada sonora das palavras, sendo correto afirmar que

- A) a expressividade dos versos se constrói a partir da seleção de palavras com o mesmo ditongo e com a mesma consoante.
- B) o conteúdo temático dos versos se afasta da mensagem das estrofes anteriores por necessidade estilística.
- C) o subjetivismo do pronome possessivo faz um contraponto semântico com os substantivos paroxítonos do trecho.
- D) a repetição da rima e dos possessivos serve de sustentação para o hermetismo da mensagem principal da canção.
- E) a antítese entre palavras como tesouro e bazar atua como reforço da dualidade entre os possessivos meu e seu.

Questão 13

As duas primeiras estrofes se valem de verbos, substantivos e expressões adverbiais de mesmo tipo, mostrando um paralelismo sintático e semântico que atua na construção do sentido.

Qual das descrições abaixo interpreta corretamente esse recurso?

- A) A citação aos sete cavaleiros e aos sete navegantes tem valor irônico, pois suas perguntas e respostas são antagônicas e estão contrapostas retoricamente à resposta vaga e taxativa dos sete corvos.
- B) A indicação dos sete cavaleiros e dos sete navegantes tem valor afetivo, pois suas perguntas e respostas são simbólicas e estão expressamente contrapostas à resposta inútil e enigmática dos sete corvos.
- C) A referência aos sete cavaleiros e aos sete navegantes tem valor simbólico, pois suas perguntas e respostas são contraditórias e estão contrapostas argumentativamente à resposta metafórica e autoritária dos sete corvos.
- D) A participação dos sete cavaleiros e dos sete navegantes tem valor literário, pois suas perguntas e respostas são românticas e estão contrapostas veladamente à resposta argumentativa e indiscutível dos sete corvos.
- E) A menção aos sete cavaleiros e aos sete navegantes tem valor retórico, pois suas perguntas e respostas são vagas e estão contrapostas ironicamente à resposta negativa e taxativa dos sete corvos.

Questão 14

Se considerarmos o contexto em que as palavras “cavaleiros” e “navegantes” estão empregadas, vamos reconhecer que ambas fazem parte do mesmo campo semântico de “rei”. No entanto, se as considerarmos isoladamente, desvinculadas do contexto da letra de “Dom João”, será correto dizer que “navegante” pode servir como hiperônimo para os seguintes hipônimos:

- A) navegador, nauta, desbravador.
- B) navio, navegação, navegável.
- C) marinheiro, pescador, barqueiro.
- D) circunvagante, fustigante, fatigante.
- E) ressaca, maresia, tsunâmi.

◆ Conhecimentos de Informática◆Questão 15

No sistema operacional Microsoft Windows, que tecla, pressionada junto com a tecla Ctrl, executa um atalho para a operação de abrir o menu Iniciar?

- A) O
- B) A
- C) Esc
- D) V
- E) Tab

Questão 16

No programa Microsoft Word, que extensão de arquivo identifica um arquivo de modelo, que define a estrutura básica para um documento do Word?

- A) .xml
- B) .pdf
- C) .rtf
- D) .mht
- E) .dot

Questão 17

Ao formatar parágrafo usando o processador de texto BOffice Writer, que tipo de alinhamento de parágrafo NÃO É SUPORTADO pelo programa?

- A) Centro
- B) Direita
- C) Esquerda
- D) Automático
- E) Justificado

Questão 18

Considere uma planilha eletrônica (Microsoft Excel ou BOffice Calc) com os seguintes valores numéricos armazenados, respectivamente, nas células: A1=4, A2=3, A3=2, A4=2. Se a célula A5 contiver a fórmula =A1+A2*A3^A4, então o valor calculado na célula A5 será

- A) 16
- B) 28
- C) 40
- D) 100
- E) 196

Questão 19

Protocolos são usados em ambientes de redes, para estabelecer a comunicação entre computadores, através de um conjunto de regras e convenções. Qual a função do protocolo FTP?

- A) Transferência de arquivos.
- B) Recebimento de mensagens.
- C) Filtro de mensagens indesejadas (SPAM).
- D) Envio de mensagens.
- E) Armazenamento de endereços eletrônicos.

Questão 20

Qual a finalidade da tecla de função F1 no programa de navegação Microsoft Internet Explorer?

- A) Ir para a home page.
- B) Exibir a ajuda.
- C) Alternar modo de exibição.
- D) Atualizar a página atual.
- E) Parar o download de uma página.

◆ Conhecimentos Específicos ◆Questão 21

Calcular o valor de b para que o polinômio $P(x) = x^3 + bx - 2x + 3$ seja divisível por $(x - 1)$.

- A) -2 .
- B) 2 .
- C) 1 .
- D) -1 .
- E) 3 .

Questão 22

Calcular o volume de um cone cuja altura e a geratriz medem, respectivamente, 4 cm e 5 cm.

- A) $12\pi \text{ cm}^3$.
- B) $9\pi \text{ cm}^3$.
- C) $3\pi \text{ cm}^3$.
- D) $36\pi \text{ cm}^3$.
- E) $4\pi \text{ cm}^3$.




Questão 23

Calcular a soma e o produto das raízes da equação $3x^2 - 2x - 1 = 0$.

- A) $\frac{2}{3}; -\frac{1}{3}$.
- B) $\frac{2}{3}; \frac{1}{3}$.
- C) $-\frac{2}{3}; -\frac{1}{3}$.
- D) $-\frac{2}{3}; \frac{1}{3}$.
- E) $\frac{2}{3}; 1$.

Questão 24

As seguintes informações se referem ao Microsoft Word 2007, versão em Português:

1. o ícone na barra de ferramentas  mostra marcas de parágrafos ocultos e outros símbolos de formatação ocultos.
2. o ícone  na barra de ferramentas corresponde a Ctrl+Shift+C nas teclas de atalho.
3. o ícone  na barra de ferramentas corresponde a nas teclas de atalho Ctrl+B.

Marque a resposta certa.

- A) Somente a afirmativa 1 está certa.
- B) Somente a afirmativa 2 está certa.
- C) Somente as afirmativas 1 e 3 estão certas.
- D) Somente as afirmativas 1 e 2 estão certas.
- E) Todas as afirmativas estão certas.

Questão 25

Marque a resposta certa.

No Microsoft Word 2007, versão em Português, para se ter acesso à edição de texto no rodapé do documento se deve clicar na barra de menus em

- A) editar.
- B) exibir.
- C) formatar.
- D) inserir.
- E) arquivo.

Questão 26

Marque a resposta certa.

No Microsoft Excel, versão 2007 em Português, todas as fórmulas começam com o caractere

- A) +
- B) %
- C) =
- D) \$
- E) !

Questão 27

Se na célula E1 da Figura for escrita a expressão =SOMA(B1+D1), terá como resultado o valor

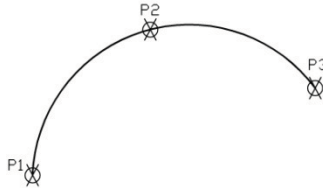
	A	B	C	D	E
1	2	1	7	5	

- A) 15.
- B) 13.
- C) 12.
- D) 6.
- E) 5.

Questão 28

Para desenhar o arco mostrado na Figura usando o AUTOCAD, escolhendo-se as opções default se tem a sequência de comandos:

1. Menu de barras/Draw/Arc/3 Points.
2. _arc Specify start point of arc or (C Enter): P1.
3. Specify second point: P2.
4. Specify end point or arc: P3.



Marque a resposta certa.

- A) O item 3 não está correto, não sendo possível desenhar o arco desse modo.
- B) O item 2 não está correto, não sendo possível desenhar o arco desse modo.
- C) A sequência especificada não permite desenhar o arco no AUTOCAD.
- D) Os itens 2 e 3 devem ser trocados na sequência de comandos para que seja possível traçar o arco da Figura.
- E) A sequência especificada está correta.

Questão 29

Marque a resposta certa

No AUTOCAD para se construir um bloco,

- A) deve-se usar somente o comando Block.
- B) é possível usar os comandos Bmake e Wblock.
- C) não é necessária a marcação de um ponto fixo para a inserção do bloco no desenho.
- D) não se pode inserir um bloco na construção de outro bloco.
- E) deve-se usar o comando Block seguido do comando Dtext.

Questão 30

O rumo magnético de uma linha ab foi registrado com $43^{\circ} 30' \text{SE}$ há anos. Se a declinação magnética atual é $3^{\circ} 00'$, qual é o rumo magnético dessa linha hoje?

- A) $38^{\circ} 30' \text{SE}$.
- B) $41^{\circ} 30' \text{SE}$.
- C) $38^{\circ} 30' \text{NE}$.
- D) $41^{\circ} 30' \text{NE}$.
- E) $18^{\circ} 30' \text{SE}$.

Questão 31

Calcular o raio de curvatura com base no arco de uma curva com grau de curvatura igual a 1° .

- A) 1.245,32 m.
- B) 1.145,92 m.
- C) 1.031,21 m.
- D) 1.345,21 m.
- E) 1.082,47 m.

Questão 32

Para uma curva circular horizontal o ponto de interseção está na estaca 64+6,4 m, o ângulo de interseção é igual a $arc\ tg\ 0,2126$ e o grau de curvatura é igual a $4^{\circ} 00'$. Calcular a tangente externa à curva.

- A) 55,36 m.
- B) 60,91 m.
- C) 39,47 m.
- D) 72,25 m.
- E) 69,91 m.

Questão 33

Para uma carta cuja escala original era de 1:30.000 foi digitalizada com resolução de 200 dpi (ponto por polegada). Calcular a dimensão de cada pixel (ponto).

- A) 150 polegadas.
- B) 2,18 m.
- C) 3,81 m.
- D) 3,00 polegadas.
- E) 4,22 m.

Questão 34

Calcular o tamanho do arquivo em pixels (pontos) dispostos nas linhas e colunas de uma imagem, impresso com a resolução de 200 dpi (pontos por polegada), numa folha A4 (21,0 cm por 29,7 cm).

- A) 4.200 pixels de largura por 5.940 pixels de altura.
- B) 2.100 pixels de largura por 2.970 pixels de altura.
- C) 5.940 pixels de largura por 4.200 pixels de altura.
- D) 1.654 pixels de largura por 2.339 pixels de altura.
- E) 2.339 pixels de largura por 1.654 pixels de altura.

Questão 35

A projeção utilizada no Sistema USTM – Universal Transversa de Mercator é usada na produção de cartas topográficas do Sistema Cartográfico Nacional do IBGE, e tem como características

1. o mundo é dividido em 60 fusos, onde cada um se estende por 6° de longitude.
2. os fusos são numerados de um a sessenta começando no fuso 180° a 174° W Gr e continuando para este.
3. o quadriculado UTM está associado ao sistema de coordenadas esféricas do elipsóide de referência.

Marque a resposta certa.

- A) Somente as afirmativas 1 e 3 estão certas.
- B) Somente as afirmativas 2 e 3 estão certas.
- C) Somente a afirmativa 1 está certa.
- D) Somente as afirmativas 1 e 2 estão certas.
- E) Somente a afirmativa 2 está certa.

Questão 36

O processo de mapeamento geotécnico tem diversos usos e ocupações específicas, podendo-se afirmar corretamente que

- A) para avaliação ambiental, as cartas e mapas são elaborados em escalas que variam de 1:100.000 até 1:500.
- B) nos inventários e estudos de viabilidade, os mapas e cartas são elaborados em escalas que variam de 1:5.000 a 1:10.000.
- C) para o estudo de viabilidade de obras longitudinais (estradas), em geral, se elaboram mapas e cartas no máximo na escala 1:10.000.
- D) nos projetos, os documentos cartográficos resultantes do mapeamento geotécnico devem ser elaborados em escalas menores que 1:50.000.
- E) os documentos cartográficos produzidos a partir de mapeamento geotécnico não podem ser utilizados em monitoramento de uma atividade antrópica.

Questão 37

A longitude geográfica é o arco contado sobre o Equador e que vai de Greenwich até o meridiano do referido lugar, sendo correto afirmar que a longitude varia de

- A) 0° a 180° W Gr. ou 0° a $+180^\circ$.
- B) 0° a 180° W Gr. e 0° a 180° E Gr.
- C) 0° a 180° E Gr. ou 0° a -180° .
- D) 0° a 90° N ou 0° a $+90^\circ$.
- E) 0° a 90° S ou 0° a -90° .

Questão 38

A representação cartográfica por imagem pode ser em

1. mosaico que é o conjunto de fotos de uma determinada área, recortadas e montadas técnica e artisticamente, de forma a dar impressão de que todo o conjunto é uma única fotografia.
2. fotocarta que é um mosaico controlado, mas sem a realização de um tratamento planimétrico.
3. carta Imagem que é uma imagem referenciada a partir de pontos identificáveis e com coordenadas conhecidas, superpostas por reticulados de projeção.

Marque a resposta certa.

- A) Somente a afirmativa 1 está certa.
- B) Somente as afirmativas 1 e 3 estão certas.
- C) Somente a afirmativa 2 está certa.
- D) Somente a afirmativa 3 está certa.
- E) Todas as afirmativas estão certas.

Questão 39

Em relação a uma escala numérica é correto afirmar que

- A) em uma carta na escala 1:25.000 se tem que 1 cm na carta representa 25 m no terreno.
- B) a escala 1:50.000 é menor que a escala 1:100.000.
- C) a escala é a razão existente entre as dimensões das linhas de um desenho e suas homógrafas.
- D) a precisão gráfica é a maior grandeza medida no terreno capaz de ser representada em desenho por meio de uma escala.
- E) a escala será tanto maior quanto menor for o seu denominador.

Questão 40

Em relação aos atributos das cartas geotécnicas derivadas, pode-se afirmar corretamente que em uma carta de

- A) potencial de materiais geológicos para construção civil se deve ter um zoneamento geral, sem áreas delimitadas.
- B) inventário não pode ser utilizada para avaliações temporais, mesmo que seus registros sejam atuais.
- C) de fundações as legendas trazem informações pragmáticas e paramétricas, para cada unidade, considerando os tipos de fundações.
- D) de escoamento superficial e infiltração não pode ser utilizada na elaboração de outras cartas de níveis hierárquicos mais complexos.
- E) projeto para estradas não deve conter as informações da legenda em forma de matriz.