

CONCURSO PÚBLICO

**1**

**1. PROVA OBJETIVA**

Agente de Segurança Penitenciária de Classe I – Sexo Feminino  
Agente de Segurança Penitenciária de Classe I – Sexo Masculino

INSTRUÇÕES

- ❖ VOCÊ RECEBEU SUA FOLHA DE RESPOSTAS E ESTE CADERNO CONTENDO 50 QUESTÕES OBJETIVAS.
- ❖ CONFIRA A VERSÃO DE SEU CADERNO COM A VERSÃO CONSTANTE NA ETIQUETA DA SUA CARTEIRA.
- ❖ CONFIRA SEU NOME E NÚMERO DE INSCRIÇÃO IMPRESSOS NA CAPA DESTE CADERNO.
- ❖ LEIA CUIDADOSAMENTE AS QUESTÕES E ESCOLHA A RESPOSTA QUE VOCÊ CONSIDERA CORRETA.
- ❖ ASSINE A FOLHA DE RESPOSTAS COM CANETA DE TINTA AZUL OU PRETA E TRANSCREVA PARA ESSA FOLHA, TAMBÉM COM CANETA DE TINTA AZUL OU PRETA, TODAS AS RESPOSTAS ESCOLHIDAS.
- ❖ RESPONDA A TODAS AS QUESTÕES.
- ❖ A DURAÇÃO DA PROVA É DE 3 HORAS.
- ❖ A SAÍDA DO CANDIDATO DA SALA SERÁ PERMITIDA APÓS TRANSCORRIDA A METADE DO TEMPO DE DURAÇÃO DA PROVA OBJETIVA.
- ❖ AO SAIR, VOCÊ ENTREGARÁ AO FISCAL A FOLHA DE RESPOSTAS E LEVARÁ ESTE CADERNO.

AGUARDE A ORDEM DO FISCAL PARA ABRIR ESTE CADERNO DE QUESTÕES.



## LÍNGUA PORTUGUESA

Para responder às questões de números **01** a **06**, leia o texto de Carlos Heitor Cony.

### *A justiça como é feita*

RIO DE JANEIRO – Um filme de André Cayatte (“*Justice est faite*”) conta a história de um réu acusado de um crime. Ele alega inocência, o juiz fica em dúvida e, na dúvida, não o condena à morte, mas à prisão por oito anos. Cayatte, que além de cineasta era advogado militante, termina entrando na história com o seguinte comentário: “Se o réu é culpado, a pena foi pouca. Se o réu é inocente, a pena foi muita. De qualquer forma, a justiça dos homens foi feita”.

(Folha de S.Paulo, 05.03.2009)

- 01.** Ao se deparar com a dúvida, o juiz
- (A) omite-se de suas obrigações.
  - (B) prescreve uma pena mais severa.
  - (C) deixa de fazer a justiça dos homens.
  - (D) não deixa que ela o perturbe.
  - (E) opta por uma sentença mais branda.
- 02.** O comentário de Cayatte deixa evidente que
- (A) o juiz não se influenciou pela alegação de inocência do réu, o que lhe permitiu ser justo, independentemente da justiça dos homens.
  - (B) a decisão do juiz se baseia na justiça dos homens, que nem sempre pode refletir a verdade de uma situação.
  - (C) a ponderação do juiz poderia ser de forma menos emotiva, caso ele conhecesse, de fato, a justiça dos homens.
  - (D) a pena que o juiz aplicou ao réu revela sua fraqueza na hora de decidir, já que abriu mão da justiça dos homens.
  - (E) o juiz prescreveu uma pena muito maior do que o réu merecia, pelo fato de não se ater à justiça dos homens.

Para responder às questões de números **03** e **04**, considere a frase – Cayatte, que além de cineasta era advogado militante... –

- 03.** Com a frase, entende-se que Cayatte
- (A) um dia foi advogado.
  - (B) tinha vontade de ser cineasta.
  - (C) era cineasta e advogado.
  - (D) deixou de ser advogado.
  - (E) era mais do que cineasta e advogado.
- 04.** O termo *militante* significa
- (A) atuante.
  - (B) revolucionário.
  - (C) omissivo.
  - (D) militar.
  - (E) poderoso.

- 05.** No comentário de Cayatte – “Se o réu é culpado, a pena foi pouca. Se o réu é inocente, a pena foi muita.” – as orações iniciadas pela conjunção *Se* expressam sentido de
- (A) conclusão.
  - (B) consequência.
  - (C) conformidade.
  - (D) condição.
  - (E) concessão.
- 06.** Assinale a alternativa correta quanto ao emprego de parônimos.
- (A) O juiz agiu com *descrição*, para não tornar evidente a sua dúvida.
  - (B) O réu se disse inocente, e foi *fragrante* a dúvida do juiz.
  - (C) O réu foi *descriminado* da acusação pelo habilidoso juiz.
  - (D) O réu teve sua pena de oito anos proferida pelo *iminente* juiz.
  - (E) O réu ficou feliz: o juiz *diferiu* sentença favorável a sua absolvição.

As questões de números **07** a **12** baseiam-se na charge a seguir.



(Gazeta do Povo, online, 05.03.2009)

- 07.** O personagem que vive no mundo do crime
- (A) tem medo das pessoas que se arriscam na criminalidade.
  - (B) considera muito perigosa a vida na criminalidade.
  - (C) acredita que, em breve, deixará a criminalidade.
  - (D) revela intenção de manter-se na criminalidade.
  - (E) afirma, na verdade, ter abandonado a criminalidade.
- 08.** Quando diz – ... *juro que nunca mais eu assalto!* – o personagem está se expressando com
- (A) ódio.
  - (B) vergonha.
  - (C) carinho.
  - (D) obstinação.
  - (E) ironia.

09. A segunda fala da mulher revela que ela
- (A) discorda do tipo de vida do rapaz.
  - (B) se sente ameaçada pelo rapaz.
  - (C) tem orgulho do tipo de vida do rapaz.
  - (D) vive com satisfação ao lado do rapaz.
  - (E) intimida o rapaz para que mude de vida.
10. Com o verbo no futuro, a frase – *Eu vou andar 10 km...* – deve ser reescrita da seguinte forma:
- (A) Eu andava 10 km.
  - (B) Eu andarei 10 km.
  - (C) Eu tenho andado 10 km.
  - (D) Eu ando 10 km.
  - (E) Eu andara 10 km.
11. Considere as afirmações.
- I. Na frase do personagem – ... *se eu encontrar um policial ...* – a palavra *policial* é um substantivo. Porém, na frase – *Mais adiante, há posto policial.* – essa mesma palavra tem valor adjetivo.
  - II. As palavras *anzol* e *azul* fazem o plural da mesma forma que *policial*.
  - III. O advérbio *nunca* é indicativo de causa.
- Está correto apenas o que se afirma em
- (A) I.
  - (B) II.
  - (C) III.
  - (D) I e II.
  - (E) I e III.
12. Na primeira frase do primeiro quadrinho, a expressão *dessa vida* está empregada em sentido \_\_\_\_\_, sugerindo um modo de vida \_\_\_\_\_.
- Os espaços da frase devem ser preenchidos, correta e respectivamente, com
- (A) figurado ... em desarmonia com os padrões sociais
  - (B) próprio ... desejável para a sociedade moderna
  - (C) figurado ... condizente com a lei e a ordem social
  - (D) próprio ... ilegal e pouco desejável socialmente
  - (E) figurado ... honesto e amparado pela lei

Leia o texto para responder às questões de números 13 a 19.

*Livres, anônimos e abandonados*

Fazendo um retrospecto na história, encontramos que a primeira instituição com caráter de atendimento à infância tenha nascido na Itália e se expandido por toda Europa e posteriormente no Brasil. Chamava-se “Roda dos Expostos” e recebia essa denominação porque em sua entrada havia um dispositivo que se encaixava em um eixo giratório. Sua função era dar anonimato ao abandono de crianças. Para “expor” uma criança bastava colocá-la dentro da caixa, girá-la a 180° e apertar a campainha. Do outro lado ficava o funcionário para receber a criança abandonada. Nenhuma das identidades era revelada. Esta era uma instituição do tipo total, pois as crianças passavam tempo integral de suas vidas e tinham nela seu único abrigo. No Brasil, esse tipo de instituição chegou por volta de 1726 e esteve em vigor até 1950.

A partir de 1935, a Casa de Expostos de São Paulo, localizada no bairro do Pacaembu, passou a ser conhecida como Asilo Sampaio Vieira. Posteriormente, essa instituição passou a se denominar Educandário Sampaio Vieira, depois Casa da Criança do Serviço Social de Menores, e por fim, constituiu-se como a Unidade de Triagem Sampaio Viana (UT-1), da FEBEM-SP, que atendia crianças do sexo masculino e feminino, de até seis anos e onze meses.

(Sociologia: ciência&vida, ano II, número 17. Adaptado)

13. De acordo com o texto, uma família que “expunha” uma criança na Roda
- (A) adotava-a.
  - (B) recebia-a.
  - (C) resgatava-a.
  - (D) emprestava-a.
  - (E) abandonava-a.
14. Segundo as informações do texto, a caixa giratória era um expediente da Roda que
- (A) permitia ao funcionário conhecer os pais das crianças.
  - (B) garantia a integridade física do funcionário.
  - (C) preservava a identidade das pessoas.
  - (D) expunha aos doadores o funcionário do local.
  - (E) punha em risco a integridade física e emocional da criança.
15. No título do texto, os termos estão flexionados, concordando gramaticalmente com
- (A) crianças.
  - (B) expostos.
  - (C) nós (adultos e crianças).
  - (D) identidades.
  - (E) funcionário e instituição.

16. Em – *Posteriormente, essa instituição passou a se denominar Educandário Sampaio Vieira...* – o advérbio *Posteriormente* indica \_\_\_\_\_ e seu antônimo é \_\_\_\_\_.

Os espaços da frase devem ser preenchidos, correta e respectivamente, com

- (A) modo ... antigamente
  - (B) tempo ... anteriormente
  - (C) afirmação ... concomitantemente
  - (D) tempo ... após
  - (E) modo ... raramente
17. Assinale a alternativa correta quanto à pontuação.
- (A) A Casa de Expostos de São Paulo a partir de 1935, passou a ser conhecida como Asilo Sampaio Vieira.
  - (B) A Casa de Expostos de São Paulo, passou a ser conhecida como Asilo Sampaio Vieira a partir de 1935.
  - (C) A Casa de Expostos de São Paulo, passou a ser conhecida como Asilo Sampaio Vieira, a partir de 1935.
  - (D) A Casa de Expostos de São Paulo, a partir de 1935, passou a ser conhecida como Asilo Sampaio Vieira.
  - (E) A Casa de Expostos de São Paulo passou a partir de 1935, a ser conhecida como Asilo Sampaio Vieira.

18. Mantendo-se o mesmo modo e tempo verbal, a oração – *Nenhuma das identidades era revelada.* – pode ser reescrita da seguinte forma:

- (A) Não se tem revelado nenhuma das identidades.
- (B) Não se revelou as identidades nenhuma.
- (C) Não revelarão nenhuma das identidades.
- (D) Não são reveladas nenhuma das identidades.
- (E) Não revelavam nenhuma das identidades.

19. Analise as afirmações.

- I. Em – ... *localizada no bairro do Pacaembu...* – se o termo *localizada* for substituído por *próxima*, haverá alteração da regência, devendo-se empregar *ao* no lugar de *no*.
- II. Em – ... *que atendia crianças do sexo masculino e feminino...* – a forma verbal pode ser substituída por *cuidava*, sem alteração da regência verbal.
- III. Em – ... *que atendia crianças do sexo masculino e feminino...* – *atendia* pode ser substituído, sem prejuízo de sentido, por *assistia*, devendo-se substituir *crianças* por *à crianças*.

Está correto apenas o que se afirma em

- (A) I.
- (B) II.
- (C) III.
- (D) I e II.
- (E) I e III.

As questões de números 20 a 25 baseiam-se no texto de Ruy Castro.

*O caso da coxinha envenenada*

RIO DE JANEIRO – Na semana passada, em Conchal (172 km de São Paulo), uma mulher serviu um prato de coxinhas ao marido. Este salivou profusamente e atacou uma delas com disposição. Mas, na primeira engolida, sentiu um gosto estranho e comentou que o quitute não estava nos padrões a que ela o acostumara. A mulher deu um sorriso amarelo e disse que devia ser a pimentado-reino.

O homem fez “Grmf!” e repassou as coxinhas a seu cachorro, que o olhava com ar súplice, debaixo da mesa. O animal, fraco em etiqueta e de paladar menos sofisticado, devorou a porção quase de uma bocado. Ato contínuo, deu um ganido grosso, irreal, como se dublasse a si mesmo, revirou os olhos e estatelou-se, morto, na sala.

Desconfiado, o marido correu para o pronto-socorro, onde o velho clister entrou em ação. Diante da suspeita de envenenamento, a mulher confessou tudo ao delegado. Tinha desviado R\$ 15 mil da conta de ambos e temia que ele descobrisse.

(Folha de S.Paulo, 11.03.2009)

20. De acordo com o texto, o homem

- (A) foi ao pronto-socorro porque começou a passar mal depois de ingerir as coxinhas feitas pela mulher.
- (B) decidiu dar as coxinhas ao cachorro porque tinha certeza de que a mulher pretendia envenená-lo.
- (C) só achou que havia algo errado com as coxinhas depois que seu cachorro as comeu e morreu.
- (D) aproveitou as coxinhas do prato para livrar-se do importuno cão, que estava debaixo da mesa.
- (E) comeu as coxinhas para poder desmascarar a mulher, que o roubara e queria eliminá-lo.

21. O cachorro olhava seu dono *com olhar súplice*. Isso significa que o animal

- (A) sentia-se desprezado.
- (B) esperava receber alimento.
- (C) era bastante perigoso.
- (D) olhava o dono com desdém.
- (E) aparentava estar doente.

22. Na frase – ... *e atacou uma delas com disposição.* – a preposição *com* forma uma expressão indicativa de

- (A) conformidade.
- (B) comparação.
- (C) causa.
- (D) modo.
- (E) consequência.

23. Assinale a alternativa correta quanto à concordância nominal.

- (A) O cão, com bem menos sofisticação no gosto do que o dono, comeu todas as coxinhas.
- (B) O marido e o cachorro foram vítima da mulher, que queria esconder suas falcatruas.
- (C) O cachorro morreu e seu dono quase, porque a mulher lhes serviu coxinhas envenenada.
- (D) A mulher temia que o marido soubesse que R\$ 15 mil foram desviado da conta de ambos.
- (E) A mulher, meia apavorada com a suspeita de envenenamento, contou tudo ao delegado.

Nas questões de números 24 e 25, indique a alternativa que completa, correta e respectivamente, os espaços da frase.

24. O marido se pôs \_\_\_\_\_ comer as coxinhas, sentiu um gosto estranho e disse \_\_\_\_\_ mulher que elas estavam fora de seu padrão culinário. Ela, então, respondeu que era devido \_\_\_\_\_ pimenta do reino.

- (A) à ... a ... a
- (B) a ... a ... a
- (C) a ... à ... à
- (D) à ... à ... à
- (E) a ... a ... à

25. Quando \_\_\_\_\_ em perigo, o marido foi ao pronto-socorro. Com a suspeita de envenenamento, o delegado interrogou a mulher e ela não \_\_\_\_\_ nada.

- (A) viu se ... omitiu-lhe
- (B) viu-se ... omitiu-lhe
- (C) se viu ... o omitiu
- (D) si viu ... omitiu-o
- (E) se viu ... lhe omitiu

## MATEMÁTICA

26. Uma nova penitenciária foi projetada para acomodar 400 detentos em duas alas, sendo que a capacidade da ala maior corresponde a  $\frac{5}{3}$  da capacidade da ala menor. A ala maior foi projetada para acomodar

- (A) 150 detentos.
- (B) 180 detentos.
- (C) 240 detentos.
- (D) 250 detentos.
- (E) 280 detentos.

27. Três agentes penitenciários fazem rondas noturnas em um determinado presídio. O primeiro tem que acionar o relógio de controle a cada 36 minutos; o segundo, a cada 24 minutos, e o terceiro, a cada 18 minutos. Dessa maneira, pode-se afirmar que eles acionam simultaneamente o relógio de controle a cada

- (A) 1 h 24 min.
- (B) 1 h 18 min.
- (C) 1 h 12 min.
- (D) 1 h 06 min.
- (E) 1 h.

28. Trezentos detentos foram transferidos de um presídio superlotado e distribuídos em outras duas penitenciárias, em quantidades diretamente proporcionais ao número de vagas disponíveis em cada uma. Se a penitenciária A tinha 420 vagas disponíveis e se a penitenciária B recebeu 100 detentos, então o número de vagas disponíveis na penitenciária B era

- (A) 230.
- (B) 210.
- (C) 200.
- (D) 180.
- (E) 170.

29. Quatro agentes penitenciários fizeram um determinado número total de horas extras no último mês. Sabe-se que Luís fez  $\frac{1}{5}$  desse total, que Mário fez o triplo de Luís, que João fez  $\frac{1}{3}$  do que Luís fez e que Otávio fez 5 horas extras. Pode-se concluir, então, que o número de horas extras que Mário fez nesse mês foi

- (A) 2,5.
- (B) 7,5.
- (C) 15,5.
- (D) 22,5.
- (E) 37,5.

30. O instrutor do curso de formação de agentes penitenciários constatou que a média aritmética das 5 melhores notas obtidas no curso foi igual a 8,6 e que se ele incluísse também a 6.<sup>a</sup> melhor nota no cálculo, a média cairia para 8,4. Assim, pode-se afirmar que a 6.<sup>a</sup> melhor nota desse curso foi

- (A) 8,2.
- (B) 7,8.
- (C) 7,4.
- (D) 7,1.
- (E) 6,9.

31. Um determinado presídio abriga um total de 376 detentos em 72 celas. Sabe-se que uma parte dessas celas abriga 4 detentos por cela, e que a outra parte abriga 6 detentos por cela. O número de celas com 4 detentos é igual a

- (A) 46.
- (B) 42.
- (C) 30.
- (D) 28.
- (E) 24.

32. A tabela mostra a lotação máxima e o respectivo percentual de ocupação de três novos presídios construídos no interior:

Presídio	Lotação Máxima	% de Ocupação
A	300 detentos	80%
B	500 detentos	60%
C	400 detentos	x %

Sabendo-se que os três presídios juntos abrigam um total de 800 detentos, pode-se afirmar que a porcentagem de ocupação do presídio C é

- (A) 85%.
- (B) 80%.
- (C) 75%.
- (D) 70%.
- (E) 65%.

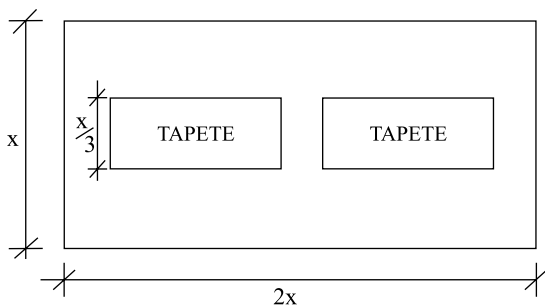
33. Em um presídio há 400 detentos, sendo 240 no setor X e 160 no setor Y. Para realizar atividades na oficina de artes, o total de detentos foi dividido em grupos com o mesmo número de integrantes, sendo esse número o maior possível, sem deixar nenhum detento de fora e sem misturar os detentos dos dois setores. Dessa forma, foram formados

- (A) 5 grupos.
- (B) 8 grupos.
- (C) 10 grupos.
- (D) 12 grupos.
- (E) 13 grupos.

34. Na oficina de trabalhos manuais, uma equipe de detentos realizou  $\frac{2}{5}$  de um trabalho em 8 dias, trabalhando 6 horas por dia. Mantendo a mesma produtividade por hora e trabalhando 2 horas a mais por dia, essa mesma equipe terminará o projeto em mais

- (A) 8 dias.
- (B) 9 dias.
- (C) 10 dias.
- (D) 11 dias.
- (E) 12 dias.

35. No piso de um salão retangular, com área de  $72 \text{ m}^2$ , foram colocados dois tapetes iguais também retangulares que, juntos, ocupam 25% da área total do piso, conforme mostra a figura, cujas dimensões estão em metros. Pode-se concluir que a medida do lado maior de cada tapete é

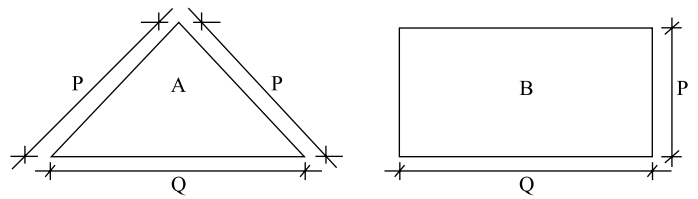


- (A) 5,5 m.
- (B) 5,0 m.
- (C) 4,5 m.
- (D) 4,0 m.
- (E) 3,5 m.

36. Um investidor aplicou R\$ 25.000,00 no sistema de juro simples durante 8 meses e recebeu, ao final da aplicação, um montante de R\$ 27.500,00. A taxa anual de juro simples dessa aplicação foi igual a

- (A) 22%.
- (B) 20%.
- (C) 18%.
- (D) 16%.
- (E) 15%.

37. Uma penitenciária tem dois pátios para banhos de sol. O pátio A é triangular e o pátio B é retangular, conforme mostram as figuras, cujas dimensões estão em metros. Sabendo-se que os perímetros dos pátios A e B somam 68 metros, e que  $Q = 1,5 P$ , pode-se afirmar que a área do pátio B é igual a



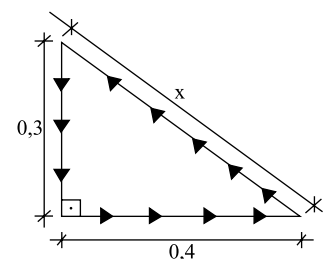
- (A)  $96 \text{ m}^2$ .
- (B)  $90 \text{ m}^2$ .
- (C)  $84 \text{ m}^2$ .
- (D)  $82 \text{ m}^2$ .
- (E)  $80 \text{ m}^2$ .

38. Um electricista usou 60% de um rolo de fio de cobre para fazer uma determinada ligação. Em seguida, usou 25% da quantidade de fio que restou no rolo para fazer 10 ligações iguais, utilizando 80 cm de fio em cada uma. Esse rolo tinha, inicialmente, uma quantidade de fio igual a

- (A) 94 m.
- (B) 80 m.
- (C) 66 m.
- (D) 40 m.
- (E) 32 m.

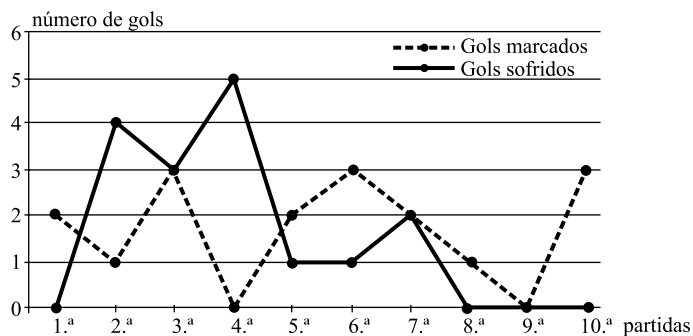
39. No seu treinamento diário, um atleta percorre várias vezes o trajeto indicado na figura, cujas dimensões estão em quilômetros. Dessa maneira, pode-se afirmar que a cada volta nesse trajeto ele percorre

- (A) 1200 m.
- (B) 1400 m.
- (C) 1500 m.
- (D) 1600 m.
- (E) 1800 m.





40. O gráfico mostra os gols marcados e os gols sofridos pela equipe P nas 10 partidas do campeonato interno de futebol de um presídio. Analisando-se esse gráfico, é correto afirmar que, nesse campeonato, a equipe P



- (A) teve somente dois empates.  
 (B) não sofreu gols somente em 3 partidas.  
 (C) teve mais derrotas do que empates.  
 (D) marcou 2 gols a mais que o adversário somente na 6.ª partida.  
 (E) marcou, em média, 1,7 gol por partida.

## RASCUNHO

## ATUALIDADES

41. A operação Satiagraha continua a gerar polêmica. A mídia demonstrou que tal operação, desenvolvida pela Polícia Federal, serviu de fachada para o funcionamento de uma máquina ilegal de espionagem de políticos. Porém, o objetivo oficial anunciado pela Polícia Federal para o seu desencadeamento foi desmontar
- (A) a corrupção na comissão de infraestrutura do Senado Federal, que envolve senadores e funcionários públicos.  
 (B) o esquema de desvio de verbas públicas, corrupção e lavagem de dinheiro que tinha no banqueiro Daniel Dantas um de seus elos centrais.  
 (C) o jogo do bicho no país, que funciona como uma verdadeira máfia que opera por intermédio da corrupção e do crime organizado.  
 (D) uma rede de pedofilia montada principalmente em cidades do interior do país, como Catanduva, em São Paulo.  
 (E) o esquema de corrupção do poder judiciário montado por juízes e promotores, que liberavam prisioneiros mediante o pagamento de propinas.

42. Leia o texto.

*Menina de nove anos grávida de gêmeos  
é submetida a aborto no Recife*

A menina de 09 anos, que teria sido estuprada e estava grávida de gêmeos, foi submetida a um aborto na Maternidade Encruzilhada, da Universidade Estadual de Pernambuco, na manhã desta quarta-feira. O principal suspeito da polícia para o estupro é o padrasto da criança, Jailson José da Silva, de 23 anos, que está preso.

(Último Segundo, Portal IG. 04.03.2009)

O fato deixou a sociedade brasileira perplexa. Ainda, as declarações de Dom José Cardoso Sobrinho, arcebispo de Olinda e Recife, trouxeram mais polêmica ao lamentável acontecimento. Segundo o arcebispo,

- (A) os adultos envolvidos no aborto, especialmente os médicos que promoveram a intervenção cirúrgica, devem ser excomungados pela Igreja.  
 (B) o autor do estupro, isto é, o padrasto da menina, deve ser sumariamente condenado à pena de morte.  
 (C) as leis do país são muito condescendentes com esse tipo de criminoso e deixam as mulheres completamente indefesas.  
 (D) os meios de comunicação estimulam atos como esse, dessa forma, faz-se necessário implantar a censura no país.  
 (E) o Vaticano deveria ser mais rígido em sua defesa contra o aborto, pois a sua omissão nesse assunto é a causa de fatos como o ocorrido em Pernambuco.

43. O caso Cesare Battisti ganhou grande repercussão na mídia nacional e internacional. O italiano é acusado, na Itália, de cometer uma série de crimes. Após passar um período na França, fugiu para o Brasil. Assinale a alternativa que aponta corretamente as posições do governo brasileiro e italiano sobre o caso.

- (A) Os dois governos chegaram a uma conclusão consensual sobre o caso, isto é, solicitar ao Tribunal de Haia para que esse decida o destino de Cesare Battisti.
- (B) Os dois governos fizeram um acordo que tem, como ponto principal, o fato de Cesare Battisti ser julgado segundo as leis brasileiras e cumprir a pena em seu país de origem, isto é, a Itália.
- (C) Como os dois governos não chegaram a um acordo, elegeram os Estados Unidos como mediador e, portanto, caberá ao governo norte-americano a decisão sobre o caso Cesare Battisti.
- (D) O governo brasileiro, por intermédio do Ministério da Justiça, concedeu a Cesare Battisti a condição de refugiado político, mas o governo italiano protestou e recorreu ao Supremo Tribunal Federal do Brasil.
- (E) O governo italiano concordou com a posição do governo brasileiro, mas exige que Cesare Battisti preste depoimentos para a justiça italiana e revele o nome dos companheiros que o ajudaram a cometer os crimes.

44. A música é uma das principais formas de expressão social. O cinquentenário desse estilo musical mereceu ampla cobertura da mídia nacional e inúmeras homenagens como programas especiais de televisão, shows e exposições. Trata-se do estilo musical conhecido como

- (A) samba.
- (B) jovem guarda.
- (C) forró.
- (D) chorinho.
- (E) bossa nova.

45.



(www.caarapnews.com.br/userfiles/charges/chaves.jpg)

De acordo com o Conselho Nacional Eleitoral (CNE), com mais de 92% das urnas apuradas, a opção do sim obteve mais de 50% dos votos. Esse foi o resultado que consagrou a vitória do presidente venezuelano Hugo Chávez no referendo de domingo, 15 de fevereiro de 2009, e representou um importante passo para a República Bolivariana criada pelo Presidente, pois foi aprovado(a)

- (A) o direito de promover uma ampla reforma constitucional que implicará a implantação da reforma agrária no país.
- (B) a nacionalização de prospecção de petróleo, que promoverá o crescimento das exportações e do Produto Interno Bruto (PIB) venezuelano.
- (C) a emenda constitucional que coloca fim ao limite para a reeleição aos cargos públicos, inclusive o de Presidente da República.
- (D) a implantação das reformas econômicas, como a estatização dos bancos, que permitirão à Venezuela superar a crise financeira que atinge o mercado internacional.
- (E) a entrada da Venezuela no MERCOSUL, fato que impulsionará o seu comércio com os países que compõem esse bloco regional.

46. A ex-primeira-dama e ex-senadora norte-americana Hillary Clinton é a grande estrela da equipe de governo do Presidente Barack Obama. Ela é a responsável pela gestão

- (A) do Banco Central.
- (B) da área de saúde.
- (C) da política econômica.
- (D) da política fiscal.
- (E) da política externa.

47. O importante economista Paul Krugman apresenta e explica as origens da crise que atinge a economia mundial, desde o segundo semestre de 2008, a partir das seguintes causas:
- O estouro da bolha imobiliária que provocou uma epidemia de calotes e hipotecas. Esse fato, por sua vez, levou os títulos ancorados em tais hipotecas a perder grande parte de seu valor.
  - Essa perda de valor fez com que muitas instituições financeiras terminassem com pouco capital. Este é um problema particularmente sério porque todas se endividaram muito no período da bolha imobiliária.
  - Como as instituições financeiras têm muito pouco capital em relação a suas dívidas, elas não têm conseguido fornecer o crédito de que a economia precisa.
  - Para pagar suas dívidas, essas instituições estão vendendo os seus papéis, incluindo os títulos ancorados em hipotecas, o que empurra ainda mais para baixo seu preço, consequentemente desvalorizando suas reservas. É um ciclo vicioso.
- A partir das causas apontadas por Paul Krugman, é correto concluir que
- o segmento imobiliário agiu com a segurança necessária para evitar que a crise financeira atingisse o setor.
  - as instituições financeiras, apesar da queda das bolsas de valores, estão capitalizadas e preparadas para resistir à crise.
  - a crise econômica e financeira não tem origens claras, pois foi um fenômeno natural cujas causas não podem ser detectadas.
  - os setores imobiliários e financeiros foram negligentes, não avaliaram os riscos e não fizeram o planejamento necessário para enfrentar a inadimplência e a falta de crédito.
  - o Estado foi o responsável pela origem da crise, pois fiscalizou em excesso o setor financeiro, impedindo o funcionamento do livre mercado.
48. O resgate de Ingrid Betancourt foi um dos acontecimentos mais marcantes do 2.º semestre de 2008. Após passar anos no cativeiro, Ingrid foi libertada pelo exército colombiano. A ex-candidata à presidência da Colômbia foi sequestrada
- pelas Forças Armadas Revolucionárias da Colômbia (FARC) por motivos políticos.
  - pelo grupo guerrilheiro Sendero Luminoso por motivos ideológicos.
  - pelo governo do Equador que reivindica uma parte do território colombiano.
  - por criminosos comuns que exigiam um vultoso resgate sem qualquer motivação ideológica.
  - por grupos paramilitares de direita que atuam na Colômbia e recebem o apoio de Cuba para derrubar o governo do presidente Álvaro Uribe.
49. Leia as afirmações sobre o conflito na Faixa de Gaza entre o Hamas e Israel, ocorrido no início de 2009.
- As autoridades israelenses defenderam que a ação era necessária para forçar a interrupção dos ataques de foguetes, a partir de Gaza, contra as cidades do sul de Israel.
  - Os líderes do Hamas acusam o governo de Israel de cometer um genocídio, dizendo serem alvo de um ataque injustificado.
  - O presidente G. W. Bush, em final de mandato, recriminou a ação de Israel e defendeu o imediato reconhecimento da Palestina como um Estado soberano e independente.
  - O governo do Egito foi um dos principais mediadores da tentativa de negociações e da paz entre o Hamas e Israel.
- Está correto o contido em
- I e II, apenas.
  - III e IV, apenas.
  - I, II e IV, apenas.
  - II e III, apenas.
  - I, II, III e IV.
50. O cenário internacional assiste à ascensão do poder de novos Estados. A cerimônia do Oscar 2009, por exemplo, trouxe algumas novidades nesse contexto: a consagração do cinema indiano que conquistou importantes prêmios como, por exemplo, a cobiçada estatueta de melhor filme. Trata-se da película
- O Estranho Caso de Benjamin Button.
  - Quem quer ser um milionário?
  - O Cavaleiro das Trevas.
  - O leitor.
  - O lutador.

