



# CONCURSO PÚBLICO

## MUNICÍPIO DE SÃO GONÇALO DO RIO ABAIXO/MG



**EDITAL Nº. 001/2009**

### INSTRUÇÕES

- 01 - Material a ser utilizado: caneta esferográfica azul ou preta. Os objetos restantes devem ser colocados em local indicado pelo fiscal da sala, inclusive aparelho celular desligado e devidamente identificado com etiqueta.
- 02 - Não é permitido consulta, utilização de livros, códigos, dicionários, apontamentos, apostilas, calculadoras e etc. Não é permitido ao candidato ingressar na sala de provas sem a respectiva identificação e o devido recolhimento de telefone celular, bip e outros aparelhos eletrônicos.
- 03 - Durante a prova, o candidato não deve levantar-se, comunicar-se com outros candidatos e nem fumar.
- 04 - A duração da prova é de 03 (três) horas, já incluindo o tempo destinado à entrega do Caderno de Provas e à identificação – que será feita no decorrer da prova – e ao preenchimento da Folha de Respostas (Gabarito).
- 05 - Somente em caso de urgência pedir ao fiscal para ir ao sanitário, devendo no percurso permanecer absolutamente calado, podendo antes e depois da entrada sofrer revista através de detector de metais. Ao sair da sala no término da prova, o candidato não poderá utilizar o sanitário. Caso ocorra uma emergência, o fiscal deverá ser comunicado.
- 06 - O Caderno de Provas consta de 40 (quarenta) questões de múltipla escolha. Leia-o atentamente.
- 07 - As questões das provas objetivas são do tipo múltipla escolha, com 05 (cinco) opções (A a E) e uma única resposta correta.**
- 08 - Ao terminar a conferência do Caderno de Provas, caso o mesmo esteja incompleto ou tenha qualquer imperfeição, o candidato deverá solicitar ao fiscal de sala que o substitua, não cabendo reclamações posteriores neste sentido.
- 09 - Os fiscais não estão autorizados a emitir opinião e prestar esclarecimentos sobre o conteúdo das provas. Cabe única e exclusivamente ao candidato interpretar e decidir.
- 10 - O candidato poderá retirar-se do local de realização das provas levando o Caderno de Provas, no decurso dos últimos 30 (trinta) minutos anteriores ao horário previsto para o seu término. O candidato poderá retirar-se do local de provas somente a partir dos 90 (noventa) minutos, após o início de sua realização, contudo não poderá levar consigo o Caderno de Provas.
- 11- Os 3 (três) últimos candidatos de cada sala somente poderão sair juntos. Caso o candidato insista em sair do local de aplicação da prova, deverá assinar um termo desistindo do Concurso Público e, caso se negue, deverá ser lavrado o Termo de Ocorrência, testemunhado pelos 2 (dois) outros candidatos, pelo fiscal da sala e pelo coordenador da unidade escolar.


### RESULTADOS E RECURSOS

- Os gabaritos oficiais preliminares das provas objetivas serão divulgados na Internet, no site [www.idecan.org.br](http://www.idecan.org.br), às **16h00min do dia subsequente ao da realização da prova escrita.**
- Os recursos deverão ser apresentados, conforme determinado no **item 8 do Edital nº. 001/2009**, sendo observados os seguintes aspectos:
- a) O candidato que desejar interpor recursos contra os gabaritos oficiais preliminares das provas objetivas disporá de **02 (dois) dias úteis**, a partir da divulgação, em requerimento próprio disponibilizado no link correlato ao Concurso Público no site [www.idecan.org.br](http://www.idecan.org.br).
- b) A interposição de recursos poderá ser feita **somente via Internet**, através do **Sistema Eletrônico de Interposição de Recursos**, com acesso pelo candidato com o fornecimento de dados referente à inscrição do candidato, apenas no prazo recursal ao **IDECAN**, conforme disposições contidas no site [www.idecan.org.br](http://www.idecan.org.br), no link correspondente ao Concurso Público.



C  
A  
D  
E  
R  
N  
O  
D  
E  
P  
R  
O  
V  
A  
S

TEXTO I:



01) De acordo com o texto, marque **V** para as afirmativas verdadeiras e **F** para as falsas:

- ( ) O Cebolinha tem medo de chuva.  
 ( ) O Cascão mandou fazer um guarda-chuva especial.  
 ( ) O Cascão não tem mais medo de chuva.

A sequência está correta em:

- A) F, V, V      B) V, V, V      C) V, F, V      D) V, F, F      E) F, V, F

02) Os principais personagens do texto são:

- A) Tina e Cascão.      D) Cebolinha e Mônica.  
 B) Cebolinha e Cascão.      E) Cascão e Magali.  
 C) Mônica e Magali.

03) O texto I trata-se de:

- A) Amigo de infância do Cascão.      D) Brinquedo que o cebolinha ganhou de presente.  
 B) Banho de chuva do Cascão.      E) Nenhuma das alternativas anteriores.  
 C) Guarda-chuva especial do Cascão.

04) Em “Onde está ele?” foi utilizado o seguinte sinal de pontuação:

- A) Travessão.      D) Ponto de interrogação.  
 B) Ponto de exclamação.      E) Reticências.  
 C) Ponto final.

05) Assinale abaixo, a palavra que se encontra no diminutivo:

- A) Chuva.      B) Cebolinha.      C) Cascão.      D) Medo.      E) Momento.

06) Encontra-se no feminino, a seguinte palavra:

- A) Não.      B) Chuva.      C) Medo.      D) Guarda-chuva.      E) Ele.

07) De acordo com o texto I, o guarda-chuva é:

- A) Pequeno.      B) Especial.      C) Azul.      D) Pesado.      E) Simples.

TEXTO II:



08) De acordo com o texto II, o assobio da Mônica é muito:

- A) Fraco.      D) Exagerado.  
 B) Alto.      E) Nenhuma das alternativas anteriores.  
 C) Forte.

09) Para assobiar mais alto, de acordo com o texto II, é necessário:

- A) Assobiar forte. D) Esperar e assobiar novamente.  
B) Gritar. E) Ser amigo do Cebolinha.  
C) Subir em uma escada.

10) “O meu assobio é muito fraco.” A palavra sublinhada possui o mesmo significado que:

- A) Moderado. D) Com excesso ou abundância.  
B) Que se pode mover. E) Exprime saudação.  
C) Súdito ou soberano.

11) Em “Cebolinha, o meu assobio é muito fraco!” foi utilizado o seguinte sinal de pontuação:

- A) Ponto de interrogação. D) Travessão.  
B) Ponto de exclamação. E) Reticências.  
C) Ponto final.

12) Assinale a relação de diminutivos que se apresenta INCORRETA:

- A) fraco / fraquinho D) escada / escadazinha  
B) cebola / cebolinha E) assobio / assobiozinho  
C) pouco / pouquinho

13) NÃO se encontra no plural, a seguinte palavra:

- A) Assobios. B) Mais. C) Altos. D) Fracos. E) Poucos.

14) “O meu assobio é muito fraco.” Assinale a palavra que apresenta sentido contrário ao da palavra destacada:

- A) Pequeno. B) Forte, intenso. C) Fino. D) Frágil. E) Baixo.

15) Assinale uma palavra que se encontra no masculino:

- A) Mônica. B) Fraca. C) Assobio. D) Escada. E) Alta.

### MATEMÁTICA

16) Num curral, havia 3 cavalos e 2 éguas. Durante a manhã, entraram mais 2 cavalos e no período da tarde, 3 éguas. Quantos animais há dentro do curral?

- A) 11 B) 10 C) 9 D) 12 E) 8

17) Paulo comprou para seus sobrinhos 4 sorvetes de chocolate, 1 de maracujá e 3 de limão. Quantos sorvetes Paulo comprou?

- A) 13 B) 8 C) 12 D) 9 E) 7

18) Ana tem 18 anos e sua irmã Angélica, tem 7 anos. Quantos anos Ana é mais velha que Angélica?

- A) 10 B) 9 C) 6 D) 11 E) 8

19) Luís tem 18 selos para distribuir igualmente entre 3 amigos. Quantos selos receberá cada amigo?

- A) 8 B) 6 C) 9 D) 7 E) 5

20) Ricardo subiu 14 degraus de uma escada e Helena subiu a metade. Quantos degraus Helena subiu?

- A) 9 B) 8 C) 10 D) 6 E) 7

21) Um micro-ônibus tem 8 metros de comprimento. Quantos metros têm 5 micro-ônibus juntos?

- A) 32m B) 40m C) 48m D) 24m E) 63m

22) Um cano de 20 metros de comprimento é dividido em 4 partes iguais. Qual é o comprimento de cada parte?

- A) 5m B) 4m C) 6m D) 8m E) 9m

23) Márcia acorda às 7 horas para ir trabalhar e Marcos acorda 2 horas mais tarde. A que horas Marcos acorda?

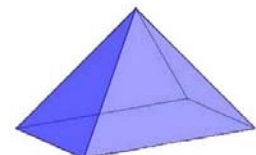
- A) 6 horas. B) 5 horas. C) 11 horas. D) 9 horas. E) 8 horas.

24) Para fazer um churrasco, comprei 16 quilos de carne de vaca e 12 quilos de carne de porco. Quantos quilos de carne comprei?


- A) 25kg B) 28kg C) 30kg D) 24kg E) 18kg

25) Observe a figura espacial apresentada e assinale a alternativa correspondente:

- A) Cubo.  
B) Pirâmide.  
C) Paralelepípedo.  
D) Cone.  
E) Esfera.



**CONCURSO PÚBLICO – MUNICÍPIO DE SÃO GONÇALO DO RIO ABAIXO/MG**

- 26) 15 pessoas vão fazer uma viagem de carro. Em um carro cabem 5 pessoas. Quantos carros serão utilizados?  
A) 3                      B) 5                      C) 6                      D) 2                      E) 4
- 27) Marta comprou uma borracha por R\$0,80 e um lápis por R\$0,90. Quanto Marta gastou?  
A) R\$1,90              B) R\$1,70              C) R\$1,60              D) R\$2,10              E) R\$1,80
- 28) Observe a figura plana apresentada e assinale a alternativa correspondente:  
A) Paralelogramo.  
B) Círculo.  
C) Losango.  
D) Triângulo.  
E) Quadrado.
- 
- 29) Paula fez 3 dúzias de brigadeiros. Já comi meia dúzia. Quantos brigadeiros ainda restam?  
A) 24                      B) 30                      C) 18                      D) 36                      E) 12
- 30) Num aquário havia 23 peixinhos. Morreram 12. Quantos peixinhos sobraram?  
A) 12                      B) 11                      C) 14                      D) 13                      E) 15

**CONHECIMENTOS GERAIS**

- 31) Assinale o país em que acontecerá os jogos da Copa do Mundo, deste ano:  
A) Estados Unidos.                      D) África do Sul.  
B) Japão.                                      E) Brasil.  
C) Espanha.
- 32) Foi premiado com o Nobel da Paz, no ano de 2009:  
A) Dilma Rousseff.                      D) Lula.  
B) Barack Obama.                        E) Bill Clinton.  
C) George Clooney.
- 33) Assinale o nome do filme brasileiro, inspirado na trajetória do atual presidente do país, Luiz Inácio Lula da Silva:  
A) Lula, o nosso presidente.              D) Brasil brasileiro.  
B) O presidente do Brasil.                E) Nenhuma das alternativas anteriores.  
C) Lula, o filho do Brasil.
- 34) NÃO faz parte da região sudeste brasileira:  
A) Rio de Janeiro.                              D) Paraná.  
B) São Paulo.                                    E) Minas Gerais.  
C) Espírito Santo.
- 35) A luxuosa pousada Sankay foi soterrada, na primeira madrugada de 2010, devido aos deslizamentos de terra que provocaram muitas mortes. Tal fato, ocorreu no seguinte município:  
A) Búzios.                                        D) Cabo Frio.  
B) Angra dos Reis.                            E) Maratáizes.  
C) Niterói.

**CONHECIMENTOS LOCAIS**

- 36) O município de São Gonçalo do Rio Abaixo encontra-se localizado na seguinte região brasileira:  
A) Sul.                      B) Nordeste.                      C) Sudeste.                      D) Centro-oeste.                      E) Norte.
- 37) Assinale uma comunidade do município de São Gonçalo do Rio Abaixo:  
A) Vitória.                      B) Una.                      C) São Paulo.                      D) Ivaí.                      E) Vargem.
- 38) O município de São Gonçalo do Rio Abaixo é banhado pelo seguinte rio:  
A) Urucuia.                      B) Itapecerica.                      C) Verde Grande.                      D) Mucuri.                      E) Santa Bárbara.
- 39) É um município vizinho ao município de São Gonçalo do Rio Abaixo:  
A) Itabira.                      B) Coroaci.                      C) Jequeri.                      D) Albertina.                      E) Papagaios.
- 40) No município de São Gonçalo do Rio Abaixo, destaca-se como cultura, o cultivo de:  
A) Laranja.                      B) Feijão.                      C) Melão.                      D) Soja.                      E) Repolho.

