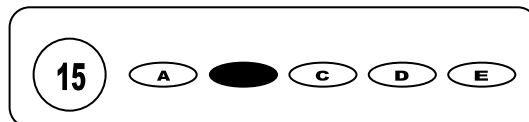




Cargo: Motorista "B"

CONCURSO PÚBLICO 01/2009 PREFEITURA MUNICIPAL DE MESSIAS

- Para fazer a prova você usará este caderno e um cartão-resposta.
- Verifique, no caderno de provas, se faltam folhas, se a seqüência de questões no total de **30 (trinta)**, está correta e se há imperfeições gráficas que possam causar dúvidas. Comunique, imediatamente, ao fiscal qualquer irregularidade.
- O cartão resposta é o documento único e final para correção eletrônica. Não amasse, não dobre, não rasure o seu cartão resposta.
- A adequada marcação deverá ser feita com caneta esferográfica de tinta **azul ou preta**, é de inteira responsabilidade do candidato, sendo este o documento válido para a correção das questões da prova.
- Para cada questão são apresentadas **5 (cinco)** alternativas diferentes de respostas (**A, B, C, D e E**). Apenas **uma** delas constitui a resposta **correta** em relação ao enunciado da questão.
- Suponha que a questão nº 15 tenha a resposta B como correta.
 - Veja como marcar esta resposta.



- Deve-se estar atento para:
- Não rasurar o cartão resposta, pois não será fornecido outro cartão
- Não escrever no verso do cartão resposta
- Preencher completamente o espaço reservado a marcação da resposta correta
- Caso realmente precise, utilize como rascunho os espaços em branco no verso de suas folhas de prova;
- Considerar-se-á excluído do processo seletivo do concurso o candidato que:
- Tornar-se culpado de incorreções ou descortesia com qualquer membro da equipe encarregada da realização da prova;
- For surpreendido, durante a aplicação das provas, em comunicação com outro candidato, verbalmente, por escrito, ou por qualquer outra forma;
- For apanhado em flagrante, utilizando-se de qualquer meio, na tentativa de burlar a prova, ou for responsável por falsa identificação pessoal;
- Ausentar-se da sala de prova, antes da entrega do cartão de resposta e de assinar a ata de presença;
- Recusar-se a proceder a identificação de seu cartão resposta, devidamente assinado no espaço próprio.
- Aos fiscais não existe a autorização para emissão de esclarecimentos sobre o conteúdo das provas. Sendo esta atribuição de única e exclusiva responsabilidade do candidato.

BOA SORTE

1. O artigo 308 do Código de Trânsito Brasileiro, afirma que, "participar, na direção de veículo automotor, em via pública, de corrida, disputa ou competição automobilística não autorizada pela autoridade competente, desde que resulte dano potencial à incolumidade pública ou privada" receberá como pena:

- detenção, de seis meses a dois anos, multa e suspensão ou proibição de se obter a permissão ou a habilitação para dirigir veículo automotor.
- detenção, de sete meses a dois anos, multa e suspensão ou proibição de se obter a permissão ou a habilitação para dirigir veículo automotor.
- detenção, de oito meses a dois anos, multa e suspensão ou proibição de se obter a permissão ou a habilitação para dirigir veículo automotor.
- detenção, de seis meses a dois anos, multa.
- detenção, de um a dois anos, multa e suspensão ou proibição de se obter a permissão ou a habilitação para dirigir veículo automotor.

2. A placa de indicação  refere-se à:


- Sinal de posicionamento de localidade
- Uma placa de localização
- Sinal de pré-indicação de Direção e Sentido para Saídas
- Sinal de pré-indicação
- Sinal de indicação de direção

3. "a engrenagem cujos dentes são dispostos em ângulo, representando a figura de um segmento de cone, com isso permitindo mudança de direção do movimento quando engrenada com outra de mesmo tipo". Esse texto refere-se à:

- Engrenagem intermediária
- Engrenagem helicoidal
- Engrenagem cilíndrica
- Engrenagem cônica
- Engrenagem hipóide

4. O artigo 151 do Código de Trânsito Brasileiro dispõe que:

- No caso de reprovação no exame escrito sobre legislação de trânsito ou de direção veicular, o candidato só poderá repetir o exame depois de decorridos cinco dias da divulgação do resultado.
- No caso de reprovação no exame escrito sobre legislação de trânsito ou de direção veicular, o candidato só poderá repetir o exame depois de decorridos dez dias da divulgação do resultado.
- No caso de reprovação no exame escrito sobre legislação de trânsito ou de direção veicular, o candidato só poderá repetir o exame depois de decorridos quinze dias da divulgação do resultado.
- No caso de reprovação no exame escrito sobre legislação de trânsito ou de direção veicular, o candidato só poderá repetir o exame depois de decorridos vinte dias da divulgação do resultado.
- No caso de reprovação no exame escrito sobre legislação de trânsito ou de direção veicular, o candidato só poderá repetir o exame depois de decorridos trinta dias da divulgação do resultado.

5. A referida placa  indica:

- Pedestre ande pela esquerda
- Pedestre ande pela direita
- Proibido trânsito de pedestre
- Passagem de pedestre sinalizada
- Área escolar

6. A engrenagem cônica é:

- A engrenagem cujos dentes são dispostos em ângulo, representando a figura de um segmento de cone, com isso permitindo mudança de direção do movimento quando engrenada com outra de mesmo tipo.
- A engrenagem cujas ranhuras superficiais são dispostas em ângulo, representando a figura de um segmento de cone, com isso permitindo mudança de direção do movimento quando engrenada com outra de mesmo tipo.
- A engrenagem cujos filetes de zinco são dispostos em ângulo, representando a figura de um segmento de cone, com isso permitindo mudança de direção do movimento quando engrenada com outra de mesmo tipo.
- A engrenagem cujas perpendicularidades são dispostas em ângulo, representando a figura de um segmento de cone, com isso permitindo mudança de direção do movimento quando engrenada com outra de mesmo tipo.
- A rotação helicoidal anatômica cujas hastas são dispostas em ângulo, representando a figura de um segmento de cone, com isso permitindo mudança de direção do movimento quando engrenada com outra de mesmo tipo.

7. Assinale a alternativa correta quanto ao que reza o artigo 121 do Código de Trânsito Brasileiro.

- Registrado o veículo, expedir-se-á o Certificado de Registro de Veículo - CRV de acordo com os modelos e especificações estabelecidos pelo CONTRADIFE, contendo as características e condições de invulnerabilidade à falsificação e à adulteração.
- Registrado o veículo, expedir-se-á o Certificado de Registro de Veículo - CRV de acordo com os modelos e especificações estabelecidos pelo CONTRAN, contendo as características e condições de invulnerabilidade à falsificação e à adulteração.
- Registrado o veículo, expedir-se-á o Certificado de Registro de Veículo - CRV de acordo com os modelos e especificações estabelecidos pelo CIRETRAN, contendo as características e condições de invulnerabilidade à falsificação e à adulteração.
- Registrado o veículo, expedir-se-á o Certificado de Registro de Veículo - CRV de acordo com os modelos e especificações estabelecidos pelo DETRAN, contendo as características e condições de invulnerabilidade à falsificação e à adulteração.
- Registrado o veículo, expedir-se-á o Certificado de Registro de Veículo - CRV de acordo com os modelos e especificações estabelecidos pelo CENTRAN, contendo as características e condições de invulnerabilidade à falsificação e à adulteração.

8. A referida placa  indica:


- a) Comprimento máximo permitido
- b) Conserve-se à direita
- c) Proibido transito de veículos de carga
- d) Veículos lentos usem faixa da direita
- e) Peso máximo permitido

9. “É a pressão do ar contido num pneu”. O referido texto indica:

- a) Pressão atmosférica
- b) Pressão de enchimento
- c) Pressão adicional
- d) Pressão
- e) Pressão inter-multi- dimensional

10. Assinale a alternativa correta quanto ao que afirma o artigo 127 do Código de Trânsito Brasileiro.

- a) O órgão executivo de trânsito competente só efetuará a baixa do registro após prévia consulta ao cadastro do DETRAN.
- b) O órgão executivo de trânsito competente só efetuará a baixa do registro após prévia consulta ao cadastro do RENACHE.
- c) O órgão executivo de trânsito competente só efetuará a baixa do registro após prévia consulta ao cadastro do CIRETRAN.
- d) O órgão executivo de trânsito competente só efetuará a baixa do registro após prévia consulta ao cadastro do RENAVAL.
- e) O órgão executivo de trânsito competente só efetuará a baixa do registro após prévia consulta ao cadastro do CONTRAN.

11. A referida placa  indica:

- a) Alfândega
- b) Sentido obrigatório
- c) Dê a preferência
- d) Uso obrigatório de triângulo de sinalização
- e) Retorno triangular

12. A unidade de potência no sistema métrico do veículo chama-se.

- a) Força centrífuga super mecânica.
- b) Vapor de cavalo
- c) Cavalo-vapor
- d) Cilindrada
- e) Válvulas da árvore do comando

13. Assinale a alternativa correta quanto ao que afirma o artigo 110 do Código de Trânsito Brasileiro.

- a) O veículo que tiver alterada qualquer de suas características para competição ou finalidade análoga só poderá circular nas vias públicas com licença especial da autoridade de trânsito, em itinerário e horário fixados.
- b) O veículo que tiver alterada todas as suas características para competição ou finalidade análoga só poderá circular nas vias públicas com licença especial da autoridade de trânsito, em itinerário e horário fixados.
- c) O veículo que tiver alterada qualquer de suas características para competição ou finalidade análoga não poderá circular nas vias públicas.
- d) O veículo que tiver alterada qualquer de suas características para competição ou finalidade análoga só poderá circular nas vias rurais com licença especial da autoridade de trânsito, em itinerário e horário fixados.
- e) O veículo que tiver alterada qualquer de suas características para competição ou finalidade análoga poderá circular nas vias públicas com qualquer tipo de licença redigida pela autoridade municipal.

14. Passagem de nível com barreira é representada pela placa:

- a)  b)  c)  d)  e) 

15. O Monoposto defini-se como:

- a) Carro de dois lugares exclusivo para corridas
- b) Carro de um só cilindro
- c) Carro de um só cabeçote
- d) Carro de um só lugar exclusivo para corridas
- e) Carro com uma só macha exclusivo para corridas

Texto I

Sobre Saberes, Sabores e Valores

Luiz Carlos de Menezes

Do muito que se tem falado e escrito sobre os problemas da Educação em nosso país, boa parte é sobre dificuldades de professores com alunos que não aprendem o esperado. Outro dia mesmo respondi a uma longa mensagem de uma leitora sobre a dificuldade de ensinar jovens desmotivados em um contexto cultural precário. Ninguém duvida que ensinar é o principal papel da escola e, se você acompanha esta coluna, sabe que não acredito que ensinar seja apenas "transferir" uma lista de conteúdos.

Ensinar é garantir que os conhecimentos façam um sentido amplo para todos os estudantes, em sua vida para além da sala de aula, ou seja, para que possam, efetivamente, construir e promover cultura. No meu dia a dia como docente, consultor e formador de professores, tenho visto muitos bons exemplos de quem faz isso regularmente, em diferentes segmentos, regiões e condições de trabalho - gente que não vê o conhecimento como um objetivo isolado, mas o leva impregnado de vida para a sala de aula. Conto como fazem isso, como inspiração para todos.

Ao vê-los em ação, seja na periferia das grandes cidades, seja no interiorzão deste país, percebo que todos (e mais frequentemente todas...) têm em comum a habilidade de conciliar três ingredientes essenciais: saberes, sabores e valores. Os saberes são os conteúdos em si, não importam a série e a disciplina. Os sabores são as formas de despertar o gosto pelo conhecimento, envolvendo os alunos em atividades significativas. Os valores, produto desse processo, são a própria cultura que se constrói em cada turma. O termo ingrediente lembra mais preparo de alimentos do que de aulas, mas é uma boa metáfora para comparar motivação com apetite e conteúdos escolares com os de nutrição, pois cozinhar, mais do que apenas reunir nutrientes, é dar atenção ao sabor, preparar aulas, mais do que selecionar assuntos, é motivar quem vai aprender, sem o que a Educação se frustra porque não se dá o aprendizado.

16. Segundo o texto:

I - Do muito que se tem falado e escrito sobre os problemas da Educação em nosso país, boa parte é sobre dificuldades de professores apenas com alunos que não aprendem o esperado.

II - Do muito que se tem falado e escrito sobre os problemas da Educação em nosso país, boa parte é sobre dificuldades de professores com todos os alunos, visto que eles não aprendem o esperado.

III – Há um outro grupo de alunos que aprendem o esperado e com estes, os professores não têm dificuldades.

Está (ão) correta (s):

- a) Apenas I b) Apenas II c) Apenas III d) I e II apenas e) I e III apenas

17. "...se você acompanha esta coluna, sabe que não acredito que ensinar seja apenas "transferir" uma lista de conteúdos" o conectivo que inicia esse período tem valor semântico de:

- a) condição c) consequência e) conformidade
b) causa d) finalidade

18. Em "Ensinar é garantir que os conhecimentos façam um sentido amplo para todos os estudantes, em sua vida para além da sala de aula..." temos o uso de uma função da linguagem que se baseia na explicação de termos, a saber:

- a) fática c) metalinguística e) conativa
b) referencial d) denotativa

19. Usando o mesmo trecho da questão anterior, o pronome SUA é possessivo e faz referência a:

- a) vida b) sala de aula c) sentido d) estudantes e) ensinar

20. "tenho visto muitos bons exemplos de quem faz isso regularmente" A palavra destacada faz referência ao trecho:

- a) no meu dia a dia como docente, consultor e formador de professores
b) tenho visto muitos bons exemplos
c) em diferentes segmentos, regiões e condições de trabalho - gente que não vê o conhecimento como um objetivo isolado
d) mas o leva impregnado de vida para a sala de aula
e) garantir que os conhecimentos façam um sentido amplo para todos os estudantes, em sua vida para além da sala de aula

21. Uma gráfica imprime 2.500 livros em 15 dias. O gerente da gráfica comprou mais uma máquina e agora, em 30 dias, a gráfica imprime 6.250 livros. Podemos garantir que a empresa tem:

- a) 8 máquinas b) 7 máquinas c) 6 máquinas d) 5 máquinas e) 4 máquinas

22. Um comerciante por descuido ao anunciar o preço do televisor tem um prejuízo de 4%, o televisor foi vendido por R\$ 408,00. Com essas informações podemos garantir que o prejuízo foi de:

- a) R\$ 18,00 b) R\$ 17,50 c) R\$ 17,00 d) R\$ 16,00 e) R\$ 15,50

23. Um sítante pagou R\$ 98,00 para transportar 2.000 laranjas do seu sítio para feira livre. Por quanto deverá vender a dúzia da laranja para ter lucro total de R\$ 54,00 sabendo-se que 100 laranjas caíram no transporte?

- a) R\$ 0,96 b) R\$ 0,98 c) R\$ 1,00 d) R\$ 1,20 e) R\$ 1,25

24. Uma casa de estudantes dispõe de uma quantidade de comida para alimentar 28 alunos durante 40 dias, mas recebeu 8 alunos do interior para se alojar na casa. As reservas de alimentos darão para, no máximo, quantos dias?

- a) 36 b) 53 c) 30 d) 67 e) 22

25. Um ambulante pretendendo aumentar as vendas de canetas, promove uma promoção relâmpago, "levando cinco canetas paga apenas quatro". Isto equivale conceder a quem leva cinco, um desconto de:

- a) 15% b) 17% c) 20% d) 22% e) 25%

26. O Maior Planeta do Sistema Solar, e o quinto a partir do sol é:

- a) Terra b) Vênus c) Mercúrio d) Júpiter e) Netuno

27. Dos estados abaixo descritos, apenas um deles está localizado na Região Norte do Brasil, assinale-o:

- a) Maranhão c) Tocantins e) Rio Grande do Norte
b) Piauí d) Ceará

28. Dentre os Países abaixo relacionados que compõem a América do Sul, apenas um deles não faz fronteira com o Brasil, assinale-o:

- a) Chile b) Argentina c) Paraguai d) Colômbia e) Uruguai

29. Das alternativas abaixo apenas uma delas está relacionada com a independência do Brasil, assinale-a:

- a) Fim do domínio Português c) Golpe da Maioridade e) Início do Período Republicano
b) Abdicação de D.Pedro I d) Fim do Período Regencial

30. O Período Regencial Brasileiro estendeu-se desde a abdicação de D. Pedro I, em 1831, até o juramento de D. Pedro II, perante a assembléia do império, em 1840. sobre este período, analise as assertivas abaixo, classificando-as como verdadeiras ou falsas.

I - Simultaneamente, neste período ocorreram várias rebeliões populares orientadas aos ideais democráticos de descentralização do poder. Estas rebeliões foram a Cabanagem (1834-1840), a Sabinada (1837-1838), a Balaiada (1838-1841) e a Guerra dos Farrapos (1835- 1845).

II - O Período Regencial é dividido em três regências. Pelo ato adicional de 1834 substituiu-se a Regência Una por uma Regência Trina, tirava-se a autonomia das províncias e criava-se o conselho de estado.

III - Pode-se dizer que o Período Regencial é marcado pelas primeiras experiências republicanas no Brasil, onde os membros do poder executivo eram eleitos.

Sendo assim, podemos afirmar que:

- a) Apenas I e II estão corretas. c) Apenas I e III estão corretas. e) Todas estão incorretas.
b) Apenas II e III estão corretas. d) Todas estão corretas.