

CONCURSO PÚBLICO

PORTUGUÊS

1. O nosso alfabeto é formado por:

- a) consoantes e frases
- b) vogais e consoantes
- c) vogais e frases
- d) palavras e vogais

2. A seguir, temos alguns pares de palavras contrárias. Marque o único par de palavras que têm o mesmo significado:

- a) viver – morrer
- b) beleza – feiúra
- c) vida – morte
- d) bonita – bela

3. A frase “Que bela moça, você namora!”, finaliza com:

- a) ponto de interrogação
- b) ponto de exclamação
- c) ponto final
- d) dois pontos

4. Marque a alternativa que contém apenas as VOGAIS do nosso alfabeto:

- a) a – e – i – o – u
- b) a – o – u
- c) a – i – u
- d) b – c – d – f – g

5. “Pé” é uma palavra:

- a) Dissílaba
- b) Trissílaba
- c) Monossílaba
- d) Polissílabo

6. As consoantes que estão presentes na palavra “JORDÃO” são:

- a) o – a
- b) j – o – r
- c) j – r – d
- d) d – a – o

7. Das palavras abaixo, marque a única que devia estar escrita com letra maiúscula:

- a) coelho
- b) água
- c) suco
- d) maria

8. A opção em que o plural das palavras está incorreto é:

- a) bolo – bolos
- b) casa – casas
- c) pai – pais
- d) dedo – dedão

9. Em qual das alternativas abaixo as sílabas da palavra “ameixa” foram divididas corretamente:

- a) ame – ixa
- b) ame- i – xa
- c) a – mei – xa
- d) a- me – ixa

10. Qual sinal de pontuação deveria ser empregado na frase abaixo? “ Como você se chama ”:

- a) ponto de exclamação
- b) ponto final
- c) ponto de interrogação
- d) reticências

11. Qual das palavras abaixo tem as sílabas divididas de maneira errada?

- a) fós-fo-ro
- b) re-lâm-pa-go
- c) ves-ti-do
- d) fo-gã-o

12. Assinale a alternativa que apresenta palavra polissílaba:

- a) nós
- b) casa
- c) mágico
- d) desconhecimento

13. Qual das palavras abaixo é dissílaba?

- a) camisa
- b) pé
- c) bicicleta
- d) manga

14. A alternativa em que o aumentativo da palavra nariz está CORRETO é:

- a) nazão
- b) narigudão
- c) narigão
- d) nenhuma das alternativas anteriores

15. Qual das alternativas abaixo está escrita corretamente?

- a) Televisão
- b) Lápis
- c) Tezoura
- d) Casa

CONCURSO PÚBLICO

16. O plural da palavra “curral” é:

- a) currales
- b) currals
- c) currais
- d) curralses

17. Abaixo, uma das alternativas está ERRADA:

- a) vaso
- b) picina
- c) lixo
- d) armazém

18. A alternativa correta para o plural de pneu é:

- a) pneuses
- b) pneu
- c) pneus
- d) pnéis

19. Quais são as vogais da palavra IGREJA?

- a) i, e, a
- b) i, g, r
- c) g, r, j
- d) r, e, a

20. Assinale a frase que está escrita corretamente:

- a) Peguemos todas as muda e levemo para o jardim.
- b) Peguemos tudo as mudas e levamo para o jardim.
- c) Pegamos todas as mudas e levamos para o jardim.
- d) Pegamo tudo as muda e levamo para o jardim.

CONHECIMENTOS GERAIS

21. O nome do atual Prefeito do Município de Foz do Jordão é:

- a) Anildo Alves da Silva
- b) Arildo Alves da Silva
- c) Anildo Alves e Silva
- d) Anildo da Silva

22. O Santo Padroeiro do Município de Foz do Jordão é:

- a) São Sebastião
- b) São Roque
- c) São Pedro Apóstolo
- d) São Francisco de Assis

23. O aniversário da cidade de Foz do Jordão é comemorado no dia:

- a) 11 de outubro
- b) 21 de outubro
- c) 10 de outubro
- d) 22 de outubro

24. Segundo dados do IBGE/2000, o número de habitantes do Município de Foz do Jordão é:

- a) 6.378
- b) 8.377
- c) 5.378
- d) 7.378

25. Os principais rios que banham a cidade de Foz do Jordão são:

- a) Rio Ney Braga e Rio Santiago
- b) Rio Iguaçu e Rio Jordão
- c) Rio Jordão e Rio Santiago
- d) Rio Iguaçu e Rio Ney Braga

26. A principal atividade econômica de Foz do Jordão é:

- a) comércio
- b) indústria
- c) agropecuária
- d) pecuária

27. Em que ano aconteceu o *Impeachment* de Fernando Collor de Melo:

- a) 1990
- b) 1992
- c) 1991
- d) 1989

28. O atual governador do Estado do Paraná é:

- a) Ricardo Requião
- b) Roberto Requião
- c) Rogério Requião
- d) Ronaldo Requião

29. Celebramos a Proclamação da República brasileira no dia:

- a) 12 de outubro
- b) 02 de novembro
- c) 15 de novembro
- d) 21 de abril

30. Movimento de libertação, liberado por Joaquim José da Silva Xavier (Tiradentes):

- a) Inconfidência Mineira
- b) Revolução de 31 de março
- c) Proclamação da República
- d) Independência do Brasil

CONCURSO PÚBLICO

CONHECIMENTOS ESPECÍFICOS

31. Para a higienização de verduras, é necessário:

- a) água e sal
- b) detergente
- c) água fervendo
- d) solução de água sanitária ou cloro

32. No trato com alunos, a atitude da merendeira deve ser de:

- a) desprezo
- b) agressividade
- c) igualdade
- d) superioridade

33. As merendeiras têm as seguintes atribuições:

- a) Seguir os cardápios elaborados por nutricionistas e verificar a qualidade dos alimentos.
- b) Ter higiene pessoal e criar novos cardápios.
- c) Comprar alimentos e recolher lixo.
- d) Servir o aluno e levar sobras de alimentos para as comunidades carentes.

34. Para evitar a contaminação cruzada entre alimentos, é indicado:

- a) Cortar alimentos crus e cozidos na mesma tábua.
- b) Armazenar presunto cozido e verduras na mesma vasilha plástica.
- c) Cozinhar os alimentos.
- d) Higienizar as tábuas de corte entre um alimento e outro.

35. Para prevenir incêndios, é recomendado:

- a) Instalar bujões de gás ao lado do fogão.
- b) Usar álcool para ajudar a acender o fogo.
- c) Ligar vários aparelhos elétricos na mesma tomada.
- d) Evitar o uso de álcool ou gasolina próximo ao fogo.

36. Os equipamentos de proteção individual (EPI) para a merendeira são:

- a) calçados fechados e impermeáveis à água
- b) relógio e pulseira
- c) geladeira e freezer
- d) fogão e forno

37. Para se apresentarem em condições ideais de uso, as lixeiras devem estar:

- a) emborcadas
- b) tampadas
- c) tampadas e forradas com saco plástico
- d) destampadas

38. A merendeira deve ter as seguintes práticas higiênicas:

- a) Proteger os cabelos, usar unhas curtas e sem esmalte.

- b) Usar uniforme escuro e relógio.
- c) Calçar sandálias abertas e usar uniforme claro.
- d) Usar perfume forte e fumar na cozinha.

39. Os alimentos não perecíveis devem ser armazenados:

- a) Sobre estrados ou estantes em local úmido.
- b) Sem identificação de validade e origem.
- c) Em contato com piso e em caixas de papelão.
- d) Em áreas arejadas, secas e distantes das paredes ou piso.

40. Produtos de limpeza devem ser guardados:

- a) dentro do forno
- b) separados dos alimentos
- c) sobre a pia
- d) próximos aos alimentos

PSICOTÉCNICO


41. Observe as figuras abaixo:



De quais delas têm somente **duas** iguais?

- a) ;
- b) ;
- c) ;
- d) .

42. Observe a seqüência abaixo:







Assinale a alternativa que possui a seqüência correta:

- a) estrela, círculo, triângulo, quadrado, cruz;
- b) estrela, círculo, quadrado, triângulo, cruz;
- c) cruz, quadrado, círculo, triângulo, círculo;
- d) estrela, cruz, triângulo, quadrado, círculo.


43. Observando a figura abaixo, assinale a alternativa que possui a parte da figura que está faltando:







CONCURSO PÚBLICO

- a) 
- b) 
- c) 
- d) 

44. Observe a figura abaixo:







Assinale a alternativa que completa corretamente a seqüência:

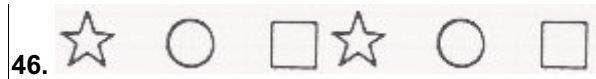
- a) 
- b) 
- c) 
- d) 

45. A figura abaixo representa uma casa.







Assinale a alternativa que completa corretamente o desenho da casa:

- a) 
- b) 
- c) 
- d) 



Assinale a alternativa que completa corretamente a seqüência apresentada acima:

- a)  ;
- b)  ;
- c)  ;
- d) 

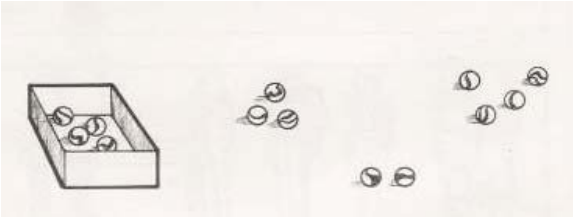
47. Observe as figuras abaixo:



Quantos erros existem na figura de baixo, quando comparamos com a de cima?

- a) 6;
- b) 5;
- c) 4;
- d) 7.


48. Observe o desenho abaixo:



Quantas bolinhas estão dentro da caixa, na figura acima?

- a) 13;
- b) 4;
- c) 9;
- d) 7.

49. Observe os desenhos abaixo:



1


2

3

Qual(is) do(s) desenho(s) acima é(são) fruta(s)?

- a) 2 e 3;
- b) 1 e 2
- c) 2;
- d) 1.

50. No desenho abaixo, estão faltando algumas partes nas flores.



Quantos dos desenhos acima estão completos, não faltando nenhuma parte?

- a) 2;
- b) 3;
- c) 1;
- d) 4.