

1ª PARTE – CONHECIMENTOS BÁSICOS

LÍNGUA PORTUGUESA

O sexto sentido das mulheres

Certo dia, parei para observar as mulheres e só pude concluir uma coisa: elas não são humanas. São espiãs. Espiãs de Deus, disfarçadas entre nós. Pare para refletir sobre o sexto sentido. Alguém duvida que ele exista?

E, como explicar que ela saiba exatamente qual mulher, entre as presentes, em uma reunião, seja aquela que dá em cima de você... Ou é a que você dá em cima? E, quando ela antecipa que alguém tem algo contra você, que alguém está ficando doente ou que você quer terminar o relacionamento? E, quando ela diz que vai fazer frio e manda você levar um casaco? Rio de Janeiro, 40°C, você vai pegar um avião para São Paulo. Só meia-hora de voo. Ela fala para você levar um casaco, porque "vai fazer frio". Você não leva. O que acontece? O avião fica preso no tráfego, em terra, por quase duas horas, depois que você já entrou, antes de decolar. O ar condicionado chega a pingar gelo de tanto frio que faz lá dentro!

O sexto sentido não faz sentido! É a comunicação direta com Deus! Assim é muito fácil...As mulheres são mães! E preparam, literalmente, gente dentro de si. Será que Deus confiaria tamanha responsabilidade a um reles mortal? E não satisfeitas em ensinar a vida, elas insistem em ensinar a vivê-la, de forma íntegra, oferecendo amor incondicional e disponibilidade integral. Fala-se em "praga de mãe", "amor de mãe", "coração de mãe"... Tudo isso é meio mágico... Talvez ele tenha instalado o dispositivo "coração de mãe" nos "anjos da guarda" de seus filhos (que, aliás, foram criados à sua imagem e semelhança).

As mulheres choram, vazam ou extravasam? Homens também choram, mas é um choro diferente. As lágrimas das mulheres têm um não sei quê que não quer chorar, um não sei quê de fragilidade, um não sei quê de amor, um não sei quê de tempero divino, que tem um efeito devastador sobre os homens... É choro feminino; é choro de mulher... Já viram como as mulheres conversam com os olhos? Elas conseguem pedir uma à outra para mudar de assunto com apenas um olhar. Elas fazem um comentário sarcástico com outro olhar. E apontam uma terceira pessoa com outro olhar. Quantos tipos de olhar existem? Elas conhecem todos... Parece que freqüentam escolas diferentes das que freqüentam os homens! E é com um desses milhões de olhares que elas enfeitiçam os homens. En-fei-ti-çam!

O amor leva as mulheres para perto de Deus... já que ele é o próprio amor. Por isso, dizem "estar nas nuvens", quando apaixonadas. Com todo esse amor de mãe, esposa e amiga, elas ainda são mulheres a maior parte do tempo. Mas elas são anjos depois do sexo-amor. É nessa hora que elas se sentem o próprio amor encarnado e voltam a ser anjos. E levitam. Algumas até voam. Mas os homens não sabem disso. E nem poderiam... Porque são tomados por um encantamento que os faz dormir nessa hora.

Luis Fernando Sabino

01. Sobre o texto é correto afirmar:

- a) Pode ser considerado como uma **crônica comentário**, uma vez que predomina a linguagem conotativa;
- b) É uma **crônica narrativa**, pois apresenta personagens ficticiais;
- c) É uma **crônica filosófica** em que se trabalha o texto como pretexto para uma análise da vida humana;
- d) Pode ser considerado como uma **crônica argumentativa**, pois fundamenta a opinião do autor dentro de uma tensão dramática.

02. São características da crônica, exceto:

- a) Registra o circunstancial, o episódio, o efêmero.
- b) Deve ser escrita numa linguagem leve, comunicativa, informativa.
- c) Desenvolve-se através de períodos curtos e linguagem enxuta.
- d) Apresenta tensão dramática em torno de personagens ficticiais.

03. Observe o fragmento:

“Certo dia, parei para observar as mulheres e só pude concluir **uma coisa: elas** não são humanas. **São espiãs.**”

Sobre os termos, em destaque, podemos afirmar:

- I- Representam elementos coesivos na estrutura textual.
- II- São, respectivamente: uma catáfora – elemento predissente; uma anáfora – elemento remessivo e uma elipse.
- III- Representam: uma hiperônimo – termo substitutivo; um hipônimo – termo predissente; uma anáfora – termo predissente.

Estão corretas as assertivas:

- a) I, II e III
- b) I e II, somente
- c) II e III, somente
- d) I e III, somente

04. Veja o fragmento:

“E preparam, literalmente, gente dentro de si.”

O uso da vírgula justifica-se pela mesma regra em:

- a) Ele não consegue, por exemplo, dirigir sozinho.
- b) Comprou sapato, e meias, e bolsa.
- c) O homem, que é mortal, retorna ao pó.
- d) Creio, afirmou Antônio, que este é um caso perdido.

05. Em: “E é com um desses milhões de olhares que elas enfeitiçam os homens.” Temos:

- a) Oxímoro
- b) Eufemismo
- c) Hipálage
- d) Hipérbole

06. Marque a alternativa em que o uso da colocação pronominal corresponda à norma culta.

- a) Enquanto se espera o vôo, bebe-se algo.
- b) Enquanto se espera o vôo, se bebe algo.
- c) Enquanto espera-se o vôo, bebe-se algo.
- d) Enquanto espera-se o vôo, se bebe algo.

07. A crônica de Fernando Sabino foi de encômios às mulheres. O termo em destaque, significa:

- a) Elogios
- b) Críticas
- c) Comentários
- d) Sarcasmos

08. “E é desses milhões de olhares que elas enfeitam os homens. En-fei-ti-çam!”

A alternativa em que a separação silábica está correta, é:

- a) gra- tu- i- to
- b) ca- mio- nei- ro
- c) nu- clei- co
- d) i- tu- iu- ta- ba

09. “As lágrimas das mulheres têm um não sei quê que não quer chorar.” O termo em destaque é:

- a) Pronome adjetivo indefinido.
- b) Advérbio de intensidade.
- c) Pronome relativo.
- d) Pronome substantivo indefinido.

10. “Talvez ele tenha instalado o dispositivo “coração de mãe” (...) (foram criados à sua imagem e semelhança)”

O uso do acento grave está correto, exceto em:

- a) Vendo à vista.
- b) Usava bigode à Hitler.
- c) O homem foi ferido à bala.
- d) Ficaram à contemplar tamanha beleza.

RACIOCÍNIO LÓGICO

11. A direção da Singer resolveu premiar os funcionários que têm pelo menos 10 anos de empresa. O Sr. Carlos trabalha no departamento pessoal. O funcionário mais antigo do departamento pessoal tem 11 anos de empresa. Com base nisso é CORRETO afirmar que:

- a) o Sr. Carlos tem direito ao prêmio.
- b) o Sr. Carlos pode ganhar o prêmio.
- c) Há somente 1 funcionário no departamento pessoal com direito ao prêmio.
- d) o Sr. Carlos não tem direito ao prêmio.

12. Na página 10 de um livro está escrita a seguinte afirmação: *A frase da página 11 é falsa.* Na página 11, deste mesmo livro, está escrita a seguinte afirmação: *A frase da página 10 é falsa.* Fazendo a análise das duas frases para verificar a veracidade das mesmas temos um caso de:

- a) Paradoxo
- b) Contradição
- c) Silogismo
- d) Tautologia

13. 2 está para 130, assim como 4 está para 646. Logo, 3 está para:

- a) 93
- b) 131
- c) 43
- d) 63

14. Mamãe fez um bolo para o café da manhã, mas uma das crianças - André, João e Carlos – comeu todo o bolo. Indagados sobre quem comeu o bolo André disse: *Eu não comi o bolo!* João disse: *Um de nós o comeu, mas não fui eu!* Carlos disse: *Pelo menos um deles, André ou João, estão dizendo a verdade.* Como mamãe sabia que André e Carlos não estavam ambos dizendo a verdade, ela descobriu quem foi o comilão. Assim, o comilão foi:

- a) Carlos
- b) João
- c) André
- d) André e João

15. Sejam p e q duas proposições. Considere a seguinte tabela de valores lógicos:

p	q	$p \rightarrow q$	$q \rightarrow p$	$(p \rightarrow q) \wedge ((\sim p) \rightarrow (\sim q))$
V	V	V	V	
V	F	F	V	
F	V	V	F	
F	F	V	V	

O preenchimento CORRETO da tabela, obedecendo a ordem de cima para baixo, é:

- a) V, V, F, F
- b) V, F, F, V
- c) V, F, F, F
- d) V, F, V, F

16. Três pessoas foram presas acusadas de espionagem. Uma delas sempre dizia a verdade, a outra sempre mentia e a outra era o espião. Segue abaixo a declaração de cada uma delas:

Pessoa 1: *Eu sou o espião!*

Pessoa 2: *É verdade!*

Pessoa 3: *Eu não sou o espião!*

A partir dessas declarações podemos concluir que:

- a) A pessoa 1 falou a verdade.
- b) A pessoa 3 é o espião.
- c) A pessoa 1 mentiu e a pessoa 2 não é o espião.
- d) A pessoa 2 é o espião.

INFORMÁTICA

17. No *Windows XP* com a janela do *Windows Explorer* aberta, um operador executou os seguintes comandos:

- I) Selecionou o arquivo FUNCIONÁRIO.DOC na pasta EMPRESA existente no driver C:
- II) Executou o atalho de teclado <CTRL> + C
- III) Selecionou a pasta DOCUMENTOS existente no driver C:
- IV) Executou o atalho de teclado <CTRL> + V

Com relação ao arquivo **FUNCIONÁRIO.DOC**, esse operador realizou a operação:

- a) Substituir
- b) Excluir
- c) Copiar
- d) Mover

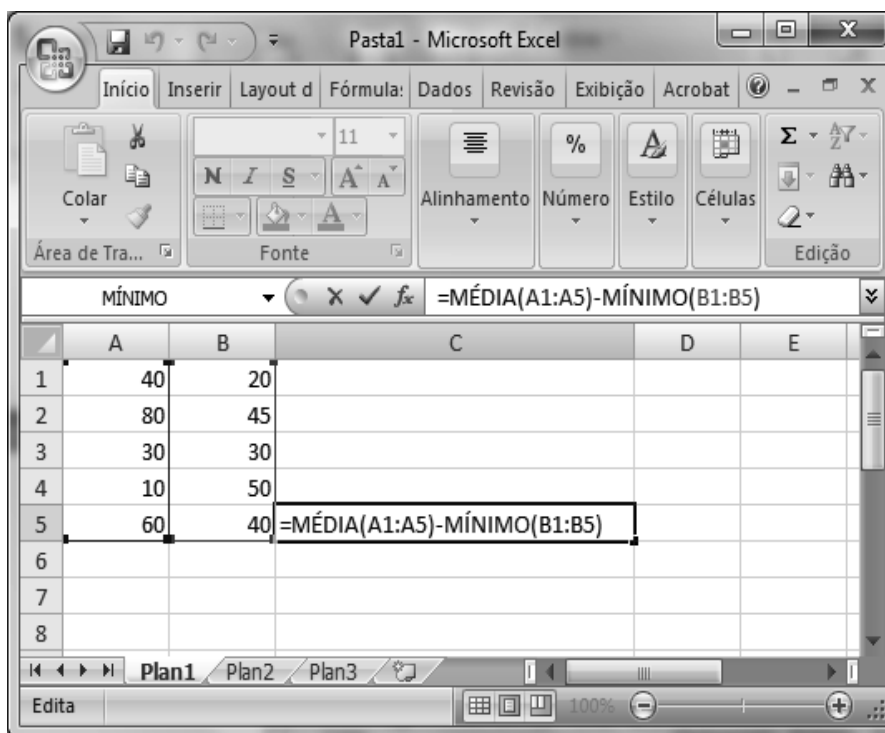
18. São exemplos de softwares para navegação na internet, EXCETO:

- a) Internet Explorer
- b) Mozilla Firefox
- c) Google Chrome
- d) Microsoft Office Outlook

19. Durante a edição de um texto elaborado no *Microsoft Word 2007*, o operador pressiona a tecla **<CTRL> + U**. Ao fazer isto ele pretende:

- a) Inserir uma tabela
- b) Localizar e substituir um texto no documento
- c) Configurar a página
- d) Inserir um link para uma página da web

20. Observe a figura abaixo:



Com relação a planilha *Excel*, exibida acima, podemos afirmar que o resultado da fórmula na célula C5, será:

- a) 42
- b) -24
- c) 24
- d) -42

21. Uma Intranet é:

- a) Uma rede de computadores pública
- b) Uma rede de computadores privada
- c) Uma rede mundial de computadores com acesso a internet
- d) É o mesmo que Extranet

22. A Ferramenta Formatar Pincel  do Microsoft Word 2007, serve para:

- a) Copiar a formatação de um local e aplicá-la a outro
- b) Copiar o texto selecionado para área de transferência
- c) Aplicar cores ao texto selecionado
- d) Inserir imagem

2ª PARTE – CONHECIMENTOS ESPECÍFICOS

23. O valor da área mínima de ventilação de um banheiro com 1,50 m de largura por 2,50 m de comprimento, é de:

- a) 0,265 m²
- b) 0,355 m²
- c) 0,450 m²
- d) 0,469 m²

24. A área de um triângulo isósceles de 6,0 m de base e lados 5,0m, em m², é de:

- a) 6
- b) 12
- c) 18
- d) 24

25. Para azulejar as paredes de um banheiro, de dimensões (2,50 x 3,00) não considerando perdas nem vãos; sabendo que o pé direito acabado é de 2,80m, gastaremos em m² a quantidade de:

- a) 10,85
- b) 20,25
- c) 30,80
- d) 40,50

26. O traço de um concreto é 1 : 2 : 6. Os números 2 e 6, corresponde respectivamente a quantidade, em volume de:

- a) Areia e cimento
- b) Saibro e cimento
- c) Areia e brita
- d) Brita e areia

27. Para o serviço de locação de uma obra, o conjunto fundamental de ferramentas, é:

- a) Esquadro, linha e colher
- b) Prumo de centro, trena e linha
- c) Esquadro, trena e balde
- d) Linha, prumo de face e colher

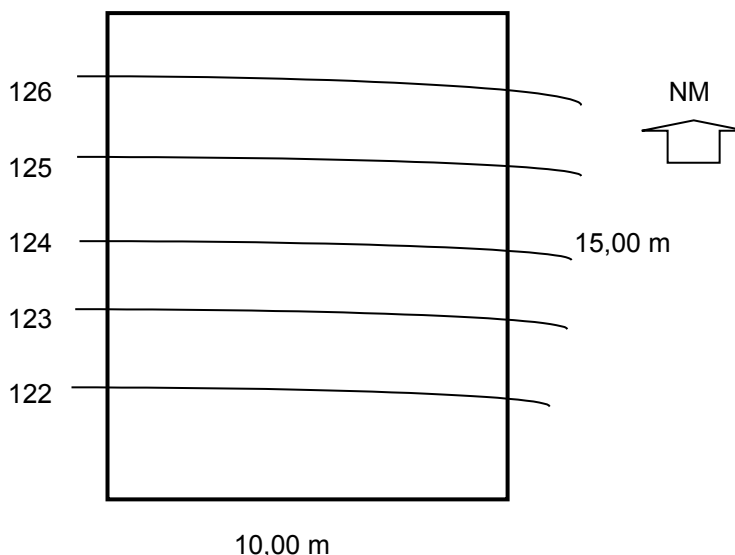
28. A distância em metros entre a estaca 2 +15,00 e a estaca 4+17,00 é de:

- a) 42 m
- b) 52 m
- c) 37 m
- d) 65 m

29. A operação que tem por finalidade a determinação, no terreno, dos dados necessários à representação em plano horizontal, da forma e da posição relativas de todos os acidentes que nele se encontram, como a medida de ângulos e de distâncias referida àquele plano, é chamada de:

- a) Levantamento altimétrico.
- b) Levantamento planimétrico.
- c) Plano Meridiano.
- d) Ponto de Estação.

30. Na leitura da planta topográfica abaixo, verificam-se as curvas de nível, nesse caso, é correto afirmar que:



- a) O terreno é plano;
- b) O terreno apresenta inclinação variável;
- c) O terreno apresenta inclinação constante;
- d) O desenho é inconsistente, pois essa situação é topograficamente absurda.

31. Para obter informações no projeto arquitetônico, em verdadeira grandeza, dos pés direitos, no interior de uma edificação, o fiscal de obras deverá dispor de:

- a) Cortes transversais e longitudinais;
- b) Perspectiva cavaleira;
- c) Perspectiva isométrica;
- d) Maquete.

32. Para obtermos dados das áreas internas dos “pavimentos tipo” das edificações, necessitamos do seguinte desenho:

- a) Planta baixa;
- b) Cortes;

- c) Fachadas;
- d) Perspectivas.

33. Observe abaixo a representação de uma barra de aço de um desenho para execução de armaduras.

N3 - 3 Ø 12.5 – 485

O nº 485 indica:

- a) O diâmetro da barra de ferro
- b) O comprimento da barra de ferro
- c) O espaçamento entre as barras de ferro
- d) O número do ferro

34. Coloque V se verdadeira e F se falsa para cada uma das alternativas apresentadas, com relação à seguinte frase:

A argamassa de cimento, se comparada com a argamassa de cal, apresenta:

- () Menor resistência mecânica;
- () Maior trabalhabilidade;
- () Menor peso por metro cúbico;
- () Maior impermeabilidade.

A alternativa correta é:

- a) F – V – F – F
- b) F – F – F – V
- c) F – F – V – F
- d) F – V – F – V

35. Num projeto de reforma de uma edificação, as cores das linhas indicarão:

- a) Tinta preta as partes da construção que serão executadas, a tinta vermelha as que permaneceram e a tinta amarela as que devem demolir.
- b) Tinta preta as partes da construção que serão demolidas, a tinta vermelha as que serão executadas e a tinta amarela as que devem permanecer.
- c) Tinta preta as partes da construção que devem permanecer, a tinta vermelha as que serão demolidas e a tinta amarela as que serão executadas.
- d) Tinta preta as partes da construção que devem permanecer, a tinta vermelha as que serão executadas e a tinta amarela as que serão demolidas.

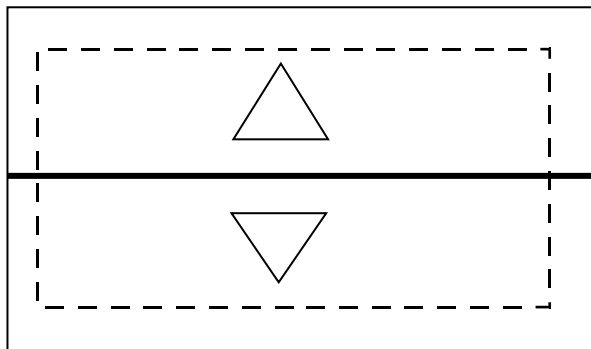
36. Coluna líquida que, em um sifão sanitário, veda a passagem de gases é:

- a) Fecho hídrico.
- b) Tubo de queda.
- c) Tubo ventilador.
- d) Desconector.

37. Segundo o dicionário, concretagem significa o ato de receber, transportar, lançar, espalhar, adensar, nivelar e fazer o acabamento do concreto. Em uma estrutura de concreto armado, esse material possui duas funções básicas, sendo uma delas:

- a) Servir apenas para sustentar a parte interna da obra.
- b) Definir somente a dosagem da mistura do concreto.
- c) Definir apenas as propriedades dos materiais constituintes do concreto.
- d) Resistir aos esforços de compressão a qual a estrutura está submetida.

38. Observe o desenho abaixo, ele representa uma planta de cobertura, marque a alternativa correta que completa as lacunas: A Linha tracejada, representa _____. Essa cobertura possui _____, e a linha em negrito é chamada de _____:



- a) As paredes, duas águas, Espigão;
- b) As paredes, duas águas, Cumeeira;
- c) O beiral, duas águas, cumeeira;
- d) As paredes sob a cobertura, duas águas, Terça.

39. “É o deslocamento de carga dentro de um condutor quando existe uma diferença de potencial elétrico entre as suas extremidades”, essa definição se aplica a:

- a) Circuito elétrico;
- b) Corrente elétrica;
- c) Resistência elétrica;
- d) Potência elétrica.

40. Em se tratando de parcelamento de solo:

- 1- O desmembramento consiste na Subdivisão de uma gleba em lotes destinados à edificação;
- 2- A área resultante da execução de um loteamento, delimitada por vias de circulação de veículos e logradouros públicos é denominada quadra;
- 3- Loteamento consiste Subdivisão de glebas em lotes destinados à edificação, com abertura de novas vias de circulação, de logradouros públicos ou prolongamento, modificação ou ampliação das vias existentes;
- 4- A parte do logradouro destinado ao trânsito de pedestres, localizada entre o meio-fio e o alinhamento do lote é denominada Recuo ou afastamento.

Podemos afirmar que:

- a) Todas as alternativas estão corretas;
- b) Apenas as alternativas 1, 3 e 4 estão corretas;
- c) Apenas as alternativas 1, 2 e 3 estão corretas;
- d) Apenas as alternativas 1 e 3 estão corretas.

41. Compete à Prefeitura, no exercício do poder de polícia administrativa, quando da fiscalização da obra:

- 1- Verificar a obediência do alinhamento determinado para o tipo de edificação;
- 2- Realizar, sempre que julgar necessário, vistorias e inspeções para aferir o cumprimento do projeto aprovado;
- 3- A construção de passeios das edificações em vias pavimentadas, bem como a construção ou restauração de muros em terrenos baldios;
- 4- Realizar vistoria e propor a demolição parcial ou total para as edificações que estejam em precárias condições de estabilidade.

Podemos afirmar que:

- a) Apenas as alternativas 1, 2 e 4 estão corretas;
- b) Todas as alternativas estão corretas;
- c) Apenas as alternativas 1 e 2 estão corretas;
- d) Apenas as alternativas 1 e 3 estão corretas.

42. Complete a lacuna com a alternativa correta:

A licença para edificar terá prazo de validade proporcional ao volume da construção, não podendo exceder a _____ meses.

- a) 24.
- b) 12.
- c) 18.
- d) 36.

43. Com relação ao “habite-se” está incorreto:

- a) Nenhuma edificação pode ser ocupada sem que seja procedida a vistoria pela Prefeitura e expedido o “Habite-se”;
- b) Poderá ser concedido o “Habite-se” parcial se a obra tiver partes que possam ser habitadas ou ocupadas, independentemente das demais, atendidas as normas de segurança em edificações;
- c) O “Habite-se” deverá ser requerido pelo responsável técnico da obra ou por seu proprietário, mediante anuência do primeiro;
- d) O “Habite-se” só será expedido após a constatação, pelo órgão competente da Prefeitura, de que o sistema de esgoto está ligado parcialmente à rede pública coletora ou, na ausência desta, ao sistema de deposição adotado de acordo com as normas da ABNT.

44. “Consiste na suspensão ou paralisação definitiva ou provisória, determinada pela autoridade competente, de qualquer atividade, obra ou serviço”. Essa definição refere-se:

- a) Ao embargo;
- b) A interdição;
- c) A cassação da Licença;
- d) Uma advertência.

45. Para os efeitos da Lei, ficam estabelecidos para a Cidade de Juazeiro do Norte sete tipos de zonas de uso e ocupação, assim consideradas em função das peculiaridades físicas, culturais, ambientais, institucionais e de desenvolvimento do município, todas individualizadas com as suas respectivas siglas, assinale a alternativa incorreta:

- a) Zona Residencial, ZR;
- b) Zona Industrial, ZI;
- c) Zona de Uso Misto, ZUM;
- d) Zona Industrial e Comercial, ZIC.

46. Leia as definições abaixo e assinale a alternativa correta:

1. “Áreas de loteamento destinadas à implantação de equipamentos comunitários.”
2. “Totalidade das áreas de piso cobertas de todas as edificações principais e complementares, inclusive áreas comuns.”
3. “Parte do logradouro destinado ao trânsito de pedestres.”

As três definições anteriores são respectivamente de:

- a) Áreas Institucionais, área construída e calçada;
- b) Área verde, área construída e passeio;
- c) Área institucional, área útil e calçada;
- d) Área edificante, área parcial da edificação e calçadão.

47. São atribuições do fiscal de obras, EXCETO:

- a) Conhecer as normas técnicas vigentes referentes aos serviços fiscalizados;
- b) Ter domínio da legislação vigente no município;
- c) Verificar denúncias e efetuar notificações;
- d) Definição de valor de multas referentes às infrações.

48. “Consideram-se obras complementares aquelas executadas como decorrência ou parte das edificações e compreendem, entre outras similares, as seguintes”, EXCETO:

- a) Abrigos e cabines;
- b) Chaminés e torre;
- c) Passagens cobertas;
- d) Fundações e estruturas.

49. A legislação municipal que dispõe sobre a execução de obras públicas e particulares, e ainda sobre as medidas inerentes ao poder de polícia administrativa de competência municipal, pertinentes à ordem pública, higiene, instalação e funcionamento de equipamentos e atividades, estabelecendo-se, assim, a integração entre o Poder Público e os Municípios, é o:

- a) Código civil;
- b) Manual do proprietário;
- c) Código de obras e postura;
- d) Código ambiental do município.

50. “... nenhuma obra, serviço ou instalação poderá ser iniciada sem a respectiva licença do órgão competente da Prefeitura e mediante o pagamento da taxa respectiva, exceto as hipóteses previstas nesta Lei”. É correto afirmar que independem de licença ou comunicação os serviços de, EXCETO:

- a) Reparos e substituição de revestimentos em geral, inclusive externos, até dois pavimentos, desde que não haja alteração na fachada;
- b) Limpeza e pintura de edifícios que não dependam de andaimes ou tapumes;
- c) Reparos e pavimentação de passeios em geral;
- d) Obras emergenciais que interfiram em estrutura.

51. Constituem penalidades decorrentes de infrações na forma de irregularidades verificadas durante fiscalização de obras, com EXCEÇÃO de:

- a) Embargo;
- b) Tombamento;
- c) Interdição;
- d) Multa.

52. O documento que licencia a execução de obras relativas a loteamentos, urbanização de áreas, projetos de infra-estrutura, projetos de edificações, bem como a localização e o funcionamento de atividades é:

- a) Licença prévia;
- b) Alvará;
- c) RIMA;
- d) Licença de instalação provisória.