

SELEÇÃO PÚBLICA

3. PROVA OBJETIVA

TÉCNICO EM ADMINISTRAÇÃO COM ÊNFASE EM RECURSOS HUMANOS

- ♦ VOCÊ RECEBEU SUA FOLHA DE RESPOSTAS, ESTE CADERNO CONTENDO 50 QUESTÕES OBJETIVAS E O SEU CADERNO DE REDAÇÃO.
- ♦ CONFIRA SEU NOME E NÚMERO DE INSCRIÇÃO IMPRESSOS NAS CAPAS DOS CADERNOS.
- ♦ LEIA CUIDADOSAMENTE AS QUESTÕES E ESCOLHA A RESPOSTA QUE VOCÊ CONSIDERA CORRETA.
- ♦ RESPONDA A TODAS AS QUESTÕES.
- ♦ MARQUE, NA FOLHA INTERMEDIÁRIA DE RESPOSTAS, LOCALIZADA NO VERSO DESTA PÁGINA, A LETRA CORRESPONDENTE À ALTERNATIVA QUE VOCÊ ESCOLHEU.
- ♦ TRANSCREVA PARA A FOLHA DE RESPOSTAS, COM CANETA DE TINTA AZUL OU PRETA, TODAS AS RESPOSTAS ANOTADAS NA FOLHA INTERMEDIÁRIA DE RESPOSTAS.
- ♦ VOCÊ TERÁ 4 HORAS PARA RESPONDER ÀS QUESTÕES E PARA DESENVOLVER O TEMA DA REDAÇÃO.
- ♦ A SAÍDA DO CANDIDATO DA SALA SERÁ PERMITIDA APÓS TRANSCORRIDA A METADE DO TEMPO DE DURAÇÃO DAS PROVAS.
- ♦ AO SAIR, VOCÊ ENTREGARÁ AO FISCAL A FOLHA DE RESPOSTAS, ESTE CADERNO DE QUESTÕES E O CADERNO DE REDAÇÃO, PODENDO DESTACAR ESTA CAPA PARA FUTURA CONFERÊNCIA COM O GABARITO A SER DIVULGADO.

AGUARDE A ORDEM DO FISCAL PARA ABRIR ESTE CADERNO DE QUESTÕES.

FOLHA INTERMEDIÁRIA DE RESPOSTAS

QUESTÃO	RESPOSTA				
01	A	B	C	D	E
02	A	B	C	D	E
03	A	B	C	D	E
04	A	B	C	D	E
05	A	B	C	D	E

06	A	B	C	D	E
07	A	B	C	D	E
08	A	B	C	D	E
09	A	B	C	D	E
10	A	B	C	D	E

11	A	B	C	D	E
12	A	B	C	D	E
13	A	B	C	D	E
14	A	B	C	D	E
15	A	B	C	D	E

16	A	B	C	D	E
17	A	B	C	D	E
18	A	B	C	D	E
19	A	B	C	D	E
20	A	B	C	D	E

21	A	B	C	D	E
22	A	B	C	D	E
23	A	B	C	D	E
24	A	B	C	D	E
25	A	B	C	D	E

QUESTÃO	RESPOSTA				
26	A	B	C	D	E
27	A	B	C	D	E
28	A	B	C	D	E
29	A	B	C	D	E
30	A	B	C	D	E

31	A	B	C	D	E
32	A	B	C	D	E
33	A	B	C	D	E
34	A	B	C	D	E
35	A	B	C	D	E

36	A	B	C	D	E
37	A	B	C	D	E
38	A	B	C	D	E
39	A	B	C	D	E
40	A	B	C	D	E

41	A	B	C	D	E
42	A	B	C	D	E
43	A	B	C	D	E
44	A	B	C	D	E
45	A	B	C	D	E

46	A	B	C	D	E
47	A	B	C	D	E
48	A	B	C	D	E
49	A	B	C	D	E
50	A	B	C	D	E

LÍNGUA PORTUGUESA

Leia o texto para responder às questões de números **01** a **10**.

Duas capitais brasileiras com experiências positivas no combate ao transporte ilegal e melhoria na integração do transporte público são Belo Horizonte e Recife. Em 2001, o governo de Minas e a Prefeitura de Belo Horizonte decidiram encarar o problema das kombis piratas. A cidade convivia então com mais de 3 000 veículos rodando de forma irregular, porém os embates tiveram êxito e avanços entre os municípios. A guerra para expulsá-los só foi vencida com uma junção de três fatores: decisão política, suporte policial para levar adiante a medida e respaldo jurídico com decisões favoráveis à expulsão. Depois de 2001, foi criada na BHtrans, Empresa de Transporte e Trânsito de Belo Horizonte, uma gerência exclusiva para fiscalizar o transporte informal, já que não havia órgão destinado a tal propósito. O governo criou 25 linhas de micro-ônibus como alternativa para a população, com 291 veículos, fazendo ligações bairro a bairro ou integradas às linhas principais. São veículos equipados com sistema de bilhete eletrônico, alguns com elevadores para deficientes e, o que é mais importante, nenhum deles passa pelo centro da cidade. Hoje, essas linhas transportam um milhão e meio de pessoas por mês e ajudam decisivamente na redução do caos no trânsito da capital mineira. Trata-se de um grande avanço.

Há seis anos a cidade de Recife começou a enfrentar o problema. Nessa época, 7 000 vans e kombis irregulares circulavam pela cidade, em mais de 100 rotas diferentes. A Prefeitura também agiu de forma dura para colocar fim a essa farra. Fechou as entradas da cidade para vans e kombis que vinham da região metropolitana e instituiu uma multa de quase 3 000 reais para o transporte irregular. Como alternativa, criou 21 linhas para o transporte complementar com 126 veículos. Essas linhas estão divididas em alimentadoras e interbairros e nenhuma delas passa pelo centro da cidade. Pelas linhas interbairros circulam micro-ônibus que não concorrem com as linhas de ônibus convencional. As linhas alimentadoras, também formadas pelos micro-ônibus, levam as pessoas de áreas não assistidas pelo transporte regular até a estação de integração mais próxima. O serviço das linhas alimentadoras é gratuito. Quem financia são as próprias empresas de ônibus. A ameaça de que a falta das vans piratas iria provocar o caos no transporte público não se concretizou. Das 270 000 mil pessoas que usavam por dia o transporte irregular, 50 000 passaram a utilizar o sistema complementar oficial e o restante foi acomodado nas linhas de ônibus regulares que melhoraram e ampliaram sua frota.

(Lucila Soares. *Blog da Veja On Line*. 16.11.2009. Adaptado)

01. De acordo com o texto, é correto afirmar que

- (A) o transporte informal dominou as cidades de Belo Horizonte e Recife e se transformou numa guerra frustrada para a administração pública.
- (B) a população tem sofrido com a falta de kombis, nas principais capitais do país.
- (C) Belo Horizonte e Recife são duas capitais brasileiras com exemplo bem-sucedido de combate ao transporte ilegal e de criação de linhas com micro-ônibus.
- (D) o serviço de kombis gratuitas tem possibilitado o transporte de trabalhadores nas cidades de Belo Horizonte e Recife.
- (E) o combate às kombis e a construção de linhas de metrô são exemplos bem-sucedidos de transporte urbano em metrópoles como Belo Horizonte e Recife.

02. Sobre a atuação do governo de Minas Gerais e da Prefeitura de Belo Horizonte na melhoria do transporte na cidade, é correto afirmar que

- (A) desde 2003, o governo aplica multas pesadas a vans e kombis piratas.
- (B) o transporte ilegal passou a ser fiscalizado com a criação da BHtrans, Empresa de Transporte e Trânsito de Belo Horizonte.
- (C) há décadas, o governo transformou as kombis precárias em micro-ônibus democráticos e de fácil acesso.
- (D) as autoridades resolveram atuar em parceria com os donos de kombis e vans, renovando a frota.
- (E) as autoridades negligenciaram a força do transporte ilegal e perderam a batalha.

03. Dentre as causas do sucesso dos meios de transporte na capital mineira, destacam-se:

- (A) fiscalização, atuação governamental e jurídica frente ao transporte ilegal.
- (B) construção de linhas de micro-ônibus e compra de kombis.
- (C) aquisição do governo de novas vans e kombis.
- (D) criação de linhas de metrô e micro-ônibus.
- (E) investimento governamental em meios de transportes alternativos e carros híbridos.

04. Sobre os micro-ônibus utilizados em Belo Horizonte, é correto afirmar que

- (A) são veículos caros, porque são adaptados para deficientes físicos, crianças e idosos.
- (B) aceitam bilhete eletrônico na cidade e são integrados às vans.
- (C) têm tarifa menor que a dos ônibus tradicionais utilizados na cidade.
- (D) transportam um grande volume de pessoas por mês e diminuíram o trânsito na cidade.
- (E) são menos resistentes que as kombis e as vans e são mais caros.

05. Dentre as ações bem-sucedidas da prefeitura de Recife para melhorar o trânsito, a autora destaca

- (A) a criação de transporte específico para deficientes físicos e crianças.
- (B) a instituição do bilhete eletrônico.
- (C) a compra de novas vans e kombis.
- (D) a fiscalização contra as kombis e a criação de linhas de metrô.
- (E) a aplicação de multas e o fechamento de rotas do transporte ilegal.

MATEMÁTICA

06. Sobre as linhas alimentadoras e interbairros criadas, pode-se dizer que
- (A) as alimentadoras são feitas por meio de vans e kombis e as interbairros são feitas pela integração com o trem.
 - (B) as alimentadoras são gratuitas e as interbairros são feitas através de micro-ônibus que não prejudicam o ônibus tradicional.
 - (C) as alimentadoras são destinadas a pessoas de baixa renda, já as interbairros são as que circulam no centro da cidade.
 - (D) as duas são financiadas pelas empresas de ônibus.
 - (E) as duas acabaram contribuindo para o caos do transporte público na capital.

07. A Prefeitura instituiu uma multa de quase 3 000 reais. Nesse trecho, o verbo *instituiu* pode ser substituído, sem alteração de sentido, por
- (A) aplicou.
 - (B) hesitou.
 - (C) inspirou.
 - (D) investigou.
 - (E) retificou.

Considere o trecho a seguir para responder às questões de números 08 e 09.

(...) uma gerência exclusiva para fiscalizar o transporte informal, já que não havia órgão destinado a tal propósito.

08. No trecho, a preposição *para* indica finalidade. O mesmo ocorre com o termo destacado na frase:
- (A) O presidente foi *para* a Europa.
 - (B) Tem chovido várias vezes *por* dia.
 - (C) O médico veio *em* auxílio do paciente.
 - (D) A empresa pagava os funcionários *com* cheque.
 - (E) A criança puxava o pai *pelo* paletó.

09. Na frase, a locução conjuntiva *já que* pode ser substituída, sem alteração de sentido, por
- (A) por mais que.
 - (B) apesar de.
 - (C) à medida que.
 - (D) uma vez que.
 - (E) contanto que.

10. *A cidade convivia então com mais de 3 000 veículos rodando de forma irregular, porém os embates tiveram êxito e avanços entre os municípios. A guerra para expulsá-los só foi vencida com uma junção de três fatores...*

Nesse trecho, o pronome oblíquo *los* substitui o termo

- (A) embates.
- (B) fatores.
- (C) avanços.
- (D) municípios.
- (E) veículos.

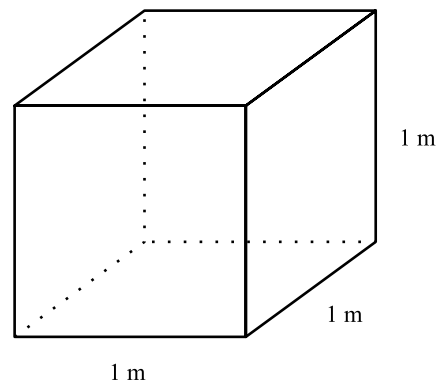
11. Lúcia vendeu um computador por R\$ 840,00, tendo um prejuízo de 30% sobre o preço de custo. Se Lúcia tivesse vendido o computador por R\$ 1.020,00, ela teria, em relação ao preço de custo, um

- (A) lucro de 21,4%.
- (B) lucro de 18%.
- (C) lucro de 7,2%.
- (D) prejuízo de 15%.
- (E) prejuízo de 7,05%.

12. Ana é dona de uma loja de presentes. Para embrulhar os presentes ela pode escolher entre três cores de fita. Ana tem 12,6 m de fita branca, 19,6 m de fita azul e 28,0 m de fita verde, todas com a mesma largura. Ela deve cortá-las em pedaços iguais, de modo que eles tenham o maior comprimento possível. Supondo que não haja desperdício de fita, o número de pedaços de fita azul a ser obtido é

- (A) 6.
- (B) 9.
- (C) 12.
- (D) 14.
- (E) 24.

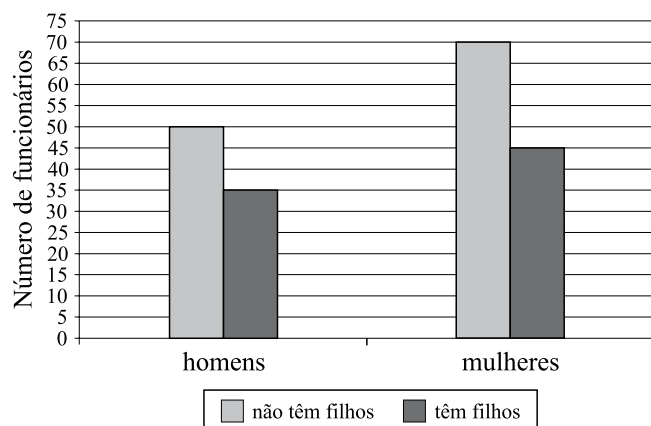
13. Um reservatório tem a forma de um cubo com 1 metro de aresta e está completamente cheio de água. Ele está assentado em uma superfície horizontal. Se forem retirados 100 litros de seu conteúdo, o nível de água passará a ser de



- (A) 10 cm.
- (B) 25 cm.
- (C) 50 cm.
- (D) 75 cm.
- (E) 90 cm.

14. Um motorista percorre uma distância com velocidade constante de 80 km/h em 4 horas. Se ele dirigisse a uma velocidade constante de 120 km/h, faria o mesmo percurso em
- (A) 2 horas.
 (B) 2 horas e 6 minutos.
 (C) 2 horas e 40 minutos.
 (D) 3 horas.
 (E) 3 horas e 20 minutos.

15. O gráfico apresenta dados referentes aos funcionários de uma fábrica.



Analise as seguintes afirmações a respeito do gráfico:

- I. do total dos funcionários, 57,5% são mulheres;
 II. do total dos funcionários, 45% têm filhos;
 III. dentre os funcionários que têm filhos, 43,75% são homens.

É correto afirmar que é verdadeiro o que se afirma em

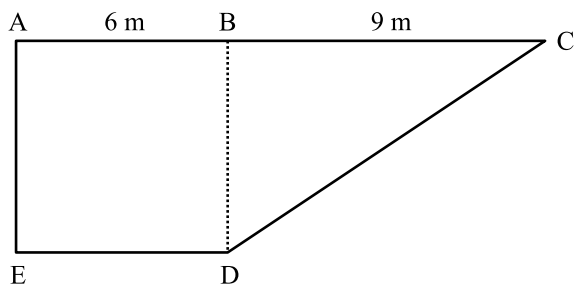
- (A) I, apenas.
 (B) I e II, apenas.
 (C) I e III, apenas.
 (D) II e III, apenas.
 (E) I, II e III.
16. Em uma escola foi feita uma pesquisa em que os alunos tiveram que indicar sua disciplina preferida. Cada aluno escolheu apenas uma disciplina. Dentre os entrevistados, $\frac{1}{4}$ dos alunos escolheu Inglês como a disciplina preferida, ao passo que $\frac{1}{3}$ preferiu Matemática. Sabe-se que $\frac{3}{5}$ do restante dos alunos indicou História como a disciplina preferida. Se o número de alunos que escolheu História é 90, conclui-se que o número total de funcionários entrevistados foi
- (A) 180 alunos.
 (B) 240 alunos.
 (C) 300 alunos.
 (D) 360 alunos.
 (E) 420 alunos.

17. A tabela apresenta os números de funcionários relativos, respectivamente, às funções: gerente, analista de sistemas e escriturário. Nessa tabela também consta o salário mensal correspondente a cada uma dessas funções.

FUNÇÃO	SALÁRIO (R\$)	N.º DE FUNCIONÁRIOS
Gerente	6.000,00	2
Analista de sistema	3.000,00	4
Escriturário	1.200,00	14
Total		20

A respeito dessa tabela, pode-se concluir que, nessa firma, o salário médio desses empregados é de

- (A) R\$ 1.800,00.
 (B) R\$ 2.040,00.
 (C) R\$ 2.250,00.
 (D) R\$ 2.750,00.
 (E) R\$ 3.400,00.
18. No quintal de Ana há uma horta que apresenta o formato da figura a seguir. Sabe-se que nessa figura, ABDE é um quadrado, e BCD é um triângulo retângulo em B.



Analise as seguintes afirmações a respeito da horta ACDE:

- I. a medida da diagonal do quadrado ABDE é, aproximadamente, igual a 8,5 m;
 II. para cercar todo o contorno da horta serão necessários, aproximadamente, 37,8 m de cerca;
 III. a área dessa horta é de 63 m².

É verdadeiro o que se afirma em

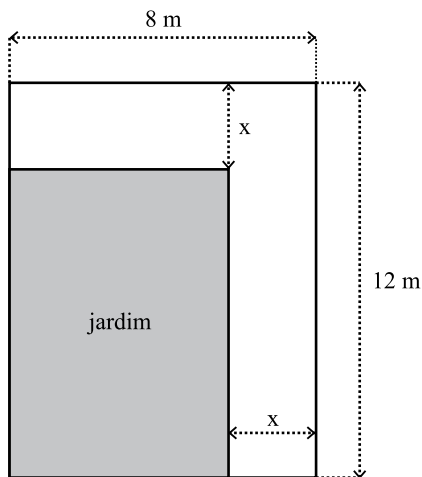
- (A) I, apenas.
 (B) III, apenas.
 (C) I e II, apenas.
 (D) I e III, apenas.
 (E) I, II e III.

19. Considere o trecho da reta numérica, representado a seguir. Os pontos destacados dividem a reta em intervalos iguais.



Nessa representação, o número correspondente ao ponto P é

- (A) primo.
 (B) múltiplo de 7.
 (C) múltiplo de 11.
 (D) divisor de 36.
 (E) racional não inteiro.
20. Pedro tem um terreno retangular e nele quer construir um jardim também retangular. Ele vai ladrilhar uma calçada que deverá contornar os dois lados consecutivos do jardim, conforme mostra a figura.



Pedro deseja que seu jardim tenha área de 45 m^2 . Uma equação que permite calcular o valor de x é

- (A) $x^2 - 20x + 51 = 0$.
 (B) $x^2 - 20x - 45 = 0$.
 (C) $x^2 - 20x + 45 = 0$.
 (D) $x^2 - 45x - 96 = 0$.
 (E) $x^2 - 45x + 96 = 0$.

ATUALIDADES

21. *Presidente do (...), o maior provedor de serviços de comércio eletrônico do país, o engenheiro Romero Rodrigues comemorou, na quinta-feira, seus 32 anos como um dos empresários mais bem-sucedidos do ramo. Dois dias antes, ele tinha anunciado a venda de 91% de sua empresa – construída com três colegas de faculdade – por US\$ 342 milhões ao Naspers, um grupo de mídia com sede na África do Sul.*

(Folha de S.Paulo, 04.10.2009)

Esse provedor de serviços de comércio eletrônico é o

- (A) Mercado Livre.
 - (B) Buscapé.
 - (C) Já Cotei.
 - (D) Bondfaro.
 - (E) Submarino.
22. Em novembro de 2009, a Polícia Federal deflagrou a Operação Caixa de Pandora. Em fevereiro de 2010, o governador do Distrito Federal, José Roberto Arruda, foi preso sob a acusação de tentar subornar testemunha do caso e, em março, seu mandato foi cassado. Essa operação está relacionada à suspeita de
- (A) criação de um mensalão para os deputados da base aliada do governador Arruda.
 - (B) uso dos meios de comunicação oficial do Distrito Federal para práticas ilícitas.
 - (C) divulgação de dados sigilosos do governo para deputados opositoristas.
 - (D) fraude na licitação para os eventos de comemoração dos 50 anos de Brasília.
 - (E) suborno a deputados e senadores para aprovarem a reeleição indireta de Arruda.
23. Na eleição presidencial de novembro de 2009, o ex-guerrilheiro tupamaro José Mujica, candidato da coalizão de esquerda Frente Ampla, saiu-se vitorioso. Mujica foi empossado presidente do
- (A) Paraguai.
 - (B) Chile.
 - (C) Uruguai.
 - (D) Peru.
 - (E) Equador.

24. Em 31 de julho de 2009, uma decisão judicial impediu um órgão de imprensa de publicar notícias sobre a Operação Boi Barrica, da Polícia Federal, a pedido de Fernando Sarney, que retirou a ação em dezembro. Essa censura atingiu

- (A) a Revista *Veja*.
- (B) o jornal *Folha de S.Paulo*.
- (C) a Revista *Época*.
- (D) o jornal *O Estado de S.Paulo*.
- (E) a Revista *IstoÉ*.

25. A médica Zilda Arns morreu sob os escombros de uma igreja em Porto Príncipe, durante o terremoto que atingiu o Haiti, em janeiro de 2010, após fazer uma palestra. Indicada ao Prêmio Nobel por seu trabalho, essa brasileira está ligada à fundação da

- (A) Pastoral da Terra.
- (B) campanha Criança Esperança.
- (C) organização Médicos Sem Fronteiras.
- (D) Fundação Abrinq.
- (E) Pastoral da Criança.

26. *Uma das principais cidades históricas do Estado, (...) ficou completamente alagada ontem devido à chuva (...). Dos cerca de 10 500 habitantes, (...) mais de 85% dos moradores tiveram que deixar suas residências.*

Fundada em 1769, a cidade, próxima a Taubaté, tem cerca de 90 casas térreas e sobrados tombados pelo patrimônio histórico (...).

(Folha de S.Paulo, 03.01.2010)

A reportagem refere-se a

- (A) Cunha.
- (B) Santo Antonio do Pinhal.
- (C) Angra dos Reis.
- (D) São Luiz do Paraitinga.
- (E) Bananal.

27. *Festa, luto e uma partida dramática marcaram o início da Copa Africana de Nações, em Luanda, capital angolana. (...) Diante de um público de 50 mil pessoas, o presidente não fugiu do principal tema no começo do torneio (...).*

“Condenamos esse ato de terrorismo, porém a competição continuará em Cabinda. Não há nada a temer”, disse o presidente em seu discurso.

(Folha de S.Paulo, 11.01.2010)

O presidente angolano referia-se

- (A) ao ataque de um grupo separatista ao ônibus da delegação do Togo.
- (B) à explosão de uma bomba na sede da federação de futebol do país.
- (C) aos atentados de grupos radicais islâmicos nas imediações do estádio.
- (D) à violência das gangues que atacam turistas nos países africanos.
- (E) ao envolvimento da Al Qaeda no sequestro de jogadores angolanos.

CONHECIMENTOS ESPECÍFICOS

28. Uma mobilização, convocada pelo governador Sérgio Cabral, reuniu, em 17 de março de 2010, milhares de pessoas no centro do Rio de Janeiro. Foi um protesto contra

- (A) os atos de violência, principalmente na capital, incitados por narcotraficantes.
- (B) as mudanças na lei que regula a distribuição dos royalties do petróleo.
- (C) o corte de subsídios federais para as obras de combate às enchentes.
- (D) a exclusão de alguns estados nas ações da empresa de petróleo do pré-sal.
- (E) a proposta de emenda constitucional que limita o repasse de verbas federais.

29. *Na véspera da reunião de cúpula dos 27 chefes de Estado e de governo da União Europeia, (...) a moeda única desabou ao seu valor mais baixo em dez meses, em relação ao dólar.*

Dois fatores motivaram a desvalorização: o ceticismo do mercado com um acordo entre Alemanha e França para ajuda à Grécia e o rebaixamento da nota de dívida (...) pela agência de classificação de risco Fitch.

(O Estado de S.Paulo, 25.03.2010)

O país que sofreu esse rebaixamento foi

- (A) Irlanda do Norte.
- (B) Bélgica.
- (C) Portugal.
- (D) Holanda.
- (E) Eslováquia.

30. Uma lei, aprovada pelo Senado norte-americano, em dezembro de 2009, e pela Câmara, em março de 2010, foi considerada um “avanço histórico” no país e “a maior vitória” do governo Barack Obama até o momento. Trata-se

- (A) da ampliação dos direitos trabalhistas com a incorporação do setor informal.
- (B) da reforma do sistema financeiro com impostos para os grandes bancos.
- (C) do fechamento da prisão de Guantánamo, antiga promessa de campanha.
- (D) da extensão da cidadania aos imigrantes ilegais no país há cinco anos.
- (E) da reforma do sistema de saúde com a universalização da assistência médica.

31. A Lei n.º 11.788, de setembro de 2008, em seu Capítulo I, define e classifica aspectos relacionados ao estágio. Em seu art. 5.º, § 1.º, informa que cabe aos agentes de integração, como auxiliares no processo de aperfeiçoamento do instituto do estágio,

- (A) avaliar as instalações da parte concedente do estágio.
- (B) indicar professor orientador da área a ser desenvolvida no estágio.
- (C) exigir do educando a apresentação do relatório das atividades.
- (D) elaborar normas complementares e instrumentos de avaliação dos estágios.
- (E) cadastrar os estudantes.

32. A Lei Complementar n.º 943, de 23 de junho de 2003, em seu artigo 1.º, determina:

- (A) Fica instituída contribuição previdenciária mensal destinada ao custeio de aposentadoria e reforma, nos termos dessa Lei Complementar.
- (B) O custeio das aposentadorias e das reformas será atendido pela contribuição previdenciária mensal dos contribuintes obrigatórios indicados no artigo 2.º dessa Lei Complementar.
- (C) A contribuição previdenciária mensal de que trata essa Lei Complementar corresponderá à alíquota de 5% (cinco por cento) sobre o valor constituído por vencimentos ou salários.
- (D) Para contribuição, ficam excluídas as vantagens pessoais e demais vantagens de qualquer natureza, como o salário-família e as ajudas de custo.
- (E) Os recursos provenientes da contribuição instituída por essa Lei Complementar serão destinados, exclusivamente, para compor o custeio dos proventos das aposentadorias dos servidores públicos.

33. O conflito ocorre dentro de um contexto de relacionamentos contínuos entre pessoas, grupos e organizações. O conflito somente existe quando ocorre a

- (A) interferência deliberada exercida de um grupo sobre outro e que impede a tentativa desse último de atingir seus objetivos.
- (B) exacerbada diferença de atividades desenvolvidas por um grupo em razão de sua complexidade.
- (C) necessidade de ampliar a produtividade e acrescentar horas adicionais de trabalho na rotina da organização.
- (D) apresentação de baixa oferta de benefícios sociais oferecidos pela organização, em comparação com os benefícios compulsórios.
- (E) diminuição do grau de motivação para o trabalho desencadeada pela ausência de informação.

34. Pode-se definir liderança como o processo de dirigir e influenciar as atividades relacionadas às tarefas dos membros de um grupo. Porém, existem implicações importantes nessa definição: a liderança envolve outras pessoas; a liderança envolve uma distribuição desigual de poder entre os líderes e os demais membros do grupo. Isso implica na capacidade de usar diferentes formas de poder para influenciar, de vários modos, os seguidores. No modelo autocrático, a liderança
- (A) atua com a equipe, de forma consultiva.
 - (B) tem seu foco apenas nas tarefas.
 - (C) mantém a autodirigibilidade da equipe.
 - (D) permite que as diretrizes sejam debatidas pela equipe.
 - (E) deixa que a equipe escolha seus novos membros.
35. As barreiras no processo de comunicação podem ser pessoais, físicas e semânticas. As barreiras semânticas estão relacionadas a
- (A) ocorrências locais, espaço físico, significado de sinais e sentido das lembranças.
 - (B) valores, hábitos, emoções e motivações.
 - (C) sentimentos, ambiente, distração, ruídos, distância física.
 - (D) limitações, falha mecânica, preocupações, sentimentos individuais.
 - (E) símbolos, palavras, gestos, diferenças de linguagem.
36. Entre as teorias da motivação, está aquela que se alicerça em dois fatores: higiênicos e motivacionais. Essa teoria apresenta como fatores motivacionais
- (A) a relação com os colegas.
 - (B) as condições de trabalho e conforto.
 - (C) a relação com o superior.
 - (D) a ampliação ou enriquecimento do cargo.
 - (E) o salário e a remuneração.
37. Dispensar ou inexigir licitação fora das hipóteses previstas em lei, ou deixar de observar as formalidades pertinentes à dispensa ou à inexigibilidade é
- (A) contravenção penal, sujeita a multa.
 - (B) infração administrativa, sujeita a demissão por justa causa.
 - (C) crime, sujeito a pena de três a cinco anos de detenção e multa.
 - (D) contravenção penal, sujeita a multa e até seis meses de detenção.
 - (E) crime, sujeito a pena de oito a doze anos de detenção.
38. No que se refere à habilitação ou inabilitação de licitante,
- (A) não cabe recurso.
 - (B) cabe recurso apenas para obras de engenharia.
 - (C) não cabe recurso no caso de serviços.
 - (D) cabe recurso, no prazo de cinco dias úteis a contar da intimação do ato ou da lavratura da ata.
 - (E) cabe recurso, no prazo de trinta dias úteis a contar da intimação do ato ou da lavratura da ata.
39. Subordinam-se ao regime da Lei n.º 8.666/93:
- I. Fundações públicas;
 - II. Empresas públicas;
 - III. Sociedades de economia mista.
- Está correto o que consta em
- (A) I, apenas.
 - (B) I e II, apenas.
 - (C) I e III, apenas.
 - (D) II e III, apenas.
 - (E) I, II e III.
40. De acordo com a Lei n.º 4.320/64, dotações para manutenção de serviços anteriormente criados, inclusive as destinadas a atender a obras de conservação e adaptação de bens imóveis, são denominadas
- (A) despesas de custeio.
 - (B) transferências correntes.
 - (C) investimentos.
 - (D) inversões financeiras.
 - (E) transferências de capital.
41. De acordo com a Resolução n.º 02/2009 da Investe São Paulo, modalidade de licitação entre quaisquer interessados para aquisição de bens e serviços, qualquer que seja o valor estimado da contratação, realizada em sessão pública, podendo ser presencial, com propostas impressas e lances verbais, ou no ambiente Internet, com propostas e lances eletrônicos, vedada a sua utilização para contratação de obras e serviços de engenharia, é denominada
- (A) concorrência.
 - (B) convite.
 - (C) concurso.
 - (D) leilão.
 - (E) pregão.
42. Se o Índice de Liquidez Corrente de uma empresa é igual a 1, isso significa que
- (A) o ativo circulante é igual ao passivo circulante mais estoques.
 - (B) o ativo circulante é igual ao passivo circulante.
 - (C) o ativo circulante é igual ao patrimônio líquido.
 - (D) o ativo total é igual ao passivo circulante.
 - (E) o ativo total é igual ao passivo mais patrimônio líquido.

43. Um projeto de investimento é composto do seguinte fluxo de caixa: aporte inicial de R\$ 1.000 no ano 0 e retorno, nos anos seguintes, de R\$ 100 (ano 1), R\$ 200 (ano 2), R\$ 300 (ano 3) e R\$ 400 (ano 4). Pode-se dizer que a taxa interna de retorno desse projeto é
- (A) zero.
 - (B) negativa.
 - (C) positiva, porém inferior a 10% ao ano.
 - (D) 10% ao ano.
 - (E) impossível de determinar.
44. De acordo com o estatuto do Investe São Paulo, as demonstrações contábeis e a respectiva prestação de contas compete à(ao)
- (A) Diretoria Executiva.
 - (B) Conselho Fiscal.
 - (C) Conselho Deliberativo.
 - (D) Diretoria Financeira.
 - (E) Presidência.
45. São todos órgãos de direção da INVESTE SÃO PAULO:
- (A) Diretoria Executiva, Conselho Fiscal e Conselho Consultivo.
 - (B) Diretoria Executiva, Conselho Deliberativo e Conselho Fiscal.
 - (C) Diretoria Deliberativa, Diretoria Executiva e Conselho Fiscal.
 - (D) Diretoria, Órgão Executivo e Órgão Contábil.
 - (E) Diretoria, Conselho Fiscal e Conselho Consultivo.
46. A INVESTE SÃO PAULO
- (A) é um serviço social autônomo.
 - (B) constitui-se em pessoa jurídica de direito público.
 - (C) é pessoa jurídica de direito privado com fins lucrativos.
 - (D) vincula-se à Secretaria da Ciência e da Tecnologia.
 - (E) terá seu presidente escolhido e nomeado pelo Secretário de Estado.
47. A Diretoria Executiva da INVESTE SÃO PAULO é composta por
- (A) 1 (um) Presidente e 1 (um) Diretor.
 - (B) 1 (um) Presidente, 1 (um) Diretor e 1 (um) Secretário.
 - (C) 1 (um) Diretor e 1 (um) Secretário.
 - (D) 1 (um) Presidente e 3 (três) Diretores.
 - (E) 2 (dois) Diretores.
48. O regime jurídico do pessoal da INVESTE SÃO PAULO será
- (A) o estatutário.
 - (B) o regime próprio dos servidores públicos do Estado de São Paulo.
 - (C) o da legislação trabalhista e previdenciária.
 - (D) definido pelo Governador do Estado.
 - (E) aquele estabelecido em conjunto com a Diretoria e o Conselho Consultivo.
49. Deliberar sobre alteração do Estatuto Social da INVESTE SÃO PAULO é competência
- (A) do Conselho Consultivo.
 - (B) da Diretoria Executiva.
 - (C) do Governador.
 - (D) do Secretário Estadual.
 - (E) do Conselho Deliberativo.
50. Conforme o Estatuto da INVESTE SÃO PAULO, a sua Diretoria se reunirá, no mínimo,
- (A) mensalmente.
 - (B) diariamente.
 - (C) quinzenalmente.
 - (D) bimestralmente.
 - (E) trimestralmente.