

CONCURSO PÚBLICO

5. PROVA OBJETIVA

AGENTE DE MANUTENÇÃO DE SISTEMAS (SISTEMAS ELÉTRICOS)

- ♦ VOCÊ RECEBEU SUA FOLHA DE RESPOSTAS E ESTE CADERNO CONTENDO 40 QUESTÕES OBJETIVAS.
- ♦ CONFIRA SEU NOME E NÚMERO DE INSCRIÇÃO IMPRESSOS NA CAPA DESTE CADERNO.
- ♦ LEIA CUIDADOSAMENTE AS QUESTÕES E ESCOLHA A RESPOSTA QUE VOCÊ CONSIDERA CORRETA.
- ♦ RESPONDA A TODAS AS QUESTÕES.
- ♦ MARQUE, NA FOLHA INTERMEDIÁRIA DE RESPOSTAS, LOCALIZADA NO VERSO DESTA PÁGINA, A LETRA CORRESPONDENTE À ALTERNATIVA QUE VOCÊ ESCOLHEU.
- ♦ TRANSCREVA PARA A FOLHA DE RESPOSTAS, COM CANETA DE TINTA AZUL OU PRETA, TODAS AS RESPOSTAS ANOTADAS NA FOLHA INTERMEDIÁRIA DE RESPOSTAS.
- ♦ A DURAÇÃO DA PROVA É DE 3 HORAS.
- ♦ A SAÍDA DO CANDIDATO DA SALA SERÁ PERMITIDA APÓS TRANSCORRIDA A METADE DO TEMPO DE DURAÇÃO DA PROVA.
- ♦ AO SAIR, VOCÊ ENTREGARÁ AO FISCAL A FOLHA DE RESPOSTAS E ESTE CADERNO, PODENDO DESTACAR ESTA CAPA PARA FUTURA CONFERÊNCIA COM O GABARITO A SER DIVULGADO.

AGUARDE A ORDEM DO FISCAL PARA ABRIR ESTE CADERNO DE QUESTÕES.

FOLHA INTERMEDIÁRIA DE RESPOSTAS

AGENTE DE MANUTENÇÃO DE SISTEMAS (SISTEMAS ELÉTRICOS)

QUESTÃO	RESPOSTA				
01	<input type="checkbox"/> A	<input type="checkbox"/> B	<input type="checkbox"/> C	<input type="checkbox"/> D	<input type="checkbox"/> E
02	<input type="checkbox"/> A	<input type="checkbox"/> B	<input type="checkbox"/> C	<input type="checkbox"/> D	<input type="checkbox"/> E
03	<input type="checkbox"/> A	<input type="checkbox"/> B	<input type="checkbox"/> C	<input type="checkbox"/> D	<input type="checkbox"/> E
04	<input type="checkbox"/> A	<input type="checkbox"/> B	<input type="checkbox"/> C	<input type="checkbox"/> D	<input type="checkbox"/> E
05	<input type="checkbox"/> A	<input type="checkbox"/> B	<input type="checkbox"/> C	<input type="checkbox"/> D	<input type="checkbox"/> E

06	<input type="checkbox"/> A	<input type="checkbox"/> B	<input type="checkbox"/> C	<input type="checkbox"/> D	<input type="checkbox"/> E
07	<input type="checkbox"/> A	<input type="checkbox"/> B	<input type="checkbox"/> C	<input type="checkbox"/> D	<input type="checkbox"/> E
08	<input type="checkbox"/> A	<input type="checkbox"/> B	<input type="checkbox"/> C	<input type="checkbox"/> D	<input type="checkbox"/> E
09	<input type="checkbox"/> A	<input type="checkbox"/> B	<input type="checkbox"/> C	<input type="checkbox"/> D	<input type="checkbox"/> E
10	<input type="checkbox"/> A	<input type="checkbox"/> B	<input type="checkbox"/> C	<input type="checkbox"/> D	<input type="checkbox"/> E

11	<input type="checkbox"/> A	<input type="checkbox"/> B	<input type="checkbox"/> C	<input type="checkbox"/> D	<input type="checkbox"/> E
12	<input type="checkbox"/> A	<input type="checkbox"/> B	<input type="checkbox"/> C	<input type="checkbox"/> D	<input type="checkbox"/> E
13	<input type="checkbox"/> A	<input type="checkbox"/> B	<input type="checkbox"/> C	<input type="checkbox"/> D	<input type="checkbox"/> E
14	<input type="checkbox"/> A	<input type="checkbox"/> B	<input type="checkbox"/> C	<input type="checkbox"/> D	<input type="checkbox"/> E
15	<input type="checkbox"/> A	<input type="checkbox"/> B	<input type="checkbox"/> C	<input type="checkbox"/> D	<input type="checkbox"/> E

16	<input type="checkbox"/> A	<input type="checkbox"/> B	<input type="checkbox"/> C	<input type="checkbox"/> D	<input type="checkbox"/> E
17	<input type="checkbox"/> A	<input type="checkbox"/> B	<input type="checkbox"/> C	<input type="checkbox"/> D	<input type="checkbox"/> E
18	<input type="checkbox"/> A	<input type="checkbox"/> B	<input type="checkbox"/> C	<input type="checkbox"/> D	<input type="checkbox"/> E
19	<input type="checkbox"/> A	<input type="checkbox"/> B	<input type="checkbox"/> C	<input type="checkbox"/> D	<input type="checkbox"/> E
20	<input type="checkbox"/> A	<input type="checkbox"/> B	<input type="checkbox"/> C	<input type="checkbox"/> D	<input type="checkbox"/> E

QUESTÃO	RESPOSTA				
21	<input type="checkbox"/> A	<input type="checkbox"/> B	<input type="checkbox"/> C	<input type="checkbox"/> D	<input type="checkbox"/> E
22	<input type="checkbox"/> A	<input type="checkbox"/> B	<input type="checkbox"/> C	<input type="checkbox"/> D	<input type="checkbox"/> E
23	<input type="checkbox"/> A	<input type="checkbox"/> B	<input type="checkbox"/> C	<input type="checkbox"/> D	<input type="checkbox"/> E
24	<input type="checkbox"/> A	<input type="checkbox"/> B	<input type="checkbox"/> C	<input type="checkbox"/> D	<input type="checkbox"/> E
25	<input type="checkbox"/> A	<input type="checkbox"/> B	<input type="checkbox"/> C	<input type="checkbox"/> D	<input type="checkbox"/> E

26	<input type="checkbox"/> A	<input type="checkbox"/> B	<input type="checkbox"/> C	<input type="checkbox"/> D	<input type="checkbox"/> E
27	<input type="checkbox"/> A	<input type="checkbox"/> B	<input type="checkbox"/> C	<input type="checkbox"/> D	<input type="checkbox"/> E
28	<input type="checkbox"/> A	<input type="checkbox"/> B	<input type="checkbox"/> C	<input type="checkbox"/> D	<input type="checkbox"/> E
29	<input type="checkbox"/> A	<input type="checkbox"/> B	<input type="checkbox"/> C	<input type="checkbox"/> D	<input type="checkbox"/> E
30	<input type="checkbox"/> A	<input type="checkbox"/> B	<input type="checkbox"/> C	<input type="checkbox"/> D	<input type="checkbox"/> E

31	<input type="checkbox"/> A	<input type="checkbox"/> B	<input type="checkbox"/> C	<input type="checkbox"/> D	<input type="checkbox"/> E
32	<input type="checkbox"/> A	<input type="checkbox"/> B	<input type="checkbox"/> C	<input type="checkbox"/> D	<input type="checkbox"/> E
33	<input type="checkbox"/> A	<input type="checkbox"/> B	<input type="checkbox"/> C	<input type="checkbox"/> D	<input type="checkbox"/> E
34	<input type="checkbox"/> A	<input type="checkbox"/> B	<input type="checkbox"/> C	<input type="checkbox"/> D	<input type="checkbox"/> E
35	<input type="checkbox"/> A	<input type="checkbox"/> B	<input type="checkbox"/> C	<input type="checkbox"/> D	<input type="checkbox"/> E

36	<input type="checkbox"/> A	<input type="checkbox"/> B	<input type="checkbox"/> C	<input type="checkbox"/> D	<input type="checkbox"/> E
37	<input type="checkbox"/> A	<input type="checkbox"/> B	<input type="checkbox"/> C	<input type="checkbox"/> D	<input type="checkbox"/> E
38	<input type="checkbox"/> A	<input type="checkbox"/> B	<input type="checkbox"/> C	<input type="checkbox"/> D	<input type="checkbox"/> E
39	<input type="checkbox"/> A	<input type="checkbox"/> B	<input type="checkbox"/> C	<input type="checkbox"/> D	<input type="checkbox"/> E
40	<input type="checkbox"/> A	<input type="checkbox"/> B	<input type="checkbox"/> C	<input type="checkbox"/> D	<input type="checkbox"/> E

LÍNGUA PORTUGUESA

Leia o texto para responder às questões de números 01 a 05.

Adeus ao fogão

Sento à mesa com o estômago dançando de tanta fome. Há quarenta minutos, eu, minha cunhada e as duas sobrinhas esperamos a feijoada descongelar. A carne-seca, o toucinho e o paio imersos no caldo negro são, finalmente, apresentados. Encho o prato, degusto a primeira garfada. Puro sabor de asfalto. As duas sobrinhas quase desmaiam de enjoo, enquanto minha cunhada dá a notícia:

– Queimou.

Um sentimento de tragédia paira no ar. As três sabichonas mal sabem fritar um ovo. Proponho fugir para um restaurante. Concordam, entusiasmadas. Saímos em direção ao mais próximo. Pouco depois, com as cabeças enfiadas em tigelas de feijão-preto, conversamos. Estou surpreso: não sabem cozinhar nem numa situação de emergência?

– Uma vez eu fiz uma sopa num acampamento – conta uma das minhas sobrinhas. – Mas de pacotinho!

É uma constatação: as mulheres andam com orgulho de ficar longe do fogão e das panelas. Fico impressionado com o número de mães que criam seus filhos à base de salsicha e hambúrguer.

Essa geração acha vantagem confundir berinjela com abobrinha. As que cozinham melhor são especializadas num único prato. Conheço uma garota que adora fazer frango no azeite. Afoga peitos e coxas numa forma repleta de óleo e deixa no forno até secar. Se algum convidado tiver colesterol alto, morre no jantar. Outra se sente o máximo quando coloca macarrão, que mais parece chiclete, na minha frente.

Um amigo recém-casado diz que a mulher só sabe fazer estrogonofê. Cada vez que ele vê os pedacinhos de carne boiando no molho tem vontade de chamar a mãe. Outro dia pediu para a esposa fazer um bolo. Saiu um pedaço de cimento.

Algumas mulheres, mais cruéis, vivem fazendo regime e submetem o marido a ele. Um rapaz começou a emagrecer. Quando estava quase despencando, revelou:

– No jantar, só salada de alface e cenoura ralada. Ela emagreceu, eu sumi. O pior é que ela me faz ralar as cenouras, para não quebrar as unhas. Às vezes acordo no meio da noite sonhando com um belo bife.

No último natal, ofereci a uma prima um livro de receitas. Meses depois me convidou para jantar. O menu: comida chinesa, entregue em casa. Surpreendido, perguntei-lhe:

– E o livro que te dei de presente?

– Estou lendo! – respondeu alegremente.

– Não é um romance para ler! É para fazer!

Ela me encarou, magoada. Mesmo assim, pretendo continuar a presentear as mulheres com livros de receitas. Pode ser até que não dê certo, mas adoro ver a expressão de susto delas quando abrem o pacote!

(Walcyr Carrasco. *Pequenos Delitos e Outras Crônicas*. Adaptado)

01. De acordo com o texto, pode-se afirmar que a ida ao restaurante ocorreu porque

- (A) há muito tempo não comiam fora de casa.
- (B) as mulheres não sabiam cozinhar.
- (C) a feijoada não foi suficiente para as quatro pessoas.
- (D) já haviam combinado um encontro no restaurante.
- (E) desejavam provar uma comida diferente.

02. Segundo o texto, tempos depois de o autor ter oferecido um livro de receitas a uma prima, verificou que ela

- (A) não estava testando as receitas.
- (B) apreciou muito as receitas chinesas.
- (C) já havia aprendido a cozinhar.
- (D) fez comida chinesa para o primo.
- (E) pôs em prática o que leu no livro.

03. Na frase – *Encho o prato, degusto a primeira garfada.* – a forma verbal **degusto** pode ser substituída, sem alteração de sentido, por

- (A) cheiro.
- (B) apalpo.
- (C) experimento.
- (D) rejeito.
- (E) ofereço.

04. *Essa geração acha vantagem confundir berinjela com abobrinha.* A forma verbal **confundir** tem sentido contrário de

- (A) misturar.
- (B) preferir.
- (C) provar.
- (D) conferir.
- (E) distinguir.

05. Assinale a alternativa que apresenta palavra com sentido figurado.

- (A) Há quarenta minutos esperamos a feijoada descongelar.
- (B) Sento à mesa com o estômago dançando de tanta fome.
- (C) Não sabem cozinhar nem numa situação de emergência?
- (D) Conheço uma garota que adora fazer frango no azeite.
- (E) Outro dia pediu para a esposa fazer um bolo

06. Considere as frases:

- I. Ela me **faz** ralar as cenouras, para não quebrar as unhas.
- II. Se algum convidado **tiver** colesterol alto, morre no jantar.
- III. Uma vez eu **fiz** uma sopa num acampamento.

O verbo destacado está no tempo passado apenas em

- (A) I.
- (B) II.
- (C) III.
- (D) I e II.
- (E) II e III.

07. Na frase – *As duas sobrinhas quase desmaiam de enjoo...* – a preposição **de**, destacada, tem sentido de

- (A) causa.
- (B) tempo.
- (C) assunto.
- (D) lugar.
- (E) posse.

08. Assinale a alternativa em que a pontuação está correta.

- (A) Algumas mulheres de acordo, com o autor, só sabem fazer, um tipo de comida.
- (B) Algumas mulheres de acordo com o autor, só sabem fazer um tipo, de comida.
- (C) Algumas mulheres, de acordo com o autor só sabem, fazer, um tipo de comida.
- (D) Algumas mulheres, de acordo com o autor, só sabem fazer um tipo de comida.
- (E) Algumas mulheres, de acordo com o autor só sabem, fazer um tipo de comida.

09. Assinale a alternativa em que o uso da crase está correto.

- (A) Ele ofereceu à namorada um livro de receitas.
- (B) Sua mãe voltou à cozinhar como antigamente.
- (C) O rapaz pediu à ela que fizesse um bolo.
- (D) O autor foi à um jantar na casa da prima.
- (E) São muitas às mulheres que fazem regimes.

10. Na frase – Se aqueles ingredientes _____ sido bem _____, os clientes não _____ de que reclamar. – as palavras que preenchem, correta e respectivamente, as lacunas são:

- (A) tivesse ... escolhido ... teria
- (B) tivessem ... escolhidos ... teria
- (C) tivessem ... escolhido ... teriam
- (D) tivesse ... escolhidos ... teriam
- (E) tivessem ... escolhidos ... teriam

MATEMÁTICA

11. Em um dia de junho de 2009, a temperatura em Porto Alegre, Manaus, São Paulo e em Buenos Aires variou muito, conforme dados colhidos pelos meteorologistas.

CIDADE	TEMPERATURA MÍNIMA	TEMPERATURA MÁXIMA
Porto Alegre	– 3 °C	+ 5 °C
Manaus	+ 22 °C	+ 33 °C
São Paulo	+ 5 °C	+ 19 °C
Buenos Aires	– 4 °C	+ 3 °C

Sendo a variação da temperatura a diferença entre a máxima e a mínima, e colocando essa variação, nesse dia, na ordem crescente, tem-se:

- (A) Buenos Aires, Manaus, Porto Alegre e São Paulo.
- (B) Buenos Aires, Porto Alegre, Manaus e São Paulo.
- (C) Porto Alegre, Buenos Aires, Manaus e São Paulo.
- (D) Porto Alegre, Manaus, Buenos Aires e São Paulo.
- (E) Manaus, Porto Alegre, São Paulo e Buenos Aires.

12. Agenor comprou algumas lembrancinhas para presentear seus familiares. O presente de sua mãe custou o dobro do que custou o presente de seu pai, e o presente de seu irmão, R\$ 12,00 a menos do que custou o presente de seu pai. Pagou a loja onde comprou esses presentes com três notas de R\$ 50,00 e recebeu de troco três notas de R\$ 10,00. Então, o presente de sua mãe custou, a mais do que custou o presente de seu irmão,

- (A) R\$ 45,00.
- (B) R\$ 47,00.
- (C) R\$ 49,00.
- (D) R\$ 51,00.
- (E) R\$ 53,00.

13. Em um bairro onde a coleta de lixo é seletiva, em um dia rígido de controle, foram coletados, do total de lixo, 20% orgânico, $\frac{3}{10}$ de papel, 15 kg de metal, $\frac{1}{15}$ de vidro e de plástico foi coletado o quádruplo do que foi recolhido de vidro. O total de lixo coletado em plástico, nesse dia, foi de

- (A) 6 kg.
- (B) 12 kg.
- (C) 18 kg.
- (D) 24 kg.
- (E) 27 kg.

14. Dona Joanna preparou um refresco para sua família misturando para cada parte de suco concentrado, três partes de água, obtendo, assim, desse refresco, seis copos de 200 mL cada um. Para se obterem 2,4 litros desse refresco, a quantidade necessária de suco concentrado, mantidas as mesmas proporções, será de
- (A) 300 mL.
 (B) 400 mL.
 (C) 450 mL.
 (D) 500 mL.
 (E) 600 mL.

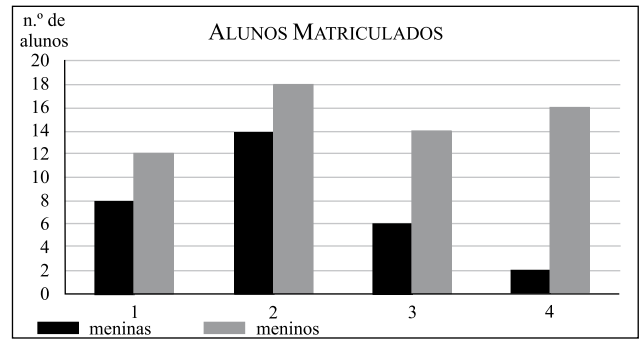
15. Um atacadista de embalagens descartáveis resistentes vende três tipos de sacolas plásticas A, B e C para o transporte de certos produtos. A tabela mostra o número de embalagens resistentes vendidas em um dia e o preço de mil unidades de cada tipo.

EMBALAGEM	A	B	C
PREÇO DE CADA MIL	R\$ 120,00	R\$ 140,00	R\$ 180,00
QUANTIDADE VENDIDA	2 000	1 500	500

Do total arrecadado com a venda das embalagens, 8% são enviados ao laboratório para a pesquisa de uma embalagem biodegradável. O valor enviado ao laboratório, nesse dia, foi

- (A) R\$ 38,60.
 (B) R\$ 43,20.
 (C) R\$ 45,60.
 (D) R\$ 48,20.
 (E) R\$ 52,40.
16. João Carlos comprou um terreno retangular com 392 m². A frente desse terreno tem 14 metros e ele vai murar totalmente esse terreno com um muro de 2 metros de altura, deixando, sem muro, apenas 3 metros para a garagem e 1 metro para a colocação de um portão social. Um pedreiro prometeu construir o muro em 10 dias. Para tanto, ele deve construir, a cada dia,
- (A) 16 m².
 (B) 15 m².
 (C) 14 m².
 (D) 13 m².
 (E) 12 m².

17. O gráfico a seguir mostra o número de alunos matriculados no curso de natação de uma academia nos níveis 1, 2, 3 e 4.



Analisando o gráfico, conclui-se que para cada cinco meninas matriculadas nesse curso, o número de meninos é

- (A) 7.
 (B) 8.
 (C) 9.
 (D) 10.
 (E) 12.
18. Oito trabalhadores fazem uma obra em 16 dias. O número de trabalhadores necessários para fazer a mesma obra, trabalhando no mesmo ritmo, em 8 dias, é
- (A) 4.
 (B) 10.
 (C) 12.
 (D) 14.
 (E) 16.
19. No dia 10 de janeiro, Ibraim e Rachid, sócios em uma loja de roupas, gastaram o mesmo valor na compra de calças para vender na loja. Ibraim pagou, em cada calça, R\$ 90,00, porém Rachid conseguiu um desconto e pagou R\$ 75,00 em cada calça, o que resultou na compra de 30 calças a mais do que as que Ibraim comprou. Após venderem todas essas calças por R\$ 100,00 cada uma, eles obtiveram um lucro de
- (A) R\$ 5.000,00.
 (B) R\$ 5.500,00.
 (C) R\$ 6.000,00.
 (D) R\$ 6.500,00.
 (E) R\$ 7.000,00.
20. Um adulto dá três passos a cada 2 metros e, ao seu lado, uma criança dá sete passos a cada 2,5 metros. Ao completarem 100 metros, o número de passos que a criança terá dado a mais do que o adulto será
- (A) 100.
 (B) 110.
 (C) 120.
 (D) 130.
 (E) 140.

CONHECIMENTOS ESPECÍFICOS

21. Tensão elétrica é

- (A) o fluxo de elétrons livres através de um circuito elétrico.
- (B) a força que impulsiona os elétrons livres através de um circuito elétrico.
- (C) a dificuldade que os elétrons livres encontram ao percorrer um circuito elétrico.
- (D) a capacidade de armazenagem de elétrons livres por segundo.
- (E) a quantidade de ciclos completos que ocorrem em um segundo.

22. O instrumento de medição elétrica utilizado para medir a intensidade de corrente elétrica é o

- (A) amperímetro.
- (B) voltímetro.
- (C) ohmímetro.
- (D) wattímetro.
- (E) capacímetro.

23. As unidades das grandezas elétricas: tensão, potência, resistência e frequência são, respectivamente:

- (A) *ohm, watt, volt e faraday.*
- (B) *watt, volt, ohm e henry.*
- (C) *volt, watt, hertz e ohm.*
- (D) *volt, watt, ohm e hertz.*
- (E) *watt, volt, faraday e hertz.*

24. A característica de um circuito paralelo é que

- (A) a intensidade de corrente elétrica é a mesma em todo o circuito.
- (B) as cargas elétricas são dependentes umas das outras para seu funcionamento.
- (C) as cargas elétricas são independentes entre si.
- (D) a tensão elétrica nas cargas depende do valor da resistência elétrica delas.
- (E) a corrente elétrica tem um único caminho a percorrer.

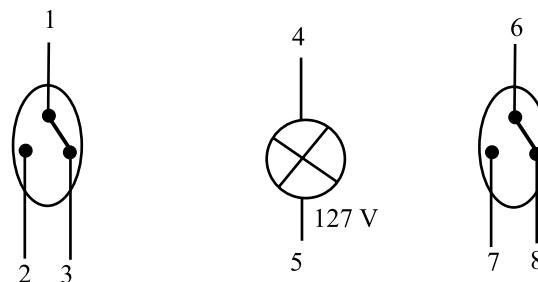

25. Um aquecedor elétrico bifásico 220V/60HZ tem um resistor de $8,8\Omega$ para aquecimento de água. Portanto, a potência elétrica desse aquecedor é de

- (A) 3,2 KW.
- (B) 3,6 KVA.
- (C) 5,5 KW.
- (D) 6,8 KVAR.
- (E) 25 VA.

26. A lâmpada deve ser comandada por dois interruptores paralelos.

Complete o circuito.

127/220 V – 60 HZ

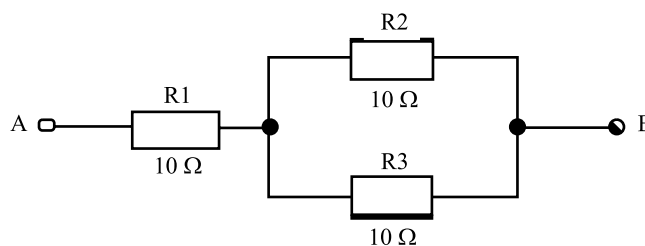


- (A) L1 e 2; L2 e 3; 1 e 4; 5 e 6; L1 e 7; L2 e 8.
- (B) L1 e 2; N e 3; 1 e 8; 5 e 6; L2 e 7; N e 4.
- (C) L1 e 1; 2 e 7; 3 e 8; 5 e 6; L2 e 4.
- (D) L1 e 2; L2 e 3; 1 e 4; 5 e 6; L1 e 7; N e 8.
- (E) L1 e 1; 2 e 7; 3 e 8; 5 e 6; N e 4.

27. O instrumento utilizado para medição de isolamento de um condutor, motor ou transformador elétrico é o

- (A) terrômetro.
- (B) tacômetro.
- (C) fasímetro.
- (D) frequencímetro.
- (E) megômetro.

28. A resistência total entre os pontos A e B no circuito elétrico mostrado é:

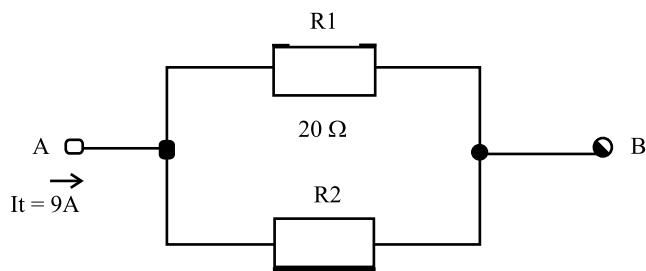


- (A) 10Ω .
- (B) 15Ω .
- (C) 20Ω .
- (D) 30Ω .
- (E) 110Ω .

29. A norma da ABNT NBR 5410/04 - Instalações Elétricas de Baixa Tensão, determina que a seção mínima dos condutores elétricos utilizados em circuitos de tomadas de uso geral e circuitos de força em instalações fixas seja de

- (A) 1 mm^2 .
- (B) $1,5\text{ mm}^2$.
- (C) $2,5\text{ mm}^2$.
- (D) 4 mm^2 .
- (E) 6 mm^2 .

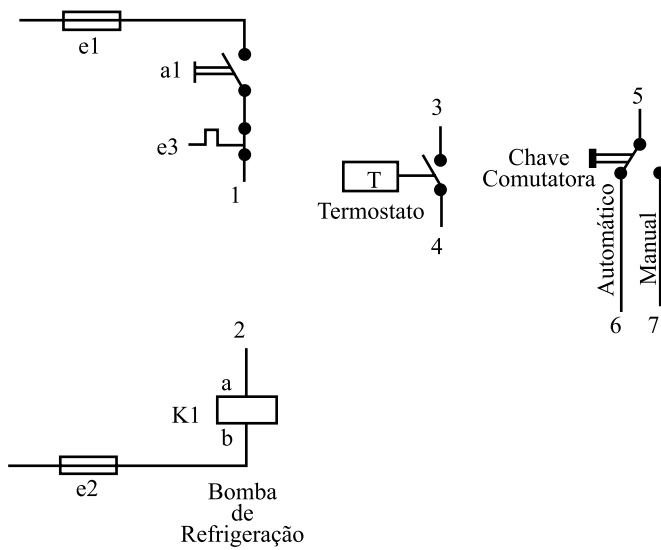
30. O valor da resistência do resistor R_2 no circuito mostrado é:
(Observação: a diferença de potencial entre A e B é 100 V.)



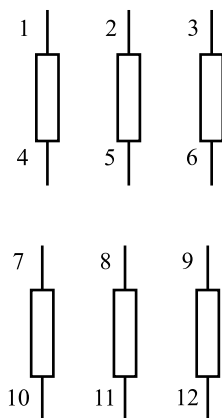
- (A) 5 Ω .
(B) 11,1 Ω .
(C) 20 Ω .
(D) 25 Ω .
(E) 180 Ω .
31. A norma da ABNT NBR 5410/04 determina que os condutores elétricos ocupem a seção transversal interna de um eletroduto de, no máximo,
- (A) 100%.
(B) 80%.
(C) 60%.
(D) 40%.
(E) 20%.
32. Um chuveiro elétrico 6 500 W/220 V foi instalado com condutores elétricos 6 mm² e um disjuntor bipolar de 32 A. Esse disjuntor protege
- (A) os condutores elétricos de 6 mm² contra sobrecarga e curto circuito.
(B) os condutores elétricos de 6 mm² contra sobrecarga.
(C) os condutores elétricos de 6 mm² contra curto circuito.
(D) o chuveiro elétrico contra curto circuito.
(E) o chuveiro elétrico contra sobrecarga.
33. O dispositivo DR (diferencial residual) protege
- (A) os aparelhos elétricos contra curto circuito e sobrecarga.
(B) os aparelhos elétricos contra fuga de corrente.
(C) as pessoas contra os efeitos do choque elétrico e aparelhos elétricos contra descargas atmosféricas.
(D) as pessoas contra os efeitos do choque elétrico e as instalações elétricas contra fuga de corrente.
(E) as pessoas contra os efeitos do choque elétrico e as instalações elétricas contra as sobretensões.
34. Por motivos técnicos, foi instalado em um quadro de distribuição três dispositivos DRs. Para atender a essa necessidade, ter-se-á, então,
- (A) um barramento de neutro e um barramento de terra.
(B) um barramento de neutro e três barramentos de terra.
(C) dois barramentos de neutro e dois barramentos de terra.
(D) três barramentos de neutro e três barramentos de terra.
(E) três barramentos de neutro e um barramento de terra.
35. O dispositivo DPS protege os aparelhos elétricos e eletrônicos contra
- (A) elevação de tensão por surtos.
(B) oscilações na corrente elétrica.
(C) sobrecorrentes.
(D) fugas de correntes de pequena intensidade.
(E) subtensão motivada por surtos.
36. Um posto de transformação de 13,2 kv contendo chaves seccionadoras, medição, disjuntor de MT e um transformador de força de 13,2 kv/220/380 V com sua saída interligada a um QGBT (quadro geral de baixa tensão), deverá passar por um procedimento de manutenção preventiva. Após a liberação da concessionária de fornecimento de energia elétrica para realização da manutenção, a sequência correta para desligamento do posto de transformação é:
- (A) desligar as chaves seccionadoras, desligar o disjuntor de MT e desligar os disjuntores de BT do QGBT.
(B) desligar os disjuntores de BT do QGBT, desligar o disjuntor de MT e desligar as chaves seccionadoras.
(C) desligar as chaves seccionadoras e desligar o disjuntor de MT.
(D) desligar as chaves seccionadoras, desligar os disjuntores de BT do QGBT e desligar o disjuntor de MT.
(E) desligar a chave seccionadora ou o disjuntor que estiver mais próximo do agente de manutenção de sistemas elétricos.
37. O conjunto para aterramento temporário é um equipamento de proteção
- (A) para os equipamentos elétricos.
(B) das instalações elétricas em geral.
(C) coletiva.
(D) individual.
(E) da edificação contra descargas atmosféricas.

38. Uma bomba de refrigeração deverá funcionar através de uma chave comutadora da seguinte forma: na opção automático, acionamento pelo termostato, e na opção manual, acionamento independente do termostato.

Complete o circuito.



- (A) 1 e 3; 4 e 5; 2, 6 e 7.
 (B) 1, 3, 5 e 7; 2, 4 e 6.
 (C) 1 e 5; 3 e 7; 2, 4 e 6.
 (D) 1 e 5; 2 e 6; 3 e 7; 2 e 4.
 (E) 1 e 5; 2,4 e 7; 3 e 6.
39. Quando as medidas de proteção coletiva forem tecnicamente inviáveis ou insuficientes para controlar riscos nos trabalhos em instalações elétricas, deve-se
- (A) utilizar os EPIs adequados.
 (B) utilizar os EPCs adequados.
 (C) cancelar os trabalhos.
 (D) adiar os trabalhos.
 (E) trabalhar com muita atenção.
40. Um motor elétrico trifásico de doze pontas (220/380/440/760V) deverá ser ligado em 440V. O fechamento, então, será:



- (A) L1- 1; L2- 2; L3- 3; 4 e 7; 5 e 8; 6 e 9; 10, 11 e 12.
 (B) L1- 1 e 12; L2- 2 e 10; L3- 3 e 11; 4 e 7; 5 e 8; 6 e 9.
 (C) L1- 1 e 7; L2- 2 e 8; L3- 3 e 9; 4, 5 e 6; 10, 11 e 12.
 (D) L1- 1, 6, 7 e 12; L2- 2, 4, 8 e 10; L3- 3, 5, 9 e 11.
 (E) L1- 10; L2- 11; L3- 12; 4 e 7; 5 e 8; 6 e 9; 1, 2 e 3.