



Cidade de São José dos Campos

Prefeitura Municipal


CONCURSO PÚBLICO

2. PROVA OBJETIVA

GUARDA CIVIL MUNICIPAL 2.^a CLASSE

- ♦ VOCÊ RECEBEU SUA FOLHA DE RESPOSTAS E ESTE CADERNO CONTENDO **50** QUESTÕES OBJETIVAS.
- ♦ CONFIRA SEU NOME E NÚMERO DE INSCRIÇÃO IMPRESSOS NA CAPA DESTE CADERNO.
- ♦ LEIA CUIDADOSAMENTE AS QUESTÕES E ESCOLHA A RESPOSTA QUE VOCÊ CONSIDERA CORRETA.
- ♦ RESPONDA A TODAS AS QUESTÕES.
- ♦ MARQUE, NA FOLHA INTERMEDIÁRIA DE RESPOSTAS, LOCALIZADA NO VERSO DESTA PÁGINA, A LETRA CORRESPONDENTE À ALTERNATIVA QUE VOCÊ ESCOLHEU.
- ♦ TRANSCREVA PARA A FOLHA DE RESPOSTAS, COM CANETA DE TINTA AZUL OU PRETA, TODAS AS RESPOSTAS ANOTADAS NA FOLHA INTERMEDIÁRIA DE RESPOSTAS.
- ♦ A DURAÇÃO DA PROVA É DE **3** HORAS.
- ♦ A SAÍDA DO CANDIDATO DA SALA SERÁ PERMITIDA APÓS TRANSCORRIDA A METADE DO TEMPO DE DURAÇÃO DA PROVA.
- ♦ AO SAIR, VOCÊ ENTREGARÁ AO FISCAL A FOLHA DE RESPOSTAS E ESTE CADERNO, PODENDO DESTACAR ESTA CAPA PARA FUTURA CONFERÊNCIA COM O GABARITO A SER DIVULGADO.

AGUARDE A ORDEM DO FISCAL PARA ABRIR ESTE CADERNO DE QUESTÕES.



Cidade de São José dos Campos

Prefeitura Municipal

FOLHA INTERMEDIÁRIA DE RESPOSTAS

QUESTÃO	RESPOSTA
01	<input type="checkbox"/> A <input type="checkbox"/> B <input type="checkbox"/> C <input type="checkbox"/> D
02	<input type="checkbox"/> A <input type="checkbox"/> B <input type="checkbox"/> C <input type="checkbox"/> D
03	<input type="checkbox"/> A <input type="checkbox"/> B <input type="checkbox"/> C <input type="checkbox"/> D
04	<input type="checkbox"/> A <input type="checkbox"/> B <input type="checkbox"/> C <input type="checkbox"/> D
05	<input type="checkbox"/> A <input type="checkbox"/> B <input type="checkbox"/> C <input type="checkbox"/> D

06	<input type="checkbox"/> A <input type="checkbox"/> B <input type="checkbox"/> C <input type="checkbox"/> D
07	<input type="checkbox"/> A <input type="checkbox"/> B <input type="checkbox"/> C <input type="checkbox"/> D
08	<input type="checkbox"/> A <input type="checkbox"/> B <input type="checkbox"/> C <input type="checkbox"/> D
09	<input type="checkbox"/> A <input type="checkbox"/> B <input type="checkbox"/> C <input type="checkbox"/> D
10	<input type="checkbox"/> A <input type="checkbox"/> B <input type="checkbox"/> C <input type="checkbox"/> D

11	<input type="checkbox"/> A <input type="checkbox"/> B <input type="checkbox"/> C <input type="checkbox"/> D
12	<input type="checkbox"/> A <input type="checkbox"/> B <input type="checkbox"/> C <input type="checkbox"/> D
13	<input type="checkbox"/> A <input type="checkbox"/> B <input type="checkbox"/> C <input type="checkbox"/> D
14	<input type="checkbox"/> A <input type="checkbox"/> B <input type="checkbox"/> C <input type="checkbox"/> D
15	<input type="checkbox"/> A <input type="checkbox"/> B <input type="checkbox"/> C <input type="checkbox"/> D

16	<input type="checkbox"/> A <input type="checkbox"/> B <input type="checkbox"/> C <input type="checkbox"/> D
17	<input type="checkbox"/> A <input type="checkbox"/> B <input type="checkbox"/> C <input type="checkbox"/> D
18	<input type="checkbox"/> A <input type="checkbox"/> B <input type="checkbox"/> C <input type="checkbox"/> D
19	<input type="checkbox"/> A <input type="checkbox"/> B <input type="checkbox"/> C <input type="checkbox"/> D
20	<input type="checkbox"/> A <input type="checkbox"/> B <input type="checkbox"/> C <input type="checkbox"/> D

21	<input type="checkbox"/> A <input type="checkbox"/> B <input type="checkbox"/> C <input type="checkbox"/> D
22	<input type="checkbox"/> A <input type="checkbox"/> B <input type="checkbox"/> C <input type="checkbox"/> D
23	<input type="checkbox"/> A <input type="checkbox"/> B <input type="checkbox"/> C <input type="checkbox"/> D
24	<input type="checkbox"/> A <input type="checkbox"/> B <input type="checkbox"/> C <input type="checkbox"/> D
25	<input type="checkbox"/> A <input type="checkbox"/> B <input type="checkbox"/> C <input type="checkbox"/> D

QUESTÃO	RESPOSTA
26	<input type="checkbox"/> A <input type="checkbox"/> B <input type="checkbox"/> C <input type="checkbox"/> D
27	<input type="checkbox"/> A <input type="checkbox"/> B <input type="checkbox"/> C <input type="checkbox"/> D
28	<input type="checkbox"/> A <input type="checkbox"/> B <input type="checkbox"/> C <input type="checkbox"/> D
29	<input type="checkbox"/> A <input type="checkbox"/> B <input type="checkbox"/> C <input type="checkbox"/> D
30	<input type="checkbox"/> A <input type="checkbox"/> B <input type="checkbox"/> C <input type="checkbox"/> D

31	<input type="checkbox"/> A <input type="checkbox"/> B <input type="checkbox"/> C <input type="checkbox"/> D
32	<input type="checkbox"/> A <input type="checkbox"/> B <input type="checkbox"/> C <input type="checkbox"/> D
33	<input type="checkbox"/> A <input type="checkbox"/> B <input type="checkbox"/> C <input type="checkbox"/> D
34	<input type="checkbox"/> A <input type="checkbox"/> B <input type="checkbox"/> C <input type="checkbox"/> D
35	<input type="checkbox"/> A <input type="checkbox"/> B <input type="checkbox"/> C <input type="checkbox"/> D

36	<input type="checkbox"/> A <input type="checkbox"/> B <input type="checkbox"/> C <input type="checkbox"/> D
37	<input type="checkbox"/> A <input type="checkbox"/> B <input type="checkbox"/> C <input type="checkbox"/> D
38	<input type="checkbox"/> A <input type="checkbox"/> B <input type="checkbox"/> C <input type="checkbox"/> D
39	<input type="checkbox"/> A <input type="checkbox"/> B <input type="checkbox"/> C <input type="checkbox"/> D
40	<input type="checkbox"/> A <input type="checkbox"/> B <input type="checkbox"/> C <input type="checkbox"/> D

41	<input type="checkbox"/> A <input type="checkbox"/> B <input type="checkbox"/> C <input type="checkbox"/> D
42	<input type="checkbox"/> A <input type="checkbox"/> B <input type="checkbox"/> C <input type="checkbox"/> D
43	<input type="checkbox"/> A <input type="checkbox"/> B <input type="checkbox"/> C <input type="checkbox"/> D
44	<input type="checkbox"/> A <input type="checkbox"/> B <input type="checkbox"/> C <input type="checkbox"/> D
45	<input type="checkbox"/> A <input type="checkbox"/> B <input type="checkbox"/> C <input type="checkbox"/> D

46	<input type="checkbox"/> A <input type="checkbox"/> B <input type="checkbox"/> C <input type="checkbox"/> D
47	<input type="checkbox"/> A <input type="checkbox"/> B <input type="checkbox"/> C <input type="checkbox"/> D
48	<input type="checkbox"/> A <input type="checkbox"/> B <input type="checkbox"/> C <input type="checkbox"/> D
49	<input type="checkbox"/> A <input type="checkbox"/> B <input type="checkbox"/> C <input type="checkbox"/> D
50	<input type="checkbox"/> A <input type="checkbox"/> B <input type="checkbox"/> C <input type="checkbox"/> D

LÍNGUA PORTUGUESA

Leia o texto para responder às questões de números 01 a 08.

O falso cliente

O cliente engravatado sorriu e entregou à moça simpática do caixa do banco um cartão em que estava escrito: “Vá enchendo a maleta. Comporte-se com naturalidade. Estou segurando uma arma. Obrigado”.

A caixa nem olhou para os lados para que o assaltante não pensasse que pedia socorro. Diante dela, o falso cliente mantinha o mesmo sorriso imóvel. A maleta preta já estava aberta sobre o guichê. Hesitou. Então ele parou de sorrir e mexeu o braço armado. Ela começou a depositar os maços de notas na maleta preta. Lentamente, o que irritava o assaltante. Atrás dele a fila crescia. E a fila ao lado também. O assalto praticado por um homem só, porém, prosseguia, a cada segundo mais tenso em meio ao movimento da agência, protegida por guardas fardados.

Subitamente um homem aproximou-se do assaltante com um largo sorriso. Colocou-se entre ele e a moça.

— Batista, é você? Há quanto tempo! Ainda esta semana conversei com seu tio no supermercado! Me dê um abraço, amigão! Mas o que é isso? Vai sair por aí com esse baú cheio de dinheiro? Não tem medo de ser assaltado?

Batista olhou para o chão, mas não viu buraco algum para esconder-se.

A moça do caixa, sorrindo, disse ao amigo dele:

— Seu Batista não vai sair com esse dinheiro, não; ele veio depositar..

(O coração roubado e outras crônicas. Marcos Rey. 1996. Adaptado)

01. De acordo com o texto, o assaltante estava

- (A) com aparência descuidada.
- (B) usando roupas esportivas.
- (C) vestido de maneira formal.
- (D) trajando-se inadequadamente.

02. Segundo o texto, a moça do caixa, ao ler o que estava escrito no cartão,

- (A) comportou-se inicialmente com discrição.
- (B) teve gestos que demonstraram desespero.
- (C) começou imediatamente a depositar o dinheiro.
- (D) fingiu não ter compreendido a mensagem.

03. O assalto não deu certo por ter ocorrido um fato

- (A) previsível.
- (B) inusitado.
- (C) banal.
- (D) corriqueiro.

04. Na frase – Comporte-se com naturalidade. – a palavra naturalidade pode ser substituída, sem alteração de sentido, por

- (A) afetação.
- (B) artificialidade.
- (C) generosidade.
- (D) espontaneidade.

05. O assalto praticado por um homem só, porém, prosseguia, a cada segundo mais tenso...

A palavra tenso tem sentido contrário de

- (A) rápido.
- (B) violento.
- (C) estranho.
- (D) descontraído.

06. Assinale a alternativa que apresenta palavra em sentido figurado.

- (A) Os olhos do Batista pediam socorro.
- (B) A maleta preta já estava aberta sobre o guichê.
- (C) Estou segurando uma arma.
- (D) Não tem medo de ser assaltado?

07. Na frase – Comporte-se **com** naturalidade – a preposição destacada tem sentido de

- (A) causa.
- (B) modo.
- (C) companhia.
- (D) oposição.

08. Ela começou a depositar os maços de notas na maleta preta.

De acordo com a norma culta, a alternativa em que o pronome destacado pode substituir o trecho **maços de notas** na frase dada, está em:

- (A) Ela começou a depositá-**los** na maleta preta.
- (B) Ela começou a depositar-**lhes** na maleta preta.
- (C) Ela começou a depositar **eles** na maleta preta.
- (D) Ela começou a depositar-**os** na maleta preta.

09. Assinale a alternativa em que a palavra destacada tem sentido de intensidade.

- (A) **Subitamente** um homem aproximou-se do assaltante.
- (B) **Atrás** dele a fila crescia.
- (C) Seu Batista **não** vai sair com esse dinheiro.
- (D) A moça do caixa ficou assustada **demais**.

10. A frase corretamente pontuada é:

- (A) Batista, o falso, cliente desejou um buraco para esconder-se.
- (B) Batista, o falso cliente, desejou um buraco para esconder-se.
- (C) Batista o falso cliente: desejou um buraco, para esconder-se.
- (D) Batista o falso cliente, desejou, um buraco para esconder-se.

Nas questões de números 11 e 12, assinale a alternativa que preenche, correta e respectivamente, as lacunas das frases dadas.

11. O ladrão estava certo _____ conseguiria levar o dinheiro, _____ acabou ficando numa situação difícil, _____ espera de que um buraco se abrisse no chão.

- (A) a que ... conforme ... à
- (B) que ... porque ... a
- (C) de que ... mas ... à
- (D) com que ... porém ... a

12. A moça do caixa ficou _____ assustada, pois _____ muitos maços de dinheiro na gaveta e _____ poucos dias que começara a trabalhar naquela agência bancária.

- (A) meio ... havia ... fazia
- (B) meia ... haviam ... faziam
- (C) meio ... haviam ... fazia
- (D) meia ... havia ... faziam

Leia o texto a seguir para responder às questões de números 13 a 15.

Ladrão trapalhão fica preso em chaminé

Um ladrão que tentou usar a tática do Papai Noel de entrar pela chaminé ficou preso em um bar de São Paulo. O jovem de 19 anos teve de ser resgatado pelos bombeiros.

Na tentativa de invadir o local, o bandido trapalhão entrou pela chaminé de 23 centímetros de largura, mas ficou entalado. Perto da grelha, só era possível ver os pés do rapaz.

Para tirar o ladrão da chaminé, uma equipe de resgate dos bombeiros teve de quebrar parte da churrasqueira, enquanto o jovem gritava, com dores nos braços e nas pernas. Depois de ser atendido em hospital, o rapaz recebeu voz de prisão.

(<http://zerohora.clicrbs.com.br>. Acesso em 20.06.2010. Adaptado)

13. O bandido é chamado de trapalhão porque, além de não ter tido êxito no assalto,

- (A) viveu um grande vexame.
- (B) teve de esperar muito tempo pelo resgate.
- (C) conseguiu roubar poucos objetos.
- (D) foi agredido depois pelas vítimas.

14. Na frase – Um ladrão que tentou usar a tática do Papai Noel... – a palavra tática pode ser substituída, sem alteração de sentido, por

- (A) rapidez.
- (B) tentativa.
- (C) estratégia.
- (D) esperteza.

15. Passando o título do texto para o plural, tem-se:

- (A) Ladrões trapalhão ficam preso em chaminé.
- (B) Ladrões trapalhões ficam presos em chaminés.
- (C) Ladrões trapalhões fica preso em chaminé.
- (D) Ladrões trapalhões ficam preso em chaminés.

Considere o texto contido abaixo da figura para responder às questões de números 16 e 17.



Assaltante ficou preso na chaminé de um bar quando tentava invadir o local.

(<http://www.walcordeiro.com.br>)

16. A palavra **quando** pode ser substituída, sem alteração de sentido, por

- (A) caso.
- (B) porque.
- (C) embora.
- (D) enquanto.

17. Passando os verbos do texto para o tempo futuro, tem-se:

- (A) Assaltante fica preso na chaminé de um bar quando tenta invadir o local.
- (B) Assaltante ficará preso na chaminé de um bar quando tentar invadir o local.
- (C) Assaltante ficava preso na chaminé de um bar quando tentou invadir o local.
- (D) Assaltante ficou preso na chaminé de um bar quando tentara invadir o local.

18. Assinale a alternativa em que a colocação dos pronomes destacados está de acordo com a norma culta da língua.

- (A) **Nos** avisaram que o banco estaria fechado.
- (B) Essa é a história que comenta-**se** na televisão.
- (C) Não **se** sabe qual será a reação de um assaltante.
- (D) Contarei-**lhe** o que aconteceu com os clientes do banco.

Leia os quadrinhos a seguir para responder às questões de números 19 e 20.



(Niquel Náusea: Os ratos também choram. Fernando Gonsales. 1999)

19. De acordo com a leitura dos quadrinhos, é correto afirmar que o cachorro

- (A) conseguiu distrair o assaltante.
- (B) não correspondeu ao que seu dono esperava.
- (C) fez com que a vítima se acalmasse.
- (D) reagiu ao assaltante, pondo em risco a vida deles.

20. No texto do primeiro quadrinho, o advérbio **aí** traz a ideia de que a vítima deveria

- (A) distanciar-se do cachorro.
- (B) caminhar devagar.
- (C) ficar onde estava.
- (D) aproximar-se do assaltante.

MATEMÁTICA

21. A Organização Mundial de Saúde (OMS) recomenda, para um adulto, 900 mg de cálcio por dia. Em 200 mL de leite há 240 mg de cálcio. Então, para garantir a dosagem diária de cálcio recomendada pela OMS apenas com a ingestão de leite, deve-se tomar, no decorrer de um dia, a quantidade mínima de leite, em mL, igual a

- (A) 450.
- (B) 600.
- (C) 750.
- (D) 900.

22. Para fazer uma massa composta por cimento e areia, um pedreiro que trabalha na construção civil usa quatro baldes de areia para um balde de cimento.



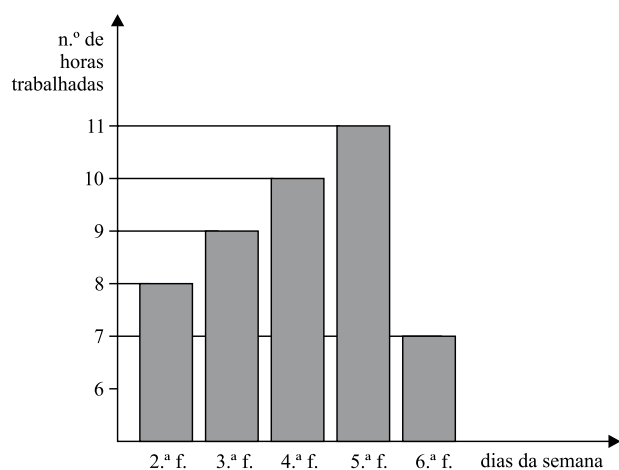
Considerando que o cimento e a areia têm a mesma densidade, se esse pedreiro utilizar todo o cimento de um saco de 50 kg para fazer massa, mantendo a proporção informada, ele deverá misturar o cimento com uma quantidade de areia igual a

- (A) 100 kg.
- (B) 150 kg.
- (C) 200 kg.
- (D) 250 kg.

23. Um capital de R\$ 400,00 foi aplicado em regime de juro simples durante 75 meses. Se for produzido um juro de R\$ 125,00, então, a taxa anual aplicada nesse período será de

- (A) 5%.
- (B) 6%.
- (C) 7%.
- (D) 8%.

24. O número de horas trabalhadas por uma professora, durante uma semana, está registrado no gráfico.



A média aritmética de horas diárias trabalhadas pela professora, de 2.ª a 6.ª feira, é

- (A) 11.
(B) 10.
(C) 9.
(D) 8.
25. Numa escola, há três classes de 9.º ano: A, B e C, com 14, 16 e 35 alunos, respectivamente. A média na prova de matemática da classe A foi 6,0; a da classe B foi 7,0 e a da classe C foi 8,0. Assim, a média das notas dos 65 alunos das três classes juntas foi, aproximadamente,
- (A) 6,6.
(B) 6,8.
(C) 7,0.
(D) 7,3.
26. Arlete, Breno, Celina e Davi são irmãos. Dois deles têm a mesma idade. Sabe-se que

- Arlete é mais velha que Celina;
- Breno é mais novo que Arlete;
- Celina é mais velha que Davi;
- Davi é mais novo que Breno.

Os dois irmãos que têm a mesma idade são

- (A) Breno e Davi.
(B) Celina e Davi.
(C) Arlete e Celina.
(D) Breno e Celina.

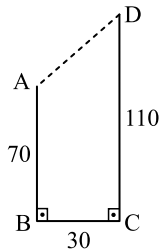
27. Abel assinou um plano com a operadora de seu celular nas seguintes condições:

- tarifa mensal fixa de R\$ 28,00;
- gratuidade em 12 horas de ligações por mês;
- R\$ 0,05 por minuto que exceder as 12 horas gratuitas.

Em novembro, Abel usou seu celular por 11 horas e 55 minutos e, em dezembro, por 17 horas e 16 minutos. A despesa de Abel com seu celular, nesses dois meses, foi de

- (A) R\$ 43,80.
- (B) R\$ 71,80.
- (C) R\$ 92,80.
- (D) R\$ 99,80.

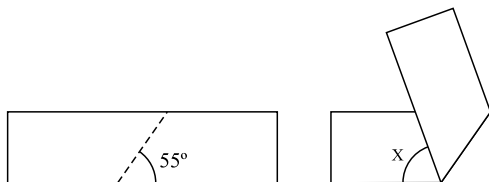
28. Um navio partiu de um porto A, percorreu 70 milhas para o Sul e atingiu o porto B. Em seguida, percorreu 30 milhas para o Leste e atingiu o porto C. Finalmente, navegou 110 milhas para o Norte e chegou ao porto D, conforme mostra a figura.



Sabendo que uma milha náutica equivale a, aproximadamente, 1 850 metros, se esse navio tivesse ido diretamente do porto A para o porto D, então, ele teria poupado uma distância de

- (A) 290 km.
- (B) 294 km.
- (C) 296 km.
- (D) 300 km.

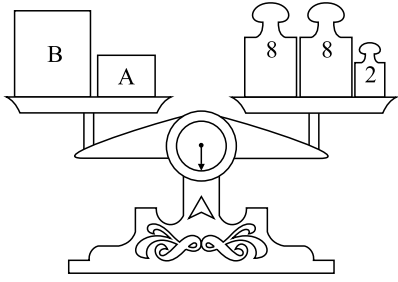
29. Uma tira de papel retangular é dobrada ao longo da linha tracejada, conforme indicado na figura da esquerda, formando a figura plana da direita.



O valor de x é

- (A) 60° .
- (B) 70° .
- (C) 80° .
- (D) 90° .

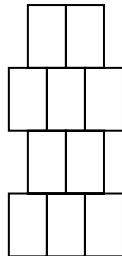
30. Duas caixas, A e B, de massas desprezíveis, estão cheias de bolinhas de gude idênticas. Essas caixas estão em equilíbrio em uma balança de dois pratos com os pesos indicados, em quilogramas, no prato da direita.



Se na caixa B há o dobro de bolinhas em relação à caixa A, então, a diferença entre as massas totais de bolinhas dessas caixas é

- (A) 6 kg.
 (B) 8 kg.
 (C) 10 kg.
 (D) 12 kg.
31. Um pai está construindo para a sua filha uma casinha de boneca e pretende cobri-la com 10 telhas plásticas coloridas, disponíveis nas cores rosa, verde e amarela, cujos preços unitários estão marcados na tabela. Ao lado, está o esquema da disposição das 10 telhas, pretendida pelo pai. Ele deseja que quaisquer duas telhas que se toquem sejam de cores diferentes.

TELHA	R\$
Rosa	4
Verde	5
Amarela	6

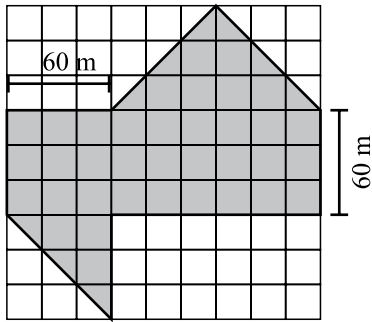


Assinale a alternativa que indica o **menor** valor que ele gastará na compra dessas 10 telhas.

- (A) R\$ 54,00.
 (B) R\$ 52,00.
 (C) R\$ 50,00.
 (D) R\$ 48,00.
32. Perguntaram ao chefe de um dos setores de uma empresa financeira quantos eram os funcionários sob sua chefia. Se o chefe respondeu que metade dos funcionários torcia pelo Corinthians, um quarto deles torcia para o São Paulo e que os demais seis funcionários não torciam por nenhum time, então, o total de funcionários desse setor era
- (A) 24.
 (B) 20.
 (C) 16.
 (D) 12.

Leia atentamente as informações a seguir para responder às questões de números 33 e 34.

A figura representa um terreno (em cinza) em uma malha quadriculada, sendo que nela há a indicação da medida real de dois dos oito lados do terreno.



Se necessário, adote $\sqrt{2} = 1,4$.

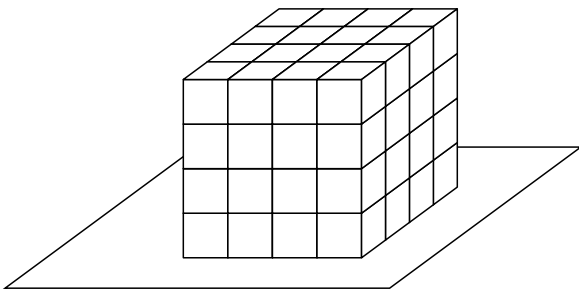
33. A área desse terreno é

- (A) 16 000 m².
- (B) 16 200 m².
- (C) 16 400 m².
- (D) 17 000 m².

34. O perímetro desse terreno é

- (A) 605 m.
- (B) 612 m.
- (C) 615 m.
- (D) 620 m.

35. Em uma festa com 64 convidados, foi servido um bolo em forma de cubo sobre uma plataforma de madeira, forrada. Esse bolo tinha uma cobertura de chocolate nas cinco faces à mostra e não tinha cobertura na face em contato com o forro da plataforma.



Tendo o bolo sido cortado em 64 cubinhos de mesmo tamanho, ou seja, um pedaço para cada convidado da festa, o número de convidados que recebeu um pedaço de bolo sem cobertura alguma foi

- (A) 12.
- (B) 11.
- (C) 9.
- (D) 8.

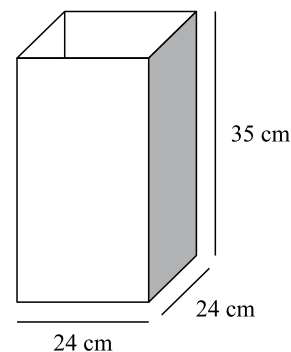
36. Em uma promoção, certa loja oferecia 10% de desconto para pagamento à vista sobre o preço de etiqueta. Se Maria, aproveitando a promoção, comprou uma linda blusa, pagando à vista R\$ 27,00, então, o preço marcado na etiqueta dessa blusa era de

- (A) R\$ 28,50.
- (B) R\$ 29,70.
- (C) R\$ 30,00.
- (D) R\$ 31,40.

37. Se vinte e cinco por cento de certa quantia correspondem a R\$ 900,00, então, essa quantia só pode ser

- (A) R\$ 2.800,00.
- (B) R\$ 3.000,00.
- (C) R\$ 3.200,00.
- (D) R\$ 3.600,00.

38. No quintal da casa de Januário há uma caixa d'água vazia com capacidade para 500 L de água. Januário vai encher essa caixa trazendo água do caminhão-pipa, estacionado em frente à sua casa, em uma lata de base quadrada, em forma de paralelepípedo, cujas dimensões são dadas na figura.



Dado: 1 000 cm³ = 1 L.

Se Januário conseguiu encher a caixa d'água, então, o número mínimo de latas d'água que ele carregou do caminhão-pipa até a sua caixa foi

- (A) 19.
- (B) 21.
- (C) 23.
- (D) 25.

39. Para fazer uma receita que rende 48 bolinhos, utilizam-se, exatamente, 2 kg de farinha de trigo, 12 ovos e 400 g de manteiga. Uma confeitadeira verificou que na dispensa há 24 kg de farinha de trigo, 108 ovos e 7,2 kg de manteiga. Utilizando a proporção dada na receita, ela conseguirá fazer uma quantidade máxima de bolinhos igual a

- (A) 422.
- (B) 432.
- (C) 442.
- (D) 452.

40. O dono de uma pequena fábrica de brinquedos de madeira sabe que precisa de 10 operários, trabalhando no mesmo ritmo, para fazer 2000 brinquedos em 50 dias. Como ele precisa entregar essa encomenda em apenas 20 dias, ele precisará de um número a mais de operários. O número mínimo de operários que terão de ser contratados, considerando que trabalharão no mesmo ritmo dos demais, é igual a

- (A) 15.
- (B) 20.
- (C) 25.
- (D) 30.

R A S C U N H O

CONHECIMENTOS GERAIS

41. No início do mês de julho, após acordo firmado entre o presidente cubano Raúl Castro, o arcebispo de Havana, cardeal Jaime Ortega, e o chanceler espanhol Miguel Angel Moratinos, foi anunciada a

- (A) criação do Ministério Internacional dos Direitos Humanos, cuja função é acompanhar a situação dos presos políticos em Cuba.
- (B) libertação de dezenas de presos políticos cubanos detidos na ilha desde o episódio conhecido por Primavera Negra.
- (C) abolição da censura à imprensa de Cuba e a anistia aos dissidentes políticos que vivem na ilha ou que estão exilados.
- (D) permissão para a entrada de padres nas prisões cubanas, a fim de oferecer aos detentos amparo emocional e espiritual.

42. Em 17 de maio de 2010, o governo iraniano assinou acordo de troca de urânio pouco enriquecido por combustível nuclear, a ser usado em reator de pesquisa médica.

Esse acordo foi firmado entre Irã,

- (A) Alemanha e França.
- (B) Israel e Síria.
- (C) Rússia e China.
- (D) Brasil e Turquia.

43. Em sessão de 19 de maio de 2010, o Senado aprovou reajuste de 7,7% para aposentadorias acima de um salário mínimo e o fim do fator previdenciário, mantendo o texto que foi aprovado na Câmara dos Deputados no início daquele mês. O texto seguiu, então, para o Presidente Lula que, em 15 de junho,

- (A) sancionou o reajuste de 7,7% e o fim do fator previdenciário, devido ao equilíbrio das contas públicas.
- (B) vetou o reajuste de 7,7% e o fim do fator previdenciário, para evitar cortes no orçamento público.
- (C) sancionou o reajuste de 7,7% sobre as aposentadorias, no entanto vetou o fim do fator previdenciário.
- (D) vetou o reajuste de 7,7% sobre as aposentadorias, no entanto sancionou o fim do fator previdenciário.

44. As intensas chuvas que caíram no mês de junho no nordeste do Brasil provocaram enchentes e destruição, deixando centenas de famílias desabrigadas e uma paisagem desoladora nas cidades de Branquinha e Barreiros, afetando os estados de

- (A) Alagoas e Pernambuco.
- (B) Alagoas e Sergipe.
- (C) Pernambuco e Maranhão.
- (D) Pernambuco e Piauí.

45. As proposições a seguir referem-se a fatos de 2010 que envolveram três pessoas de projeção internacional.

- I. Foi personalidade homenageada na cerimônia de abertura da Copa do Mundo por sua atuação política em favor da democracia na África do Sul; não compareceu ao estádio para o jogo de abertura devido à morte de sua bisneta.
- II. Aos 87 anos de idade, morreu em 18 de junho, na ilha de Lanzarote, um expoente da literatura portuguesa contemporânea, que recebeu o prêmio Nobel de Literatura em 1998 e cujo livro *Ensaio sobre a cegueira* foi adaptado para o cinema, em produção dirigida pelo brasileiro Fernando Meirelles.
- III. Em janeiro, foi uma das vítimas fatais do terremoto do Haiti, onde estava para divulgar a metodologia de atendimento da Pastoral da Criança no combate à desnutrição, em encontro missionário realizado no país.

Os fatos mencionados em cada proposição referem-se, correta e respectivamente, a

- (A) Desmond Tutu, Ferreira Gullar, Dorothy Stang.
- (B) Jacob Zuma, Rui Zink, Abrahilde Alvarenga.
- (C) Nelson Mandela, José Saramago, Zilda Arns.
- (D) Frederick de Klerk, Lobo Antunes, Inês Pedrosa.

46. No último fim de semana de junho, a cidade de Toronto, no Canadá, foi palco de manifestações e protestos contra a reunião

- (A) da Organização Mundial do Comércio (OMC), que vetou o acordo comercial entre Canadá e México.
- (B) da cúpula do G20, grupo dos países mais ricos do mundo e dos principais países emergentes.
- (C) do Fundo Monetário Internacional (FMI), que decidiu suspender a ajuda financeira aos países com déficit público.
- (D) da Organização dos Estados Americanos (OEA), para discutir o fim do embargo comercial dos países membros à Cuba.

47. SANTOS SUPERA “PADRINHO” URIBE E BATE RECORDE DE VOTOS

Candidato a presidente mais votado em 50 anos, Santos se apresentou aos eleitores como o continuador das políticas de Uribe, que mantém níveis de popularidade superiores a 70%. E o recente resgate de três policiais e um militar há anos sequestrados pelas Farc parece ter dado a ele o apoio definitivo que precisava nessas eleições, marcadas pela elevada abstenção de 55%.

(<http://noticias.terra.com.br/mundo/noticias>. Acesso em 25.06.2010. Adaptado)

A notícia refere-se ao processo eleitoral

- (A) da Bolívia.
- (B) do Peru.
- (C) de Honduras.
- (D) da Colômbia.

48. No mês de maio, o governo da Coreia do Sul suspendeu as relações comerciais com a Coreia do Norte como represália pelo

- (A) ataque a navio de guerra sul-coreano que matou dezenas de soldados.
- (B) tratado de livre comércio assinado entre Coreia do Norte e Japão.
- (C) atentado de extremistas norte-coreanos à cidade de Seul.
- (D) rompimento do acordo que previa a reunificação dos dois países em 2012.

49. Sobre a crise financeira que atinge a Grécia, considere as afirmativas a seguir:

- I. Ela resultou dos elevados níveis de endividamento do país e do descontrole do governo sobre os gastos públicos.
- II. Ela se restringiu à indústria do turismo, afetando o setor hoteleiro, mas não se irradiou aos demais setores produtivos.
- III. Ela levou o governo a anunciar severo plano de austeridade econômica, desencadeando uma onda de protestos e greves.

São corretas as afirmativas

- (A) I e II, apenas.
- (B) I e III, apenas.
- (C) II e III, apenas.
- (D) I, II e III.

50. Após aprovação na Câmara dos Deputados e no Senado Federal, foi sancionada pelo Presidente da República, em 4 de junho, a Lei Complementar n.º 135/2010. Ela visa combater a corrupção e moralizar a política brasileira e ficou conhecida como Lei

- (A) das Mãos Limpas.
- (B) da Ficha Limpa.
- (C) da Política Limpa.
- (D) do Voto Limpo.