



SÃO PAULO TURISMO S/A
SELEÇÃO PÚBLICA – EDITAL 001/2010

Cód. 42 – Serralheiro

Leia atentamente o texto abaixo para responder as questões 1 e 2:

A vida

O meio ambiente é tudo que está a nossa volta, tudo o que vemos, ouvimos, sentimos, tudo o que compõe o Planeta Terra:

- A atmosfera;
- A água dos rios, mares, lagos, chuvas;
- O solo e o subsolo;
- As montanhas, vales, campos, florestas;
- As cidades, edifícios, pontes, estradas, objetos;
- Os microorganismos;
- Todos os vegetais;
- Todos os animais, incluindo o homem.

Qual será de todos estes elementos, o mais importante, o mais precioso? Sem dúvida, é a vida.

Toda e qualquer manifestação de vida é um pequeno milagre. Desde uma planta, que sabe como preservar a sua espécie, colocando todas as características de uma nova planta dentro de uma pequena semente, até um passarinho, que defende seus filhotes com a própria vida, se for preciso.

Cientistas e pesquisadores fazem um enorme esforço, tanto para preservar todas as espécies de seres vivos como para salvar as que estão ameaçadas de extinção.

Para que todo esse esforço?

Acontece que cada uma possui características especiais e únicas, que não poderão ser recriadas, se desaparecerem.

Em segundo lugar, porque a biodiversidade, a imensa variedade de formas de vida, é o maior patrimônio da Terra, quase todo ainda por ser estudado.

Os cientistas são unânimes em afirmar que a preservação do homem depende da preservação de todos os demais seres vivos.

(Curso de Formação de Condutores, páginas 113 e 114)

1. De acordo com as ideias do texto, é VERDADEIRA a afirmação:

- A) Embora haja espécies de seres vivos em extinção, cientistas e pesquisadores sabem que poderão ser recriadas, caso desapareçam.
- B) A biodiversidade, maior patrimônio da Terra, já foi quase toda estudada pelo homem.
- C) A vida do homem, um dos bens mais preciosos do meio ambiente, depende diretamente da preservação de todos os outros seres vivos do planeta.
- D) Há um pequeno milagre em cada manifestação de vida em nosso planeta, exceto os microorganismos, nocivos ao homem.

2. Todos os verbos do primeiro parágrafo do texto estão no:

- A) Tempo Presente, do modo Subjuntivo.
- B) Tempo Presente, do modo Indicativo.
- C) Tempo Pretérito Perfeito, do modo Indicativo.
- D) Tempo Pretérito Imperfeito, do modo Subjuntivo.

3. O plural está correto em:

- A) limãos, pãos, degraus, raízes.
- B) limões, pães, degrais, raiz.
- C) limãos, pãos, degrais, raiz.
- D) limões, pães, degraus, raízes.

4. Os antônimos de cozido, molhado, gostoso e fartura são:
- A) cru, úmido, saboroso e necessidade.
 - B) queimado, úmido, ruim e quantidade.
 - C) cru, seco, ruim e necessidade.
 - D) passado, seco, bom e suficiente.
5. A concordância verbal está correta em:
- A) Abobrinha e chuchu é barato.
 - B) Os alimentos estão cozidos.
 - C) Existe muitas mulheres sorridentes.
 - D) Acabou os talheres limpos.
6. O adjetivo capaz deriva o substantivo capacidade. Ocorre a mesma ortografia em:
- A) feliz / felicidade.
 - B) hábil / habilidade.
 - C) grande / grandiosidade.
 - D) fácil / facilidade.
7. A alternativa em que a separação silábica está correta é:
- A) prio-ri-da-des, ad-mi-nis-trar, e-qui-lí-bri-o.
 - B) pri-o-ri-da-des, ad-mi-nis-trar, e-qui-lí-brio.
 - C) pri-o-ri-da-des, a-dmi-nis-trar, e-qui-lí-brio.
 - D) prio-ri-da-des, ad-mi-ni-strar, e-qui-lí-bri-o.
8. A alternativa em que a vírgula está correta é:
- A) Naquele momento os porteiros, do edifício, se retiraram e agradeceram aos moradores.
 - B) Naquele momento os porteiros do edifício, se retiraram, e agradeceram aos moradores.
 - C) Naquele momento, os porteiros do edifício, se retiraram, e agradeceram aos moradores.
 - D) Naquele momento, os porteiros do edifício se retiraram e agradeceram aos moradores.
9. Analise as frases abaixo quanto à concordância.
- () Sobrou daquela caixa, vinte lâmpadas.
 - () O auxiliar de serviços e o pedreiro chegaram juntos.
 - () Mais de cinco frascos de detergentes foi usado.
- Colocando (C) certo ou (E) errado nos parênteses, temos na ordem:
- A) C – E – C.
 - B) E – C – E.
 - C) E – E – C.
 - D) C – C – E.
10. A forma de plural errada é:
- A) papel – papéis.
 - B) chapéu – chapéis.
 - C) difícil – difíceis.
 - D) degrau – degraus.
11. Assinale a frase que está errada.
- A) A turma viajaram para o litoral.
 - B) Que belo dia!
 - C) José, Carlos e Marcos assinaram o contrato.
 - D) Nós temos lido muitos livros.

Considere o texto abaixo para responder às questões de 12 a 15.

Maioria das câmeras em uso não flagra criminosos

A Abese (Associação Brasileira das Empresas de Sistemas Eletrônicos) diz que, após levantamento com associados, constatou que apenas em 14% das ocorrências pesquisadas a câmera foi suficiente para mostrar o crime e identificar, de imediato, seus autores.

Isso não quer dizer que todas as outras são inúteis. A presença do equipamento pode inibir o crime e mesmo imagens distorcidas podem dar pistas do tipo físico do criminoso, ressalta a Secretaria de Segurança Pública de São Paulo. “Mas o ideal é que a imagem não deixe dúvidas do que aconteceu e quem estava lá”, diz Marcos Menezes, da diretoria da Abese.

DANIEL BERGAMASCO, disponível em: <http://www1.folha.uol.com.br/folha/cotidiano/ult95u620150.shtml>, acesso em 09/12/2009.

12. Considerando o texto, assinale a alternativa correta.

- A) As câmeras de segurança são totalmente eficazes para mostrar o crime e identificar o criminoso.
- B) As câmeras de segurança não têm qualquer utilidade para inibir o crime.
- C) As câmeras de segurança são perda de dinheiro.
- D) As câmeras de segurança não são totalmente eficazes para mostrar o crime e identificar o criminoso.

13. Tomando por base o texto e seus conhecimentos, julgue V para “Verdadeiro” e F para “Falso”.

- () Levantamento, grifado no primeiro parágrafo do texto, significa suspender, subir, elevar.
- () Ocorrências, no texto, significa pesquisas não realizadas.
- () Nem todas as câmeras são inúteis.
- () Imagens distorcidas podem dar pistas.

A alternativa correta corresponde a:

- A) V, V, F, F.
- B) F, F, V, V.
- C) F, V, V, F.
- D) V, F, F, V.

14. A expressão “de imediato”, grifada no primeiro parágrafo tem o sentido de:

- A) instantaneamente.
- B) logo depois.
- C) próximo.
- D) oficial da marinha.

15. Considere a frase: “Mas o ideal é que a imagem não deixe dúvidas do que aconteceu e quem estava lá”. A forma verbal “deixe” indica:

- A) passado.
- B) futuro.
- C) presente.
- D) futuro do pretérito.

16. Uma pesquisa revelou que 5 em cada grupo de 4.000 habitantes de uma cidade são jardineiros. Se a cidade possui 32.000 habitantes, temos portanto:

- A) 20 jardineiros.
- B) 40 jardineiros.
- C) 32 jardineiros.
- D) 28 jardineiros.

17. Uma obra foi orçada em R\$ 75.600,00, sabe-se que 3% desse total foi gasto em tubos e conexões, isto representa:

- A) R\$ 2.520,00.
- B) R\$ 2.268,00.
- C) R\$ 3.628,00.
- D) R\$ 3.520,00.

18. Para medir uma mesa que seria colocada em um espaço, usei um pedaço de madeira que media 25 cm e verifiquei que:

- O comprimento deu 13 medidas exatas.
- A largura deu 4 medidas exatas.

Então a mesa mede:

- A) 3,15 m por 1,00 m.
- B) 3,08 m por 0,80 m.
- C) 3,25 m por 1,00 m.
- D) 2,15 m por 0,80 m.

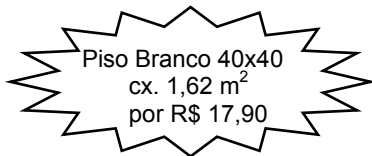
19. Um pedreiro trabalhou 5 dias com 8 horas diárias executando as seguintes tarefas:

- $\frac{1}{5}$ do total para carregamento de materiais.
- $\frac{1}{4}$ do tempo restante para nivelar o espaço.
- $\frac{1}{3}$ do tempo restante para assentamento de pisos.
- $\frac{1}{2}$ do tempo restante para rejuntas.
- o restante em atividades de limpeza.

Podemos concluir que:

- A) cada atividade teve o mesmo período de duração.
- B) gastou mais tempo para carregamento de materiais.
- C) gastou menos tempo em atividades de limpeza.
- D) gastou mais tempo no assentamento de pisos.

20. Observe a oferta:



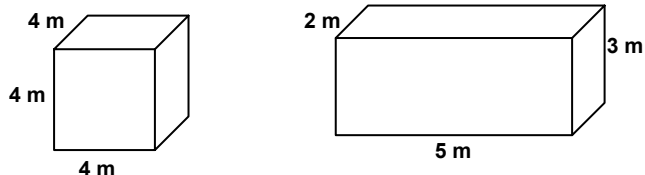
Nessa caixa tem _____ peças de piso.

- A) 5.
- B) 18.
- C) 9.
- D) 10.

21. Em uma obra, 4 operários demoram 60 horas para levantar um cômodo. 12 operários executariam essa mesma tarefa em:

- A) 18 horas.
- B) 9 horas.
- C) 20 horas.
- D) 10 horas.

22. Calcule o volume das figuras abaixo e responda corretamente.

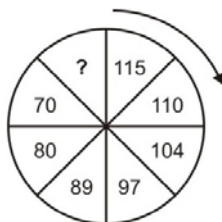


- A) O quadrado tem 34 m^3 a mais de volume do que o retângulo.
- B) As duas figuras têm o mesmo volume.
- C) O retângulo tem 12 m^3 a menos do que o volume do quadrado.
- D) O quadrado tem exatamente o dobro do volume do retângulo.

23. Uma garrafa térmica comporta 2,4 litros de café. Para servir em xícaras que comportam 80ml, essa quantidade de café é o suficiente para encher:
- A) 30 xícaras.
 B) 28 xícaras.
 C) 29 xícaras.
 D) 32 xícaras.
24. Um frasco de detergente pesa 320 gramas. Uma caixa com duas dúzias e meia de frascos pesará:
- A) 8,6kg.
 B) 9,6kg.
 C) 96kg.
 D) 86kg.
25. Moro distante de meu trabalho 4,5km. Já percorri $\frac{2}{3}$ dessa distância. Para chegar ao meu trabalho devo percorrer ainda:
- A) 3.000m.
 B) 1.500m.
 C) 2.500m.
 D) 1.000m.
26. Dos animais abaixo, cujos nomes estão embaralhados, o que não é ave é o identificado com o número:
- 1 - ÁSIBA.
 2 - APOBM.
 3 - LARAPD.
 4 - ATRABA.
- A) 2.
 B) 3.
 C) 4.
 D) 1.
27. Quando digo: “A mãe do meu neto é a neta do meu pai”, estou me referindo:
- A) à minha filha.
 B) à minha mãe.
 C) à minha irmã.
 D) à minha avó.
28. O número que completa a sequência é: $45 - 38 - 31 - ? - 17 - 10$
- A) 25.
 B) 24.
 C) 23.
 D) 22.
29. Completa a sequência: $7 - 9 - 13 - 21 - ?$
- A) 35.
 B) 33.
 C) 37.
 D) 39.

30. Completa a sequência:

- A) 60.
 B) 58.
 C) 57.
 D) 59.



31. Um bom desempenho em soldagem é verificado quando o soldador demonstra habilidade de:

- 1 - analisar e entender o projeto antes da soldagem, controlar a recepção do material, a calibração e a manutenção de equipamentos de soldagem e auxiliares.
- 2 - durante a soldagem controlar os materiais usados e respectiva aplicação correta e adequada para cada caso, preparação, montagem e ponteamto das juntas e da execução da soldagem.
- 3 - após a soldagem inspecionar a peça, cuidar do armazenamento da sobra de materiais ou que não foram utilizados e dos equipamentos.

Atendem ao enunciado:

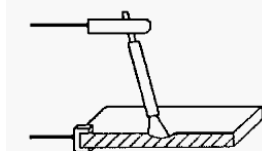
- A) 1 e 2, apenas.
- B) 1, 2 e 3.
- C) 1 e 3, apenas.
- D) 2 e 3, apenas.

32. O resíduo não metálico proveniente da dissolução do fluxo ou revestimento e impurezas não metálicas na soldagem e brasagem denomina-se:

- A) face da raiz.
- B) escória.
- C) escamas de solda.
- D) passe de solda.

33. A figura abaixo representa um equipamento em soldagem denominado:

- A) Goiva.
- B) Calibre para ângulo de solda.
- C) Arco elétrico.
- D) Micrômetro externo.



34. O corte de materiais é uma das mais importantes etapas na cadeia dos aços. Tanto as chapas prontas devem ser cortadas em peças para seu destino final, como as sucatas devem ser cortadas em peças de menores dimensões para facilitar seu processamento posterior. Os cortes podem ser classificados em:

- 1 - Mecânicos: Corte por cisalhamento através de guilhotinas, tesouras ou similares e por remoção de cavacos através de serras ou usinagem.
- 2 - Por fusão do metal: Corte através da fusão de uma fina camada do material utilizando-se uma fonte de calor que pode ser um arco elétrico, plasma ou maçarico.
- 3 - Por combinação de fusão e vaporização: Processos de corte que utilizam o princípio da concentração de energia como característica principal de funcionamento, não importando se a fonte de energia é química, mecânica ou elétrica. Enquadram-se neste grupo o corte por jato d'água de elevada pressão, Laser e algumas variantes do processo Plasma.
- 4 - Por reação química: Corte combinado envolvendo os mecanismos de aquecimento através de chama e reações exotérmicas, seguido de oxidação do metal e posterior expulsão através de jato de O_2 . (oxicorte).

Estão corretas as afirmações:

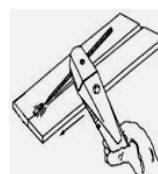
- A) 1, 2, 3 e 4.
- B) 2, 3 e 4 apenas.
- C) 1, 2 e 3 apenas.
- D) 1, 2 e 4 apenas.

35. Observe a figura e analise as afirmações.

- É um processo de corte usado em serralheria que utiliza uma tocha especial que se assemelha ao alicate do processo eletrodo revestido, adaptado com um orifício que direciona um jato de ar comprimido para a expulsão do metal líquido proveniente da poça de fusão formada pelo arco elétrico entre o eletrodo e a peça.
- Atualmente é empregado para remoção de raízes de solda imperfeitas, remoção de dispositivos auxiliares de montagem, remoção de soldas com defeitos, etc.

Trata-se do processo de corte denominado:

- A) Oxicorte.
- B) Plasma.
- C) Laser.
- D) Goivagem.



36. Analise as afirmações sobre o tipo de soldadura e o respectivo metal a ser utilizado.

- 1 - A soldadura forte permite a realização de ligações mais complexas (quadros de bicicletas, portões) ou susceptíveis de se dilatar (gás, aquecimento central). Utiliza-se para estas, ligas à base de prata, cobre ou alumínio.
- 2 - A soldagem branda oferece uma ligação de fraca resistência mecânica, (para ligações elétricas, armaduras de luminárias, etc.) e estanqueidade (condutas de água fria, coberturas de zinco, placas finas). O metal de soldagem utilizado é o estanho.

Podemos concluir que:

- A) 1 e 2 estão incorretas.
- B) apenas 1 está correta.
- C) 1 e 2 estão corretas.
- D) apenas 2 está correta.

37. São materiais indicados para se riscar uma peça metálica:

- alvaiade.
- riscador.
- escala.
- chave de fenda.
- esquadro.
- transferidor.
- compasso.
- lápis de carpinteiro.

São itens corretos.

- A) apenas sete.
- B) apenas seis.
- C) todos.
- D) apenas cinco.

38. A função de serralheiro envolve riscos à saúde. Os Equipamentos de Proteção Individual (EPI) devem ser usados para evitar acidentes no trabalho. Dentre os EPIs indicados para o trabalho de serralheiro, podemos citar:

- Abafador de ruídos (protetor auricular).
- Luva de vaqueta.
- Máscara de soldar.
- Óculos de proteção.
- Avental de raspa.
- Touca de soldador.
- Mangote e perneira de raspa.

São itens corretos:

- A) apenas seis dos citados.
- B) apenas cinco dos citados.
- C) todos os citados.
- D) apenas quatro dos citados.

39. Dentre outros, são materiais e equipamentos que precisam estar sempre à disposição do serralheiro:

- Arco de serra de comprimento graduável.
- Riscador de aço.
- Lima chata bastarda.
- Talhadeira.
- Jogo de broca de wídea.
- Martelo limpa escória.
- Lixas.

Atendem ao enunciado:

- A) apenas seis itens.
- B) apenas cinco itens.
- C) apenas quatro itens.
- D) todos os itens.

40. É importante que o serralheiro tenha conhecimento das propriedades dos gases que utiliza em seu trabalho e obedeça às regras de segurança quanto à manipulação, transporte e armazenamento das garrafas. É incorreto afirmar que:
- A) os gases usados no processo de soldagem como acetileno, propano, metano, hidrogênio, quando combinados com o ar, são explosivos.
 - B) Óleo, gordura e graxa em válvulas de oxigênio podem provocar risco de vida, pois tal combinação pode provocar combustão e posterior explosão da garrafa.
 - C) As garrafas devem ser roladas durante o transporte e posicionadas sempre na horizontal.
 - D) O frio prejudica a garrafa de acetileno e as altas temperaturas podem provocar sua explosão.