

## PORTUGUÊS

Leia o texto I e responda as questões de 01 a 05.

### Texto I : NA PRAÇA

Aconteceu exatamente como os dois esperavam, isto é, da mesma forma como vinha acontecendo há cerca de dois anos. **Fernanda** de cara feia, e **Rodrigo** com um jeito de quem quer e não quer se desculpar.

Fernanda aspirava o ar para ver se ele tinha posto aquele perfume gostoso e acabou descobrindo que havia um outro cheirinho mais gostoso que vinha dele mesmo.

O rosto dela perdeu o ar carrancudo, e daí ele não aguentou e falou do jogo. Ela emburrou outra vez.

Que raiva! Ela queria perguntar quem estava no campinho, que meninas tinham ido torcer por ele, mas sabia que não ia suportar as explicações dele e que o sábado iria terminar em briga de novo.

Ele também queria perguntar o que ela tinha feito durante o dia, mas sabia que ela ia fazer bico de choro, pois passara ouvindo a mãe cantar e ajudando a enrolar doces.

Ambos sabiam que era melhor não tocar em nenhum assunto perigoso.

Andaram um pouco em volta do coreto e acabaram se sentando num banco onde nunca tinham sentado. Um banco que dificilmente estava vago, pois não só ficava atrás do coreto, como ainda ficava encoberto pela sombra da igreja. Era o banco preferido dos namorados, e só quem chegava muito cedo conseguia lugar ali. Era o banco dos sem-vergonhas, como diziam as más línguas da cidade.

Mas os dois nem pensaram nisso. Era também um banco doado pelo deputado, que Rodrigo teve o cuidado de limpar com um lenço, porque sempre aparecia alguém mais zangado e cuspiam no nome do fulano, com vontade mesmo de cuspir na cara, se tivesse coragem para tanto.

Rodrigo sentou-se sobre a primeira letra do nome, e Fernanda, na última do sobrenome. Aos poucos foram se achegando. Ele pegou na mão dela. Espiou para ver se havia algum curioso. Passou o braço em torno da cintura da menina, e então saiu o beijo que os dois vinham sonhando há tanto tempo.

(Susana Dias-Beck. Por um grande amor. São Paulo, Moderna, 1988.p. 33-4. Coleção Veredas.)

01 – Considere as afirmações abaixo:

- I. Rodrigo e Fernanda são os principais personagens do texto.
- II. Fernanda era inimiga de Rodrigo.
- III. O casal acabara de se conhecer.
- IV. Fernanda ficou com raiva quando Rodrigo a beijou.

Está(ão) correta(s):

- A) Apenas a I.
- B) Apenas a II.
- C) Apenas a IV.
- D) Apenas I e III.
- E) Apenas II e IV.

02 – Pela leitura do texto podemos discernir que o casal estava:

- A) Na igreja
- B) No banco da praça
- C) Na escola
- D) Na boate
- E) Na praia

03 – As duas palavras que estão destacadas no primeiro parágrafo do texto são:

- A) Substantivos comuns
- B) Substantivos próprios
- C) Adjetivos
- D) Advérbios
- E) Artigos

04 – Indique abaixo o sinônimo de carrancudo.

- A) Simpático
- B) Gentil
- C) Paciente
- D) Aborrecido
- E) Compreensivo

05 – No último parágrafo há a seguinte oração: “Rodrigo sentou-se na **primeira** letra do nome.” A palavra destacada é um numeral:

- A) Cardinal
- B) Fracionário
- C) Ordinal
- D) Coletivo
- E) Multiplicativo

06 – Complete a frase abaixo e depois marque a opção adequada.

Todas as \_\_\_\_\_ ações devem ser perdoadas, \_\_\_\_\_ jamais repetidas, pois, quanto \_\_\_\_\_ se vive, \_\_\_\_\_ se aprende.

- A) Más – más – más – mas
- B) Mais – mais – mais – mas
- C) Mas – mas – mais – más
- D) Mais – más – mas – mas
- E) Más – mas – mais – mais

07 – Aponte a única alternativa que apresenta uma palavra oxítona:

- A) Biológico
- B) Canudo
- C) Cidade
- D) Meigo
- E) Hotel

08 – Qual das orações abaixo apresenta o verbo **comprar** no futuro do presente do modo indicativo:

- A) Os garotos compraram os brinquedos.
- B) Lúcio comprou um apartamento na praia.
- C) Amanhã comprarei uma roupa nova.
- D) Daniele comprava sempre na loja de Suzi.
- E) Eu compraria o terno se o dinheiro não tivesse acabado.

09 – Assinale a alternativa em que as palavras **NÃO** estão acentuadas corretamente:

- A) Médico – gráfica – café
- B) Saída – baú – órgão
- C) Indígena – também – país
- D) Época – cajá – céu
- E) Enjôo – chapêu – parabéns

10 – A opção que completa corretamente a frase abaixo é:

Muitos políticos tiveram \_\_\_\_\_ seus \_\_\_\_\_.

- A) Caçados – mandados
- B) Cassados – mandados
- C) Casçados – mandados
- D) kassados – mandados
- E) Cassados – mandatos

11 – Considerando as novas normas ortográficas, qual das opções abaixo sofreu mudança na acentuação gráfica?

- A) álbum
- B) Prêmio
- C) idéia
- D) táxi
- E) água

Leia o texto II e responda as questões 12, 13 e 14.

Texto II: **A LUA FOIAO CINEMA**

A lua foi ao cinema,  
passava um filme engraçado,  
a história de uma estrela  
que não tinha namorado.  
Não tinha porque era apenas  
uma estrela bem **pequena**,  
dessas que, quando apagam,  
ninguém vai dizer, que pena!  
Era uma estrela sozinha,  
ninguém olhava para ela,  
e toda a luz que ela tinha  
cabia numa janela.  
A lua ficou tão triste  
com aquela história de amor,  
que até hoje a lua insiste:  
- Amanheça, por favor!

Paulo Leminski Filho

12 – De acordo com o poema A lua foi ao cinema, a estrela:

- A) Estava muito feliz com o namorado.
- B) Vivia acompanhada de amigos.
- C) Era alegre e sorridente.
- D) Era solitária.
- E) Era grande.

13 – Observe as afirmações e assinale a opção correta:

- I. A lua ficou feliz com o filme.
- II. A lua ficou com inveja da estrela.
- III. Queria esquecer a história de tão triste que ficou.

- A) Apenas a II está correta.
- B) Apenas a III está correta.
- C) Apenas I e II estão corretas.
- D) Apenas a I está correta.
- E) I, II e III estão corretas.

14 – A palavra sublinhada no texto é um:


- A) Adjetivo
- B) Substantivo
- C) Numeral
- D) Advérbio
- E) Interjeição

15 – Qual das palavras abaixo o GU representa um dígrafo?

- A) Água
- B) Agulha
- C) Guaraná
- D) Foguete
- E) Régua

## MATEMÁTICA

16 – A imagem abaixo é de um jogo de xadrez e os espaços do tabuleiro onde ficam as peças individualmente dele, lembra:



[http://www.jogos.antigos.nom.br/img/rex\\_2.gif](http://www.jogos.antigos.nom.br/img/rex_2.gif)

- A) Um quadrado;
- B) Um hexágono;
- C) Um triângulo;
- D) Um retângulo;
- E) Um círculo.

17 – O número 400 em algarismo romano fica:

- A) D
- B) CCCC
- C) DC
- D) L
- E) DL

18 – Assinale a sentença matemática que é falsa.

- A) Treze menos cinco é igual a oito;
- B) Vinte menos vinte é igual a zero;
- C) Cinquenta menos um é igual a quarenta e nove;
- D) Trinta e quatro menos três é igual a trinta e um;
- E) Dois menos um é igual a um.

19 – O sucessor de 1000 é:

- A) 900
- B) 901
- C) 999
- D) 1001
- E) 1010

20 – A metade de 1 metro é:

- A) 50 dm
- B) 50 cm
- C) 50 mm
- D) 05 dm
- E) 05 cm

21 – 1 km transformado em milímetro fica:

- A) 10 mm
- B) 100 mm
- C) 1000 mm
- D) 10000 mm
- E) 1000000 mm

22 – Um elefante africano adulto pesa em média 6,5 toneladas. Então 6 elefantes juntos pesam quantos kg?

- A) 39.000 kg
- B) 39.0000 kg
- C) 49.000 kg
- D) 49.000000 kg
- E) 29.000 kg

23 – Assinale a alternativa em que não aparece um número consecutivo.

- A) 1, 2, 3...;
- B) 34, 35, 37...;
- C) 50, 51, 52...;
- D) 100, 101, 102...;
- E) 999, 1000, 1001...;

24 – A divisão do número 24543 por 9 é igual à:

- A) 1432;
- B) 2721;
- C) 2727;
- D) 1498;
- E) 4321.

25 – Assinale a única alternativa em que aparece um instrumento que não serve para medir a temperatura de uma pessoa, de um objeto ou de um ambiente.

- A) termistores;
- B) termômetro biometálico;
- C) sensores de semicondutor;
- D) termômetro de expansão de fluídos;
- E) termotempo.

26 – O relógio abaixo indica que são:



<http://www.oragoo.net/wp-content/uploads/2009/01/relogio.jpg>

- A) 6:10 h
- B) 10:11 h
- C) 10:30 h
- D) 2:50 h
- E) 2:30 h.

27 – No Brasil o sistema monetário mudou várias vezes por necessidade de mudança e para algumas melhorias. Antes da unidade monetária cruzeiro real existia o (a):

- A) cruzeiro;
- B) cruzeiro novo;
- C) cruzado novo;
- D) real;
- E) cruzado.

28 – Assinale o único conjunto que não é natural e par.

- A) {0, 2, 4, 6, 8, ...};
- B) {12, 16, 18, ...};
- C) {66, 76, 86, 96, ...};
- D) {1000, 2000, 3000, ...};
- E) {1001, 1002, 1004, ...}.

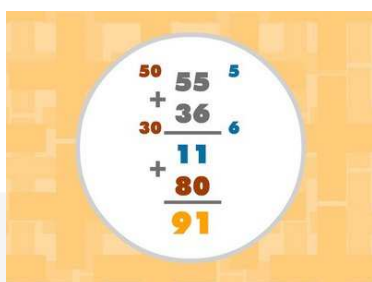
29 – O quadro abaixo tem a forma geométrica de um:



<http://www.google.com.br/>

- A) trapézio;
- B) triângulo;
- C) losango;
- D) quadrado;
- E) pentágono.

30 – A imagem da operação abaixo é classificada como:



<http://l.bp.blogspot.com/>

- A) Fração;
- B) Divisão;
- C) Multiplicação;
- D) Subtração;
- E) Adição.

## CONHECIMENTOS ESPECÍFICOS

31 – Qual categoria de habilitação permite ao condutor dirigir tratores?

- A) A
- B) B
- C) C
- D) D
- E) E

32 – Por ocasião da renovação da CNH o condutor que ainda não tenha freqüentado o curso de direção defensiva e de primeiros socorros, deverá fazê-lo, em até 30 dias após o vencimento, caso contrario acarretará em:

- A) Infração Leve
- B) Infração Média
- C) Infração Grave
- D) Infração Gravíssima
- E) Não é infração

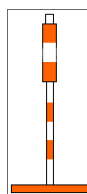
33 – A CNH definitiva de condutores abaixo de 65 anos deve ser renovada de quanto em quanto tempo:

- A) 1
- B) 2
- C) 3
- D) 4
- E) 5

34 – A forma padrão do sinal de regulamentação é a circular e as cores são:

- A) Fundo e orla externa na cor laranja
- B) Preta, vermelha, amarela, e verde
- C) Vermelha, amarela, verde
- D) Azuis, brancas e verdes
- E) Vermelha, preta e branca


35 – Dispositivos auxiliares são elementos aplicados ao pavimento da via, junto a ela, ou nos obstáculos próximos, de forma a tornar mais eficiente e segura a operação na via. Qual a classificação dos dispositivos abaixo.



Cones



Balizador móvel



Tambores

- A) Dispositivos delimitadores.
- B) Dispositivos de uso temporário.
- C) Dispositivos de proteção contínua.
- D) Dispositivos luminosos.
- E) Dispositivos de canalização delimitadores.

36 – Qual o significado da placa?



- A) Caminhões na pista
- B) Passagem de caminhão
- C) Carga leve
- D) Carga completa
- E) Caminhões abaixo de 4t

37 – A placa indica que:



- A) Tem uma construção de edifício a 500 metros.
- B) Pedestres a 500 metros.
- C) Buracos a 500 metros.
- D) 500 metros de obras.
- E) Obras a 500 metros.

**38** – A sinalização de obras tem como característica a utilização dos sinais e elementos de sinalização vertical, horizontal, semafórica, de dispositivos e sinalizações auxiliares combinados de forma que os usuários da via sejam advertidos sobre a intervenção realizada e possam identificar seu caráter temporário; que sejam preservadas as condições de segurança e fluidez do trânsito e de acessibilidade; que os usuários sejam orientados sobre caminhos alternativos. Como podemos identificá-las:?

- A) São cilíndricas, geralmente de cor laranja.
- B) São quadradas, devendo uma das diagonais ficar na vertical, de cor laranja.
- C) São quadradas, devendo uma das diagonais ficar na vertical, de cor amarela.
- D) São quadradas, devendo uma das diagonais ficar na vertical, com fundo amarelo e orla interna na cor laranja.
- E) São quadradas, devendo uma das diagonais ficar na vertical, de cor laranja, com orla externa amarela.

**39** – Marcas longitudinais com linhas de divisão seccionada na cor branca indicam :

- A) O fluxo no mesmo sentido e que o condutor pode mudar de faixa e ultrapassar
- B) O fluxo no mesmo sentido e que o condutor não pode mudar de faixa ou ultrapassar
- C) O fluxo de sentido contrário e que o condutor pode mudar de faixa e ultrapassar
- D) O fluxo de sentido contrário e que o condutor não pode mudar de faixa ou ultrapassar
- E) O fluxo de sentido contrário e que o condutor pode mudar de faixa mais não pode ultrapassar

**40** – O que não deve ser feito com uma vítima ou com o local de um acidente?

- A) Verificar a situação da vítima.
- B) Pedir socorro.
- C) Retirar o capacete de motociclista.
- D) Manter a calma.
- E) Controlar a situação.

**41** – Quando osso quebrado não perfura a pele. Classificam-se em, fraturas sem deslocamento do osso, fraturas com deslocamento do osso e fraturas cominutivas, são sintomas de fraturas fechadas:

- A) Dor local excessiva, edema, dificuldade de movimentos, posição anormal no local atingido.
- B) Dor local excessiva, edema, dificuldade de movimentos, osso visível no local da fratura.

- C) Ausência de dor local excessiva, edema, dificuldade de movimentos, posição normal no local atingido.
- D) Ausência de dor local excessiva, edema, dificuldade de movimentos, posição anormal no local atingido.
- E) Dor local excessiva, edema, facilidade de movimentos, posição anormal no local atingido.

**42** – O órgão responsável pelo controle de poluição do ar por veículos automotores é:

- A) IBAMA
- B) CONTRAN
- C) PRONCOVE
- D) SENAM
- E) MMA

**43** – A resolução do CONTRAN nº 290/08 corresponde à que alternativa:

- A) Regulamenta o tipo de carroçaria intercambiável (Camper)
- B) Disciplina a inscrição de pesos e capacidades em veículos de tração, de carga e de transporte coletivo de passageiros, de acordo com os artigos 117, 230-XXI, 231-V e X, do Código de Trânsito Brasileiro.
- C) Dispõe sobre as vagas de estacionamento de veículos destinadas exclusivamente às pessoas idosas.
- D) Dispõe sobre a expedição de Certificado Provisório de Registro e Licenciamento de Veículos.
- E) Dispõe sobre a concessão de código de marca/modelo/versão para veículos e dá outras providências.

**44** – São fatores físicos que influenciam a forma como o condutor age:

- A) Fadiga, visão, audição;
- B) Visão, chuva, dor;
- C) Temperatura, dor, chuva;
- D) Via, neblina, inexperiência;
- E) Incapacidade de reação, chuva, fadiga.

**45** – São condições adversas de via:

- A) Pista esburacada, pista mal sinalizada.
- B) Luz solar, faróis.
- C) Passageiro distraído, condutor distraído.
- D) Chuva, neblina.
- E) Carga extremamente pesada, carga inflamável.

**46** – A direção defensiva pode ser definida como:

- A) O condutor por leviandade ou ignorância, não respeita as normas de trânsito.
- B) O condutor experiente familiarizado com seu veículo.
- C) Quando o condutor fixa somente à frente.
- D) Quando o condutor divide sua atenção em tudo que está a sua volta.
- E) Quando o condutor está atento, dirigindo para si e para todos que estão com ele na via.

47 – É considerada uma atitude segura no trânsito:

- A) Utilizar celular no viva-voz para não deixar de segurar o volante com as duas mãos.
- B) Frear bruscamente em qualquer situação.
- C) Ir para o acostamento de uma BR para depois passar todas as faixas e fazer o retorno à esquerda.
- D) Acelerar quando estiver sendo ultrapassado
- E) Verificar se vem algum veículo antes de ultrapassar e sinalizar.

48 – Qual a função da bateria no veículo automotor:

- A) É responsável por todo sistema elétrico.
- B) É responsável por armazenar energia gerando uma carga de mais 12.000 watts.
- C) Introduzir a energia necessária na câmara de combustão através da faísca elétrica gerada entre os eletrodos.
- D) Tem a função principal de fornecer a energia necessária para a partida do motor do veículo.
- E) Armazenar e gerar energia na câmara de eletrodos, fornecer energia para todo sistema elétrico e injeção eletrônica.

49 – A biela é um:

- A) Componente elétrico.
- B) Componente do sistema de sonda lambda.
- C) Componente da caixa de marcha.
- D) Componente do motor.
- E) Componente das rodas.

50 – O motor universal é chamado motor de quatro tempos, cada tempo tem um nome. Quais são os nomes de cada tempo na seqüência em que o motor age:

- A) Admissão, compressão, escape, estouro.
- B) Admissão, compressão, combustão, escape.
- C) Escape, compressão, combustão, recepção.
- D) Recepção, compressão, explosão, escape.
- E) Admissão, recepção, escape, combustão.