


CONCURSO PÚBLICO DE PONTA GROSSA - PARANÁ

Edital 001/2010 – DATA DA PROVA: 30/05/2010

PERÍODO DE PROVA: TARDE



Fundação de Apoio ao Desenvolvimento da Universidade Estadual de Londrina

CARGO: ESCRITURÁRIO II

CARGO: ESCRITURÁRIO II

LEIA ESTAS INSTRUÇÕES:

- 1 Identifique-se na parte inferior desta capa;
- 2 Você dispõe de três horas para responder todas as questões e preencher o Cartão Resposta;
- 3 Utilize caneta esferográfica azul ou preta;
- 4 O candidato só poderá se retirar da sala, após 1 (uma) hora do início das provas;
- 5 Cada questão de múltipla escolha apresenta apenas uma opção de resposta correta;
- 6 Verifique se o caderno está completo e sem imperfeições gráficas que possam dificultar a leitura. Detectado algum problema, comunique imediatamente ao fiscal;
- 7 Utilize o caderno de prova como rascunho se necessário, mas deverá assinalar o Cartão Resposta que acompanha a prova;
- 8 Não serão computadas questões não assinaladas ou que contenham mais de uma resposta, emenda ou rasura;
- 9 Durante a aplicação da prova é proibido qualquer tipo de consulta;
- 10 Este caderno contém, trinta questões de múltipla escolha;
- 11 Antes de retirar-se definitivamente da sala, devolva ao fiscal o Caderno e o Cartão Resposta;
- 12 Assine o cartão resposta no verso.

Identificação do candidato	
Nome (em letra de forma)	Nº da inscrição

Boa Prova!

Supermercados: as catedrais do consumo

Numa sociedade onde ninguém quer engordar, o crescimento dos supermercados é um tanto contraditório. A febre de emagrecimento deveria beneficiar o desenvolvimento de pequenas quitandas e não desses _____ templos de consumo. Acontece que o esforço para manter-se magro nasceu _____ na esteira dos supermercados. O homem atual vive imprensado entre os dietéticos e os supermercados. Mais um pouco e será impossível reviver a dupla Gordo e o Magro. Quando muito, conseguiremos uma dupla formada pelo Gordo e pelo Menos Gordo.

É difícil, entretanto, fugir ao irresistível apelo dos supermercados. É nele que o homem satisfaz todas as necessidades de consumidor. A primeira intenção de quem entra num supermercado é comprar tudo. Um conhecido meu, consumidor consagrado, já confessou que seu maior desejo é poder se atirar sobre as _____, abrir pacotes, latas e caixas de biscoitos, queijo, compotas, doces e ficar ali esparramado, comendo até sair pelos ouvidos.

Os proprietários têm consciência dessa compulsão e arrumam suas mercadorias de forma a deixar o consumidor como eles, proprietários, quando chegaram ao Brasil, ou seja, de tanga. Curiosamente, a alimentação deixou de ser uma simples necessidade para torna-se um complicado sistema de marketing e pesquisas. Hoje, a gente nem sempre compra o que quer. Compra o que eles querem vender. Vocês sabem, por exemplo, por que o açúcar é colocado no fundo dos supermercados? Porque o açúcar é um artigo comum a todos e, ficando no fundo, obriga o consumidor a passar por várias outras seções antes de encontrá-lo. E, nessa passagem, pode comprar mais alguma coisa. Para escapar desse risco, só há uma solução: entrar pela porta dos fundos.

A colocação dos artigos nas prateleiras parecem cálculos matemáticos. O que têm saída certa ficam embaixo. Os de venda difícil são colocados à altura dos olhos. Dos olhos principalmente das mãos. E há ainda as embalagens, feitas de forma a atrair o consumidor. Tem muita gente que só compra pela embalagem. E tem gente que ainda faz pior. Só come embalagem.

(NOVAES, Carlos Eduardo. *O Caos Nosso de cada dia*. São Paulo, Edibolso, 1974, p. 123)

01 - Assinale a alternativa que preenche corretamente as lacunas do texto:

- a) monstruosos // exatamente // prateleira.
- b) monstruosos // esatamente // prateleira.
- c) monstruosos // exatamente // prateleiras.
- d) monstruosos // ezatamente // prateleras.

02 - Analise as afirmativas quanto à acentuação gráfica e assinale a afirmativa que esteja incorreta:

- a) As paroxítonas “proprietário”, “consciência”, “contraditório”, são acentuadas porque terminam em ditongo.
- b) Os monossílabos “já” e “só” são acentuados por serem tônicos e terminados em “a” e “o”.
- c) A palavra “dietéticos” é acentuada por ser uma proparoxítona, assim como “cálculos” e “matemáticos”.
- d) As palavras “difícil”, “açúcar” e “saida”, obedecem à mesma regra de acentuação.

03 - O Autor do texto usa virgula(s) que poderia(m) ser eliminada(s) sem prejuízo do mesmo:

I – “Curiosamente, a alimentação deixou de ser...”

II – “É difícil, entretanto, fugir ao irresistível...”

III – “Vocês sabem, por exemplo, por que o açúcar...”

IV – “Hoje, a gente nem sempre compra o que quer...”

Assinale a alternativa que apresenta as afirmativas corretas:

- a) apenas I e II estão corretas.
- b) apenas III e IV estão corretas.
- c) apenas I e IV estão corretas.
- d) apenas II e III estão corretas.

04 - Em “Porque o açúcar é um artigo comum a todos...” O termo sublinhado é um fator de coesão que estabelece, entre os elementos lingüísticos do texto, relação de sentido de:

- a) localização temporal.
- b) explicação ou justificativa.
- c) adição de argumentos.
- d) oposição ou contraste.

05 - Atente para as afirmativas que podem ser confirmadas pela leitura do texto:

I – O autor deixa transparecer no texto seu desagrado em relação à febre de consumo e à exploração dos supermercados. Isso se percebe através do humor e da ironia.

II – Através do texto o autor procura alertar o leitor para a febre de comprar sempre e demonstra como o consumidor é levado a gastar mesmo quando não quer.

III – O texto dá-nos informações a respeito da técnica de vendas dos supermercados.

Assinale a alternativa que contém as afirmativas corretas:

- a) I – II e III.

- b) apenas I e II estão corretas.
- c) apenas II e III estão corretas.
- d) apenas I e III estão corretas.

06 - Existe um número positivo para o qual a expressão $(x-2)^2 + x-4 = 40$. Determine esse número:

- a) 5
- b) 6
- c) 8
- d) nenhuma das alternativas anteriores

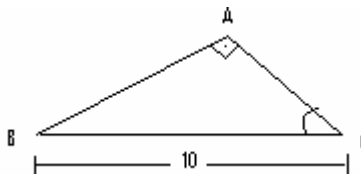
07 - No triângulo retângulo ABC, $\cos \hat{C} = \frac{\sqrt{7}}{2}$ e a hipotenusa mede 10 cm. Qual é a medida do cateto adjacente a \hat{C} ?

a) $\frac{5\sqrt{7}}{2}$

b) $10\sqrt{7}$

c) $\sqrt{7}$

- d) nenhuma das alternativas anteriores



08 - Qual foi o capital aplicado a 6% a.m. de juros simples que deu origem ao montante de R\$ 1.960,00 depois de 1 ano e 4 meses?

- a) R\$ 1.000,00
- b) R\$ 1.200,00
- c) R\$ 1.260,00
- d) nenhuma das alternativas anteriores

09 - Para construir uma piscina, foi cavado um buraco cilíndrico de 4 m de diâmetro por 2,5 m de profundidade. Calcule o volume de terra retirada do buraco?

- a) $15,7 \text{ m}^3$
- b) $31,4 \text{ m}^3$
- c) $125,6 \text{ m}^3$
- d) nenhuma das alternativas anteriores

10 - Há 5 anos, a idade de Paula era o triplo da idade de Sandra. Daqui a 5 anos será o dobro. Quantos anos tem cada uma?

- a) Paula tem 35 anos e Sandra tem 15 anos
- b) Paula tem 45 anos e Sandra tem 15 anos
- c) Paula tem 45 anos e Sandra tem 20 anos
- d) Nenhuma das alternativas anteriores

11 - Assinale a alternativa incorreta:

- a) Ponta Grossa destaca-se pela sua posição geográfica que facilita o acesso a todas as regiões do Estado.
- b) Em 1855 Ponta Grossa foi elevada a categoria de vila e em 1862 à cidade.
- c) A câmara municipal de Ponta Grossa é composta por 17 vereadores.
- d) O Parque Estadual de Vila Velha formado pelos Arenitos, Lagoa Dourada e pelas Furnas é um dos Pontos Turísticos de destaque no Estado do Paraná.

12 - Assinale a alternativa correta:

I – Pró Jovem é um Programa Nacional de Inclusão de Jovens entre 18 e 29 anos.

II – A região sul brasileira é a que tem menor desigualdade social do país.

III – O SUS – Sistema Único de Saúde, cuida somente de atendimentos ambulatoriais.

IV – A Lei de Responsabilidade Fiscal ajudou a controlar gastos dos estados e municípios.

Assinale a alternativa correta:

- a) apenas I, II e III estão corretas
- b) apenas I, III e IV estão corretas
- c) apenas II, III e IV estão corretas
- d) apenas I, II e IV estão corretas

13 - A Constituição Federal prevê em seu Art. 45, § 1º, que o número total de Deputados, bem como a representação por Estado e pelo Distrito Federal, será estabelecido por lei complementar, proporcionalmente à população, procedendo-se aos ajustes necessários, no ano anterior às eleições, para que nenhuma daquelas unidades da Federação tenha mais de:

- a) 25 (vinte e cinco) Deputados

- b) 45 (quarenta e cinco) Deputados
- c) 61 (sessenta e um) Deputados
- d) 70 (setenta) Deputados

14 - A Constituição Federal rege que as leis que disponham sobre a organização administrativa e judiciária, matéria tributária e orçamentária, serviços públicos e pessoal da administração dos Territórios são de iniciativa privativa:

- a) do Presidente da República
- b) do Senado Federal
- c) da Câmara dos Deputados
- d) dos Tribunais de Justiça

15 - Rege a Lei 4.320/64 que a proposta orçamentária que o Poder Executivo encaminhará ao Poder Legislativo nos prazos estabelecidos nas Constituições e nas Leis Orgânicas dos Municípios, deve constar uma mensagem, na qual deve conter as seguintes informações, exceto:

- a) exposição circunstanciada da situação econômico-financeira, documentada com demonstração da dívida fundada e fluante, saldos de créditos especiais, restos a pagar e outros compromissos financeiros exigíveis.
- b) exposição e justificação da política econômica-financeira do Governo.
- c) justificação da receita e despesa, particularmente no tocante ao orçamento de capital.
- d) relação de todos os bens móveis e imóveis adquiridos nos três últimos exercícios e dos bens móveis e imóveis que se pretende adquirir nos três exercícios vindouros àquele em que se elabora a proposta.

16 - A Lei 4.320/64, em seu Art. 44, permite que os créditos extraordinários sejam abertos pelo Executivo Municipal por meio de:

- a) Decreto
- b) Lei Ordinária
- c) Portaria
- d) Edital

17 - Considerando o disposto no Art. 42 da Lei 4.320/64, os créditos suplementares e especiais, serão autorizados por:

- a) Lei e abertos por decreto
- b) Lei e abertos por portaria
- c) Decreto e abertos por lei
- d) Decreto e abertos por portaria

18 - As estradas, ruas, parques, praças e logradouros públicos são bens públicos municipais classificados pela Lei Orgânica do Município de Ponta Grossa como:

- a) Dominiais
- b) De uso comum do povo
- c) De uso especial
- d) Restritos

19 - De acordo com a Lei Orgânica do Município de Ponta Grossa a alienação de bens municipais, subordinada à existência de interesse público devidamente justificado, será sempre precedida de avaliação e quando móveis, dependerá de licitação, exceto nos seguintes casos:

- a) doação (exclusivamente para fins de interesse social, devidamente fundamentado) e permuta
- b) doação em pagamento e permuta
- c) doação e investidura
- d) investidura e permuta

20 - O Art. 20 da Lei Orgânica do Município de Ponta Grossa preceitua que “o uso de bens municipais por terceiros poderá ser feito mediante concessão, permissão ou autorização, quando houver interesse público devidamente justificado”.

No caso da autorização, o § 4º daquele Artigo rege que esta será feita para atividade ou uso específico e transitório, pelo prazo máximo de sessenta dias, improrrogável, e será concedida por meio de:


- a) Decreto
- b) Portaria
- c) Lei ordinária
- d) Lei Complementar

21 - A Mesa Executiva da Câmara Municipal de Ponta Grossa é composta:

- a) Por 3 membros, sendo : Presidente, Vice-Presidente e Secretário
- b) Por 4 membros, sendo : Presidente, Vice-Presidente e 1º Secretário e 2º Secretário
- c) Por 5 membros, sendo: Presidente, Vice-Presidente e 1º Secretário e 2º Secretário e Tesoureiro

d) Por 5 membros, sendo: Presidente, Vice-Presidente e 1º Secretário e 2º Secretário e 3º Secretário



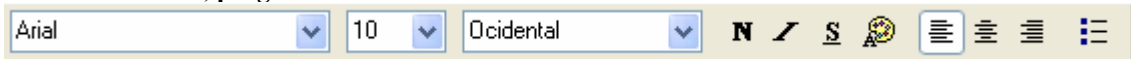
22 - No Internet Explorer, o botão  serve para:

- a) Acessar a pasta favoritos
- b) Acessar o histórico de sites visitados
- c) Ir para a página inicial
- d) Pesquisar

23 - Na Área de trabalho ou Desktop do Microsoft Windows XP, encontramos os Ícones, o botão iniciar e também uma barra que mostra quais as janelas estão abertas no momento, mesmo que algumas estejam minimizadas ou ocultas sob outra janela, permitindo assim, alternar entre estas janelas ou entre programas com rapidez e facilidade. Esta barra leva o nome de:

- a) Barra de tarefas
- b) Barra de formatação
- c) Barra de menus
- d) Barra de títulos

24 - No WordPad, programa editor de textos do Windows XP a barra abaixo é conhecida como:



- a) Barra de tarefas
- b) Barra de formatação
- c) Barra de menus
- d) Barra padrão

25 - No Microsoft Excel 2003 a Barra de Ferramentas abaixo é denominada:



- a) Desenho
- b) Bordas
- c) Auditoria de Fórmulas
- d) Gráfico

26 - A ementa e o preâmbulo são partes importantes de qual documento?

- a) Decreto
- b) Ata
- c) Ofício
- d) Memorando

27 - Um conjunto de capítulos de um decreto constitui:

- a) Uma seção
- b) Um livro
- c) Um título
- d) Uma subseção

28 - Com relação ao atendimento telefônico, marque V para verdadeiro e F para falso. Após, assinale a alternativa que corresponde a sua resposta:

() Ao atender o telefone o servidor público deve valer-se da empatia, pronunciando o nome do usuário algumas vezes, mas, nunca utilizar expressões como “meu bem”, “meu amor”, entre outras.

() O servidor público concentrar-se no que diz o interlocutor, evitando distrair-se com outras pessoas e desviando-se do tema da conversa.

() Ouvir com atenção e se necessário, anotar a mensagem do interlocutor.

() Usar um tom da sua voz estridente e abafado.

Assinale a seqüência correta de cima para baixo:

- a) V, V, F, V
- b) F, V, V, F
- c) V, V, V, F
- d) V, V, V, V

29 - O tipo de documento em que deve constar o endereçamento interno, logo na primeira página, contendo o nome, o cargo e o endereço do destinatário é:

- a) O ofício
- b) O decreto
- c) O edital
- d) A resolução

30 - O método de arquivamento considerado simples e básico, que proporciona consulta direta e rápida, não precisando consultar índices para se localizar, é denominado:

- a) Duplex
- b) Alfabético
- c) Decimal
- d) Variadex