

1. É **incorreto** afirmar que o almoxarifado deverá:

- A) preservar a qualidade e as quantidades exatas.
- B) assegurar que o material adequado esteja, na quantidade devida, no local certo, quando necessário.
- C) impedir que haja divergências de inventário e perdas de qualquer natureza.
- D) possuir instalações adequadas.
- E) armazenar os materiais aleatoriamente, utilizando mão-de-obra desqualificada.

2. **Não** pode ser considerado como atribuição de um almoxarifado:

- A) receber para guarda e proteção os materiais adquiridos pela empresa.
- B) emitir nota fiscal de entrada dos materiais.
- C) entregar os materiais mediante requisições autorizadas aos usuários da empresa.
- D) manter atualizados os registros necessários.
- E) fazer conferência quantitativa dos materiais recebidos.

3. Todas as alternativas abaixo são exemplos de características que determinam a armazenagem dos materiais, **exceto**:

- A) a fragilidade.
- B) a radiação.
- C) a explosividade.
- D) o peso.
- E) a conectividade.

4. Com relação à localização dos materiais, é **incorreto** afirmar que:

- A) existem dois métodos básicos: o sistema de endereços fixos e o sistema de endereços variáveis.
- B) devem-se estabelecer os meios necessários à perfeita identificação da localização dos materiais.
- C) no sistema de endereçamento fixo existe uma localização específica para cada produto.
- D) no sistema de endereçamento variável não existem locais fixos de armazenagem, a não ser para itens de estocagem especial.
- E) o sistema de endereços fixo possibilita melhor utilização do espaço.

5. **Não** pode ser considerado como objetivo da classificação de materiais a definição de uma:

- A) operação.
- B) catalogação.
- C) simplificação.
- D) especificação.
- E) padronização.

6. Com relação ao inventário físico, é **correto** afirmar que:

- A) é a contagem de todos os estoques da empresa, para verificação se as quantidades correspondem aos controles da produção.
- B) os componentes aguardando definição da qualidade para serem rejeitados não devem ser incluídos na contagem.
- C) o inventário periódico é muito utilizado por empresas de pequeno e médio porte, mas não é permitido pela legislação.
- D) as faltas de materiais não registradas e não controladas podem causar problemas de atrasos nas entregas de pedidos aos clientes.
- E) O inventário periódico é aquele em que o estoque é contado em curtos intervalos regulares, dentro de um exercício.

7. Sobre a acurácia dos controles do inventário físico, é **incorreto** afirmar que:

- A) é um importante indicador gerencial.
- B) expressa, em percentagem, a proporção de informações corretas tanto em quantidade quanto em valor.
- C) ao medir a acurácia dos seus saldos, a empresa indiretamente pode constatar a qualidade de seus processos.
- D) é medida com uso de indicadores calculados após o término do inventário físico.
- E) é um indicador de eficiência do estoque para atender as solicitações dos usuários.

8. É **incorreto** afirmar que:

- A) as atividades de recebimento abrangem desde a recepção do material na entrega pelo fornecedor até a entrada nos estoques.
- B) o recebimento é a atividade intermediária entre as tarefas de compra e recebimento do cliente, sendo de sua responsabilidade a conferência dos materiais destinados aos fornecedores.
- C) os materiais devem ser distribuídos aos interessados mediante programação de pleno conhecimento entre as partes envolvidas.
- D) a requisição de material é um documento utilizado para a retirada de materiais do almoxarifado.
- E) o almoxarife deve possuir alto grau de sentimento de honestidade, lealdade, confiança e disciplina.

9. São as atribuições básicas do recebimento todas as abaixo, exceto:

- A) coordenar e controlar as atividades de recebimento e devolução de materiais.
- B) controlar os volumes declarados na Nota Fiscal e no Manifesto de Transporte com os volumes a serem efetivamente recebidos.
- C) liberar o material desembaraçado para estoque no almoxarifado.
- D) coordenar e controlar as atividades de da linha de produção próximas ao almoxarifado.
- E) proceder à conferência quantitativa e qualitativa dos materiais recebidos.

10. Com relação à conferência de materiais, é correto afirmar que:

- A) a conferência qualitativa é aquela em que se verifica se a qualidade declarada pelo fornecedor na Nota Fiscal corresponde efetivamente à recebida.
- B) na conferência por acusação - contagem cega - o conferente aponta a quantidade recebida, desconhecendo a quantidade faturada pelo fornecedor.
- C) a conferência quantitativa visa garantir a adequação do material ao fim que se destina.
- D) a pesagem pode ser utilizada para pequenas quantidades de materiais.
- E) a análise de qualidade visa garantir o recebimento adequado do material contratado pelo exame das características profissionais e específicas.

11. Para uma correta armazenagem, não é relevante um estudo exaustivo:

- A) das fichas de controle de estoque.
- B) das cargas a armazenar.
- C) dos níveis de armazenamento.
- D) das estruturas para armazenagem.
- E) dos meios mecânicos a utilizar.

12. O documento utilizado para a retirada de materiais do almoxarifado é:

- A) a Ficha de Localização.
- B) o Relatório Técnico de Inspeção.
- C) a Requisição de Material.
- D) a Comunicação de Irregularidades.
- E) a Ficha de Controle de Estoque.

13. Com relação à embalagem, é incorreto afirmar que:

- A) é um recipiente ou envoltura que armazena produtos eternamente.
- B) serve para a manipulação, transporte ou armazenamento dos produtos.
- C) os produtos e as peças são embalados geralmente em caixas de papelão, caixas, sacos, ou mesmo barris, para maior eficiência no manuseio.
- D) a padronização da embalagem secundária proporciona substancial redução do custo total.
- E) o projeto da embalagem com papelão leva em conta o produto, seu peso, a quantidade por caixa, e o dimensionamento para boa amarração e empilhamento.

14. Todas as alternativas abaixo são exemplos de equipamentos de movimentação e transporte, exceto:

- A) pontes rolantes e guindastes fixos.
- B) tratores e rampas.
- C) tanques e elevadores.
- D) plataformas e tapetes.
- E) *pallets* e guinchos.

15. A representação das entradas e saídas de um item dentro de um sistema de estoque pode ser feita por um gráfico (quantidade x tempo) denominado:

- A) dente de serra.
- B) picos de estoque.
- C) intervalo de suprimento.
- D) estoque médio.
- E) consumo previsto.

16. Com relação à reposição do estoque, é correto afirmar que

- A) é o tempo de pedido é aquele gasto entre a solicitação de material ao almoxarifado e o recebimento dos pedidos pelo fornecedor.
- B) o tempo de preparação do pedido é aquele que o fornecedor leva para fabricar os produtos.
- C) o tempo de transportes é aquele que leva desde a saída do fornecedor até o recebimento.
- D) o estoque de segurança informa apenas o nível de itens do estoque.
- E) o lote mínimo de compra tem o objetivo de cobrir eventuais atrasos e garantir a continuidade do abastecimento da produção.

17. “É considerado como sendo a metade da quantidade necessária para um determinado período mais o Estoque de Segurança”, refere-se ao Estoque:

- A) Teórico.
- B) Médio.
- C) Mínimo.
- D) Disponível.
- E) Excedente.

18. Sobre o giro de estoque é **incorreto** afirmar que:

- A) expressa com que velocidade a empresa é capaz de girar seus estoques durante um ano.
- B) é calculado como sendo o quociente entre o custo de mercadorias vendidas e o valor do estoque médio da empresa.
- C) pode ser utilizado para determinar o período médio dos estoques de uma empresa.
- D) é calculado como sendo a divisão da receita de vendas pelo ativo total da empresa.
- E) em geral o melhor é que uma empresa goze de um giro alto de estoque, pois isto provavelmente significa maior volume de vendas.

19. “A indicação do período de tempo que o estoque, em determinado momento, consegue cobrir as vendas futuras, sem que haja suprimento” refere-se ao:

- A) Índice de cobertura dos estoques.
- B) Giro dos estoques.
- C) Capital de giro.
- D) Índice de cobertura dos ativos.
- E) Período médio de vendas.

20. Sobre alienação de inservíveis, é **correto** afirmar que:

- A) um bem obsoleto não pode ser alienado.
- B) um ativo deteriorado sempre é inalienável.
- C) não é necessário identificar nos controles da empresa a motivação da alienação de um bem inservível.
- D) empresas públicas somente podem alienar através de leilões.
- E) os inservíveis devem ser baixados dos controles antes da licitação.

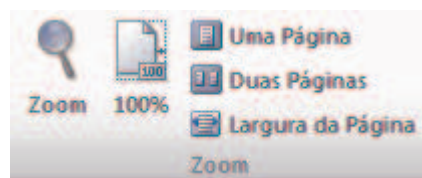
21. Acerca do sistema de busca do sistema operacional Microsoft Windows 7, analise as seguintes afirmativas:

- 1. Ao começar a digitar na caixa de pesquisa do menu Iniciar, automaticamente já será iniciada a busca.
- 2. Resultados das buscas podem conter palavras realçadas de acordo com a busca realizada.
- 3. É possível filtrar o resultado das buscas por critérios como data e tipo de arquivo.


Está(ão) **correta(s)**:

- A) 1, apenas.
- B) 1 e 2, apenas.
- C) 1 e 3, apenas.
- D) 2 e 3, apenas.
- E) 1, 2 e 3.

22. A figura a seguir apresenta opções do grupo **Zoom** da guia **Exibição**, disponibilizada no programa Microsoft Word 2010:



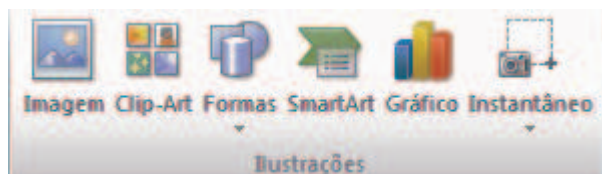
Analise as afirmativas a seguir acerca das opções apresentadas pela figura:

- 1. A opção **Uma Página** é utilizada para que possamos visualizar uma página por completo na janela do Word.
- 2. Podemos ajustar a visualização de um documento através da opção , propiciando um zoom automático, de forma que o texto de uma linha do documento fique completamente visível, porém as margens do documento não, maximizando assim a visualização do texto.
- 3. A opção **100%** é utilizada para alterar o zoom do documento para 100% do tamanho original.


Está(ão) **correta(s)**:

- A) 1, apenas.
- B) 1 e 2, apenas.
- C) 1 e 3, apenas.
- D) 2 e 3, apenas.
- E) 1, 2 e 3.

23. A figura a seguir apresenta opções do grupo **Ilustrações** da guia **Inserir**, disponibilizada no programa Microsoft Word 2010:



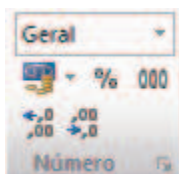
Analise as afirmativas a seguir acerca das opções apresentadas pela figura:

1. A opção **Instantâneo** é utilizada para inserir imagens capturadas por uma câmera fotográfica ou scanner.
2. Para inserir símbolos de fluxogramas, fazemos uso da opção .
3. O **Clip-Art** dá acesso a um catálogo de fotos, desenhos, filmes e sons que podem ser inseridos no documento.



Está(ão) **incorreta(s)**:

- A) 1, apenas.
- B) 1 e 2, apenas.
- C) 1 e 3, apenas.
- D) 2 e 3, apenas.
- E) 1, 2 e 3.

24. A figura abaixo apresenta opções disponíveis no grupo Número do programa Microsoft Excel 2010.



Acerca dessa figura, analise as seguintes afirmativas:

1. **Geral** é uma das opções de formatos de número disponível.
2. Aplicar a opção **%** a uma célula faz com que seu valor seja exibido como percentual.
3. Os comandos para alinhamento do número são representados por  e por .

Está(ão) **correta(s)**:

- A) 1, apenas.
- B) 1 e 2, apenas.
- C) 1 e 3, apenas.
- D) 2 e 3, apenas.
- E) 1, 2 e 3.

25. Acerca das funções disponíveis no programa Microsoft Excel 2010, analise as seguintes afirmativas:

1. Ao colocar o valor de uma célula como igual a **=MAIÚSCULA("prova")**, o resultado apresentado para seu valor é o texto **PROVA**, em maiúsculo.
2. A função **DESC** retorna os dados de uma coluna organizados de forma decrescente.
3. A função **EXATO** é utilizada para arredondar números com casas decimais.

Está(ão) **incorreta(s)**:

- A) 2, apenas.
- B) 1 e 2, apenas.
- C) 1 e 3, apenas.
- D) 2 e 3, apenas.
- E) 1, 2 e 3.

RAASCUNHO

TEXTO 1



26. Em relação às ideias veiculadas no texto, é adequado afirmar que:

- A) o consumismo deve ser mantido, pois é de grande valia para a relação entre pais e filhos.
- B) o consumismo é enaltecido no texto por meio da comparação com o Natal.
- C) alguns valores materiais devem ser substituídos por valores espirituais.
- D) o lado espiritual do Natal é bastante enaltecido pelo consumismo.
- E) é importante ser consumista no período natalino.

27. O termo “enfatizar” poderia ser substituído sem causar prejuízo textual em:

- A) desconsiderar
- B) amenizar
- C) respeitar
- D) atenuar
- E) salientar

28. Quanto à tipologia e ao propósito textual, pode-se afirmar que é:

- A) descritivo, porque descreve um fato.
- B) narrativo, porque descreve um fato.
- C) injuntivo, pois conduz à ação
- D) argumentativo, porque apresenta um ponto de vista.
- E) expositivo, pois explica o que é consumismo.

29. O termo que se enquadra na mesma justificativa de tênis, quanto à tonicidade, é:

- A) enfatizar
- B) acabar
- C) Natal
- D) consumismo
- E) espiritual

30. A justificativa utilizada para grafar a palavra enfatizar com |Z| é:

- A) um substantivo com sufixo grego izar.
- B) um termo derivado de outro grafado com |Z|
- C) um verbo formado pelo sufixo izar.
- D) um substantivo abstrato formado a partir do sufixo ez.
- E) um verbo derivado de um adjetivo terminado em osa.

31. Em “e enfatizar o lado espiritual do Natal”, o termo destacado apresenta valor semântico de:

- A) adição
- B) explicação
- C) alternância
- D) conclusão
- E) oposição.

32. A flexão do verbo dançar é justificada adequadamente em:

- A) acompanha a flexão adotada pelo verbo acabar
- B) tem como referência a flexão do verbo ter
- C) é flexionado por conta do sujeito os meus tênis na 3ª pessoa do plural.
- D) acompanha a flexão adotada pelo verbo enfatizar.
- E) é um sujeito indeterminado, logo é flexionado na 3ª pessoa do plural.

TEXTO 2



33. O texto 2 tem como propósito:

- A) fazer apologia à amizade.
- B) informar que o sal faz mal à saúde.
- C) despertar o interesse pelo tema hipertensão.
- D) instruir a respeito dos malefícios do sal.
- E) promover ações que garantam a prática da saúde.

34. O significado contextual presente em seu amigo do peito é uma referência:

- A) ao sal
- B) à saúde
- C) ao coração
- D) aos hipertensos
- E) à pressão.

35. De acordo com a ortografia oficial, o termo hipertenso é grafado com l porque:

- A) é uma palavra derivada de primitiva com l.
- B) é uma paroxítona terminada em o.
- C) apresenta o prefixo hiper
- D) depois da consoante n, grafa-se com s.
- E) é um substantivo, por isso tem que ser grafado com s.

36. No texto, a vírgula é utilizada para:

- A) separar constituintes sintáticos idênticos.
- B) indicar o elipse de um termo.
- C) isolar o vocativo.
- D) indicar um adjunto adverbial deslocado.
- E) isolar o oposto.

37. Os verbos tratar, evitar e praticar estão flexionados.

- A) no modo indicativo, na 2ª pessoa do singular
- B) no modo imperativo, na 2ª pessoa no plural.
- C) no modo subjuntivo, na 2ª pessoa do singular
- D) no modo imperativo, na 3ª pessoa do singular.
- E) no modo indicativo, na 2ª pessoa do plural.

38. “Trate bem seu amigo do peito”, o termo em destaque tem função:

- A) adjetiva
- B) adverbial
- C) substantiva
- D) conjuntiva
- E) prepositiva

TEXTO 3

VILA BRASILÂNDIA SE VÊ NO CINEMA

Projeção de “Antônia”, longa sobre cantoras da periferia, reúne moradores do bairro e circo de “celebridades”.

Cariello, Rafael. Folha de S. Paulo, 13 jan. 2007.p.E3.

39. No título, os termos Brasilândia e vê são acentuados porque se classificam, respectivamente, como:

- A) paroxítona terminada em a e oxítona terminada em e.
- B) paroxítona terminada em hiato e oxítona terminada em e.
- C) paroxítona terminada em ditongo e monossílabo átono terminado em e.
- D) oxítona terminada em ditongo e monossílabo tônico terminado em e.
- E) paroxítona terminada em ditongo e monossílabo tônico terminado em e.

40. Nas construções, “cantoras da periferia, moradores do bairro e circo de celebridades”, as estruturas destacadas têm função de:

- A) objeto indireto.
- B) adjunto adnominal
- C) complemento nominal
- D) agente da passiva
- E) adjunto adverbial.

RASCUNHO