

# CONCURSO PÚBLICO 001/2011

Prefeitura Municipal de Guatambu (SC)



## Cargo: Operador de Máquinas I

### LEIA ATENTAMENTE AS INSTRUÇÕES ABAIXO

- 01** - Só abra este caderno após ler todas as instruções e quando for autorizado pelos fiscais da sala.  
**02** - Autorizado o início da prova, verifique se este caderno contém 25 questões. Se não estiver completo, exija outro do fiscal da sala.  
**03** - Todas as questões desta prova são de múltipla escolha, apresentando como resposta uma alternativa correta.  
**04** - Ao receber a folha de respostas, escreva seu nome, o nome do cargo, o número da identidade, a data de nascimento, o endereço, a cidade e assine o cartão de identificação. Qualquer irregularidade observada, comunique imediatamente ao fiscal.  
**05** - Assinale a resposta de cada questão no corpo da prova e só depois transfira os resultados para a folha de respostas.  
**06** - Para marcar a folha de respostas, utilize apenas caneta esferográfica azul ou preta e faça as marcas de acordo com o exemplo. A marcação da folha de resposta é definitiva, não admitindo rasuras. Exemplo:

Forma correta:



Forma errada: ✓



- 07** - Só marque uma resposta para cada questão.  
**08** - Não risque, não amasse, não dobre e não suje a folha de respostas pois isso poderá prejudicá-lo.  
**09** - Se a Comissão verificar que a resposta de uma questão é dúbia ou inexistente, a questão será considerada como respondida corretamente por todos os candidatos presentes.  
**10** - Os fiscais não estão autorizados a emitir opinião nem prestar esclarecimentos sobre o conteúdo das provas. Cabe única e exclusivamente ao candidato interpretar e decidir.  
**11** - Será eliminado do Concurso Público o candidato que:  
a) se utilizar, durante a realização das provas, de máquinas e/ou relógios de calcular, bem como de rádios gravadores, headphones, telefones celulares ou fontes de consulta de qualquer espécie;  
b) se ausentar da sala em que se realizam as provas levando consigo o Caderno de Questões e/ou o Folha Resposta.  
**12** - O tempo disponível para estas provas de questões objetivas é de 3 horas.



Leia o texto a seguir e responda a questão 01.

**Raiz do cabelo**

“cabelo duro é lindo”, concluiu o antropólogo Raul Lody ao final do seu livro Cabelos de Axé (SENAC), que explica a simbologia dos penteados afro os primórdios até os dias atuais. (...)

Está lá escrito que nos desenhos pré-históricos, pintados em cavernas, já se representava o homem com cabelos exuberantes. No antigo Egito, havia o hábito de se raspar a cabeça, para assim homens e mulheres poderem usar perucas com penteados especiais, ornados com ouro e pedras preciosas que, pela sua abundância ou não, revelam a posição na hierarquia social.

*O Globo, 27/11/2004 (com adaptações).*

**01) Assinale a alternativa correta. O texto acima:**

- a) Vende um produto para usar nos penteados afro.
- b) Mostra que o cabelo afro é algo da época dos 90.
- c) Mostra novas tendências de beleza para o cabelo afro.
- d) Informa sobre a história dos penteados afro.
- e) Nenhuma das alternativas.

**02) Assinale a alternativa correta que preencha as lacunas abaixo, empregando PORQUE, POR QUE E POR QUÊ:**

Estou sempre perguntando para minha mãe \_\_\_\_\_ a escola não ensina coisas que a gente possa aproveitar na vida.

Não fui à festa \_\_\_\_\_ estava doente.

Ela não passou de ano \_\_\_\_\_.

**A ordem CORRETA, de cima para baixo é:**

- a) por que, porque, por quê.
- b) por quê, por que, porque.
- c) porque, por que, por quê.
- d) porque, por quê, por que.
- e) por que, por quê, porque.

**03) Assinale a alternativa CORRETA quanto ao uso da crase:**

- a) Recorria sempre a mãe e a ela se apegava.
- b) Devo ir à São Paulo na semana que vem.
- c) O texto precisa ser adequado a finalidade a que se destina.
- d) Comparecemos a reunião pontualmente.
- e) Não resisto à tentação de experimentar esses bombons.

**04) Assinale a alternativa correta que preencha as lacunas abaixo, empregando MAL e MAU:**

Saiu \_\_\_\_\_ agasalhado.

Não saímos devido ao \_\_\_\_\_ tempo.

Fiz um \_\_\_\_\_ negócio.

**A ordem CORRETA, de cima para baixo é:**

- a) mau, mal, mau.
- b) mal, mau, mau.
- c) mal, mal, mau.
- d) mal, mau, mal.
- e) mau, mau, mal.

**05) Complete as palavras abaixo com CH ou X:**

Coquelu \_\_\_ e.

En \_\_\_ ugar.

\_\_\_ icote.

Cai \_\_\_ ote.

Trou \_\_\_ a.

**A ordem CORRETA, de cima para baixo é:**

- a) x, ch, X, x, x.
- b) x, ch, Ch, x, x.
- c) ch, x, Ch, x, x.
- d) ch, ch, X, x, ch.
- e) x, ch, Ch, ch, x.

**06) A empresa de telefonia celular YXZ cobra R\$ 0,19 por minuto em ligações locais para outros celulares e R\$ 1,16 por minuto em ligações a distância. Júlio César fez 8 ligações locais de 2,5 minutos cada e 2 ligações a distância de 0,5 minuto cada. Considerando que apenas o preço do minuto em cada ligação, Júlio César vai pagar à empresa de telefonia YXZ?**

- a) R\$ 13,50.
- b) R\$ 4,96.
- c) R\$ 3,70.
- d) R\$ 12,50.
- e) R\$ 6,80.

**07) Se Bianca Cecília ganhar R\$ 600,00 e juntar com o que tem, poderá pagar uma dívida de R\$ 893,00 e ainda lhe sobrarão R\$ 31,00. Quanto Bianca Cecília tem?**

- a) R\$ 431,00.
- b) R\$ 262,00.
- c) R\$ 562,00.
- d) R\$ 389,00.
- e) R\$ 324,00.

**08) Em uma semana, Samuel vendeu 65 caixas completas de picolés e 8 picolés avulsos. Cada caixa completa contém uma dúzia de picolés. Quantos picolés Samuel vendeu nessa semana?**

- a) 398.
- b) 73.
- c) 788.
- d) 658.
- e) 593.

**09) Pensei em um número. Multipliquei-o por 15. Ao resultado, adicionei 120 e obtive 2.190. Em que número pensei?**

- a) 138.
- b) 168.
- c) 197.
- d) 146.
- e) 118.

**10) A escola de samba Rica da Vila desfila com várias alas, contendo, cada uma, 45 pessoas. No carnaval passado, havia 723 candidatos para desfilar nessa escola. Quantas alas foram ou poderiam ser formadas?**

- a) 10.
- b) 8.
- c) 12.
- d) 23.
- e) 16.

### Conhecimentos Gerais

**11) A maior floresta do mundo, o rio mais caudaloso do planeta, uma biodiversidade invejável. Os maiores tesouros da Floresta Amazônica, por incrível que pareça acabam tornando-se também seu principal problema. Diante desse mundo verde e de seus largos rios fica difícil para a população da região acreditar que um dia isso tudo pode acabar. Considerando o acima exposto, assinale a alternativa que completa de maneira lógica e correta o raciocínio acima:**

- a) A falta de consciência em relação aos riscos que o desperdício e a agressão à floresta podem trazer para a vida não estão restritas apenas às crianças, mas afetam também adultos, políticos e até fiscais que deveriam preservar a floresta.
- b) O maior problema da floresta Amazônica é a falta de incentivos fiscais para evitar as crises de abastecimento de energia eólica de modo a suprir as necessidades dos consumidores da fonte.
- c) Os problemas sociais enfrentados pelas populações ribeirinhas influenciam diretamente no grau de desmatamento dos grandes latifundiários na corrida pelo ouro negro.

- d) O principal problema enfrentado pela Amazônia legal reside nas diferenças de cultura popular que prima pelo bem estar individual em detrimento do bem estar coletivo sem prejuízo das oligarquias imperiais do início do Século XVIII.
- e) A corrida armamentista vem tornando a Floresta Amazônica ponto estratégico do governo Islâmico para ataque das potências terroristas do mundo moderno.

**12) A presidente Dilma Rousseff sancionou nesta segunda-feira a Lei que fixa critérios para gastos mínimos do governo com saúde. O ato foi publicado no Diário Oficial da União. A presidente fez quinze vetos ao texto enviado ao Planalto pelo Senado. Os estados e o Distrito Federal aplicarão na área no mínimo 12% da arrecadação com impostos da saúde. Os municípios deverão aplicar no mínimo \_\_\_\_\_.**

Fonte: Revista Veja, 16/01/2012.

- a) 5%.
- b) 10%.
- c) 20%.
- d) 15%.
- e) 8%.

**13) O Município de Guatambu/SC foi criado no ano de \_\_\_\_\_, sendo desmembrado de \_\_\_\_\_.**

Fonte: [www.guatambu.sc.gov.br](http://www.guatambu.sc.gov.br)

- a) 1910 – Caxambu do Sul.
- b) 1989 – Palmitos.
- c) 1991 – Chapecó.
- d) 1990 – São Carlos.
- e) 1980 – Planalto Alegre.

**14) Os versos do Hino Nacional Brasileiro caem como uma luva para descrever a Floresta Amazônica. A sensação é de que, em 1909, o seu autor devia estar cruzando um dos rios da Bacia Amazônica ou passeando por uma região de natureza tão exuberante quanto a que encontramos seguindo pelo Rio Amazonas e pelo Rio Negro. Esse ecossistema de dimensões continentais abriga o rio mais caudaloso e longo do mundo, qual é esse rio?**

- a) Rio Negro.
- b) Rio Amazonas.
- c) Rio Uruguai.
- d) Rio São Francisco.
- e) Rio Solimões.

**15) Atualmente o município de Guatambu/SC, é o \_\_\_\_\_ município que mais cresce na região na AMOSC (Associação dos Municípios do Oeste de Santa Catarina), e recebe o nome de capital catarinense na produção de \_\_\_\_\_.**

Fonte: [www.guatambu.sc.gov.br](http://www.guatambu.sc.gov.br)

- a) 5º - grãos.
- b) 3º - matrizes de peru.
- c) 7º - leite.
- d) 2º - vestuário.
- e) 4º - móveis rústicos.

**Conhecimentos Específicos**

16) Assinale a alternativa correta que corresponde a placa de regulamentação R-18:



a)



b)



c)



d)



e)



17) A placa  proíbe:

- a) o condutor retornar à esquerda.
- b) o condutor a circulação em frente.
- c) o condutor que siga à esquerda.
- d) o condutor que vire à esquerda.
- e) o condutor de mudar de faixa ou pista de trânsito da direita para a esquerda.



18) A placa  indica:

- a) início de pista dupla.
- b) mão dupla adiante.
- c) pista dividida.
- d) sentido único.
- e) fim de pista dupla.

19) Entre as placas a seguir, assinale qual alerta o condutor para a existência adiante de trecho onde pode ocorrer projeção de cascalho:



a)



b)



c)



d)



e)



20) A placa  alerta o condutor:

- a) que à frente existe uma curva à direita.
- b) que à frente existe uma curva acentuada à direita.
- c) que à frente existem três ou mais curvas sucessivas, sendo a primeira à direita.
- d) da existência de duas ou mais curvas em "S" sucessivas adiante, sendo a primeira a direita.
- e) que existem à frente duas curvas sucessivas em "S" sendo pelo menos uma delas acentuada e começando pela direita.

21) Segundo o art. 7º do Código de Trânsito Brasileiro, quais são os órgãos com funções coordenadora, consultiva e normativa:






- I. CONTRADIFE.
- II. DNIT.
- III. CONTRAN.
- IV. DENATRAN.
- V. CETRAN.

Estão corretos:

- a) somente os itens I, III e V.
- b) somente os itens II e IV.
- c) somente os itens I, IV e V.

- d) somente os itens I e III.
- e) todos os itens.

**22) Qual das placas a seguir assinala ao pedestre a obrigatoriedade de andar pelo lado direito da via:**

- a) 
- b) 
- c) 
- d) 
- e) 



**23) A placa de advertência indica:**

- a) entroncamento oblíquo à esquerda.
- b) via lateral à esquerda.
- c) confluência à esquerda.
- d) junção à esquerda.
- e) interseção à esquerda.

**24) Segundo o art. 26 do Código de Trânsito Brasileiro, é seu dever:**

- a) cobrar dos órgãos competentes danos causados por irregularidade das vias e problemas mecânicos ocorridos pelos mesmos.
- b) transitar sem constituir perigo ou obstáculo para os demais elementos do trânsito.
- c) solicitar através de projetos a educação do trânsito.
- d) respeitar à segurança, defesa e a preservação do meio ambiente, utilizando os projetos ecológicos.
- e) conduzir veículos em critérios de padronizações técnicas.

**25) Entre as técnicas de direção defensiva estão agrupadas cinco elementos básicos:**

- a) conhecimento, atenção, previsão, habilidade e ação.
- b) atenção, habilidade, experiência de 2 anos, segurança e prudência.

- c) habilidade, ação, prudência, conhecimentos técnicos e previsão.
- d) atenção, previsão, habilidade, conhecimentos mecânicos e prudência.
- e) conhecimento, habilidade, atenção, prudência e ação.