

## CONCURSO PARA GUARDA MUNICIPAL DE ITATIAIUÇU

### LEIA COM ATENÇÃO!

- 01.** Só abra este caderno após ler todas as instruções e quando for autorizado pelos fiscais da sala.
- 02.** Autorizado o início da prova, verifique se este caderno contém 30 (trinta) questões. Se não estiver completo, exija outro do fiscal da sala.
- 03.** Todas as questões desta prova são de múltipla escolha, apresentando como resposta uma alternativa correta.
- 04.** Ao receber a folha de respostas, confira o nome da prova, o seu nome e número de inscrição. Qualquer irregularidade observada comunique imediatamente ao fiscal.
- 05.** Assinale a resposta de cada questão no corpo da prova e, só depois, transfira os resultados para a folha de respostas.
- 06.** Para marcar a folha de respostas, utilize apenas caneta esferográfica preta ou azul e faça as marcas de acordo com o modelo afixado no quadro. A marcação da folha de respostas é definitiva, não admitindo rasuras.
- 07.** Só marque uma resposta para cada questão.
- 08.** Não risque, não amasse, não dobre e não suje a folha de respostas, pois isso poderá prejudicá-lo.
- 09.** Se a Comissão verificar que a resposta de uma questão é dúbia ou inexistente, a questão será posteriormente anulada e os pontos, a ela correspondentes, atribuídos a todos os candidatos.
- 10.** Os fiscais não estão autorizados a emitir opinião nem prestar esclarecimentos sobre o conteúdo das provas. A interpretação das questões faz parte da avaliação (prova).



Fundação  
Guimarães Rosa



## **Prova de Língua Portuguesa**

As questões de 1 a 5 se referem ao texto abaixo:

### **Depoimento**

Meus netos afirmavam que eu nascera avô, só porque as crianças nascem crianças. Desde suas primeiras recordações, impressionou-os meu jeito de labareda ao vento no andar, sem falar nestes cabelos contados e sem cor ou no rosto trincado que ainda me assusta no espelho. Para eles, fui avô a vida inteira. Nada mais errado. A gente nasce criança, cresce e volta a ser criança. Começamos e acabamos do mesmo jeito. Daí a afinidade entre avôs e netos: vivemos a mesma idade.

Custei a convencê-los de que minha infância duraria mais. Eles logo entrariam na adolescência, enquanto eu, bem. . . eu ficaria criança para sempre. Desde que o mundo é mundo, este círculo se repete. Talvez, por isso me repita tanto nas minhas falas, imitando a própria vida.

Meus netos também se enganavam num outro aspecto: achavam que eu não duraria muito, isto é, andava de namoro firme com o cemitério. Sentia seus olhares de "até nunca mais" a cada despedida de fim de férias, olhares carinhosos de uma saudade, mas tristes. Custei, também a convencê-los de que nos veríamos ainda por muito tempo, e eles partiriam antes de mim. Em breve, apenas eu continuaria menino. Eu, o bom velhinho.

Descobri minha segunda infância faz pouco. Uma alegria enorme em reconhecê-la! Alertado sobre sua existência aos doze anos, não me dei ao trabalho de acreditar. Ouvira um aviso meio místico, cheirando a invenção da cabeça da gente, coisa de pouco crédito. Ao chegarem os filhos de meus filhos, a história me ocorreu de supetão, clarinha, clarinha como se tivesse acontecido ontem.

Daí pra frente, quanto mais afastada a lembrança, maior sua clareza. Acontecimentos que julgava definitivamente esquecidos remontavam-me com suas cores, odores e sons. Voltavam todos dos primeiros anos, revestidos do impacto da descoberta. Vinham gravados numa mente ávida por impressões, semi deserta ainda, na qual um canto de um pássaro ou a visão de um sol na tempestade provocava mais prazer do que qualquer sorvete. Contentava-me então com muito pouco: bastava-me o mundo. . . Daí a preferência pela infância para ancorar-me na velhice. Segurava o mundo nas mãos. Cada manhã oferecia concertos para os sentidos.

### QUESTÃO 01

De acordo com o texto, todos os itens expressam sentimentos e impressões dos netos em relação ao avô, **EXCETO**:

- (A) Carinho.
- (B) Perda.
- (C) Tristeza.
- (D) Intolerância.

### QUESTÃO 02

Para os netos, “o avô já nascera avô.” são justificativas, segundo o texto; **EXCETO**:

- (A) Os cabelos contados do avô.
- (B) O rosto trincado.
- (C) As lembranças da infância.
- (D) O jeito de andar do avô.

### QUESTÃO 03

Na opinião do personagem, há uma sincronia perfeita entre duas fases da vida.

Marque a alternativa que evidencia a afirmativa:

- (A) adolescência/velhice.
- (B) infância/velhice.
- (C) adolescência/infância.
- (D) nascimento/morte.

### QUESTÃO 04

Leia o trecho do 5º parágrafo: "...remontavam-me com suas cores, odores e sons." O autor se refere a acontecimentos que surgem do passado através dos órgãos dos sentidos, **EXCETO**:

- (A) Visão.
- (B) Olfato.
- (C) Audição.
- (D) Paladar.

### QUESTÃO 05

No trecho: "olhares carinhosos de uma saudade, mas tristes." (3º parágrafo) a expressão destacada se refere:

- (A) Aos netos.
- (B) À saudade.
- (C) Aos olhares.
- (D) Aos avós.

### QUESTÃO 06

Observe:

1º) "Vale a pena conversar com um velho amigo."

2º) "Vale a pena conversar com um amigo velho."

A mudança na ordem das palavras:

- (A) Altera o sentido da frase.
- (B) Torna a frase interrogativa.
- (C) Faz com que a frase fique negativa.
- (D) Reforça o sentido da primeira frase.

### QUESTÃO 07

O grupo de vocábulos : suas, idade, repete, ávida; são respectivamente:

- (A) pronome –adjetivo – verbo -substantivo
- (B) pronome – substantivo – verbo - adjetivo
- (C) pronome – substantivo – verbo - substantivo
- (D) pronome – adjetivo – verbo - adjetivo

### QUESTÃO 08

Nas palavras abaixo o prefixo indica negação, **EXCETO**:

- (A) Intermináveis.
- (B) Incontáveis.
- (C) Impossíveis.
- (D) Impressionou.

### QUESTÃO 09

Marque a alternativa em que há um erro de flexão no diminutivo plural.

- (A) Irmãozinhos.
- (B) Papelzinhos.
- (C) Heroizinhos.
- (D) Lençoizinhos.

## QUESTÃO 10

Leia os períodos abaixo, diferentes quanto à pontuação.

1º) Sugerir logo; não me calei.

2º) Sugerir; logo não me calei.

De acordo com os dois períodos, marque a alternativa **CORRETA**:

- (A) No primeiro, logo é advérbio de tempo; no segundo, uma conjunção causal.
- (B) No primeiro, logo é uma palavra invariável; no segundo, uma palavra variável.
- (C) No primeiro, as orações estão coordenadas sem a presença de conjunção; na segunda, com a presença de uma conjunção conclusiva.
- (D) No primeiro as orações estão coordenadas com a presença de uma conjunção; no segundo, sem conjunção alguma.

## Prova de Legislação

### QUESTÃO 11

O Estatuto da Criança e do Adolescente (Lei Federal 8069/1990) estabelece que as entidades que desenvolvem programas de internação têm obrigações a serem cumpridas. Marque a alternativa que **NÃO** corresponde a obrigação para tais entidades:

- (A) Diligenciar no sentido do restabelecimento e da preservação dos vínculos familiares.
- (B) Comunicar à autoridade judiciária, periodicamente, os casos em que se mostre inviável ou impossível o reatamento dos vínculos familiares.
- (C) Oferecer cuidados médicos, psicológicos, odontológicos e farmacêuticos.
- (D) Inclusão em programa comunitário ou oficial de auxílio à família, à criança e ao adolescente.

### QUESTÃO 12

Marque a alternativa que **NÃO** está no rol das garantias que o Estatuto da Criança e do Adolescente assegura ao adolescente:

- (A) Direito de solicitar a presença de seus pais ou responsável em qualquer fase do procedimento.
- (B) Direito de ser ouvido pessoalmente pela autoridade competente.
- (C) Assistência judiciária gratuita e integral aos necessitados, na forma da lei.
- (D) Defesa técnica por seus pais.



### QUESTÃO 13

Coloque **V** nas afirmativas verdadeiras e **F** nas afirmativas falsas. Marque a alternativa que corresponde à **SEQUÊNCIA CORRETA**:

- ( ) Receber visitas, ao menos semanalmente, é um direito do adolescente privado de liberdade.
- ( ) Quando internado o adolescente não pode corresponder-se com seus familiares e amigos.
- ( ) Submeter pessoa sob sua guarda ou custódia a vexame ou a constrangimento não autorizado em lei constitui também abuso de autoridade, conforme a lei número 4898, de 9 de dezembro de 1965.
- ( ) A violência doméstica e familiar contra a mulher constitui uma das formas de violação dos direitos humanos.

- (A) – V-V-V-V;
- (B) – V-F-V- F;
- (C) – F-V-V-V;
- (D) - V-F-V-V

### QUESTÃO 14

Com base na Constituição Federal, marque a alternativa **INCORRETA**:

- (A) Ninguém será submetido a tortura nem a tratamento desumano ou degradante.
- (B) É livre a manifestação do pensamento, resguardando o anonimato.
- (C) A educação, a saúde, o trabalho, o lazer, a segurança, entre outros, são direitos sociais garantidos pela Constituição Brasileira.
- (D) São inegáveis os inalistáveis e os analfabetos.

## QUESTÃO 15

Marque a alternativa **INCORRETA**:

- (A) A administração pública dos Municípios obedecerá aos princípios de legalidade, impessoalidade, moralidade, publicidade.
- (B) Servidores nomeados em virtude de concurso público são estáveis após dois anos de efetivo serviço.
- (C) As Guardas Municipais, de acordo com a Constituição Brasileira, são destinadas à proteção de seus bens, serviços e instalações, conforme dispuser a lei.
- (D) As ações e serviços públicos de saúde tem na rede municipal um sistema único organizado com a diretriz de atendimento integral, com prioridade para as atividades preventivas.

## QUESTÃO 16

Leia as afirmativas abaixo e marque a alternativa **INCORRETA**:

- (A) São penalmente inimputáveis os menores de dezoito anos, sujeitos às normas da legislação especial.
- (B) Os pais têm o dever de assistir, criar e educar os filhos menores, e os filhos maiores têm o dever de ajudar e amar os pais na velhice, carência ou enfermidade.
- (C) A família, a sociedade e o Estado têm o dever de amar as pessoas idosas, assegurando sua participação na comunidade, defendendo sua dignidade e bem-estar e garantindo-lhes o direito a à vida. Art. 230
- (D) Aos idosos maiores de 75 anos é garantida a gratuidade dos transportes coletivos urbanos.

### QUESTÃO 17

A Lei Complementar nº 56, de 18 de junho de 2010, instituiu a Guarda Municipal Patrimonial de Itatiaiuçu: uma corporação uniformizada, desarmada, com formação e orientação específica. Marque a alternativa que **NÃO** corresponde a uma destinação da Guarda Municipal de Itatiaiuçu:

- (A) Proteção dos bens, serviços e instalações municipais.
- (B) Colaboração com outros órgãos públicos, inclusive outros governos, nas atividades afins.
- (C) Fiscalização e controle do tráfego e do trânsito no âmbito municipal.
- (D) Fiscalização e controle das atividades de meio ambiente.

### QUESTÃO 18

São competências da Guarda Municipal de Itatiaiuçu, **EXCETO**:

- (A) Prestar assistências diversas.
- (B) Exercer o serviço de vigilância preventiva nas escolas públicas, especialmente, na entrada e saída de alunos.
- (C) Exercer a atividade de prevenção ativa nos principais corredores de trânsito, festividades públicas e outros eventos, antecipando as ações da Polícia Militar, Polícia Civil e Corpo de Bombeiros.
- (D) Exercer a polícia ostensiva e a preservação da ordem pública em eventos planejados pelo Município.

## QUESTÃO 19

Em se tratando de viagem de criança ou adolescente para fora da comarca onde moram, ou para o exterior, em relação à autorização judicial podemos afirmar, segundo o Estatuto da Criança e Adolescente que:

- (A) A autorização é dispensável, se a criança ou adolescente estiver acompanhada de ambos os pais ou responsável.
- (B) Mesmo que a viagem é para comarca contígua à da residência da criança a autorização será exigida por determinação da lei.
- (C) A autorização será dispensada se a criança estiver acompanhada de pessoa maior, com expressa autorização do pai.
- (D) Uma autorização judicial poderá ser expedida por solicitação dos pais por um período de três anos.

## QUESTÃO 20

A Lei Complementar nº 55, de 15 de abril de 2010 reestrutura a Organização Geral da Administração Direta do Município de Itatiaiuçu e dá outras providências. Marque a alternativa que **NÃO** corresponde a competência da Secretaria de Assistência Social:

- (A) Promover e facilitar o acesso da população aos conhecimentos humanísticos e técnicos que propiciem o progresso da comunidade.
- (B) Assistir às populações atingidas por calamidades públicas.
- (C) Coordenar projetos de empreendimentos de melhoria das condições de habitação e saneamento básico em áreas carentes.
- (D) Promover a regularização fundiária e de residências edificadas em áreas do Município.

## **Prova de Raciocínio Lógico.**


### **QUESTÃO 21**

Um município produz 9 toneladas de lixo por dia. Cerca de 2.238 pessoas, um quarto da população desse município, fazem parte da classe B e produzem a metade desse lixo. Marque a alternativa que contenha, respectivamente, a população desse município e a quantidade diária de lixo produzida pela classe B.

- (A) 4.476 pessoas; 2,25 toneladas de lixo.
- (B) 8.952 pessoas; 4,5 toneladas de lixo.
- (C) 4.476 pessoas; 4,5 toneladas de lixo.
- (D) 8.952 pessoas; 2,25 toneladas de lixo.

## QUESTÃO 22

A ilustração abaixo representa a visão aérea de um bairro onde os quadrados na cor cinza simulam quarteirões, todos com as mesmas dimensões, separados pelas ruas horizontais 1, 2 e 3 e pelas ruas verticais A, B e C, todas com as mesmas dimensões.



O Guarda Municipal Torres está no ponto I e deve chegar, à pé, ao ponto II percorrendo a menor distância possível.

Nessas condições, de quantas maneiras diferentes ele poderá fazer esse trajeto?

- (A) 4.
- (B) 5.
- (C) 6.
- (D) 7.

### QUESTÃO 23

O caminho entre a Prefeitura Municipal e a Igreja Matriz, em certo Município, tem 5 quilômetros, se percorrido por um carro. Da Igreja Matriz até o trevo desse município são 12 quilômetros, também de carro. Na metade do caminho entre a Igreja Matriz e o trevo existe um posto de gasolina. Um carro oficial saiu da Prefeitura, foi direto até a Igreja Matriz e em seguida partiu em direção ao trevo, mas parou nesse posto de gasolina para abastecer.

Quantos quilômetros esse carro percorreu da Prefeitura até o posto de gasolina?

- (A) 8
- (B) 11
- (C) 12
- (D) 17

### QUESTÃO 24

Suponha que uma nova operação seja criada no conjunto dos números inteiros. Essa operação será denotada como “jogo da velha”, cujo símbolo é #.

Agora considere os seguintes resultados:


$$\begin{aligned}2 \# 4 &= 7 \\3 \# 6 &= 17 \\4 \# 8 &= 31\end{aligned}$$

Nessas condições o resultado mais provável para  $5 \# 10$  é:

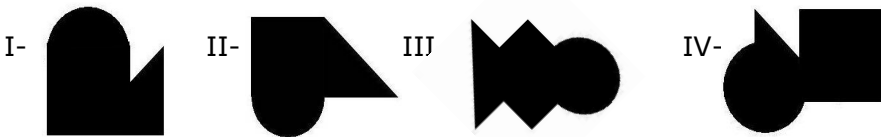
- (A) 37
- (B) 39
- (C) 42
- (D) 49

### QUESTÃO 25

Observe as figuras abaixo, de mesma altura e largura:



Agora considere as formações:



Considerando a organização das figuras inicialmente apresentadas, com possibilidade de rotação, sobreposição parcial ou integral, sem cortá-las ou dobrá-las, poderíamos construir as formações:

- (A) Apenas as formações I, III e IV.
- (B) Apenas as formações I e III.
- (C) Apenas as formações I e IV.
- (D) As formações I, II, III e IV.



## QUESTÃO 26

Carlos tem uma empresa que atua na área de informática. Para contratar um funcionário com carteira assinada, ele gastará, por mês, além do salário, 80% a mais com impostos e benefícios. Nessas condições, Carlos terá o gasto mensal de R\$ 1.800,00 com apenas um profissional.

Qual é o salário desse funcionário?

- (A) R\$ 1.000,00.
- (B) R\$ 1.033,00.
- (C) R\$ 1.200,00.
- (D) R\$ 1.440,00.

## QUESTÃO 27

O fazendeiro José fará o reflorestamento de suas terras improdutivas a fim de cumprir legislação ambiental. Para terminar o trabalho conforme o programado, em 8 meses, José empenharia 30 trabalhadores. Como o início das atividades atrasaram 3 meses, José precisou aumentar o número de trabalhadores para terminar na data que havia prometido à prefeitura.

Nas mesmas condições de trabalho, qual o total de trabalhadores contratados por José?

- (A) 32
- (B) 48
- (C) 52
- (D) 60

**QUESTÃO 28**

Para preencher os espaços vazios do quadro abaixo com algarismos de 1 a 9, todas as condições seguintes devem ser satisfeitas.

- i) Nenhum algarismo será repetido.
- ii) A soma dos algarismos da coluna Z será igual a 24.
- iii) A soma dos elementos da 3ª linha será igual a 20.

	X	Y	Z
1ª linha	1		
2ª linha		2	
3ª linha			

Nessas condições, qual o número abaixo que pode representar a soma do algarismo da coluna Y na 1ª linha e da coluna Z na 3ª linha?

- (A) 13
- (B) 14
- (C) 15
- (D) 16

## QUESTÃO 29

Na legislação de um determinado município, a chamada “Lei do Silêncio” estabelece que, no período de 22 horas até às 07 horas do dia seguinte, a emissão de ruídos não poderá ser superior a 60 decibéis, medidos conforme norma técnica pré-estabelecida. Numa ocorrência, mediu-se a emissão de ruídos correspondente a 75 decibéis, em medição realizada às 2 horas da manhã na parte exterior de uma casa noturna.

De acordo com o exposto, podemos afirmar que foi identificada emissão de ruídos:

- (A) 15% superior ao permitido.
- (B) 20% superior ao permitido.
- (C) 25% superior ao permitido.
- (D) 30% superior ao permitido.

## QUESTÃO 30

Considere os conjuntos abaixo:

$$I = \{2, 4, 5, 6, 8\}$$
$$II = \{1, 2, 3, 4, 5, 6, 7, 8, 9\}$$
$$III = \{1, 3, 5, 7, 9\}$$

Marque a alternativa **INCORRETA**:

- (A)  $I \cup II = II$
- (B)  $I \cap II = I$
- (C)  $II \cap III = III$
- (D)  $II \cup III = I$

**ANOTE AQUI AS SUAS RESPOSTAS PARA POSTERIOR  
CONFERÊNCIA.**

<b>QUESTÃO</b>	<b>RESPOSTA</b>	<b>QUESTÃO</b>	<b>RESPOSTA</b>
<b>Nº 01</b>		<b>Nº 16</b>	
<b>Nº 02</b>		<b>Nº 17</b>	
<b>Nº 03</b>		<b>Nº 18</b>	
<b>Nº 04</b>		<b>Nº 19</b>	
<b>Nº 05</b>		<b>Nº 20</b>	
<b>Nº 06</b>		<b>Nº 21</b>	
<b>Nº 07</b>		<b>Nº 22</b>	
<b>Nº 08</b>		<b>Nº 23</b>	
<b>Nº 09</b>		<b>Nº 24</b>	
<b>Nº 10</b>		<b>Nº 25</b>	
<b>Nº 11</b>		<b>Nº 26</b>	
<b>Nº 12</b>		<b>Nº 27</b>	
<b>Nº 13</b>		<b>Nº 28</b>	
<b>Nº 14</b>		<b>Nº 29</b>	
<b>Nº 15</b>		<b>Nº 30</b>	

O gabarito oficial da prova de múltipla escolha será divulgado no prazo máximo de até 48 (quarenta e oito) horas, após a sua realização, no órgão oficial do Município e no site [www.fgr.org.br](http://www.fgr.org.br).

Acompanhe no site da Fundação as datas das demais etapas do concurso.



**Fundação  
Guimarães Rosa**