



CONCURSO PÚBLICO PARA PROVIMENTO DE VAGAS EM CARGOS EFETIVOS

**INSTITUTO DE PREVIDÊNCIA DOS SERVIDORES PÚBLICOS DO
MUNICÍPIO DE TIBAGI**

CADERNO DE PROVAS

Cargo

Auxiliar de Serviços Gerais



Antes de iniciar a prova, leia as instruções abaixo:

1. Espere a ordem do fiscal para iniciar a prova.
2. Leia, atentamente, as questões, e atenha-se a elas, pois nenhum esclarecimento a mais poderá ser dado, e o sucesso de um concurso está na compreensão do que é solicitado.
3. Utilize somente caneta esferográfica preta ou azul.
4. A folha de respostas compõe-se de quadrículas. Para assinalá-las, basta preencher toda a quadrícula da questão escolhida, da seguinte forma: ■
5. Será nula a prova, se forem assinaladas todas as questões com uma única alternativa de respostas.
6. Serão nulas as respostas rasuradas ou múltiplas para uma mesma questão.
7. Não se atenha às questões que julgar difíceis, volte a elas, se lhe sobrar tempo.
8. Ao início da prova, o Fiscal comunicará o período de tempo concedido para a realização dela.
9. Ao término da prova, entregue TODO O MATERIAL recebido.
10. Preencha claramente os dados na folha de respostas. Coloque somente seu número de inscrição; não coloque seu nome, nem na folha de respostas, nem nas provas.
11. Não é permitido, em hipótese alguma, o empréstimo de qualquer objeto.
12. Somente poderá ausentar-se da sala da prova, acompanhado do fiscal de corredor.
13. Permaneça no local da prova pelo prazo mínimo de uma hora.
14. Guarde todo tipo de equipamento de comunicação eletrônico e relógio, durante a execução da prova.
15. Use o verso da ficha de comprovação de inscrição, para copiar o gabarito de sua prova.
16. O resultado do concurso não será divulgado por telefone.
17. Os gabaritos estarão disponíveis no mural de avisos da Prefeitura Municipal de Tibagi, e juntamente com os conteúdos dos cadernos de provas, serão divulgados via internet, nos sites concursopublico.uniuv.edu.br e www.tibagi.pr.gov.br, às 17h do dia 25 de julho de 2011.



TEXTO

UM HOMEM TAMBÉM CHORA (Gonzaguinha)

Um homem também chora / / Menina morena / / Também deseja colo / / Palavras amenas... / / Precisa de carinho / / Precisa de ternura / / Precisa de um abraço / / Da própria candura...

Guerreiros são pessoas / / Tão fortes, tão frágeis / / Guerreiros são meninos / / No fundo do peito... / / Precisam de um descanso / / Precisam de um remanso / / Precisam de um sono / / Que os tornem refeitos...

É triste ver esse homem / / Guerreiro menino / / Com a barra do seu tempo / / Por sobre seus ombros...

Eu vejo que ele berra / / Eu vejo que ele sangra / / A dor que tem no peito / / Pois ama e ama...

Um homem se humilha / / Se castram seu sonho / / Seu sonho é sua vida / / E vida é trabalho... / / E sem o seu trabalho / / O homem não tem honra / / E sem a sua honra / / Se morre, se mata... / / Não dá prá ser feliz / / Não dá prá ser feliz (...)

Fonte: Jornal Mundo Jovem, abril de 2011, encarte de Filosofia.

1. Segundo o autor, “Um homem também chora”. Essa frase é um tipo de resposta a quem diz:

- (A) Chorar faz bem;
- (B) O homem é sensível;
- (C) Homem não é chorão;
- (D) Mulher é chorona;
- (E) Choro é sinal de humanidade.

2. “Menina morena também deseja colo”.

Esse verso refere-se, indiretamente à:

- (A) Discriminação religiosa;
- (B) Discriminação de gênero;
- (C) Discriminação de nível social;
- (D) Discriminação racial;
- (E) Discriminação intelectual.

3. O poema todo quer chamar a atenção para o fato de que:

- (A) Não dá para ser feliz;
- (B) O homem ou é forte ou é frágil, nunca os dois;
- (C) O homem se humilha quando trabalha;
- (D) O homem não sofre por amor;
- (E) É o trabalho que valoriza a vida humana.



4. No poema o autor repete o começo de vários versos, como “Precisa de carinho /Precisa de ternura/ Precisa de um abraço”.

Esse recurso poético da repetição demonstra:

- (A) Linguagem rebuscada;
- (B) Falta de criatividade;
- (C) Intensificação da carência ou necessidade;
- (D) Ideias vagas, pouco nítidas;
- (E) Variedade linguística nordestina.

5. No verso “Um homem se humilha se castram seu sonho”, existe:

- (A) Um verbo inadequado;
- (B) Sentido figurado;
- (C) Um termo que, em geral, refere-se a plantas;
- (D) Falta de lógica;
- (E) Referência implícita a suicídio.

6. Assinale a classe de palavras que tem a função de ligar as orações de um período:

- (A) Artigo;
- (B) Adjetivo;
- (C) Substantivo;
- (D) Conjunção;
- (E) Advérbio.

7. Assinale a alternativa que se refere a um verbo defectivo:

- (A) Explodir;
- (B) Sonhar;
- (C) Haver;
- (D) Trazer;
- (E) Pôr.

8. Assinale a alternativa em que o pronome de tratamento for inadequado ao contexto:

- (A) Excelentíssimo Senhor Prefeito, aguardo-o para a solenidade.
- (B) Excelentíssimo Senhor Deputado, é uma honra recebê-lo em nossa cidade.
- (C) Reverendíssimo Dom João, contamos com sua presença para abençoar-nos.
- (D) Magnífico Senhor Juiz, peço vênias para esclarecer esse assunto.
- (E) Santíssimo Padre, nosso Grupo de orações estará em Roma dia 10 de julho e solicita audiência com Vossa Santidade.

9. Assinale a alternativa que contiver problema de regência verbal:

- (A) Joana é enfermeira e assiste os doentes com dedicação.
- (B) Abra as janelas para aspirarmos ar puro.
- (C) Maria prefere mais café do que leite.
- (D) Obedeça às leis, pois elas visam ao bem comum.
- (E) Não lhe assiste o direito de nos excluir da equipe.



10. Assinale a alternativa em que o pronome átomo estiver mal colocado:

- (A) Não a vejo há meses;
- (B) Quanto me aborreces!;
- (C) Dar-lhe-ei a resposta amanhã;
- (D) Haviam-lhe dado a triste notícia;
- (E) Te digo que te enganaste.

11. Assinale o verbo mal conjugado:

- (A) Eu coloro;
- (B) Eles hão;
- (C) Eu águo;
- (D) Eu averiguo;
- (E) Eu mobílio.

12. Assinale a alternativa em que haja, pelo menos, uma palavra grafada incorretamente:

- (A) Anarquizar, deslizar, alisar;
- (B) Repisar, vulgarizar, analisar;
- (C) Enxurrada, recauxutar, chumaço;
- (D) Vexame, xaxim, orixá.
- (E) Ojeriza, esvaziar, avezita.

13. Assinale a alternativa em que haja plural incorreto:

- (A) Os beija-flores são verdadeiras obras-primas da natureza.
- (B) Sempre fazemos pães-de-ló e pés-de-moleques;
- (C) Receba nossos abaixo-assinados;
- (D) Cultivemos as flores-de-maio;
- (E) Os homens-rã ficaram perto dos navios-tanque.

14. Assinale o par em que não haja correspondência:

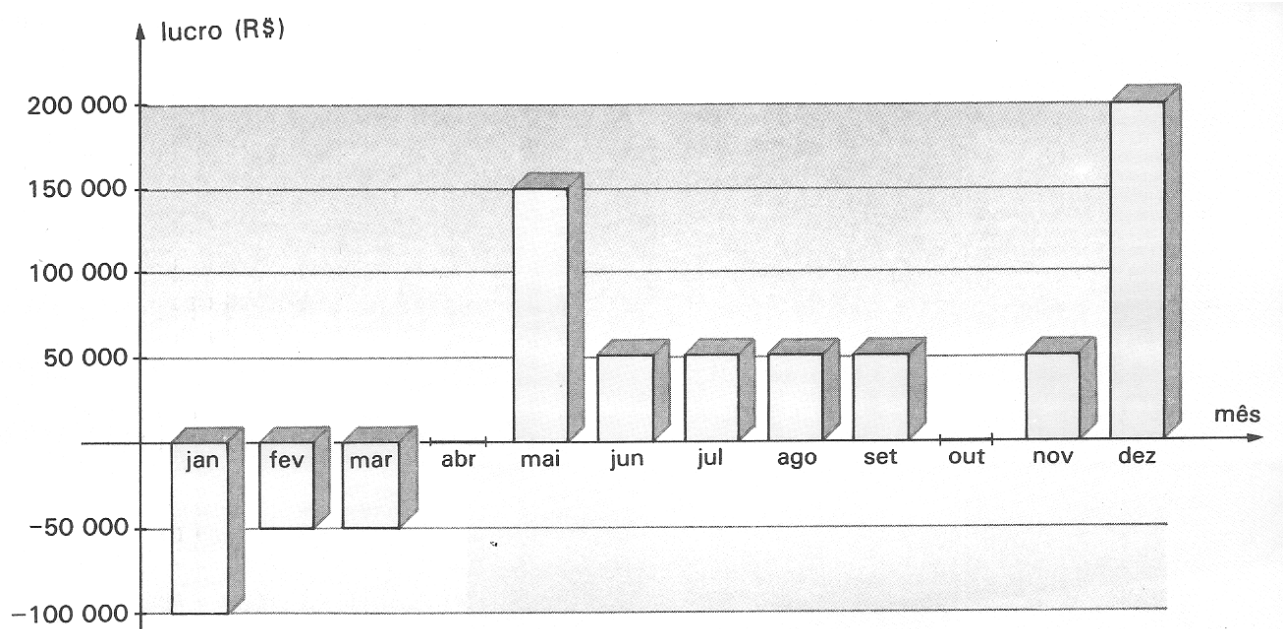
- (A) Pássaro que come insetos – Pássaro insetívoro;
- (B) Ave que come peixe – Ave ictiófaga;
- (C) Comida sem sal – Comida inodora;
- (D) Árvores que têm um século – Árvores seculares;
- (E) Animal que rasteja – Animal rastejante.

15. Assinale o adjetivo pátrio incorreto:

- (A) Quem nasce na Alemanha – alemão;
- (B) Quem nasce no Japão – nipônico;
- (C) Quem nasce na Lapônia – lapão;
- (D) Quem nasce na Etiópia – etiopiano;
- (E) Quem nasce em Brasília – brasiliense.



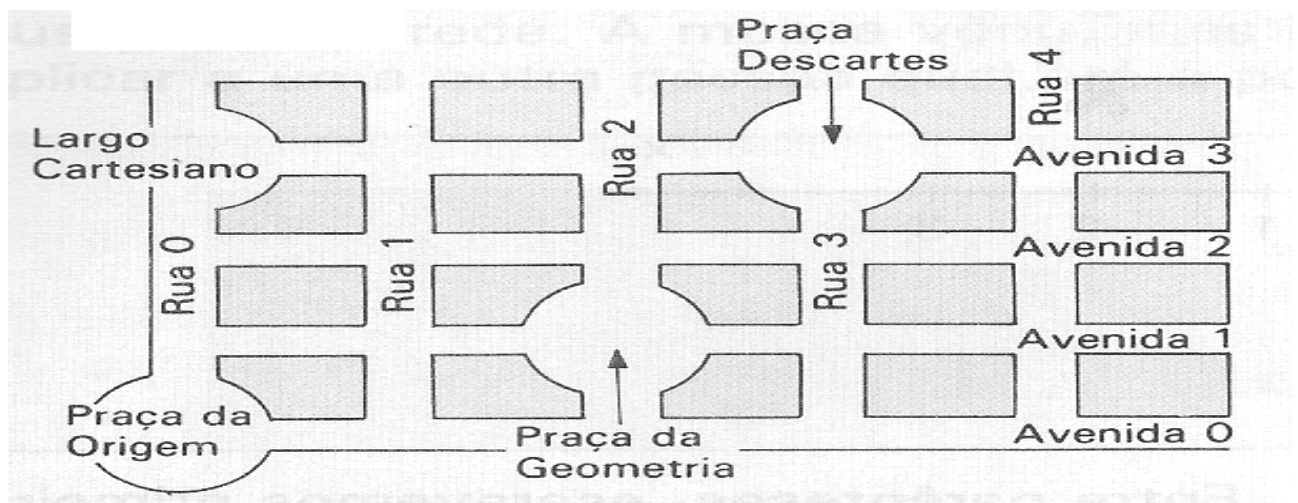
16. O gráfico abaixo mostra os lucros ou prejuízos, de cada mês, em uma joalheria:



Podemos afirmar que os meses que a joalheria obteve lucro foram?

- (A) fevereiro, abril e maio;
- (B) maio, junho, julho, agosto, setembro, novembro e dezembro;
- (C) janeiro, fevereiro e março;
- (D) abril, setembro, outubro, novembro e dezembro;
- (E) janeiro, abril, outubro, novembro e dezembro.

17. Na cidade abaixo, as pessoas indicam os cruzamentos por um par ordenado de números, onde o primeiro elemento indica a rua e o segundo, a avenida.





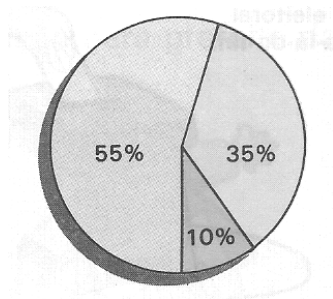
Quais os pares ordenados correspondem, respectivamente à Praça da Origem, Praça da Geometria, Praça Descartes e Largo Cartesiano.

- (A) (0, 1); (1, 1); (3, 3); (1, 3)
- (B) (0, 0); (1, 2); (3, 3); (3, 0)
- (C) (0, 1); (1, 0); (2, 3); (3, 1)
- (D) (1, 0); (0, 1); (3, 2); (1, 3)
- (E) (0, 0); (2, 1); (3, 3); (0, 3)

18. No plano cartesiano, o sentido positivo de um eixo é o sentido indicado por uma seta. O sentido contrário é o negativo. Agora, suponha que você está caminhando sobre o plano. Você sai da origem, avança duas unidades sobre o eixo x, no sentido positivo. Depois, gira 90 graus para a direita e caminha uma unidade, logo, em que ponto você chega?

- (A) (2, 0)
- (B) (2, 1)
- (C) (2, -1)
- (D) (2, 2)
- (E) (-2, 1)

19. No gráfico abaixo, temos que 55% das pessoas preferem o time do Flamengo, 35% o time do Corinthians, e 10% o time do Atlético Paranaense.



Logo o ângulo correspondente ao setor que indica que 55% das pessoas tem preferência pelo time do Flamengo é:

- (A) 195°
- (B) 197°
- (C) 198°
- (D) 199°
- (E) 200°

20. Em certa pesquisa, foram entrevistadas 240 pessoas. Para mostrar os resultados, construiu-se um gráfico de setores. Nesse gráfico, um setor de 150° representa a opinião de quantos dos entrevistados?

- (A) 100 pessoas
- (B) 110 pessoas
- (C) 120 pessoas
- (D) 130 pessoas
- (E) 140 pessoas



21. Um robô de brinquedo dá passos de 1 cm. Ele sai do ponto A, dá 4 passos para a frente até o ponto B, gira 120° para a direita, dá mais 4 passos e chega ao ponto C. Se o robô tivesse ido em linha reta de A para C, quantos centímetros ele teria percorrido?

- (A) 7 cm
- (B) 6 cm
- (C) 5 cm
- (D) 4 cm
- (E) 3 cm

22. Sabendo que o ângulo \widehat{BAD} é raso, o ângulo \widehat{CAD} mede $3x$ e o ângulo \widehat{BAC} mede $2x + 40^\circ$, logo qual é a medida do ângulo \widehat{BAC} ?

- (A) 90°
- (B) 92°
- (C) 94°
- (D) 96°
- (E) 98°

23. Sabendo que $A < B$, e dadas as seguintes sentenças abaixo:

- I. $A + 4 < B + 4$
- II. $A/3 < B/3$
- III. $-A < -B$
- IV. $A - 4 < B - 4$

Logo: qual é alternativa abaixo está correta?

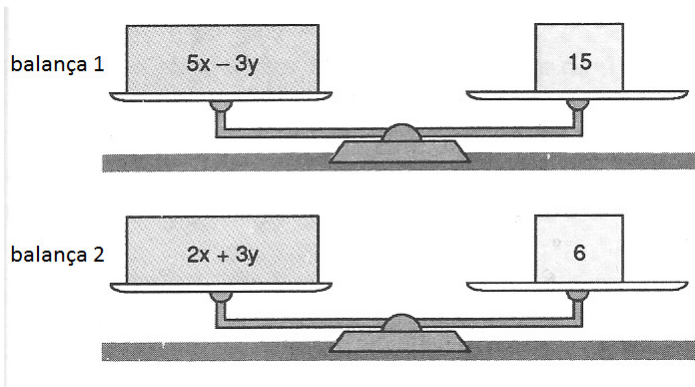
- (A) Todas são verdadeiras;
- (B) Todas são falsas;
- (C) Apenas a sentença I é verdadeira;
- (D) Apenas a sentença IV é verdadeira;
- (E) Apenas a sentença III é falsa.

24. Somando um número racional com 3, pode-se obter um resultado maior que o da multiplicação de mesmo número racional por 3. Isso acontece quando:

- (A) $x = 1,5$
- (B) $x > 1,5$
- (C) $x < 1,5$
- (D) $x \neq 1,5$
- (E) $x \geq 1,5$



25. Observe a situação abaixo:



Respectivamente, quanto tenho que adicionar simultaneamente a X e Y, para que as balanças 1 e 2 permaneçam em equilíbrio?

- (A) 2 e 5
- (B) 5 e 1
- (C) 3 e 4
- (D) 3 e 3
- (E) 3 e 0

26. Qual dupla que conquistou o campeonato mundial de vôlei de praia feminino, disputado em Roma, em 2011?

- (A) Juliana e Larissa;
- (B) May e Walsh;
- (C) Adriana Behar e Shelda;
- (D) Renata e Talita;
- (E) Ana Paula e Larissa.

27. O ano bissexto acontece de quantos em quantos anos?

- (A) Dois em dois anos;
- (B) Quatro em quatro anos;
- (C) Cinco em cinco anos;
- (D) Seis em seis anos;
- (E) Sete em sete anos.

28. Como surgiu o nome do Parque Estadual do Guartelá?

- (A) O nome foi dado pelos tropeiros.
- (B) É o mesmo nome do Rio que abria o Canyon.
- (C) Em homenagem ao Prefeito Guartelá.
- (D) É o nome do bairro que abriga o parque – Guartelá de Cima.
- (E) Foi uma homenagem à família Guartelá que residia no parque.



29. Qual padrão monetário foi usado antes do real?
- (A) mil-réis (Rs\$) ;
 - (B) cruzeiro novo (NCr\$);
 - (C) cruzado novo (NCz\$);
 - (D) cruzeiro (Cr\$);
 - (E) cruzeiro real (CR\$).
30. Segundo Ministério da Justiça do Brasil, o que significa asilo político?
- (A) Permitir, legalmente, que um estrangeiro mantenha residência no Brasil.
 - (B) Permitir, legalmente, que um estrangeiro, que se sinta perseguido em seu país de origem, mantenha residência fixa em outro país.
 - (C) Permitir, legalmente, que um estrangeiro que teve que abandonar seu país de origem porque sua vida ou liberdade estavam em perigo, por questões religiosas, raciais ou políticas, permaneça no Brasil.
 - (D) Permitir, legalmente, que um estrangeiro mantenha residência em outro país.
 - (E) Permitir legalmente, que um estrangeiro, que se sinta perseguido em seu país de origem, mantenha residência fixa só no Brasil.
31. Quais os três programas desenvolvidos pela Prefeitura de Tibagi e a sociedade civil que foram selecionados para o 4º Congresso Nós Podemos Paraná?
- (A) EcoMoradia, #Tibajovens e Nós Podemos Tibagi;
 - (B) Tibagi ehco, Cidade Limpa e #Tibajovens;
 - (C) Recicla Tibagi, #Tibajovens e Nós Podemos Tibagi;
 - (D) EcoMoradia, Recicla Tibagi e Tibagi Sem Fronteiras;
 - (E) EcoMoradia, Recicla Tibagi e #Tibajovens.
32. Quem foi o primeiro operador de telégrafo de Tibagi?
- (A) Saturnino Fernandes;
 - (B) Jeronimo Francisco Pereira;
 - (C) Francisco Ferreira;
 - (D) Wilson de Sá Martins;
 - (E) Pedro Camargo.
33. O SUS é uma das maiores organizações públicas de saúde do mundo. O que significa a sigla SUS?
- (A) Sistema de Unidade da Saúde;
 - (B) Sistema Único de Saúde;
 - (C) Secretaria Única da Saúde;
 - (D) Setor de Unidade da Saúde;
 - (E) Serviço Único da Saúde.
34. Qual o índice que compara o grau de desenvolvimento entre os países?
- (A) IBGE (Instituto Brasileiro de Geografia e Estatística);
 - (B) IDH (Índice de Desenvolvimento Humano);
 - (C) IGPM (Índice Geral de Preços do Mercado);
 - (D) ICV (Índice de Custo de Vida);
 - (E) IPC (Índice de Preços ao Consumidor).



CONCURSO PÚBLICO PARA PROVIMENTO DE VAGAS EM CARGOS EFETIVOS
INSTITUTO DE PREVIDÊNCIA DOS SERVIDORES PÚBLICOS DO MUNICÍPIO DE TIBAGI

35. Qual cargo político foi exercido por Itamar Franco entre 1992 e 1994?
- (A) Vereador;
 - (B) Prefeito;
 - (C) Deputado Estadual;
 - (D) Senador;
 - (E) Presidente da República.
36. Que modalidades foram disputadas em Tibagi, nos 58º Jogos Escolares do Paraná (JEPS)?
- (A) Futebol e futsal;
 - (B) Vôlei e basquete;
 - (C) Judô e taekwondo;
 - (D) Ginástica rítmica e ginástica olímpica;
 - (E) Atletismo e lançamento de dardo.
37. No dia 05 de maio o Supremo Tribunal Federal – STF reconheceu a união estável de casais homossexuais. Qual a única restrição a esse tipo de união?
- (A) Adotar filhos;
 - (B) Incluir parceiros como dependentes no plano de saúde;
 - (C) Fazer declaração conjunta do Imposto de Renda;
 - (D) Receber pensão e herança;
 - (E) Casamento civil.
38. A preocupação com a emissão de gases causadores do efeito estufa, levou países integrantes da Organização das Nações Unidas (ONU) assinar um acordo internacional. Qual o nome desse acordo?
- (A) Protocolo de Fukushima;
 - (B) Protocolo de Fukuoka;
 - (C) Protocolo de Yamanashi;
 - (D) Protocolo de Kyoto;
 - (E) Protocolo de Wakayama.
39. Qual o nome do projeto que leva internet de graça a todos os cidadãos de Tibagi que estiverem com seus impostos em dia?
- (A) ReciclaTibagi;
 - (B) Tibagi Sem Fronteiras;
 - (C) Tibagi Digital;
 - (D) Tibagi Interativa;
 - (E) Tibagi Globalizada.
40. A nova regulamentação da profissão de taxista, prevê para o taxista empregado quais cursos?
- (A) Curso de relações humanas, direção defensiva, primeiros socorros, mecânica e elétrica básica de veículos.
 - (B) Curso de português, geografia, direção defensiva, primeiros socorros, mecânica e elétrica básica de veículos.
 - (C) Curso de português, primeiros socorros, mecânica e elétrica básica de veículos.
 - (D) Curso de direção defensiva, primeiros socorros, mecânica e elétrica para veículos eletrônicos.



(E) Curso de português, direção defensiva e elétrica básica de veículos.

**FOLHA DE RESPOSTAS**

Cargo	Nº. DE INSCRIÇÃO
Auxiliar de Serviços Gerais	_____

Não assine, nem marque seu nome nesta folha de respostas, apenas seu número de inscrição, no local apropriado.

QUESTÕES																			
1	2	3	4	5	6	7	8	9	10	11	12	13	14	15	16	17	18	19	20
A	A	A	A	A	A	A	A	A	A	A	A	A	A	A	A	A	A	A	A
B	B	B	B	B	B	B	B	B	B	B	B	B	B	B	B	B	B	B	B
C	C	C	C	C	C	C	C	C	C	C	C	C	C	C	C	C	C	C	C
D	D	D	D	D	D	D	D	D	D	D	D	D	D	D	D	D	D	D	D
E	E	E	E	E	E	E	E	E	E	E	E	E	E	E	E	E	E	E	E

QUESTÕES																			
21	22	23	24	25	26	27	28	29	30	31	32	33	34	35	36	37	38	39	40
A	A	A	A	A	A	A	A	A	A	A	A	A	A	A	A	A	A	A	A
B	B	B	B	B	B	B	B	B	B	B	B	B	B	B	B	B	B	B	B
C	C	C	C	C	C	C	C	C	C	C	C	C	C	C	C	C	C	C	C
D	D	D	D	D	D	D	D	D	D	D	D	D	D	D	D	D	D	D	D
E	E	E	E	E	E	E	E	E	E	E	E	E	E	E	E	E	E	E	E

Preencha toda a quadrícula correspondente à resposta certa. Mais de uma resposta na coluna anulará a questão, mesmo que uma esteja correta.

Nº. DE RESPOSTAS CERTAS	NOTA	RUBRICA DO AVALIADOR