


# CONSÓRCIO INTERMUNICIPAL DE SAÚDE/AMUNPAR/ PARANAÍ - PR

Edital 01/2011 – DATA DA PROVA: 20/03/2011

PERÍODO DE PROVA: MANHÃ



Fundação de Apoio ao Desenvolvimento da Universidade Estadual de Londrina

CARGO: MOTORISTA  
**CARGO: MOTORISTA**

## LEIA ESTAS INSTRUÇÕES:

- 1 Identifique-se na parte inferior desta capa;
- 2 Você dispõe de 3 (três) horas para responder todas as questões e preencher o Cartão Resposta;
- 3 Utilize caneta esferográfica azul ou preta;
- 4 O candidato só poderá se retirar da sala, após 1 (uma) hora do início das provas;
- 5 Cada questão de múltipla escolha apresenta apenas uma opção de resposta correta;
- 6 Verifique se o caderno está completo e sem imperfeições gráficas que possam dificultar a leitura. Detectado algum problema, comunique imediatamente ao fiscal;
- 7 Utilize o caderno de prova como rascunho se necessário, mas deverá assinalar o Cartão Resposta que acompanha a prova;
- 8 Não serão computadas questões não assinaladas ou que contenham mais de uma resposta, emenda ou rasura;
- 9 Durante a aplicação da prova é proibido qualquer tipo de consulta;
- 10 Este caderno contém, 30 (trinta) questões de múltipla escolha (a,b,c,d);
- 11 Antes de retirar-se definitivamente da sala, devolva ao fiscal o Caderno e o Cartão Resposta;
- 12 Assine o cartão resposta no verso.

Identificação do candidato	
Nome (em letra de forma)	Nº da inscrição

**Boa Prova!**

Por que desaparecem tanta gente, todos os dias, em redor de nós?

Ouçõ pelo rádio as famílias, os amigos, os conhecidos que indagam, inquietos, que reclamam, descrevem, dão sinais, indicam pistas. Há desaparecidos de todas as idades e cores, e ambos os sexos, das mais variadas condições sociais; quem tiver notícias de seu paradeiro, é favor informar às pessoas aflitas que os procuram.

Mas quem vai saber o paradeiro da mocinha de blusa cor-de-rosa e saia amarela que, assim colorida, bateu asas sem se despedir dos parentes? Quem viu o menino de blusão verde e sapatos novos que saiu de casa pela tardinha e lá se foi andando – e irá andando enquanto tiver boas solas de sapatos – por muito que os pais inconsoláveis o estejam chorando e os vizinhos não possam entender tamanha ingratidão? Que foi feito da velhinha, um pouco desmemoriada, que saiu para a missa e depois entrou por um caminho desconhecido, com seu vestido cinzento, sua bolsinha de verniz e duas travessas no cabelo?

Há os desaparecidos recentes: de ontem, da semana passada, de há um mês ou dois. Assim mesmo recentes, não se encontram vestígios seus em parte alguma. Foram raptados? Ficaram debaixo do trem? Subiram para algum disco voador? Afogaram-se? Partiram para um secreto paraíso onde não querem ser importunados? Embarcaram para Citera? Quem sabe o que lhes aconteceu?

Mais comovente, porém, é a busca de desaparecidos antigos: “Procura-se uma conhecida que \_\_\_\_\_ três anos não se encontra...” Para onde foi a jovem Marília que \_\_\_\_\_ cinco anos disse que ia trabalhar no Rio de Janeiro?... Que é feito do rapaz moreno, com um sinal no queixo, que usava um cordãozinho de ouro com a imagem de São Jorge?

Todas essas pessoas e muitas outras estão sendo procuradas pacientemente, com anúncios pelos jornais e nas emissoras. Uma incansável busca. Gente de todos os Estados do Brasil, gente com vários compromissos: eram noivos, eram chefes de família, eram donas de casa... Gente miúda, que não se esperava fosse capaz de meter-se em aventuras: meninotas e rapazinhos em idade escolar; mocinhas que pareciam tímidas, moços ainda sem emprego...

Pois desapareceram. Para onde foram? Isso é o que se deseja saber. Não quiseram mais nada com pai nem mãe, avós nem irmãos, casa, comida, sono, afeto – nada. Desejaram sumir, sumiram. Ou foram arrastados violentamente e não tiveram forças para resistir. Talvez se sintam mais felizes. Talvez estejam arrependidos e envergonhados. Talvez não existam mais. Pode ser que um dia voltem... Pode ser que, por enquanto, estejam dando a volta ao mundo num veleiro imaginário... Pode ser que estejam cansados. Pode ser que não se cansem jamais... Enquanto não regressam, boa viagem, senhores desaparecidos! Se não regressarem, boa viagem, também!

Mas os afetos vigilantes continuam, inconformados, a recordar os ausentes – todos os dias novos, todos os dias mais numerosos – e, por humildes lugares, famílias tristes cultivam longos canteiros de saudades.

(MEIRELES, Cecília. *Escolha seu sonho*. 3. ed. Rio de Janeiro, Record, 1968. p. 47-9.)

**01 - Assinale a alternativa que preenche corretamente as lacunas do 5º parágrafo:**

- |             |                     |
|-------------|---------------------|
| a) faz e à. | c) haviam e haviam. |
| b) há e há. | d) fazem e há.      |

**02 - Quanto à acentuação gráfica das palavras do texto analise as afirmativas:**

**I - As palavras *rádio*, *famílias* e *anúncios* são paroxítonas e são acentuadas porque terminam em ditongo.**

**II - As palavras *paraíso* e *miúdas* são acentuadas porque o *i* e o *u* são tônicos do hiato.**

**III - As palavras *vestígios* e *tímidas* obedecem à mesma regra de acentuação gráfica.**

**Quais afirmativas estão corretas?**

- |                     |   |
|---------------------|---|
| a) apenas I e II.   | c) apenas I e III.                      |
| b) apenas II e III. | d) todas as afirmativas estão corretas. |

**03 - Em “Enquanto não regressam, boa viagem, senhores desaparecidos! Se não regressarem, boa viagem também!” (7º parágrafo).**

**Assinale a alternativa em que estão corretamente identificadas as relações de sentido estabelecidas na frase pelos elementos coesivos em destaque:**

- |                          |                           |
|--------------------------|---------------------------|
| a) conseqüência e tempo. | c) tempo e condição.      |
| b) causa e efeito.       | d) conclusão e concessão. |

**04 - Analise a possibilidade de substituir algumas palavras do texto:**

**I - colorido (3º parágrafo) - corado.**

**II - capaz (6º parágrafo) - destemido.**

**III - imaginário (7º parágrafo) - quimérico.**

**Quais das palavras não causariam problemas de significado no período original?**

- |                     |                    |
|---------------------|--------------------|
| a) apenas I e II.   | c) apenas I e III. |
| b) apenas II e III. | d) I, II e III.    |

**05 - Assinale a alternativa que classifica corretamente o termo grifado em: “Mas quem vai saber o paradeiro da mocinha de blusa cor-de-rosa e saia amarela”:**

- a) objeto indireto.
- b) objeto direto.
- c) sujeito simples.
- d) núcleo do predicado.

**06 - Assinale a alternativa em que a oração é sem sujeito:**

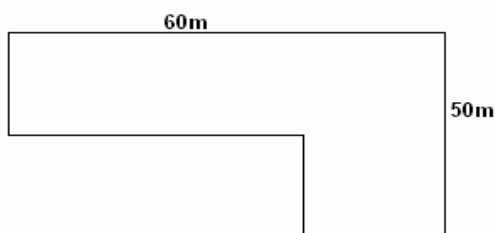
- a) Há desaparecidos de todas idades e cores.
- b) Bateu asas sem se despedir dos parentes?
- c) Quem sabe o que lhes aconteceu?
- d) Isso é o que se deseja saber.

**07 - Em uma creche, 320 crianças consumiram 1.440 litros de suco em 16 dias. Quantos litros de suco serão consumidos por 400 crianças em 32 dias?**

- a) 1.600 litros.
- b) 3.600 litros.
- c) 9.000 litros.
- d) Nenhuma das alternativas anteriores.

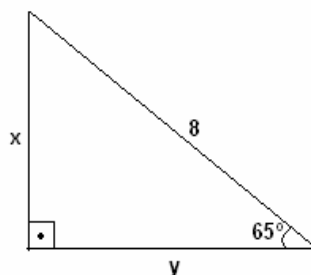
**08 - Quanto Pedro pagará no terreno abaixo que está a venda por R\$ 54,00 o metro quadrado?**

- a) R\$ 114.750,00.
- b) R\$ 152.600,00.
- c) R\$ 162.000,00.
- d) Nenhuma das alternativas anteriores.



**09 - Determine as medidas de x e y do triângulo retângulo abaixo:**

- a)  $x = 7,2$  e  $y = 3,36$ .
- b)  $x = 7,5$  e  $y = 4,42$ .
- c)  $x = 7,6$  e  $y = 3,52$ .
- d) Nenhuma das alternativas anteriores.



**10 - Determine o valor da seguinte operação:**

$$2 + \frac{3}{6} - \frac{1}{3}$$
$$\frac{1}{2} - 3 + \frac{2}{5}$$

- a)  $-\frac{58}{65}$
- b)  $\frac{63}{65}$
- c)  $-\frac{65}{63}$
- d) nenhuma das alternativas anteriores

**11 - A lei 8.080 de 19 de setembro de 1990, dispõe sobre as condições para a promoção, proteção e recuperação da saúde, a organização e o funcionamento dos serviços correspondentes. Segundo esta lei podemos afirmar que:**

- a) A saúde é um direito fundamental do ser humano, devendo o próprio cidadão prover as condições indispensáveis ao seu pleno exercício.
- b) O dever do cidadão brasileiro é de garantir a saúde formulando e executando políticas econômicas e sociais que visem à redução de riscos de doenças e de outros agravos e não estabelecendo condições que assegurem acesso universal e igualitário às ações e aos serviços para a sua promoção, proteção e recuperação.
- c) São objetivos do Sistema Único de Saúde SUS: a identificação e divulgação dos fatores condicionantes e determinantes da saúde; a formulação de política de saúde destinada a promover, nos campos econômico e social, a observância do disposto no § 1º do art. 2º desta lei; a assistência às pessoas por intermédio de ações de promoção, proteção e recuperação da saúde, com a realização integrada das ações assistenciais e das atividades preventivas.
- d) Nenhuma das alternativas anteriores.

**12 - As ações e serviços públicos de saúde e os serviços privados contratados ou conveniados que integram o Sistema Único de Saúde (SUS), são desenvolvidos de acordo com as diretrizes previstas no art. 198 da Constituição Federal, obedecendo ainda alguns princípios. Assinale a alternativa que afirme corretamente pelo menos quatro dos princípios dos SUS:**

- a) Universalidade, integralidade de assistência, preservação da autonomia e igualdade da assistência à saúde.
- b) Direito à informação, desintegração em nível executivo das ações de saúde, utilização da epidemiologia e participação da comunidade.
- c) Centralização, desintegração em nível executivo das ações de saúde, conjugação dos recursos financeiros, tecnológicos, materiais e humanos e capacidade de resolução dos serviços.
- d) Organização dos serviços públicos, restringir informações inerentes, universalidade e preservação da autonomia.

**13 - Assinale a alternativa incorreta:**

- a) O Consórcio Intermunicipal de Saúde - CIS/AMUNPAR é uma Associação entre os 28 Municípios da Região Noroeste que compõem a Associação dos Municípios do Noroeste do Paraná, visando assegurar ações e serviços de saúde à população, com eficiência e eficácia, atendendo os municípios da universalidade, integralidade, racionalizando recursos, evitando desperdícios e a duplicidade de serviços, e abrange uma população de 252.820 habitantes.
- b) Segundo o Regimento Interno que regulamenta as atividades e atribuições do Consórcio Intermunicipal de Saúde/AMUNPAR – CIS/AMUNPAR, os membros da Unidade Gestora de Transferências e Comissão de Ética e Controle de Qualidade e o Controle Interno não poderão ser substituídos, a critério do Coordenador Geral e do Presidente do Consórcio, respectivamente.
- c) De acordo com a emenda constitucional 29, “dos recursos da União apurados nos termos deste artigo, quinze por cento, no mínimo, serão aplicados nos Municípios, segundo o critério populacional, em ações e serviços básicos de saúde, na forma da lei.”
- d) O Consórcio Intermunicipal de Saúde – CIS/AMUNPAR tem a seguinte estrutura básica: I - Conselho Diretor de Prefeitos; II - Conselho Técnico (Fiscal); III - Secretaria Executiva.

**14 - Assinale a alternativa que dispõe sobre a participação da comunidade na gestão do Sistema Único de Saúde (SUS) e sobre as transferências intergovernamentais de recursos financeiros na área da saúde e dá outras providência é:**

- a) NOB SUS -96.
- b) Emenda 29.
- c) Lei 8142 de 28 de dezembro de 1990.
- d) Nenhuma das alternativas anteriores.

**15 - Analise os itens abaixo e, posteriormente, assinale a alternativa correspondente:**

**I - O DENATRAM é o órgão máximo executivo da união.**

**II - Estabelecer diretrizes da política nacional de trânsito, com vistas à segurança, à fluidez, ao conforto, à defesa ambiental e à educação para o trânsito e fiscalizar seu cumprimento, são objetivos do SNT – Sistema Nacional de Trânsito.**

**III - O CETRAN é o órgão máximo normativo do SNT – Sistema Nacional de Trânsito.**

**IV - CRV – Certificado de Registro de Veículos é de porte obrigatório ao condutor.**

**V - O Significado da sigla RENAVAL é: Registro Nacional de Veículos automotores.**

- a) Apenas I, II e V estão corretas.
- b) Apenas III, IV e V estão corretas.
- c) Apenas I, III e IV estão corretas.
- d) Nenhuma das alternativas anteriores.

**16 - Identifique qual condutor age de maneira incorreta em relação ao CTB – Código de Trânsito Brasileiro:**

- a) Pedro pilotava sua motocicleta em uma via rural pavimentada (rodovia) não sinalizada a 100 km/h, enquanto passara em frente a um posto de combustíveis.
- b) Paulo conduzia seu veículo corsa em uma via coletora sem condições adversas a 30 km/h, enquanto passara em frente de um clube poliesportivo.
- c) Thiago dirigia um ônibus na mesma rodovia, na mesma hora e no mesmo local que Pedro pilotava sua motocicleta mantendo uma velocidade de 90 km/h.
- d) No mesmo horário, na mesma via e no mesmo local que Paulo dirigia seu veículo corsa. Maria transitava mantendo sua velocidade a 50 km/h.

**17 - Não tendo feito defesa prévia, ou se esta for indeferida, o infrator receberá a imposição de penalidade, da qual poderá defender-se junto:**

- a) Ao DETRAN.
- b) À JARI.
- c) Ao CONTRAN.
- d) À Polícia Rodoviária Federal.

18 - Qual das figuras a seguir adverte o condutor sobre a existência de mão dupla adiante?



a)



c)



b)



d)

19 - Antes de transportar uma vítima de acidente de trânsito devemos:

- a) Controlar e manter os sinais vitais.
- b) Estancar ou controlar todas as hemorragias.
- c) Imobilizar todos os pontos suspeitos de fratura.
- d) Todas as alternativas anteriores estão corretas.

20 - A vítima de acidente apresenta um pedaço de vidro cravado no corpo. O que fazer?

- a) Retirar imediatamente o vidro.
- b) Verificar a respiração e não tentar remover o vidro.
- c) Retirar se este estiver causando dor.
- d) Retirar o vidro e cobrir o local com gaze.

21 - Dirigir sem estar usando, ou permitir que algum passageiro do veículo deixe de usar o cinto de segurança constitui infração de natureza:

- a) Leve.
- b) Média.
- c) Grave.
- d) Gravíssima.

22 - No sistema de arrefecimento a função da ventoinha é:

- a) Transportar a água até que chegue ao bloco do motor.
- b) Ajudar no resfriamento da água acondicionada no radiador.
- c) Detonar a mistura ar-combustível.
- d) Ajustar a proporção correta para que ocorra a mistura ar-combustível.

23 - Obedecendo a Lei 9.503/97 – CTB. Qual o órgão máximo normativo do SNT?

- a) DENATRAN.
- b) DETRAN.
- c) CONTRAN.
- d) Polícia Rodoviária Federal.

24 - Na identificação interna do veículo, a gravação do segundo dígito da primeira seção, (feita no chassi ou monobloco) revela informação sobre:

- a) País.
- b) Fabricante/montadora.
- c) Cor/modelo.
- d) Ano de fabricação.

25 - Sobre obtenção da PPD – Permissão Para Dirigir. Assinale “V” para verdadeiro e “F” quando falso.

- ( ) é obrigatório realizar aulas práticas no período noturno.
- ( ) é obrigatório realizar aulas práticas sobre chuva.
- ( ) é obrigatório realizar aulas práticas em rodovia.
- ( ) é obrigatório realizar aulas práticas com no mínimo dois veículos diferentes em cada categoria pretendida.

Assinale a sequência correta de cima para baixo:

- a) V, F, V, V.
- b) V, F, F, F.
- c) V, V, V, F.
- d) F, V, V, V.

26 - No trânsito a imprudência:

- a) É definida como falta de atenção, ou seja, agir de maneira descuidada. Consiste na violação das regras de condutas. Por exemplo: dirigir em excesso de velocidade.
- b) Consiste na falta de interesse em realizar algo – agir sem cautela. Por exemplo: não verificar pneus e freios antes de viajar, não sinalizar devidamente em cruzamentos perigosos, deixar arma ou substância tóxica ao alcance de criança etc.
- c) É a demonstração da falta de conhecimento e ou habilidade para o exercício de determinada atividade – ato de dirigir, por exemplo: incapacidade do condutor ou de familiaridade com determinado veículo. Diante de uma situação de risco, o condutor não apresenta a atitude correta a ser tomada ou não sabe como enfrentá-la.
- d) A incidência direta dos raios solares (ao amanhecer e ao entardecer). Pode apresentar ofuscamento devido a reflexos em vidros de outros veículos. A proteção está no quebra-sol, um dos equipamentos obrigatórios.

27 - Assinale a alternativa que preenche de maneira correta (em ordem) as lacunas deixadas no seguinte texto: \_\_\_\_\_ dê qualquer líquido à pessoa acidentada. \_\_\_\_\_ a imobilização cervical, antes de movimentar a vítima.

- a) Nunca, faça.
- b) Sempre, faça.
- c) Nunca, não faça.
- d) Sempre, não faça.

28 - Qual dos itens a seguir não faz parte do sistema de suspensão do veículo?

- a) Mola.
- b) Amortecedor.
- c) Braço de suspensão.
- d) Eixo CARDÂ.

29 - Em acidente de trânsito, para socorrer de forma eficiente a vítima, deve-se levar em consideração em primeiro lugar:

- a) O sangramento das feridas.
- b) Uma possível fratura.
- c) Uma lesão cerebral.
- d) A obstrução das vias aéreas.

30 - Qual das seguintes figuras representa a placa de um veículo de aprendizagem?



- a) (fundo cinza e símbolos em preto).



- b) (fundo branco e símbolos em preto).



- c) (fundo vermelho e símbolos em branco).



- d) (fundo branco e símbolos em vermelho).