

PROVA
S14 V
TARDE

ATENÇÃO: VERIFIQUE SE
CÓDIGO E PROVA DESTE
CADERNO DE QUESTÕES
CONFEREM COM O SEU
CARTÃO DE RESPOSTAS



**Ministério Público
do Estado de Rondônia**

CARGO: ANALISTA – ECONOMIA

FRASE PARA EXAME GRAFOTÉCNICO (TRANSCREVA NO QUADRO DE SEU CARTÃO DE RESPOSTAS)

“Deixe memórias agradáveis sobreviverem em tempos de tristeza.”

LEIA ATENTAMENTE AS INSTRUÇÕES SEGUINTE:

1. Este **Caderno de Questões** contém questões de múltipla escolha, cada uma com 5 opções A, B, C, D e E.
2. Ao receber o material, verifique no **Cartão de Respostas** seu nome, número de inscrição, data de nascimento, cargo e prova. Qualquer irregularidade comunique imediatamente ao fiscal de sala. Não serão aceitas reclamações posteriores.
3. Leia atentamente cada questão e assinale no **Cartão de Respostas** a opção que responde corretamente a cada uma delas. O **Cartão de Respostas** será o único documento válido para a correção eletrônica. O preenchimento do **Cartão de Respostas** e a respectiva assinatura serão de inteira responsabilidade do candidato. Não haverá substituição do **Cartão de Respostas**, por erro do candidato.
4. Observe as seguintes recomendações relativas ao **Cartão de Respostas**:
 - A maneira correta de marcação das respostas é cobrir, fortemente, com esferográfica de tinta azul ou preta, o espaço correspondente à letra a ser assinalada.
 - Outras formas de marcação diferentes implicarão a rejeição do **Cartão de Respostas**.
 - Será atribuída nota zero às questões não assinaladas ou com falta de nitidez, ou com marcação de mais de uma opção, e as emendadas ou rasuradas.
5. O fiscal de sala não está autorizado a alterar qualquer destas instruções. Em caso de dúvida, solicite a presença do coordenador local.
6. Você só poderá retirar-se definitivamente do recinto de realização da prova após 1 hora contada do seu efetivo início, **sem levar este Caderno de Questões**.
7. Você só poderá levar este **Caderno de Questões** caso permaneça na sala até 1 hora antes do término da prova.
8. Por motivo de segurança, só é permitido fazer anotação durante a prova neste **Caderno de Questões** e no **Cartão de Respostas**. Qualquer outro tipo de anotação será motivo de eliminação automática do candidato.
9. Após identificado e instalado na sala, você não poderá consultar qualquer material, enquanto aguarda o horário de início da prova.
10. Os três últimos candidatos deverão permanecer na sala até que o último candidato entregue o **Cartão de Respostas**.
11. Ao terminar a prova, é de sua responsabilidade entregar ao fiscal o **Cartão de Respostas**. Não esqueça seus pertences.
12. O **Gabarito Oficial da Prova Objetiva** será disponibilizado no site www.funcab.org, conforme estabelecido no Cronograma.

BOA PROVA!

Leia o texto abaixo e responda às questões propostas.

Como encontrar um milagre na Índia

Doentes e peregrinos buscam a salvação em templos que praticam o exorcismo em Kerala, ao sul da Índia. Garanto: naquela região se operam, de fato, milagres que salvam vidas diariamente.

Os “milagres” nada têm a ver com os deuses ou demônios. Apenas com homens, responsáveis por uma das mais admiradas experiências sociais já produzidas num país pobre. Como o resto da Índia, Kerala é miserável, sua renda por habitante é de US\$ 300 por ano – dez vezes menos do que a brasileira e cem vezes se comparada com a americana.

Primeiro “milagre” num país de 900 milhões de habitantes com explosivo crescimento populacional: cada mulher tem apenas dois filhos (1,7, para ser mais preciso), uma média semelhante à de um casal de classe média alta em Manhattan, Paris, São Paulo ou Rio de Janeiro. Segundo e mais importante: de cada mil crianças que nascem, apenas 13 morrem antes de completar um ano – um nível de mortalidade infantil semelhante ao dos Estados Unidos e quatro vezes menor que o do Brasil.

Até pouco tempo atrás, Kerala era mais conhecida por suas praias, onde os turistas “descolados” se deitavam na areia depois do banho, massageados por moradores que aprenderam de seus ancestrais os segredos da massagem ayurvédica, medicina tradicional indiana. Agora, porém, atrai tipos menos transcendentais da Europa e dos Estados Unidos, decididos a entender e difundir a experiência sobre como um lugar miserável consegue indicadores sociais tão bons.

As pesquisas indicam, em essência, um caminho: graças à vontade política dos governantes locais, em nenhum outro lugar da Índia se investiu tanto na educação das mulheres. Uma ação que enfrentou a rotina da marginalização. Na Índia, por questões culturais, se propagou o infanticídio contra meninas, praticado pelos próprios pais.

Em Kerala, apenas 5% das garotas estão fora da escola, reduzindo a porcentagens insignificantes o analfabetismo. Elas são mais educadas, entram no mercado de trabalho, frequentam postos de saúde, amamentam os filhos, conhecem noções de higiene, sabem a importância, por exemplo, de ferver a água ou aplicar as vacinas, planejam voluntariamente o número de filhos.

Daí se vê o que significou, no Brasil, termos gasto tanto dinheiro na construção de hospitais, em vez de investir mais pesadamente em medicina preventiva. Muitas dessas obras só ajudaram a saúde financeira dos empreiteiros.

(DIMENSTEIN, Gilberto. *Aprendiz do futuro* – Cidadania hoje e amanhã. São Paulo: Ática, 2000, p. 46.)

Questão 01

Assinale a afirmação que tem base no texto.

- A) Os milagres a que se refere o texto estão diretamente relacionados com o misticismo do povo indiano.
- B) Inexplicavelmente, a renda *per capita* indiana é menor que a brasileira, porém se equipara com a americana.
- C) Os índices de mortalidade infantil em Kerala são tão altos que destacam o país no cenário internacional.
- D) Com o fim do infanticídio, o governo indiano pôde, finalmente, valorizar a educação das mulheres locais.
- E) O investimento na educação das mulheres possibilitou uma mudança positiva nos índices sociais em Kerala.

Questão 02

Ao relacionar o Brasil com a Índia, percebe-se que o autor faz:

- A) uma dedução que escarnece dos altos valores investidos em medicina preventiva no Brasil.
- B) uma crítica aos governantes brasileiros quanto à má administração do dinheiro público.
- C) um questionamento a respeito da administração dos hospitais públicos brasileiros.
- D) um alerta sobre como os governantes indianos administram os hospitais públicos em Kerala.
- E) uma denúncia baseada em dados relativos ao crescimento da população indiana.

Questão 03

No trecho: “(...) Agora, PORÉM, atrai tipos menos transcendentais da Europa (...)”, a conjunção destacada poderia ser substituída, sem alteração de sentido, por:

- A) portanto.
- B) porquanto.
- C) contudo.
- D) por conseguinte.
- E) assim.

Questão 04

A que se refere a expressão UMA AÇÃO no quinto parágrafo?

- A) vontade política.
- B) governantes locais.
- C) pesquisas feitas em Kerala.
- D) investimento na educação das mulheres.
- E) o infanticídio contra meninas.

Questão 05

Assinale a opção que apresenta, correta e respectivamente, a classe gramatical a que pertencem as palavras destacadas em: “(...) decididos A entender E difundir A experiência sobre como um LUGAR miserável consegue indicadores sociais TÃO bons.(...)”.

- A) preposição – conjunção – artigo – substantivo – advérbio.
- B) artigo – conjunção – artigo – advérbio – advérbio.
- C) artigo – preposição – artigo – advérbio – adjetivo.
- D) preposição – pronome – pronome – substantivo – adjetivo.
- E) artigo – pronome – preposição – advérbio – adjetivo.

Questão 06

Nas alternativas abaixo, assinale a frase em que a palavra COMO tem o mesmo valor semântico que em: “(...) Como o resto da Índia, Kerala é miserável, sua renda por habitante é de US\$ 300 por ano (...)”.

- A) Como não se desesperou, pôde lidar bem com a situação.
- B) Como eu ia dizendo, esse problema não existe mais.
- C) Como estava doente, precisava de acompanhamento médico.
- D) Saí do país como se sáisse de um cativoiro.
- E) Ele fez tudo como lhe mandaram.

Questão 07

O termo destacado em: “(...) termos gasto tanto dinheiro na construção DE HOSPITAIS (...)” exerce função sintática de:

- A) complemento nominal.
- B) adjunto adverbial.
- C) objeto indireto.
- D) objeto direto.
- E) predicativo.

Questão 08

Em “(...) Garanto: naquela região se operam, de fato, milagres QUE SALVAM VIDAS DIARIAMENTE.(...)”, a oração em destaque classifica-se como:

- A) subordinada substantiva subjetiva.
- B) subordinada substantiva predicativa.
- C) coordenada sindética explicativa.
- D) subordinada adjetiva restritiva.
- E) subordinada adjetiva explicativa.

Questão 09

Assinale a opção em que o espaço deve ser preenchido com À (preposição e pronome), como destacado em “(...) uma média semelhante À de um casal de classe média (...)”.

- A) ___ medida que caminhava, recordava-se da terra natal.
- B) Esta cena corresponde ___ que presenciei ontem.
- C) Aproveite ___ oferta e se contente com a cor do tecido.
- D) Referia-se, com certeza, ___ terra de seus pais.
- E) Obedeceu ___ ordem dada, sem reclamar.

Questão 10

De acordo com a norma culta da língua, assinale a opção correta quanto à colocação pronominal.

- A) Esperemos, agora, que resolvam-se todos os problemas.
- B) Ninguém preparou-se devidamente para aquela situação.
- C) Perceber-se-ia uma nova atmosfera na sala de reuniões.
- D) Nunca divulgou-se uma notícia como essa.
- E) Não constituir-se-á advogado.

Questão 11

Assinale a opção correta quanto à concordância verbal.

- A) Devem haver formas mais eficazes de mobilizar a sociedade.
- B) Haviam tantas pessoas na fila, que fecharam o guichê.
- C) Descobriu-se novas formas de resolver o problema.
- D) Eram eles quem fazia a ronda no local.
- E) Surgiu, de repente, no final da rua, os dois comparsas.

Questão 12

Assinale a opção correta quanto à pontuação.

- A) O nosso século, que se iniciou e tem se desenvolvido sob a insígnia da civilização industrial, primeiro inventou a máquina e depois fez dela o seu modelo de vida.
- B) O nosso século, que se iniciou e tem se desenvolvido, sob a insígnia, da civilização industrial primeiro inventou a máquina e depois fez dela o seu modelo de vida.
- C) O nosso século que se iniciou e tem se desenvolvido sob a insígnia da civilização industrial, primeiro inventou a máquina, e depois fez dela, o seu modelo de vida.
- D) O nosso século que se iniciou, e tem se desenvolvido, sob a insígnia da civilização industrial, primeiro inventou a máquina e, depois fez dela o seu modelo de vida.
- E) O nosso século que se iniciou, e tem se desenvolvido sob a insígnia da civilização industrial primeiro, inventou a máquina e depois, fez dela o seu modelo de vida.

Questão 13

Aponte o significado do prefixo da palavra destacada em "(...) praticam o EXORCISMO em Kerala, (...)".

- A) mudança.
- B) separação.
- C) para fora.
- D) para trás.
- E) através de.

Questão 14

Assinale a alternativa em que todos os substantivos devem ser acentuados.

- A) lapis – bonus – bainha
- B) serie – aspecto – torax
- C) alcool – moinho – sucuri
- D) urubu – egoismo – magoa
- E) armazem – orgão – carater

Questão 15

Assinale a alternativa em que o verbo em destaque foi corretamente conjugado.

- A) Se você INTERPOR um recurso, talvez consiga reverter a situação.
- B) Ele INTERVIU assim que a situação piorou.
- C) Se você VER que a situação piorou, volte para cá.
- D) Quando você VIM para cá, traga a pasta da diretoria.
- E) Você só será respeitado se se IMPUSER.

NOÇÕES DE INFORMÁTICA

Questão 16

No Microsoft Office Excel 2003, é INCORRETO afirmar que:

- A) a Autosoma exibe a soma das células selecionadas.
- B) a função Classificar permite classificar os dados em ordem crescente ou decrescente.
- C) a função Localizar permite localizar, simultaneamente, um texto em todos os documentos Microsoft Office que estejam abertos no seu computador.
- D) a combinação de teclas CTRL + V corresponde à função Colar.
- E) o ícone **N** aplica o negrito sobre o texto selecionado.

Questão 17

Ao clicar no botão  de uma janela, o Windows XP irá:

- A) minimizar a janela.
- B) maximizar a janela.
- C) fechar a janela.
- D) salvar o conteúdo da janela.
- E) restaurar a janela a seu tamanho original.

Questão 18

Observe a imagem parcial do site da FUNCAB na internet e considere que, ao posicionar o cursor sobre a palavra CONCURSOS, o formato do cursor é alterado para o formato de uma mão. Na configuração padrão do Windows Internet Explorer, ao clicar sobre a imagem:



- A) a imagem será impressa.
- B) a imagem será ampliada.
- C) a imagem será salva no seu computador.
- D) uma página *web* será exibida.
- E) a imagem será adicionada à lista de favoritos.

Questão 19

No Microsoft Office Word 2003, o ícone  permite:

- A) alterar a cor da borda da célula.
- B) alterar a cor da fonte.
- C) alterar a cor de fundo.
- D) aumentar o tamanho da fonte.
- E) aplicar a cor de realce no texto.

Questão 20

Nos principais aplicativos de correio eletrônico, caso sua caixa de entrada alcance o limite de armazenamento, é possível que você não possa receber mais mensagens. Algumas práticas são recomendadas para ajudá-lo a gerenciar a sua conta a fim de manter um espaço razoável de armazenamento, EXCETO:

- A) criar um arquivo morto.
- B) configurar uma pasta no disco rígido do seu computador na qual você possa salvar anexos grandes e excluí-los da Caixa de Entrada.
- C) esvaziar a pasta Lixo Eletrônico.
- D) esvaziar a pasta Mensagens Excluídas.
- E) salvar os arquivos na pasta *Archive* já que ela compacta os *e-mails* armazenados, reduzindo o consumo de espaço de armazenamento.

GEOGRAFIA E HISTÓRIA DE RONDÔNIA

Questão 21

A partir de 1970, a colonização oficial em Rondônia se desenvolve, tendo à frente o Instituto Nacional de Colonização e Reforma Agrária (INCRA), o qual implementou, pioneiramente, cinco Projetos Integrados de Colonização (PIC).

Nesse contexto, o primeiro PIC implementado pelo INCRA foi:

- A) Sidney Girão.
- B) Ji-Paraná.
- C) Ouro Preto.
- D) Padre A. Rohl.
- E) P. A. Ribeiro.

Questão 22

Uma das estratégias de conservação da vida indígena na Amazônia é a criação de áreas destinadas a esse segmento da sociedade brasileira. No exemplo da área indígena de Lourdes, um grupo indígena significativamente presente é o:

- A) Gavião.
- B) Zoró.
- C) Cinta Larga.
- D) Suruí.
- E) Tupari.

Questão 23

Nos antecedentes da criação do estado de Rondônia, consta a instalação do Território Federal do Guaporé, em 1943, o qual é posteriormente transformado em Território Federal de Rondônia. O Território Federal de Rondônia é criado no governo do presidente:

- A) Getúlio Vargas.
- B) Jânio Quadros.
- C) João Goulart.
- D) Juscelino Kubitschek.
- E) Costa e Silva.

Questão 24

Um importante tratado fixou a linha de fronteira no extremo norte e oeste do Brasil, a partir dos cursos dos rios Guaporé e Mamoré, até o médio curso do Madeira, sendo de inegável relevância para a definição do futuro Território do Guaporé. O tratado referido é o de:

- A) Tordesilhas, 1494.
- B) Utrecht, 1713.
- C) Utrecht, 1915.
- D) Petrópolis, 1903.
- E) Madri, 1750.

Questão 25

Rondônia é abrangido pelo domínio amazônico, fator natural que influencia o tipo de vegetação encontrado neste estado da federação. Nesse domínio natural, uma formação vegetal predominante e parcialmente presente em Rondônia denomina-se:

- A) Caatinga.
- B) Campos de altitude.
- C) Mata de araucárias.
- D) Floresta equatorial.
- E) Floresta tropical de encosta.

NOÇÕES DE ADMINISTRAÇÃO PÚBLICA

Questão 26

A fonte jornalística, isto é, o informante ou a fonte de informações do jornalista, segundo a Constituição Federal:

- A) não pode ser escondida pelo profissional quando compelido pela autoridade administrativa a revelá-la.
- B) deve ser obrigatoriamente publicada, sob pena de ser a informação considerada anônima.
- C) possui sigilo resguardado, não podendo o profissional ser compelido ou coagido a informá-la.
- D) é sigilosa desde que a informação seja comprovadamente verdadeira.
- E) somente deve ser revelada se houver ordem judicial neste sentido.

Questão 27

Sobre o direito à vida, previsto pela Constituição Federal, é correto afirmar:

- A) O direito à vida não comporta exceções.
- B) É vedada qualquer hipótese de aborto.
- C) O direito à vida impede a pesquisa com células-tronco embrionárias.
- D) Admite-se a eutanásia no Brasil.
- E) Permite-se, excepcionalmente, a instituição de pena de morte no Brasil.

Questão 28

O mandado de injunção é instrumento processual, previsto pela Constituição Federal, para a hipótese de:

- A) sigilo ilegal de informações relativas à pessoa do impetrante, constantes de registros ou bancos de dados de entidades governamentais ou de caráter público.
- B) ameaça ou sofrimento de violência ou coação à liberdade de locomoção.
- C) ofensa a direito líquido e certo, não amparado por *habeas corpus*, ou *habeas data*, quando o responsável pela ilegalidade ou abuso de poder for autoridade pública ou agente de pessoa jurídica no exercício de atribuições do Poder Público.
- D) a falta de norma regulamentadora tornar viável o exercício dos direitos e liberdades constitucionais e das prerrogativas inerentes à nacionalidade, à soberania e à cidadania.
- E) dano ao patrimônio público, ao meio ambiente, ao patrimônio histórico e cultural ou ofensa à moralidade administrativa.

Questão 29

A respeito dos direitos e garantias fundamentais previstos na Constituição Federal, assinale a alternativa correta.

- A) Devem ser interpretados restritivamente.
- B) Possuem aplicação mediata, isto é, dependem de regulamentação legal.
- C) Somente podem ser revogados por Lei Complementar.
- D) Somente podem ser revogados por Emenda Constitucional.
- E) Não excluem direitos decorrentes dos tratados internacionais em que o Brasil seja parte.

Questão 30

Na hipótese de Prefeito que delibera desapropriar área de seu desafeto para edificar hospital municipal, verifica-se, do ponto de vista material, ofensa ao seguinte princípio da Administração Pública:

- A) motivação.
- B) moralidade.
- C) legalidade.
- D) devido processo legal.
- E) inalienabilidade dos bens públicos.

Questão 31

Segundo a Constituição Federal, ressalvados os casos especificados na legislação, estão obrigados a contratar obras, serviços, compras e alienações mediante processo de licitação pública apenas:

- A) os órgãos da administração direta.
- B) as empresas públicas e as autarquias.
- C) as pessoas de direito público de capacidade política, bem como as autarquias, as empresas públicas, as sociedades de economia mista e as fundações governamentais.
- D) as pessoas de direito público de capacidade política.
- E) as entidades da administração indireta.

Questão 32

O reingresso de servidor aposentado no serviço público, quando insubsistentes os motivos determinantes de sua aposentadoria por invalidez, verificados em inspeção médica oficial ou por solicitação voluntária do aposentado, a critério da administração, conforme previsto no Estatuto dos Servidores Públicos do Estado de Rondônia, denomina-se:

- A) reintegração.
- B) recondução.
- C) ascensão funcional.
- D) reversão.
- E) readaptação funcional.

Questão 33

Nos termos da Lei Orgânica do Ministério Público do Estado de Rondônia, os Centros de Apoio Operacional são órgãos auxiliares da atividade funcional do Ministério Público, incumbindo-lhes, entre outras funções:

- A) exercer a fiscalização dos estabelecimentos prisionais e dos que abriguem idosos, crianças e adolescentes, incapazes ou pessoas portadoras de deficiência, supervisionando-lhes a assistência.
- B) realizar e estimular qualquer tipo de atividade cultural ligada ao campo do direito e das ciências correlatas relacionadas às funções afetas à Instituição.
- C) promover o levantamento periódico das necessidades materiais das Promotorias, adotando as providências necessárias para supri-las.
- D) promover, periodicamente, em âmbito local ou regional, ciclos de estudos e pesquisas, reuniões, seminários e congressos, abertos à frequência de membros do Ministério Público e, eventualmente, de outros profissionais do Direito.
- E) exercer, mediante delegação de competência, as atribuições que lhe forem conferidas pelo Procurador-Geral.

Questão 34

Levando-se em conta as trajetórias de conceitos e práticas relativas ao servidor público no Brasil, é possível afirmar que a burocracia pública:

- A) criou a sociedade no Brasil.
- B) é o aparelho ou a organização do Estado.
- C) reflete a autonomia do Estado perante a sociedade.
- D) a despeito de não integrar o aparelho estatal, pressiona o Estado.
- E) é setor responsável pela administração do aparelho do Estado.

Questão 35

O chamado Modelo de Excelência em Gestão Pública deve estar alicerçado em fundamentos próprios da gestão de excelência contemporânea e condicionado aos princípios constitucionais da Administração Pública. Orientado por esses princípios constitucionais, integra a base de sustentação desse modelo:

- A) o pensamento sistêmico, consistente no entendimento das relações de interdependência entre os diversos componentes de uma organização, bem como entre a organização e o ambiente externo, com foco na sociedade.
- B) a autonomia dos órgãos públicos, tendo como objetivo precípuo gerar resultados para o interesse público secundário.
- C) o controle social restrito, a fim de conferir maior eficiência aos projetos públicos e afastando suas características burocráticas como limites de competitividade.
- D) a gestão não participativa, cujo estilo determina atitude gerencial mais independente e voltada a decisões mais céleres por parte do administrador.
- E) a cultura da conservação de ideias, restringindo-se a experimentação e implementação de experiências gerenciais diferenciadas.

CONHECIMENTOS ESPECÍFICOS

Questão 36

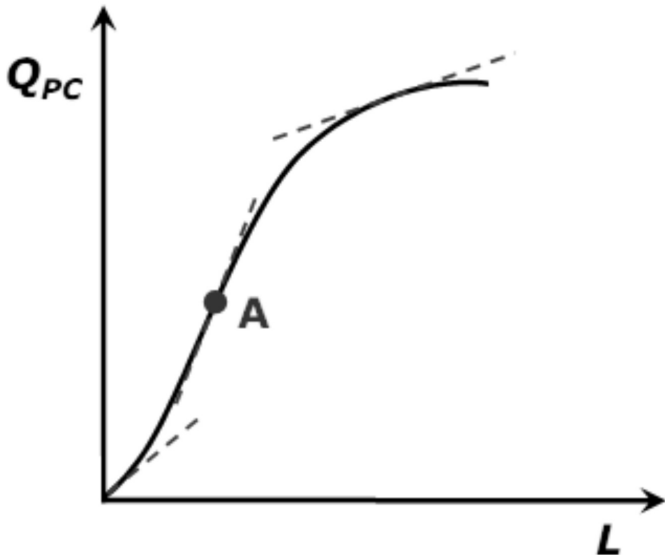
Em um determinado mercado do produto **X** há 2.000 consumidores idênticos, sendo que cada um deles apresenta como função demanda a expressão $Q_x = 24 - 4P_x$. Nesse mesmo mercado, encontram-se 200 produtores análogos na sua forma de produzir, cada um deles seguindo a função oferta dada por $Q_x = 40P_x$.

Em função do enunciado acima, os valores do preço e da quantidade de equilíbrio desse mercado do produto **X** são, respectivamente:

- A) $P_x = \$ 0,50$ e $Q_x = 43.600$
- B) $P_x = \$ 2,00$ e $Q_x = 28.000$
- C) $P_x = \$ 2,50$ e $Q_x = 50.000$
- D) $P_x = \$ 3,00$ e $Q_x = 24.000$
- E) $P_x = \$ 4,50$ e $Q_x = 32.000$

Questão 37

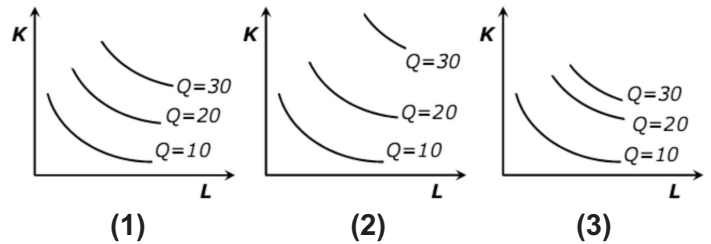
Pode-se definir produção, de maneira simples e direta, como sendo um processo pelo qual, sendo utilizados os devidos recursos produtivos, formam-se bens e serviços. Nesse sentido, observe bem o gráfico abaixo, sendo Q_{PC} a quantidade de produção a curto prazo e L a quantidade do fator trabalho. Além disso, o ponto **A** é conceituado como sendo o ponto de inflexão.



Dadas as tangentes apresentadas ao longo da curva, pode-se informar que:

- A) a produção cresce em proporções cada vez maiores até o ponto A e a produtividade marginal é positiva e crescente, sendo que nesse ponto A, a produtividade média atinge o seu valor de máximo.
- B) pós o ponto A, a produção cresce em proporções cada vez maiores, sendo que a produtividade marginal é positiva e crescente e a produtividade média cresce na mesma proporção que a marginal.
- C) pós o ponto A, a produção cresce em proporções cada vez menores, sendo que a produtividade marginal é positiva e decrescente e a produtividade média cresce em proporções cada vez maiores.
- D) pela terceira tangente, já quase chegando ao ponto de máximo da quantidade de produção a curto prazo, sua inclinação tende para a horizontal, demonstrando que a produtividade marginal é negativa e a produtividade média é igual a zero.
- E) ao longo de toda a curva, antes da terceira tangente, que tende para uma inclinação horizontal, as produtividades média e marginal estão crescendo em proporções cada vez menores, em função de o fator trabalho estar com rendimentos decrescentes.

Questão 38



Dados os gráficos acima com os mapas de isoquantas, Q representa as quantidades de produção a longo prazo, K é o fator capital e L o fator trabalho. Neste contexto, leia atentamente as informações a seguir e assinale a alternativa correta.

- I. O primeiro gráfico apresenta um aumento do nível de produção, cujos rendimentos de escala são constantes, ou seja, graficamente, isso demonstra que a produção cresce na mesma proporção que a utilização dos fatores de produção.
- II. O gráfico dois demonstra um aumento do nível de produção, sendo que os rendimentos de escala são crescentes, isto é, graficamente, tem-se a demonstração de que a produção cresce em proporções maiores que a utilização dos fatores de produção.
- III. O gráfico três apresenta um aumento do nível de produção, cujos rendimentos de escala são decrescentes; graficamente isso demonstra que a produção cresce em proporções menores que a utilização dos fatores de produção.

- A) I, II e III são verdadeiras.
- B) I, II e III são falsas.
- C) I é verdadeira; II e III são falsas.
- D) II é verdadeira; I e III são falsas.
- E) III é verdadeira; I e II são falsas.

Questão 39

No que se refere às condições das firmas em diferentes tipos de estruturas de mercado, analise as alternativas a seguir e assinale a correta.

- A) O equilíbrio de curto prazo de uma empresa monopolista ocorre quando a receita marginal é igual ao custo médio em seu ramo decendente, fazendo com que o monopolista aufera lucro ao longo do tempo.
- B) A posição de lucro máximo de uma empresa monopolista a curto prazo está na faixa inelástica da demanda, pois nesta posição encontra-se a igualdade entre a receita marginal e o custo marginal.
- C) No modelo clássico de oligopólio, o objetivo de uma firma é manter uma margem mais ou menos constante sobre os custos, supondo que esta firma determina o preço e que este é determinado pela oferta, sem ver a demanda.
- D) Havendo monopólio puro, a demanda para a indústria é igual para a empresa monopolista, e, neste caso, se o monopolista resolver oferecer mais do seu produto, o preço irá aumentar, em função do seu controle de mercado.
- E) A curva de oferta de uma empresa em concorrência perfeita é o ramo crescente da curva de custo marginal, a partir do ponto em que este custo marginal é maior do que o custo variável médio mínimo.

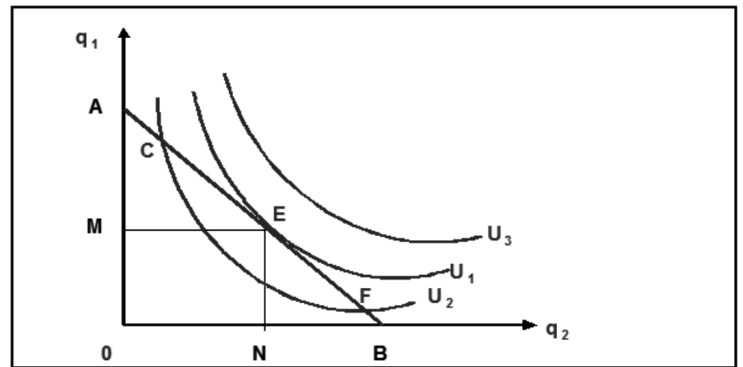
Questão 40

No tocante às propriedades das curvas de indiferença, marque a alternativa correta.

- A) Curvas de indiferença mais afastadas da origem dos eixos (X e Y) são menos preferidas pelo consumidor em função das suas necessidades.
- B) As curvas de indiferença se inclinam para baixo, demonstrando uma taxa marginal de substituição (de Y por X) com resultado positivo.
- C) Pode haver cruzamento das curvas de indiferença, pois para dois bens diferentes, os mesmos tendem a gerar a mesma preferência.
- D) Curvas de indiferença são convexas em relação aos eixos (X e Y), cuja inclinação em qualquer ponto das curvas dá a taxa marginal de substituição.
- E) Havendo substitutos perfeitos, as curvas de indiferença são lineares, com inclinação positiva em relação à origem dos eixos (X e Y).

Questão 41

Observe o gráfico abaixo e leia atentamente as alternativas que se seguem, assinalando a que NÃO condiz com as características da condição ótima do consumidor.



- A) A linha reta AB representa a restrição orçamentária cuja inclinação mostra a relação entre os preços de dois bens e sua posição define a dimensão do orçamento.
- B) O consumidor estará em equilíbrio no ponto E, na medida em que está simultaneamente situado sobre a linha de preços AB e sobre a curva de indiferença U_1 .
- C) Mantendo-se os preços dos bens constantes, se houvesse redução da renda disponível, os deslocamentos da linha de preços, ou da restrição orçamentária, ocorreriam paralelamente para cima e para a direita.
- D) Havendo alteração na declividade da linha da restrição orçamentária, isso significa que ocorrem modificações nos preços dos bens, sendo que essa linha continua reta, porém com declividades ou inclinações diferentes.
- E) Havendo um efeito-substituição, isso demonstra como o consumidor realoca suas compras, quando se modificam os preços relativos dos bens, independentemente de haver uma modificação direta na sua renda.

Questão 42

No tocante a alguns aspectos que dizem respeito à microeconomia, considere as opções abaixo e marque a correta.

- A) Os problemas decorrentes da existência de informação assimétrica nas relações econômicas das empresas são conhecidos como de seleção adversa e de risco moral (ou *moral hazard*); no caso do risco moral, este pode ser considerado como sendo um problema pré-contratual.
- B) As principais contribuições da teoria da organização industrial podem ser sintetizadas no chamado paradigma Estrutura-Condução-Desempenho que analisa em que medida as imperfeições do mercado acabam limitando a capacidade de este mercado atender as demandas da sociedade por bens e serviços.
- C) Em um jogo de equilíbrio de estratégias *maximim*, este equilíbrio se dá quando os jogadores desejam maximizar a probabilidade de lucro máximo, ou simplesmente ter a probabilidade de maximizar o lucro por meio da igualdade entre a receita marginal e o custo marginal das empresas.
- D) Por definição, bens públicos são aqueles bens que são exclusivos e rivais tanto para uma empresa, quanto para uma repartição pública, ou ainda aqueles bens para os quais não se aplica o princípio da rivalidade para os consumidores em um determinado mercado, seja de concorrência perfeita ou imperfeita.
- E) De uma maneira mais técnica, existe externalidade positiva quando o benefício social marginal de uma atividade é igual ao benefício privado marginal e, neste sentido, o resultado tanto dos custos privados, quanto dos sociais é igual a 1, apresentando curvas positivamente inclinadas.

Questão 43

No tocante ao mercado em concorrência perfeita, assinale a alternativa abaixo que NÃO condiz com as características desse mercado.

- A) Existência de um grande número de vendedores e compradores.
- B) Muitos vendedores com produtos diferenciados.
- C) Livre entrada e saída de empresas.
- D) Livre mobilidade de fatores de produção.
- E) Consumidores e vendedores têm acesso a toda informação relevante.

Questão 44

A contabilidade social procura medir a produção corrente de um país. Nesse sentido, observe o quadro abaixo que apresenta valores hipotéticos das contas nacionais desse país e marque a alternativa correta.

Contas (Nacionais) do País	Valores (em \$ bilhões)
Produto Interno Líquido a custo de fatores (PILcf)	45.000,00
Renda Recebida do Exterior (RRdE)	8.000,00
Depreciação (D)	2.000,00
Impostos Indiretos (II)	15.000,00
Renda Enviada para o Exterior (REpE)	5.000,00
Subsídios (Sub)	3.000,00

Dadas as considerações acima, assinale a alternativa correta.

- A) Produto Interno Líquido a preços de mercado (PILpm) = \$ 50.000,00.
- B) Produto Interno Bruto a custo de fatores (PIBcf) = \$ 47.000,00.
- C) Renda Líquida do Exterior (RLE) = \$ 13.000,00.
- D) Produto Interno Bruto a preços de mercado (PIBpm) = \$ 55.000,00.
- E) Produto Nacional Bruto a preços de mercado (PNBpm) = \$ 57.000,00.

Questão 45

No que diz respeito ao lado monetário da economia, leia as opções abaixo e marque a que NÃO corresponde às peculiaridades correspondentes a esse assunto.

- A) As contas que compõem o balanço do Banco Central podem ser reduzidas com base nas funções que este banco desempenha, isto é, tais funções correspondem a ser banco dos bancos, banqueiro do governo, emissor de papel-moeda e, incluindo nesse contexto, depositário das reservas internacionais do país.
- B) O agregado monetário básico, do qual decorrem os demais agregados monetários, é chamado de base monetária. Este inclui o papel-moeda emitido pelo governo em poder do público e o volume de reservas mantidos pelos bancos comerciais.
- C) A quantidade de moeda (ou meios de pagamento) constitui-se tanto do papel-moeda emitido pelo governo e carregado pelos indivíduos (moeda manual), como dos depósitos à vista (moeda escritural) no sistema bancário, bem como da moeda que está nas reservas do Banco Central.
- D) Destacam-se, fundamentalmente, como funções da moeda em um sistema econômico, a moeda ser instrumento ou meio de trocas, denominador comum monetário e reserva de valor em uma dada economia.
- E) Basicamente, a demanda de moeda para a realização de transações, a demanda de moeda por precaução e a demanda de moeda por especulação são as razões pelas quais o público retém moeda em uma economia.

Questão 46

No que diz respeito à curva IS, pode-se afirmar.

- A) É positivamente inclinada, pois um aumento da taxa de juros aumenta a demanda pela liquidez da economia.
- B) Quanto menor o multiplicador e menos sensível o gasto em investimento em relação às variações na taxa de juros, mais inclinada é a IS.
- C) Sua inclinação é alterada em função das modificações dos gastos autônomos de uma determinada economia.
- D) Nos pontos fora desta curva e a sua direita há um excesso de demanda, enquanto nos pontos fora e a sua esquerda ocorre um excesso de oferta.
- E) Assegura o equilíbrio no mercado monetário, ou seja, o equilíbrio entre a oferta e a demanda por moeda.

Questão 47

Leia atentamente, as opções abaixo relacionadas com as peculiaridades que dizem respeito à curva LM, e selecione a INCORRETA.

- A) A curva LM representa as combinações de taxas de juros e de nível de renda, para as quais o mercado monetário encontra-se em equilíbrio.
- B) Tendo-se uma curva LM, e dada uma oferta fixa de moeda, um incremento no nível de renda tem que ser acompanhado por uma elevação na taxa de juros, para preservar o equilíbrio monetário.
- C) A curva LM é deslocada por variações na oferta monetária; assim, um aumento dessa oferta monetária desloca a curva LM para a esquerda.
- D) Nos pontos fora e à direita da curva LM, há um excesso de demanda por moeda, enquanto nos pontos fora e à esquerda dessa curva, há um excesso de oferta de moeda.
- E) Ao fazer uma política monetária expansiva, para poder expandir a atividade econômica do país, o governo acaba mexendo com a curva LM, gerando um deslocamento dessa curva para a direita.

Questão 48

Suponha o modelo IS-LM para uma economia aberta, com equilíbrio no balanço de pagamentos e com imperfeita mobilidade de capitais. com base nesta informação, marque a alternativa correta.

- A) Tendo-se o regime de câmbio fixo, uma expansão monetária irá provocar, inicialmente, aumento dos níveis de renda e emprego, que não podem ser mantidos devido à perda de divisas do país.
- B) Com um câmbio flexível, havendo expansão do crédito doméstico ocorrerá redução da taxa de juros, elevando o nível de renda e provocando o surgimento de *deficit* no balanço de pagamentos.
- C) Tendo-se um regime de câmbio flexível, o Banco Central acaba perdendo o controle da oferta de moeda na economia, caso tenha por meta obter o equilíbrio do balanço de pagamentos.
- D) Com um regime de câmbio fixo, o governo acaba perdendo a capacidade de aquecer a economia mediante o aumento de gastos, pois estes (gastos) só irão provocar elevações na taxa de juros.
- E) Tendo-se um regime de câmbio fixo, o governo, ao aumentar a oferta monetária, acaba perdendo o controle da política cambial em função de se obter um equilíbrio do balanço de pagamentos.

Questão 49

No que diz respeito ao resultado das contas do governo, assinale, abaixo, a alternativa correta.

- A) O *deficit* operacional é sempre igual ao *deficit* primário das contas públicas, quando não há inflação no país.
- B) O efeito Oliveira-Tanzi demonstra que quando a inflação aumenta a receita propiciada pela tributação cai.
- C) O *deficit* público nominal iguala-se ao *deficit* operacional quando o governo acaba indexando os impostos à evolução de um índice inflacionário diário.
- D) Havendo resultado positivo nas transações correntes e igualdade entre poupança privada e investimento privado, as contas do governo devem ser deficitárias.
- E) Havendo uma política fiscal expansiva, a tendência é que, a curto prazo, haverá um aumento das receitas do governo em função do aumento da atividade econômica.

Questão 50

Leia atentamente as informações abaixo a respeito dos ciclos e da curva de Phillips e assinale a alternativa correta.

- I. Problemas expectacionais determinam os ciclos para novos clássicos e para os monetaristas.
 - II. Choques de produtividade explicam os ciclos para os adeptos da teoria dos ciclos reais.
 - III. Na curva de Phillips expandida pelas expectativas poderá haver inflação positiva mesmo quando o produto corrente for menor que o produto potencial.
- A) I, II e III são verdadeiras.
 - B) I, II e III são falsas.
 - C) I é verdadeira; II e III são falsas.
 - D) II é verdadeira; I e III são falsas.
 - E) III é verdadeira; I e II são falsas.

Questão 51

Leia as proposições abaixo e marque a alternativa correta a respeito da equivalência ricardiana e sobre a hipótese da renda permanente.

- I. De acordo com a equivalência ricardiana, uma redução de impostos não exerce impacto algum sobre as decisões de consumir, caso os planos de gastos do governo permaneçam inalterados.
 - II. Não há aplicação da chamada equivalência ricardiana se houver restrições ao crédito para as famílias.
 - III. Segundo a hipótese da renda permanente, a propensão média a consumir aumenta durante períodos de recessão.
- A) I, II e III são falsas.
 - B) I é falsa; II e III são verdadeiras.
 - C) II é falsa; I e III são verdadeiras.
 - D) III é falsa; I e II são verdadeiras.
 - E) I, II e III são verdadeiras.

Questão 52

Suponha uma economia emergente com taxa interna de poupança de 10%, com uma relação produto capital de 0,5 e com uma poupança externa de 5% do produto nacional. Em função disso, essa economia terá uma taxa potencial de crescimento no valor de:

- A) 10,0%
- B) 7,5%
- C) 8,0%
- D) 9,0%
- E) 5,5%

Questão 53

Leia as opções abaixo, que dizem respeito ao período do governo de Juscelino Kubstichek (J.K.), e assinale a correta.

- A) As metas de expansão da capacidade geradora de energia elétrica e da capacidade de refino de petróleo elaboradas pelo Plano de Metas foram plenamente atingidas.
- B) Pelo Plano de Metas, o Estado iria intervir cada vez menos na economia, incentivando a elaboração de políticas que gerassem liberdade nas transações comerciais com o exterior.
- C) A política de investimentos implantada pelo Plano de Metas relegou a segundo plano a expansão da produção de bens de capital.
- D) O governo Juscelino deu início à chamada internacionalização da economia, com a entrada de empresas transnacionais, notadamente do setor automotivo.
- E) O governo J.K. tinha como principal objetivo o controle da inflação, utilizando políticas fiscal e monetária restritivas por meio do corte dos gastos públicos e, principalmente, por meio de juros elevados.

Questão 54

No que se refere ao desempenho econômico do Brasil de 1967 a 1979, leia atentamente as alternativas abaixo e assinale a opção correta.

- A) O Plano de Ação Econômica do Governo Castelo Branco, o PAEG, adotou uma política salarial que assegurava, aos trabalhadores, maior participação na renda nacional da economia brasileira.
- B) O Plano de Ação Econômica do Governo Castelo Branco, o PAEG, implantou políticas fiscal e monetária expansivas, com o objetivo de elevar a atividade econômica em virtude da restrição da oferta agregada.
- C) A equipe econômica comandada por Antonio Delfim Netto manteve uma severa política de combate à inflação, via redução da demanda, no período de 1968 a 1973 através de políticas fiscal e monetária restritivas.
- D) O II Plano Nacional de Desenvolvimento (II PND), empreendido pelo Governo Geisel, visava à reestruturação industrial como forma de superar os estrangulamentos de cadeias produtivas e a redução da dependência externa da economia brasileira.
- E) O II Plano Nacional de Desenvolvimento (II PND), empreendido pelo Governo Geisel, foi o responsável pela redução do endividamento externo no período que se seguiu ao aumento brusco do preço do petróleo.

Questão 55

O Plano Cruzado decretado em 28 de fevereiro de 1986:

- A) provocou uma redistribuição de renda em favor dos assalariados.
- B) teve como objetivo gerar maior indexação no Brasil para ampliar a atividade econômica.
- C) realizou um rigoroso ajuste fiscal e monetário.
- D) provocou um forte ajuste externo como nunca se tinha visto em anos anteriores a 1986.
- E) obteve uma desvalorização altamente significativa da taxa de câmbio no Brasil.

Questão 56

Leia e analise, atentamente, as informações sobre o processo brasileiro de industrialização por substituição de importações e assinale a alternativa correta.

- I. Esse processo apoiou-se em instrumentos de política econômica como reservas de mercado, subsídios e incentivos fiscais e financeiros à indústria nascente.
- II. Esse processo, no Brasil, se fez sem pressões inflacionárias, sem desequilíbrios externos e sem desigualdades regionais.
- III. Foi um processo por meio do qual o Estado, entre outras responsabilidades, assegurou investimentos em infraestrutura e exerceu o papel de empresário no segmento da indústria pesada.

- A) I, II e III são verdadeiras.
- B) I, II e III são falsas.
- C) I e II são verdadeiras e III é falsa.
- D) I e III são verdadeiras e II é falsa.
- E) II e III são verdadeiras e I é falsa.

Questão 57

A economia brasileira, ao longo da década de 1990, passou por um processo de maior abertura para a economia mundial, bem como de liberalização comercial. Neste contexto, leia e analise, atentamente, as informações a seguir e marque a alternativa correta.

- I. Depois do Plano Real, houve um aumento contínuo, ano a ano, dos influxos líquidos de investimento estrangeiro direto.
 - II. Para que houvesse um aumento das exportações gerando resultados positivos significativos na balança comercial, foi utilizado de 1995 até 1999, um regime de câmbio flutuante.
 - III. Entre 1990 e 1999, houve um aumento intensivo da participação dos ramos industriais em tecnologia no Valor da Transformação Industrial, ou seja, no VTI.
- A) I, II e III são verdadeiras.
B) I, II e III são falsas.
C) I é verdadeira; II e III são falsas.
D) II é verdadeira; I e III são falsas.
E) III é verdadeira; I e II são falsas.

Questão 58

Suponha a avaliação de dois projetos **X** e **Y** pelos métodos da taxa interna de retorno (TIR) e de *payback*. Nesse sentido, é correto afirmar que deve ser escolhido o projeto que apresentar:

- A) maior *payback*.
B) menor taxa interna de retorno.
C) maior taxa interna de retorno.
D) taxa interna de retorno constante.
E) *payback* constante.

Questão 59

Suponha a construção de uma hidrelétrica em uma determinada localidade. Em função de suas características técnicas, essa construção gera um grande número de empregos. Neste sentido, leia as considerações a seguir e assinale a alternativa correta.

- I. Do ponto de vista privado, a geração de empregos não se constitui em um benefício.
 - II. Do ponto de vista social, a geração de empregos constitui-se em um benefício.
 - III. A geração de empregos entra no cálculo tanto da taxa interna de retorno econômica (TIRE), quanto da taxa interna de retorno (TIR).
- A) I, II e III são verdadeiras.
B) I, II e III são falsas.
C) I e II são verdadeiras e III é falsa.
D) I e III são verdadeiras e II é falsa.
E) II e III são verdadeiras e I é falsa.

Questão 60

Assinale a alternativa que NÃO corresponde às peculiaridades dos métodos de avaliação de investimento de um projeto.

- A) No método de valor atual, calcula-se o valor atual do fluxo de caixa com o uso da taxa mínima de atratividade; se esse valor for positivo, a proposta de investimento é atrativa.
- B) No que se refere ao método de valor atual, no caso de se considerar alternativas de investimento com durações idênticas, escolhe-se a de maior valor atual.
- C) A comparação entre as alternativas de investimento pelo método do custo anual é feita reduzindo-se o fluxo de caixa de cada proposta a uma série uniforme equivalente, com o uso da taxa mínima de atratividade.
- D) A taxa interna de retorno é a taxa que iguala os fluxos anualizados de benefícios aos fluxos igualmente anualizados de custos.
- E) A análise a respeito da taxa interna de retorno se traduz com a análise do custo marginal do investimento, caso se deseje obter o maior lucro possível.