



Cidade de São José dos Campos

Prefeitura Municipal


CONCURSO PÚBLICO

004. PROVA OBJETIVA

ASSISTENTE EM GESTÃO MUNICIPAL

- ♦ Você recebeu sua folha de respostas e este caderno contendo 50 questões objetivas.
- ♦ Confira seu nome e número de inscrição impressos na capa deste caderno.
- ♦ Leia cuidadosamente as questões e escolha a resposta que você considera correta.
- ♦ Responda a todas as questões.
- ♦ Marque, na folha intermediária de respostas, localizada no verso desta página, a letra correspondente à alternativa que você escolheu.
- ♦ Transcreva para a folha de respostas, com caneta de tinta azul ou preta, todas as respostas anotadas na folha intermediária de respostas.
- ♦ A duração da prova é de 3 horas.
- ♦ Só será permitido sair da sala após transcorrida a metade do tempo de duração da prova.
- ♦ Ao sair, você entregará ao fiscal a folha de respostas e este caderno, podendo destacar esta capa para futura conferência com o gabarito a ser divulgado.

AGUARDE A ORDEM DO FISCAL PARA ABRIR ESTE CADERNO DE QUESTÕES.



Cidade de São José dos Campos

Prefeitura Municipal

FOLHA INTERMEDIÁRIA DE RESPOSTAS

QUESTÃO	RESPOSTA
01	A B C D E
02	A B C D E
03	A B C D E
04	A B C D E
05	A B C D E

06	A B C D E
07	A B C D E
08	A B C D E
09	A B C D E
10	A B C D E

11	A B C D E
12	A B C D E
13	A B C D E
14	A B C D E
15	A B C D E

16	A B C D E
17	A B C D E
18	A B C D E
19	A B C D E
20	A B C D E

21	A B C D E
22	A B C D E
23	A B C D E
24	A B C D E
25	A B C D E

QUESTÃO	RESPOSTA
26	A B C D E
27	A B C D E
28	A B C D E
29	A B C D E
30	A B C D E

31	A B C D E
32	A B C D E
33	A B C D E
34	A B C D E
35	A B C D E

36	A B C D E
37	A B C D E
38	A B C D E
39	A B C D E
40	A B C D E

41	A B C D E
42	A B C D E
43	A B C D E
44	A B C D E
45	A B C D E

46	A B C D E
47	A B C D E
48	A B C D E
49	A B C D E
50	A B C D E

CONHECIMENTOS GERAIS

LÍNGUA PORTUGUESA

Leia o texto para responder às questões de números **01** a **09**.

Pouco depois de ser divulgado um estudo norte-americano demonstrando que lembranças podem ser suprimidas de nosso cérebro, Paulo leu num jornal da cidade, na casa de Antônio, seu vizinho, anúncio sobre Instituto de Pesquisas que estava, desde o início do mês, em busca de voluntários que quisessem fazer exatamente o que fora noticiado: apagar da memória lembranças penosas. Aquilo mexeu com ele. Porque havia, sim, algo que queria apagar de sua memória, um doloroso trauma, uma recordação que não o deixava em paz há mais de trinta anos. Por que não recorrer à ciência e resolver o problema? Se se tratasse de uma dor no ombro, ou no joelho, ele não hesitaria em procurar o médico; nada indicava que não devesse fazer o mesmo com o sofrimento emocional. Assim pensando, já no dia seguinte, lá estava Paulo no Instituto de Pesquisas. Foi encaminhado a um jovem pesquisador, Doutor Marcelo, que garantiu manter sigilo absoluto.

O procedimento foi rápido, um aparelho foi colocado sobre seu crânio, Dr. Marcelo pediu que ele evocasse a recordação penosa e aí apertou um botão. Ouvia-se um zumbido e, no instante seguinte, ele já não lembrava daquilo que lhe causara tanto sofrimento. De que se tratava mesmo? De uma mulher que o rejeitara? De que mulher? Como se chamava? Onde vivia?

Ainda espantado, foi para casa, achando que sua vida se transformaria, poderia divertir-se muito. Realmente isso aconteceu, porém, mesmo assim, a inquietude persistia. Mas deu-se conta de que o que agora incomodava era o fato de ele ter esquecido. Queria lembrar o tal incidente esquecido, por mais deprimente que fosse. Voltaria a sofrer, mas o que ele agora buscava era a verdade, a amarga verdade. E só uma pessoa lhe poderia dizer qual era: Dr. Marcelo. Foi ao Instituto, falou com a secretária do Dr. Marcelo que arregalou os olhos: “– Mas você não sabe? O doutor morreu num acidente.” Sem uma palavra, ele voltou para casa, cabisbaixo e acabrunhado. Sua esperança é de que o destino, um dia, o faça encontrar-se com o seu passado.

(Moacyr Scliar. *Folha de S.Paulo* 23.07.07. Adaptado)

01. De acordo com o texto, Paulo

- (A) procurava esquecer uma mulher que o divertia muito.
- (B) ouviu de um vizinho a notícia sobre a oportunidade oferecida pelo Instituto.
- (C) procurou um médico em razão de dores no ombro e no joelho.
- (D) demorou meses para procurar o Instituto após conhecer o anúncio.
- (E) ficou abatido com a resposta da secretária a respeito do médico.

02. Ao colocar o aparelho sobre a cabeça de Paulo, o médico lhe pediu que

- (A) procurasse não pensar na recordação que lhe era penosa.
- (B) prestasse atenção no zumbido do aparelho.
- (C) pensasse naquilo que o incomodava.
- (D) depois o procurasse por meio de sua secretária.
- (E) imaginasse coisas agradáveis e interessantes.

03. Em – ... apagar da memória lembranças **penosas**. (1.º parágrafo) – o significado contrário ao da palavra destacada é

- (A) irritantes.
- (B) complexas.
- (C) mortificantes.
- (D) agradáveis.
- (E) esquisitas.

04. Pela expressão – Aquilo mexeu com ele. (1.º parágrafo) – entende-se, de acordo com o texto, que, diante da notícia sobre o procedimento que estava sendo anunciado, Paulo ficou

- (A) frustrado.
- (B) entristecido.
- (C) interessado.
- (D) esquecido.
- (E) traumatizado.

05. Na frase – Queria lembrar o tal incidente esquecido, por mais **deprimente** que fosse. (3.º parágrafo) – a palavra destacada significa

- (A) depressivo.
- (B) complexo.
- (C) esquisito.
- (D) destacado.
- (E) diferente.

06. Assinale a alternativa que apresenta expressão empregada em sentido figurado.

- (A) ... lembranças podem ser suprimidas de nosso cérebro... (1.º parágrafo)
- (B) Se se tratasse de uma dor no ombro, ou no joelho, ele não hesitaria... (1.º parágrafo)
- (C) ... já no dia seguinte, lá estava Paulo no Instituto... (1.º parágrafo)
- (D) ... mas o que ele agora buscava era a verdade, a amarga verdade. (3.º parágrafo)
- (E) Foi ao Instituto, falou com a secretária... (3.º parágrafo)

07. No trecho – ... estava, **desde** o início do mês, em busca de voluntários... (1.º parágrafo) – o termo destacado estabelece entre as palavras uma relação de

- (A) modo.
- (B) tempo.
- (C) causa.
- (D) finalidade.
- (E) lugar.

08. No trecho – ... isso aconteceu, **porém**, mesmo assim, a inquietude persistia. (3.º parágrafo) – a palavra destacada pode ser substituída, sem alteração do sentido do texto, por

- (A) portanto.
- (B) porque.
- (C) logo.
- (D) pois.
- (E) entretanto.

09. Em – Queria lembrar o **tal incidente**... (3.º parágrafo) – substituindo-se a expressão destacada por um pronome, de acordo com a norma-padrão, tem-se: Queria

- (A) lembrar-lhe.
- (B) lembrá-lo.
- (C) lembrar ele.
- (D) lembrá-lhe.
- (E) lembrar-o.

10. Leia as afirmações:

- I. Paulo preferia mais conversar com os amigos do que pensar no passado.
- II. Neste mês, ele foi no consultório médico duas vezes.
- III. Lídia nos disse que assistiu ao filme vencedor do Oscar.

Considerando a regência, pode-se afirmar que, de acordo com a norma-padrão, está correto apenas o contido em

- (A) I.
- (B) II.
- (C) III.
- (D) I e II.
- (E) II e III.

11. Assinale a alternativa que apresenta o emprego correto das vírgulas.

- (A) Paulo, após o almoço, observou o ambiente, conversou comigo e saiu.
- (B) Paulo após o almoço, observou, o ambiente, conversou comigo e saiu.
- (C) Paulo após o almoço observou, o ambiente, conversou comigo e, saiu.
- (D) Paulo, após o almoço observou o ambiente conversou comigo e, saiu.
- (E) Paulo após, o almoço observou o ambiente conversou, comigo, e saiu.

12. Leia as afirmações.

- I. Em 2011, Lídia completou 32 anos de idade. Em 2012, irá comemorar, portanto, o seu trecentésimo terceiro aniversário.
- II. Eu e Paulo costumamos se encontrar aos domingos na praça central.
- III. Nunca se entusiasme muito com essas propagandas.

Considerando, respectivamente, o emprego do numeral (em I), o uso do pronome (em II) e a colocação pronominal (em III), pode-se afirmar que está correto, de acordo com a norma-padrão, apenas o contido em

- (A) I.
- (B) II.
- (C) III.
- (D) I e II.
- (E) II e III.

Nas questões de números 13 e 14, assinale a alternativa que preenche, correta e respectivamente, as lacunas das frases dadas.

13. Lídia ficou _____ preocupada e _____ vários documentos do Instituto.

- (A) meia ... reteve
- (B) meio ... reteu
- (C) meia ... retém
- (D) meia ... reteu
- (E) meio ... reteve

14. O Instituto _____ muitos confiavam ficou esquecido _____ partir do falecimento do médico.

- (A) em que ... a
- (B) de que ... à
- (C) que ... à
- (D) de que ... a
- (E) em que ... à

15. Considerando a concordância verbal, assinale a alternativa correta.

- (A) Os amigos de Paulo, na frente da casa, queria falar com ele.
- (B) A discussão entre os clientes incomodavam o médico.
- (C) Só agora se resolveu aquelas questões.
- (D) As opiniões sobre este médico estão mudando.
- (E) Lídia e Marcelo, por doze anos, trabalhava juntos.

16. Num determinado concurso, os candidatos aprovados têm a opção de escolherem dois cursos para frequentar no período preparatório: noções sobre a estrutura do transporte público ou noções sobre administração pública, devendo, entretanto, escolher pelo menos uma dessas opções.

Sabendo-se que 59 candidatos foram aprovados, constatou-se que:

- 25 candidatos optaram por frequentar o curso de noções sobre a estrutura do transporte público;
- 15 candidatos optaram pelos dois cursos.

Assim, o número de candidatos aprovados que optaram por frequentar somente o curso de noções sobre administração pública é

- (A) 49.
 (B) 44.
 (C) 40.
 (D) 34.
 (E) 19.

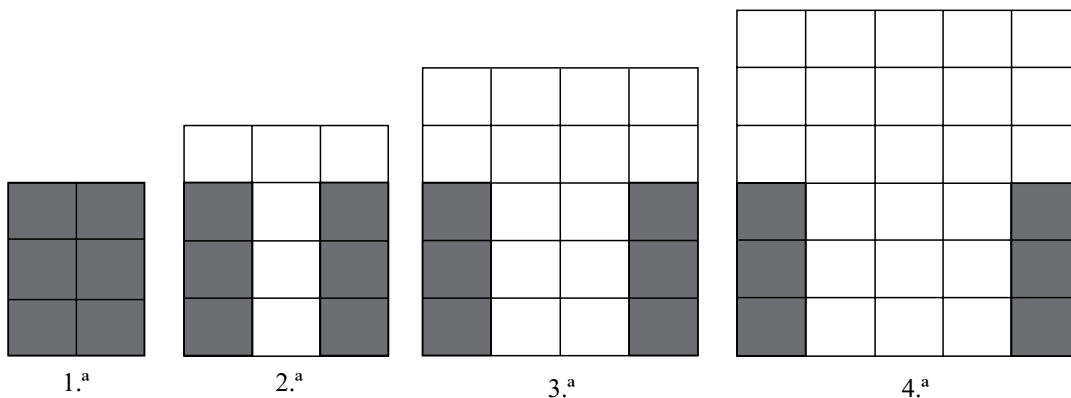
17. Duas pizzas iguais foram divididas da seguinte maneira:

- a primeira foi dividida em 5 partes iguais, e quatro dessas partes foram dadas à Carol;
- a segunda foi dividida em 7 partes iguais, e cinco dessas partes foram dadas a Piero.

Para que se possa comparar as quantidades recebidas e saber quem ganhou mais *pizza*, o menor número de partes iguais em que as duas pizzas deveriam ser divididas é

- (A) 12.
 (B) 17.
 (C) 35.
 (D) 39.
 (E) 70.

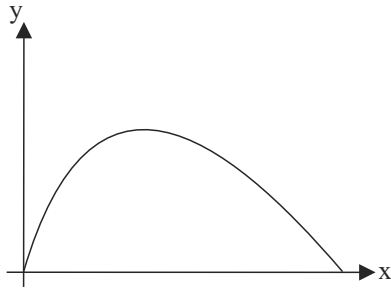
18. Cada figura da sequência a seguir é composta de retângulos claros e escuros.



Se a lei de formação das figuras seguintes permanece a mesma, é correto afirmar que o número de retângulos claros na figura de número n será

- (A) $n^2 + 3n - 4$.
 (B) $n^2 + 4n - 6$.
 (C) $n^2 - 6$.
 (D) $(n + 1)^2 - 6$.
 (E) $(n - 6)^2$.

19. O gráfico a seguir mostra a variação de uma grandeza, representada no eixo y, em função de outra grandeza, representada no eixo x.



A situação que pode ser representada por esse tipo de variação é

- (A) o preço a ser pago por uma certa quantidade de bilhetes de metrô (eixo y), em função do número de bilhetes comprados (eixo x).
- (B) a quantidade de árvores derrubadas (eixo Y), em função da quantidade de papel utilizado (eixo x).
- (C) o saldo de uma dívida de cartão de crédito (eixo y), em função do tempo em que o cartão deixou de ser pago (eixo x).
- (D) o valor do saldo de uma caderneta de poupança (eixo y), em função do tempo em que o dinheiro ficou aplicado (eixo x).
- (E) a quantidade de café colhido (eixo y), em função do tempo de uma safra (eixo x).

20. Considere a seguinte sentença matemática:

$$\frac{1}{10} + \frac{2}{10^2} + \frac{4}{10^4} + \frac{3}{10^5} + \frac{9}{10^6}$$

Se Carlos calculou corretamente o valor dessa sentença, então é correto afirmar que ele obteve como resultado

- (A) 1,204390.
- (B) 0,012439.
- (C) 0,102439.
- (D) 0,120439.
- (E) 0,124030.

21. Cris é assistente em gestão e precisa saber qual combustível é mais vantajoso para aquisição da prefeitura, uma vez que o carro que serve ao transporte escolar é flexível. O veículo percorre diariamente 280 km. Quando movido a álcool, faz 7 km por litro e, quando movido a gasolina, faz 10 km por litro. Se o preço do litro de álcool, em um posto da cidade, era R\$ 1,85, em 15.02.2012, e o da gasolina era R\$ 2,61, é possível concluir que, nessas condições, Cris pode optar

- (A) pelo álcool, uma vez que o valor da gasolina é R\$ 0,92 mais caro.
- (B) por gasolina, uma vez que o valor do álcool é R\$ 0,92 mais caro.
- (C) pelo álcool, uma vez que o valor da gasolina é R\$ 0,76 mais caro.
- (D) por gasolina, uma vez que o valor do álcool é R\$ 0,76 mais caro.
- (E) por qualquer um dos dois combustíveis, pois o preço do litro de álcool é menor, mas seu consumo é maior.

22. Em um cofre, há apenas moedas de R\$ 0,10 e R\$ 0,25. Uma pessoa retira 108 moedas, no total de R\$ 15,00. Dessa forma, a diferença entre o número de moedas de R\$ 0,10 e o de R\$ 0,25 retiradas é igual a

- (A) 15.
- (B) 28.
- (C) 30.
- (D) 46.
- (E) 52.

23. Ao colocar 12 litros de combustível em um caminhão, um motorista observou que o marcador, que antes indicava $\frac{2}{9}$ do tanque, passou a indicar $\frac{1}{4}$ do tanque. Nesse caso, a capacidade total do tanque, em litros, é

- (A) 48.
- (B) 108.
- (C) 156.
- (D) 236.
- (E) 432.

24. Uma determinada empresa montou um plano para aumentar os salários de seus funcionários, conforme apresentado na tabela a seguir.

FAIXA SALARIAL	BASE DE CÁLCULO (R\$)	AUMENTO (%)	ABONO (EM R\$)
I	até 1.000,00	10	–
II	de 1.000,01 até 2.000,00	8	20,00
III	acima de 2.000,00	6	60,00

Assim sendo, pode-se afirmar que quem ganhava R\$ 1.850,00 passará a receber

- (A) R\$ 2.420,00.
 (B) R\$ 2.035,00.
 (C) R\$ 2.021,00.
 (D) R\$ 2.018,00.
 (E) R\$ 1.970,00.
25. Em uma sala de aula, quando a escola estava em férias, dez lâmpadas de 100 watts ficaram acesas durante todo o mês de janeiro. Se o valor cobrado por kWh é R\$ 0,32, o valor a ser pago pela energia consumida por essas lâmpadas é
- (A) R\$ 320,00.
 (B) R\$ 238,08.
 (C) R\$ 220,00.
 (D) R\$ 128,08.
 (E) R\$ 32,00.
26. Um engenheiro reformou um galpão. Em seu desenho, esse galpão, que era quadrado, teve um acréscimo de 3 m no comprimento, uma redução de 2 m na largura e sua área passou a ser de 104 m². Assim sendo, é correto concluir que houve
- (A) um aumento, na área do galpão, de 25 m².
 (B) uma redução, na área do galpão, de 25 m².
 (C) um aumento, na área do galpão, de 4 m².
 (D) uma redução, na área do galpão, de 4 m².
 (E) um aumento, na área do galpão, de 1 m².
27. Um pedreiro deseja revestir uma superfície com lajotas de forma poligonal, todas do mesmo tipo e tamanho. Analisando a situação, é correto afirmar que a superfície dessa lajota não poderá ter a forma de um
- (A) pentágono regular.
 (B) retângulo.
 (C) hexágono regular.
 (D) quadrado.
 (E) triângulo equilátero.

28. Com a finalidade de avaliar os serviços prestados por uma prefeitura, foi feita uma pesquisa com os munícipes, que atribuíram conceitos ruim, regular, bom, ótimo ou excelente. A tabela a seguir apresenta uma parte dos dados.

AValiação	NÚMERO DE INDICAÇÕES	Porcentagem de INDICAÇÕES
Ruim	760	25
Regular		15
Bom	180	
Ótimo		30
Excelente		
Total		

Analisando a tabela, é correto afirmar que, dos munícipes pesquisados, os que consideraram os serviços prestados pela prefeitura como de ótima qualidade foram

- (A) 3 040.
 (B) 1 054.
 (C) 912.
 (D) 304.
 (E) 243.
29. O quadrilátero que apresenta somente dois lados paralelos é chamado de
- (A) quadrado.
 (B) retângulo.
 (C) losango.
 (D) trapézio.
 (E) paralelogramo.
30. Um tipo de papel que não é muito utilizado nas copiadoras, mas que pode imprimir em espaços maiores, é o de formato A3. Esse tipo de papel tem a forma retangular, com 420 mm de largura por 297 mm de comprimento. Se uma gráfica possui uma pilha de 200 mm desse papel, pode-se afirmar que o volume dessa pilha é
- (A) 50 423 cm³.
 (B) 24 948 cm³.
 (C) 5 042 cm³.
 (D) 2 494 cm³.
 (E) 917 cm³.

ATUALIDADES

31. O movimento *Occupy* (Ocupe) chegou a Nova Iorque em setembro [2011] e, posteriormente, a outras grandes cidades do mundo. Um dos principais objetivos do movimento é protestar contra

- (A) a crise financeira mundial e seus efeitos: o desemprego e o empobrecimento de parte da população.
- (B) as guerras que já duram mais de uma década no Oriente Médio, um dos locais mais inseguros do mundo.
- (C) a fome que assola parte da África e que não tem sido reduzida devido ao desinteresse do Banco Mundial.
- (D) as restrições que estão sendo impostas à migração internacional, ferindo o direito de movimentação dos povos.
- (E) a intransigência dos Estados Unidos e da Rússia que impedem a reestruturação do Conselho de Segurança da ONU.

32. Para aumentar a pressão, os Estados Unidos e a UE (União Europeia) ampliaram as sanções econômicas contra o país em 2012. A comunidade europeia aprovou, inclusive, um plano que prevê o fim da importação de petróleo até 1.º de julho [2012]. Os EUA apoiaram a ação e agora tentam convencer Índia, Japão e Coreia do Sul a diminuir as importações. Apesar de negar que o programa tenha fins bélicos, o governo dá sinais claros de que começa a pensar em alternativas para fugir das consequências das sanções. Abandonar o programa nuclear, no entanto, não é uma opção.

(<http://operamundi.uol.com.br/conteudo/noticias/19791/no+aniversario+da+revolucao+busca+conter+estrangulamento+das+sancoes+e+afastar+ameaca+de+guerra.shtml>). Adaptado)

A notícia refere-se

- (A) à Arábia Saudita.
- (B) à Índia.
- (C) à Nigéria.
- (D) ao Paquistão.
- (E) ao Irã.

33. O filme *The Artist* (conhecido no Brasil como *O Artista*) tem sido destaque por ganhar prêmios de direção, enredo e ator em vários eventos na Europa e nos Estados Unidos, inclusive o Oscar. O que se destaca no filme é que ele

- (A) trata da Primeira Guerra Mundial.
- (B) é mudo e rodado em preto e branco.
- (C) discute a luta entre judeus e palestinos.
- (D) mostra a vida em um circo durante os anos de 1930.
- (E) conta a história de um músico do século XIX.

34. Uma multidão de milhares de pessoas se reuniu em frente às sedes do Parlamento e da Presidência, para acompanhar a esperada renúncia do Primeiro Ministro, Silvio Berlusconi, que esteve permanentemente cercado de escândalos, inclusive sexuais. Ao longo do dia [12.11.2011], as pessoas, que vieram de diversas regiões do país, foram se concentrando para manifestarem suas opiniões sobre a complicada situação política e econômica desse país europeu.

(<http://veja.abril.com.br/noticia/internacional>). Adaptado)

A notícia faz referência à renúncia do Primeiro Ministro

- (A) do Reino Unido.
- (B) de Portugal.
- (C) da Itália.
- (D) da Bélgica.
- (E) da França.

35. O Conselho de Direitos Humanos da Organização das Nações Unidas (ONU) promove hoje [28.02.2012] reunião de emergência em Genebra, na Suíça, para discutir o agravamento da onda de violência no país. A expectativa, segundo diplomatas que acompanham o assunto, é aprovar proposta para impor um corredor humanitário na região, destinado a ajudar as vítimas dos confrontos.

Ontem [27.02.2012], os líderes dos países árabes e da Turquia apresentaram uma proposta de resolução, recomendando a condenação da repressão por parte do governo do presidente, Bashar Al Assad.

(<http://www.jb.com.br/internacional/noticias/2012/02/28/onu-faz-reuniao-de-emergencia-para-discutir-crise/>). Adaptado)

O país a que se refere a notícia é

- (A) a Tunísia.
- (B) a Síria.
- (C) a Jordânia.
- (D) o Afeganistão.
- (E) o Iraque.

36. Nesta sexta [16.12.2011], começou a valer o decreto do governo federal que aumentou em 30 pontos percentuais o IPI para carros importados.

(<http://g1.globo.com/economia/noticia/2011/12/justica-federal-isenta-montadora-de-veiculos-de-alta-do-ipi.html>). Adaptado)

As alíquotas do IPI sem reajuste só valem para veículos fabricados no Brasil e procedentes

- (A) da China e do Japão.
- (B) da União Europeia e da China.
- (C) dos Estados Unidos e do Japão.
- (D) do Mercosul e do México.
- (E) da Coreia do Sul e da Argentina.

37. O ministro da Fazenda, Guido Mantega, afirmou hoje [08.02.2012] que o interesse de vários grupos nos leilões de privatização dessa infraestrutura demonstrou o desejo das empresas de realizar investimentos no País. Segundo ele, o resultado do leilão foi muito positivo, mas afirmou que o governo não pensa, neste momento, em fazer novas concessões.

(http://www.istoedinheiro.com.br/noticias/77857_MANTEGA+LEILAO+CONFIRMA+INTERESSE+NO+PAIS. Adaptado)

A notícia refere-se aos leilões

- (A) dos aeroportos de Cumbica, Viracopos e Brasília.
- (B) das rodovias Fernão Dias e Regis Bittencourt.
- (C) dos portos de Santos e São Sebastião.
- (D) dos aeroportos de Salvador, Congonhas e Tom Jobim.
- (E) dos portos de Belém, Recife e Rio Grande.

38. Em visita oficial ao país [30 e 31.01.2012], a presidente Dilma Rousseff afirmou que não é possível fazer da política de direitos humanos apenas uma arma de combate político ideológico contra alguns países. “Quem atira a primeira pedra tem telhado de vidro”, afirmou a petista. Ela disse que desrespeitos aos direitos humanos ocorrem em todas as nações, inclusive no Brasil, e citou como exemplo as violações denunciadas na base americana de Guantánamo.

A presidente disse ainda que sua visita tem como principal objetivo impulsionar as relações econômicas e a cooperação entre Brasil e o país.

(<http://www.estadao.com.br/noticias/nacional,dilma-diz-que-direitos-humanos-nao-podem-ser-arma-ideologica,829549,0.htm>. Adaptado)

O país visitado pela presidente foi

- (A) o Peru.
- (B) a Argentina.
- (C) o Chile.
- (D) a Venezuela.
- (E) Cuba.

39. Em comemoração ao centenário de nascimento de Jorge Amado, uma rede de televisão produzirá uma minissérie que já foi novela na década de 1970. A nova minissérie terá como tema o romance

- (A) Dona Flor e seus dois maridos.
- (B) Fogo Morto.
- (C) Selva de pedra.
- (D) Gabriela, cravo e canela.
- (E) Capitães da areia.

40. Sobre o Código Florestal em tramitação, em Brasília, são feitas as afirmações:

- I. Uma das principais críticas ao Código é o fato de ele legislar apenas sobre a região amazônica, não sendo aplicável ao resto do país.
- II. O Código Florestal tem sido muito criticado pelos ecologistas.
- III. O Código modifica o uso das APPs (Áreas de Preservação Permanente) diminuindo a faixa de mata na beira de rios de 30 para 15 metros.

Está correto apenas o que se afirma em

- (A) I.
- (B) II.
- (C) I e II.
- (D) I e III.
- (E) II e III.

NOÇÕES DE INFORMÁTICA

Observe a janela de um computador com MS-Windows 7, instalado na sua configuração padrão, exibida parcialmente na figura, e responda às questões de números 41 e 42.



41. Sabendo que as unidades de DVD e CD estão sem disco, assinale a alternativa correta, baseando-se nos arquivos exibidos na figura.

Nome	Data de m...	Tipo	Tamanho
LaunchU3	23/10/200...	Aplicativo	1.805 MB
Office2010.86	22/01/201...	Arquivo d...	658.784 KB
smplayer	11/09/201...	Aplicativo	14.492 KB

- (A) O arquivo LaunchU3 cabe no disco removível.
- (B) O arquivo smplayer não cabe no disco rígido.
- (C) O arquivo Office2010.86 cabe tanto no disco rígido quanto no disco removível.
- (D) O arquivo Office2010.86 é maior que a memória apresentada no lado inferior da tela.
- (E) O arquivo LaunchU3 pode ser gravado no disco removível porque, se não couber, automaticamente uma parte será gravada no disco rígido.

42. Assinale a alternativa que contém a biblioteca sem subpastas.
- (A) Vídeos.
 - (B) Música.
 - (C) Imagens.
 - (D) Documentos Públicos.
 - (E) Documentos.

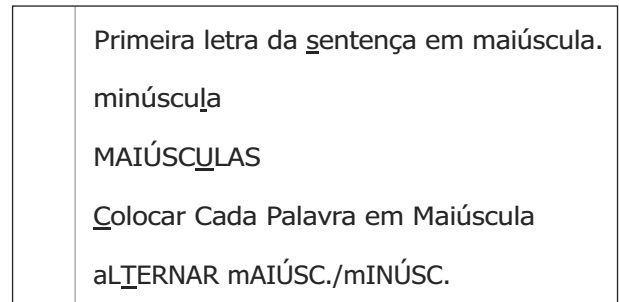
43. Observe as opções do menu Todos os Programas, do MS-Windows 7, na sua configuração padrão:



Assinale a alternativa que possui a opção de se criar um disco de reparação do sistema.

- (A) Acessórios.
- (B) Manutenção.
- (C) Painel de Controle.
- (D) Programas Padrão.
- (E) Inicializar.

44. Os recursos da figura pertencem a um botão do grupo Fonte, da guia Página Inicial, do MS-Word 2010, em sua configuração original.



Assinale a alternativa que possui o referido botão.

- (A)
- (B)
- (C)
- (D)
- (E)

45. Para inserir legenda em um documento do MS-Word 2010, é necessário clicar na respectiva opção existente no menu:

- (A) Página Inicial.
- (B) Inserir.
- (C) Exibição.
- (D) Revisão.
- (E) Referências.

46. Observe o texto na célula A3, digitado na planilha do MS-Excel 2010, em sua configuração original, exibida na figura.

	A	Q	R	S	T	U	V	W	X	Y	Z
1	Provas de Fevereiro/2012										
2	Vários Locais e Provas										
3	Planejamento 10 Questões										
4											

Para que o texto digitado na linha 3, Planejamento 10 Questões, fique centralizado nas colunas de A até Z, foi utilizado o seguinte botão:

- (A)
- (B)
- (C)
- (D)
- (E)

47. Observe a planilha do MS-Excel 2010, em sua configuração original, apresentada na figura. Note que existe uma formatação condicional aplicada nas células C1 até C5.

	C	D	E
1	550		
2	750		
3	620		
4	700		
5	900		
6			

Assinale a alternativa que apresenta o resultado correto da fórmula a ser digitada na célula C6:

=SE(CONT.SE(C1:C5;">620")=4;SOMA(C3:C5);MÉDIA(C2;C4))

- (A) 690
 (B) 725
 (C) 1450
 (D) 2220
 (E) #NOME?

48. Observe a figura.



Os botões de ação do MS-PowerPoint 2010, apresentados na figura, são encontrados no menu Inserir, grupo Ilustrações, opção

- (A) SmartArt.
 (B) Imagem.
 (C) Clip-art.
 (D) Formas.
 (E) Objeto.

49. Considere as figuras a seguir.








figura I

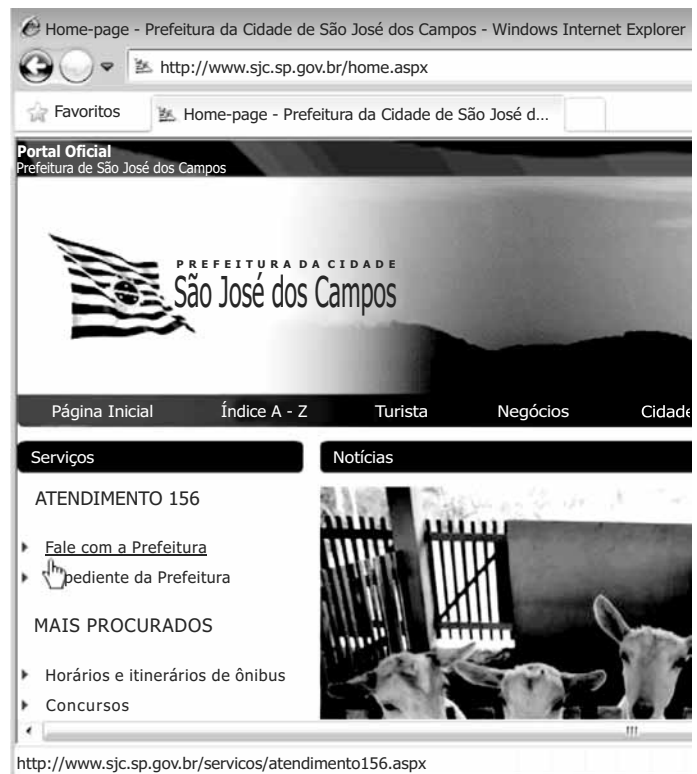


figura II

No MS-PowerPoint 2010, na sua configuração padrão, o botão do grupo Girar, guia Formatar, que foi utilizado para organizar os clip-arts da figura I, como exibido na figura II, foi:

- (A) .
 (B) .
 (C) .
 (D) .
 (E) .

50. Observe a configuração de página do Windows Internet Explorer 8 apresentada na figura.



O link indicado aponta para URL da alternativa

- (A) Fale com a Prefeitura
 (B) <http://www.sjc.sp.gov.br/home.aspx>
 (C) <http://www.sjc.sp.gov.br/servicos/atendimento156.aspx>
 (D) Prefeitura da Cidade São José dos Campos
 (E) Home-page – Prefeitura da Cidade de São José dos Campos – Windows Internet Explorer

