



# **Prefeitura de SOROCABA**

CONCURSO PÚBLICO

## **026. PROVA OBJETIVA**

ENGENHEIRO SANITARISTA I – PMS

- ♦ Você recebeu sua folha de respostas e este caderno contendo 60 questões objetivas.
- ♦ Confira seu nome e número de inscrição impressos na capa deste caderno.
- ♦ Leia cuidadosamente as questões e escolha a resposta que você considera correta.
- ♦ Responda a todas as questões.
- ♦ Marque, na folha intermediária de respostas, localizada no verso desta página, a letra correspondente à alternativa que você escolheu.
- ♦ Transcreva para a folha de respostas, com caneta de tinta azul ou preta, todas as respostas anotadas na folha intermediária de respostas.
- ♦ A duração da prova é de 4 horas.
- ♦ A saída do candidato da sala será permitida após transcorrida a metade do tempo de duração da prova.
- ♦ Ao sair, você entregará ao fiscal a folha de respostas e este caderno, podendo destacar esta capa para futura conferência com o gabarito a ser divulgado.

**AGUARDE A ORDEM DO FISCAL PARA ABRIR ESTE CADERNO DE QUESTÕES.**



# Prefeitura de **SOROCABA**

## FOLHA INTERMEDIÁRIA DE RESPOSTAS

QUESTÃO	RESPOSTA				
01	A	B	C	D	E
02	A	B	C	D	E
03	A	B	C	D	E
04	A	B	C	D	E
05	A	B	C	D	E

06	A	B	C	D	E
07	A	B	C	D	E
08	A	B	C	D	E
09	A	B	C	D	E
10	A	B	C	D	E

11	A	B	C	D	E
12	A	B	C	D	E
13	A	B	C	D	E
14	A	B	C	D	E
15	A	B	C	D	E

16	A	B	C	D	E
17	A	B	C	D	E
18	A	B	C	D	E
19	A	B	C	D	E
20	A	B	C	D	E

QUESTÃO	RESPOSTA				
21	A	B	C	D	E
22	A	B	C	D	E
23	A	B	C	D	E
24	A	B	C	D	E
25	A	B	C	D	E

26	A	B	C	D	E
27	A	B	C	D	E
28	A	B	C	D	E
29	A	B	C	D	E
30	A	B	C	D	E

31	A	B	C	D	E
32	A	B	C	D	E
33	A	B	C	D	E
34	A	B	C	D	E
35	A	B	C	D	E

36	A	B	C	D	E
37	A	B	C	D	E
38	A	B	C	D	E
39	A	B	C	D	E
40	A	B	C	D	E

QUESTÃO	RESPOSTA				
41	A	B	C	D	E
42	A	B	C	D	E
43	A	B	C	D	E
44	A	B	C	D	E
45	A	B	C	D	E

46	A	B	C	D	E
47	A	B	C	D	E
48	A	B	C	D	E
49	A	B	C	D	E
50	A	B	C	D	E

51	A	B	C	D	E
52	A	B	C	D	E
53	A	B	C	D	E
54	A	B	C	D	E
55	A	B	C	D	E

56	A	B	C	D	E
57	A	B	C	D	E
58	A	B	C	D	E
59	A	B	C	D	E
60	A	B	C	D	E

01. Leia a charge.



(www.lutecartunista.com.br. Adaptado)

É correto afirmar que

- (A) a fala do primeiro personagem alude a um fato que prontamente é enaltecido pelo segundo.
- (B) a fala do primeiro personagem mostra-o pessimista em relação às condições econômicas do Brasil face às do Reino Unido.
- (C) a fala do segundo personagem expressa seu descontentamento quanto aos direitos básicos do cidadão.
- (D) as falas de ambos os personagens são coincidentes, sugerindo cautela antes de comemorar a economia nacional.
- (E) as falas de ambos os personagens divergem, e o primeiro sugere que os direitos básicos são desrespeitados.

Leia o texto de Fernando Rodrigues para responder às questões de números 02 a 09.

*O PIBão e os costumes*

BRASÍLIA – A caminho da *Folha*, parei ontem em frente à rodoviária de Brasília. Enquanto o semáforo não abria, vi no carro da frente uma mulher arremessar pela janela a embalagem amassada de uma bala ou barra de chocolate. No rádio, o locutor martelava com ufanismo que o Brasil termina este ano como a 6.<sup>a</sup> maior economia do mundo.

É chato ser estraga-prazeres quando há uma notícia boa, mas jornalistas somos assim mesmo. O menor problema do Brasil é se sua economia passará a do Reino Unido, como a mídia britânica noticiou. Um defeito grave por aqui continua sendo a falta de valores civilizatórios – e nenhum sinal de melhora desse cenário no médio prazo.

Basta refletir a respeito da situação descrita: apesar do “PIBão”, há hoje menos pessoas jogando papel na rua do que havia nos anos 90?

Segundo o vaticínio do ministro da Fazenda, só daqui a 10 ou 20 anos o brasileiro terá o mesmo padrão de vida do europeu. E quanto tempo passará até as pessoas se tornarem mais educadas e civilizadas em público?

Na sua tradicional edição especial dupla de final de ano, a revista britânica “The Economist” traz uma reportagem longa sobre o Brasil. Título: “The servant problem”. Em tradução livre, “o problema das empregadas”. Trata da dificuldade atual da elite brasileira para encontrar uma funcionária que tire os pratos da mesa, lave a louça e as roupas.

“Na virada do século 21, o Brasil tem grandes similaridades com o Reino Unido de 1880”, escreve a revista. Aqui, como lá há 130 anos, a elite reage e fica mal-humorada.

O Brasil, aponta a “Economist”, tem mansões sem água quente na pia da cozinha, mas alguns paulistanos usam helicópteros e não possuem máquina de lavar louça.

Pelo *slogan* da presidência, “país rico é país sem pobreza”. Rico o Brasil até já é. Faltam valores e bom costumes. E não apenas para quem é pobre.

(Folha de S.Paulo, 28.12.2011. Adaptado)

02. O objetivo do texto é discutir qual

- (A) país tem de fato uma melhor economia e uma população mais civilizada e sintonizada com a vida em coletividade.
- (B) a importância do avanço econômico do Brasil, se ainda há muito a se alcançar em valores e bons costumes.
- (C) problema o Brasil conseguirá enfrentar primeiro, já que sua economia já conseguiu superar a do Reino Unido.
- (D) a possibilidade de o Brasil tornar-se rico e superar o padrão de civilização de nações europeias.
- (E) a relevância de atitudes civilizadas, uma vez que o Brasil já é um país rico e autossuficiente.

03. O substantivo “PIBão” está empregado no título e no texto com sentido

- (A) ambíguo.
- (B) ufanista.
- (C) carinhoso.
- (D) irônico.
- (E) recriminatório.

04. Uma resposta coerente para a pergunta do jornalista – ... apesar do “PIBão”, há hoje menos pessoas jogando papel na rua do que havia nos anos 90? –, em função do ponto de vista que adota, é:

- (A) Não, o aumento do PIB reforça ainda mais o mau comportamento do brasileiro, como mostra a atitude da motorista de Brasília.
- (B) Sim, o aumento do PIB refinou o já reconhecido comportamento civilizado do povo brasileiro.
- (C) Não, pois, como se vê no Reino Unido e também aqui no Brasil, não há relação entre economia e civilidade.
- (D) Sim, pois a civilidade, que era comum na Europa, em países como o Reino Unido, já é uma realidade no Brasil.
- (E) Não, a atitude da motorista de Brasília ratifica que o aumento do PIB não implicou atitudes mais civilizadas.

05. No trecho – No rádio, o locutor **martelava** com ufanismo que... – a forma verbal em destaque está empregada em sentido

- (A) figurado, significando “insistia”.
- (B) próprio, significando “forçava”.
- (C) figurado, significando “agredia”.
- (D) próprio, significando “teimava”.
- (E) figurado, significando “questionava”.

Considere o trecho a seguir para responder às questões de números 06 e 07.

O Brasil, aponta a “Economist”, tem mansões sem água quente na pia da cozinha, mas alguns paulistanos usam helicópteros e não possuem máquina de lavar louça.

06. Atendo-se às regras de pontuação e de concordância da norma-padrão da língua portuguesa, o trecho está corretamente reescrito em:

- (A) A “Economist”, aponta que no Brasil, existem mansões sem água quente na pia da cozinha, mas alguns paulistanos usam helicópteros e não tem máquina de lavar louça.
- (B) A “Economist” aponta, que no Brasil, existe mansões sem água quente na pia da cozinha, mas alguns paulistanos usam helicópteros e não têm máquina de lavar louça.
- (C) A “Economist” aponta que, no Brasil, há mansões sem água quente na pia da cozinha, mas alguns paulistanos usam helicópteros e não têm máquina de lavar louça.
- (D) A “Economist” aponta que, no Brasil se vê mansões sem água quente na pia da cozinha, mas alguns paulistanos usam helicópteros e não tem máquina de lavar louça.
- (E) A “Economist”, aponta que no Brasil se veem mansões sem água quente na pia da cozinha, mas alguns paulistanos usam helicópteros e não tem máquina de lavar louça.

07. Observando o sentido que se estabelece entre as orações do trecho em função do emprego da conjunção “mas”, é correto reescrevê-lo da seguinte forma:

- (A) Segundo a “Economist”, caso Brasil tenha mansões sem água quente na pia da cozinha, alguns paulistanos usam helicópteros e não possuem máquina de lavar louça.
- (B) Segundo a “Economist”, apesar de o Brasil ter mansões sem água quente na pia da cozinha, alguns paulistanos usam helicópteros e não possuem máquina de lavar louça.
- (C) Segundo a “Economist”, quanto mais o Brasil tem mansões sem água quente na pia da cozinha, mais alguns paulistanos usam helicópteros e não possuem máquina de lavar louça.
- (D) Segundo a “Economist”, o Brasil não só tem mansões sem água quente na pia da cozinha, como também alguns paulistanos usam helicópteros e não possuem máquina de lavar louça.
- (E) Segundo a “Economist”, para o Brasil ter mansões sem água quente na pia da cozinha, alguns paulistanos usam helicópteros e não possuem máquina de lavar louça.

08. Analise as afirmações.

- I. Na oração – ... parei **ontem** em frente à rodoviária de Brasília. – (1.º parágrafo), o advérbio em destaque é indicativo de tempo passado.
- II. Na oração – ... o Brasil termina este ano como a 6.ª maior economia **do mundo**. – (1.º parágrafo), a expressão em destaque está empregada com valor adverbial, indicativa de lugar.
- III. Na oração – Um defeito grave por **aqui** continua sendo a falta de valores civilizatórios... – (2.º parágrafo), o advérbio em destaque refere-se à cidade de Brasília.

Está correto o que se afirma em

- (A) I, apenas.
- (B) II, apenas.
- (C) I e III, apenas.
- (D) II e III, apenas.
- (E) I, II e III.

09. Assinale a alternativa correta quanto à regência, de acordo com a norma-padrão.

- (A) O locutor estava certo que o Brasil terminaria o ano como a 6.ª economia do mundo.
- (B) O Brasil chega no fim de 2011 como a 6.ª economia mundial.
- (C) A mídia britânica noticiou de que a economia brasileira superou a de seu país.
- (D) Quanto tempo passará para as pessoas conquistarem ao padrão de civilidade ideal?
- (E) A revista “The Economist” alude ao fato de ser difícil encontrar empregada no Brasil.

10. Leia o texto a seguir.

Ao superar os britânicos, a economia brasileira está no meio do caminho, \_\_\_\_\_ frente também da Itália, superada em 2010, e já colada na da França.

De acordo com o diretor executivo do Centro para Pesquisa Econômica e Negócios (CEBR), Douglas McWilliams, as causas do declínio são evidentes: a crise da Europa, somada ao alto endividamento no bloco e \_\_\_\_\_ necessidade premente de reduzir déficits e dívidas, leva \_\_\_\_\_ políticas de austeridade que desaceleram o crescimento e precipitam a ascensão dos grandes emergentes. “O Brasil tem batido os países europeus no futebol há muito tempo, mas ultrapassá-los no campo da economia é um fenômeno novo”, disse McWilliams ao *Guardian*.

(www.estadao.com.br, 27.12.2011)

As lacunas do texto devem ser preenchidas, correta e respectivamente, com

- (A) a ... a ... a
- (B) à ... à ... à
- (C) a ... a ... à
- (D) à ... à ... a
- (E) à ... a ... à

## MATEMÁTICA

11. Na administração de seu salário, Marlene destina  $\frac{1}{4}$  à alienação,  $\frac{2}{5}$  ao aluguel e ainda reserva  $\frac{5}{8}$  do restante para depositar na caderneta de poupança, o que corresponde a R\$ 1.400,00.

O valor que Marlene destina ao aluguel é de

- (A) R\$ 1.680,00.  
 (B) R\$ 1.750,00.  
 (C) R\$ 2.140,00.  
 (D) R\$ 2.560,00.  
 (E) R\$ 2.750,00.
12. Um farmacêutico homeopata dispõe de 8 litros de um remédio, obtido de uma mistura em quantidades iguais de água destilada e de uma determinada substância em estado líquido. Para diluir esse remédio e obter uma mistura com 80% de água destilada e 20% da substância, ele deve acrescentar a seguinte quantidade de água destilada:
- (A) 8 litros.  
 (B) 9,5 litros.  
 (C) 12 litros.  
 (D) 16 litros.  
 (E) 18,5 litros.
13. A tabela indica as funções existentes em uma firma, os respectivos salários mensais e o número de funcionários em cada função.

FUNÇÃO	SALÁRIO (R\$)	NÚMERO DE FUNCIONÁRIOS
DIRETOR	8.000,00	1
CHEFE DE SETOR	2.500,00	4
OPERADOR	X	15

Sabe-se que o salário médio desses funcionários é de R\$ 1.650,00. Assim, é correto concluir que o salário X de cada operador é

- (A) R\$ 950,00.  
 (B) R\$ 1.000,00.  
 (C) R\$ 1.150,00.  
 (D) R\$ 1.200,00.  
 (E) R\$ 1.250,00.

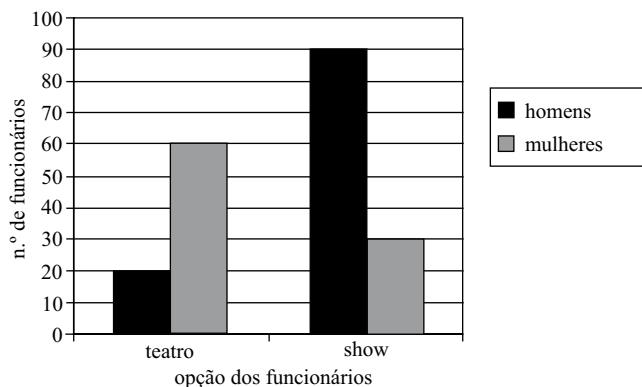
14. Uma construtora executa um determinado tipo de tarefa em 20 dias, utilizando 24 empregados, todos trabalhando 10 horas por dia e com o mesmo ritmo de produção. Para evitar pagamentos de horas extras, os empregados dessa construtora passarão a trabalhar apenas 8 horas por dia. Como os donos da firma pretendem que esse tipo de tarefa seja executada no mesmo número de dias, será necessária a contratação de mais funcionários. Assim, admitindo-se que os novos contratados mantenham o mesmo ritmo dos funcionários antigos, será necessária a contratação de mais

- (A) 6 funcionários.  
 (B) 9 funcionários.  
 (C) 12 funcionários.  
 (D) 15 funcionários.  
 (E) 5 funcionários.

15. Paulo fez hoje um empréstimo de R\$ 20.000,00 em um banco. Paulo deverá pagar esse empréstimo em prestações mensais e iguais a R\$ 3.300,00 cada, com a primeira parcela a vencer em 30 dias. O banco vai cobrar uma taxa mensal de 4%, sob o regime de juro simples. Nesse caso, Paulo terminará de pagar essa dívida daqui a

- (A) 12 meses.  
 (B) 10 meses.  
 (C) 9 meses.  
 (D) 8 meses.  
 (E) 7 meses.

16. O diretor de uma firma presenteou seus funcionários com um ingresso para assistir a uma peça de teatro ou para assistir a um *show* musical. Cada funcionário ganhou apenas um ingresso. O gráfico a seguir indica as escolhas dos 200 funcionários, discriminados por sexo.



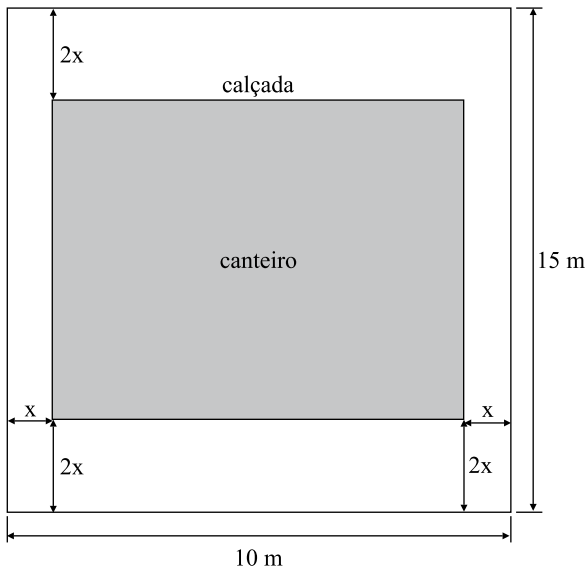
A respeito dos dados desse gráfico, analise as afirmações:

- I. 40% do total de funcionários optaram por teatro;  
 II. 55% do total de funcionários são homens;  
 III. 25% dos que escolheram teatro são homens.

Está correto o contido em

- (A) I, apenas.  
 (B) II, apenas.  
 (C) I e II, apenas.  
 (D) I e III, apenas.  
 (E) I, II e III.

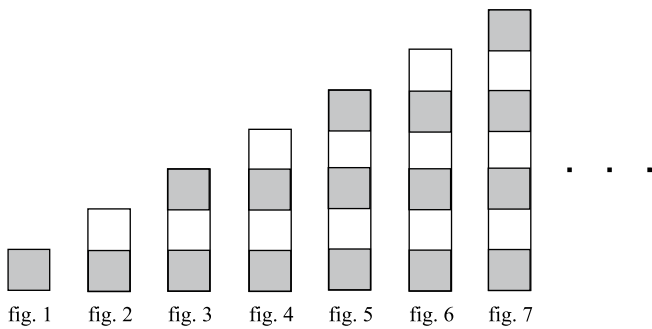
17. A figura a seguir representa um canteiro retangular e a calçada em seu entorno, que serão construídos em um terreno também retangular de dimensões iguais a 10 m e 15 m.



Sabendo-se que a área da calçada em torno do canteiro será igual a  $87 \text{ m}^2$ , uma equação que permite determinar a medida  $x$  é

- (A)  $8x^2 - 70x + 87 = 0$ .  
 (B)  $8x^2 + 16x - 64 = 0$ .  
 (C)  $8x^2 - 87x - 63 = 0$ .  
 (D)  $2x^2 - 63x + 87 = 0$ .  
 (E)  $2x^2 - 87x + 63 = 0$ .

18. Considere a sequência de figuras a seguir:



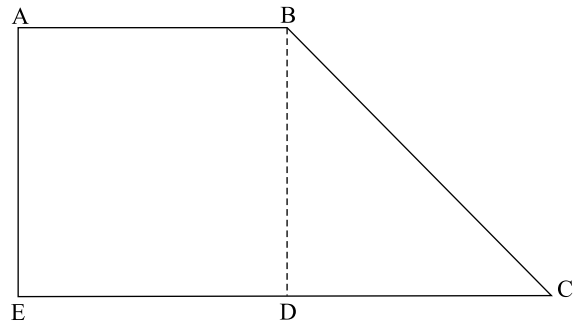
Supondo-se que o padrão de regularidade observado na formação dessa sequência permaneça o mesmo, pode-se concluir que as figuras que contêm 36 quadrinhos claros são as de números

- (A) 74 e 75.  
 (B) 72 e 73.  
 (C) 71 e 72.  
 (D) 36 e 37.  
 (E) 35 e 36.

19. Dois números naturais são tais que dividindo-se o maior pelo menor obtém-se quociente 3 e resto 8. Se a soma desses números é 116, subtraindo-se o menor do maior obtém-se

- (A) 170.  
 (B) 110.  
 (C) 95.  
 (D) 84.  
 (E) 62.

20. Na figura, os segmentos BD e DC têm a mesma medida, e o quadrado ABDE tem área de  $49 \text{ cm}^2$ .



**Dado:** considere  $\sqrt{2} \cong 1,4$

Nesse caso, o perímetro do trapézio ABCE é igual a

- (A) 28,4 cm.  
 (B) 37,0 cm.  
 (C) 37,8 cm.  
 (D) 40,5 cm.  
 (E) 42,4 cm.

R A S C U N H O

## ATUALIDADES

21. A chamada Primavera Árabe teve início com uma grande revolta popular na Tunísia. Como resultado desse movimento, em janeiro de 2011, o ditador Ben Ali, que governava o país há mais de 20 anos,

- (A) foi capturado e preso pelas forças da OTAN.
- (B) foi assassinado por rebeldes populares.
- (C) entregou o poder ao sucessor indicado pelo Congresso Árabe.
- (D) renunciou à presidência e deixou o país.
- (E) promoveu eleições livres e diretas para Presidente.

22. Quatro bueiros explodiram na Rua da Assembleia, no centro da cidade, e deixaram, pelo menos, duas pessoas feridas. O município registra, só neste ano, pelo menos nove ocorrências envolvendo bueiros da Light, das quais seis foram explosões.

(noticias.bol.uol.com.br/brasil/2011, 05.07.2011. Adaptado)

A notícia refere-se à cidade

- (A) do Rio de Janeiro.
- (B) de Florianópolis.
- (C) de Salvador.
- (D) de Curitiba.
- (E) de Belo Horizonte.

23. O país anunciou [em 12.12.2011] que vai abandonar o protocolo de Kyoto, poucas horas depois da conclusão da cúpula sobre a mudança climática de Durban, para não pagar as multas relacionadas ao descumprimento da redução de emissões poluentes. Com a decisão, o país se torna o primeiro a abandonar o tratado depois de sua ratificação. O ministro do Meio Ambiente justificou a decisão porque o país não cumprirá, em 2012, com a redução de emissões estipulada no tratado, de 6% abaixo das de 1990.

(noticias.uol.com.br/ultnot/cienciaesauade, 14.12.2011. Adaptado)

O país ao qual a notícia se refere é a(o)

- (A) França.
- (B) Canadá.
- (C) Inglaterra.
- (D) Itália.
- (E) Alemanha.

24. Os países do BRICS mostram força e se unem para rejeitar a proposta das economias ricas. Em Genebra, na reunião ministerial da Organização Mundial do Comércio (OMC), Brasil, Rússia, Índia, China e África do Sul declararam que querem manter o direito de adotar medidas para desenvolver suas políticas industriais, num claro sinal do impacto da crise mundial na mudança radical do comportamento dos governos.

(economia.estadao.com.br, 12.12.2011. Adaptado)

Um dos itens que compõem a proposta das economias ricas rejeitada pelos BRICS refere-se

- (A) à redução da exportação de matérias-primas.
- (B) ao monopólio de exploração do petróleo.
- (C) à isenção de impostos para produtos agrícolas.
- (D) ao aumento de investimentos na área social.
- (E) ao congelamento das tarifas de importação.

25. A presidente Dilma Rousseff sancionou a lei que proíbe o fumo em locais fechados em todo o país, sejam eles públicos ou privados.

(g1.globo.com/politica/noticia/, 15.12.2011)

Dentre outras medidas, a nova lei prevê a

- (A) possibilidade de empresas tabagistas patrocinarem eventos culturais.
- (B) existência de fumódromos autorizados pelo Ministério da Saúde.
- (C) diminuição progressiva da carga tributária para o fumo.
- (D) ampliação das restrições já existentes à propaganda do produto.
- (E) proibição gradativa à produção e à comercialização do cigarro.

## NOÇÕES DE INFORMÁTICA

26. Assinale a alternativa que contém apenas nomes de ícones do painel de controle do MS Windows 7, em sua configuração padrão.

- (A) Rede e Internet; Programas; Bloco de Notas.
- (B) Hardware e Sons; Facilidades de Acesso; Sistema e Segurança.
- (C) Paint; Wordpad; Relógio, Idioma e Região.
- (D) Hardware e Sons; Barra de Tarefas; Calculadora.
- (E) Programas; Office; Guias.

## CONHECIMENTOS ESPECÍFICOS

27. Assinale a alternativa que indica uma opção para adicionar legenda numa ilustração em um documento do MS Word 2010, em sua configuração padrão.
- (A) Na guia Arquivo, no grupo Objetos, escolher a opção Inserir Legenda.
  - (B) Na guia Inserir, no grupo Legendas, escolher a opção Inserir Legenda.
  - (C) Na guia Referências, no grupo Legendas, escolher a opção Inserir Legenda.
  - (D) Na guia Referências, no grupo Objetos, escolher a opção Inserir Legenda.
  - (E) Na guia Inserir, no grupo Objeto, escolher a opção Inserir Legenda.
28. Assinale a alternativa correta em relação ao MS Excel 2010, em sua configuração padrão.
- (A) É possível importar dados de fontes externas no MS Excel 2010.
  - (B) O MS Excel 2010 é um software exclusivo para trabalhar com gráficos.
  - (C) Apenas o tipo de fonte e o tamanho da fonte podem ser alterados na guia Formatar.
  - (D) No MS Excel 2010, podem existir, no máximo, 65 010 linhas em uma planilha.
  - (E) O MS Excel 2010 não suporta o recurso de macro.
29. Escolha a opção que indica o caminho utilizado para adicionar um vídeo em uma apresentação do MS PowerPoint 2010, em sua configuração padrão.
- (A) Guia Inserir, grupo Objeto, opção Filme, e escolher a opção desejada.
  - (B) Guia Filme, grupo Vídeos, opção Inserir Filme, e escolher a opção desejada.
  - (C) Guia Arquivo, grupo Objeto, opção Filme, e escolher a opção desejada.
  - (D) Guia Arquivo, grupo Filme, opção Inserir Filme, e escolher a opção desejada.
  - (E) Guia Inserir, grupo Clipes de Mídia, opção Filme, e escolher a opção desejada.
30. Analise as afirmações a seguir.
- I. [www.facebook.com](http://www.facebook.com) é um endereço de um site de Internet.
  - II. Google Chrome é um software que permite navegar na Internet.
  - III. No Windows, um software cliente de e-mail permite que um e-mail que está sendo escrito possa ser salvo como Rascunho para envio posterior.
  - IV. Lista de Discussão é usada principalmente para armazenar listas de URL usadas com maior frequência.
- Está correto apenas o que se afirma em
- (A) I.
  - (B) I e III.
  - (C) II e III.
  - (D) I, II e III.
  - (E) I, II e IV.
31. A Lei Federal n.º 8.080, de 1990, regula as ações e serviços de saúde executados isolada ou conjuntamente, em caráter permanente ou eventual, em todo território nacional e afirma que
- (A) a saúde é um direito do ser humano e um dever do Estado, excluindo esse dever das pessoas, da família, das empresas e da sociedade.
  - (B) a iniciativa privada não poderá participar do Sistema Único de Saúde (SUS), mesmo quando em caráter complementar.
  - (C) a epidemiologia é uma ferramenta para o estabelecimento de prioridades, a alocação de recursos e a orientação programática.
  - (D) os municípios não poderão constituir consórcios para desenvolver as ações e os serviços de saúde, sendo essa prerrogativa dos Estados e do Distrito Federal.
  - (E) as comissões intersetoriais subordinadas ao Conselho Nacional de Saúde (CNS) serão criadas com integrantes dos órgãos públicos de saúde dos níveis Federal e Estadual.
32. A Conferência de Saúde conta com a representação dos vários segmentos sociais, para avaliar a situação de saúde e propor as diretrizes para a formulação da política de saúde nos níveis correspondentes.
- Esse evento ocorre a cada
- (A) 2 anos.
  - (B) 4 anos.
  - (C) 6 anos.
  - (D) 8 anos.
  - (E) 10 anos.
33. É de competência da autoridade sanitária a realização de coleta de amostras de insumos, matérias-primas, aditivos, coadjuvantes, recipientes, equipamentos, utensílios, embalagens, substâncias e produtos de interesse à saúde para efeito de análise fiscal, sempre que houver suspeita de risco à saúde.
- Sobre essa afirmação, assinale a alternativa correta.
- (A) A coleta de amostras pode ser realizada mesmo na ausência da lavratura do termo de colheita e do termo de interdição.
  - (B) Se a natureza ou quantidade não permitir a coleta da amostra em triplicatas, deverá ser buscada outra forma de garantir o número adequado de amostras.
  - (C) O laudo analítico, quando condenatório, deverá ser considerado definitivo se não for apresentada defesa pelo responsável no prazo de 5 (cinco) dias corridos.
  - (D) As amostras coletadas devem ser acondicionadas em invólucros invioláveis e conservados adequadamente de forma a garantir sua autenticidade e características originais.
  - (E) Quando a análise fiscal concluir pela condenação das amostras coletadas, a autoridade sanitária deverá notificar o responsável para que faça os laudos analíticos, comprovando ou não os resultados iniciais.



34. Entende-se por “Inspeção Sanitária” todo procedimento realizado pela autoridade de vigilância sanitária competente, que busca levantar e avaliar *in loco* os riscos à saúde da população presentes na produção e circulação de mercadorias, na prestação de serviços e na intervenção sobre o meio ambiente.
- Assim, é correto afirmar que
- (A) nas inspeções sanitárias, a autoridade sanitária deve utilizar “Roteiros de Inspeções Sanitárias”, que correspondem a instrumentos técnicos publicados pelos órgãos de vigilância sanitária, a fim de orientar as ações.
  - (B) após a realização do procedimento de inspeção sanitária, a equipe técnica responsável por sua execução deve elaborar um Laudo Técnico de Inspeção, quando se fizer necessário (LTI).
  - (C) caso o escritório administrativo da empresa esteja instalado em outra unidade federada, o órgão de vigilância sanitária do local de funcionamento deve solicitar autorização ao órgão sanitário do local onde funciona a parte administrativa, para que possa proceder à avaliação sanitária.
  - (D) o órgão de vigilância sanitária competente deve iniciar as inspeções sanitárias no prazo máximo de cento e vinte dias da solicitação inicial de cadastramento, pelo responsável, de acordo com o Decreto Estadual n.º 44.954/00.
  - (E) o deferimento da solicitação do cadastramento possibilita ao responsável a obtenção da Licença de Funcionamento, que passa a vigorar no ano seguinte ao do deferimento pela autoridade sanitária.
35. Referente à Resolução CONAMA n.º 358, de 2005, assinale a alternativa correta.
- (A) Agente de classe de risco 1 (elevado risco individual e elevado risco para a comunidade): patógeno que representa grande ameaça para o ser humano e para os animais, representando grande risco a quem o manipula e com grande poder de transmissibilidade de um indivíduo a outro, não existindo medidas preventivas e de tratamento para esses agentes.
  - (B) Nível III de inativação microbiana: inativação de bactérias vegetativas, fungos, vírus lipofílicos e hidrofílicos, parasitas e microbactérias com redução igual ou maior que 6Log10, e Inativação de esporos do *Bacillus stea-thermophilus* ou de esporos do *Bacillus subtilis* com redução igual ou maior que 4Log10.
  - (C) Estação de transferência de resíduos de serviços de saúde: é uma unidade com instalações exclusivas, que não necessita de licença ambiental expedida pelo órgão competente para executar transferência de resíduos gerados nos serviços de saúde, garantindo as características originais de acondicionamento, sem abrir ou transferir conteúdo de uma embalagem para a outra.
  - (D) Sistema de tratamento de resíduos de serviços de saúde: conjunto de unidades, processos e procedimentos que alteram as características biológicas dos resíduos de saúde, visando à minimização do risco à saúde pública, à preservação da qualidade do meio ambiente, à segurança e à saúde do trabalhador por meio da exposição a organismos patogênicos.
  - (E) São denominados resíduos líquidos corpóreos o sangue e a linfa que circulam, respectivamente, nos vasos sanguíneos e nos vasos linfáticos do organismo e, ao serem descartados, devem sofrer redução de carga microbiana antes da destinação final.
36. Os resíduos de saúde devem ser identificados corretamente, de acordo com seu grupo de classificação, segundo a legislação em vigor. Assim, resíduos do grupo
- (A) devem ser identificados pelo símbolo de risco associado e com discriminação da substância química e frases alertando sobre o risco.
  - (B) não necessitam de identificação, correspondendo a resíduos sólidos comuns gerados em domicílios.
  - (C) devem ser identificados pelo símbolo de substância infectante, com rótulos de fundo branco, desenho e contornos pretos.
  - (D) devem ser identificados pelo símbolo internacional de presença de radiação ionizante.
  - (E) devem ser identificados pelo símbolo de substância infectante, com rótulo de fundo branco, desenho e contornos pretos, acrescido da inscrição “resíduo perfurocortante”.
37. A Resolução SS 65, de 2005, estabelece os procedimentos e responsabilidades relativos ao Controle e à Vigilância da Qualidade da Água para Consumo Humano no Estado de São Paulo, observando que
- (A) cabe aos responsáveis pela operação de sistema ou solução alternativa de abastecimento de água apresentar mensalmente à autoridade sanitária municipal de sua localidade o plano de amostragem, da saída do tratamento e da rede de distribuição ou pontos de consumo.
  - (B) a autoridade sanitária estadual, a seu critério e a qualquer tempo, realizará inspeção nos sistemas e nas soluções alternativas de abastecimento de água, de modo a avaliar o potencial de risco para a saúde pública, notificando os responsáveis para sanar as irregularidades.
  - (C) cabe aos responsáveis pelos sistemas e soluções alternativas de abastecimento de água a definição e a apresentação de dados sobre outros parâmetros de qualidade da água, no caso de suspeita ou comprovação de presença de agentes físicos, químicos, biológicos e radioativos na saída do tratamento, na rede de distribuição ou no manancial.
  - (D) a autoridade sanitária municipal deve encaminhar à vigilância epidemiológica do seu município os resultados anômalos dos parâmetros microbiológicos, resultantes das análises de controle e vigilância, e outros resultados que julgar necessário, com os respectivos endereços de ocorrência, para verificação de impactos à saúde, decorrentes da anomalia identificada.
  - (E) a autoridade sanitária municipal deve encaminhar, anualmente, ao responsável pelo Programa de Saúde Bucal do município, dados referentes ao monitoramento dos teores de flúor da água destinada ao consumo humano.

38. No Código Sanitário do Estado de São Paulo, são considerados produtos e substâncias de interesse à saúde:
- I. alimentos, águas minerais e de fontes, bebidas e aditivos;
  - II. medicamentos, drogas, insumos farmacêuticos, perfumes e correlatos;
  - III. cosméticos, perfumes, produtos de higiene;
  - IV. saneantes, domissanitários e agrotóxicos;
  - V. materiais de revestimentos e embalagens de produtos que possam trazer riscos à saúde.

Está correto o contido em

- (A) I, II, III, IV e V.
- (B) I, II, III e IV, apenas.
- (C) I, II e III, apenas.
- (D) II e III, apenas.
- (E) I e II, apenas.

39. A Lei Federal que dispõe sobre o controle sanitário do comércio de drogas, medicamentos, insumos farmacêuticos e correlatos adota os seguintes termos e definições:

TERMOS	DEFINIÇÕES
a. Droga	I. Produto farmacêutico, tecnicamente obtido ou elaborado, com finalidade profilática, curativa, paliativa ou para fins de diagnósticos.
b. Medicamento	II. Substância, produto, aparelho ou acessório, cujo uso ou aplicação esteja ligado à defesa e proteção da saúde individual ou coletiva, à higiene pessoal ou de ambientes, ou afins diagnósticos e analíticos, os cosméticos e perfumes e, ainda, os produtos dietéticos, óticos, de acústica médica, odontológicos e veterinários.
c. Insumo farmacêutico	III. Droga ou matéria-prima aditiva ou complementar de qualquer natureza, destinada ao emprego em medicamentos, quando for o caso, e seus recipientes.
d. Correlato	IV. Estabelecimento que realize dispensação de plantas medicinais.
e. Ervanaria	V. Substância ou matéria-prima que tenha finalidade medicamentosa ou sanitária.

Assinale a alternativa que apresenta os termos com suas corretas definições.

- (A) a-II; b-I; c-V; d-III; e-IV.
- (B) a-I; b-III; c-IV; d-V; e-II.
- (C) a-V; b-I; c-III; d-II; e-IV.
- (D) a-III; b-IV; c-II; d-I; e-V.
- (E) a-III; b-II; c-I; d-IV; e-V.

40. As farmácias e drogarias devem ser localizadas, projetadas, dimensionadas, construídas ou adaptadas com infraestrutura compatível com as atividades a serem desenvolvidas, possuindo, no mínimo, ambientes para atividades administrativas, recebimento e armazenamento dos produtos, dispensação de medicamentos, depósito de material de limpeza e sanitário. Além disso,

- (A) suas instalações devem possuir superfícies internas (piso, paredes e teto) lisas e impermeáveis, em perfeitas condições, resistentes aos agentes sanitizantes e facilmente laváveis.
- (B) devem possuir condições de ventilação e iluminação naturais e compatíveis com as atividades desenvolvidas em cada ambiente.
- (C) as atividades de desratização e desinsetização devem ser executadas por empresa licenciada perante os órgãos competentes para esse fim, e realizadas semanalmente.
- (D) os produtos de limpeza em uso devem ser armazenados em local especificamente designado e identificado para essa finalidade.
- (E) não é necessária a definição de um local específico para guarda dos pertences dos funcionários, mas as salas de descanso e refeitório, quando existentes, devem estar separadas dos demais ambientes.

41. As empresas Controladoras de Vetores e Pragas Urbanas somente poderão utilizar produtos desinfestantes domissanitários com registro junto ao órgão competente do Ministério da Saúde, observada a técnica de aplicação e concentração máxima especificada, atendendo às instruções do fabricante contidas no rótulo e obedecendo à legislação pertinente, sendo que

- (A) somente serão permitidos desinfestantes domissanitários para venda a entidades especializadas em produtos formulados, cuja diluição final de uso apresente dose letal de 50%, por via oral, para ratos brancos machos, superior a 500 mg/kg de peso corpóreo para produtos sob a forma líquida.
- (B) as formas de apresentação dos rodenticidas podem ser: pós de contato; iscas simples, parafinadas ou resinadas, na forma de grânulos, *pellets* ou blocos e formulações líquidas, premidas ou não.
- (C) os desinfestantes domissanitários concentrados deverão ser transferidos de sua embalagem original para frascos próprios da empresa, devidamente identificados, contendo a designação científica, a composição quali e quantitativa do conteúdo, além dos principais efeitos agudos e crônicos à saúde, bem como o nome do fabricante.
- (D) estão proibidos os rodenticidas à base de alfa-naftiltioureia (ANTU), anidrido arsenioso, estriectinina, fosfetos metálicos, fósforo branco, monofluoroacetato (1 080), monofluoroacetamida (1 081), sais de bário e sais de tálio.
- (E) se recomenda que os solventes, propelentes e sinergistas utilizados pelas empresas apresentem substâncias aromatizantes ou outros atrativos associados às iscas rodenticidas.

42. Segundo a Portaria n.º 348, de 1997, da Secretária de Vigilância Sanitária do Ministério da Saúde, que visa ao aperfeiçoamento das ações de controle sanitário na área de produtos de higiene pessoal, cosméticos e perfumes para a proteção da saúde da população, a seguinte definição: ... *exame sistemático e independente para determinar quais atividades ligadas à qualidade devem modificar-se e, se estes ajustes têm sido efetivamente implementados, quer seja efetuada por pessoal interno ou externo...*, refere-se
- (A) ao inventário de especificações.  
 (B) ao controle de qualidade.  
 (C) a instruções de fabricação.  
 (D) ao sistema de qualidade.  
 (E) à auditoria.
43. Visando disciplinar o funcionamento das empresas de Ortopedia Técnica, Confecções de Palmilhas e Calçados Ortopédicos e de Comercialização de Artigos Ortopédicos, instaladas no território nacional, a Resolução da Diretoria Colegiada n.º 192, de 2002, estabelece as categorias técnicas aptas a desenvolver as atividades relacionadas. Assinale a alternativa correta com relação a essas categorias e suas atribuições.
- (A) Protésista - Ortesista: profissional que executa o trabalho de confecção de próteses, desde a tomada (obtenção) das medidas do usuário, elaboração de moldes em gesso, confecção, prova e entrega das próteses ortopédicas.  
 (B) Protésista: profissional que executa o trabalho de confecção de próteses, desde a tomada (obtenção) das medidas do usuário, elaboração de moldes em gesso, confecção, prova e entrega das próteses ortopédicas.  
 (C) Ortesista: profissional que executa o trabalho de confecção de palmilhas e calçados ortopédicos, desde a tomada (obtenção) das medidas do usuário, elaboração de moldes em gesso, confecção, prova e entrega das palmilhas e/ou calçados ortopédicos.  
 (D) Sapateiro Ortopédico: profissional que executa o trabalho de confecção de órteses, desde a tomada (obtenção) de medidas e moldes em gesso, confecção, prova e entrega das órteses ortopédicas.  
 (E) Médico Ortopedista: profissional que avalia e indica correções cirúrgicas com a utilização de próteses e órteses nos membros inferiores e nos membros superiores.
44. Segundo o Regulamento Técnico, que estabelece os Parâmetros e Critérios para o Controle Higiênico-Sanitário em Estabelecimentos de Alimentos, aprovado pela Portaria CVS-6/99, o Responsável Técnico deve ter autoridade e competência para
- I. capacitar os funcionários envolvidos na atividade;  
 II. responsabilizar-se pelos editais de compra de insumos e outros materiais;  
 III. elaborar o Manual de Boas Práticas de Manipulação;  
 IV. contratar e demitir funcionários de acordo com a necessidade;  
 V. recomendar o destino final de produtos.
- Está correto o contido em
- (A) I, III e V, apenas.  
 (B) II, III e IV, apenas.  
 (C) III, IV e V, apenas.  
 (D) I, II, IV e V, apenas.  
 (E) I, II, III, IV e V.
45. O Regulamento Técnico de Boas Práticas para Serviços de Alimentação estabelece as condições para preparação dos alimentos. Sobre esse assunto, assinale a alternativa correta.
- (A) O tratamento térmico deve garantir que todas as partes do alimento atinjam a temperatura de, no mínimo, 50 °C.  
 (B) Os óleos e gorduras utilizados devem ser aquecidos a temperaturas superiores a 180 °C.  
 (C) O descongelamento deve ser efetuado em condições de refrigeração à temperatura superior a 5 °C ou em forno de micro-ondas quando o alimento for submetido imediatamente à cocção.  
 (D) Para conservação a quente, os alimentos devem ser submetidos à temperatura superior a 60 °C por, no máximo, 6 horas.  
 (E) O prazo máximo de consumo do alimento preparado e conservado sob refrigeração à temperatura de 4 °C, ou inferior, deve ser de 15 dias.
46. Os estabelecimentos produtores/industrializadores de alimentos devem desenvolver, implementar e manter Procedimentos Operacionais Padronizados (POP), visando
- I. à higienização das instalações, equipamentos, móveis e utensílios;  
 II. ao controle da potabilidade da água;  
 III. à higiene e saúde dos manipuladores;  
 IV. ao manejo dos resíduos;  
 V. à manutenção preventiva e calibração de equipamentos;  
 VI. ao controle integrado de vetores e pragas urbanas;  
 VII. à seleção das matérias-primas, ingredientes e embalagens;  
 VIII. ao programa de recolhimento de alimentos.
- Está correto o contido em
- (A) II, III, VII e VIII, apenas.  
 (B) I, II, III, VII e VIII, apenas.  
 (C) I, II, III, IV, VII e VIII, apenas.  
 (D) I, II, III, IV, VI, VII e VIII, apenas.  
 (E) I, II, III, IV, V, VI, VII e VIII.
47. O Regulamento Técnico que define normas de funcionamento para as Instituições de Longa Permanência para Idosos, de caráter residencial, aprovada por Resolução de Diretoria Colegiada da ANVISA, em 2005, estabelece o número de funcionários de acordo com a atividade e o número de idosos e seu grau de dependência. Face ao exposto, é correto afirmar que deve haver
- (A) um cuidador para cada 20 idosos, ou fração, com grau de dependência III, com carga horária de 8 horas por dia.  
 (B) para as atividades de lazer, um profissional com formação de nível superior para cada 60 idosos, com carga horária de 6 horas por semana.  
 (C) um cuidador para cada 10 idosos, ou fração, com grau de dependência III, por turno.  
 (D) para serviços de limpeza, um profissional para cada 500 m<sup>2</sup> de área interna ou fração, por turno, diariamente.  
 (E) para o serviço de alimentação, um profissional para cada 40 idosos, garantindo a cobertura de dois turnos de 8 horas.

48. Segundo o Roteiro de Inspeção contido em Resolução Estadual do Estado de São Paulo, durante a inspeção sanitária de estabelecimentos de prótese odontológica, o inspetor deverá observar se a clínica realiza atividades nas áreas de cerâmica, de resina, de metal e de prótese buco maxilar facial, pois os estabelecimentos
- não podem desenvolver atividades em mais de uma área de atuação, simultaneamente.
  - podem exercer atividades em mais de uma área, desde que respeitadas as condições estabelecidas em norma.
  - que exercem atividades na área buco maxilar facial não o podem fazer nas demais áreas.
  - podem exercer atividades simultâneas nas áreas de cerâmica e de resina, não nas demais.
  - podem exercer atividades nas áreas de metal e de prótese buco maxilar facial, mas não o podem fazer nas demais.
49. Os estabelecimentos de assistência odontológica classificam-se, segundo a Resolução SS 15, de 1999, em:
- Consultório Odontológico tipo I: estabelecimento de assistência odontológica que possui somente um conjunto de equipamento odontológico, e que mantém anexo o laboratório de prótese odontológica, podendo fazer uso ou não de equipamento de Raio X odontológico.
  - Instituto de Documentação Odontológica: estabelecimento de assistência odontológica que realiza tomadas radiográficas intra ou extra orais, independentemente do tipo e da quantidade de aparelhos de radiação ionizante, além de realizar moldagens da cavidade bucal, fotografias intra e extra bucais e outros exames complementares.
  - Clínica Modular: estabelecimento de assistência odontológica caracterizado pelo atendimento em um único espaço, com área mínima condicionada ao número e disposição dos equipamentos odontológicos, não fazendo uso de equipamento de Raio X odontológico.
  - Clínica Odontológica tipo II: estabelecimento de assistência odontológica que possui um conjunto de, no máximo, 05 consultórios odontológicos, independentes entre si, com uma área de espera em comum, podendo fazer uso ou não de equipamento de Raio X odontológico.
  - Policlínica Odontológica: estabelecimento de assistência odontológica com no máximo 10 consultórios odontológicos, independentes entre si, podendo manter no seu interior laboratórios de prótese odontológica, instituto de radiologia, além de desenvolver atividades voltadas ao ensino odontológico ou pesquisa.
50. A sala de recepção (I) destinada à permanência dos animais que aguardam atendimento e a sala de consultas (II), onde são realizados os exames clínicos dos estabelecimentos veterinários que funcionam no Estado de São Paulo, devem atender Norma Técnica específica, sendo que a
- área mínima deve ser de 10,0 m<sup>2</sup>, sendo a menor dimensão, no plano horizontal, não inferior a 2,5 m (I) e a área mínima deve ser de 6,0 m<sup>2</sup>, sendo a menor dimensão, no plano horizontal, não inferior a 2,0 m (II).
  - área mínima deve ser de 15,0 m<sup>2</sup>, sendo a menor dimensão, no plano horizontal, não inferior a 2,0 m (I) e a área mínima deve ser de 4,0 m<sup>2</sup>, sendo a menor dimensão, no plano horizontal, não inferior a 2,0 m (II).
  - área mínima deve ser de 20,0 m<sup>2</sup>, sendo a menor dimensão, no plano horizontal, não inferior a 2,5 m (I) e a área mínima deve ser de 8,0 m<sup>2</sup>, sendo a menor dimensão, no plano horizontal, não inferior a 1,0 m (II).
  - área mínima deve ser de 10,0 m<sup>2</sup>, sendo a menor dimensão no, plano horizontal, não inferior a 3,5 m (I) e a área mínima deve ser de 10,0 m<sup>2</sup>, sendo a menor dimensão, no plano horizontal, não inferior a 2,0 m (II).
  - área mínima deve ser de 20,0 m<sup>2</sup>, sendo a menor dimensão, no plano horizontal, não inferior a 4,5 m (I) e a área mínima deve ser de 6,0 m<sup>2</sup>, sendo a menor dimensão, no plano horizontal, não inferior a 4,0 m (II).
51. Dentre as alternativas apresentadas, assinale aquela que contém um objetivo do SUS – Sistema Único de Saúde.
- A construção de políticas públicas e execução de ações de saneamento básico nos municípios.
  - A identificação e a divulgação dos fatores condicionantes e determinantes da saúde.
  - A fiscalização dos produtos de interesse à saúde e ao meio ambiente.
  - A formação de recursos humanos nas áreas sanitária e ambiental.
  - A execução das ações de vigilância em saúde ambiental no nível Estadual.
52. O Decreto Estadual n.º 12.342, de 1978, art. 32, estabelece que os projetos de reforma, acréscimo ou reconstrução serão representados à tinta, na cor
- amarela, as partes a demolir.
  - preta, as partes a construir.
  - azul, as partes a demolir.
  - vermelha, as partes a serem mantidas.
  - azul, as partes a construir.

53. Estão incluídas no campo de atuação do Sistema Único de Saúde (SUS) a execução das ações de:
- vigilância sanitária;
  - vigilância epidemiológica;
  - saúde do trabalhador;
  - assistência terapêutica integral;
  - assistência farmacêutica.
- Está correto o contido em
- I e II, apenas.
  - I, II e IV, apenas.
  - II, IV e V, apenas.
  - IV e V, apenas.
  - I, II, III, IV e V.
54. O Plano de Gerenciamento de Resíduos de Serviços de Saúde (PGRSS) é um documento integrante do processo de licenciamento ambiental dos serviços de saúde, estabelecidos em legislação pertinente, que deve contemplar aspectos referentes à geração,
- segregação, acondicionamento, armazenamento, transporte e reciclagem.
  - acondicionamento, armazenamento, transporte, reciclagem, tratamento e disposição final.
  - segregação, acondicionamento, coleta, armazenamento, transporte, disposição final e recuperação da área utilizada para a disposição final dos resíduos.
  - segregação, acondicionamento, coleta, armazenamento, transporte, reciclagem, tratamento e disposição final.
  - segregação, acondicionamento, coleta, transporte, tratamento, disposição final e recuperação da área utilizada para a disposição final dos resíduos.
55. No texto da Resolução da Diretoria Colegiada ANVISA RDC 306, de 2004, culturas e estoques de micro-organismos, resíduos de fabricação de produtos biológicos, exceto os hemoderivados; meios de cultura e instrumentais utilizados para transferência, inoculação ou mistura de culturas e resíduos de laboratórios de manipulação genética, são classificados no grupo
- A1.
  - A2.
  - A3.
  - A4.
  - A5.
56. Resíduos do grupo A3, relacionados ao anexo I, da Res. CONAMA 358/2005, quando não houver requisição pelo paciente ou familiar, e que não tenham valor científico, devem
- ser submetidos a processos de tratamento em equipamento que promova redução de carga microbiana compatível com o nível III de inativação.
  - ser encaminhados para aterro sanitário devidamente licenciado para disposição final de resíduos dos serviços de saúde.
  - ser reciclados, reutilizados, reaproveitados para alimentação animal.
  - ser sepultados em cemitério de animais, devidamente licenciado para essa finalidade.
  - sofrer tratamento térmico por incineração ou cremação, ou ser sepultado em cemitério, desde que haja autorização do órgão competente.
57. Na elaboração do projeto executivo dos estabelecimentos assistenciais de saúde, os documentos gráficos das instalações elétricas e eletrônicas, a fim de atender a legislação federal, devem ser apresentados
- na implantação geral em escala  $\geq 1:1000$ .
  - diagramas trifilares dos quadros elétricos sem escala.
  - de plantas baixas em escala  $\geq 1:500$ .
  - de prumadas esquemáticas em escala  $\geq 1:100$ .
  - de planta de cobertura sem escala.
58. Segundo Portaria do Estado de São Paulo, as empresas controladoras de vetores e pragas urbanas devem ter localização compatível com o zoneamento municipal, sendo que nos municípios que não possuem zoneamento, não será permitida sua localização
- próximas a unidades de saúde.
  - em áreas mistas, com comércio de rua e residências.
  - no mesmo quarteirão de escolas de educação infantil.
  - em áreas predominantemente residenciais.
  - próximas a comércio de alimentos.
59. Após a limpeza dos veículos transportadores de alimentos, a desinfecção pode ser efetuada de uma das seguintes formas, segundo a necessidade:
- por meio do contato ou imersão dos utensílios em água quente a uma temperatura inferior a 80 °C, durante 1 minuto, no mínimo.
  - com água potável da rede pública ou tratada com hipoclorito de sódio a 2,5% (1 gota.L<sup>-1</sup> e permanecer em repouso por 10 minutos antes de ser utilizada).
  - por meio de imersão dos utensílios em água quente a uma temperatura superior a 150 °C, durante 2 minutos, no mínimo.
  - com vapor, por meio de mangueiras, à temperatura não inferior a 96 °C, e o mais próximo da superfície de contato, durante 2 a 3 minutos.
  - com vapor, por meio de mangueiras, à temperatura inferior a 96 °C, e o mais próximo da superfície de contato, durante 5 a 10 minutos.
60. O Sistema Estadual de Vigilância Sanitária (SEVISA) do Estado de São Paulo é coordenado
- pela Secretaria Estadual de Saúde.
  - pelo Departamento de Vigilância Estadual.
  - pela Secretaria de Vigilância Epidemiológica e Sanitária.
  - pelo Centro de Vigilância Sanitária.
  - por uma parceria entre órgãos estaduais de saúde e de meio ambiente.





