

MUNICÍPIO DE BARRA VELHA SANTA CATARINA

CONCURSO PÚBLICO
EDITAL N° 001/2012



Telefonista
MANHÃ

Organizadora:



CARGO: TELEFONISTA

Texto

O combate à biopirataria

João Paulo Capobianco
Biólogo

Recente reportagem publicada pelo Jornal do Brasil abordou o tema da biopirataria, assunto de altíssima relevância para a conservação ambiental no país.

A rede de tráfico ilegal de animais silvestres se constitui numa das mais graves e rentáveis ilegalidades praticadas no mundo, só perdendo em arrecadação para os tráficos de armas e drogas. Seu impacto sobre a fauna brasileira é extremamente significativo, responsável por ameaça direta à nossa diversidade biológica através do extermínio de espécies. O caso da ararinha azul, que ficou famoso em todo o mundo devido à luta desenvolvida para recuperar a população nativa representada por apenas um único exemplar que sobrevivia no sertão baiano, na região de Curaçá, é apenas um exemplo entre muitos.

A luta por melhores condições de gestão e ação no combate ao tráfico ilegal de animais e plantas tem sido um dos desafios recentes da agenda ambiental brasileira. O Ministério do Meio Ambiente e o seu Ibama, bem como outros órgãos de governo, em especial a Polícia Federal, vêm se esforçando, com a participação da sociedade, para aperfeiçoar ações e definir políticas capazes de produzir resultados permanentes, e não somente ações pontuais que dão visibilidade, mas têm pouca efetividade a médio e longo prazos.

Estão sendo implementados sistemas de controle informatizados para gestão do uso da fauna, especialmente de criadouros de animais silvestres e zoológicos. Isto permitirá o controle de procedência e a identificação de possíveis irregularidades. O Ibama criou em 2003 uma divisão específica para fiscalização aeroportuária. O sistema já funciona em Manaus.

Outros destaques importantes foram o incremento da ação integrada com a Polícia Federal, através do repasse de informações e recursos financeiros, da participação em ações conjuntas e do início de atividades de repressão ao comércio através da *Internet*, que se vem consolidando como um canal de facilitação dessa grave contravenção. Além das ações no âmbito da competência direta do ministério, desenvolve-se o apoio a iniciativas conjuntas com a sociedade civil, através de convênios para atividades de conscientização e educação ambiental.

No que se refere ao aprimoramento da legislação brasileira, corretamente citada como insuficiente na reportagem do JB, o Ministério do Meio Ambiente acompanha a tramitação do projeto de lei que altera a Lei de Crimes Ambientais, com o objetivo de inserir tipos penais qualificados para enquadrar quem pratica o comércio ilegal de animais silvestres. Anteprojeto de lei de acesso ao patrimônio genético a ser brevemente enviado ao Congresso Nacional prevê a inclusão de sanções penais para situações que se configurem como biopirataria.

Cabe destacar que entre as causas do tráfico de animais há componentes culturais e sociais que devem ser considerados, para adoção de estratégias e abordagens adequadas, que não podem estar exclusiva e amplamente centradas nas ações de fiscalização ostensiva.

Algumas das dificuldades institucionais são históricas e precisam ser superadas com firmeza e determinação. Não operamos sob condições ideais nem pretendemos encobrir debilidades, mas procurar superá-las a partir de uma postura pró-ativa que busca institucionalizar e fortalecer a gestão ambiental de forma progressiva e participativa.

(Disponível em: <http://pib.socioambiental.org/c/noticias?id=37143>)

01
Assinale a alternativa que contém uma passagem do texto que apresenta uma das maiores consequências da biopirataria para o Brasil.

- A) “Recente reportagem publicada pelo Jornal do Brasil abordou o tema da biopirataria, assunto de altíssima relevância para a conservação ambiental no país.” (1º§)
- B) “A rede de tráfico ilegal de animais silvestres se constitui numa das mais graves e rentáveis ilegalidades praticadas no mundo, só perdendo em arrecadação para os tráficos de armas e drogas.” (2º§)
- C) “Seu impacto sobre a fauna brasileira é extremamente significativo, responsável por ameaça direta à nossa diversidade biológica através do extermínio de espécies.” (2º§)
- D) “A luta por melhores condições de gestão e ação no combate ao tráfico ilegal de animais e plantas tem sido um dos desafios recentes da agenda ambiental brasileira.” (3º§)
- E) “Cabe destacar que entre as causas do tráfico de animais há componentes culturais e sociais que devem ser considerados, para adoção de estratégias e abordagens adequadas...” (7º§)

02

O texto tem como principal finalidade comunicativa

- A) apresentar o conceito de biopirataria e suas características.
- B) informar as principais ações do governo no combate à biopirataria.
- C) criticar as mais recentes ações governamentais em prol da biopirataria.
- D) descrever as estratégias utilizadas pelos traficantes de plantas e animais.
- E) mostrar como surgiu esta nova modalidade de crime ambiental: a biopirataria.

03

Sobre o texto, analise.

- I. No título do texto, o uso do acento grave é facultativo, ou seja, pode-se escrever “O combate à biopirataria” ou “O combate a biopirataria”. Ambas as formas estão de acordo com a linguagem padrão escrita.
- II. No trecho “Cabe destacar que entre as causas do tráfico de animais há componentes culturais e sociais que devem ser considerados...” (7º§), a correção gramatical se manteria se a forma verbal “há” fosse substituída pela forma verbal “existem”.
- III. Na passagem “Anteprojeto de lei de acesso ao patrimônio genético a ser brevemente enviado ao Congresso Nacional prevê a inclusão de sanções penais...” (6º§), o termo “ao” em sua segunda ocorrência, poderia ser substituído, sem alteração de sentido, pelo termo “pelo”.
- IV. O 1º parágrafo do texto poderia ser reescrito da seguinte forma sem alterar seu sentido original: “O Jornal do Brasil recentemente publicou uma reportagem em que abordou o tema da biopirataria, assunto de extrema importância para a preservação ambiental no Brasil.”

Estão INCORRETAS apenas as afirmativas

- A) I, II
- B) I, III
- C) III, IV
- D) I, II, IV
- E) I, II, III, IV

04

No trecho “Outros destaques importantes foram o incremento da ação integrada com a Polícia Federal, através do repasse de informações e recursos financeiros, da participação em ações conjuntas e do início de atividades de repressão ao comércio através da *Internet*, que se vem consolidando como um canal de facilitação dessa grave contravenção.” (5º§), as palavras destacadas significam, no texto, respectivamente

- A) fracasso, refreamento, infração
- B) aumento, proibição, transgressão
- C) equilíbrio, liberação, respeito
- D) crescimento, violação, obediência
- E) retrocesso, embate, regularidade

05

Os termos lbama (4º§) e ararinha (2º§) são formados, respectivamente, pelos processos de

- A) sigloneização e derivação sufixal.
- B) derivação regressiva e onomatopeia.
- C) derivação prefixal e abreviação.
- D) derivação parassintética e derivação imprópria.
- E) composição por justaposição e hibridismo.

06

No fragmento “Algumas das dificuldades institucionais são históricas e precisam ser superadas com firmeza e determinação. Não operamos sob condições ideais nem pretendemos encobrir debilidades, mas procurar superá-las a partir de uma postura...” (8º§), o pronome “las” se refere ao termo

- A) históricas.
- B) condições.
- C) superadas.
- D) debilidades.
- E) dificuldades.

07

Na passagem “... definir políticas capazes de produzir resultados permanentes, e não somente ações pontuais que dão visibilidade, mas têm pouca efetividade a médio e longo prazos.” (3º§), a palavra “mas” só NÃO pode ser substituída, sem alteração de sentido, pelo termo

- A) porém.
- B) todavia.
- C) contudo.
- D) portanto.
- E) entretanto.

08

“Outros destaques importantes foram o incremento da ação integrada com a Polícia Federal, através do repasse de informações e recursos financeiros, da participação em ações conjuntas e do início de atividades de repressão ao comércio através da *Internet*, que se vem consolidando como um canal de facilitação dessa grave contravenção.” (5º§) No trecho destacado, a forma verbal “vem” mantém relação de concordância com a expressão

- A) repasse de informações.
- B) outros destaques importantes.
- C) participação em ações conjuntas.
- D) incremento da ação integrada com a Polícia Federal.
- E) início de atividades de repressão ao comércio através da *internet*.

Observe a imagem a seguir.



(http://www.puc-rio.br/vestibular/repositorio/provas/2006-2/bio_geo_hist_obj_info.html)

09

A imagem confirma qual afirmativa transcrita presente no texto “O combate à biopirataria”?

- A) “A rede de tráfico ilegal de animais silvestres se constitui numa das mais graves e rentáveis ilegalidades praticadas no mundo, só perdendo em arrecadação para os tráficos de armas e drogas. Seu impacto sobre a fauna brasileira é extremamente significativo, responsável por ameaça direta à nossa diversidade biológica através do extermínio de espécies.” (2º§)
- B) “A luta por melhores condições de gestão e ação no combate ao tráfico ilegal de animais e plantas tem sido um dos desafios recentes da agenda ambiental brasileira. O Ministério do Meio Ambiente e o seu Ibama, bem como outros órgãos de governo, em especial a Polícia Federal, vêm se esforçando, com a participação da sociedade, para aperfeiçoar ações e definir políticas capazes de produzir resultados permanentes...” (3º§)
- C) “Estão sendo implementados sistemas de controle informatizados para gestão do uso da fauna, especialmente de criadouros de animais silvestres e zoológicos. Isto permitirá o controle de procedência e a identificação de possíveis irregularidades.” (4º§)
- D) “Cabe destacar que entre as causas do tráfico de animais há componentes culturais e sociais que devem ser considerados, para adoção de estratégias e abordagens adequadas, que não podem estar exclusiva e amplamente centradas nas ações de fiscalização ostensiva.” (7º§)
- E) “Algumas das dificuldades institucionais são históricas e precisam ser superadas com firmeza e determinação. Não operamos sob condições ideais nem pretendemos encobrir debilidades, mas procurar superá-las a partir de uma postura pró-ativa que busca institucionalizar e fortalecer a gestão ambiental de forma progressiva e participativa.” (8º§)

10

A partir da leitura comparativa do texto “O combate à biopirataria” e a imagem apresentada anteriormente, é correto afirmar que ambos

- A) utilizam a linguagem não-verbal.
- B) apresentam argumentos divergentes.
- C) pertencem ao mesmo gênero textual.
- D) expõem pontos de vista conflitantes.
- E) revelam aspectos temáticos em comum.

RACIOCÍNIO LÓGICO













11
 Uma palavra em que todas as letras são distintas apresenta 5.040 anagramas. Se uma das sílabas dessa palavra possui 3 letras, então as demais sílabas totalizam

- A) 5 letras. B) 4 letras. C) 6 letras. D) 7 letras. E) 8 letras.

12
 Numa caixa encontram-se pregos e parafusos, totalizando 62 unidades. Considere que o dobro do número de pregos mais a metade do número de parafusos é igual a 64. Pode-se concluir que na caixa encontram-se

- A) 18 parafusos a mais que pregos. D) mais de 25 pregos.
 B) 12 pregos a mais que parafusos. E) menos de 38 parafusos.
 C) um número ímpar de pregos.

13
 Observe a sequência de figuras.

				= 3.285
				= 8.546
				= 5.328

Na representação da metade do número 5.296 pelos símbolos anteriores, qual NÃO será utilizado?

- A)  B)  C)  D)  E) 

14
 Sobre uma mesa encontram-se 3 objetos: uma caixa, uma esfera e uma placa. Esses objetos são constituídos de materiais e cores diferentes. Considere que

- ou a esfera é de madeira ou a caixa não é de metal;
- o objeto de isopor é vermelho e o objeto de metal não é azul;
- nem a placa é de isopor, nem a esfera é de madeira;
- a esfera não é amarela e a caixa é azul.

Os objetos de isopor, metal e madeira são, respectivamente,

- A) placa, caixa, esfera. D) caixa, placa, esfera.
 B) placa, esfera, caixa. E) esfera, caixa, placa.
 C) esfera, placa, caixa.

15
 Num recipiente de 0,3 kg com capacidade para 2 litros foi colocado um líquido que ocupou 3/5 de sua capacidade. Se o conjunto líquido mais recipiente totaliza 1,32 kg, então a densidade do líquido é

- A) 0,85 kg/litro. B) 0,80 kg/litro. C) 0,95 kg/litro. D) 0,90 kg/litro. E) 0,75 kg/litro.

16
 Num grupo de 38 pessoas, 21 têm 1,75 m de altura ou menos, e n pessoas têm 1,70 m ou mais. Se o número de pessoas que têm mais 1,70 m e menos de 1,75 m é igual a 9, então o valor de n é

- A) 23. B) 24. C) 25. D) 26. E) 27.

17
 A soma de 4 números consecutivos é igual a 4.002. O menor desses números

- A) é par e um de seus algarismos é 9. D) tem 3 algarismos iguais.
 B) tem apenas dois algarismos iguais. E) tem três algarismos diferentes.
 C) é ímpar e um de seus algarismos é 8.

18

Marcelo pratica natação 3 vezes na semana, somente nas segundas, quintas e sábados. Num certo mês de 30 dias, ele praticou natação nos dias 14 e 18. No mês posterior ao citado, Marcelo praticou natação no dia

- A) 1º. B) 11. C) 19. D) 24. E) 29.

19

No lançamento simultâneo de 1 dado e 3 moedas de valores diferentes, qual a probabilidade de se obter um número maior que 4 e pelo menos 2 caras?

- A) 1/6 B) 1/5 C) 1/8 D) 1/3 E) 1/4

20

O triplo de um número somado com a metade de seu antecessor é igual a 178. A soma dos algarismos do número considerado é

- A) 7. B) 9. C) 5. D) 8. E) 6.

CONHECIMENTOS ESPECÍFICOS

21

Sobre o atendimento telefônico, marque V para as afirmativas verdadeiras e F para as falsas.

- () Boa dicção e terminologia correta são imprescindíveis e não deve haver intimidade.
() Ao tocar, o telefone deve ser atendido de imediato.
() O uso do diminutivo é antipático e inadequado.

A sequência está correta em

- A) F, F, V B) V, V, F C) F, V, F D) V, V, V E) V, F, V

22

São atribuições e responsabilidades da Telefonista, EXCETO:

- A) Organizar o local de trabalho. D) Planejar atividades relativas à pesquisa.
B) Atender os telefonemas. E) Organizar e manter a agenda atualizada.
C) Manter o arquivo atualizado.

23

São funções da Telefonista, EXCETO:

- A) Agendar consultas.
B) Cumprir medidas de prevenção e controle de infecção hospitalar.
C) Zelar pela ordem e limpeza do ambiente de trabalho.
D) Ser cordial e ter boa disposição.
E) Receber e registrar medicamentos.

24

Para um bom atendimento telefônico, é necessário

- I. falar com outra pessoa, sem prestar atenção.
II. evitar expressões afetivas.
III. falar claro e pausadamente.

Está(ão) correta(s) apenas a(s) alternativa(s)

- A) I B) III C) I, II D) II, III E) I, II, III

25

O comportamento ético supõe as seguintes atitudes, EXCETO:

- A) Não depreciar os ausentes. D) Apropriar-se de ideias alheias.
B) Dizer a verdade. E) Não divulgar problemas.
C) Cumprir o prometido.






26

NÃO é aspecto a considerar no relacionamento pessoal no ambiente de trabalho

- A) adaptação à equipe de trabalho.
- B) tolerância.
- C) imparcialidade.
- D) explicação de fatos de maneira exagerada.
- E) autocontrole.




27

No aplicativo *Microsoft Office Word 2003* (configuração padrão), durante a digitação de uma carta detectou-se que um nome indevido foi digitado. O comando da ferramenta que permite “desfazer” os últimos comandos executados é obtido na barra de ferramentas através do seguinte botão

- A) 
- B) 
- C) 
- D) 
- E) 

28

No aplicativo *Microsoft Office Word 2003* (configuração padrão), antes de realizar a impressão de um documento é possível visualizar na tela exatamente como o documento será impresso, através do menu Arquivo / Visualizar Impressão. Na tela de visualização de impressão considere os botões

- I. 
- II. 
- III. 

Os botões executam, respectivamente, as operações de






- A) exibir múltiplas páginas simultaneamente / aumentar a porcentagem de visualização da tela (Zoom) / alterar o modo de exibição do documento para tela inteira.
- B) exibir a visualização em uma página / aumentar a porcentagem de visualização da tela (Zoom) / alterar o modo de exibição do documento para tela inteira.
- C) imprimir o documento utilizando os padrões atuais / exibir múltiplas páginas simultaneamente / aumentar a porcentagem de visualização da tela (Zoom).
- D) ativar/desativar a exibição da régua / exibir a visualização em uma página / sair do modo de visualizar impressão.
- E) sair do modo de visualizar impressão / alterar o modo de exibição do documento para tela inteira / exibir a visualização em uma página.

29

Considere a planilha produzida no aplicativo *Microsoft Office Excel 2003* (configuração padrão).

	A	B	C	D	E
1					
2		COD	NOME	VALOR	
3		1	MARCELO DA SILVA	234	
4		2	FERNANDO NASCIMENTO	600	
5		3	JORGE HENRIQUE	700	
6		4	PEDRO OTAVIO	100	
7		5	MARCOS TULIO	300	
8					

Considerando o intervalo selecionado para a criação da tabela (B2:D7), observa-se que foi utilizado o recurso de aplicação de bordas em todos os lados das células. O botão utilizado para aplicar tal formatação é

- A) 
- B) 
- C) 
- D) 
- E) 

30

Considere a planilha produzida no aplicativo *Microsoft Office Excel 2003* (configuração padrão).

	A	B
1	ALUNO	NOTA
2	Raimundo	8
3	Jose	2
4	Pedro	4
5	Augusto	6
6		5

A função utilizada para obter o valor apresentado na célula B6 é

- A) =SOMA(B2:B5)
- B) =SOMA(B2;B5)
- C) =MÉDIA(B2:B5)
- D) =MÉDIA(B2;B5)
- E) =AVG(B2;B5)

CONHECIMENTOS GERAIS

Leia o texto e responda as questões de 31 a 33.

Operários da Usina de Belo Monte, em Altamira (PA), iniciaram nesta segunda-feira (23) uma paralisação por melhores condições de trabalho. O ato é pacífico. A categoria fechou o principal acesso aos cinco canteiros de obras da usina, no km 27 da Rodovia Transamazônica. O estado de greve dos trabalhadores começou na última quinta-feira. Eles querem aumento do valor da cesta básica, que hoje é de R\$ 95, e a diminuição do intervalo entre os períodos de folga. Hoje, os trabalhadores têm direito a sair para ver a família de seis em seis meses.

(<http://g1.globo.com/pa/para/noticia/2012/04/trabalhadores-param-atividades-nos-canteiros-de-belo-monte.html>)

31

Em que importante via fluvial está sendo construída a Usina de Belo Monte?

- A) Amazonas. B) Araguaia. C) Negro. D) Solimões. E) Xingu.

32

Após sua conclusão e ativação, a Usina de Belo Monte será a terceira maior do mundo e segunda maior da América, ficando no continente atrás apenas da usina hidroelétrica de

- A) *Churchill Falls* (Canadá). D) Itaipu (Brasil e Paraguai).
B) *Grand Coulee* (EUA). E) *La Grande 2* (Canadá).
C) *Guri* (Venezuela).

33

Dois grandes nomes do cinema internacional, diretor e atriz *hollywoodianos*, estiveram no Brasil, para se manifestarem contra a construção desta usina. São eles

- A) *Christopher Nolan* e *Cameron Dias*. D) *Steven Spielberg* e *Maryl Streep*.
B) *James Cameron* e *Sigourney Weaver*. E) *Woody Allen* e *Diane Keaton*.
C) *Martin Scorsese* e *Reese Witherspoon*.

34

Atualmente suspensos, dois projetos de lei norte-americanos popularmente conhecidos como “Sopa” e “Pipa” (abreviação de seus nomes) causaram polêmica e repercussão internacional, provocando protestos de ativistas e contra-ataque de corporações gigantes, como *Google* e *Wikipedia*. É correto afirmar que as propostas

- A) ampliam os instrumentos e ações legais, para que os detentores de direitos autorais e intelectuais possam combater o tráfico de propriedade protegida e artigos falsificados na Internet.
B) criminalizam o aborto em todos os casos de forma a impedir inclusive que mulheres vítimas de estupro possam fazer uso desta prática, abrindo exceção apenas nos casos de fetos anencefálicos.
C) descriminalizam o uso da maconha, que passa a ser utilizada principalmente como medicamento no tratamento contra o câncer, podendo ser comercializada em farmácias norte-americanas.
D) fortalecem a proteção do mercado interno norte-americano, criando novos subsídios aos produtos ou serviços locais, contrariando os tratados e regulamentações da Organização Mundial do Comércio.
E) proíbem o uso da Internet em locais públicos e/ou coletivos, restringindo seu acesso a estabelecimentos privativos que possuem mecanismos de controle adequados ou de forma particular e residencial.

35

O final do século XX foi marcado por mudanças significativas na geopolítica mundial, a saber

- A) crescimento acelerado da China, tornando-se a segunda mais rica nação do planeta.
B) transformação da Comunidade Econômica Europeia em União Europeia.
C) fim da Guerra Fria com a extinção da União Soviética – URSS.
D) predomínio do capitalismo com a supremacia de uma única superpotência: EUA.
E) unificação da Alemanha, com extermínio do regime comunista na região oriental.

36

O Supremo Tribunal Federal se manifestou nos últimos anos sobre diversos assuntos controversos, realizando julgamentos que se tornaram históricos por tratarem de temas que, geralmente envolvem toda a sociedade. Sobre o STF é correto afirmar que

- I. abriu ação contra 40 suspeitos em envolvimento num esquema de corrupção que ficou conhecido como mensalão, julgando culpados grandes caciques do PT, como José Dirceu e José Genuíno.
- II. liberou a utilização de células-tronco embrionárias “inviáveis ou congelados há mais de três anos” em pesquisas no Brasil.
- III. classificou a Marcha da Maconha como uma manifestação legal e garantida pelo direito de livre expressão do pensamento.
- IV. decidiu pela extradição do ex-ativista de esquerda *Cesare Battisti* para a Itália, contrariando a decisão do presidente Luiz Inácio Lula da Silva.

Estão corretas apenas as afirmativas

- A) I, II B) III, IV C) II, III D) I, II, IV E) II, III, IV

37

Sobre as resoluções do Supremo Tribunal Federal, marque V para as afirmativas verdadeiras e F para as falsas. Foram decisões do STF que despertaram polêmica e chamaram a atenção da opinião pública

- () decidiu que não é mais crime o aborto de fetos anencéfalos no Brasil.
 () determinou o julgamento de agentes do Estado acusados de tortura no período militar.
 () reconheceu a ilegalidade da reserva Raposa Serra do Sol, garantindo-a aos fazendeiros.
 () suspendeu a Lei de Imprensa e a exigência de diploma para o exercício do jornalismo.

A sequência está correta em

- A) F, F, V, V B) F, V, V, F C) V, F, V, F D) V, V, F, F E) V, F, F, V

38

O oceano que ocupa maior área em quilômetros quadrados no planeta é

- A) Antártico. B) Ártico. C) Atlântico. D) Índico. E) Pacífico.

39

Sobre os principais candidatos à presidência da França para as eleições de 2012, é correto afirmar que



(<http://oglobo.globo.com/infograficos/eleicaofranca/>)

- I. *Marine Le Pen* teve votação surpreendente no primeiro turno, ficando em terceiro lugar com um forte discurso de combate à imigração ilegal.
- II. *François Holland*, líder no primeiro turno de votação, comprometeu-se em retirar as tropas francesas do Afeganistão ainda este ano, se eleito.
- III. atual presidente da França, *Nicolas Sarkozy*, foi vencedor nos dois turnos com a defesa da regulamentação da imigração na França.
- IV. *Jean-Luc Mélenchon*, candidato apoiado pelo ex-diretor do FMI *Dominique Strauss-Kahn*, era favorito e foi prejudicado pelo escândalo envolvendo seu principal apoiador.

Estão corretas apenas as afirmativas

- A) I, II B) III, IV C) II, III D) I, II, IV E) II, III, IV

40

Com cerca de dez anos de existência, a moeda Euro ainda não foi adotada por todos os países membros da União Europeia, entre eles

- A) Alemanha e Espanha. D) Itália e Grécia.
 B) Bélgica e França. E) Reino Unido e Dinamarca.
 C) Holanda e Portugal.

INSTRUÇÕES

1. Material a ser utilizado: caneta esferográfica azul ou preta. Os objetos restantes devem ser colocados em local indicado pelo fiscal da sala, inclusive aparelho celular desligado e devidamente identificado com etiqueta.
2. Não é permitido consulta, utilização de livros, códigos, dicionários, apontamentos, apostilas, calculadoras e etc. Não é permitido ao candidato ingressar na sala de provas sem a respectiva identificação e o devido recolhimento de telefone celular, bip e outros aparelhos eletrônicos.
3. Durante a prova, o candidato não deve levantar-se, comunicar-se com outros candidatos e nem fumar.
4. A duração da prova é de 03 (três) horas, já incluindo o tempo destinado à entrega do Caderno de Provas e à identificação – que será feita no decorrer da prova – e ao preenchimento do Cartão de Respostas (Gabarito).
5. Somente em caso de urgência pedir ao fiscal para ir ao sanitário, devendo no percurso permanecer absolutamente calado, podendo antes e depois da entrada sofrer revista através de detector de metais. Ao sair da sala no término da prova, o candidato não poderá utilizar o sanitário. Caso ocorra uma emergência, o fiscal deverá ser comunicado.
6. O Caderno de Provas consta de 40 (quarenta) questões de múltipla escolha, exceto para os cargos de nível fundamental completo e incompleto em que os Cadernos de Provas constam de 30 (trinta) questões. Leia-o atentamente.
7. **As questões das provas objetivas são do tipo múltipla escolha, com 05 (cinco) opções (A a E) e uma única resposta correta.**
8. Ao receber o material de realização das provas, o candidato deverá conferir atentamente se o Caderno de Provas corresponde ao cargo a que está concorrendo, bem como se os dados constantes no Cartão de Respostas (Gabarito) que lhe foi fornecido, estão corretos. Caso os dados estejam incorretos, ou o material esteja incompleto ou tenha qualquer imperfeição, o candidato deverá informar tal ocorrência ao fiscal.
9. Os fiscais não estão autorizados a emitir opinião e prestar esclarecimentos sobre o conteúdo das provas. Cabe única e exclusivamente ao candidato interpretar e decidir.
10. O candidato poderá retirar-se do local de provas somente a partir dos 90 (noventa) minutos após o início de sua realização, contudo não poderá levar consigo o Caderno de Provas, somente sendo permitida essa conduta apenas no decurso dos últimos 30 (trinta) minutos anteriores ao horário previsto para o seu término.
11. Os 3 (três) últimos candidatos de cada sala somente poderão sair juntos. Caso o candidato insista em sair do local de aplicação da prova, deverá assinar um termo desistindo do Concurso Público e, caso se negue, deverá ser lavrado o Termo de Ocorrência, testemunhado pelos 2 (dois) outros candidatos, pelo fiscal da sala e pelo coordenador da unidade.

RESULTADOS E RECURSOS

- Os gabaritos oficiais preliminares das provas escritas objetivas de múltipla escolha serão divulgados na Internet, no site **www.consulplan.net**, a partir da 00h00min do dia subsequente ao da realização da provas.

- Os recursos deverão ser apresentados, conforme determinado no **item 8 do Edital de Concurso Público nº. 001/2012**, sendo observados os seguintes aspectos:

- a) O candidato que desejar interpor recursos contra os gabaritos oficiais preliminares das provas objetivas disporá de **02 (dois) dias úteis**, a partir do dia subsequente ao da divulgação, em requerimento próprio disponibilizado no *link* correlato ao Concurso Público no *site* **www.consulplan.net**.
- b) A interposição de recursos poderá ser feita **somente via Internet, através do Sistema Eletrônico de Interposição de Recursos**, com acesso pelo candidato com o fornecimento de dados referentes à sua inscrição, apenas no prazo recursal, à **CONSULPLAN**, conforme disposições contidas no site **www.consulplan.net**, no *link* correspondente ao Concurso Público.