

## PORTUGUÊS

Andando há 40 anos por este país, catando dinheiro para levar pra casa, eu aprendi a acreditar. Acreditar na terra, no homem, na chuva, na benção, na semente, no fruto, no coração, na mente... na inteligência. Aprendi, com o meu povo, que quando uma coisa está muito séria, o melhor que se faz é brincar com ela. E, naquelas tardes terríveis, sozinho num quarto de hotel, esperando a hora do show, eu comecei a desenhar o país dos meus sonhos. Um país onde cada lavrador tenha um par de bois para puxar seu arado e que de tarde, ao voltar para casa, encontre um par de filhos o esperando e à noite quando for dormir, tenha um par de pernas para amar; no país dos meus sonhos, todo pobre vai comer, todo hospital terá remédios, todo aluno terá colégio, todo professor ganhará um salário decente e todo policial apenas prenderá os bandidos, em vez de os ajudar a matar e a roubar; no país dos meus sonhos todo cego vai ver, todo surdo vai ouvir e todo mudo vai ver e ouvir coisas tão lindas que nem será preciso dizer nada; no país dos meus sonhos a integração do homem com a natureza será tanta que eu chego a imaginar uma árvore dizendo a um homem: "Você me tratou tão bem, foi tão legal comigo, que eu gostaria de me transformar na mesa da sua casa, nas cadeiras onde sua família sentará, no berço do seu filho". No país dos meus sonhos, o homem branco, afinal, vai descobrir que o coração do negro é do tamanho do seu e o sangue da mesma cor. O país dos meus sonhos um dia será verdade. E ele será tão feliz que nem vai precisar de mim para fazer rir um pouco. Não faz mal. Eu perco o emprego, mas não perco o meu sonho. Boa noite.

CHICO ANYSIO.

<http://sitenotadez.net/cronicas/>

1) O termo destacado abaixo possui valor de um sintagma que se encontra na alternativa:

"*todo mudo vai ver e ouvir coisas tão lindas que nem será preciso dizer nada.*"

- A) O dinheiro que está em cima do móvel é meu;
- B) Esta é a casa a que fiz referência;
- C) Gosto da mulher que tu és;
- D) Os candidatos cujas provas foram entregues podem sair;
- E) O desejo de quanto quero ser aprovado não é muito.

2) A relação sintática, em destaque, no fragmento abaixo é a mesma da alternativa:

"Eu perco o emprego, mas não perco o meu sonho."

- A) Quando uma coisa está muito séria, o melhor é brincar com ela;

B) Todo professor ganhará um salário decente e todo policial apenas prenderá os bandidos;

C) Eu chego a imaginar uma árvore dizendo a um homem: "Você me tratou tão bem, foi tão legal comigo;"

D) Ele será tão feliz que nem vai precisar de mim;

E) Andando há 40 anos por este país, catando dinheiro para levar pra casa, eu aprendi a acreditar.

3) O fragmento destacado abaixo possui diretrizes sintáticas de:

"No país dos meus sonhos a integração do homem com a natureza será tanta que eu chego a imaginar uma árvore dizendo a um homem."

- A) Um complemento nominal;
- B) Uma oração consecutiva;
- C) Uma oração causal;
- D) Uma oração comparativa;
- E) Um complemento verbal.

4) A alternativa **CORRETA** quanto à gramática normativa se encontra na alternativa:

A) A coerência gramatical permanece a mesma se for acrescida a palavra "atrás" em: "*Andando há 40 anos atrás*" assim como ocorrem em: "eu nasci há 10 mil anos atrás";

B) As vírgulas em "*no homem, na chuva, na benção, na semente, no fruto, no coração, na mente*" são empregadas pela mesma regra do fragmento "*E, naquelas tardes terríveis, sozinho num quarto de hotel*";

C) Ao substituir a palavra onde em "*Um país onde*" por "*aonde*" o enunciado permanece em conjuntura com a gramática normativa;

D) O verbo "haver" empregado no primeiro período, possui mesma função do verbo em: "Há vários alunos aqui";

E) O sujeito do aprender em "Aprendi, com o meu povo" é classificado como elíptico.

5) Depreende-se da charge abaixo:



- I. A expressão **da poupança** completa o nome rendimento, sendo classificado como complemento nominal.
- II. "À taxa Selic" possui características de um complemento verbal, conjunturado ao verbo de forma indireta.
- III. A omissão do acento grave deixa o enunciado com as diretrizes gramaticais.

Está **CORRETA** a alternativa:

- A) II;  
B) I e II;  
C) III;  
D) I e III;  
E) I.

6) Assinale a alternativa que melhor completa os espaços em branco do fragmento.

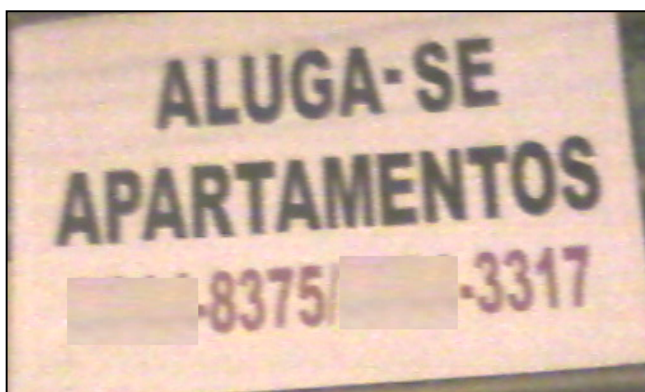
" A ..... é um ..... que atinge a boa parte dos brasileiros. Dessa forma, as comidas devem ser ..... para que este problema seja controlado e a ..... de sal esteja ..... controle."

- A) Hiper-tensão – mal – insossa – taxa – sob;  
B) Hipertensão – mau – insoça – taxa – sobre;  
C) Hipertensão – mal – insossa – taxa – sob;  
D) Hipertensão – mau – inçoça – tacha – sobre;  
E) Ipertensão – mal – inçoça – tacha – sob.

7) A alternativa em que **NÃO** foi obedecida às regras de concordância é:

- A) Fui eu quem falou sobre o seu caso;  
B) Devem haver mais pessoas com cursos de nível superior no futuro;  
C) 80% da população brasileira assistiu ao final dos campeonatos regionais;  
D) A multidão de fanáticos torcedores aplaudiram seus times;  
E) As provas terminarão ao meio dia e meia hora.

8) Observe as placas a seguir:



- I. As partículas "se" presente nos enunciados possuem mesmas classificações gramaticais.
- II. Há incoerência gramatical nos dois enunciados, haja vista que, os verbos de ambas as placas devem estar no plural.
- III. Há incoerência gramatical apenas na placa I, haja vista que a partícula "se" apassiva o sujeito e na placa II indetermina o sujeito.
- IV. O sujeito da primeira placa é "apartamentos". E o sujeito da segunda placa é "profissionais".

Está **CORRETA** a alternativa:

- A) I e IV;  
B) II e IV;  
C) III;  
D) I e III;  
E) I e II.

9) A alternativa que preenche **CORRETAMENTE** o enunciado abaixo se encontra:

- I. Com os olhos fixos no rei o servo falou: ..... irá ao Brasil.
- II. Logo a notícia se espalhou e chegou distorcida ao Brasil, onde se comentava que o príncipe visitaria esta Terra, onde falavam que ..... chegaria em breve.
- III. É sabido que em breve o Papa visitará o Brasil. Ao mencionar o nome do sacerdote indiretamente, deve-se dizer .....

- A) Sua majestade - Sua alteza – Vossa santidade;  
B) Vossa majestade - Sua alteza – Vossa santidade;  
C) Vossa majestade - Vossa alteza – Vossa onipotência;  
D) Vossa majestade – Sua alteza – Sua santidade;  
E) Sua majestade – Vossa alteza – Vossa santidade.

10) Transpondo o enunciado abaixo para o plural obtem-se:



**FAMOSOS**

## Ex-guarda-costas mantém polêmicas sobre Michael Jackson

*Matt Fiddes, antigo funcionário, disse a um jornal que o astro quis matar Randy, um dos seus irmãos, em 2005*

Leia também:

- Carolina Dieckmann está abatida com fotos nuas
- Ex-Morena da Laje será capa da 'Playboy'
- Grávida, Grazi publica foto de barrigão pintado

- A) Ex-guardas-costas mantém polêmicas sobre Michael Jackson;
- B) Os ex-guardas-costas mantem polêmicas sobre Michael Jackson;
- C) Ex-guarda-costas mantéem polêmicas sobre Michael Jackson;
- D) Os ex-guarda-costas mantêm polêmicas sobre Michael Jackson;
- E) Ex-guarda-costas mantêm polêmicas sobre Michael Jackson.

## CONHECIMENTOS GERAIS

11) Na lei Orgânica são expostas no Art. 18 as obrigações dos Vereadores do Município de Serra Talhada (PE). Sobre este assunto analise as proposições abaixo:

- I. Dar posse ao Prefeito e ao Vice-Prefeito, conhecer de sua renúncia e afastá-los, definitivamente, do exercício do cargo, nos termos desta Lei.
- II. Conceder licença, para afastamento, ao Prefeito, ao Vice-Prefeito e aos Vereadores.
- III. Votar moção de censura pública ou mérito aos Secretários Municipais, representantes do poder público, e aos demais cidadãos em relação ao desempenho de suas funções.
- IV. Autorizar o Prefeito a ausentar-se do Município por mais de 15 (quinze) dias consecutivos.
- V. Autorizar a referendo e convocar plebiscito, exceto os casos previstos nesta Lei.

- A) Estão corretas apenas a I, II e III;
- B) Estão corretas apenas a II e IV;
- C) Estão corretas apenas a III, IV e V;
- D) Todas as alternativas estão corretas;
- E) Todas as alternativas estão incorretas.

12) As ações do Governo Municipal na Educação de Serra Talhada receberam o reconhecimento \_\_\_\_\_, a Medalha \_\_\_\_\_.

O Cerimonial de entrega da premiação aconteceu no Centro de Convenções em Olinda - PE, no dia 28 de abril de 2012. A secretaria Municipal de Educação esteve representada pelo Sr. Joaquim Alves da Silva, que assume a Pasta da Diretoria de Planejamento.

- A) Do Instituto Tiradentes de Minas Gerais; Instituição nota 10;
- B) Do Ministério da Educação e Cultura; Instituição nota 10;
- C) Do ENEAD; Jovens Talentos;
- D) Do Ministério da Educação e Cultura; Amigos da Escola;
- E) Do Instituto Tiradentes de Minas Gerais; Presidente Tancredo Neves - Mérito Educação.

13) Sobre os ilustres nomes que comandaram o Município de Serra Talhada (PE), alguns se destacam, começando as jornadas políticas com o Barão do Pajeú em 1892, até os dias de hoje. Qual desses senhores abaixo citados obtiveram o mandato maior:

- A) Hildo Pereira de Menezes;
- B) Sebastião Andrade Oliveira;
- C) José Ferdinando Feitosa;
- D) Augusto César E. de Carvalho;
- E) N.D.A.

14) Serra Talhada (PE) é bastante conhecida como a Capital do Xaxado, mas também por ter grandes personagens históricos talhadenses. Sobre estes nativos de Serra Talhada é **INCORRETO** afirmar:

- I. Agamenom Magalhães - Ministro da Justiça e do Trabalho no Governo Vargas, Interventor e depois Governador de Pernambuco, considerado um dos grandes "estadista" da política nacional.
- II. Solidônio Leite - Instrumentista, considerado um dos maiores do mundo.
- III. Moacir Santos - Filósofo.
- IV. Arnoud Rodrigues - Ator, escritor, humorista, compositor e cantor.
- V. Virgolino Ferreira da Silva (Lampião) - Figura emblemática que trafega entre o bem e o mal. Considerado o rei do Cangaço, Lampião "reinou" nos sertões de 1922 até 1938 quando foi morto numa emboscada em Sergipe. Considerado herói por alguns e bandido por outros, escreveu uma das principais páginas da história do Nordeste e do Brasil.

- A) Estão corretas apenas a I, II e III;
- B) Estão corretas apenas a II e III;
- C) Estão corretas apenas a I, IV e V;
- D) Estão corretas apenas a III, IV e V;
- E) Todas as alternativas estão corretas.

15) As melhores Secretarias Municipais de Educação do Brasil foram homenageadas durante o Congresso Nacional da Educação Pública Municipal, em Santa Catarina. A educação de Serra Talhada (PE) está incluída entre as cem e recebe o 10º Prêmio Educa

Brasil, na pessoa do secretário Israel Silveira. A Secretaria de Educação de Serra Talhada (SEST) obteve tal premiação devido a:

- A) O trabalho de inclusão e melhoria da qualidade do ensino e a política de valorização dos professores;
- B) Melhor estrutura física e equivalente aproveitamento do corpo docente da mesma;
- C) Mais alto percentual de capacitação profissional no programa de treinamento de mídias digitais;
- D) Terceira colocação nas Olimpíadas Nacionais de Ciências Exatas e suas Tecnologias;
- E) Segundo lugar Nacional no ENEM, nas escolas públicas.

16) Antonio Palocci anunciou a saída da casa civil e foi o primeiro ministro do governo da presidente Dilma Rousseff a deixar o cargo. O ex-chefe da Casa Civil anunciou sua saída no dia 7 de junho de 2011, quando foram divulgadas denúncias de que seu patrimônio aumentou 20 vezes em quatro anos, entre 2006 e 2010. Depois da renúncia de Palocci, quem assumiu seu lugar:

- A) Paulo Bernardo;
- B) Gleisi Hoffman;
- C) Moreira Franco;
- D) Helena Chagas;
- E) Celso Amorim.

17) O primeiro 7 de Setembro, Dia da Independência, da presidente Dilma Rousseff foi marcado por protestos em Brasília. Esta manifestação ocorreu a partir de mobilizações das pessoas nas redes sociais. Sobre esta manifestação é **CORRETO** afirmar:

- A) Foi uma Marcha a favor da Independência das mulheres e contra o machismo;
- B) Foi denominada Marcha Contra a Corrupção;
- C) Foi uma movimentação contra a homofobia;
- D) Foi organizado por jovens, contra as drogas;
- E) Foi uma manifestação em combate ao câncer de mama.

18) Começou tímida na Tunísia, ainda no final de 2010. Logo uma onda varreu o Oriente Médio e o norte da África. A revolta pelo fim dos regimes autoritários tomou conta de países. Sobre essas revoltas conhecidas como Primavera Árabe, responda: Qual ditador foi derrubado pelo povo primeiro:

- A) Hosni Mubarak;
- B) Muamar Kadafi;
- C) Zine El Abidine Bem Ali;
- D) Abdullah Saleh;
- E) Rei Hamed.

19) Sobre as atuações do IPHAN em Pernambuco, analise as proposições abaixo:

I. No município de Jaboatão dos Guararapes, executou-se obra de preservação na Igreja Nossa Senhora dos Prazeres.

II. Na cidade de Goiana, foi restaurada a Igreja Nossa Senhora do Amparo, após trabalho emergencial.

III. Com a participação dos monges carmelitas na contratação de mão-de-obra, a cobertura e as esquadrias da nave do Convento de Santo Alberto foram restauradas.

IV. Em Igarassu, a Igreja de São Cosme e São Damião teve sua rede elétrica refeita, ganhando nova iluminação, obras de recuperação do piso e da cobertura, com recursos e supervisão do IPHAN.

V. Em Olinda a igreja abacial do Mosteiro São Bento teve seus elementos artísticos restaurados, sobretudo o altar-mor; em operação que durou sete meses, envolvendo 30 profissionais.

Estão **CORRETAS** as afirmações:

- A) Apenas I, III e V;
- B) Apenas II, IV e V;
- C) Apenas III, IV e V;
- D) Apenas I e II;
- E) I, II, III, IV e V.

20) União para promover os estados do Nordeste no país e no exterior. Essa foi a tônica do discurso do secretário de Turismo de Pernambuco, Silvio Costa Filho, na apresentação, no Recife (PE), sobre os preparativos dos estados nordestinos para a Copa de 2014. A platéia é composta por empresários brasileiros e estrangeiros que participam do Encontro Internacional de Investimentos Imobiliários e Turísticos do Nordeste Brasileiro.

Qual das alternativas abaixo é uma cidade do Nordeste brasileiro que **NÃO** sediará a Copa do Mundo de 2014:

- A) Salvador;
- B) Recife;
- C) Natal;
- D) Ceará;
- E) Maceió.

## CONHECIMENTOS ESPECÍFICOS

21) Considerando a ordem de prevalência da sinalização de trânsito, assinale a alternativa **CORRETA**:

- A) Entre a faixa de pedestres e a luz verde do semáforo, prevalece a faixa de pedestres;
- B) Entre a ordem de seguir do Agente de Trânsito e a placa de PARE, prevalece a placa de PARE;
- C) Entre as indicações dos sinais e as demais normas de trânsito, prevalecem as indicações dos sinais;
- D) Entre as indicações dos semáforos e os demais sinais, prevalecem os demais sinais;
- E) N.D.A.

22) Assinale a alternativa que indica os órgãos consultivos e normativos do Sistema Nacional de Trânsito:

- A) CONTRAN e DENATRAN;
- B) JARI e CONTRANDIFE;
- C) Polícia Rodoviária Federal e Polícia Militar;
- D) CONTRAN, CETRAN e CONTRANDIFE;
- E) N.D.A.

23) Durante chuva forte, neblina ou cerração o condutor deverá, pelo menos, fazer o que:

- A) Ligar o pisca-alerta e reduzir a velocidade;
- B) Ligar as luzes de posição do veículo;
- C) Ligar a luz baixa do veículo;
- D) Ligar a luz alta do veículo;
- E) Fazer troca de luz baixa e alta de forma intermitente e reduzir a velocidade.

24) Assinale o caso que o proprietário do veículo tem 30 dias de prazo para providenciar o novo Certificado de Registro do Veículo:

- A) O proprietário muda o Município de domicílio ou residência;
- B) Alteração de qualquer característica do veículo;
- C) Mudança de categoria do veículo;
- D) Transferência de propriedade;
- E) Transferência de domicílio ou residência dentro do mesmo Município.

25) São equipamentos obrigatórios, a serem constatados pela fiscalização em perfeitas condições de funcionamento, exigidos nos veículos automotores e ônibus elétricos, **EXCETO**:

- A) Buzina, pára-sol para o condutor e passageiro e extintor de incêndio;
- B) Para-choques dianteiro e traseiro, limpador de pára-brisa e velocímetro;
- C) Lavador de pára-brisa, cinto de segurança para a árvore de transmissão em veículos de transporte coletivo e carga, e lanternas de freio de cor vermelha;
- D) Chave de fenda ou outra ferramenta apropriada para a remoção de calotas, chave de roda e macaco compatível com o peso e a carga do veículo;
- E) N.D.A.

26) É medida administrativa aplicada a quem dirigir ameaçando os pedestres que estejam atravessando a via pública, ou os demais veículos:

- A) Multa e apreensão do veículo;
- B) Retenção do veículo e recolhimento do documento de habilitação;
- C) Multa e suspensão do direito de dirigir;
- D) Remoção do veículo e recolhimento do documento de habilitação;
- E) Não há medida administrativa para esta infração.

27) Um condutor poderá estacionar seu veículo a no mínimo \_\_\_\_\_ do bordo do alinhamento da via transversal. Assinale a alternativa que preenche **CORRETAMENTE** a lacuna da questão:

- A) 5 metros;
- B) 6 metros dependendo da via;
- C) Uma distância entre 50 cm e 1 metro;
- D) Uma distância inferior a 50 centímetros;
- E) Depende da via. A linha de bordo da via transversal não impõe restrições ao estacionamento dos condutores, logo não há distância mínima.

28) Tício conduzia seu veículo por uma via arterial com velocidade limitada a 50 km/h. Em certo ponto acelerou demais e foi pego pela fiscalização eletrônica a 61 km/h. Assinale a infração cometida e as punições cabíveis:

- A) Infração gravíssima, multa de R\$ 191,44;
- B) Infração gravíssima, multa de R\$ 574,32, suspensão imediata do direito de dirigir e apreensão do documento de habilitação;
- C) Infração leve, multa de R\$ 53,20;
- D) Infração média, multa de R\$ 85,13;
- E) Infração grave, multa de R\$ 127,69.

29) Veja esta situação: Seu Ratinho, todos os dias, tem que levar para escola seus quatro filhos, Caroço, Azeitona, Rodela, e Marquito, todos menores de 10 anos, porém o seu automóvel só tem capacidade e cinto de segurança para três no banco traseiro. Assinale a medida que Seu Ratinho deve tomar para, da forma mais econômica, resolver este problema sem cometer infração de trânsito:

- A) Colocar o mais velho no banco dianteiro e os demais no banco traseiro, todos usando cinto de segurança ou equipamento de retenção equivalente;
- B) Tem que comprar um veículo maior ou fazer duas viagens, pois as crianças menores de 10 anos só podem ser transportadas no banco traseiro usando cinto de segurança ou equipamento de retenção equivalente;
- C) Como criança ocupa menos espaço, se couber, ela pode transportar os quatro no banco traseiro usando o cinto de segurança ou equipamento de retenção equivalente;
- D) Colocar o de menor estatura no banco dianteiro e os demais no banco traseiro, todos usando cinto de segurança ou equipamento de retenção equivalente;
- E) Colocar o de maior estatura no banco dianteiro e os demais no banco traseiro, todos usando cinto de segurança ou equipamento de retenção equivalente.

30) Marque a alternativa que contém todas as cores da sinalização horizontal:

- A) Amarela, preta, branca, vermelha, azul, verde, laranja, marrom;
- B) Verde, amarela e vermelha;

- C) Amarela, vermelha, branca, azul e preta;
- D) Azul, preta, verde, branca, laranja e cinza;
- E) Branca e amarela.

31) Com relação aos condutores e aos veículos destinados especialmente a condução de escolares. Julgue os itens abaixo e assinale a alternativa que traz a sequência **CORRETA**.

São exigências dentre outras:

I. Inspeção Anual para verificação dos equipamentos obrigatórios e de segurança do veículo.





II. Registro como veículo de Passageiros.

III. Conductor habilitado para categoria "B" ou "D", dependendo da lotação máxima do veículo.

IV. Conductor não ter cometido nenhuma infração durante os doze últimos meses.

- A) F, V, V, F;
- B) F, V, F, V;
- C) F, F, V, F;
- D) F, V, F, F;
- E) V, F, F, V.

32) É muito importante que os Agentes conheçam bem a sinalização de trânsito, pois é com base nesse conhecimento que serão aplicadas as penalidades, advertidos condutores e orientado o trânsito dos usuários de maneira geral. Assinale a alternativa que traz a sequência **CORRETA** entre a placa e o seu significado:

- 1. 
- 2. 
- 3. 
- 4. 

- Junções sucessivas contrárias primeira à esquerda.
- Confluência à esquerda.
- Entroncamento oblíquo à esquerda.
- Pista Dividida.

- A) 3, 2, 1, 4;
- B) 3, 1, 2, 4;
- C) 4, 1, 2, 3;
- D) 1, 2, 3, 4;

E) 4, 3, 2, 1.

33) Todas infrações de trânsito preveem multa como penalidade, contudo os valores variam de acordo com tipo de infração cometida. Assinale a alternativa que indicar o intervalo entre o menor e o maior valor previsto na Legislação de trânsito, considerando os valores em R\$ e sem desconto:

- A) De R\$53,20 à R\$957,70;
- B) De R\$53,20 à R\$191,54;
- C) De R\$42,56 à R\$153,23;
- D) De R\$50,00 à R\$180,00;
- E) De R\$53,20 à R\$1149,24.

34) Julgue com **V** ou **F**, as assertivas abaixo e depois assinale a opção que contém a sequência **CORRETA**:

Em um cruzamento não sinalizado a preferência será sempre do veículo que circula à direita do condutor.

A circulação dos veículos será feita pelo direito da via, admitindo-se exceções devidamente sinalizadas.

Os veículos de utilidade pública terão prioridade de passagem, respeitadas as demais normas de circulação.

Os veículos de emergência gozam de prioridade de trânsito, quando realizando serviço de urgência, desde que estejam devidamente identificados por dispositivos regulamentares de alarme sonoro e iluminação vermelha intermitente.

- A) F, V, F, V;
- B) V, F, V, V;
- C) V, V, V, V;
- D) F, F, F, F;
- E) V, F, V, F.

35) Com relação aos direitos e deveres dos pedestres, julgue com **V** ou **F** as assertivas abaixo e depois assinale opção que contém a sequência **CORRETA**:

O ciclista desmontado, empurrando a bicicleta equipara-se ao pedestre em direitos e deveres.

Os pedestres devem sempre utilizar as faixas ou passagens a eles destinadas sempre que estas existirem numa distância de até 100 metros.

Onde não houver faixa ou passagem sinalizada o cruzamento deverá ser feito em sentido diagonal ao de seu eixo.

O pedestre, nas vias urbanas, poderá utilizar a pista de rolamento quando não existir calçada ou quando esta estiver interrompida, impedindo sua livre circulação.

- A) F, V, V, F;
- B) V, F, V, F;
- C) F, V, F, V;
- D) V, V, V, V;

E) V, F, F, V.

36) Indique os atos que podem ser praticados pela Autoridade de Trânsito ou por seus Agentes:

- A) Aplicação de multa, retenção de veículo, remoção de veículo e transbordo do excesso de carga;
- B) Transbordo do excesso de carga, apreensão do veículo, cassação da CNH e suspensão do direito de dirigir;
- C) Retenção de veículo, remoção de veículo, recolhimento de CNH e transbordo do excesso de carga;
- D) Aplicação de multa, apreensão do veículo, advertência por escrito e cassação da CNH;
- E) Advertência por escrito, frequência obrigatória em curso de reciclagem, cassação da Permissão para dirigir e retenção do veículo.

37) O Agente deve ter clareza na definição dos elementos que fazem parte do seu dia a dia no trânsito. Faça a ligação entre o elemento e sua definição e assinale a alternativa que indicar a sequência **CORRETA**:

1. Veículo de propulsão humana utilizado no transporte de pequenas cargas.
2. Obra de arte destinada à transposição de vias, em desnível aéreo, e ao uso de pedestres.
3. Obra de construção civil destinada a transpor uma depressão de terreno ou servir de passagem superior.
4. Veículo de duas rodas, dirigido por condutor em posição sentada.
5. Veículo de pelo menos duas rodas a propulsão humana.

- Ciclo.
- Viaduto.
- Passarela.
- Motoneta.
- Carro de Mão.

- A) 1, 2, 3, 4, 5;
- B) 5, 2, 3, 4, 1;
- C) 1, 3, 2, 4, 5;
- D) 5, 3, 2, 4, 1;
- E) 4, 3, 2, 5, 1.

38) Faça a relação entre a descrição do tipo de veículo e a menor categoria de habilitação exigida para dirigi-lo e assinale a sequência **CORRETA**:

1. Categoria "A".
2. Categoria "B".
3. Categoria "C".
4. Categoria "D".
5. Categoria "E".

Veículo motorizado utilizado em transporte de carga, cujo peso bruto total exceda a três mil e quinhentos quilogramas.

Veículo motorizado utilizado no transporte de passageiro, cuja lotação exceda a oito lugares, excluído o do motorista.

Veículo motorizado de duas ou três rodas, com ou sem carro lateral.

Veículo motorizado, não incluído as motocicletas e demais veículos similares, cujo peso bruto total não exceda a três mil e quinhentos quilogramas e cuja lotação não exceda a oito lugares, excluído o do motorista.

- A) C, D, A, B;
- B) D, C, A, B;
- C) C, E, B, A;
- D) B, D, A, C;
- E) E, B, A, D.

39) O Agente de Trânsito emana suas ordens aos condutores através da utilização de gestos e apitos. Com relação a este assunto responda:

Quando o agente sopra três silvos longos ele está que o condutor.

- A) Pare o veículo;
- B) Siga na direção que ele indica;
- C) Acenda os faróis;
- D) Reduza a marcha;
- E) Este silvo não existe na legislação vigente.

40) Assinale a alternativa que traz a classificação **CORRETA** das vias abertas à circulação:

- A) Urbanas e rurais;
- B) Rodovias e estradas;
- C) Local, coletora, arterial e trânsito rápido;
- D) Preferenciais e secundárias;
- E) Municipais, estaduais e federais.