

## LÍNGUA PORTUGUESA 10 QUESTÕES

Texto para as questões 1, 2 e 3

**O resistente camelo**

Há imensos desertos de areia na Arábia e na África. O clima ali é quente e seco. Existem longas extensões no deserto em que não há água.

As pessoas não poderiam ir muito longe nele se não tivessem ajuda. Mas elas têm a ajuda do camelo.

O camelo pode transportar uma pessoa, além de um fardo pesado. E ele não se importa de viver no deserto. Isso porque tem muitas vantagens que outros animais não têm.

Às vezes, o vento sopra no deserto e a areia acaba entrando em tudo: por exemplo, nos olhos, ouvidos e nariz das pessoas. Mas não nos do camelo. Ele tem longos cílios que impedem a areia de entrar em seus olhos. Não entra nos ouvidos, porque ele possui pelos protegendo as orelhas. E tem a capacidade de fechar as narinas para que a areia não entre.

A boca do camelo não é tão delicada quanto a dos outros animais. Ele é capaz de comer as plantas espinhosas do deserto sem machucá-la.

As patas do camelo são grandes e chatas e não afundam na areia macia. Ele consegue andar trinta milhas num dia e passar vários dias sem comer nem beber.

Mas é claro que, como todo mundo, ele também precisa de comida e água para viver. Só que não tão frequentemente quanto os outros animais. Quando tem comida, ele come muito. E guarda em sua corcunda. Quando tem água, também bebe um bocado. E conserva-a em outras partes do corpo. Depois vai usando a comida e a bebida à medida que vai necessitando.

O camelo não é um animal amigável nem se importa com os seres humanos. Mas, para os povos do deserto, é um animal extremamente importante.

*Leonora e Arthur Hornblow*

**01. De acordo com o texto, o camelo tem algumas vantagens em relação aos outros animais que vivem no deserto. Assinale a única alternativa INCORRETA, sobre essas vantagens.**

- A. Seus olhos e orelhas são protegidos por cílios e pelos que impedem a areia de entrar.

- B. Suas narinas também são protegidas da areia por pelos muito grossos.
- C. A boca do camelo é tão resistente que ele é capaz de comer plantas espinhosas sem se machucar.
- D. Graças ao tamanho e ao formato de suas patas, o camelo não afunda na areia macia.
- E. O camelo é capaz de passar vários meses sem comer nem beber.

**02. Por que o camelo não precisa de água nem de alimento com a mesma frequência que os outros animais?**

- A. O camelo é um animal resistente e acostumado com a vida difícil nos desertos de areia, portanto pode passar meses sem beber água e nada acontece a ele.
- B. A boca do camelo, que não é delicada, possui um reservatório onde ele armazena água e alimento por vários dias.
- C. Diferentemente dos outros animais do deserto o camelo não precisa beber muita água, pois o seu organismo possui uma substância que libera um líquido necessário para sua sobrevivência.
- D. O camelo guarda o que come e a água que bebe em sua corcunda e em outras partes do corpo, depois vai usando à medida que vai necessitando.
- E. O camelo consegue andar trinta milhas num dia e passar vários dias sem comer nem beber porque recebeu treinamento para resistir a fome e a sede.

**03. De acordo com o texto o que significa: "O camelo não é um animal amigável e nem se importa com os seres humanos"?**

- A. Apesar de dócil e domesticado, o camelo prefere a companhia de outros animais que vivem no deserto.
- B. Significa que o camelo não é um animal que se relaciona com os seres humanos, ele não dá atenção para humanos.
- C. Porque a função do camelo é somente de transportar pessoas pelo deserto.
- D. O camelo, apesar de viver no deserto, só se adapta com as pessoas que vivem na mesma região.
- E. A vida do camelo junto aos humanos é triste e cansativa, pois é muito grande a exploração e os maus tratos.

**04. Classificou-se, corretamente, a palavra dada em:**

- A. Lâmpada – paroxítona.
- B. Ideia – tritongo.
- C. História – proparoxítona.
- D. Bombom – oxítona.
- E. Flor – monossílabo átono.

**05. Marque a alternativa em que todas as palavras são masculinas.**

- A. Apêndice, champanha, guaraná.
- B. Alvará, dinamite, omoplata.
- C. Omelete, aguardente, sentinela.
- D. Cal, telefonema, comichão.
- E. Análise, hélice, cataplasma.

**06. Preencha as lacunas com D para dígrafo e EC para encontro consonantal.**

- ( ) blusa, crítica, faísca
- ( ) Garfo, pneu, cascavel
- ( ) exceção, palha, discípulo
- ( ) desça, assassino, equivaler

**Assinale a alternativa com a sequência correta:**

- A. D, EC, EC, D.
- B. EC, EC, D, D.
- C. D, EC, D, EC.
- D. EC, D, EC, D.
- E. D, D, EC, EC.

**07. "Muitos atletas brasileiros atuam na Europa". Nesta oração o tipo de sujeito é:**

- A. Sujeito composto.
- B. Sujeito simples.
- C. Sujeito oculto.
- D. Oração sem sujeito.
- E. Sujeito indeterminado.

**08. Assinale a alternativa em que a oração possui predicado verbal.**

- A. O dia amanheceu cinzento.

- B. Santos Dumont foi o inventor de talento.
- C. Os alunos ouviam a aula atentos.
- D. O futebol é uma paixão séria.
- E. O exército americano chegou ao Brasil.

**09. Marque a única alternativa em que não há ERRO na formação do plural do substantivo**

- A. Todos os escrivãos abandonaram a delegacia da cidade.
- B. Os irmãos abraçaram-se comovidos.
- C. Muitos cidadãos protestaram contra a poluição ambiental.
- D. Os antigos gregos e romanos eram povos pagãos.
- E. Ganhei seis lindas colherzinhas de prata.

**10. Leia a frase do quadro abaixo:**



**Na frase há:**

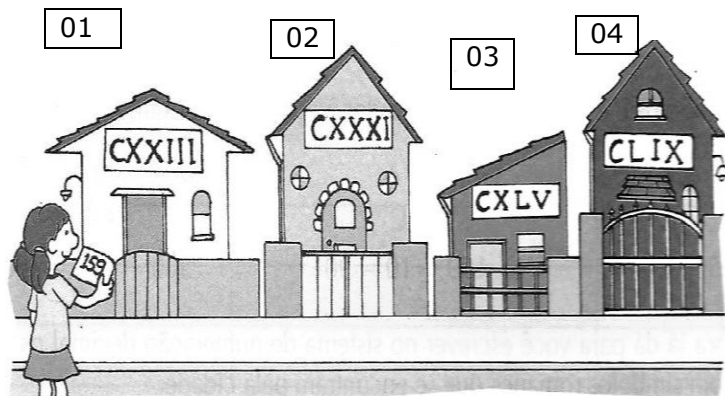
- A. 1 artigo 2 numerais.
- B. 3 adjetivos e 1 verbo.
- C. 2 pronomes e 2 advérbios.
- D. 1 adjetivo e 3 verbos.
- E. 3 pronomes e 3 adjetivos.

### MATEMÁTICA 05 QUESTÕES

**11. Num avião havia 128 passageiros. Em uma cidade desceram 53 passageiros e subiram 65. Quantos passageiros seguiram a viagem no avião?**

- A. 140 passageiros.
- B. 75 passageiros.
- C. 118 passageiros.
- D. 183 passageiros.
- E. 63 passageiros.

12. Lina está com número 159 anotado em um cartão. Qual das casas abaixo a Lina está procurando?



- A. O número da casa 01.
- B. O número da casa 02.
- C. O número da casa 03.
- D. O número da casa 04.
- E. Nenhuma das casas acima.

13. Uma bibliotecária recebeu alguns pacotes com 657 livros no total. Ela quer distribuir esses livros igualmente em 14 estantes. Quantos livros deverá colocar em cada estante? Quantos livros sobrarão nos pacotes?

- A. A bibliotecária deverá colocar 46 livros em cada estante e sobrarão 15 livros nos pacotes.
- B. A bibliotecária deverá colocar 46 livros em cada estante e sobrarão 12 livros nos pacotes.
- C. A bibliotecária deverá colocar 26 livros em cada estante e sobrarão 13 livros nos pacotes.
- D. A bibliotecária deverá colocar 36 livros em cada estante e sobrarão 13 livros nos pacotes.
- E. A bibliotecária deverá colocar 46 livros em cada estante e sobrarão 13 livros nos pacotes.

14. Sara, Vanda e Silvia encomendaram uma pizza, que veio dividida em 8 pedaços. Sara comeu 2 pedaços, Vanda, 3 pedaços e Silvia somente 1 pedaço. Que fração da pizza sobrou?

- A.  $\frac{4}{8}$
- B.  $\frac{3}{8}$

- C.  $\frac{8}{8}$
- D.  $\frac{2}{8}$
- E.  $\frac{1}{8}$

15. Leia o anúncio abaixo:

## Condomínio Sete Torres



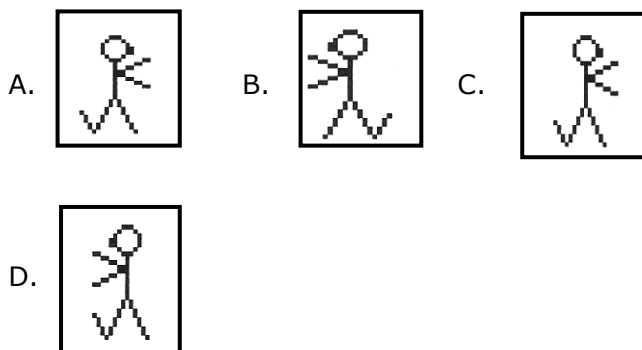
**7 magníficos edifícios**  
**5 andares em cada um**  
**2 apartamentos por andar**

Quantos apartamentos há ao todo nesse condomínio?

- A. 77 apartamentos.
- B. 72 apartamentos.
- C. 70 apartamentos.
- D. 74 apartamentos.
- E. 76 apartamentos.

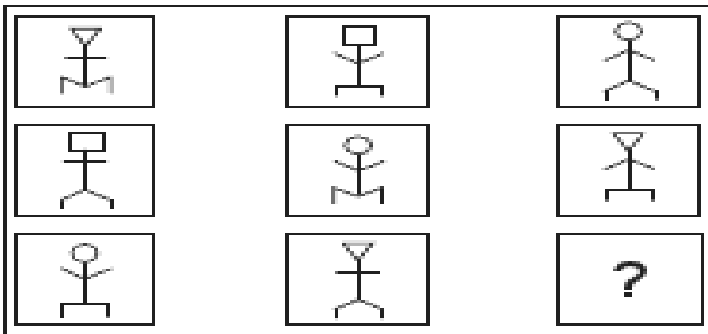
**RACIOCÍNIO LÓGICO 05 QUESTÕES**

16. Qual das figuras não pertence ao grupo abaixo?



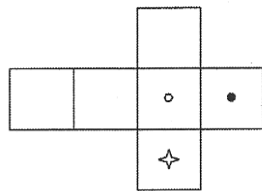
- E. Todas as figuras pertencem ao mesmo grupo.

17. Observe atentamente as figuras abaixo e assinale a alternativa com a figura que deverá substituir corretamente o ponto de interrogação.



- A.
- B.
- C.
- D.
- E.

18. A figura ao lado foi desenhada em cartolina e dobrada de modo a formar um cubo. Qual das alternativas mostra o cubo assim formado?



- A.
- B.
- C.
- D.
- E.

19. Carlindo sempre mente nas terças-feiras, quintas-feiras e sábados e, no restante dos dias da semana, sempre fala a verdade. Um dia, Afonsinho encontra Carlindo e ocorre o diálogo seguinte.

- Afonsinho pergunta: Que dia é hoje?
- Carlindo responde: Sábado.
- Afonsinho pergunta: E que dia será amanhã?
- Carlindo responde: Quarta-feira.

Em que dia da semana Afonsinho encontrou Carlindo?

- A. Domingo.
- B. Terça-feira.
- C. Quarta-feira.
- D. Quinta-feira.
- E. Sábado.

20. Observe a figura do lado e assinale a alternativa que representa a sua vista frontal.



- A.
- B.
- C.
- D.
- E.

**CONECIMENTOS ESPECIFICOS 20 QUESTÕES**

21. Analise as afirmações referentes a Ética Profissional:

- 1) Comparecer todos os dias no trabalho é mais importante do que cumprir com horário.
- 2) Evitar falar em tom áspero com as pessoas na frente de estranhos, querer humilhar ou diminuir as pessoas.

**3) Para manter um ambiente de trabalho saudável é necessário ser tolerante e flexível, é saber ouvir as pessoas.**

**Marque a opção que apresenta os itens CORRETOS:**

- A. Todos os itens estão corretos.
- B. Apenas os itens 1 e 2 estão corretos.
- C. Apenas os itens 2 e 3 está correto.
- D. Apenas os itens 1 e 3 estão corretos.
- E. Todos os itens estão incorretos.

**22. Ter um bom relacionamento no ambiente de trabalho é muito importante para a convivência do dia a dia. Sobre relacionamento/convivência no ambiente de trabalho assinale a alternativa INCORRETA.**

- A. No nosso ambiente de trabalho, o relacionamento profissional deve ser sempre cordial, amigável e respeitoso.
- B. O profissional precisa saber a diferença entre um contato amigável de um contato mais "íntimo", por isso, devemos prestar muita atenção se nossas atitudes estão adequadas ao nosso ambiente de trabalho.
- C. O relacionamento com o passar do tempo com as mesmas pessoas no dia a dia, tende a ficar mais próximo e com isso é normal começar a deixar de ser profissional para ser pessoal.
- D. Um relacionamento não pode ser somente profissional, mas o cuidado com as informações e atitudes pessoais é importantíssimo.
- E. Saiba ser tolerante com quem ainda não compreendeu seu temperamento ou seu estilo de vida. Faça amigos, seja pró-ativo e participativo.

**23. O costume de limpeza deve fazer parte do cotidiano de qualquer pessoa, pois limpeza traz benefícios para a vida de todos. Coloque nos parênteses V (Verdadeiro) ou F (Falso) nas afirmativas abaixo que fazem citação aos benefícios da prática da limpeza.**

- ( ) Ambiente de trabalho torna-se mais arejado, confortável.
- ( ) Identificação das falhas aparentes nos equipamentos, antes que o problema se agrave.

( ) Bons hábitos de higiene, além de promoverem a saúde, ajudam na prevenção de muitas doenças infecto-contagiosas, que geralmente são encontradas em locais inadequados provenientes de baixos padrões de higiene.

( ) Diminuição da vida útil dos equipamentos.

A ordem correta, de cima para baixo, é:

- A. V, F, V, F.
- B. V, V, V, F.
- C. F, V, F, V.
- D. F, F, F, V.
- E. V, F, F, V.

**24. Segurança do Trabalho é o conjunto de recursos e técnicas aplicadas preventiva ou corretivamente, para a proteção do homem contra os riscos de acidentes oferecidos na realização de uma tarefa. O equipamento de proteção individual para o trabalho que envolva objetos elétricos é:**

- A. Capa.
- B. Máscara.
- C. Luva de borracha.
- D. Luva de tecido aflanelado.
- E. Óculos com lentes filtrantes.

**25. Sobre Segurança do Trabalho é correto afirmar:**

- A. É uma responsabilidade inerente à totalidade dos integrantes de uma instituição.
- B. É possível a aquisição de Equipamento de Proteção Individual fora dos requisitos de segurança.
- C. São dispensáveis sugestões ou informações que visem à melhoria da segurança do trabalho.
- D. Sugestões ou informações visando à melhoria da segurança do trabalhador podem ser consideradas desde que sejam preenchidos os formulários de compra de equipamentos.
- E. É dispensável esclarecer e conscientizar todos os trabalhadores de uma determinada repartição sobre acidentes do trabalho e doenças ocupacionais, estimulando-os em favor da prevenção.

**26. Lavar as roupas de maneira adequada ajuda a aumentar:**

- A. As manchas nas peças.
- B. A brancura das peças.
- C. A sujeira das peças.
- D. A durabilidade das peças.
- E. O desbotamento das peças.

**27. Coloque (V) para verdadeiro e (F) para falso**

- ( ) Separar as roupas para lavar é o primeiro passo para uma boa lavagem. Primeiramente, deve se separar as roupas pela cor: faça uma pilha para peças brancas, outra para as peças de cores claras e uma última para as peças de cores escuras.
- ( ) Separe a pilha escura em duas outras: uma com itens que desbotam e outra com os que não desbotam.
- ( ) Separe cada pilha com base na quantidade de sujeira: pouco suja, moderadamente suja e muito suja.
- ( ) Junte os itens brancos e de cores claras com o mesmo grau de sujeira em uma mesma pilha e crie uma pilha à parte para as roupas delicadas que precisam ser lavadas à mão.
- ( ) Separe as peças brancas de tecido sintético e lave-as somente com as de tecido branco e separe os tecidos sintéticos, os mistos e os que não amassam, dos tecidos naturais.

**Assinale a alternativa que contém a seqüência correta cima para baixo:**

- A. F, F, F, F, F.
- B. V, F, F, V, V.
- C. V, V, V, V, F.
- D. F, F, F, V, V.
- E. V, V, F, F, F.

**28. Com relação à noção de acidente de trabalho, assinale a alternativa CORRETA correspondente:**

- A. Ferimento produzido pelo exercício do trabalho.
- B. Acidentes de trânsito após o horário do expediente.
- C. Acidentes domésticos.
- D. Doenças genéticas ou hereditárias.
- E. Acidentes ocorridos nas férias do trabalhador.

**29. Qual das alternativas abaixo NÃO corresponde a um equipamento de proteção individual.**

- A. Bota.
- B. Luva.
- C. Material de limpeza.
- D. Máscara.
- E. Capacete.

**30. Das alternativas abaixo, 1 (uma) NÃO faz parte das maneiras corretas da segurança no trabalho.**

- A. Dirigir de acordo com os limites de velocidade fixados no Código de Trânsito Brasileiro.
- B. Subir no telhado utilizando cinto de segurança contra quedas.
- C. Ligar tomadas de aparelhos elétricos com as mãos molhadas.
- D. Seguir as recomendações de segurança afixadas no ambiente de trabalho.
- E. Usar de maneira cuidadosa produtos químicos, respeitando sempre as orientações de segurança.

**31. Das alternativas abaixo, qual o método considerado correto no que diz respeito aos procedimentos de limpeza dos sanitários:**

- A. Dar descarga apenas nos mictórios.
- B. Manter as janelas fechadas durante a limpeza.
- C. Nunca dar descarga nos vasos sanitários, pois esta não é sua função.
- D. Iniciar a limpeza dos sanitários independente de usar ou não uma placa de aviso.
- E. Dar descarga nos vasos sanitários com as tampas abaixadas.

**32. No tocante aos cuidados com manuseio e diluição de produtos, assinale a alternativa mais adequada a ser realizada pelo profissional de Lavanderia:**

- A. Sempre retirar os rótulos das embalagens.
- B. É aconselhável misturar produtos para obter melhor rendimento.
- C. Respeitar a diluição recomendada pelo fabricante.
- D. Guardar os produtos em locais fechados e pouco ventilados.
- E. Se for impossível identificar o produto, utilizá-lo conforme achar que deve.

**33. Em relação à limpeza de pias, cubas e bancadas, marque a alternativa correta:**

- A. Não secar as pias, cubas e bancadas.
- B. Não esperar o produto (detergente germicida) agir e esfregar imediatamente.
- C. Borrifar o detergente germicida na bancada, torneiras, cubas e registros.
- D. A limpeza dos encanamentos e parte inferior das pias é desnecessária.
- E. Evitar o uso de esponjas.

**34. Marque a alternativa CORRETA no que se refere à lavagem de roupas:**

- A. Lave juntamente roupas coloridas e brancas.
- B. Só dissolva o sabão após colocar as roupas.
- C. Roupas coloridas devem permanecer de molho.
- D. Depois de efetuar a lavagem, certifique-se da remoção de toda a espuma.
- E. Deixe as roupas de molho por uma hora ou mais.

**35. Na lavanderia, as roupas só podem ser recebidas mediante:**

- A. Solicitação.
- B. Rol.
- C. Comanda.
- D. Relatório.
- E. Papel.

**36. Todo cuidado é pouco quando o profissional de lavanderia manuseia das roupas sujas, por isso é importante o uso de:**

- A. Capacetes e luvas.
- B. Máscaras e bonés.
- C. Luvas e aventais.
- D. Luvas e máscaras.
- E. Máscaras e botas.

**37. No que se refere às noções de processamento de roupas de serviço de saúde a lavanderia hospitalar possui duas áreas distintas: área limpa e área suja, que devem ser separadas para evitar a dispersão de microorganismos e a recontaminação da roupa limpa. Com relação às atividades desenvolvidas nessas áreas, relacione a primeira coluna à segunda e, em seguida, assinale a opção correta.**

I – área limpa

II – área suja

- ( ) calandragem das roupas
- ( ) separação das roupas
- ( ) expedição das roupas
- ( ) recebimento das roupas
- ( ) embalagem e estocagem
- ( ) costura ou reparo

**A sequência correta é:**

- A. I, II, I, II, I, I.
- B. I, I, I, II, I, II.
- C. II, II, I, I, I, I.
- D. II, II, I, II, I, II.
- E. I, I, I, II, II, I.

**38. Numere ordenadamente as etapas e assinale a opção que apresenta a sequência cronológica correta.**

- ( ) separação
- ( ) secagem
- ( ) coleta e transporte
- ( ) lavagem e centrifugação
- ( ) calandragem

**A sequência correta é:**

- A. 1, 4, 5, 3, 2.
- B. 2, 5, 1, 3, 4.
- C. 3, 4, 2, 5, 1.
- D. 4, 5, 2, 3, 1.
- E. 2, 4, 1, 3, 5.

**39. Ao lavar roupas, é correto afirmar:**

- A. Separe as roupas de acordo com o tipo ou quantidade de sujeira.
- B. Lave os artigos de puro algodão juntamente com os tecidos mistos.
- C. Coloque a dosagem de sabão de acordo com a sua experiência.
- D. Despeje o amaciante diretamente nas roupas para melhorar sua ação.
- E. Deixe a torneira aberta durante todo o tempo da lavagem.

**40. Assinale a alternativa que não corresponde a uma função de um profissional de lavanderia.**

- A. Manter os ambientes limpos.
- B. Varrer os ambientes.
- C. Fazer a manutenção dos aparelhos televisores.
- D. Remover o lixo.
- E. Remover o pó.