



PREFEITURA MUNICIPAL DE PRESIDENTE DUTRA - MA

Concurso Público para o Provimento do cargo de



FISCAL DE TRIBUTOS

LEIA AS INSTRUÇÕES:

- 1) Você deve receber do fiscal, além deste caderno contendo 40 (quarenta) questões objetivas, um cartão-resposta destinado às respostas objetivas da prova;
- 2) Verifique se este material está completo e se seus dados pessoais conferem com aqueles constantes do cartão-resposta. Caso contrário, informe ao fiscal de sala.
- 3) O tempo de duração da prova é de 03 (três) horas ininterruptas. Só será permitido ao candidato entregar sua prova após 01 (uma) hora do início da mesma, **sob pena de ser eliminado do certame**.
- 4) Ao término da prova, o candidato deverá assinar a lista de presença e o cartão-resposta e entregar ao Fiscal o seu caderno de questões, **sob pena de ser eliminado do certame**.
- 5) Será excluído do certame o candidato que não assinar o cartão resposta ou assinar fora do local indicado, bem como aquele que rubricar, abreviar o pré-nome ou o nome, ou assinar com letra de forma.
- 6) Tenha cuidado com o seu cartão-resposta, para não dobrar, amassar ou manchar, pois este é personalizado e não será substituído em hipótese alguma.
- 7) Para cada uma das questões são apresentadas cinco alternativas e somente uma responde adequadamente ao quesito proposto. A marcação em mais de uma alternativa anula a questão, mesmo que uma das respostas esteja correta. As marcações rasuradas no cartão-resposta anulam a questão.
- 8) No cartão-resposta, a marcação das letras correspondentes às respostas de sua opção, deve ser feita com o preenchimento de todo o espaço do campo reservado para tal fim, conforme modelo ex:
- 9) As Provas Objetivas e os gabaritos serão divulgados no segundo dia útil após a realização das mesmas, no endereço eletrônico www.institutoludus.com.br a partir das 18:00h;
- 10) Por motivo de segurança não será permitido ao candidato fazer uso de qualquer tipo de anotações que não seja o rascunho parte integrante desta Prova que será destacado na hora da entrega pelo fiscal de sala. Caso o candidato seja surpreendido com qualquer outro tipo de anotações em documentos que não seja o previsto acima, **será eliminado do certame**.

FOLHA DE ANOTAÇÃO DO GABARITO: ATENÇÃO: Esta parte somente deverá ser destacada pelo fiscal da sala, após o término da prova.

01	02	03	04	05	06	07	08	09	10	11	12	13	14	15	16	17	18	19	20
21	22	23	24	25	26	27	28	29	30	31	32	33	34	35	36	37	38	39	40

EM BRANCO

INSCRIÇÃO:

--	--	--	--	--	--

ASSINATURA: _____

Leia o texto seguinte

Vai Passar

Chico Buarque

Vai passar nessa avenida um samba popular
Cada paralelepípedo da velha cidade essa noite vai se arrepiar
 Ao lembrar que aqui passaram sambas imortais
 Que aqui sangraram pelos nossos pés
 Que aqui sambaram nossos ancestrais
 Num **tempo página** infeliz da nossa história,
 passagem **desbotada** na memória
 Das nossas novas gerações
 Dormia a nossa pátria mãe tão distraída sem perceber que
 era subtraída
 Em **tenebrosas transações**
 Seus filhos erravam cegos pelo **continente**,
 levavam pedras feito penitentes
 Erguendo estranhas catedrais
 E um dia, afinal, tinham o direito a uma alegria fugaz
 Uma ofegante epidemia que se chamava carnaval,
 o carnaval, o carnaval
 Vai passar, palmas pra ala dos barões famintos
 O bloco dos napoleões **retintos** e os pigmeus do
 boulevard
 Meu Deus, vem olhar, vem ver de perto uma cidade a
 cantar
 (...)

01. Assinale a alternativa **INCORRETA**.

- a) segundo o texto, o carnaval é uma alegria transitória.
- b) o adjetivo infeliz se reporta à expressão “tempo página”.
- c) a expressão tenebrosas transações, o vocábulo tenebrosas pode, sem prejuízo ao sentido original do texto, ser substituído pelo vocábulo “*indignas*”.
- d) o texto retrata um período específico da história do Brasil, a ditadura militar pós-1964.
- e) no texto, a palavra “desbotada” assume o mesmo significado da palavra deslustrada.

02. “Cada paralelepípedo da velha cidade essa noite vai se arrepiar”. No verso observa-se uma figura de linguagem identificada como

- a) metáfora
- b) metonímia
- c) prosopopeia
- d) hipérbole
- e) antonomásia

03. O que faz cada paralelepípedo se arrepiar é

- a) a lembrança de uma página infeliz da nossa história
- b) lembrar que, enquanto a pátria dormia, a nação era subtraída.
- c) o carnaval.
- d) a cidade a cantar.
- e) a lembrança dos sambas imortais, os quais sangraram pelos pés do poeta e seus pares.

04. “Seus filhos **erravam** cegos pelo continente...”. Por qual dos termos, postos nas alternativas seguintes, o termo grifado pode ser substituído sem que seja modificado o sentido original do texto.

- a) vagueavam
- b) injuriavam
- c) desacertavam
- d) claudicavam
- e) passeavam

05. Assinale a alternativa **correta**.

- a) No texto, o vocábulo retintos tem o mesmo significado de “cores escuras”.
- b) Para o poeta, há sambas que não são populares.
- c) Pelo que canta o poeta, pode-se concluir que o termo “continente” é uma referência à Europa.
- d) A palavra “pátria” é a palavra “página” são acentuadas por força da mesma regra gramatical de acentuação.
- e) Boulevard, no texto, se refere a um teatro.

06. Diálogo informal entre Maria, uma bela morena de *Barra do Corda*, e Pedro Babaçu, durante o carnaval de 2012:

Maria, sentindo que Pedro tenciona namorá-la: – Nunca gostei de “arrumar” namorado no Carnaval....

Pedro: – Por quê?

Maria: – No carnaval, as pessoas são ou se tornam muito volúveis. Na quarta-feira de Cinzas esquecem o que falaram.

Pedro, “de olho” na bela morena, sai com essa: – Mas eu não sou assim, pois o que pretendo contigo é uma **relação séria...**

Maria, olhando por cima do ombro, murmura: – sei... tô sabendo. E, ao som de “*Ai se eu te pego, ai ai se eu te pego*”, deixa Babaçu falando sozinho...

Na expressão destacada em “pretendo contigo é uma **relação séria...**” se observa a seguinte figura de linguagem:

- a) sinestesia.
- b) metáfora.
- c) anáfora.
- d) zeugma.
- e) aliteração.

07. Astrobaldinho, filho de Astrobaldo Ferreira, advogado florianense, maravilhado com a beleza daquelas lagoas existentes nas areias dos Lençóis Maranhense, ainda notou **que sua imagem se espelhava nas águas**. No texto, a oração assinalada desempenha um papel de natureza

- a) adjetiva.
- b) adverbial temporal.
- c) adverbial causal.
- d) substantiva.
- e) adverbial condicional.

08. Mário disse a Pedro: – Vejo que a cisterna está cheia, e a água não está sendo utilizada. Que providências foram tomadas?

Pedro: – Chamou-se um **bombeiro** para a instalação dos canos.

O termo em destaque (negrito) é

- a) sujeito
- b) objeto indireto
- c) agente da passiva
- d) objeto direto
- e) predicativo do sujeito

09. Assinale a alternativa na qual se observa erro de concordância.

- a) Os jogadores, agora, estão todos tensos
- b) Os penteados das garotas eram os mais lindos e originais possíveis.
- c) Ela possuía bastante roupas para ir àquelas baladas
- d) Regina Lúcia recebeu o DVD e disse: “muito obrigada”
- e) Chegarei a Floriano hoje, ao meio-dia e meia.

10. Observe as sentenças seguintes, nas quais estão postas algumas lacunas.

O motivo não vou à balada é um só: lisura. Não faça críticas ácidas, se arrependerá. Cuidado, pois o que falares pode ser interpretado. O mais recente estudo realizado pelo Instituto Ludus foi das relações socioeducativas das ONGs existentes em Floriano(PI).

Indique a alternativa cuja sequência completa, **corretamente**, as sentenças acima:

- a) porque – senão – mal – acerca
- b) por que – senão – mal – a cerca
- c) por que – se não – mal – acerca
- d) por que – se não – mau – acerca
- e) por que – senão – mal – acerca

11. Observe os números seguintes

12 16 45 81 83 91 96

Qual desses números “destoa” dos demais?

- a) 12
- b) 45
- c) 81
- d) 83
- e) 91

12. Observe o quadro seguinte



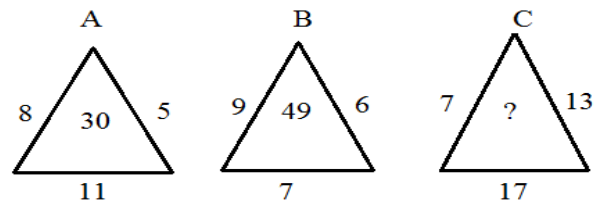
www.institutoludus.com.br

1	3	6	10	15	21
5	12	21	32	45	?

O número que substitui, corretamente, a interrogação no quadro acima, é

- a) 55
- b) 77
- c) 60
- d) 56
- e) 62

13. Os triângulos A, B e C, nesta ordem, formam, conforme os números dispostos na figura, uma sequência numérica que obedece a uma lógica aritmética.



A interrogação, dentro do triângulo C, é corretamente substituída pelo algarismo disposto na alternativa

- a) 77
- b) 74
- c) 73
- d) 91
- e) 79

14. O valor da expressão $A = \frac{\sqrt{81\%}}{\sqrt{36\%}}$, em porcentagem, é

- a) 15,0%
- b) 150,0%
- c) 2,25
- d) 22,5%
- e) um valor diferente dos indicados nas alternativas anteriores

15. Zé Baixim sai, pilotando sua Hilux 2012, de Presidente Dutra às 10h15min, rumo a Sucupira do Riachão.

Exatamente $2\frac{1}{4}$ h depois ele chega a Sucupira. Ele chegou àquela cidade às

- a) 11h15min
- b) 12h35min
- c) 11h35min
- d) 13h15min
- e) 12h30min

16. Uma sala é projetada com dimensões 4mX5m. Por necessidade de serviços, o projeto é reformado e a sala deve ter seu comprimento e sua largura aumentados em um metro em cada uma das dimensões. A quantidade de piso necessária para a nova sala deve ser majorada, em relação ao projeto anterior, em

- a) 25%
- b) 32%
- c) 40%
- d) 45%
- e) 50%

17. A mesada que Maria Júlia recebe do seu pai é a sexta parte da mesada que recebe de sua mãe. Se, nos últimos 6 meses, ela recebeu R\$378,00 de mesada, então de sua mãe ela recebe, por mês

- a) R\$18,00
- b) R\$27,00
- c) R\$54,00
- d) R\$63,00
- e) R\$9,00

18. Em uma escola, metade de um grupo de alunos pratica apenas futebol, um quinto do total de alunos desse grupo pratica apenas vôlei e dez por cento do grupo de alunos praticam apenas basquete e restam 15 alunos que não praticam esporte algum. Se, neste grupo, a relação entre o número de meninas e o número de meninos é de 7(sete) para 8(oito), respectivamente, o total de alunas (meninas) é igual a

- a) 75
- b) 40
- c) 38
- d) 35
- e) Nenhuma das alternativas anterior.

19. O quadrado do sucessor de um número somado a esse mesmo número e subtraído de 18 (dezoito) equivale a $\frac{11}{4}$ desse número. O triplo desse número é igual a

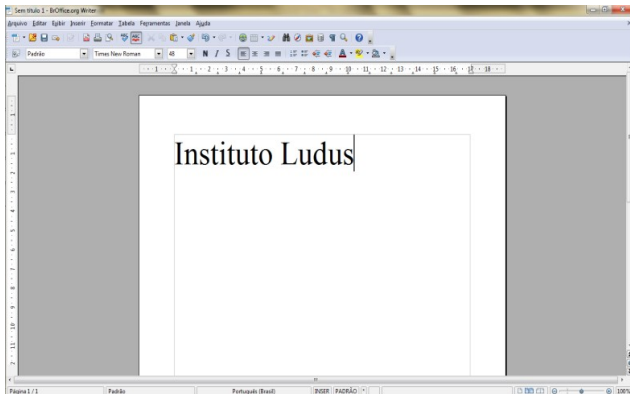
- a) 9
- b) 12
- c) 6
- d) 15
- e) 21

20. Maria Rosa espremeu 24 laranjas, fazendo 1,56 litros de suco. Deu à sua filha Rosinha um copo com 260 mL desse suco. O restante ela guardou na geladeira. O volume de suco guardado na geladeira corresponde a quantas laranjas?

- a) 20
- b) 18
- c) 17
- d) 16
- e) 15

CONHECIMENTOS ESPECÍFICOS + CONHECIMENTOS LOCAIS

21. Ao utilizar o BrOffice Writer para **apagar completamente uma palavra**, à esquerda do cursor, deve-se clicar em:



- a) Shift + seta para esquerda
- b) Shift + Backspace
- c) Alt + seta para esquerda
- d) Ctrl + Backspace
- e) Alt + Del

22. Considerando as funções das teclas de atalho no Windows 7 (Seven), numere a segunda coluna de acordo com a primeira:

1ª COLUNA

- (1) Logotipo do Windows + D
- (2) Logotipo do Windows + Shift + M
- (3) Logotipo do Windows + F
- (4) Logotipo do Windows + L
- (5) Logotipo do Windows + Ctrl + F
- (6) Logotipo do Windows + R

2ª COLUNA

- () Coloca o computador em modo de espera;
- () Localizar computadores.
- () Restaurar as janelas minimizadas;
- () Mostrar a área de trabalho;
- () Abre o comando "Executar";
- () Procurar um arquivo ou uma pasta;

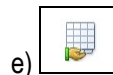

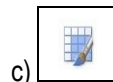

A sequência **correta**, de cima para baixo, é:

- a) 2, 5, 4, 1, 6, 3
- b) 5, 6, 2, 4, 3, 1
- c) 4, 5, 2, 1, 6, 3
- d) 4, 5, 6, 1, 2, 3
- e) 5, 2, 6, 1, 4, 3

23. São exemplos de antivírus, **EXCETO**:

- a) Opera
- b) kaspersky
- c) Avast
- d) AVG
- e) McAfee

24. Ao utilizar o MS-EXCEL para copiar a formatação de uma célula para outra ou de um intervalo para outro, clica-se no botão (ferramenta):



25. Analise as afirmativas abaixo de acordo com o Art. 145 da Constituição Federal, que diz: "A União, os Estados, o Distrito Federal e os Municípios poderão instituir os seguintes tributos:"

I - impostos;

II - taxas, em razão do exercício do poder de polícia ou pela utilização, efetiva ou potencial, de serviços públicos específicos e divisíveis, prestados ao contribuinte ou postos a sua disposição;

III - contribuição de melhoria, decorrente de obras públicas.

De acordo com as afirmativas acima:

- a) apenas I está correta.
- b) apenas II está correta.
- c) apenas III está correta.
- d) apenas I e III estão corretas.
- e) I, II e III estão corretas.

26. Analise as afirmativas abaixo de acordo com o Art. 151 da Constituição Federal, que diz: "É vedado à União:"

I - instituir tributo que não seja uniforme em todo o território nacional ou que implique distinção ou preferência em relação a Estado, ao Distrito Federal ou a Município, em detrimento de outro, admitida a concessão de incentivos fiscais destinados a promover o equilíbrio do desenvolvimento sócio-econômico entre as diferentes regiões do País;

II - tributar a renda das obrigações da dívida pública dos Estados, do Distrito Federal e dos Municípios, bem como a remuneração e os proventos dos respectivos agentes públicos, em níveis superiores aos que fixar para suas obrigações e para seus agentes;

III - instituir isenções de tributos da competência dos Estados, do Distrito Federal ou dos Municípios.

De acordo com as afirmativas acima:

- a) apenas I está correta.
- b) apenas II está correta.
- c) apenas III está correta.
- d) apenas I e III estão corretas.
- e) I, II e III estão corretas.

27. De acordo com a Lei nº 8.666/93, Art. 6º, **NÃO** é correto afirmar que, "Para os fins desta Lei, considera-se:"

- a) **Obra** - toda construção, reforma, fabricação, recuperação ou ampliação, realizada por execução direta ou indireta;
- b) **Serviço** - toda atividade destinada a obter determinada utilidade de interesse para a Administração, tais como: demolição, conserto, instalação, montagem, operação, conservação, reparação, adaptação, manutenção, transporte, locação de bens, publicidade, seguro ou trabalhos técnico-profissionais;
- c) **Execução indireta** - a que é feita pelos órgãos e entidades da Administração, pelos próprios meios;
- d) **Alienação** - toda transferência de domínio de bens a terceiros;
- e) **Compra** - toda aquisição remunerada de bens para fornecimento de uma só vez ou parceladamente;

28. Analise as afirmativas abaixo de acordo com a Lei nº 4.320/64, Art. 33, que diz: "Não se admitirão emendas ao projeto de Lei de Orçamento que visem a:"

I - alterar a dotação solicitada para despesa de custeio, salvo quando provada, nesse ponto a inexatidão da proposta;

II - conceder dotação para instalação ou funcionamento de serviço que não esteja anteriormente criado;

III - conceder dotação superior aos quantitativos previamente fixados em resolução do Poder Legislativo para concessão de auxílios e subvenções;

IV - conceder dotação para o início de obra cujo projeto não esteja aprovado pelos órgãos competentes;

Assinale a alternativa **correta**:

- a) Somente as afirmativas I e III são verdadeiras.
- b) Somente as afirmativas II e III são verdadeiras.
- c) Somente as afirmativas II e IV são verdadeiras.
- d) Somente as afirmativas I, II e IV são verdadeiras.
- e) Todas são verdadeiras.

29. Analise as afirmativas abaixo de acordo com o Art. 15 do Código Tributário Nacional, que diz: "Somente a União, nos seguintes casos excepcionais, pode instituir empréstimos compulsórios:"

I - guerra entre traficantes, ou guerra interna;

II - calamidade pública que exija auxílio federal impossível de atender com os recursos orçamentários disponíveis;

III - conjuntura que exija a absorção temporária de poder aquisitivo.

De acordo com as afirmativas acima:

- a) apenas I está correta.
- b) apenas II está correta.
- c) apenas III está correta.
- d) apenas II e III estão corretas.
- e) I, II e III estão corretas.

30. Analise as afirmativas abaixo de acordo com o Art. 46 do Código Tributário Nacional, que diz: "O imposto, de competência da União, sobre produtos industrializados tem como fato gerador:"

I - o seu desembaraço aduaneiro, quando de procedência estrangeira;

II - a sua saída dos estabelecimentos a que se refere o parágrafo único do artigo 51;

III - a sua arrematação, quando apreendido ou abandonado e levado a leilão.

De acordo com as afirmativas acima:

- a) apenas I está correta.
- b) apenas II está correta.
- c) apenas III está correta.
- d) apenas II e III estão corretas.
- e) I, II e III estão corretas.

31. A respeito do poder de tributar das entidades federativas, assinale a opção **INCORRETA**.

a) O preço público não é prestação de natureza tributária, na medida em que a respectiva prestação pecuniária, por decorrer de obrigação firmada por ato de vontade, não se afigura compulsória.

b) A União Federal tem competência para instituir e cobrar as contribuições parafiscais, inclusive sobre os vencimentos dos servidores públicos estaduais e

municipais, para custeio, em benefício destes, de sistema de previdência e assistência social.

c) Cabe à União, por meio de lei complementar, dispor acerca do fato gerador e da base de cálculo dos impostos estaduais e municipais elencados na Constituição da República.

d) Na fixação da competência para a instituição e cobrança de taxas, deve-se observar qual a entidade pública competente para prestar o serviço público remunerado ou para exercer o poder de polícia.

e) Em que pese a imunidade intergovernamental recíproca, os bens, os serviços e as rendas das empresas públicas e das sociedades de economia mista não são imunes à tributação, ainda que utilizados nas funções essenciais das referidas entidades.

32. Em relação aos serviços tributados pelo Imposto sobre Serviços de Qualquer Natureza são definidos em:

Assinale:

- a) Leis Ordinárias.
- b) Leis Complementares.
- c) Portarias.
- d) Resoluções.
- e) Medidas Provisórias.

33. São princípios constitucionais da Administração Pública, **EXCETO**:

- a) eficiência.
- b) publicidade.
- c) moralidade.
- d) seletividade.
- e) legalidade.

34. Com base no Imposto sobre a Propriedade Predial e Territorial Urbana (IPTU), em relação à hipótese de incidência:

Assinale a alternativa correta:

- a) O IPTU incide sobre a propriedade, o domínio útil de bem imóvel, desde que por acessão física, como definido na lei tributária, localizado na zona urbana do Município ou do Estado.
- b) O IPTU incide sobre a propriedade, o domínio útil ou a posse de bem imóvel por natureza ou acessão física, como definido na lei civil, localizado na zona urbana do Estado.
- c) O IPTU incide sobre a propriedade urbana, o domínio útil ou a posse de bem imóvel, desde que por natureza, como definido na lei tributária, localizado na zona urbana do Município.
- d) O IPTU incide sobre a propriedade, o domínio útil ou a posse de bem imóvel por natureza ou acessão física, como definido na lei civil, localizado na zona urbana do Município.

e) O IPTU incide sobre a propriedade urbana, o domínio útil ou a posse de bem imóvel, desde que por natureza, como definido na lei civil, localizado na zona urbana do Estado.

35. Analise as afirmativas abaixo de acordo com o Art. 5º da Lei nº 7.799/2002 que dispõe sobre o Sistema Tributário do Estado do Maranhão, quem diz:

“O imposto incide sobre:”

I - operações relativas à circulação de mercadorias, inclusive o fornecimento de alimentação e bebidas em bares, restaurantes e estabelecimentos similares;

II - prestações de serviços de transporte interestadual e intermunicipal, por qualquer via, de pessoas, bens, mercadorias ou valores;

III - prestações onerosas de serviços de comunicação, por qualquer meio, inclusive a geração, a emissão, a recepção, a transmissão, a retransmissão, a repetição e a ampliação de comunicação de qualquer natureza;

IV - fornecimento de mercadorias com prestação de serviços não compreendidos na competência tributária dos Municípios;

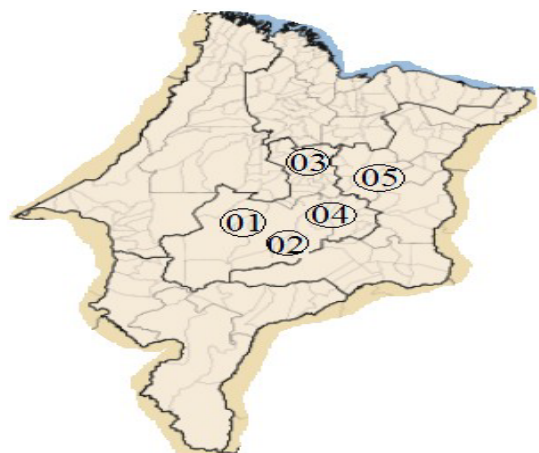
V - fornecimento de mercadorias com prestação de serviços sujeitos ao imposto sobre serviços, de competência dos Municípios, quando a lei complementar aplicável expressamente o sujeitar à incidência do imposto estadual.

Assinale a alternativa **correta**:

- a) Somente as afirmativas I e III são verdadeiras.
- b) Somente as afirmativas II e III são verdadeiras.
- c) Somente as afirmativas II e IV são verdadeiras.
- d) Somente as afirmativas I, IV e V são verdadeiras.
- e) Todas são verdadeiras.

36. A figura seguinte representa um gráfico do Mapa do Estado do Maranhão. Qual o número (de 01 a 05), posto neste mapa representativo do Maranhão, que indica, em termos próximos, a localização do Município de Presidente Dutra no espaço geográfico do Estado do Maranhão.

- a) 05
- b) 04
- c) 03
- d) 02
- e) 01



d) latitude Sul e longitude Oeste

e) longitude Sul e latitude Oeste

37. Indique, dentre as alternativas seguintes, aquela em que é citado Município que, embora faça fronteira com Presidente Dutra, não pertence à mesma microrregião deste Município.

- a) Gonçalves Dias – Graça Aranha
- b) Graça Aranha – São José dos Basílios
- c) Dom Pedro – São José dos Basílios
- d) São Domingos do Maranhão – Governador Archer
- e) Tuntum – Governador Archer

38. Por falar em Presidente Dutra, “A cidade é cercada por escritores e poetas apaixonados. Dentre as inúmeros obras já escritas destaca-se a de José Pedro de Araújo Filho: livro que relata toda a história da cidade.”

A lacuna do texto acima é corretamente preenchida com a informação posta na alternativa

- a) História de Presidente Dutra
- b) Do Curador a Presidente Dutra
- c) Viajando do Curador a Presidente Dutra.
- d) Do Curador a PK
- e) Presidente Dutra, na linha do tempo.

39. Na legislatura 2013 – 2017, a Câmara de Vereadores de Presidente Dutra terá quantos membros, a serem eleitos em 2012?

- a) 13
- b) 12
- c) 11
- d) 10
- e) 09

40. A sede do Município de Presidente Dutra está localizada na

- a) latitude Sul e longitude Leste
- b) longitude Norte e latitude Leste
- c) latitude Norte e longitude Leste