

**PORTUGUÊS****Vendem-se espécies**

Ganhar o Prêmio Nobel? Entrar no Big Brother? Agora existe um jeito mais fácil de alcançar a imortalidade: batizar uma espécie animal com o seu próprio nome

por Cristine Gerk

A comunidade científica descobriu uma nova maneira de financiar seus projetos: explorar a vaidade humana, vendendo os nomes científicos de animais e plantas para pessoas que queiram aparecer. Você paga e ganha o direito de batizar criaturas recém-descobertas, que passarão a ser conhecidas pelo seu nome. Esse mercado é liderado pelo Instituto Scripps (supportscripps.ucsd.edu), da Universidade de San Diego, que se especializou no negócio - e trabalha com vermes e moluscos. Prefere criaturas mais graciosas? Procure a Biopat (www.biopat.de), que está vendendo os nomes de 100 novas espécies, como sapos e orquídeas.

<http://super.abril.com.br/mundo-animal/vendem-se-especies-614402.shtml>

1) Acerca do verbo presente no título do texto sabe-se que:

- A) Está no plural, mas deveria estar no singular, pois não existe sujeito com o qual ele concorde;
- B) Está no plural porque a gramática normativa o exige, não podendo ficar no singular;
- C) Está no plural, mas deveria estar no singular, pois o sujeito o exige;
- D) Pode ficar no singular como no plural que não há erro, haja vista que, empregado com a partícula “se”, admite-se esta construção;
- E) Só poderia ficar no plural se fosse empregado com uma preposição mais a partícula “se” como: Precisam-se de professores.

2) Os dois pontos usados no fragmento abaixo, foi empregado pelo mesmo motivo na alternativa:

“Ganhar o Prêmio Nobel? Entrar no Big Brother? Agora existe um jeito mais fácil de alcançar a imortalidade:”

- A) Assim, olhei para ele e falei: Não te amo mais;
- B) Tem-se que acertar esta questão: Vale muitos pontos;
- C) Tem-se que acertar muitas questões: Para ser aprovado;
- D) Comprou vários vestidos novos: Era louca por vestidos;
- E) Ser ou não ser. Eis a questão.

**FRAGMENTO PARA A QUESTÃO 3**

Ganhar o Prêmio Nobel? Entrar no Big Brother? Agora existe um jeito mais fácil de alcançar a imortalidade: batizar uma espécie animal com o seu próprio nome

por Cristine Gerk

3) As palavras em destaques no fragmento são acentuadas, **RESPECTIVAMENTE** por:

- A) A primeira e a terceira, pela regra das paroxítonas, onde ambas terminam em ditongos decrescentes e a segunda por ser uma paroxítona terminada em “I”;
- B) A primeira e a terceira, pela regra das paroxítonas, onde a primeira termina em ditongo decrescente, a terceira termina em ditongo crescente e a segunda por ser uma proparoxítona terminada em “I”;
- C) Todas são paroxítonas, sendo duas terminadas em ditongo crescente e uma terminada em “L”;
- D) Todas são proparoxítonas, onde a primeira e terceira são terminadas em ditongos e a segunda terminada em “L”;
- E) A primeira e a terceira, pela regra das paroxítonas, onde a primeira termina em ditongo crescente, a terceira termina em ditongo decrescente e a segunda por ser uma proparoxítona terminada em “I”.

4) A respeito da charge abaixo é **CORRETO** afirmar que:



<http://www.ivancabral.com/>

- I. A substituição da preposição “pra”, pela preposição “para”, deixa a frase de acordo com a vigência gramatical.
- II. A palavra “só” possui valor semântico de um advérbio, permanecendo assim, invariável.
- III. A substituição do pronome possessivo “teu” pode ser substituído por “seu” que a frase permanece de acordo com as diretrizes gramaticais.

Está **CORRETA** a alternativa:

- A) I e II;
- B) I e III;

- C) II e III;
- D) I, II e III;
- E) III.

### Dois amigos e um chato

Os dois estavam tomando um cafezinho no boteco da esquina, antes de partirem para as suas respectivas repartições. Um tinha um nome fácil: era o Zé. O outro tinha um nome desses de dar câibra em língua de crioulo: era o Flaudemíglío.

Acabado o café o Zé perguntou: - Vais pra cidade?

- Vou - respondeu Flaudemíglío, acrescentando: - Mas vou pegar o 434, que vai pela Lapa. Eu tenho que entregar uma urinazinha de minha mulher no laboratório da Associação, que é ali na Mem de Sá.

Zé acendeu um cigarro e olhou para a fila do 474, que ia direto pro centro e, por isso, era a fila mais piruada. Tinha gente às pampas.

- Vens comigo? - quis saber Flaudemíglío.

- Não - disse o Zé: - Eu estou atrasado e vou pegar um direto ao centro.

- Então tá - concordou Flaudemíglío, olhando para a outra esquina e, vendo que já vinha o que passava pela Lapa: - Chi! Lá vem o meu... - e correu para o ponto de parada, fazendo sinal para o ônibus parar.

Foi aí que, segurando o guarda-chuva, um embrulho e mais o vidrinho da urinazinha (como ele carinhosamente chamava o material recolhido pela mulher na véspera para o exame de laboratório...), foi aí que o Flaudemíglío se atrapalhou e deixou cair algo no chão.

O motorista, com aquela delicadeza peculiar à classe, já ia botando o carro em movimento, não dando tempo ao passageiro para apanhar o que caíra. Flaudemíglío só teve tempo de berrar para o amigo: - Zé, caiu minha carteira de identidade. Apanha e me entrega logo mais.

O 434 seguiu e Zé atravessou a rua, para apanhar a carteira do outro. Já estava chegando perto quando um cidadão magrela e antipático e, ainda por cima, com sorriso de Juraci Magalhães, apanhou a carteira de Flaudemíglío.

- Por favor, cavalheiro, esta carteira é de um amigo meu - disse o Zé estendendo a mão.

Mas o que tinha sorriso de Juraci não entregou. Examinou a carteira e depois perguntou: - Como é o nome do seu amigo?

- Flaudemíglío - respondeu o Zé.

- Flaudemíglío de quê? - insistiu o chato.

Mas o Zé deu-lhe um safanão e tomou-lhe a carteira, dizendo: - Ora, seu cretino, quem acerta Flaudemíglío não precisa acertar mais nada!

Stanislaw Ponte Preta

- 5) A respeito do uso das vírgulas no fragmento abaixo, pode-se concluir que:

“O motorista, com aquela delicadeza peculiar à classe, já ia botando o carro em movimento.”

- A) Estão empregadas de forma obrigatória, pois separam uma estrutura oracional adjetiva;
- B) Estão empregadas de forma obrigatória, pois separam um termo com valor explicativo;
- C) Estão empregadas de forma facultativa, pois separam uma estrutura oracional adjetiva;
- D) Se forem substituída por parênteses, a frase fica incongruente com a norma culta;
- E) Se forem substituída por travessões, a frase entra em divergência com a norma culta.

- 6) A respeito do verbo destacado no fragmento abaixo, conclui-se que:

“não dando tempo ao passageiro para apanhar o que caíra”

- A) Está conjugado no presente do indicativo;
- B) Está conjugado no pretérito perfeito do indicativo;
- C) Está conjugado no futuro do presente;
- D) Está conjugado no pretérito mais-que-perfeito;
- E) Está conjugado no presente do subjuntivo.

- 7) Observando as alternativas abaixo, conclui-se que está **CORRETA**:

A) Ao substituir a preposição do fragmento “O 434 seguiu e Zé atravessou a rua, para apanhar a carteira” pelo termo “afim de”, a frase permanece com o mesmo valor semântico;

B) Ao colocar o acento indicativo de crase, antes da palavra “sua” em “antes de partirem para as suas respectivas repartições” acarreta uma discordância à norma culta;

C) A palavra em destaque ao lado classifica-se como um pronome indefinido. “O **outro** tinha um nome desses de dar câibra em língua de crioulo.”;

D) A supressão do artigo em “era o Flaudemíglío.” Concatena uma incongruência às regras gramaticais;

E) A classificação do sujeito do verbo em “ - Vais pra cidade?” classifica-se como elíptico.

- 8) Sabe-se que está **CORRETA** a alternativa:

A) O verbo “querer” está grafado de forma incorreta “quis saber Flaudemíglío.” Sendo aceito porque as crônicas possuem a licença poética;

B) A introdução de uma vírgula antes da conjunção aditiva em “Eu estou atrasado e vou pegar um direto ao centro.” Deixa a frase de acordo com as regras gramaticais;

C) A substituição da conjunção adversativa em “Mas o que tinha sorriso de Juraci não entregou” pela conjunção “todavia”, altera o sentido do enunciado;

D) Ao substituir a palavra peculiar em “aquela delicadeza **peculiar** à classe” por “de não origem” deixa a frase com mesmo valor semântico;

E) Sabe-se que há uma estrutura oracional aditiva em “Eu estou atrasado e vou pegar um direto ao centro.”

9) O vocábulo em destaque no fragmento: “Foi aí que, segurando o **guarda-chuva**, um embrulho e mais o vidrinho da urinazinha”

Pluraliza-se:

- A) Os dois termos, pois os dois são substantivos;
- B) Apenas o primeiro termo, por ser um verbo ligado a um substantivo;
- C) Apenas o segundo termo, por ser um verbo ligado a um adjetivo;
- D) Apenas o segundo termo, por ser um verbo ligado a um substantivo;
- E) Os dois termos, por ser um verbo ligado a substantivo.

10) A respeito da frase presente na imagem abaixo é **CORRETO** afirmar que:



- A) Cada período possui apenas um verbo;
- B) Cada período possui três verbos;
- C) A classe gramatical da palavra, conhecer, é a mesma nos dois períodos;
- D) A classe gramatical da palavra, viajar, é a mesma nos dois períodos;
- E) As palavras “viajar e conhecer” assumem formas nominais de gerúndio.

**CONHECIMENTOS GERAIS**

11) Surgida no final da década de 1950, no Rio de Janeiro, a Bossa Nova constituía um subgênero musical derivado do samba, e que teve forte influência do Jazz norte-americano. A Bossa Nova acabou se transformando em um dos mais influentes movimentos da história da Música Popular Brasileira. A seguir,

assinale a alternativa que traz a cantora que foi considerada “a musa” da Bossa Nova:

- A) Dori Caymmi;
- B) Claudette Soares;
- C) Elizeth Cardoso;
- D) Nara Leão;
- E) Sylvania Telles.

12) Foi criado com o intuito de garantir a livre circulação de pessoas dos países membros sem a necessidade de apresentação de visto; possibilitar a integração econômica e cultural entre os países membros; representar os interesses dos países membros em acordos com outros blocos econômicos. O bloco foi fundado em 1969, e atualmente possui Bolívia, Colômbia, Equador e Peru como representantes. Estamos falando do(a):

- A) Comunidade Andina de Nações;
- B) Pacto da América do Sul;
- C) Mercado Comum do Sul;
- D) Bloco Sul-americano;
- E) Pacto Comercial do Sul.

13) Observe a charge abaixo e avalie as proposições:



- I. A educação brasileira é estabelecida levando em conta a cor da pele.
- II. A charge denuncia a precariedade do ensino público brasileiro.
- III. A população branca historicamente teve melhores oportunidades em ter uma educação de qualidade.
- IV. No Brasil, somente as escolas particulares são capazes de oferecer uma educação de qualidade.

Estão **CORRETAS**:

- A) I e II;
- B) II e III;
- C) III e IV;
- D) I e IV;
- E) I, II e III.

14) A Operação Monte Carlos, que expediu mais de 80 mandados judiciais, inclusive ao empresário Carlos Augusto Ramos – o Carlinhos Cachoeira –, repercutiu bastante nesse mês de abril. Essa operação tem se constituído como uma ação conjunta entre a Polícia Federal e o Ministério Público Federal do Estado de Goiás, cujo objetivo tem sido:

- A) Prender a quadrilha acusada de clonar chassis de caminhões;
- B) Desarticular uma quadrilha envolvida em exploração de máquinas caça-níqueis;
- C) Atuar grupos políticos envolvidos no “caixa 2”;
- D) Desmontar uma quadrilha que agia dentro de cadeias públicas;
- E) Prender contrabandistas paraguaios que entram no país através da Ponte da Amizade.

15) A Serra do Teixeira é onde se encontra a saliência do Pico do Jabre, ponto culminante da Paraíba. A referida serra está localizada em qual município paraibano:

- A) Boqueirão;
- B) Cabaceira;
- C) Conceição;
- D) Maturéia;
- E) Barra de São Miguel.

16) Toda construção humana é chamada de patrimônio cultural, pois é o que vem sendo legado de geração a geração e faz com que não tenhamos de reinventar a roda de tempos em tempos. Com isso em mente, assinale a única alternativa que **NÃO** traz um exemplo de patrimônio cultural imaterial do Brasil:

- A) A Capoeira;
- B) O Samba;
- C) Hip Hop;
- D) O Forró;
- E) O Bumba-meu-boi.

17) Vegetação litorânea paraibana que apresenta matas, manguezais e cerrados; formada por gramíneas, arbustos tortuosos, predominantemente representados, entre outras espécies, por batiputás e mangabeiras. Estamos falando do(a):

- A) Mata Ciliar;
- B) Brejo;
- C) Caatinga;
- D) Estuário;
- E) Tabuleiro.

18) Sobre a história do município de Santo André, assinale **V** para as proposições verdadeiras e **F** para as falsas:

- ( ) No período em que foi distrito, o município de Santo André teve o nome de Mucuitu.
- ( ) Por meio da lei estadual nº 2747, de 2 de janeiro

de 1962, o distrito de Santo André passou a pertencer ao novo município de Gurjão.

( ) Santo André foi elevado à categoria de município em 1994, por meio da lei estadual nº 5906.

A sequência **CORRETA** é:

- A) V – V – F;
- B) F – V – F;
- C) V – V – V;
- D) F – F – F;
- E) F – F – V.

19) Segundo dados demográficos publicados no portal eletrônico do IBGE (2010), a população de Santo André estava em torno de:

- A) 2,6 mil habitantes;
- B) 2,4 mil habitantes;
- C) 2,5 mil habitantes;
- D) 2,7 mil habitantes;
- E) 2,9 mil habitantes.

20) Acerca dos aspectos fisiográficos do município de Santo André, de acordo com o Serviço Geológico do Brasil (CPRM), assinale a alternativa **CORRETA**:

- A) O município de Santo André está inserido na unidade geoambiental do Planalto do Curimataú, formada por maciços e outeiros altos;
- B) O município de Santo André está inserido na unidade geoambiental do Planalto da Borborema, cuja vegetação desta unidade é formada por *Florestas Subcaducifólicas e Caducifólicas*, próprias das áreas agrestes;
- C) O município de Santo André se encontra inserido na unidade geoambiental do Planalto do Agreste, cujo relevo é geralmente movimentado, com vales profundos e estreitos dissecados;
- D) O município de Santo André se encontra inserido na unidade geoambiental do Planalto da Borborema, e apresenta clima Tropical Temperado;
- E) O município de Santo André está inserido na unidade geoambiental do Planalto do Curimataú paraibano, e seu clima é semiárido, com riscos de secas.

### CONHECIMENTOS ESPECÍFICOS

21) Considerando que  $x = 0,1666\dots$ ,  $y = 0,25$  e  $z = -1,666\dots$ , calcule o valor da expressão  $x + y + z$ :

- A) 1,19;
- B) -1,19;
- C) 1,5;
- D) -1,25;
- E) 1,25.

22) Entre os números abaixo, identifique o número irracional:

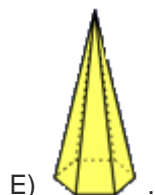
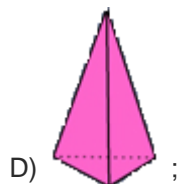
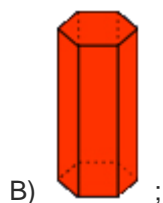
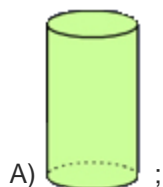
- A) 0,625213521352135...
- B) 5,210432104321043...
- C) 0,100100100100100...
- D) 0,6234623462346234...
- E) 3,1421142214231424...

23) Dada as afirmações abaixo, determine a alternativa **CORRETA**:

- ( ) Todo número natural é um número inteiro.
- ( ) Todo número inteiro é um número racional.
- ( ) Todo número racional é um número natural.
- ( ) Todo número irracional é um número real.

- A) V, V, V, V;
- B) V, V, F, V;
- C) F, F, V, F;
- D) F, V, V, F;
- E) V, V, F, F.

24) Qual das figuras geométricas **NÃO** planas abaixo é uma PRISMA:



25) Determine a solução da equação  $2x + 3(4x^2 + x - 1) = 12x^2 - 1$ :

- A) 3/5;
- B) 28;
- C) -19;
- D) 1;
- E) -11/4.

26) Se somarmos 2 ao numerador e ao denominador de uma fração, ela se tornará a 7/8. Se subtraímos 2 ao numerador e do denominador dessa fração, ela se tornará equivalente a 3/4. Qual é essa fração:

- A) 1/6;
- B) 2/3;
- C) 5/6;
- D) 2/5;
- E) 1/2.

27) O lucro de uma empresa com produção de x peças é dado pela lei da função  $f(x) = 50x - 500$ , com x um número natural. Quantas peças essa empresa precisa produzir, no mínimo, para ter lucro:

- A) 8 peças;
- B) 9 peças;
- C) 10 peças;
- D) 11 peças;
- E) 12 peças.

28) A soma dos zeros das funções  $y = -x + 1$  e  $y = 2x + 6$  é:

- A) 4;
- B) -4;
- C) 0;
- D) 2;
- E) -2.

29) A base e a altura de um triângulo formam o par ordenado (b, a) que soluciona o sistema de equações

$$\begin{cases} a + b = 15 \\ 2a - 3b = 10 \end{cases} . \text{ Determine a área desse triângulo.}$$

- A) 22;
- B) 20;
- C) 44;
- D) 36;
- E) 12.

30) Qual o valor de m para que a função  $f(x) = (m - 4)x^2 - 5x - 1$  tenha valor mínimo:

- A)  $m < 4$ ;
- B)  $m = 4$ ;
- C)  $m > 4$ ;
- D)  $m > 2$ ;

E)  $0 < m < 4$ .

31) A maioria dos aparelhos portáteis, inclusive pen-drives e cartões de memória, utilizam uma memória do tipo:

- A) SATA;
- B) FLASH;
- C) ROM;
- D) RAM;
- E) SRAM.

32) No Windows 7, o aplicativo "Narrator" constitui um objeto de:

- A) Edição de Vídeo;
- B) Edição de Som;
- C) Ferramenta do Sistema;
- D) Acessibilidade;
- E) Contemplação.

33) O Microsoft Security Essentials constitui um anti-vírus desenvolvido pela Microsoft para corrigir boa parte das vulnerabilidades do Sistema Operacional Windows. Quando o antivírus apresenta a imagem a seguir, indica que:



- A) O computador se encontra com scanearamento automático;
- B) O computador se encontra potencialmente desprotegido;
- C) O Windows se encontra com o Firewall desabilitado;
- D) O antivírus se encontra com falhas de instalação;
- E) O antivírus se encontra off-line.

34) O refrigeração adequada do microprocessador de um computador é obtido por meio do:

- A) Cooler;
- B) Clock;
- C) Ventilador;
- D) Gateway;
- E) Hub.

35) A figura a seguir foi extraída do Microsoft Word 2007. Sua localização **CORRETA** é:



- A) Guia Referências, Subguia Parágrafo;
- B) Guia Revisão, Subguia Fonte;
- C) Guia Correspondências, Subguia Edição;

- D) Guia Início, Subguia Fonte;
- E) Guia Início, Subguia Estilo.

36) A seguir, assinale o nome dado aos arquivos que seguem anexados a uma mensagem eletrônica:

- A) Backbone;
- B) Bandwidth;
- C) Attachment;
- D) Bridge;
- E) Ad View.

37) Em um microcomputador, o microprocessador e a memória RAM se encontram instaladas na:

- A) Placa Serial;
- B) Placa Mãe;
- C) Placa de Instalações;
- D) Placa Potencial;
- E) Placa Alternativa.

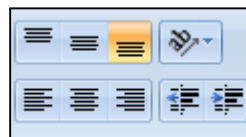
38) Estando o cursor do mouse em qualquer parte do texto de um documento do Microsoft Word 2007, se pressionarmos a tecla "Home" o que acontece:

- A) O cursor vai para o início da linha;
- B) O cursor vai para o início do parágrafo;
- C) O cursor vai para o início da página;
- D) O cursor vai para o início da página seguinte;
- E) O cursor vai para o início de um novo documento.

39) A seguir, todos são formatos de arquivos que o Word 2007 possibilita salvar, **EXCETO**:

- A) DOC;
- B) DOCX;
- C) FRT;
- D) PPT;
- E) HTML.

40) O conjunto de opções do Microsoft Excel 2007, representado na figura abaixo, encontra-se em:



- A) Subguia Justaposição;
- B) Subguia Alinhamento;
- C) Subguia Parágrafo;
- D) Subguia Disposição de Dados;
- E) Subguia Formatar.