

PORTUGUÊS

Andando há 40 anos por este país, catando dinheiro para levar pra casa, eu aprendi a acreditar. Acreditar na terra, no homem, na chuva, na benção, na semente, no fruto, no coração, na mente... na inteligência. Aprendi, com o meu povo, que quando uma coisa está muito séria, o melhor que se faz é brincar com ela. E, naquelas tardes terríveis, sozinho num quarto de hotel, esperando a hora do show, eu comecei a desenhar o país dos meus sonhos. Um país onde cada lavrador tenha um par de bois para puxar seu arado e que de tarde, ao voltar para casa, encontre um par de filhos o esperando e à noite quando for dormir, tenha um par de pernas para amar; no país dos meus sonhos, todo pobre vai comer, todo hospital terá remédios, todo aluno terá colégio, todo professor ganhará um salário decente e todo policial apenas prenderá os bandidos, em vez de os ajudar a matar e a roubar; no país dos meus sonhos todo cego vai ver, todo surdo vai ouvir e todo mudo vai ver e ouvir coisas tão lindas que nem será preciso dizer nada; no país dos meus sonhos a integração do homem com a natureza será tanta que eu chego a imaginar uma árvore dizendo a um homem: "Você me tratou tão bem, foi tão legal comigo, que eu gostaria de me transformar na mesa da sua casa, nas cadeiras onde sua família sentará, no berço do seu filho". No país dos meus sonhos, o homem branco, afinal, vai descobrir que o coração do negro é do tamanho do seu e o sangue da mesma cor. O país dos meus sonhos um dia será verdade. E ele será tão feliz que nem vai precisar de mim para fazer rir um pouco. Não faz mal. Eu perco o emprego, mas não perco o meu sonho. Boa noite.

CHICO ANYSIO.

<http://sitenotadez.net/cronicas/>

1) O termo destacado abaixo possui valor de um sintagma que se encontra na alternativa:

"*todo mudo vai ver e ouvir coisas tão lindas que nem será preciso dizer nada.*"

- A) O dinheiro que está em cima do móvel é meu;
- B) Esta é a casa a que fiz referência;
- C) Gosto da mulher que tu és;
- D) Os candidatos cujas provas foram entregues podem sair;
- E) O desejo de quanto quero ser aprovado não é muito.

2) A relação sintática, em destaque, no fragmento abaixo é a mesma da alternativa:

"Eu perco o emprego, mas não perco o meu sonho."

- A) Quando uma coisa está muito séria, o melhor é brincar com ela;

B) Todo professor ganhará um salário decente e todo policial apenas prenderá os bandidos;
 C) Eu chego a imaginar uma árvore dizendo a um homem: "Você me tratou tão bem, foi tão legal comigo;"

D) Ele será tão feliz que nem vai precisar de mim;
 E) Andando há 40 anos por este país, catando dinheiro para levar pra casa, eu aprendi a acreditar.

3) O fragmento destacado abaixo possui diretrizes sintáticas de:

"No país dos meus sonhos a integração do homem com a natureza será tanta que eu chego a imaginar uma árvore dizendo a um homem."

- A) Um complemento nominal;
- B) Uma oração consecutiva;
- C) Uma oração causal;
- D) Uma oração comparativa;
- E) Um complemento verbal.

4) A alternativa **CORRETA** quanto à gramática normativa se encontra na alternativa:

- A) A coerência gramatical permanece a mesma se for acrescida a palavra "atrás" em: "*Andando há 40 anos atrás*" assim como ocorrem em: "eu nasci há 10 mil anos atrás";
- B) As vírgulas em "*no homem, na chuva, na benção, na semente, no fruto, no coração, na mente*" são empregadas pela mesma regra do fragmento "*E, naquelas tardes terríveis, sozinho num quarto de hotel*";
- C) Ao substituir a palavra onde em "*Um país onde*" por "*aonde*" o enunciado permanece em conjuntura com a gramática normativa;
- D) O verbo "haver" empregado no primeiro período, possui mesma função do verbo em: "Há vários alunos aqui";
- E) O sujeito do aprender em "Aprendi, com o meu povo" é classificado como elíptico.

5) Depreende-se da charge abaixo:



- I. A expressão **da poupança** completa o nome rendimento, sendo classificado como complemento nominal.
- II. "À taxa Selic" possui características de um complemento verbal, conjunturado ao verbo de forma indireta.
- III. A omissão do acento grave deixa o enunciado com as diretrizes gramaticais.

Está **CORRETA** a alternativa:

- A) II;
B) I e II;
C) III;
D) I e III;
E) I.

6) Assinale a alternativa que melhor completa os espaços em branco do fragmento.

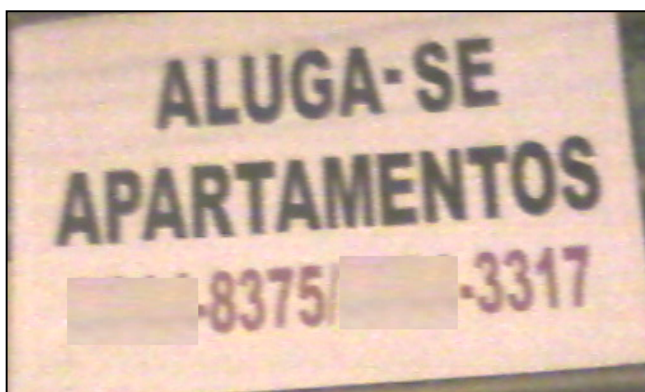
" A é um que atinge a boa parte dos brasileiros. Dessa forma, as comidas devem ser para que este problema seja controlado e a de sal esteja controle."

- A) Hiper-tensão – mal – insossa – taxa – sob;
B) Hipertensão – mau – insoça – taxa – sobre;
C) Hipertensão – mal – insossa – taxa – sob;
D) Hipertensão – mau – inçoça – tacha – sobre;
E) Ipertensão – mal – inçoça – tacha – sob.

7) A alternativa em que **NÃO** foi obedecida às regras de concordância é:

- A) Fui eu quem falou sobre o seu caso;
B) Devem haver mais pessoas com cursos de nível superior no futuro;
C) 80% da população brasileira assistiu ao final dos campeonatos regionais;
D) A multidão de fanáticos torcedores aplaudiram seus times;
E) As provas terminarão ao meio dia e meia hora.

8) Observe as placas a seguir:



- I. As partículas "se" presente nos enunciados possuem mesmas classificações gramaticais.
- II. Há incoerência gramatical nos dois enunciados, haja vista que, os verbos de ambas as placas devem estar no plural.
- III. Há incoerência gramatical apenas na placa I, haja vista que a partícula "se" apassiva o sujeito e na placa II indetermina o sujeito.
- IV. O sujeito da primeira placa é "apartamentos". E o sujeito da segunda placa é "profissionais".

Está **CORRETA** a alternativa:

- A) I e IV;
B) II e IV;
C) III;
D) I e III;
E) I e II.

9) A alternativa que preenche **CORRETAMENTE** o enunciado abaixo se encontra:

- I. Com os olhos fixos no rei o servo falou: irá ao Brasil.
- II. Logo a notícia se espalhou e chegou distorcida ao Brasil, onde se comentava que o príncipe visitaria esta Terra, onde falavam que chegaria em breve.
- III. É sabido que em breve o Papa visitará o Brasil. Ao mencionar o nome do sacerdote indiretamente, deve-se dizer

- A) Sua majestade - Sua alteza – Vossa santidade;
B) Vossa majestade - Sua alteza – Vossa santidade;
C) Vossa majestade - Vossa alteza – Vossa onipotência;
D) Vossa majestade – Sua alteza – Sua santidade;
E) Sua majestade – Vossa alteza – Vossa santidade.

10) Transpondo o enunciado abaixo para o plural obtem-se:



FAMOSOS

Ex-guarda-costas mantém polêmicas sobre Michael Jackson

Matt Fiddes, antigo funcionário, disse a um jornal que o astro quis matar Randy, um dos seus irmãos, em 2005

Leia também:

- Carolina Dieckmann está abatida com fotos nua
- Ex-Morena da Laje será capa da 'Playboy'
- Grávida, Grazi publica foto de barrigão pintado

- A) Ex-guardas-costas mantém polêmicas sobre Michael Jackson;
- B) Os ex-guardas-costas mantem polêmicas sobre Michael Jackson;
- C) Ex-guarda-costas mantéem polêmicas sobre Michael Jackson;
- D) Os ex-guarda-costas mantêm polêmicas sobre Michael Jackson;
- E) Ex-guarda-costas mantêm polêmicas sobre Michael Jackson.

CONHECIMENTOS GERAIS

11) Conforme anunciou o portal eletrônico MSN Notícias, no dia 23 de maio deste ano, os egípcios comemoraram a oportunidade de poder escolher, de forma livre, um líder para o seu país. Isso porque, durante 30 anos, o Egito ficou sob o domínio do ditador:

- A) Hosni Mubarak;
- B) Kofi Annan;
- C) Bashar al Assad;
- D) Muammar Kadafi;
- E) Zine El Abidine Ben Ali.

12) Iniciada em Toronto, no Canadá, o movimento surgiu em 2011 e se espalhou por diversas partes do mundo, inclusive aqui no Brasil. O movimento é um protesto contra a ideia de que as mulheres vítimas de estupro apelavam para isso devido as roupas que usavam. Por isso, no movimento as mulheres usam roupas provocantes, como minissaias, blusinhas, peças transparentes, lingerie, salto alto, etc. Estamos falando do movimento que ficou conhecido no Brasil como:

- A) Marcha das Mulheres;
- B) Marcha das Lingerie;
- C) Marcha das Vadias;
- D) Marcha das Piriquetes;
- E) Marcha das Blusinhas.

13) Nasceu em Pilar, em 3 de junho de 1901. Foi um escritor paraibano que se tornou reconhecido no Brasil inteiro. É considerado um dos principais romancistas regionalistas, ao lado de Guimarães Rosa, Érico Veríssimo e Jorge Amado. Sua obra mais eminente é *Menino de Engenho*. Estamos falando de:

- A) Augusto dos Anjos;
- B) Pedro Américo;
- C) Rubens da Fonseca;
- D) José Lins do Rego;
- E) Graciliano Ramos.

14) Marque a única alternativa **INCORRETA** relacionada ao paraibano Assis Chateaubriand, um dos homens públicos mais influentes do Brasil nas décadas de 1940 e 1960:

- A) Foi dono de um grande conglomerado de mídias chamado Diários Associados;
- B) Assumiu a cadeira 32 da Academia Brasileira de Letras, no ano de 1954;
- C) Apoiou a Revolução Constitucionalista, em 1932;
- D) Foi o responsável pela chegada da televisão ao Brasil;
- E) Organizou o Museu de Arte de São Paulo, uma de suas mais importantes criações.

15) Leia o texto abaixo e responda **CORRETAMENTE**:

*Duzentos anos atrás, apenas 3% da população mundial vivia em cidades. Há um século, na esteira da Revolução Industrial, a porcentagem tinha subido para 13% – ainda uma minoria em um planeta essencialmente rural. Em algum momento deste ano, de acordo com estimativas das Nações Unidas, pela primeira vez na história o número de pessoas que vivem em áreas urbanas ultrapassará o de moradores do campo. Segundo o mesmo estudo, nas próximas décadas praticamente todo o crescimento populacional do planeta ocorrerá nas cidades, nas quais viverão sete em cada dez pessoas em 2050. A população rural ainda deve aumentar nos próximos dez anos, antes de entrar em declínio gradativo. A atual migração para as cidades e de tal ordem que se pode compará-la, de forma alegórica, a um novo salto na evolução. O *Homo sapiens* cedeu lugar a seu sucessor, o *Homo urbanus*.*

(Trecho do texto *O Planeta Urbano*. Veja, 16.04.2008)

- A) O texto indica que em 2050 a população rural será maior que a urbana;
- B) Se o *Homo urbanus* é o homem que vive na cidade, o *Homo sapiens* é o homem que mora no campo;
- C) Antes da Revolução Industrial, segundo o texto, a população rural estava em 13%;
- D) De acordo com o texto, a transferência da população rural para as cidades, atualmente, é considerada um salto na evolução humana;
- E) Segundo o texto, os estudos da ONU indicam que a população urbana já havia ultrapassado a rural,

quando ocorreu a Revolução Industrial.

16) Assinale a alternativa que caracteriza o fenômeno meteorológico conhecido como *El Niño*:

- A) Turbulência ocorrida nas águas do Pacífico, que proporciona o surgimento de ciclones;
- B) Aquecimento do ar do oceano Atlântico, que empurra o ar úmido para o continente sul-americano;
- C) Esfriamento do ar sobre o oceano Pacífico, que repele as correntes tropicais em direção ao oceano Atlântico;
- D) Alteração significativa na distribuição da temperatura da superfície da água do oceano Pacífico;
- E) Derretimento das geleiras do Pólo Norte, que favorece a precipitação pluviométrica sob o continente norte-americano.

17) São mudanças ocorridas no funcionamento da sociedade provocadas pelo fenômeno da globalização, **EXCETO**:

- A) Nova forma de comportamento dos organismos internacionais, como o FMI, BIRD, RID, BID, etc;
- B) Criação de novas organizações a exemplo da Organização Mundial do Comércio;
- C) Nova Divisão Internacional do Trabalho;
- D) Formação de megablocos e blocos supranacionais;
- E) Avanços do capital de produção em detrimento do capital volátil.

18) Leia o texto a seguir:

[...] fazendeiro e político influente, ligado politicamente ao presidente e senador Álvaro Machado, elegeu-se deputado estadual por três legislaturas, ainda no início do período republicano, tendo permanecido na Assembleia Legislativa de 1896 a 1907. Deixou ilustre descendência. Foi primeiro filho de Emas a ocupar uma cadeira no Legislativo Estadual, após a proclamação da República. (SANTOS, 2011).

O texto se refere a:

- A) Manoel Martins Lopes;
- B) Wenceslau Lopes da Silva;
- C) José Lopes da Silva;
- D) Silva Nunes;
- E) Morais Pereira Lopes.

19) De acordo com o historiador José Ozildo dos Santos, a presença de Joaquim Nunes de Gouveia na Várzea de Emas somente é registrada a partir de 1917. A esse personagem da história de Emas se deve:

- A) A construção do mercado público;
- B) A reforma do Colégio Estadual;
- C) O erguimento da matriz;
- D) A construção da prefeitura municipal;

E) A realização da primeira feira.

20) Segundo histórico da cidade de Emas, disponível no portal eletrônico do IBGE, Emas foi elevada à categoria de Município e Distrito pela Lei Estadual nº 2658, de 22 de dezembro de 1961, desmembrado de:

- A) Serra da Raiz;
- B) Coremas;
- C) Cajazeirinhas;
- D) Olho d'Água;
- E) Catingueira.

CONHECIMENTOS ESPECÍFICOS

21) Com base na morfologia externa de uma raiz (Figura 01), assinale a alternativa que demonstra a sequência **CORRETA**:




Figura 01 – morfologia externa de uma raiz.

- A) 1 – zona de ramificação, 2 – zona pilosa, 3 – zona de alongamento, 4 – pêlos radiculares, 5 – coifa;
- B) 1 – zona de alongamento, 2 – zona de ramificação, 3 – zona pilosa, 4 – pêlos radiculares, 5 – coifa;
- C) 1 – zona de alongamento, 2 – zona de ramificação, 3 – zona pilosa, 4 – coifa, 5 – pêlos radiculares;
- D) 1 – pêlos radiculares, 2 – zona pilosa, 3 – zona de alongamento, 4 – zona de ramificação, 5 – coifa;
- E) 1 – pêlos radiculares, 2 – zona de alongamento, 3 – zona de ramificação, 4 – zona pilosa, 5 – coifa.

22) De acordo com a Associação Brasileira de Normas Técnicas (ABNT) a evapotranspiração de uma superfície totalmente coberta por vegetação rasteira, em fase de crescimento ativo, cujo teor de umidade do solo esteja próximo a capa cidade de campo é denominada de:

- A) Evapotranspiração potencial;
- B) Evapotranspiração real;
- C) Evaporação;
- D) Estimativa indireta da evapotranspiração;
- E) Estimativa direta da evapotranspiração;

23) Com base na NBR 14228, o limite de resistência à tração admissível para tubos destinados à irrigação com pressão de uso de 1,07 MPa deve ser de:

- A) 150MPa;
- B) 200MPa;
- C) 230MPa;
- D) 250MPa;
- E) 310MPa.

24) De acordo com a simbologia adotada pela NBR 14145 – Drenagem Agrícola, o desenho abaixo (Figura 02), representa:



Figura 02

- A) Dreno subterrâneo entubado;
- B) Caixa de inspeção;
- C) Passagem molhada;
- D) Talvegue ou dreno natural;
- E) Caminho de serviço-estrada.

25) Com base na Associação Brasileira de Normas Técnicas (ABNT), admite-se que o valor da tensão de água na franja capilar deve ser inferior a:

- A) 12 kPa;
- B) 10 kPa;
- C) 11 kPa;
- D) 8 kPa;
- E) 6 kPa.

26) As formigas cortadeiras, tanto as saúvas (*Atta spp.*) quanto as quenquéns (*Acromyrmex spp.*) causam sérios danos à videira devido ao corte de folhas, brotos e cachos. O ataque de formigas é prejudicial em qualquer fase do ciclo, porém o dano é maior na fase de formação da planta, quando paralisa temporariamente o crescimento. Para o controle das formigas cortadeiras, qual inseticida (ingrediente ativo) abaixo deverá ser empregado:

- A) Clorpirifós;
- B) Fenitrotiom + óleo emulsionável;
- C) Imidacloprid;
- D) Paratiom metil + óleo emulsionável;
- E) Paratiom metil.

27) De acordo com a NBR 11795 (Tubos de polietileno para sistemas de irrigação localizada), a tensão circunferencial utilizada para fins de dimensionamento dos tubos é de:

- A) 2,0MPa;
- B) 2,2MPa;
- C) 3,0MPa;
- D) 3,2MPa;
- E) 5,0MPa.

28) No tocante a anatomia das folhas, (Figura 03), a letra "A" representa:

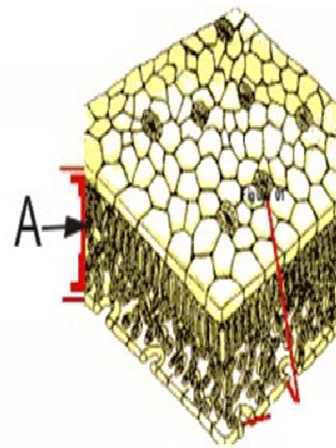


Figura 03 – corte de uma folha

- A) Epiderme superior;
- B) Epiderme inferior;
- C) Mesófilo;
- D) Estômato;
- E) Pelos do epiderme.

29) A NBR 13075 fixa medidas preventivas para manipulação de produtos agrotóxicos. Com base na norma, verifique a alternativa **INCORRETA**:

- A) Os eventuais vazamentos ou derrames de produtos agrotóxicos devem ser recolhidos imediatamente com absorventes, de acordo com a folha de segurança;
- B) Não deve ser utilizada água para remover possíveis vazamentos ou derrames;
- C) O transporte de materiais de vidro em distâncias superiores a 3 m deve ser feito em caixas plásticas;
- D) A higienização dos EPI's devem ser feitas por empresas especializadas e fora do local de trabalho;
- E) As amostras de produtos agrotóxicos devem estar identificadas com o nome comercial ou científico do produto agrotóxico, no corpo da embalagem.

30) Com base nos termos relativos aos materiais da crosta terrestre, rochas e solos, (NBR 6502); a rocha sedimentar constituída essencialmente por partículas argilosas, sem estratificação e de aspecto maciço e homogêneo é denominada de:

- A) Arenito;
- B) Argilito;
- C) Basalto;
- D) Brecha;
- E) Calcário.

31) De acordo com a NBR 13968 (Embalagem rígida vazia de agrotóxico) as embalagem rígida vazia não-perigosa, são embalagens que contiveram formulações de agrotóxicos utilizáveis diluídas em água e que, submetidas aos adequados procedimentos de lavagem interna, apresentem na água de lavagem final uma concentração, em ingrediente ativo, do pro-

duto originalmente acondicionado, menor que:

- A) 100 ppm;
- B) 1000 ppm;
- C) 200 ppm;
- D) 2000 ppm;
- E) 5000 ppm.

32) Na determinação de magnésia pelo método gravimétrico do pirofosfato em fertilizantes e em corretivos da acidez dos solos contendo ou não fosfato, pode ser usado o indicador vermelho de metila ou solução alcoólica a 0,2% e a mudança de cor deverá de vermelho para rosa com pH entre:

- A) 2,5 a 3,0;
- B) 3,5 a 4,0;
- C) 4,0 a 4,5;
- D) 4,5 a 5,0;
- E) 5,0 a 6,5.

33) A ABNT através da NBR 10703 define os termos empregados nos estudos, projetos, pesquisas e trabalhos em geral, relacionados à análise, ao controle e à prevenção da degradação do solo. De acordo com a norma, o processo de acentuada diminuição hídrica num ambiente terrestre, devido a diferentes fatores, tanto naturais como antropogênicos é conhecida como:

- A) Abrasão;
- B) Boçoroca;
- C) Desertificação;
- D) Desnitrificação;
- E) Capilaridade.

34) Com base na Lei Nº 4.771/1965, verifique as inferências:

I. Reserva Legal é área localizada no interior de uma propriedade ou posse rural, excetuada a de preservação permanente, necessária ao uso sustentável dos recursos naturais, à conservação e reabilitação dos processos ecológicos, à conservação da biodiversidade e ao abrigo e proteção de fauna e flora nativas.

II. Segundo a Lei, entende-se por utilidade pública as atividades imprescindíveis à proteção da integridade da vegetação nativa, tais como: prevenção, combate e controle do fogo, controle da erosão, erradicação de invasoras e proteção de plantios com espécies nativas, conforme resolução do CONAMA.

III. É considerado como preservação permanente as florestas e demais formas de vegetação natural situadas o longo dos rios ou de qualquer curso d'água desde o seu nível mais alto em faixa marginal cuja largura mínima será de 30 metros para os cursos d'água de menos de 50 metros de largura.

Está(ão) **CORRETO**(s) o(s) Item(ns):

- A) Apenas I;

- B) Apenas II;
- C) Apenas III;
- D) I e II;
- E) II e III.

35) A Lei Nº 4.771/1965 considera de preservação permanente, as florestas e demais formas de vegetação natural situadas nas bordas dos tabuleiros ou chapadas, a partir da linha de ruptura do relevo, em faixa nunca inferior a quantos metros em projeções horizontais:

- A) 50m;
- B) 80m;
- C) 100m;
- D) 120m;
- E) 200m.

36) De acordo com o Art. 44, da Lei Nº 4.771/1965. O proprietário ou possuidor de imóvel rural com área de floresta nativa, natural, primitiva ou regenerada ou outra forma de vegetação nativa deve adotar as seguintes alternativas, isoladas ou conjuntamente:

I. Recompôr a reserva legal de sua propriedade mediante o plantio, a cada dois anos, de no mínimo 1/5 da área total necessária à sua complementação, com espécies nativas, de acordo com critérios estabelecidos pelo órgão ambiental estadual competente.

II. Conduzir a regeneração natural da reserva legal.

III. Compensar a reserva legal por outra área equivalente em importância ecológica e extensão, desde que pertença ao mesmo ecossistema e esteja localizada na mesma microbacia, conforme critérios estabelecidos em regulamento.

Está(ão) **CORRETO**(s) o(s) item(ns):

- A) Apenas I;
- B) Apenas II;
- C) Apenas III;
- D) I e II;
- E) II e III.

37) Com base na Subsessão II, do Decreto 6.514/2008, assinale a alternativa **INCORRETA**:

A) A multa terá por base a unidade, hectare, metro cúbico, quilograma, metro de carvão-mdc, estéreo, metro quadrado, dúzia, estipe, cento, milheiros ou outra medida pertinente, de acordo com o objeto jurídico lesado;

B) O órgão ou entidade ambiental poderá especificar a unidade de medida aplicável para cada espécie de recurso ambiental objeto da infração;

C) O valor da multa de que trata este Decreto será corrigido, periodicamente, com base nos índices estabelecidos na legislação pertinente, sendo o mínimo de R\$ 500,00 (quinhentos reais) e o máximo de R\$ 50.000.000,00 (cinquenta milhões de reais);

D) A multa diária será aplicada sempre que o cometimento da infração se prolongar no tempo;

E) O agente atuante deverá notificar o atuado da data em que for considerada cessada ou regularizada a situação que deu causa à lavratura do auto de infração.

38) Assinale a alternativa **INCORRETA**, sobre as sanções restritivas de direito aplicáveis às pessoas físicas ou jurídicas previstas no Decreto 6.514/2008:

A) Suspensão de registro, licença, permissão ou autorização;

B) Cancelamento de registro, licença, permissão ou autorização;

C) Perda ou restrição de incentivos e benefícios fiscais;

D) Perda ou suspensão da participação em linhas de financiamento em estabelecimentos oficiais de crédito;

E) Cancelamento de licitação junto à administração pública.

39) O Art. 36 do Decreto 6.514/2008 relata: Pescar mediante a utilização de explosivos ou substâncias que, em contato com a água, produzam efeitos semelhantes, ou substâncias tóxicas, ou ainda, por outro meio proibido pela autoridade competente gera:

A) Apreensão dos explosivos e abertura de sindicância junto ao Exército Brasileiro;

B) Apreensão dos explosivos e abertura de sindicância junto ao Polícia Federal, mais prisão dos acusados, sem direito a fiança;

C) Multa de R\$ 700,00 (setecentos reais) a R\$ 100.000,00 (cem mil reais), com acréscimo de R\$ 20,00 (vinte reais), por quilo ou fração do produto da pescaria;

D) Multa de R\$ 500,00 (quinhentos reais) a R\$ 50.000,00 (cinquenta mil reais), com acréscimo de R\$ 20,00 (vinte reais) por quilo ou fração do produto na pescaria;

E) R\$ 40,00 (quarenta reais) por quilo ou fração do produto da pesca de espécie constante das listas oficiais brasileiras de espécies ameaçadas de sobreexploração;

40) Com base na Resolução CONAMA nº 303/2002 a paisagem de topografia plana, com declividade média inferior a dez por cento, aproximadamente seis graus e superfície superior a dez hectares, terminada de forma abrupta em escarpa, caracterizando-se a chapada por grandes superfícies a mais de seiscentos metros de altitude, é denominada de:

A) Vereda;

B) Base de morro;

C) Restinga;

D) Chapada;

E) Escarpa.