



TÉCNICO EM ENFERMAGEM

PORTUGUÊS

Leia o texto “Escrever, Humildade, Técnica”, de Clarice Lispector, e responda à questão.

Essa incapacidade de atingir, de entender, é que faz com que eu, por instinto de... de quê? procure um modo de falar que me leve mais depressa ao entendimento. Esse modo, esse "estilo" (!), já foi chamado de várias coisas, mas não do que realmente e apenas é: uma procura humilde. Nunca tive um só problema de expressão, meu problema é muito mais grave: é o de concepção. Quando falo em "humildade" refiro-me à humildade no sentido cristão (como ideal a poder ser alcançado ou não); refiro-me à humildade que vem da plena consciência de se ser realmente incapaz. E refiro-me à humildade como técnica. Virgem Maria, até eu mesma me assustei com minha falta de pudor; mas é que não é. Humildade com técnica é o seguinte: só se aproximando com humildade da coisa é que ela não escapa totalmente. Descobri este tipo de humildade, o que não deixa de ser uma forma engraçada de orgulho. Orgulho não é pecado, pelo menos não grave: orgulho é coisa infantil em que se cai como se cai em gulodice. Só que orgulho tem a enorme desvantagem de ser um erro grave, com todo o atraso que erro dá à vida, faz perder muito tempo.

(Texto extraído do livro "A Descoberta do Mundo", Ed. Rocco-RJ, 1999)

01. De acordo com o texto, pode-se afirmar que:

- (A) A autora, ao procurar um modo de falar mais direto ao leitor, esbarrou na gulodice, que é uma forma de orgulho infantil;
- (B) A autora considera o orgulho o maior pecado humano, pois se afasta da humildade pregada pela Virgem Maria;
- (C) Toda e qualquer humildade é, segundo a autora, uma forma disfarçada de orgulho;
- (D) O que muitos consideram estilo, para a autora é apenas uma procura humilde de um modo de falar que me leve mais depressa ao entendimento;
- (E) A humildade cristã, em seu sentido ideal, é sempre possível, exceto para aqueles que agem na vida sem consciência e sem pudor.

- 02. Quanto aos processos de formação das palavras, tem-se que o vocábulo "girassol" é formado por:
 - (A) hibridismo;
 - (B) composição por justaposição;
 - (C) derivação regressiva;
 - (D) parassíntese;
 - (E) derivação imprópria.
- 03. Assinale a opção que apresenta uso correto do porquê:
 - (A) Por quê a solução isotônica deve ser ingerida com cautela?
 - (B) As atuações de Zico são o porquê de meu amor pelo Flamengo.
 - (C) Compraste um carro roubado por que?
 - (D) Subo saudoso a Rua do Ouvidor, caminho porque passei na infância.
 - (E) Dei o tiro em legítima defesa. Matei porquê iria morrer!
- 04. Quanto à acentuação, pode-se afirmar que o vocábulo rainha:
 - (A) recebe acento por ser proparoxítona;
 - (B) recebe acento por ser oxítona terminada em "a";
 - (C) apresenta hiato, mas não é acentuado dada a ocorrência do dígrafo "nh", fator inibitório da acentuação;
 - (D) recebe acento por ser hiato que apresenta o "i" tônico isolado na sílaba;
 - (E) não recebe acento por ser paroxítona terminada em "a".
- 05. O acento grave (denotativo da crase) está corretamente empregado apenas na opção:
 - (A) Neymar bate na bola à Pelé nas cobranças de penalidade máxima.
 - (B) Tome o elixir gota à gota, pelos próximos dez dias.
 - (C) Meus cumprimentos à você por mais um belíssimo trabalho concluído.
 - (D) Aqui, aprende-se à amar a verdade.
 - (E) O professor perguntou à Arthur: por que deixaste de fazer a tarefa, Arthur?
- 06. Leia os versos de Jorge de Lima:

“(...) foguetes, bombas, chavinhas, chios, chuveiros, chiando, chiando, chovendo, chuvas de fogo, chá - Bum?”

O vocábulo destacado, em face das classes gramaticais das palavras e de sua ocorrência no texto, deve ser classificado como:
 - (A) preposição;
 - (B) substantivo;
 - (C) interjeição;
 - (D) onomatopeia;
 - (E) adjetivo.

07. A única oração que apresenta palavra destacada **INCORRETA** quanto à ortografia está contida em:
- (A) O coração é formado por átrios e ventrículos.
 (B) Muitos cristãos hoje em dia não sabem que se tornaram heréticos por estar seguindo os pecados de Jeroboão.
 (C) Conversível diz-se de moeda que pode ser livremente trocada por outras moedas ou por outros valores.
 (D) A tetraplegia ou quadriplegia é quando uma paralisia afeta todas as quatro extremidades, superiores e inferiores, juntamente à musculatura do tronco.
 (E) Existe um versículo bíblico que diz: “todas as coisas me são lícitas, mas nem todas me convêm”.
08. Assinale a opção que apresenta período no qual o pronome oblíquo átono sublinhado está corretamente empregado:
- (A) Jamais julgou-se superior aos outros.
 (B) Eu chamarei-te quando as vagas forem desocupadas. Antes, não.
 (C) Não me venha com desculpas.
 (D) Me alegra ter você aqui!
 (E) Importante que tenha-se em mente isto: a Pátria é nosso maior tesouro!
09. Com base nas normas gramaticais que disciplinam a prosódia, analise as assertivas e assinale a opção **INCORRETA**:
- (A) Pudico (aquele que tem pudor): palavra paroxítona com ênfase tônica na sílaba "di";
 (B) Recorde é palavra que deve ser pronunciada como paroxítona: "recórde";
 (C) Rubrica: palavra proparoxítona. Ênfase tônica na sílaba "ru", pronúncia: "rúbrica";
 (D) Ruim: palavra oxítona. Pronúncia: "ruím";
 (E) Tóxico: pronuncia-se com o som de "cs", ou seja: "tócsico".
10. Tomando-se como parâmetro as regras de regência verbal consignadas na NGB (Norma Gramatical Brasileira), tem-se como assertiva **INCORRETA**:
- (A) no sentido de servir, empregamos o verbo "atender" como transitivo direto;
 (B) no sentido de fazer carinho, empregamos o verbo "agradar" como transitivo direto;
 (C) no sentido de contentar, satisfazer, empregamos o verbo "agradar" como transitivo indireto (exige-se objeto indireto com a preposição a);
 (D) no sentido de respirar, sorver (perfume, ar), empregamos o verbo "aspirar" como transitivo direto;
 (E) no sentido de ver, empregamos o verbo "assistir" como transitivo indireto (exige-se objeto indireto com a preposição a).

11. Sendo $p(x) = x^3 - 4x^2 + 5x - 2$ e $q(x) = x^2 - 3x + 6$, o valor de $\frac{p(-2)}{q(3)}$ é:

- (A) $-\frac{2}{3}$
 (B) $\frac{2}{3}$
 (C) $-\frac{5}{6}$
 (D) -6
 (E) 6

12. Uma loja possui x peças em seu estoque e pretende vender cada peça por $(x + 12)$ reais. Se o proprietário pretende atingir uma receita de R\$ 1.120,00 com a venda das x peças, pode-se afirmar que cada peça será vendida por:
- (A) R\$ 28,00;
 (B) R\$ 34,00;
 (C) R\$ 40,00;
 (D) R\$ 46,00;
 (E) R\$ 52,00.

13. Triplicando-se o raio de uma circunferência a área é multiplicada por:
- (A) 9π ;
 (B) 3π ;
 (C) 9 ;
 (D) 3 ;
 (E) $3/\pi$.

14. O valor da expressão $\frac{\left(\frac{2}{3}\right)^{-2} - 2^2}{5 \cdot \left(\frac{1}{4}\right)^2}$ é:

- (A) $-\frac{28}{5}$
 (B) $-\frac{15}{16}$
 (C) $-\frac{8}{5}$
 (D) 10
 (E) 20


15. Sabendo-se que $x = -15$ e $y = 8$, então a expressão $\frac{3x^2y - 6xy^2}{4x - 8y}$ é igual a:
- (A) -90
 (B) 134
 (C) -235
 (D) 358
 (E) 427

CONHECIMENTOS GERAIS

16. Acerca da recente História da República Federativa do Brasil, tem-se como assertiva **INCORRETA**:
- (A) Com a morte de Tancredo Neves, o vice-presidente eleito, José Sarney, assumiu a presidência do Brasil. José Sarney governou o Brasil espelhado na imagem de Tancredo Neves. O ministério foi composto pelos mesmos ministros escolhidos por Tancredo.
 - (B) A Constituição de 1988 é a mais democrática que o Brasil já teve.
 - (C) Com a renúncia de Fernando Collor, Fernando Henrique Cardoso assumiu a Presidência da República.
 - (D) Buscando uma solução para a crise econômica, em Fevereiro de 1986, o Governo Sarney lançou um plano de estabilização econômica, o Plano Cruzado.
 - (E) Pedro Collor, irmão do presidente Fernando Collor, denunciou um esquema de corrupção que tinha como principal figura Paulo César Farias, tesoureiro da campanha política de Collor.
17. O segundo turno das eleições presidenciais da França, em 6 de maio de 2012, reuniu como candidatos o então presidente, Nicolas Sarkozy, e seu opositor:
- (A) François Hollande;
 - (B) Dominique Strauss-Kahn;
 - (C) Julien Dray;
 - (D) Pierre Moscovici;
 - (E) Manuel Valls.
18. Em abril de 2012, o Supremo Tribunal Federal (STF) decidiu, por oito votos a dois, que não pode ser considerado crime:
- (A) o uso medicinal da maconha;
 - (B) o homicídio passional;
 - (C) a emissão de cheque pré-datado, ainda que sem provisão de fundos;
 - (D) a compra de votos durante os processos eleitorais;
 - (E) o aborto de fetos com má-formação do cérebro (anencefalia).
19. *“O Brasil perdeu em março de 2012 dois de seus maiores expoentes nas artes e no humor. Um deles criou mais de duzentas personagens, dentre as quais podem ser citadas: Pantaleão e Coalhada; outro foi desenhista, jornalista, tradutor, dramaturgo e escritor.”*
- O enunciado se refere, respectivamente, a:
- (A) Jô Soares e Fernando Sabino;
 - (B) Renato Aragão e Luís Fernando Veríssimo;
 - (C) Ronald Golias e Moacyr Scliar;
 - (D) Chico Anysio e Millôr Fernandes;
 - (E) Moacir Franco e Rubem Braga.






20. O Estado do Paraná faz fronteira com quais países?
- (A) Paraguai e Uruguai;
 - (B) Argentina e Paraguai;
 - (C) Argentina e Uruguai;
 - (D) Argentina e Bolívia;
 - (E) Chile e Uruguai.

INFORMÁTICA

21. É possível acessar o Menu Iniciar do Windows pelo teclado, caso este possua a tecla Win (aquela com o símbolo , mas é possível fazê-lo por meio de uma combinação de teclas formada por:
- (A) CTRL + ALT + DEL;
 - (B) CTRL + ESC;
 - (C) ALT + TAB;
 - (D) SHIFT + F3;
 - (E) CTRL + SHIFT.
22. O sistema desenvolvido com o objetivo de auxiliar no controle e acompanhamento de tarefas, tais como controle e folha de pagamento em empresas, é denominado:
- (A) Operacional;
 - (B) Internet Explorer;
 - (C) de Informação;
 - (D) Windows Word;
 - (E) de correio eletrônico (e-mail).
23. No Word, para mover o cursor usando o teclado, há várias teclas e combinações de teclas que trazem este resultado:
- I. HOME - Posiciona o cursor no início da linha atual (ou seja, da linha onde o cursor já se encontra).
 - II. END - Posiciona o cursor no final do texto (ou seja, depois de tudo o que foi digitado).
 - III. PAGE UP - Rola a página para cima. Posiciona o cursor no início da página que estiver acima da posição atual do cursor.
 - IV. PAGE DOWN - Rola a página para baixo. Posiciona o cursor no início da página que estiver abaixo da posição atual do cursor (próxima página).
- Assinale a alternativa correta:
- (A) apenas II, III e IV estão corretas;
 - (B) apenas II está correta;
 - (C) apenas I e III estão corretas;
 - (D) apenas IV está incorreta;
 - (E) todas estão corretas.
24. Assinale a afirmativa correta:
- (A) Memória Cache é uma memória estática com baixo custo e baixa velocidade;
 - (B) Memória RAM é um tipo de memória que mesmo que o computador seja desligado, armazena as informações;

- (C) DRIVER é o dispositivo onde todos os programas se encontram magneticamente;
- (D) A memória ROM é onde se encontram gravados os três programas básicos do micro: BIOS, POST e SETUP;
- (E) Scandisk gerencia os arquivos no ambiente Microsoft Windows, copiando, movendo e apagando arquivos.

25. Abaixo estão alguns dos comandos do Excel e suas finalidades, relacione-os com suas definições:

- (1)  Autosoma;
- (2)  Estilo de Moeda;
- (3)  Aumentar / Diminuir casas decimais;
- (4)  Colar Função;
- (5)  Estilo de Porcentagem.

- () Realiza um auxílio à construção de funções.
- () Soma automaticamente os valores contidos em determinadas células.
- () Formata a célula para que qualquer número escrito nela tenha o formato da moeda corrente no país.
- () Formata a célula para que qualquer número escrito nela tenha o formato de Percentual.
- () Aumenta ou diminui as casas decimais de um determinado número.

Assinale a sequência correta:

- (A) 4, 1, 2, 5, 3;
- (B) 3, 1, 2, 4, 5;
- (C) 4, 3, 2, 5, 1;
- (D) 5, 1, 2, 3, 4;
- (E) 2, 1, 5, 3, 4.

CONHECIMENTOS ESPECÍFICOS

26. Paciente com a respiração normal é um paciente:

- (A) dispneico;
- (B) eupneico;
- (C) ortopneico;
- (D) apneico;
- (E) Cheyne-Stokes.

27. “Todos que trabalham na área de enfermagem sabem que a febre é a elevação patológica da temperatura corporal de um indivíduo.”

Quando a febre tem seu pico e cai sem um retorno aos níveis normais de temperatura é chamada de:

- (A) alternada;
- (B) sustentada;
- (C) remittente;
- (D) recorrente;
- (E) intermitente.

28. A perda ou diminuição do tamanho ou da atividade fisiológica de uma parte do corpo causada por traumatismos, denomina-se:

- (A) trombose;
- (B) escara;
- (C) artrite;
- (D) artrose;
- (E) atrofia.

29. Qual o significado de escara?

- (A) Formação de um coágulo no interior de um vaso sanguíneo.
- (B) Inflamação das articulações caracterizadas por dor e edema, mais comumente relacionada à enfermidade autoimune ou infecciosa.
- (C) Perda ou diminuição do tamanho ou da atividade fisiológica de uma parte do corpo podendo ser causada por: inatividade funcional, lesão de nervos motores, traumatismos.
- (D) Ulceração da pele e dos tecidos subcutâneos, causada pela compressão prolongada e persistente sobre saliências ósseas.
- (E) Afecção degenerativa que acomete uma articulação.

30. Relacione a primeira coluna com a segunda e assinale a alternativa correta:

- (1) Anosmia.
 - (2) Meteorismo.
 - (3) Tenesmo.
 - (4) Sialorreia.
 - (5) Peristalse.
- () É o acúmulo de ar no estômago ou no intestino, acompanhado de sensação de distensão.
 - () Ausência congênita ou adquirida da sensibilidade olfativa.
 - () Excesso de produção de saliva.
 - () Desejo doloroso e ineficaz de urinar ou defecar.
 - () Movimento que consiste em ondas de contração, precedidas de ondas de relaxamento, que se propagam ao longo do tubo digestivo ou de outras estruturas tubulares fazendo progredir seu conteúdo.

Assinale a sequência correta:

- (A) 2, 1, 5, 4, 3;
- (B) 1, 2, 5, 3, 4;
- (C) 1, 4, 3, 2, 5;
- (D) 1, 2, 4, 3, 5;
- (E) 2, 1, 4, 3, 5.

31. Relacione a primeira coluna com a segunda e assinale a alternativa correta:

- (1) Cianose.
- (2) Fadiga.
- (3) Hemoptise.
- (4) Dispneia.
- (5) Desmaio.

- () Coloração azulada da pele, em especial os lábios, os dedos e o pavilhão auricular, provocada por insuficiência de oxigênio.
- () Cansaço decorrente de esforços.
- () Desfalecimento com privação de sentidos e do movimento.
- () Eliminação de sangue, pela boca, de origem pulmonar.
- () Encurtamento ou dificuldade na respiração causada por distúrbios cardíacos ou respiratórios ou exercício extremo.

Assinale a sequência correta:

- (A) 1, 4, 3, 2, 5;
- (B) 2, 1, 4, 3, 5;
- (C) 1, 2, 5, 3, 4;
- (D) 1, 2, 4, 3, 5;
- (E) 2, 1, 5, 4, 3.

32. A lavagem intestinal, também chamada de enema, é a instilação de uma solução dentro do reto e do cólon sigmóide que tem por finalidades:

- I. Aliviar distensão e flatulência.
- II. Aliviar constipação intestinal.
- III. Preparar o paciente para operações, tratamentos e radiografias do trato intestinal.
- IV. Administrar medicações que exerçam efeito local sobre a mucosa retal.

Assinale a alternativa correta:

- (A) todas estão incorretas;
- (B) todas estão corretas;
- (C) apenas I e II estão corretas;
- (D) apenas I e III estão corretas;
- (E) apenas II, III e IV estão corretas.

33. Esterilização significa:

- (A) destruição de todos os microrganismos em um material;
- (B) ausência completa de microrganismos patogênicos em um ambiente, como em salas de cirurgia ou nos instrumentos usados durante as intervenções, com a finalidade de evitar a ocorrência de infecções;
- (C) eliminação de portadores ou vetores de moléstias infecciosas ou parasitárias, como moscas, pulgas;
- (D) emprego de substâncias químicas com o fim de inibir os germes e impedir a sua proliferação. Não há destruição de germes;
- (E) processo mediante o qual são destruídos todos os germes com a finalidade de tornar estéreis objetos ou ambientes, podendo ser feita por meio físicos ou químicos.

34. Pode-se afirmar que dismenorreia é o(a):

- (A) sangramento excessivo na época do fluxo menstrual regular;
- (B) sangramento uterino excessivo ocorrendo a intervalos regulares;
- (C) hemorragia uterina independente da atividade uterina;
- (D) menstruação dolorosa;
- (E) ausência de menstruação.

35. Mulher dá entrada no pronto socorro, apresentando coleção localizada de líquido na epiderme produzida por queimaduras. O profissional de enfermagem, ao realizar registro, deverá usar o seguinte termo:

- (A) Caquexia;
- (B) Edema;
- (C) Eritema;
- (D) Prurido;
- (E) Flictena.

36. A frequência normal do pulso é (por minuto):

- I. Homem: 60 a 70 bpm.
- II. Mulher: 65 a 80 bpm.
- III. Crianças: 120 a 125 bpm.
- IV. Lactante: 125 a 130 bpm.

Assinale a alternativa correta:

- (A) todas estão corretas;
- (B) todas estão incorretas;
- (C) apenas I e II estão corretas;
- (D) apenas II e IV estão corretas;
- (E) apenas II, III e IV estão corretas.

37. Relacione a primeira coluna com a segunda e assinale a alternativa correta:

- (1) Choque anafilático.
- (2) Choque cardiogênico.
- (3) Choque hipovolêmico.
- (4) Choque neurogênico.
- (5) Choque obstrutivo.

- () Resulta da redução do volume sanguíneo.
- () Ocorre por deficiência aguda do bombeamento cardíaco.
- () Processo alérgico ou anafilático que leva a uma vasodilatação intensa e súbita.
- () Resulta de traumatismos violentos que levam a súbita depressão e à inibição do tônus vascular.
- () Resulta de bloqueio da circulação de retorno do coração.

Assinale a sequência correta:

- (A) 1, 4, 3, 2, 5;
- (B) 1, 2, 4, 3, 5;
- (C) 3, 2, 1, 4, 5;
- (D) 3, 2, 4, 1, 5;
- (E) 5, 2, 1, 3, 4.

38. O alcoolismo é uma doença que atinge grande parte do meio social. Analise as afirmações abaixo:

- I. O álcool causa sintomas a curto prazo.
- II. Miocardiopatia e hepatite são complicações causadas pelo uso do álcool.
- III. Doenças de pele estão associadas ao abuso do álcool.
- IV. O álcool não causa distúrbios de coagulação nem hepáticos.

São corretas:

- (A) apenas I;
- (B) apenas II;
- (C) apenas II, III e IV;
- (D) apenas III e IV;
- (E) todas.

39. Faça a associação correta:

- () *Mycobacterium tuberculosis*.
- () *Bordetella pertussis*.
- () *Clostridium tetani*.
- () *Leptospira interrogans*.

- (1) Tétano.
- (2) Tuberculose.
- (3) Leptospirose.
- (4) Coqueluche.

Assinale a sequência correta:

- (A) 3, 1, 2, 4;
- (B) 2, 1, 3, 4;
- (C) 2, 4, 1, 3;
- (D) 1, 2, 3, 4;
- (E) 4, 1, 2, 3.

40. Coloque (V) quando verdadeiro e (F) quando falso em relação aos princípios que regem a organização do SUS:

- () Regionalização e hierarquização.
- () Descentralização.
- () Desintegração dos serviços privados.
- () Autonomia de decisões.

Assinale a sequência correta:

- (A) F, F, F, V;
- (B) V, V, F, F;
- (C) V, V, V, V;
- (D) V, F, V, F;
- (E) F, V, F, V.