

# PREFEITURA DO MUNICÍPIO DE PARANAGUÁ - PARANÁ

Edital 01/2012 - DATA DA PROVA: 01/04/2012

## PERÍODO DE PROVA: TARDE



# FAUEL

Fundação de Apoio ao Desenvolvimento da Universidade Estadual de Londrina

## CARGO: TÉCNICO FISCAL URBANÍSTICO

### CARGO: TÉCNICO FISCAL URBANÍSTICO

#### LEIA ESTAS INSTRUÇÕES:

- 1 Identifique-se na parte inferior desta capa;
- 2 Você dispõe de três horas para responder todas as questões e preencher o Cartão Resposta;
- 3 Utilize caneta esferográfica azul ou preta;
- 4 O candidato só poderá se retirar da sala, após 1 (uma) hora do início das provas;
- 5 Cada questão de múltipla escolha apresenta apenas uma opção de resposta correta;
- 6 Verifique se o caderno está completo e sem imperfeições gráficas que possam dificultar a leitura. Detectado algum problema, comunique imediatamente ao fiscal;
- 7 Utilize o caderno de prova como rascunho se necessário, mas deverá assinalar o Cartão Resposta que acompanha a prova;
- 8 Não serão computadas questões não assinaladas ou que contenham mais de uma resposta, emenda ou rasura;
- 9 Durante a aplicação da prova é proibido qualquer tipo de consulta;
- 10 Este caderno de prova contém, 30 (trinta) questões de múltipla escolha (a,b,c,d);
- 11 Antes de retirar-se definitivamente da sala, devolva ao fiscal o caderno de prova e o Cartão Resposta;
- 12 Assine o cartão resposta no verso.

Identificação do candidato	
Nome (em letra de forma)	Nº da inscrição

**Boa Prova!**

## EXIGÊNCIAS DA VIDA MODERNA

Dizem que todos os dias você deve comer uma maçã por causa do ferro. E uma banana pelo potássio. E também uma laranja pela vitamina C. Uma xícara de chá verde sem açúcar para prevenir a diabetes. Todos os dias deve-se tomar ao menos dois litros de água. E uriná-los, o que consome o dobro do tempo. Todos os dias deve-se tomar um Yakult pelos lactobacilos (que ninguém sabe bem o que é, mas que aos bilhões, ajudam a digestão). Cada dia uma Aspirina, previne infarto. Uma taça de vinho tinto também. Uma de vinho branco estabiliza o sistema nervoso. Um copo de cerveja, para... não lembro bem para o que, mas faz bem. O benefício adicional é que se você tomar tudo isso ao mesmo tempo e tiver um derrame, nem vai perceber.

Todos os dias deve-se comer fibra. Muita, muitíssima fibra. Fibra suficiente para fazer um pulôver. Você deve fazer entre quatro e seis refeições leves diariamente. E nunca se esqueça de mastigar pelo menos cem vezes cada garfada. Só para comer, serão cerca de cinco horas do dia...

E não esqueça de escovar os dentes depois de comer. Ou seja, você tem que escovar os dentes depois da maçã, da banana, da laranja, das seis refeições e enquanto tiver dentes, passar fio dental, massagear a gengiva, escovar a língua e bochechar com Plax. Melhor, inclusive, ampliar o banheiro e aproveitar para colocar um equipamento de som, porque entre a água, a fibra e os dentes, você vai passar ali várias horas por dia.

Há que se dormir oito horas por noite e trabalhar outras oito por dia, mais as cinco comendo são vinte e uma. Sobram três, desde que você não pegue trânsito. As estatísticas comprovam que assistimos três horas de TV por dia. Menos você, porque todos os dias você vai caminhar ao menos meia hora (por experiência própria, após quinze minutos dê meia volta e comece a voltar, ou a meia hora vira uma). E você deve cuidar das amizades, porque são como uma planta: devem ser regadas diariamente, o que me faz pensar em quem vai cuidar delas quando eu estiver viajando. Deve-se estar bem informado também, lendo dois ou três jornais por dia para comparar as informações. Ah! E o sexo! Todos os dias, tomando o cuidado de não se cair na rotina. Há que ser criativo, inovador para renovar a sedução. Isso leva tempo - e nem estou falando de sexo tântrico. Também precisa sobrar tempo para varrer, passar, lavar roupa, pratos e espero que você não tenha um bichinho de estimação. Na minha conta são 29 horas por dia. A única solução que me ocorre é fazer várias dessas coisas ao mesmo tempo! Por exemplo, tomar banho frio com a boca aberta, assim você toma água e escova os dentes. Chame os amigos junto com os seus pais. Beba o vinho, coma a maçã e a banana junto com a sua mulher... na sua cama. Ainda bem que somos crescidinhos, senão ainda teria um Danoninho e se sobrassem 5 minutos, uma colherada de leite de magnésio.

Agora tenho que ir. É o meio do dia, e depois da cerveja, do vinho e da maçã, tenho que ir ao banheiro. E já que vou, levo um jornal...

Tchau!

Viva a vida com bom humor!!!

Luís Fernando Veríssimo

**Nessa crônica, nos é proposto uma reflexão da vida, do cotidiano agitado das pessoas. Leia o texto e responda as questões abaixo.**

**01 - Segundo o texto, assinale a alternativa correta:**

- a) O sedentarismo está presente na vida das pessoas, pois são tantas tarefas que elas desempenham que não sobra tempo para exercitar-se.
- b) Bebidas alcoólicas fazem bem a saúde e devem ser consumidas diariamente, pois além de ajudarem o coração, ainda alegam o sujeito.
- c) As mulheres são as que dão conta de tudo e ainda estão lindas e maravilhosas.
- d) O momento histórico atual, exige que as pessoas se estruturam de forma diferente, pois desempenha-se muitas funções, principalmente a mulher.

**02 - O que o escritor quer dizer com a frase conclusiva de sua crônica: “Viva a vida com bom humor”:**

- a) Que a vida é uma palhaçada, onde os palhaços modernos precisam criar para conseguir o sorriso de sua plateia.
- b) Que nem tudo sai do jeito que planejamos e por isso é impossível ser feliz em meio a tantas preocupações e afazeres.
- c) Que mesmo na correria é possível encontrarmos tempo para alegrar-nos, e que as pessoas modernas mais felizes são as que não se preocupam com nada.
- d) Que numa sociedade moderna, onde o cotidiano das pessoas é repleto de compromissos, é preciso encontrar meios para tornar a vida prazerosa.

**03 - A pontuação tem sua importância num texto, com objetivos de reproduzir pausas e entonação da fala. Encontramos no texto reticências, assinale a alternativa referente a sua significação e utilização no texto:**

- a) Utilizada para explicar melhor algo que foi dito ou fazer uma indicação.
- b) Separar orações intercaladas, desempenhando as funções da vírgula e dos parênteses.
- c) Colocar em evidência uma frase, expressão ou palavra.
- d) Utilizada para indicar supressão de um trecho, interrupção ou dar ideia de continuidade.

**04 - O grau é a propriedade que o substantivo tem de exprimir as variações de aumentativo e diminutivo, no texto temos a presença desses dois fenômenos, assinale a alternativa em que aparecem palavras fora dos fenômenos citados:**

- a) muitíssimo, crescidinho, tacinha, rochedo.
- b) pouquíssimo, bocarra, vidrinho, mureta.
- c) vinho, pedrona, homenzinho, cavalinho.
- d) pezão, pratão, ratinho, antiquíssimo, feiíssimo.

**05 - Na frase: “Todo dia deve-se tomar ao menos dois litros de água”, a partícula “se” indica:**

- a) Pronome reflexivo: funciona como objeto direto, indireto e sujeito do infinitivo.
- b) Partícula apassivadora: quando se liga verbos transitivos diretos a intenção de apassivá-los.
- c) Partícula expletiva: não desempenha função sintática nenhuma ao se associar ao verbo.
- d) Partícula integrante do verbo: ligada a verbos pronominais.

**06 - O verbo dever aparece na crônica desempenhando uma função, assinale a alternativa que contraria essa função proposta pelo escritor:**

- a) Função de obrigatoriedade.
- b) No sentido de necessidade.
- c) Na função de espontaneidade.
- d) No sentido de criatividade.

**07 - Num grupo de 39 amigos, 25 gostam de axé, 28 gostam de funk e 3 não gostam de axé nem de funk. O número de pessoas desse grupo que gostam de axé e funk é igual a:**

- a) 14.
- b) 15.
- c) 17.
- d) 20.

**08 - A vazão de água em 6 torneiras, abertas por um período de  $\frac{3}{4}$  de hora é de 621 litros. Se fossem 5 torneiras, abertas por um período de 1 hora, a vazão de água seria de:**

- a) 690 litros.
- b) 660 litros.
- c) 630 litros.
- d) 580 litros.

**09 - O dobro do quadrado de um número, adicionado de seu triplo é igual a 90. Esse número é:**

- a) 8.
- b) 6.
- c) 4.
- d) 3.

**10 - Janice recortou dois quadrados cujas áreas de cada um mede  $36 \text{ cm}^2$  e os colocou um ao lado do outro, formando um retângulo. A diagonal desse retângulo mede:**

- a)  $3\sqrt{2}$  cm.
- b)  $12\sqrt{2}$  cm.
- c)  $3\sqrt{5}$  cm.
- d) Nenhuma das alternativas anteriores.

**11 - Uma caixa de sapatos em formato de paralelepípedo reto-retângulo possui dimensões de 15 cm, 22 cm e 4 dm. O volume de uma pilha contendo 350 dessas caixas é igual a:**

- a)  $0,462 \text{ m}^3$ .
- b)  $4,62 \text{ m}^3$ .
- c)  $46,2 \text{ m}^3$ .
- d)  $462 \text{ m}^3$ .

**12 - Bruno e Adão foram na lanchonete “Ki Delícia”. Bruno pagou por 2 lanches e 1 refrigerante o valor de R\$ 13,40 enquanto que Adão pagou por 1 lanche e 2 refrigerantes o valor de R\$ 10,60. O valor que se paga por 1 lanche e 1 refrigerante nessa lanchonete é igual a:**

- a) R\$ 6,00.
- b) R\$ 7,00.
- c) R\$ 8,00.
- d) R\$ 9,00.

**13 - As alternativas abaixo apresentam sequencialmente o resumo de uma decisão do TCE, publicada no site Bem Paraná. Assinale o trecho onde existe uma afirmativa INCORRETA:**

- a) A remuneração dos vereadores dos 399 municípios paranaenses não pode ser fixada em percentual sobre o que recebem os deputados estaduais.
- b) A vinculação é ilegal, de acordo com o Tribunal de Contas do Estado do Paraná (TCE-PR).
- c) Atualmente, muitas Câmaras usam essa norma como base para fixação dos salários dos vereadores.
- d) Por conta disso, eles estipulam como limite de remuneração dos parlamentares municipais o percentual de até 70% do que recebem os deputados estaduais, o que representa hoje R\$ 20 mil mensais.

**14 - Em que ano foi inaugurada a iluminação elétrica de Paranaguá?**

- a) 1.892.
- b) 1.902.
- c) 1.912.
- d) 1.922.

**15 - Em que ano o Distrito de Matinhos foi elevado a categoria de Município?**

- a) 1.947.
- b) 1.957.
- c) 1.967.
- d) 1.977.

**16 - Em que cidade do Estado do Paraná, ocorreu no último dia 12 um assalto ao Fórum que resultou em dezenas de armas roubadas?**

- a) Araruna.
- b) Luiziana.
- c) Mamborê.
- d) Peabiru.

**17 - Segundo a Lei Complementar 95/2008, que institui o Código Ambiental de Paranaguá-PR, analise as afirmativas:**

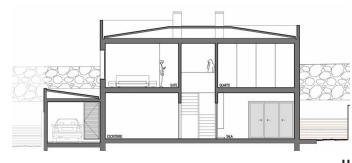
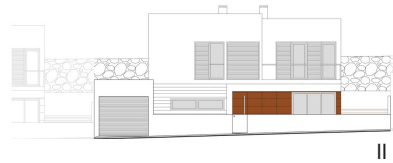
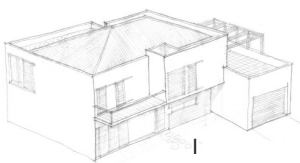
O \_\_\_\_\_ consiste na definição de áreas do território do Município, de modo a regular atividades bem como definir ações para a proteção e melhoria da qualidade do ambiente, em face das características ou atributos das áreas.

O \_\_\_\_\_ estabelecerá as diretrizes ambientais, visando ao desenvolvimento sustentável, sendo um processo dinâmico e permanente, baseado na realidade local, e se realizará a partir da análise das condições do meio ambiente, natural e construído, e das tendências econômicas e sociais.

As palavras que preenchem corretamente as lacunas é:

- a) Zoneamento Ecológico Econômico, Planejamento Ambiental.
- b) Zoneamento Ambiental, Planejamento Ambiental.
- c) Planejamento Ambiental, Projeto de Desenvolvimento sustentável.
- d) Zoneamento Urbano, estudo ambiental simplificado.

**18 - Em relação à representação de desenho técnico para projetos, relacione as colunas abaixo:**



- ( ) elevação.
- ( ) perspectiva.
- ( ) corte.

Assinale a alternativa que preenche corretamente as lacunas:

- a) II, I, III.
- b) I, II, III.
- c) III, II, I.
- d) III, I, II.

**19 - De acordo com a Lei Complementar 95/2008, o Sistema de Áreas Verdes no município de Paranaguá-PR compreende toda área de interesse ambiental ou paisagístico e abrangerá:**

**I - praças, parques urbanos e áreas verdes e de lazer previstas nos projetos de loteamentos e urbanização.**

**II - arborização de vias públicas.**

**III - unidades de conservação.**

**IV - áreas arborizadas de clubes esportivos sociais, de chácaras urbanas e de condomínios fechados.**

**V - remanescentes de vegetação regional, natural, representativo dos segmentos do ecossistema.**

**VI - Áreas de Preservação Permanente e Reservas Legais protegidas pelo Código Florestal.**

**VII - Somente áreas públicas e institucionais.**

São incorretas as alternativas:

- a) IV, somente.
- b) IV e V.
- c) Todas as afirmativas são verdadeiras.
- d) VII, somente.

**20 - Para as afirmativas abaixo, coloque Verdadeiro (V) ou Falso (F):**

**De acordo com o Código de Obras do Município de Paranaguá-PR, a instalação de toldos à frente de lojas ou de outros estabelecimentos comerciais será permitida desde que esses satisfaçam as seguintes condições:**

- ( ) Excedam a largura das calçadas, no máximo em 50cm.
- ( ) Não desçam, quando instalados no pavimento térreo, os seus elementos constitutivos, abaixo de 2,20m (dois metros e vinte centímetros) em cota referida ao nível da calçada.
- ( ) Não prejudiquem a arborização e a iluminação pública, nem ocultem placas de nomenclatura de logradouros.
- ( ) São proibidos toldos móveis.

**Preenche corretamente as lacunas:**

- a) V, V, V, F.
- b) F, F, V, F.
- c) F, V, V, F.
- d) V, V, F, F.

**21 - Quanto ao fechamento e conservação de terrenos no alinhamento é incorreto afirmar que:**

- a) Os terrenos não edificados situados dentro da Macrozona Urbana, com testada para logradouro público, loteados ou não, serão obrigatoriamente fechados no alinhamento, mesmo que o logradouro público não tiver pavimentação.
- b) Os terrenos que margeiam as estradas de rodagem serão obrigatoriamente fechados no alinhamento frontal.
- c) Não será permitido o emprego de espinheiros para fechamento de terrenos.
- d) É proibido colocar cacos de vidro, arames farpados e cercas elétricas, nos muros frontais, laterais e de fundos.

**22 - Um terreno urbano possui testada de 12m e profundidade de 27m. Sobre este imóvel está construída uma residência térrea com 129,6m<sup>2</sup>. Para essa situação, a taxa de ocupação atual do terreno é de:**

- a) 60%.
- b) 40%.
- c) 20%.
- d) 70,5%.

**23 - De acordo com o Código de Posturas do Município de Paranaguá-PR (Lei Complementar Nº 68/2007), ao instrumento legal por meio do qual a autoridade municipal apura a violação da Legislação Municipal dá-se o nome de:**

- a) Multa.
- b) Fiscalização.
- c) Auto de infração.
- d) Advertência.

**24 - A linha divisória legal que limita o lote com a via pública, projetada e locada pelas autoridades municipais chama-se:**

- a) Alinhamento predial.
- b) Afastamento.
- c) Recuo de ajardinamento.
- d) Área de frente.

**25 - O requerimento de \_\_\_\_\_ deverá ser preenchido em formulário próprio, contendo os usos e demais intenções do serviço ou da edificação pretendida, os documentos comprobatórios de sua propriedade. À Municipalidade, em resposta ao pedido de \_\_\_\_\_, cabe apontar por escrito as normas urbanísticas incidentes sobre o lote (zona, taxa de ocupação, coeficiente de aproveitamento, número máximo de pavimentos permitidos, recuos e afastamentos mínimos, diretrizes de arruamento, projeção de vias, atingimento, fachos de telefonia, energia e drenagem, croqui da localização).**

**O termo que preenche corretamente as lacunas é:**

- a) Aprovação de Projeto Arquitetônico.
- b) Consulta Prévia.
- c) Alvará de Construção.
- d) Alvará de Habite-se.

**26 - De acordo com o Código de Posturas do Município de Paranaguá-PR (Lei Complementar Nº 68/2007), quanto à fiscalização de obras, a aplicação de multas, independente de outras penalidades legais aplicáveis, serão impostas quando:**

**I - Forem falseadas cotas e outras medidas no projeto, ou qualquer elemento do processo de aprovação do mesmo.**

**II - As obras forem executadas de acordo com o projeto aprovado, com a licença fornecida ou com as normas da presente Lei.**

**III - A obra for iniciada sem projeto aprovado ou licenciado.**



**São incorretas as afirmativas:**

- a) Somente II.
- b) II e III.
- c) Todas são corretas.
- d) I, II e III.

**27 - De acordo com o Código de Posturas do Município de Paranaguá-PR (Lei Complementar N° 68/2007), sobre a demolição parcial ou total de edificação é INCORRETO afirmar que:**

- a) A obra poderá ser demolida se houverem débitos pendentes quanto às licenças de aprovação e construção, mesmo se a obra for executada de acordo com o projeto aprovado.
- b) Poderá ser demolida a construção feita sem observância do alinhamento ou nivelamento fornecido pela Municipalidade, ou sem as respectivas cotas ou com desrespeito ao projeto aprovado, nos seus elementos essenciais, não havendo possibilidade para ajustá-la à legislação pertinente.
- c) Será demolida a obra julgada em risco, quando o proprietário se recusar a tomar as providências determinadas pela Municipalidade para sua segurança.
- d) A demolição será precedida de vistoria por uma comissão composta por 03 (três) engenheiros e/ou arquitetos, designados pelo Chefe do Poder Executivo, pertencentes ou não ao quadro de funcionários da Municipalidade.

**28 - Considerando a interpretação de mapas e levantamentos planialtimétricos, observe a figura abaixo:**



**Pode-se afirmar que o relevo da superfície terrestre é uma feição contínua e tridimensional. Existem diversas maneiras para representar o mesmo sendo as mais usuais as \_\_\_\_\_.**

**A palavra que preenche corretamente a lacuna é:**

- a) Cotas planimétricas.
- b) Cotas de nível.
- c) Linhas de grade.
- d) Curvas de nível.

**29 - De acordo com a Lei Complementar 67/2007, que institui o Código de Obras do Município de Paranaguá, ao somatório das áreas de todos os pisos da edificação, cobertos ou não, inclusive áreas ocupadas por paredes e pilares, chama-se:**

- a) Área coberta.
- b) Área útil.
- c) Área de uso comum.
- d) Área total construída.

**30 - Ao projeto desenvolvido para determinada área urbana, mediante a prévia aprovação do Município, considerando, revitalização do espaço urbano, criação de áreas e equipamentos de uso público, preservação de edificações e espaços de valor histórico, definições dos usos, entre outros aspectos, chama-se:**

- a) Projeto Urbanístico.
- b) Plano Diretor.
- c) Plano Municipal de Saneamento.
- d) Projeto de Zoneamento Urbano.