



PREFEITURA MUNICIPAL DE MESQUITA

Concurso Público/2012

Caderno: 1 Aplicação: Tarde

Contador

Código: CON16

LEIA COM ATENÇÃO AS INSTRUÇÕES

- 1 - A duração da prova é de **4(quatro) horas**, já incluído o tempo de preenchimento do cartão de respostas.
- 2 - O candidato que, na primeira hora de prova, se ausentar da sala e a ela não retornar, será eliminado.
- 3 - Os três últimos candidatos a terminar a prova deverão permanecer na sala e somente poderão sair juntos do recinto, após aposição em ata de suas respectivas assinaturas.
- 4 - Você **NÃO** poderá levar o seu caderno de questões, pois a imagem do seu **cartão de respostas** será disponibilizado em <http://concursos.biorio.org.br>

INSTRUÇÕES - PROVA OBJETIVA

- 1 - Confira atentamente se este caderno de perguntas, que contém **60** questões objetivas, está completo.
- 2 - Cada questão da Prova Objetiva conterà **5 (cinco) opções e somente uma correta**.
- 3 - Confira se **seus dados** e o **cargo/especialidade** escolhido, indicados no **cartão de respostas**, estão corretos. Se notar qualquer divergência, notifique imediatamente ao Fiscal ou ao Chefe de Local. Terminada a conferência, você deve assinar o cartão de respostas no espaço apropriado.
- 4 - Confira atentamente se o número que consta neste caderno de perguntas é o mesmo do que consta em seu cartão de respostas. Se notar qualquer divergência, notifique imediatamente ao Fiscal ou ao Chefe de Local.
- 5 - Cuide de seu **cartão de respostas**. Ele não pode ser rasurado, amassado, dobrado nem manchado.
- 6 - Para cada questão objetiva são apresentadas cinco alternativas de respostas, apenas uma das quais está correta. Você deve assinalar essa alternativa de modo contínuo e denso.
- 7 - Se você marcar mais de uma alternativa, sua resposta será considerada errada mesmo que uma das alternativas indicadas seja a correta.

AGENDA

- 21/05/2012, divulgação do gabarito da Prova Objetiva:
<http://concursos.biorio.org.br>
- 24/05/2012, disponibilização das Imagens dos Cartões Respostas das Provas Objetivas
- 24 e 25/05/2012, recursos contra formulação e conteúdos da Prova Objetiva na Internet:
<http://concursos.biorio.org.br>
- 05/06/2012, divulgação do resultado da análise dos recursos da Prova Objetiva.
- 06/06/2012, divulgação do Resultado Final da Prova Objetiva.

● Informações:

Tel: 21 3525-2480 das 9 às 18h

Internet:

<http://concursos.biorio.org.br>

E-mail:

mesquita2012@biorio.org.br



LÍNGUA PORTUGUESA

TEXTO 1:

Será que sou bobo?

Walcyr Carrasco

Ando perdido em uma selva de palavras. Existem termos destinados a dar a impressão de que algo não é exatamente o que é. Ou para botar verniz sobre uma atividade banal. Já estão, sim, incorporados no vocabulário. Servem para dar uma impressão enganosa. E também para ajudar as pessoas a parecer inteligentes e chiques porque parecem difíceis. Resolvi desvendar algumas dessas armadilhas verbais.

Seminovo — Já não se fala em carro usado, mas em seminovo. Vendedores adoram. O termo sugere que o carro não é tão velho assim, mesmo que se trate de uma Brasília sem motor. Ou que o câmbio saia na mão do comprador logo depois da primeira curva. E pura técnica de vendas. Vou guardá-lo para elogiar uma amiga que fez plástica. Talvez ela adore ouvir que está “seminova”. Mas talvez...

Sale — É a boa e velha liquidação. As lojas dos *shoppings* devem achar liquidação muito chula. Anunciam em inglês. *Sale* quer dizer que o estoque encahou. A grife está liquidando, sim! Não se envergonhe de pedir mais descontos. Pode ser que não seja chique, mas aproveite.

Loft — Quando o *loft* surgiu, nos Estados Unidos, era uma moradia instalada em antigos galpões industriais. Sempre enorme e sem paredes divisórias. Vejo anúncios de *lofts* a torto e a direito. A maioria corresponde a um antigo conjugado. Só não tem paredes, para lembrar seu similar americano. É preciso ser compreensivo. Qualquer um prefere dizer que está morando em um *loft* a dizer em uma quitinete de luxo.

Cult — Não aguento mais ouvir falar que alguma porcaria é *cult*. O *cult* é o brega que ganhou *status*. O negócio é o seguinte: um bando de intelectuais adora assistir a filmes de terceira, programas de televisão populares e afins. Mas um intelectual não pode revelar que gosta de algo considerado brega. Então diz que é *cult*. Assim, se pode divertir com bobagens, como qualquer ser humano normal, sem deixar de parecer inteligente. Como conceito, próximo do *cult* está o *trash*. E o lixo elogiado. *Trash* é muito usado para filmes de terror. Um candidato a intelectual jamais confessa que não perde um episódio da série Sexta-Feira 13, por exemplo. Ergue o nariz e diz que é *trash*. Depois, agarra um saquinho de pipoca, senta na primeira fila e grita a cada vez que o Jason ergue o machado.

Workshop — E uma espécie de curso intensivo. Existem os bons. Mas o termo se presta a muita empulhação. Pois, ao contrário dos cursos, no *workshop* ninguém tem a obrigação de aprender alguma coisa específica. Basta participar. Muitas vezes botam um sujeito famoso para dar palestras durante dois dias seguidos. Há alunos que chegam a roncar na sala. Depois fazem bonito dizendo que participaram de um *workshop* com fulano ou beltrano. A palavra é imponente, não é?

Releitura — Ninguém, no meio artístico ou gastronômico, consegue sobreviver sem usar essa palavra. Está em moda. Fala-se em releitura de tudo: de músicas, de receitas, de livros. Em culinária, releitura serve para falar de alguém que achou uma receita antiga e lhe deu um toque pessoal. Críticos culinários e donos de restaurantes badalados adoram falar em cardápios com releitura disso e daquilo. Ora, um cozinheiro não bota seu tempero até na feijoada? Isso é releitura? Então minha avó fazia releitura e não sabia, coitada. O caso fica mais complicado em outras áreas. Fazer uma releitura de uma história não é disfarçar falta de ideia? Claro que existem casos e casos. Mas que releitura serve para disfarçar cópia e plágio, serve. Seria mais honesto dizer “adaptado de...” ou “inspirado em...”, como faziam antes.

Daria para escrever um livro inteiro a respeito. Fico arrepiado quando alguém vem com uma conversa abarrotada de termos como esses. Parece que vão me passar a perna. Ou a culpa é minha, e não sou capaz de entender a profundidade da conversa. Nessas horas, fico pensando: será que sou bobo? Ou tem gente esperta demais?

1 - Em “As lojas dos *shoppings* devem achar liquidação muito **chula**”, o vocábulo marcado poderia ser substituído pelos seguintes sinônimos sem qualquer prejuízo de seu sentido original da frase, com a EXCEÇÃO DE UM. Assinale-o:

- (A) irritante;
- (B) ordinária;
- (C) medíocre;
- (D) inferior;
- (E) comum.

2 - Em “Mas o termo se presta a muita **empulhação**”, a palavra grifada na frase está empregada com o valor do seguinte sinônimo:

- (A) exatidão;
- (B) justeza;
- (C) armação;
- (D) rigor;
- (E) correção.

3 - A crônica de Walcyr Carrasco é construída a partir da seguinte premissa:

- (A) “Daria para escrever um livro inteiro a respeito.”
- (B) “Parece que vão me passar a perna.”
- (C) “Nessas horas, fico pensando: será que sou bobo? Ou tem gente esperta demais?”
- (D) “Existem termos destinados a dar a impressão de que algo não é exatamente o que é.”
- (E) “Já estão, sim, incorporados no vocabulário.”

4 - “Ando perdido em uma selva de palavras”. No fragmento destacado, há o emprego da seguinte figura de linguagem:

- (A) anacoluto;
- (B) metáfora;
- (C) paradoxo;
- (D) símile;
- (E) comparação.

5 - A cada nova abordagem sobre uma palavra, a crônica do texto 1 faz destacar sobre as demais a seguinte função da linguagem:

- (A) referencial;
- (B) fática;
- (C) conativa;
- (D) poética;
- (E) metalinguística.

6 - Assinale a alternativa em que todas as palavras destacadas são invariáveis:

- (A) “**Ou** a culpa é **minha**, e não sou capaz de **entender** a profundidade da conversa.”
- (B) “**Ou** a culpa é minha, e **não** sou capaz **de** entender a profundidade da conversa.”

(C) “**Ou** a **culpa** é minha, e não sou **capaz** de entender a profundidade da conversa.”

(D) “**Ou** a culpa é minha, e não sou capaz de entender a **profundidade** da **conversa**.”

(E) “**Ou** a culpa é minha, e não **sou** capaz de entender **a** profundidade da conversa.”

7 - As classes gramaticais das palavras grifadas foram corretamente identificadas em quase todas as alternativas, EXCETO EM UMA. Assinale-a:

(A) “Fico arrepiado **quando** alguém vem **com** uma conversa abarrotada de termos como esses.” (conjunção/preposição)

(B) “Fico arrepiado quando **alguém** vem com **uma** conversa abarrotada de termos como esses.” (pronomes indefinido/artigo indefinido)

(C) “Fico arrepiado **quando** alguém vem com uma conversa abarrotada **de termos** como esses.” (preposição acidental/adjetivo)

(D) “Fico arrepiado quando alguém vem com uma **conversa** abarrotada de termos como **esses**.” (substantivo/pronome demonstrativo)

(E) “**Fico** arrepiado quando alguém vem com uma conversa **abarrotada** de termos como esses.” (verbo/verbo)

8 - “O caso fica mais complicado em outras áreas”. A alternativa em que foi corretamente identificado o núcleo do sujeito da oração é a seguinte:

- (A) áreas;
- (B) outras;
- (C) complicado;
- (D) mais;
- (E) caso.

9 - Em “Um candidato a intelectual jamais confessa **que não perde um episódio da série Sexta-Feira 13, por exemplo**”, a oração destacada possui o mesmo valor que o de um:

- (A) advérbio de tempo;
- (B) advérbio de causa;
- (C) advérbio de finalidade;
- (D) substantivo;
- (E) adjetivo.

10 - “Em culinária, releitura serve para falar de alguém **que achou uma receita antiga** e lhe deu um toque pessoal”. Marque A correta classificação da oração grifada é:

- (A) oração subordinada substantiva objetiva direta.
- (B) oração subordinada adjetiva restritiva.
- (C) oração coordenada sindética adversativa.
- (D) oração subordinada adverbial temporal.
- (E) oração subordinada substantiva apositiva.

RACIOCÍNIO LÓGICO

11 - O sensacional campeonato de futebol de botão de uma cidade reúne 329 jogadores e é disputado no regime de mata-mata, ou seja, o vencedor de cada partida segue no campeonato e o perdedor é eliminado. Se uma partida termina empatada, há disputa de pênaltis para decidir o vencedor. O número total de jogos desse campeonato é igual a:

- (A) 215;
- (B) 328;
- (C) 446;
- (D) 558;
- (E) 1.064.

12 - Dos 140 funcionários de uma secretaria municipal, 110 usam a internet no trabalho, 68 usam a internet em casa e 21 usam a internet em outros locais, sendo que 56 usam a internet em casa e no trabalho, 12 usam a internet no trabalho e em outros locais, 14 a usam em casa e em outros locais e 10 a usam em casa, no trabalho e em outros locais. O número de funcionários dessa secretaria que não usam a internet é igual a:

- (A) 13;
- (B) 18;
- (C) 21;
- (D) 25;
- (E) 30.

13 - Na sequência abaixo, cada número, do quarto em diante, é obtido a partir dos três anteriores de acordo com uma certa regra:

5, 7, 4, 8, 3, 9, 2, 10, ...

O primeiro número negativo dessa sequência será o:

- (A) 11°;
- (B) 12°;
- (C) 13°;
- (D) 14°;
- (E) 15°.

14 - A negação de “Todos os metalheiros são jovens” é:

- (A) nenhum metalheiro é jovem;
- (B) algum metalheiro é jovem;
- (C) ao menos um metalheiro não é jovem;
- (D) todos os metalheiros são velhos;
- (E) nenhum jovem é metalheiro.

15 - Se não é verdade que se Juca vai usar colírio então não usará óculos escuros, concluímos que:

- (A) se Juca não usar colírio então usará óculos escuros;
- (B) Juca não usará óculos escuros;
- (C) Juca não usará colírio e usará óculos escuros;
- (D) Juca usará colírio e óculos escuros;
- (E) Se Juca não usar óculos escuros então usará colírio.

16 - Lucia e Carlos obtiveram a mesma pontuação num concurso, menor do que a conseguida por Pedro. Alice obteve a mesma pontuação que Pedro, maior do que a de Joana. Nesse caso, avalie as afirmativas a seguir:

- I - Dos cinco, o que obteve menor pontuação foi Joana.
- II - A pontuação de Alice foi maior do que a de Lucia.
- III - Carlos obteve pontuação menor do que Joana.
- IV - Pedro obteve pontuação maior do que Carlos.

Estão corretas as afirmativas:

- (A) II e IV, apenas;
- (B) I e III, apenas;
- (C) II, III e IV, apenas;
- (D) I, II e III, apenas;
- (E) I, II, III e IV.

17 - José e João vão dar sucessivas voltas em torno de uma pista circular de 1km de extensão. Os dois iniciarão o percurso no mesmo instante, partindo do mesmo ponto, e vão girar no mesmo sentido. José irá de bicicleta, a uma velocidade de 24km/h e João, a pé, a uma velocidade de 8km/h. Assim, quando José alcançar João novamente, José e João estarão respectivamente em suas voltas número:

- (A) 4 e 2;
- (B) 4 e 1;
- (C) 3 e 1;
- (D) 3 e 2;
- (E) 2 e 1.

18 - Um anagrama de uma certa palavra é uma reordenação de suas letras. Po exemplo, ARERT é um anagrama de TERRA. Assim, a palavra, ACABA tem a seguinte quantidade de anagramas:

- (A) 12;
- (B) 20;
- (C) 60;
- (D) 90;
- (E) 120.

19 - Num avenida reta, o banco fica entre o restaurante e a padaria e o restaurante fica entre a padaria e o açougue. O açougue fica entre o jornaleiro e o banco. Juvenal está no banco e quer ir até o jornaleiro. Já a padaria fica entre o restaurante e a tinturaria. Se fizer isso normalmente, seguindo pela rua e fazendo o menor percurso, passará pelos seguintes estabelecimentos:

- (A) padaria e açougue;
- (B) tinturaria, restaurante e açougue;
- (C) restaurante e açougue;
- (D) padaria e tinturaria;
- (E) restaurante e padaria.

20 - Nas primeiras três linhas a seguir o terceiro número foi obtido como resultado de operações efetuadas com os outros dois:

8	5	15
6	3	9
12	8	32
10	7	?

Se o mesmo critério for usado na quarta linha, então a interrogação deve ser substituída por:

- (A) 49;
- (B) 35;
- (C) 28;
- (D) 21;
- (E) 14.

CONHECIMENTOS ESPECÍFICOS

21 - Observe as sentenças a seguir quanto às noções gerais de contabilidade:

- I – A contabilidade é um ciência social aplicada que busca apenas a apuração do resultado para as empresas com fins lucrativos e para as entidades sem fins lucrativos ela se aplica sem restrição para a produção de informação.
- II – O objeto de estudo da contabilidade é o patrimônio composto por bens, direitos, obrigações com terceiros, obrigações com sócios ou inexigíveis e as variações do patrimônio líquido.
- III – A finalidade principal da contabilidade consiste em prestar informações sobre o patrimônio aos usuários internos e externos da empresa.

Está correto o que se afirma em:

- (A) I, apenas;
- (B) II, apenas;
- (C) I e III;
- (D) I e II;
- (E) II e III.

22 - A técnica de contabilidade que representa a verificação da fidedignidade das informações constantes das demonstrações contábeis com base na realização dos fatos administrativos ocorridos e comprovados denomina-se:

- (A) evidenciação;
- (B) escrituração;
- (C) auditoria contábil;
- (D) análise das demonstrações;
- (E) demonstrações contábeis.

23 - Identifique a alternativa que apresente contas que formam o capital total à disposição da empresa:

- (A) fornecedores, impostos a recolher e salários a pagar;
- (B) receita de vendas, custo de mercadorias vendidas e despesas com impostos;
- (C) capital social, reserva de lucro e reserva de capital;
- (D) fornecedores, capital social e reserva de lucro;
- (E) salários a pagar, despesa com salário e receita de serviços prestados.

24 - A situação líquida denominada de passivo a descoberto ocorre quando:

- (A) $A > P \text{ e } PL (-)$
- (B) $A > P \text{ e } PL (+)$
- (C) $A < P \text{ e } PL (-)$
- (D) $A < P \text{ e } PL (+)$
- (E) $A = P \text{ e } PL = 0$

ATENÇÃO:

Observe as contas a seguir referentes a uma empresa comercial optante pelo lucro real e responda as questões 25, 26, 27, 28 e 29:

CONTAS	R\$
Reservas de Capital	1.600
Receita bruta	6.000
Banco conta Movimento	500
Adiantamento a Empregados	1.000
Debêntures a resgatar para 36 meses	2.000
Custo dos Produtos Vendidos	2.500
Impostos sobre vendas	1.000
Mercadorias	6.000
Empréstimos de Controladas	5.000
Despesas com Comissões	500
Investimentos em outras empresas	8.000
Capital Social	15.000
Reservas de Lucros	3.000
Salários do mês	700
Aluguéis pagos antecipadamente (90 dias)	1.500
Marcas e Patentes	2.000
Duplicatas a Pagar de Longo Prazo	3.000
Perda pela equivalência patrimonial	200
Empréstimos bancários para 90 dias	1.000
Impostos a recolher	600
Fornecedores	400
Salários a pagar	700
Imobilizado	7.000
Água, luz e telefone gastas no mês	300
Juros passivos	100
Clientes	1.000

25 - O valor do lucro bruto é de:

- (A) \$3.500;
- (B) \$2.500;
- (C) \$1.800;
- (D) \$1.000;
- (E) \$900.

26 - Considerando a alíquota do Imposto de Renda e da Contribuição Social de 30 % sobre o lucro antes do imposto de renda (LAIR) sem ajuste no LALUR (livro de apuração do lucro real), o valor do lucro líquido do exercício será de:

- (A) \$700;
- (B) \$630;
- (C) \$560;
- (D) \$490;
- (E) \$300.

27 - As contas do passivo circulante no balanço patrimonial final somam:

- (A) \$10.200;
- (B) \$5.200;
- (C) \$3.700;
- (D) \$2.910;
- (E) \$2.700.

28 - As contas do Ativo não Circulante no balanço patrimonial final somam:

- (A) \$25.000;
- (B) \$22.000;
- (C) \$20.000;
- (D) \$13.000;
- (E) \$10.000.

29 - O valor do Patrimônio Líquido final é de:

- (A) \$18.000;
- (B) \$19.600;
- (C) \$20.030;
- (D) \$20.090;
- (E) \$20.300.

30 - Determinada entidade utiliza o inventário periódico para apuração de seu custo de baixa ou consumo de estoque de materiais de expediente. Seu estoque final foi de \$5.000, enquanto o estoque do início do período era de \$4.000. Sabendo que houve, ainda, compras durante o período que somaram \$10.000 e devolução de compras no valor de \$1.000, o custo do estoque consumido no período foi de:

- (A) \$1.000;
- (B) \$5.000;
- (C) \$9.000;
- (D) \$8.000;
- (E) \$4.000.

31 - Avalie as sentenças a seguir sobre o campo de aplicação e a abrangência da Contabilidade Pública:

- I – Ordenador de Despesas é toda e qualquer autoridade de cujos atos resultarem emissão de empenho, autorização de pagamento, suprimento ou dispêndio de recursos de Estado ou pelo qual esta responda.
- II – Unidade Gestora ou Administrativa é uma organização com ou sem autonomia administrativa e financeira, vinculada a uma setorial contábil analítica.
- III – O campo de aplicação da Contabilidade Pública é restrito a Administração Direta da União, Estados, Distrito Federal e Municípios.

Está correto o que se afirma em:

- (A) I, apenas;
 (B) II, apenas;
 (C) I e II;
 (D) III, apenas;
 (E) II e III.

32 – Em relação ao ciclo orçamentário, enumere os títulos a seguir de acordo com as respectivas definições:

TÍTULOS

- (1) Iniciativa Vinculada.
- (2) Sanção.
- (3) Publicação.
- (4) Discussão.
- (5) Duodécimo.

DEFINIÇÕES

- É o ato pelo qual é dado a conhecer que uma lei nova está em vigor.
- Fase dos trabalhos orçamentários consagrada ao debate em Plenário.
- O Poder Executivo está obrigado aos prazos da Lei para apresentação do projeto de lei orçamentária ao Legislativo.
- É definida como a aquiescência do titular do Poder Executivo ao projeto de lei aprovado pelo Poder Legislativo.
- Compõe a programação do orçamento na busca do equilíbrio da execução financeira

As definições correspondem respectivamente aos títulos:

- (A) 2, 4, 1, 3, 5;
 (B) 3, 4, 1, 2, 5;
 (C) 3, 4, 5, 2, 1;
 (D) 2, 1, 5, 3, 4;
 (E) 2, 1, 3, 5, 1.

33 - As fases do ciclo orçamentário denominadas Elaboração, Execução e Controle são respectivamente de responsabilidade dos seguintes Poderes:

- (A) Legislativo, Executivo e Judiciário;
 (B) Executivo, Executivo e Judiciário;
 (C) Legislativo, Executivo e Legislativo;
 (D) Executivo, Executivo e Legislativo;
 (E) Judiciário, Executivo e Legislativo.

34 - A lei orçamentária anual compreende os três tipos de orçamento a seguir:

- (A) saúde, educação e previdência;
 (B) investimentos, fiscal e seguridade social;
 (C) plano plurianual, diretrizes orçamentárias e orçamento anual;
 (D) saúde, educação e outras funções governamentais;
 (E) corrente, capital e operações especiais.

35 - O princípio orçamentário que define a periodicidade do orçamento brasileiro é denominado:

- (A) plurianualidade;
 (B) consecutividade;
 (C) anualidade;
 (D) unidade;
 (E) flexibilidade.

36 - A exigência de inclusão na lei orçamentária da despesa com construção de Escola, que não representa uma despesa efetiva, tem como base o princípio substancial denominado:

- (A) unidade;
 (B) universalidade;
 (C) publicidade;
 (D) orçamento bruto;
 (E) exclusividade.

37 - A fonte de recurso para abertura de créditos adicionais que depende apenas da ação do governo local, sem depender do contribuinte ou de outro ente público é:

- (A) superávit financeiro do ano anterior;
 (B) excesso de arrecadação do ano corrente;
 (C) cancelamento dos restos a pagar antes da homologação;
 (D) anulação parcial ou total de dotação orçamentária;
 (E) operação de crédito exclusivamente para abertura de créditos adicionais.

38 - O tipo de crédito adicional que, quando aberto por decreto do executivo após autorizado por lei, sua prorrogação para o exercício subsequente é vedada é o:

- (A) orçamentário;
- (B) suplementar;
- (C) extraorçamentário;
- (D) especial;
- (E) complementar.

39 - Relacione os estágios da receita e da despesa pública listados abaixo, com as descrições dadas a seguir:

ESTÁGIOS:

- (1) Empenho
- (2) Lançamento
- (3) Arrecadação
- (4) Liquidação

DESCRIÇÕES:

- Torna, em princípio, líquido e certo o direito do credor contra a Fazenda Pública.
- Ato emanado de autoridade competente que cria para o Estado uma obrigação de pagamento.
- Ato da repartição competente que verifica a procedência do crédito fiscal, a pessoa que lhe é devedora e inscreve o débito desta.
- Ato pelo qual o Estado recebe os tributos, multas e demais créditos a ele devidos.

Essas descrições correspondem respectivamente aos estágios:

- (A) 4, 1, 2, 3;
- (B) 2, 1, 4, 3;
- (C) 3, 2, 4, 1;
- (D) 1, 3, 2, 4;
- (E) 2, 1, 3, 4.

40 - São receitas classificadas como mutações patrimoniais orçamentárias:

- (A) depósitos de caução recebidos, consignações recolhidas e operações de créditos concedidos;
- (B) impostos arrecadados, alugueis recebidos e multas arrecadadas;
- (C) dividendos recebidos, depósito de terceiros recebidos e consignações retidas;
- (D) amortização de empréstimos concedidos, alienação de bens e operações de créditos contraídos;
- (E) juros ativos, multas ativas e tributos arrecadados.

41 - As despesas públicas obedecem à classificação funcional programática que define o programa como sendo o:

- (A) maior nível de agregação das diversas áreas de despesa que competem ao setor público;
- (B) instrumento de programação para alcançar um objetivo, envolvendo um conjunto de operações de ênfase nas despesas de capital;
- (C) conjunto de operações que se realizam de modo contínuo e permanente, das quais resulta um produto necessário à manutenção da ação de governo;
- (D) instrumento que não contribui para a manutenção das ações de governo, das quais não resulta um produto e não geram contraprestação direta sob a forma de bens ou serviços;
- (E) instrumento de organização da ação governamental visando à concretização dos objetivos pretendidos.

42 - A escrituração da liquidação da despesa com pessoal ativo pelo sistema orçamentário é:

- (A) D – Crédito Disponível Corrente e C – Despesa Empenhada Corrente;
- (B) D – Despesa Empenhada Corrente e C – Despesa Liquidada Corrente;
- (C) D – Despesa Corrente Executada e C – Pessoal a Pagar;
- (D) D – Despesa Corrente e C – Fornecedores: Pessoal ativo;
- (E) D – Despesa Liquidada Corrente e C – Despesa Empenhada Corrente.

43 - A modalidade de licitação apropriada para aquisição de bens ou de serviços de grande vulto em que qualquer interessado pode participar, desde que habilitado na fase inicial é:

- (A) convite;
- (B) leilão;
- (C) concorrência;
- (D) tomada de preços;
- (E) cotação de preços.

ATENÇÃO:

De acordo com as informações listadas na tabela abaixo, responda as questões 44 e 45:

Rubricas	Previsão	Lançamento	Arrecadação
Dívida Ativa tributária	2.000		1.000
ISS	6.000	5.000	3.000
Dividendos a receber	3.000		2.000
Multa de trânsito	4.000	3.000	2.000

44 - Considerando que o saldo inicial da Dívida Ativa Tributária era de \$2.000, o valor de seu saldo final após a execução orçamentária é de:

- (A) \$3.000;
- (B) \$4.000;
- (C) \$5.000;
- (D) \$6.000;
- (E) \$7.000.

45 - O valor das variações patrimoniais efetivas ou quantitativas aumentativas é de:

- (A) \$2.000;
- (B) \$3.000;
- (C) \$5.000;
- (D) \$7.000;
- (E) \$8.000.

ATENÇÃO:

Observe as informações a seguir e responda as questões 46 e 47:

Rubricas	Fixação	Empenho	Liquidação	Pagamento
Aquisição de material de escritório	5.000	5.000	4.000	3.000
Pessoal Ativo e encargos	10.000	10.000	10.000	10.000
Aquisição de Ambulância	20.000	18.000	15.000	14.000
Construção de Creche	15.000	12.000	10.000	10.000
Serviços de manutenção preventiva	10.000	7.000	7.000	6.000

46 - O valor da despesa de capital pelo enfoque orçamentário é de:

- (A) \$35.000;
- (B) \$30.000;
- (C) \$25.000;
- (D) \$24.000;
- (E) \$14.000.

47 - O valor oriundo das despesas correntes a ser inscrito em Restos a Pagar Processados será:

- (A) \$1.000;
- (B) \$2.000;
- (C) \$3.000;
- (D) \$5.000;
- (E) \$7.000.

48 - De acordo com a NBCASP 16.8 o controle interno que está relacionado à veracidade e à fidedignidade dos registros e das demonstrações é classificado em:

- (A) operacional;
- (B) auditoria interna;
- (C) normativo;
- (D) concomitante;
- (E) contábil.

49 - O método utilizado na contabilidade pública para mensuração e avaliação das saídas dos estoques é o:

- (A) absorção;
- (B) variável;
- (C) primeiro a entrar e primeiro a sair;
- (D) custo médio ponderado;
- (E) último a entrar e o primeiro a sair.






50 - Representam somente custos classificados como variáveis e indiretos:

- (A) IPTU da guarda municipal, Aluguel de escola e material de consumo em hospitais;
- (B) merenda escolar, combustível da administração e salários de professores;
- (C) energia geral da área fim, combustível de toda frota fim da prefeitura e horas extras de pessoal da limpeza da área fim do hospital;
- (D) telefone da administração, material de escritório e manutenção corretiva de ar condicionado do gabinete do prefeito;
- (E) uniformes escolares, merenda escolar e salário dos supervisores acadêmicos.

51 - São interfaces às quais, em um microcomputador, podem ser conectados discos rígidos, EXCETO:

- (A) USB;
- (B) Firewire;
- (C) IDE;
- (D) SATA;
- (E) PS2.

52 - No Microsoft Word 2010, o ícone que realiza a função de aumentar o tamanho do fonte de um determinado trecho de texto selecionado é o:

- (A) 
- (B) 
- (C) 
- (D) 
- (E) 

53 - Considere o seguinte trecho de planilha eletrônica gerado no Microsoft Excel:

	A	B	C	D	E	F
1						
2	Azul	12	10			
3	Verde	34	12			
4	Azul	21	14			
5	Preto	17	16			
6	Amarelo	26	18			
7	Verde	18	20			
8	Amarelo	15	22			
9		33				
10						
11						

Ao realizarmos a cópia do conteúdo da célula B9, com CTRL+C, e a colarmos na célula C9, com CTRL+V, a célula C9 mostrará o seguinte valor:

- (A) 33
- (B) 24
- (C) 26
- (D) 31
- (E) 0

54 - Num computador com Windows 7 um usuário executou o comando PING. Com a resposta desse comando, o usuário pode obter a seguinte informação:

- (A) descobrir o servidor DNS de sua rede;
- (B) descobrir o servidor DHCP de sua rede;
- (C) verificar se o computador está protegido de vírus;
- (D) verificar a versão do sistema operacional e qual o último “service pack” instalado;
- (E) verificar a conectividade de um computador ou dispositivo remoto.

55 - Na arquitetura de redes TCP/IP são atribuídos endereços IP para identificar computadores nas diversas redes. São endereços IP válidos, EXCETO:

- (A) 200.20.10.1
- (B) 10.10.10.5
- (C) 90.10.100.146
- (D) 259.10.10.1
- (E) 192.168.1.1

56 - Considere as assertivas abaixo acerca da utilização de navegadores (browsers) na Internet:

- I- O navegador Internet Explorer, em suas novas versões, somente admite do uso do protocolo HTTPS, pois este protocolo garante conexões mais seguras, ao contrário das versões anteriores, que permitiam o uso do protocolo http.
- II- No Internet Explorer, caso uma determinada página seja considerada segura ela é automaticamente colocada na lista de “Favoritos”.
- III- A URL **http://registro.br** é um exemplo de URL válida para ser usada em um navegador.

Assinale:

- (A) se apenas as assertivas I e II estiverem corretas;
- (B) se apenas a assertiva I estiver correta;
- (C) se apenas a assertiva II estiver correta;
- (D) se apenas a assertiva III estiver correta;
- (E) se todas as assertivas estiverem corretas.






57 - Considere as assertivas abaixo acerca da utilização do editor de textos Microsoft Word:

- I- Não é possível inserir cabeçalho (header) e rodapé (footer) num mesmo documento, pois como ambos têm a mesma função e o Word restringe o seu uso.
- II- Arial, A4, Letter e Times New Roman são nomes de fontes padrão de todas as versões do Word.
- III- O modo de alinhamento de parágrafos denominado “Justificado” alinha o texto em ambas as margens (esquerda e direita), adicionando espaço extra entre as palavras, se necessário.

Assinale:

- (A) se apenas a assertiva I estiver correta;
- (B) se apenas a assertiva II estiver correta;
- (C) se apenas a assertiva III estiver correta;
- (D) se as assertivas I, II e III estiverem corretas;
- (E) se nenhuma assertiva estiver correta.

58 - Por vezes, ao editar um documento no Microsoft Word, um usuário precisa usar um comando que mostra as marcas de parágrafo e outros símbolos de formatação que normalmente ficam escondidos. Este comando pode ser acionado através do ícone:

- (A) 
- (B) 
- (C) 
- (D) 
- (E) 

59 - No Microsoft Excel, ao usarmos a opção de “Formatar Células”, podemos selecionar e aplicar diferentes formatos de números que trocam a aparência com que um número é mostrado. Alguns dos formatos de números disponíveis e válidos são, EXCETO:

- (A) geral;
- (B) moeda;
- (C) racional;
- (D) contábil;
- (E) porcentagem.

60 - Os programas navegadores (browsers), ao fazerem acesso a determinados websites ou páginas na Internet, podem gravar em seu computador local arquivos chamados COOKIES. Estes arquivos são:

- (A) uma cópia da configuração do navegador, para o caso de perda de informações devido a erros no disco;
- (B) um resumo de TODOS os sites acessados pelo usuário;
- (C) os endereços IP dos sites já acessados pelo usuário, pois dessa forma o acesso fica mais rápido;
- (D) programas add-on que executam quando o navegador é iniciado;
- (E) pequenos arquivos de texto que os sites podem gravar no computador para armazenar informações sobre suas opções anteriores de utilização.

