



P.M. Onda Verde
Concurso Público 01/2012

INSTITUIÇÃO
SOLER
DE ENSINO

CARGO:
ATENDENTE DE PESSOAL

INSCRIÇÃO Nº: _____

ASSINATURA DO CANDIDATO:

Cargo: Atendente de Pessoal

Língua Portuguesa

Leia o poeminha a seguir para responder às questões de 01 a 03.

Rotação

Roda mundo, roda vida, roda vento.
Passa tudo, passa tanto, passa tempo.
Rodopiam as cores
Na eterna reticência do momento.
Entre uma volta e outra do destino,
Continuo apenas um menino
A soprar meu gira-sonho como um cata-vento.

(*O trem que traz a noite*. Rio de Janeiro: Nova Aguillar, 2000. p.32.).

01. O sujeito da forma verbal “continuo” é:

- a) Indeterminado.
- b) Composto e determinado.
- c) Simples e determinado.
- d) Oculto e determinado.

02. “Rodopiam” está flexionado na:

- a) 3ª pessoa do plural do modo indicativo.
- b) 3ª pessoa do singular do modo indicativo.
- c) 3ª pessoa do plural do modo imperativo.
- d) 2ª pessoa do plural do modo imperativo.

03. O processo de formação da palavra gira-sonho é:

- a) Aglutinação.
- b) Justaposição.
- c) Prefixação.
- d) Parassíntese.

04. Leia as frases abaixo e assinale a alternativa que preenche corretamente as lacunas.

- I. Quanto _____ assunto da venda da casa, esqueça.
- II. Eduardo aspira _____ mão de Andréa.
- III. Ivone vai _____ Roma no verão.
- IV. Célia chegou _____ casa de detenção por volta das oito.

- a) Àquele – à – a – à.
- b) Aquele – à – à – à.
- c) Àquele – à – à – à.
- d) Aquele – a – à – à.

05. Em “O fazendeiro marcou todo o gado” é incorreto afirmar que:

- a) “O fazendeiro” é o sujeito agente.
- b) “Marcou” é verbo na voz ativa.
- c) “Todo o gado” é objeto direto.
- d) “O fazendeiro” é sujeito paciente.

06. Assinale a alternativa em que há somente hiatos.

- a) leem, xiita, revestiu, carretéis.
- b) saída, pastel, baú, campainha.
- c) voo, saúde, bainha, contribuir.
- d) atraiu, detêm, crioulo, creem.

07. Em “Eu cheguei ao clube, fui ao vestiário e depois entrei na piscina”, temos:

- a) Uma oração.
- b) Duas orações.
- c) Três orações.
- d) Quatro orações.

08. Estão corretas as palavras grafadas em:

- a) gravidez, norueguês, cioso, inchaço.
- b) riqueza, altives, cesariana, permissão.
- c) sobrançelha, gase, harmonizar, jazer.
- d) atroz, agressão, obtensão, fuzuê.

09. Assinale a alternativa em que todas as palavras são dissílabas.

- a) bebê, miúdo, amém, amei.
- b) duas, quero, daí, mente.
- c) esse, crime, hiato, cessar.
- d) minguar, baía, ciúme, dedal.

10. Assinale a alternativa em que o verbo está na 2ª pessoa do imperativo.

- a) Deixe-me ver as fotos da viagem.
- b) Pega o livro na estante, fazendo um favor.
- c) Robson recolhe garrafas na rua.
- d) Ande mais rápido, ou então, se atrasa.

11. Leia as frases abaixo.

- I. Os problemas socioeconômicos têm aumentado.
- II. Em outubro, haverá noites lítero-musicais.
- III. Comprei duas jaquetas azuis-celeste.
- IV. Aquele time é formado de moças surdas-mudas.

Assinale a alternativa em que o emprego dos adjetivos compostos está correto.

- a) Somente I, II e III.
- b) Somente I, II e IV.
- c) Somente I, III e IV.
- d) Todas estão corretas.

12. Assinale a alternativa em que há predicado verbo-nominal.

- a) A vista continua linda.
- b) Henrique e Carla compraram um quadro.
- c) Assistimos ao filme “A pele que habito”.
- d) O rapaz comprou extasiado a camiseta.

Matemática

13. Mariana fez uma torta para sua família. Durante o almoço, seu filho comeu $\frac{1}{3}$ da torta, sua filha $\frac{2}{9}$, e seu marido $\frac{2}{8}$. Quanto sobrou da torta para Mariana comer?

- a) $\frac{14}{73}$
- b) $\frac{8}{72}$
- c) $\frac{8}{36}$
- d) $\frac{7}{36}$

14. Resolva a expressão:

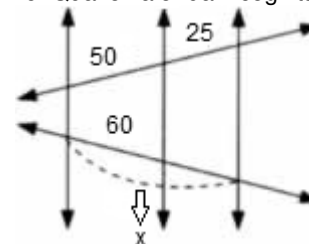
$$\left\{ \left[\left(\frac{2}{3} + \frac{4}{5} \right) \cdot (\sqrt{6400} + 20) \right] \div \frac{2}{3} \right\} \div 0,4$$

- a) 220
- b) 450
- c) 550
- d) 630

15. Uma geladeira esta sendo vendida a um preço de R\$ 2599,90 a prazo. Fazendo o pagamento à vista, se ganha um desconto e essa mesma geladeira sai pelo preço de R\$ 2079,92. Qual é a porcentagem desse desconto?

- a) 15%
- b) 18%
- c) 20%
- d) 30%

16. Qual o valor da incognita x nesta figura?




- a) 90

- b) 30
- c) 50
- d) 100

17. Ana aplicou R\$ 4987,00 a uma taxa de juros simples de 2% ao mês durante 5 anos. Qual será o montante resgatado ao final desse período?

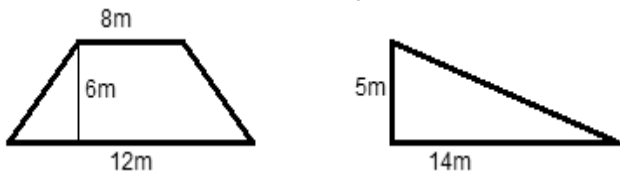
- a) R\$ 5476,26
- b) R\$ 5984,40
- c) R\$ 6086,00
- d) R\$ 6124,30

18. Um homem empurra uma bola de 25 quilos em uma rampa. Quantos metros têm essa rampa?



- a) 19 metros
- b) 16 metros
- c) 13 metros
- d) 18 metros

19. Qual é a soma da área dos seguintes terrenos?



- a) 95 m²
- b) 83 m²
- c) 60 m²
- d) 35 m²

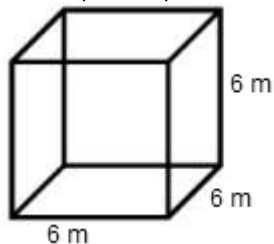
20. Encontre as raízes da equação do 2º grau $x^2 + 3x = 10$.

- a) S = {2;-4}
- b) S = {3;-6}
- c) S = {4;-5}
- d) S = {2;-5}

21. Fernando tem $\frac{2}{3}$ da idade de Mario e Marcela tem a quarta parte da idade de Mario. Somando a idade dos três obtém o número 92. Qual a idade de cada um dos três?

- a) Mario tem 46 anos, Fernando tem 30 anos e Marcela tem 16 anos.
- b) Mario tem 48 anos, Fernando tem 32 anos e Marcela tem 12 anos.
- c) Mario tem 50 anos, Fernando tem 28 anos e Marcela tem 14 anos.
- d) Mario tem 44 anos, Fernando tem 30 anos e Marcela tem 18 anos.

22. Responda qual é o volume deste cubo em litros.



- a) 216000 litros.
- b) 21600 litros.
- c) 2160 litros.
- d) 216 litros.

23. Em uma cidade com 138000 habitantes, 60% é do sexo feminino. Qual é o número de habitantes do sexo masculino?

- a) 38000.
- b) 40000.
- c) 44200.
- d) 55200.

24. O gráfico a seguir mostra o crescimento da população brasileira. "A população brasileira cresceu, em 138 anos, quase 20 vezes, segundo apontam os resultados do Censo Demográfico 2010, do Instituto Brasileiro de Geografia e Estatística (IBGE). Em 2010, atingimos a marca de 190.755.799 habitantes." Trecho tirado de uma matéria feita por Carolina Lauriano e Nathália Duarte do g1.com.br. Observando o gráfico responda em que momento o Brasil esteve com a população na casa de 145.875.640 habitantes.



- a) Entre os anos de 1991 e 2000
- b) Entre os anos de 2000 e 2010
- c) Entre os anos de 1980 e 1991
- d) Entre os anos de 1970 e 1980

Conhecimentos Gerais

25. A vitória-régia é considerada uma das plantas aquáticas mais exuberantes do mundo. Suas folhas arredondadas atingem até 2 metros de diâmetro e possuem as bordas pronunciadas e levantadas.



<http://www.google.com.br/>

A vitória-régia é uma planta originária do bioma:

- a) Mata Atlântica.
- b) Mata de Araucárias.
- c) Cerrados.
- d) Floresta Amazônica.

26. A primeira eleição municipal de Onda Verde foi realizada em 7 de março de 1965, sendo eleito para Prefeito Municipal o Sr. _____ e para Vice-Prefeito o Sr. _____ tomando posse dos seus cargos em 22 de março de 1965.

<http://www.cmondaverde.sp.gov.br/>

Os nomes que completam as lacunas do texto são:

- a) João Batista Alves - Hildebrando Mário da Cruz.
- b) Manoel Jorge Medeiros - Assis Pereira Luize
- c) Ademar Taveira Vilela - Natal Simão de Souza.
- d) José Ismael - Felício Milim.

27. Assinale a alternativa que não consta um município limítrofe ao de Onda Verde:

- a) São José do Rio Preto.
- b) Nova granada.
- c) Mirassol.
- d) Iguá.

28. A divisão do tempo desde o presente até início da formação da Terra expressa em eras, períodos e épocas é chamado de:

- a) Teoria da miscigenação.
- b) Tempo geológico.
- c) Paleontologia.
- d) Ampulheta.

29. O Nazi-fascismo caracteriza-se pelo (a):

- a) Racismo, ditadura e xenofobia.
- b) Convivência pacífica entre etnias e culturas.
- c) Pluripartidarismo e inclusão de hábitos estrangeiros.
- d) Obediência ao Tratado de Versalhes.

30. Na história brasileira, a Primeira República, no período de 1889 a 1930, é conhecida também como:

- a) Anos de Chumbo
- b) Período Militar.
- c) República Nova.
- d) República do Café-com-leite.

31. Os estados de Goiás e Mato Grosso pertencem à macrorregião do IBGE denominada de:

- a) Região Nordeste.
- b) Região Sul.
- c) Região Sudeste.
- d) Região Centro-Oeste.

32. Ocorrem quando a renda de um país é mal distribuída, ocasionando o aumento da riqueza de uma minoria e agravando a pobreza da maioria, o que provoca contrastes intensos no padrão de vida da população. Trata-se das (os):

- a) Contrastes paisagísticos.
- b) Desigualdades sociais.
- c) Contrastes étnicos.
- d) Contrastes culturais.

33. Observe o mapa abaixo.



www.google.com.br/imagens.

A formação vegetal predominante na área destacada no mapa é:

- a) Caatinga.
- b) Complexo do Pantanal.
- c) Cerrados.
- d) Mata de Araucárias.

34. Migrações diárias nos grandes centros urbanos expressas pelo movimento de ida e volta dos trabalhadores de sua residência até o local de trabalho. Em alguns centros como São Paulo e Rio de Janeiro, é comum os trabalhadores gastarem três ou quatro horas nesse movimento de vaivém. Essas migrações são denominadas de:

- a) Migrações pendulares.
- b) Migrações sazonais.
- c) Migrações Transumantes.
- d) êxodo intraurbano.

35. Civilização pré-colombiana que viveu na região da Cordilheira dos Andes (América do Sul) nos atuais Peru, Bolívia, Chile e Equador. Fundaram no século XIII a capital do império: a cidade sagrada de Cusco. Foram dominados pelos espanhóis em 1532. A civilização a que se refere o texto denominava-se:

- a) Maia.
- b) Inca.
- c) Asteca.
- d) Olmeca.

36. É uma caixa metálica com tamanho padronizado internacionalmente que, por trens, navios e caminhões, pode transportar produtos tão distintos como grãos de café e iPods. Trata-se:

- a) Das chatas.
- b) Dos dutos.
- c) Dos contêineres.
- d) Das Commodities.

37. Termo usado para designar “grupos unidos por identidades culturais (língua, religião, modo de vida, instituições) sem que haja necessariamente laços genéticos entre eles”. Como exemplos podemos citar certos grupos de imigrantes (japoneses, russos) que vieram para o Brasil e formaram comunidades onde mantém os laços que sempre uniram.

O termo a que se refere o texto é:

- a) Raça.
- b) Civilização.
- c) Etnia.
- d) Sociedade.

38. A civilização indiana tem como ponto forte o _____, corrente religiosa e filosófica cujos princípios estão expressos em seu livro sagrado – Vedas.

A expressão que completa, adequadamente, a lacuna é:

- a) Hinduísmo.
- b) Taoísmo.
- c) Islamismo.
- d) Confucionismo.

39. Solo favorável à cultura do café. Forma-se da decomposição do basalto e ocorre, principalmente, nos estados de São Paulo e do Paraná. Trata-se do:

- a) Solo de massapé.
- b) Solo tchernozion.
- c) Solo podzólico.
- d) Solo de terra roxa.

40. Conforme disposto no artigo 17º da Lei Orgânica do município paulista de Onda Verde compete, privativamente, a Câmara Municipal, exceto:

- a) Autorizar o prefeito a ausentar-se do município quando por mais de 25 (vinte e cinco) dias e, do País, por mais de 30 (trinta) dias.
- b) Julgar o prefeito, o vice-prefeito e os vereadores, nos casos previstos em lei.
- c) Dar posse ao prefeito, ao vice-prefeito, conhecer de sua renúncia e afastá-los definitivamente do exercício do cargo, nos casos previstos em lei.
- d) Fiscalizar os atos do prefeito, secretários, assessores, dirigentes das autarquias, empresas públicas e sociedades de economia mista municipais.