



PREFEITURA MUNICIPAL DE JAHU

ESTADO DE SÃO PAULO

**Agente Comunitário de
Saúde I**

MANHÃ

CONCURSO PÚBLICO EDITAL 003/2012

Organizadora:



CARGO: AGENTE COMUNITÁRIO DE SAÚDE I

Texto

Baleias não me emocionam

Lya Luft

Hoje quero falar de bichos. De notícias que frequentemente aparecem sobre baleias encalhadas e pinguins perdidos em alguma praia. Não sei se me aborrece ou me inquieta ver tantas pessoas correndo, torcendo, chorando, porque uma baleia morre encalhada. Mas certamente não me emociona.

Sei que não vão me achar muito simpática, mas eu não sou sempre simpática. Aliás, se não gosto de grosseria nem de vulgaridade, também desconfio dos eternos bonzinhos, dos politicamente corretos, dos sempre sorridentes ou gentis. Prefiro o olho no olho, a clareza e a sinceridade – desde que não machuque só pelo prazer de magoar ou por ressentimento.

Não gosto de ver bicho sofrendo: sempre curti animais, fui criada com eles.

De modo que animais fazem parte da minha história, com muitas aventuras, divertimento e alguma emoção.

Confesso que não consigo me comover da mesma forma: pouca sensibilidade, uma alma de gelos nórdicos, quem sabe? Mesmo os que não me apreciam, não creiam nisso. Não é que eu ache que sofrimento de animal não valha a pena, a solidariedade, o dinheiro. Mas eu preferia que tudo isso fosse gasto com eles depois de não haver mais crianças enfiando a cara no vidro de meu carro para pedir trocados, adultos famintos dormindo em bancos de praça, famílias morando embaixo de pontes ou adolescentes morrendo drogados nas calçadas.

(Veja, abril, São Paulo. 25 ago. 2004. Adaptado)

01

De acordo com as ideias do texto, é correto afirmar que a autora

- A) é sempre muito simpática.
- B) não foi criada com animais.
- C) prefere a grosseria a vulgaridade.
- D) não gosta de ver bicho sofrendo.
- E) acompanha as notícias sobre as baleias que morrem encalhadas.

02

Em “Sei que não vão me achar muito simpática, mas eu não sou sempre simpática.”, a palavra destacada exprime circunstância de

- A) tempo.
- B) finalidade.
- C) escolha.
- D) proporção.
- E) oposição.

03

“Não gosto de ver bicho sofrendo: sempre curti animais, fui criada com eles.” No trecho anterior, os dois pontos (:) foram utilizados para

- A) finalizar frase declarativa.
- B) realizar questionamento.
- C) dar uma explicação, um esclarecimento.
- D) marcar neologismo.
- E) denotar espanto.

04

De acordo com a classe de palavras, relacione corretamente as colunas.

- 1. “Hoje eu quero falar de bichos.” () Verbo.
- 2. “... gelos nórdicos, quem sabe?” () Advérbio.
- 3. “De modo que animais...” () Pronome.
- 4. “... baleia morre encalhada.” () Substantivo.

A sequência está correta em

- A) 4, 1, 2, 3
- B) 2, 1, 3, 4
- C) 1, 2, 3, 4
- D) 3, 1, 4, 2
- E) 4, 3, 2, 1

05

A palavra “nórdicos”, no texto, significa

- A) que se congelaram; frios como o gelo.
- B) de traços irregulares.
- C) pertencentes aos países do norte da Europa.
- D) proibidos; defesos.
- E) semipreciosos; de camadas diferentes.



06

Em “Mas certamente não me emociona.”, a palavra destacada indica ideia de

- A) lugar. B) modo. C) tempo. D) intensidade. E) dúvida.

07

A palavra “história” é acentuada pelo mesmo motivo que a seguinte palavra

- A) simpática. B) só. C) família. D) é. E) nórdico.

08

“Não sei se me aborrece ou me inquieta ver tantas pessoas correndo, torcendo, chorando...” A palavra destacada anteriormente denota ideia de

- A) consequência. B) contraste. C) escolha. D) explicação. E) conformidade.

09

Em “... fui criada com eles.”, 3º parágrafo do texto, a expressão destacada se refere aos

- A) divertimentos. D) adultos famintos.
B) animais. E) bancos de praça.
C) pinguins perdidos.

10

A palavra “ressentimento”, transcrita do texto, significa

- A) apoio. B) competência. C) mágoa. D) impiedoso. E) fingimento.

RACIOCÍNIO LÓGICO

11

Marcela vende perfumes e conseguiu vender, em uma semana, 7 frascos na segunda-feira, 9 na terça-feira, 11 na quarta-feira e manteve um aumento constante na venda até no sábado. O total de frascos de perfumes vendidos nessa semana foi

- A) 48. B) 54. C) 66. D) 84. E) 72.

12

Sejam os conjuntos $A = \{3, 6, 7, 9, 12, 15\}$ e $B = \{2, 3, 5, 9, 11, 15\}$. Das relações a seguir marque a verdadeira.

- A) A união entre os conjuntos A e B possui 12 elementos.
B) A interseção entre os conjuntos A e B possui 4 elementos.
C) A soma dos elementos do conjunto A é igual a soma dos elementos do conjunto B.
D) A interseção entre os conjuntos A e B é o conjunto vazio.
E) A soma dos elementos do conjunto interseção entre A e B é igual a 27.

13

No caixa de uma agência bancária são atendidas, em média, 3 pessoas a cada 5 minutos. Quantas pessoas são atendidas num período de 1,5 hora?

- A) 65 B) 54 C) 75 D) 69 E) 48

14

Qual dos pares de frações NÃO formam uma proporção?

- A) $\frac{3}{5}; \frac{21}{35}$ B) $\frac{6}{7}; \frac{30}{35}$ C) $\frac{4}{7}; \frac{16}{28}$ D) $\frac{8}{9}; \frac{56}{72}$ E) $\frac{5}{6}; \frac{15}{18}$

15

Um certo ano bissexto terminou numa terça-feira. Nesse ano, em que dia da semana aconteceu o último dia do mês de março?

- A) domingo. B) sexta-feira. C) quarta-feira. D) segunda-feira. E) sábado.



16

Das seqüências de letras a seguir, qual representa o nome de uma fruta escrita de frente para trás?

- A) IXABACA. B) OGNOMAR. C) AJNALAR. D) ETACABA. E) ATINALEM.

17

Cássio, André e Juliano disputaram uma corrida. André chegou 4 s depois de Juliano e Cássio chegou 7 s antes de André. Marque a afirmativa verdadeira.

- A) Cássio não ganhou a corrida. D) Juliano ganhou a corrida.
B) Juliano chegou em terceiro lugar. E) André não ficou em segundo lugar.
C) Cássio foi o último a chegar.



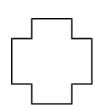


18

Qual das figuras geométricas apresenta necessariamente 4 lados de medidas iguais?

- A) retângulo. B) quadrilátero. C) triângulo. D) trapézio. E) quadrado.

19

Qual das figuras a seguir NÃO apresenta eixo de simetria?

- A)  B)  C)  D)  E) 

20

A seqüência numérica representa a numeração de uma rua que segue uma lógica. A primeira e a última interrogação representam as casas do início e final de um dos lados dessa rua. Observe.

?, 13, 21, 29, 37, 45, 53, ?

Os números que substituem corretamente essas interrogações são

- A) 3, 59 B) 7, 63 C) 5, 61 D) 1, 65 E) 6, 60

CONHECIMENTOS ESPECÍFICOS

21

Situações de risco são aquelas em que uma pessoa ou grupo de pessoas “corre perigo”, isto é, tem maior possibilidade ou chance de adoecer, ou até mesmo de morrer. São exemplos de situações de risco, EXCETO:

- A) Bebês que nascem com menos de três quilos e meio.
B) Pessoas em situação de violência.
C) Gestantes com diabetes ou pressão alta.
D) Pessoas que precisam de cuidadores, mas não possuem.
E) Pessoas que estão com o peso acima da média.

22

O cadastramento de famílias que pertencem à unidade de saúde possibilita o conhecimento, EXCETO:

- A) Das condições de saúde e escolaridade das pessoas.
B) Do número de pessoas por sexo e idade.
C) Do acesso ao saneamento básico e das condições de habitação.
D) Das pessoas selecionadas que poderão utilizar a unidade de saúde.
E) Das atividades laborais e das condições de desemprego.

23

O mapeamento da área de atuação de uma Equipe de Saúde da Família é

- A) a descrição das atividades que a equipe deve desempenhar.
B) o relatório das ações desempenhadas pela equipe em um determinado período.
C) o desenho que representa no papel o que existe naquela localidade.
D) a divisão das equipes responsáveis por cada área de atuação.
E) o levantamento de todas as pessoas que residem naquela área.

24

Trabalhar com território implica em um processo de coleta e sistematização de dados demográficos, sócio-econômicos, político-culturais, epidemiológicos e sanitários, identificados por meio do cadastramento, que devem ser interpretados e atualizados periodicamente pela equipe. São exemplos de dados demográficos, sócio-econômicos, epidemiológicos e sanitários, respectivamente,

- A) número de pessoas por sexo / renda familiar / número de pessoas com deficiência / acesso ao saneamento.
- B) renda familiar / número de pessoas que nascem / número de pessoas acamadas / esgoto encanado.
- C) faixa etária / água tratada / número de pessoas diabéticas / escolaridade.
- D) número de pessoas hipertensas/ renda familiar / acesso ao saneamento / número de cômodos na casa.
- E) água encanada e tratada / desemprego/ escolaridade / número de pessoas com deficiência.

25

Por meio da visita domiciliar, o agente comunitário de saúde poderá, EXCETO:

- A) Identificar os moradores, por faixa etária, sexo e raça, ressaltando situações, como gravidez, desnutrição, pessoas com deficiência etc.
- B) Conhecer as condições de moradia e de seu entorno, de trabalho, os hábitos, as crenças e os costumes.
- C) Perceber quais as orientações que as pessoas mais precisam ter para cuidar melhor de sua saúde e melhorar sua qualidade de vida.
- D) Desenvolver ações que busquem a integração entre a equipe de saúde e a população do território de abrangência da unidade de saúde.
- E) Receitar para a população medicamentos e orientá-la quanto à forma correta de administrá-los.

26

São pontos que o agente comunitário de saúde deve observar durante uma visita domiciliar a um recém-nascido (0 a 28 dias), EXCETO:

- A) Realização do teste do pezinho.
- B) Realização da vacina contra Febre Amarela.
- C) Se a criança já evacuou ou está evacuando regularmente.
- D) Identificação de eventuais dificuldades em relação ao aleitamento.
- E) Higiene do corpo, presença de assaduras e dar orientações.

27

Os alimentos que são importantes e devem fazer parte da alimentação diária da criança podem ser divididos em três grupos: (1) cereais, tubérculos e raízes; (2) carnes e leguminosas; (3) verduras e frutas. A alternativa que indica corretamente os exemplos de alimentos que compõem esses grupos é

- A) Grupo 1: mandioca Grupo 2: abóbora Grupo 3: feijão
- B) Grupo 1: cenoura Grupo 2: tomate Grupo 3: batata
- C) Grupo 1: aveia Grupo 2: soja Grupo 3: couve
- D) Grupo 1: pepino Grupo 2: peixe Grupo 3: milho
- E) Grupo 1: lentilha Grupo 2: frango Grupo 3: arroz

28

A colher-medida para o preparo do soro caseiro possui duas medidas diferentes: uma maior e outra menor. A forma correta de preparar o soro caseiro com estas medidas é acrescentar em um copo de água

- A) 2 medidas pequenas de sal e 1 medida maior de açúcar.
- B) 1 medida pequena de sal e 2 medidas maiores de açúcar.
- C) 1 medida pequena de sal e 1 medida maior de açúcar.
- D) 2 medidas pequenas de açúcar e 2 medidas maiores de sal.
- E) 2 medidas pequenas de açúcar e 1 medida grande de sal.

29

Diabetes é uma doença que acontece quando o organismo

- A) produz pouca ou nenhuma insulina.
- B) está carente de glicose no sangue.
- C) não consegue coagular o sangue.
- D) tem excesso de tecido gorduroso.
- E) recebe baixa ingestão de proteínas.



30

Desenvolver atividades educativas faz parte do processo de trabalho de todos os membros da equipe. Para o desenvolvimento das atividades educativas, recomenda-se, EXCETO:

- A) Divulgar a reunião nos lugares mais frequentados da comunidade e espalhar a notícia ao maior número de pessoas.
- B) Realizar dinâmicas que possibilitem a apresentação dos participantes e a integração do grupo, quebrando a formalidade inicial.
- C) Apresentar o tema que será discutido, permitindo a exposição das necessidades e expectativas de todos.
- D) Identificar as crenças, mitos e preconceitos, estimulando a reflexão influenciada por convicções pessoais.
- E) Discutir a importância do autoconhecimento e do autocuidado, que contribuirá para uma melhor qualidade de vida.

CONHECIMENTOS GERAIS

31

Associe as colunas relacionando a matriz energética ao tipo de energia produzido.

- 1. Água. () Eólica.
- 2. Urânio. () Biocombustível.
- 3. Cana-de-açúcar. () Solar.
- 4. Vento. () Hidroelétrica.
- 5. Sol. () Nuclear.

A sequência está correta em

- A) 3, 4, 1, 2, 5
- B) 2, 1, 5, 4, 3
- C) 1, 5, 4, 3, 2
- D) 5, 2, 3, 1, 4
- E) 4, 3, 5, 1, 2

32

Leia o trecho e preencha a lacuna abaixo e, em seguida, assinale a alternativa correta.

Pelas projeções do Pnud, se o ritmo de evolução do IDH dos últimos 40 anos for mantido, em 2050 a grande maioria dos países terá índices considerados muito elevados. No entanto, essa trajetória pode ser comprometida pelos riscos ambientais, que foram divididos pelo Pnud em dois cenários: desafio e desastre ambiental.

(Problemas ambientais ameaçam avanços no desenvolvimento humano, diz Pnud. Agência Brasil, 02/11/2011)

Assinale qual é a parte da biologia que estuda as relações entre os seres vivos e o meio ambiente em que vivem, bem como as suas recíprocas influências. É o ramo das ciências humanas que estuda a estrutura e o desenvolvimento das comunidades humanas em suas relações com o meio ambiente e sua consequente adaptação a ele, assim como novos aspectos que os processos tecnológicos ou os sistemas de organização social possam acarretar para as condições de vida do homem.

- A) Ecologia.
- B) Biosfera.
- C) Ecossistema.
- D) Globalização.
- E) Sustentabilidade.

33

“Evento ligado ao Fórum Social Mundial, o(a) _____ aconteceu em janeiro deste ano, na região metropolitana da capital gaúcha. Apesar do caráter não governamental e não partidário, o evento atraiu políticos.” Assinale a alternativa que completa corretamente a afirmativa anterior.

- A) Fórum Econômico de Davos
- B) Rio+20
- C) Eco 92
- D) Fórum Social Temático
- E) Cúpula dos Povos

34

“A presidente Dilma Rousseff sancionou a lei que define os gastos públicos em saúde, bem como os percentuais mínimos de investimento na área por parte da União, estados e municípios. A medida foi publicada no Diário Oficial dia 16/01/12 e regulamenta a chamada ‘Emenda 29’. A proposta da lei, que tramitava havia mais de 10 anos no Congresso, foi aprovada em definitivo pelo Senado em dezembro.”

(Disponível no Portal Band News, 16/01/12)

Qual órgão do governo é responsável por garantir acesso integral, universal e gratuito para toda a população do país, abrangendo desde o simples atendimento ambulatorial até o transplante de órgãos?

- A) Ebserh.
- B) Anvisa.
- C) SUS.
- D) ANS.
- E) Anatel.



35

“O estupro de vulnerável tornou-se o assunto no começo do ano depois que um participante do *reality show Big Brother Brasil 12* foi expulso do programa na tarde de segunda-feira (16/01/12), sob a suspeita de ter abusado de uma colega de confinamento com quem ficava. Daniel, o *brother* expulso, ficava com Monique, a suposta vítima e, na noite de sábado (14/01/12), após beberem muito em uma festa, o casal foi para o quarto e mesmo com a moça desacordada, as carícias continuaram.”

(<http://mulher.terra.com.br/noticias/0,,OI5562571-EI16610,00-Saiba+como+agir+em+caso+de+estupro+em+momento+vulneravel.html>)

Para qual dispositivo da legislação brasileira as mulheres, vítimas de violência doméstica, podem recorrer quando agredidas fisicamente pelos maridos, companheiros ou qualquer pessoa que tenha relação de afeto e familiar?

- A) Lei do Estupro. D) Lei Maria da Penha.
 B) Lei Aracelli. E) Lei Caó.
 C) Lei do Assédio Moral.

36

A Usina Hidrelétrica Belo Monte, na região Norte do país, foi planejada para gerar no pico cerca de 11 mil MW e como energia firme, média, cerca de 4 mil MW. Este é o arranjo de engenharia possível para Belo Monte gerar energia de forma constante com a menor área alagada possível, que é o reservatório com 502,8 km². Belo Monte é uma hidrelétrica de “fio d’água”, ou seja, quando a vazão é pequena ela gera menos energia. Não tem aqueles enormes reservatórios de reserva, como tem Itaipu, por exemplo. Belo Monte tem gerado muitas polêmicas, a saber

- I. greve de operários da usina.
 II. discussão sobre a manutenção da Zona Franca de Manaus.
 III. desmembramento do Amazonas.

Está(ão) correta(s) apenas a(s) alternativa(s)

- A) I, II B) I, III C) I D) III E) I, II, III

37

“É o aumento do preço de produtos e serviços que diminui o valor de compra do dinheiro. A variação dos preços é medida regularmente por meio de indicadores. A _____ sempre existe, mesmo com índices muito pequenos. Quando indicador é negativo, chama-se _____.” Assinale a alternativa que completa correta e sequencialmente a afirmativa anterior.

- A) inflação / deflação D) demanda / recessão
 B) juro / taxa E) Selic / IPCA
 C) importação / exportação

38

Mudança econômica iniciada no fim do século XX, com aprofundamento da interdependência entre governos, empresas e movimentos sociais. O termo descreve uma situação propiciada pela Internet e, sobretudo, a integração mundial do mercado financeiro, que opera unificado nos quatro cantos do globo. A este termo dá-se o nome de

- A) Globalização. D) Mercosul.
 B) Neoliberalismo. E) BRIC.
 C) Blocos econômicos.

39

Associe as colunas relacionando corretamente o termo à sua definição.

1. Aquecimento global. () É o fenômeno natural que mantém a Terra aquecida pela retenção da energia do sol na atmosfera.
 2. Efeito estufa. () Resultado do Efeito Estufa – cientistas acreditam que ele esteja sendo reforçado pelas ações humanas.
 3. Mudanças climáticas. () Alteração que eleva a temperatura dos oceanos, modificando o regime de chuvas e ventos e ameaçando ecossistemas.

A sequência está correta em

- A) 3, 2, 1 B) 1, 3, 2 C) 1, 2, 3 D) 2, 3, 1 E) 2, 1, 3



40
“Atingido(a) pelo maior terremoto de sua história, o(a) _____, ficou destruído(a). Com 8,9 graus de magnitude na escala *Richter*, o tremor desencadeou, em seguida, um maremoto, que varreu o nordeste do país com ondas de até 10 metros. Cidades inteiras foram arrasadas, deixando mais de 23 mil vítimas. Os danos materiais ultrapassaram 300 bilhões de dólares.” Assinale a alternativa que completa corretamente a afirmativa anterior.

- A) China B) Japão C) Indonésia D) Mianmar E) Iêmen

INSTRUÇÕES

1. Material a ser utilizado: caneta esferográfica azul ou preta. Os objetos restantes devem ser colocados em local indicado pelo fiscal da sala, inclusive aparelho celular desligado e devidamente identificado com etiqueta.
2. Não é permitido consulta, utilização de livros, códigos, dicionários, apontamentos, apostilas, calculadoras e etc. Não é permitido ao candidato ingressar na sala de provas sem a respectiva identificação e o devido recolhimento de telefone celular, bip e outros aparelhos eletrônicos.
3. Durante a prova, o candidato não deve levantar-se, comunicar-se com outros candidatos e nem fumar.
4. A duração da prova é de 03 (três) horas, já incluindo o tempo destinado à entrega do Caderno de Provas e à identificação – que será feita no decorrer da prova – e ao preenchimento do Cartão de Respostas (Gabarito).
5. Somente em caso de urgência pedir ao fiscal para ir ao sanitário, devendo no percurso permanecer absolutamente calado, podendo antes e depois da entrada sofrer revista através de detector de metais. Ao sair da sala no término da prova, o candidato não poderá utilizar o sanitário. Caso ocorra uma emergência, o fiscal deverá ser comunicado.
6. O Caderno de Provas consta de 40 (quarenta) questões de múltipla escolha, exceto para o cargo de Hortelão em que o Caderno de Provas consta de 30 (trinta) questões. Leia-o atentamente.
7. **As questões das provas objetivas são do tipo múltipla escolha, com 05 (cinco) opções (A a E) e uma única resposta correta.**
8. Ao receber o material de realização das provas, o candidato deverá conferir atentamente se o Caderno de Provas corresponde ao cargo a que está concorrendo, bem como se os dados constantes no Cartão de Respostas (Gabarito) que lhe foi fornecido, estão corretos. Caso os dados estejam incorretos, ou o material esteja incompleto ou tenha qualquer imperfeição, o candidato deverá informar tal ocorrência ao fiscal.
9. Os fiscais não estão autorizados a emitir opinião e prestar esclarecimentos sobre o conteúdo das provas. Cabe única e exclusivamente ao candidato interpretar e decidir.
10. O candidato poderá retirar-se do local de provas somente a partir dos 90 (noventa) minutos após o início de sua realização, contudo não poderá levar consigo o Caderno de Provas, somente sendo permitida essa conduta apenas no decurso dos últimos 30 (trinta) minutos anteriores ao horário previsto para o seu término.
11. Os 3 (três) últimos candidatos de cada sala somente poderão sair juntos. Caso o candidato insista em sair do local de aplicação da prova, deverá assinar um termo desistindo do Concurso Público e, caso se negue, deverá ser lavrado o Termo de Ocorrência, testemunhado pelos 2 (dois) outros candidatos, pelo fiscal da sala e pelo coordenador da unidade.

RESULTADOS E RECURSOS

- As provas aplicadas, assim como os gabaritos preliminares das provas escritas objetivas de múltipla escolha serão divulgados na Internet, no site www.consulplan.net, a partir da 00h00min do dia subsequente ao da realização da provas.

- Os recursos deverão ser apresentados, conforme determinado no item 8 do Edital de Concurso Público nº. 003/2012, sendo observados os seguintes aspectos:

- a) O candidato que desejar interpor recursos contra os gabaritos oficiais preliminares das provas objetivas disporá de **02 (dois) dias úteis**, a partir do dia subsequente ao da divulgação, em requerimento próprio disponibilizado no *link* correlato ao Concurso Público no *site* www.consulplan.net.
- b) A interposição de recursos poderá ser feita **somente via Internet, através do Sistema Eletrônico de Interposição de Recursos**, com acesso pelo candidato com o fornecimento de dados referentes à sua inscrição, apenas no prazo recursal, à **CONSULPLAN**, conforme disposições contidas no site www.consulplan.net, no *link* correspondente ao Concurso Público.