

## MÉDICO VETERINÁRIO

### LEIA AS INSTRUÇÕES:

- 1) Você deve receber do fiscal, além deste caderno contendo 40 (quarenta) questões objetivas, um cartão-resposta destinado às respostas objetivas da prova;
- 2) Verifique se este material está completo e se seus dados pessoais conferem com aqueles constantes do cartão-resposta. Caso contrário, informe ao fiscal de sala.
- 3) O tempo de duração da prova é de 03 (três) horas ininterruptas. Só será permitido ao candidato entregar sua prova após 01 (uma) hora do início da mesma, **sob pena de ser eliminado do certame**.
- 4) Ao término da prova, o candidato deverá assinar a lista de presença e o cartão-resposta e entregar ao Fiscal junto com o seu caderno de questões.
- 5) Será excluído do certame o candidato que não assinar o cartão resposta ou o fizer fora do local indicado, bem como aquele que assinar em desconformidade com a assinatura constante no documento oficial de identificação.
- 6) Tenha cuidado com o seu cartão-resposta, pois este é personalizado e não será substituído em hipótese alguma.
- 7) No cartão-resposta, a marcação das letras correspondentes às respostas de sua opção, deve ser feita com o preenchimento de todo o espaço do campo reservado para tal fim, conforme modelo ex:
- 8) Para cada uma das questões são apresentadas cinco alternativas e somente uma responde adequadamente ao quesito proposto. A marcação em mais de uma alternativa ou marcações rasuradas anulam a questão.
- 9) As Provas Objetivas e os gabaritos serão divulgados no primeiro dia útil após a realização das mesmas, no endereço eletrônico [www.institutoludus.com.br](http://www.institutoludus.com.br) a partir das 18:00h;
- 10) Por motivo de segurança não será permitido ao candidato fazer uso de qualquer tipo de anotações que não seja o rascunho integrante desta Prova que será destacado na hora da entrega pelo fiscal. Caso o candidato seja surpreendido com qualquer outro tipo de anotações em documentos que não seja o previsto acima, **será eliminado do certame**.

FOLHA DE ANOTAÇÃO DO GABARITO: ATENÇÃO: Esta parte somente deverá ser destacada pelo fiscal da sala, após o término da prova.

01	02	03	04	05	06	07	08	09	10	11	12	13	14	15	16	17	18	19	20
21	22	23	24	25	26	27	28	29	30	31	32	33	34	35	36	37	38	39	40

# EM BRANCO

INSCRIÇÃO:

--	--	--	--	--	--	--

ASSINATURA:

---

## LÍNGUA PORTUGUESA

Leia os versos seguintes

### A cavalgada

Raimundo Correia

A lua banha a solitária estrada...  
Silêncio!... Mas além, confuso e brando,  
O som longínquo vem-se aproximando  
Do galopar de estranha cavalgada.

São fidalgos **que** voltam da caçada;  
Vêm alegres, vêm rindo, vêm cantando.  
E as trompas a soar vão agitando  
O remanso da noite embalsamada...

E o bosque estala, move-se, estremece...  
Da cavalgada o **estrépito** que aumenta  
Perde-se após no centro da montanha...

E o silêncio outra vez **soturno** desce...  
E límpida, sem mácula, alvacenta  
A lua a estrada solitária banha...

**01.** Observe o primeiro e último verso do soneto. Os vocábulos que compõem os dois versos são os mesmos, ocorrendo apenas uma alteração na ordem. O poeta, em uma construção textual magistral, constrói textualmente uma modificação

- a) no sujeito-observador
- b) na geometria do soneto
- c) na inversão dos valores
- d) de perspectiva, para o observador
- e) de observador

**02.** No poema, o vocábulo **estrépito**, em destaque (negrito e sublinhado), no texto, tem sentido semelhante a

- a) ruídos intermitentes
- b) quietação
- c) baque
- d) pancada
- e) ruído forte

**03.** No quarto verso o vocábulo em destaque tem função de

- a) pronome substantivo relativo
- b) preposição
- c) advérbio
- d) partícula enfática
- e) conjunção

**04.** No verso “E o bosque estala, move-se, estremece...” observa-se uma figura de linguagem conhecida como

- a) sinestesia
- b) metonímia
- c) prosopopeia
- d) paradoxo
- e) perífrase

**05.** No décimo segundo verso, a palavra em destaque, no texto, dentre as alternativas seguintes, apenas não pode assumir o significado de

- a) triste
- b) funesto
- c) melancólico
- d) sorumbático
- e) taciturno

**06.** Pelo que informa o texto, e apenas por ele, **não** se pode inferir que

- a) a cavalgada não era uma cavalgada comum naquela estrada.
- b) os fidalgos traziam instrumentos de sopro.
- c) o remanso da noite era embalsamado.
- d) a Lua se apresentava alvadia
- e) o som das trompas agitava a quietação da noite.

**07.** Leia a sentença:

O Advogado Astrobaldo Ferreira reside **pertíssimo** do Comércio Esporte Clube, em Floriano(PI).

Sobre o grau do adjetivo destacado, é

- a) comparativo de proximidade
- b) superlativo absoluto sintético
- c) superlativo absoluto analítico
- d) superlativo absoluto analítico analítico
- e) comparativo absoluto sintético sintético

**08.** Astrobaldo Ferreira, do alto dos seus tamancos, virou-se para Astrobaldozinho, que já se dirigia para a saída da Escola, o Colégio Industrial São Francisco de Assis, e, com voz de comando, bradou:

– Não saia **agora!!!**

A circunstância expressa pelo adjunto adverbial destacado é de

- a) negação
- b) tempo
- c) modo
- d) intensidade
- e) lugar

**09.** O Almirante Mário Luna, conversando com amigos, recordando uma bela colega de infância, disse:

– Ela, Ana Luzia, tinha um rosto rosado e doce.

Na frase do Almirante, observa-se uma figura de linguagem denominada de

- a) perífrase
- b) hipálage
- c) metonímia
- d) sinestesia
- e) assíndeto

10. Nas linhas seguintes são postas quatro sentenças. Em cada uma das sentenças, observe os termos destacados.

- ( ) Em Floriano, moro na Rua Sete..
- ( ) O cachorro fugiu
- ( ) Astrobaldozinho é muito bom aluno
- ( ) Bejei-lhe as mãos

Pondo-se, onde couber, nas lacunas acima

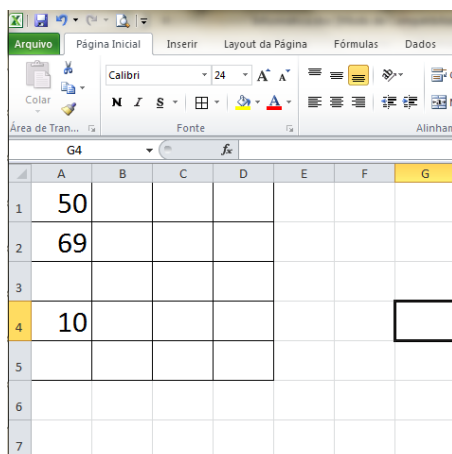
- 1. Para adjunto adnominal
- 2. Para adjunto adverbial
- 3. Para aposto
- 4. Para vocativo

A sequência correta, se lida de cima para baixo, é

- a) 1 – 3 – 2 – 4
- b) 1 – 2 – 3 – 4
- c) 4 – 1 – 3 – 1
- d) 2 – 3 – 4 – 1
- e) 3 – 1 – 2 – 1

### INFORMÁTICA

Com base na figura abaixo (MS-EXCEL 2010) responda a questão 11.



	A	B	C	D	E	F	G
1	50						
2	69						
3							
4	10						
5							
6							
7							

11. Ao aplicar a fórmula =MÉDIA(A1:A4), na célula G4, teremos como resultado:

- a) 30
- b) 32
- c) 43
- d) 64,5
- e) 65

12. Marque a alternativa correta em relação ao componente utilizado para ativar ou desativar os alertas do sistema referentes à manutenção e segurança do Windows 7.

- a) Windows defender;
- b) Windows update;
- c) Central de notificações;
- d) Central de Ações;
- e) Device stage.

13. Analise as afirmativas abaixo:

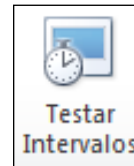
I – NTFS é o sistema de arquivos preferencial do Windows7;  
II – EXT2 é um exemplo de sistema de arquivo do Linux;  
III – O sistema de arquivos é utilizado pelo Sistema Operacional para gerenciar a gravação e a recuperação de dados do dispositivo de armazenamento.

Assinale a alternativa correta:


- a) Apenas a afirmativa I é verdadeira;
- b) Apenas a afirmativa II é verdadeira;
- c) Apenas a afirmativa III é verdadeira;
- d) Todas afirmativas são falsas;
- e) Todas afirmativas são verdadeiras.

14. Analise as afirmativas abaixo sobre o POWERPOINT 2010:

I – O botão **Testar** está localizado na guia

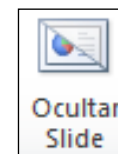


**Intervalos** Exibição;



II – O botão **Transmitir Apresentação de Slides** tem a função de transmitir a apresentação de slides para visualizadores remotos que possam assisti-la em um navegador da WEB.

III – A opção **Ocultar Slide** está localizada



na guia Exibição.

Assinale a alternativa correta:

- a) Apenas a afirmativa I é verdadeira;
- b) Apenas a afirmativa II é verdadeira;
- c) Apenas a afirmativa III é verdadeira;
- d) Apenas as afirmativas I e II são verdadeiras;
- e) Apenas as afirmativas II e III são verdadeiras.

15. Analise as afirmativas abaixo:

I – Intranet é um espaço restrito a determinado público, utilizado para compartilhamento de informações restritas, que pode ser acessado por senhas e logins;

II – URL (Uniform Resource Locator) é o endereço alfanumérico de um site;

III – DNS (Domain Name System) é um protocolo usado para transferir arquivos pela Internet.

Assinale a alternativa correta:

- a) Apenas a afirmativa I é verdadeira;
- b) Apenas a afirmativa II é verdadeira;
- c) Apenas a afirmativa III é verdadeira;
- d) Apenas as afirmativas I e II são verdadeiras;
- e) Apenas as afirmativas II e III são verdadeiras.

### CONHECIMENTOS ESPECÍFICOS + CONHECIMENTOS LOCAIS

16. “A ausência da interferência médica na história das doenças, pode ser subdividida em quatro fases”.

MARQUE A ALTERNATIVA QUE NÃO CORRESPONDE AO TEXTO:

- a) Fase clínica.
- b) Fase de latência.
- c) Fase patológica pré-clínica.
- d) Fase de incapacidade residual.
- e) Fase inicial ou de suscetibilidade.

17. A definição mais correta de Zoonoses é:

- a) Doenças cujo reservatório é os animais de zoológicos.
- b) Doenças transmitidas ao homem por animais domésticos.
- c) Doenças transmitidas ao homem por animais de estimação.
- d) Doenças do homem e veiculadas por alimentos contaminados.
- e) Doenças naturalmente transmitidas entre o homem e os animais.

18. Marque a alternativa **INCORRETA** sobre exemplos de Concentrados energéticos:

- a) Algodão
- b) Milho
- c) Sorgo
- d) Trigo
- e) mandioca

19. Marque a alternativa que não corresponde aos agentes físicos (radiação) e agentes químicos responsáveis por inativar o vírus rábico:

- a) Álcool;
- b) Formol;
- c) Hipoclorito de sódio 1%;
- d) Detergentes e sabões;
- e) Acetona.

20. Marque a alternativa que **NÃO** corresponde aos conservantes dos produtos cárneos (aditivos alimentares):

- a) Cloreto de sódio;
- b) Dextrose;
- c) Sacarose;
- d) Nitrato de cálcio;
- e) Vinagre de vinho.

21. Marque a alternativa que corresponde ao único reservatório da Salmonela:

- a) os bovinos
- b) o cão
- c) o homem
- d) os caprinos
- e) os mamíferos em geral

22. A infecção por *Taenia solium* no homem, ocorre por ingestão de qual tipo de carne?

Marque a alternativa que **CORRETA**:

- a) bovina
- b) eqüina
- c) de aves
- d) suína
- e) de mamíferos em geral

23. Analise o conceito abaixo e marque a alternativa **CORRETA**:

“A presença contínua de uma doença ou de um agente infeccioso em uma determinada zona geográfica atacando um número maior ou menor de indivíduos, caracteriza uma:”

- a) Contaminação
- b) Epidemia
- c) Pandemia
- d) Infecção
- e) Endemia

24. Marque a alternativa que **NÃO** corresponde aos fatores aumentam os riscos de exposição a zoonoses.

- a) Transportar animais com a Guia de Trânsito Animal.
- b) Criar, no domicílio, animais de estimação, tais como: cães, gatos, aves ornamentais e hamsters.
- c) Conduzir acidentalmente animais de uma área endêmica para outra indene.
- d) Comercializar ou deslocar animais para feiras e exposições.
- e) Todas as afirmativas acima correspondem.

25. Marque a alternativa que **NÃO** corresponde às medidas antivetoriais, no combate à Malária:

- a) Nebulizações térmicas.

- b) Manejo ambiental adequado.
- c) Tratamento químico de espaços abertos com aplicação de inseticida de Ultra Baixo Volume.
- d) Distribuição gratuita de inseticida para uso doméstico para população carente e moradora em área de risco.
- e) Todas as afirmativas acima correspondem.

26. Marque a alternativa **CORRETA** sobre a Brucelose bovina:

- a) As localizações de maior frequência do agente são nos linfonodos, baço, fígado, aparelho reprodutor masculino, útero e úbere.
- b) A única forma de transmissão da Brucelose entre a espécie bovina se dá por via sexual, aumentando a incidência no período de estação de monta.
- c) A principal fonte de infecção é representada por bovinos machos que eliminam continuamente o agente pela urina.
- d) O controle da Brucelose em bovinos baseia-se principalmente em ações de vacinação em massa de fêmeas adultas, machos jovens, no diagnóstico precoce e no tratamento dos animais positivos.
- e) Nenhuma das alternativas anteriores.

27. O aumento da quantidade de sangue dentro do sistema vascular é denominado:

- a) isquemia.
- b) hematêmese.
- c) hemorragia.
- d) hematúria.
- e) hiperemia.

28. A alteração cadavérica que acontece logo após a morte clínica de um animal, onde ocorre o resfriamento do corpo em função da parada dos processos metabólicos e da perda progressiva de fontes energéticas dar-se o nome de:

- a) aneflexia.
- b) autólise.
- c) *algor mortis*.
- d) *rigor mortis*.
- e) *livor mortis*.

29. Com base no texto abaixo marque a alternativa **CORRETA**:

“Doença infectocontagiosa provocada por bactérias, sendo uma zoonose de distribuição universal, cujas principais manifestações, nos animais, são abortos, nascimentos prematuros, esterilidade e baixa produção de leite denomina-se:”

- a) febre aftosa.
- b) brucelose.
- c) leishmaniose.
- d) pseudovariola.
- e) aspergilose.

30. Marque a alternativa que corresponde ao valor do teor de gordura do leite classificado como desnatado:

- a) 0,3 g/100 g
- b) 0,6 g/100 g
- c) 2,5 g/100 g
- d) 3,0 g/100 g
- e) 1,0 g/100 g

31. Marque a alternativa **CORRETA** com base no texto abaixo:

“A doença causada por um protozoário caracterizado pela presença de um flagelo, que no sangue dos vertebrados se apresenta sob a forma de tripomastigota e nos tecidos como amastigotas, sendo o *Triatoma infestans* um dos seus principais vetores é a:”

- a) febre maculosa.
- b) toxocaríase.
- c) criptosporidiose.
- d) doença de Chagas.
- e) equinococose.

32. Marque a alternativa que corresponde ao conceito de desinfecção:

- a) Processo que visa à destruição total de todas as formas de vida de um material ou ambiente, através de métodos físicos e químicos.
- b) Desinfecção de tecidos vivos, como pele e mucosas. Pode ser feita, por exemplo através do Clorexidine a 0.12% para antisepsia intrabucal.
- c) Procedimentos que visam evitar o retorno da contaminação a um objeto, superfície ou local.
- d) Consiste na destruição, remoção ou redução dos microrganismos presentes num material inanimado. Visa eliminar a potencialidade infecciosa do objeto, superfície ou local.
- e) Remoção de sujidades que indispensavelmente antecede os procedimentos de desinfecção ou esterilização.

33. Marque a alternativa **CORRETA** com base no texto abaixo:

“Organismo unicelular, sem núcleo diferenciado, causador de infecções no homem”

- a) Bactéria.
- b) Vírus.
- c) Parasitas.
- d) Protozoário.
- e) Fungo.

34. Em relação ao destino do leite de bovinos positivos para brucelose, deverá ser:

- a) Destinado ao consumo de humanos adultos.
- b) Destinado somente ao consumo animal.
- c) Não poderá ser usado para consumo humano e animal.

- d) Esterilização e destinado ao consumo humano e animal.
- e) Após a Pasteurização será destinado ao consumo de animais.

35. Analise o Texto abaixo:

“Conforme o Código de Ética do Médico Veterinário, Capítulo V, art. 14, da Responsabilidade Profissional, o Médico Veterinário será responsabilizado pelos atos que, no exercício da profissão, praticar com dolo ou culpa, respondendo civil e penalmente pelas infrações éticas e ações que venham a causar dano ao paciente ou ao cliente de várias formas quando:”

Marque a alternativa **INCORRETA**:

- a) Exercer a profissão evitando qualquer forma de mercantilismo.
- b) Praticar atos profissionais que caracterizem a imperícia, a imprudência ou a negligência.
- c) Atribuir seus erros a terceiros e a circunstâncias ocasionais que possam ser evitadas.
- d) Delegar a outros, sem o devido acompanhamento, atos ou atribuições privativas da profissão de Médico Veterinário.
- e) Isentar-se de responsabilidade por falta cometida em suas atividades profissionais, independente de ter sido praticada individualmente ou em equipe, mesmo que solicitado pelo cliente.

36. O Estado do Maranhão é dividido em regiões ecológicas. O Município de Poção de Pedras pertence a que região ecológica do Estado do Maranhão?

- a) Chapadões
- b) Pré-amazônica
- c) Cerrados
- d) Cocais
- e) Baixada

37. É a **extração vegetal** de maior importância econômica para o Município de Poção de Pedras, no Estado do Maranhão.

- a) A extração da amêndoa do babaçu
- b) Madeiras - Produção de carvão vegetal
- c) Madeiras – Produção de lenha
- d) Madeiras – Madeira em toras (p/serrarias)
- e) Castanha de caju.

38. Dentre as alternativas seguintes, indique qual das lavouras temporárias relacionadas é aquela de menor representação econômica para Poção de Pedras.

- a) Tomate
- b) Abacaxi
- c) Melancia
- d) Mandioca
- e) Feijão

39. Município que, integrante da mesma Microrregião de Poção de Pedras, se situa a Nordeste de Poção de Pedras.

- a) Lago dos Rodrigues
- b) Bernardo do Mearim
- c) Satubinha
- d) Lago do Junco
- e) Peritoró

40. Segundo o IBGE, sobre a altitude média do Município de Poção de Pedras, pode-se afirmar que

- a) é maior que 100m e inferior a 110m
- b) é maior que 110m e inferior a 115m
- c) é um valor acima de 120m e menor que 140m
- d) é um número menor ou igual a 100m
- e) é maior que 150m