

LÍNGUA PORTUGUESA

LEIA TODOS OS TEXTOS, COM ATENÇÃO, PARA RESPONDER ÀS QUESTÕES DE 01 A 10.

TEXTO A



TEXTO B

Se Vasco cair, Eurico ameaça “implodir” Dinamite.

O ex-presidente do Vasco, Eurico Miranda, mandou um recado ameaçador ao atual mandatário, Roberto Dinamite, em entrevista à Rádio Bandeirantes.

“Pense muito no que está fazendo com o Vasco, porque você não vai sair impune disso. Garanto que, nem que seja a última coisa que eu venha a fazer na minha vida, se o Vasco cair para a Segunda Divisão, eu vou acabar com você, com as suas vidas política e particular. Você só merece isso. Estou dizendo isso com todas as letras. Faça o diabo para impedir que o Vasco seja rebaixado. Pode continuar fazendo as suas lambanças, a sua auditoria, mas não deixe o Vasco cair. Se o Vasco for para a segunda divisão, eu vou acabar com você”, disparou.

(Fonte:<http://blog.miltonneves.ig.com.br/2008/10/21/se-vasco-cair-eurico-ameaca-implodir-com-dinamite/> (acessado em 10/06/12).

1) Tendo em vista que há uma correlação entre os textos A e B, assinale a alternativa coerente acerca dos dois textos.

a) Fazendo referência a um filme (texto A), o site de humor não faz uma pilhéria, aludindo à remota possibilidade de o Vasco se manter na primeira divisão (Texto B).

b) O fato de o patrocinador, no primeiro texto, chamar-se champs – “campeão” em inglês – não se configura como uma ironia em relação à situação do clube, no segundo texto.

c) Para o leitor que não está familiarizado com o futebol, o título do texto B pode contribuir na construção do significado do A.

d) Ambos os textos, fazendo menção ao rebaixamento da equipe carioca, mostram-se como expressões de contrariedade ao rebaixamento.

e) A força semântica de “milagre” não pode se referir, com proporção de eventos bíblicos, à dificuldade em solucionar a situação do time.

TEXTO C

NOVO RUMO PROFISSIONAL

Mudança de emprego ou de área de atuação deve ser encarada como possibilidade de autodescoberta

1 Pode ser um giro de 180 graus em outra direção ou uma mudança mais amena, para uma atividade relacionada à que você já executa. Não importa o tamanho do passo. Nem se você trocou estabilidade e um bom salário para investir num sonho. Ao longo da vida profissional, mais cedo ou mais tarde, todo mundo ensaia mudar de emprego ou de profissão em razão de novos projetos, desafios e insatisfações.

9 Esse momento normalmente acontece, segundo a psicóloga empresarial Márcia Coimbra, quando o profissional decide pautar sua trajetória no trabalho tendo em vista desejos pessoais. Além de trazer mais bem-estar quando são efetivamente realizadas, as transições profissionais ainda podem ser encaradas como uma possibilidade de autodescoberta, de reconhecimento da própria identidade.

17 No livro *Identidade de trabalho – Estratégias não-governamentais para reinventar sua carreira*, editado pela Havard Business School Press, Hermínia Ibarra, professora de comportamento empresarial em Fontainebleau, na França, explica que, para ter satisfação, é preciso haver identificação com o trabalho. “Mas ela não é um tesouro escondido no fundo de cada um, esperando para ser descoberto. Ao contrário, é constituída de muitas possibilidades. Algumas tangíveis e concretas, outras definidas por coisas que fazemos e pelo meio onde vivemos, e outras que existem apenas na especulação de um futuro potencial e dos sonhos pessoais. É preciso estar sempre atento a tudo isso e de olho nas oportunidades”, afirma.

31 Na maioria das carreiras bem-sucedidas, segundo a autora, sempre existe um processo de tentativa e erro,

de aprender fazendo, em que a experiência do aqui e agora ajuda a desenvolver as ideias sobre o que é plausível (e desejável) para o futuro, para a mudança. Portanto, o conselho é: “Se você está vislumbrando possibilidades em outras carreiras, corra para testá-las.”

38 Foi o que resolveu fazer a ex-funcionária pública Ivana Marques Macedo Forte, de 40 anos. Em 1999, ela pediu exoneração do cargo que ocupava na prefeitura, para batalhar emprego em uma empresa privada. Mas ainda não era o que ela queria. Depois de seis anos trabalhando na MBR como gerente de produção, decidiu respeitar o que ditava sua personalidade. “Nas duas guinadas que dei em minha vida profissional, as pessoas me tacharam de louca. Mas sempre tive uma veia empreendedora muito forte e queria poder usufruir de total autonomia, de praticar a gestão na qual acredito”, diz.

50 Com o marido e o irmão, ela abriu um fábrica de pães e hoje colhe frutos de sua coragem e determinação. “Estou feliz como nunca me senti em toda a minha vida profissional”, completa.

(Vanessa Jacinto/ Estado de Minas, acesso em 10/06/12)

2) O conteúdo desse texto, extraído do caderno Emprego, do jornal *Estado de Minas*, está voltado para:

- a) a seleção de profissionais capacitados.
- b) o surgimento de novas fontes de renda.
- c) a mudança de emprego em razão de novos objetivos.
- d) a divulgação de oportunidades de emprego.
- e) a divulgação de vagas no mercado de trabalho.

3) Em: “Mas ela não é um tesouro escondido no fundo de cada um” (linha 23), a palavra destacada se refere a:

- a) carreira
- b) satisfação
- c) identificação
- d) especulação
- e) pessoa

4) O trecho reescrito que não altera o sentido do texto original é:

- a) Ainda que você esteja vislumbrando possibilidades em outras carreiras, corra para testá-las.
- b) Quando você estiver vislumbrando possibilidades em outras carreiras, corra para testá-las.
- c) Onde você estiver vislumbrando possibilidades em outras carreiras, corra para testá-las.
- d) Caso você esteja vislumbrando possibilidades em outras carreiras, corra para testá-las.

e) Conforme você esteja vislumbrando possibilidades em outras carreiras, corra para testá-las.

5) “Algumas tangíveis e concretas, outras definidas por coisas que fazemos e pelo meio onde vivemos”. [linha 25] A palavra destacada pode ser substituída corretamente por:

- a) que
- b) aonde
- c) nos quais
- d) o qual
- e) em que

TEXTO D

AÍ, GALERA

Jogadores de futebol podem ser vítimas de estereotipação. Por exemplo, você pode imaginar um jogador de futebol dizendo "estereotipação"? E, no entanto, por que não?

- Aí, campeão. Uma palavrinha pra galera.
- Minha saudação aos aficionados do clube e aos demais esportistas, aqui presentes ou no recesso dos seus lares.
- Como é?
- Aí galera.
- Quais são as instruções do técnico?
- Nosso treinador vaticinou que, com um trabalho de contenção coordenada, com energia otimizada, na zona de preparação, aumentam as probabilidades de, recuperado o esférico, concatenarmos um contragolpe agudo com parcimônia de meios e extrema objetividade, valendo-nos da desestruturação momentânea do sistema oposto, surpreendido pela reversão inesperada do fluxo da ação.
- Ahn?
- É pra dividir no meio e ir pra cima pra pegá eles sem calça.
- Certo. Você quer dizer mais alguma coisa?
- Posso dirigir uma mensagem de caráter sentimental, algo banal, talvez mesmo previsível e piegas, a uma pessoa à qual sou ligado por razões, inclusive, genéticas?
- Pode.
- Uma saudação para a minha progenitora.
- Como é?
- Alô, mamãe!
- Estou vendo que você é um, um...
- Um jogador que confunde o entrevistador, pois não corresponde à expectativa de que o atleta seja um ser algo primitivo com dificuldade de expressão e assim sabota a estereotipação?

- Estereoquê?
- Um chato?
- Isso.

(Luís Fernando Veríssimo)

6) Assinale a alternativa que retrata, no texto, duas situações relacionadas, que fogem à expectativa do público.

- a) A linguagem muito formal do jogador, inadequada à situação da entrevista, e um entrevistador que não entende nada do que lhe é dito.
- b) O uso da expressão "galera", por parte do entrevistador, e da expressão "progenitora", por parte do jogador.
- c) O desconhecimento, por parte do entrevistador, da palavra "estereotipação", e a fala do jogador em "é pra dividir no meio e ir pra cima pra pegá eles sem calça".
- d) O fato de os jogadores de futebol serem vítimas de estereotipação e o jogador entrevistado não corresponder ao estereótipo.
- e) O fato de o entrevistador se expressar muito bem e o jogador não falar em linguagem padrão.

7) A expressão "pegá eles sem calça" poderia ser SUBSTITUÍDA, em língua culta formal, sem comprometimento de sentido, por pegá-los...

- a) na mentira.
- b) desprevenidos.
- c) em flagrante.
- d) rapidamente.
- e) nus.

TEXTO E

DIARIAMENTE

“Para calar a boca: Rícino
 Para lavar a roupa: Omo
 Para viagem longa: Jato
 Para difíceis contas: Calculadora
 Para o pneu na lona: Jacaré
 Para a pantalona: Nesga
 Para pular a onda: Litoral
 Para lápis ter ponta: Apontador
 Para o Pará e o Amazonas: Látex
 [...]

 Para levar na escola: Condução
 Para os dias de folga: Namorado
 Para o automóvel que capota: Guincho
 [...]

 Para saber a resposta: Vide-o-verso
 Para escolher a compota: Jundiá
 Para a menina que engorda: Hipofagi
 Para a comida das orcas: Krill
 Para o telefone que toca
 Para a água lá na poça
 Para a mesa que vai ser posta
 Para você o que você gosta: Diariamente”

(Marisa Monte)

8) A letra da canção apresenta uma construção especial, graças à repetição da palavra para. Sobre essa preposição, pode-se afirmar que ela transmite a ideia de:

- a) causa
- b) assunto
- c) companhia
- d) finalidade
- e) consequência

9) Identifique a alternativa em que se classificou INCORRETAMENTE a oração destacada:

- a) **Embora se alimentasse bem**, não apresentava boa saúde (subordinada adverbial concessiva).
- b) Ele apresentava uma boa saúde, **visto que sempre se alimentava bem** (subordinada adverbial causal).
- c) Melhorava de aparência, **à medida que deixava de fumar** (subordinada adverbial proporcional).

d) O movimento no restaurante era tanto, **que desistimos de comer** (subordinada adverbial consecutiva).

e) **Ainda que estivesse quase sem respirar**, ele não deixava de fumar (subordinada adverbial conformativa).

TEXTO F



TEXTO G



10) Assinale a alternativa que melhor descreve as críticas apresentadas nas duas charges.

- a) Na segunda charge, ao criticar a estampa de camuflagem, o chargista quis mostrar as novas tendências no mundo da moda – o padrão soja e pasto.
- b) Na primeira charge, ao trocar o pinguim de lugar, o chargista critica o aquecimento global, representado pelo calor do fogão.
- c) Na primeira charge, ao colocar o pinguim sobre o fogão, o chargista quis representar as mudanças na decoração da cozinha.
- d) Na segunda charge, ao criticar a vestimenta do soldado, o chargista quis mostrar que o padrão camuflagem não está mais na moda.
- e) Na primeira charge, ao colocar o pinguim sobre o fogão, o chargista quis mostrar a resiliência dos animais, que se adaptam a quaisquer condições climáticas.

ATUALIDADES

11) Marque a assertiva CORRETA. Criado pelo Ministério da Saúde através da Portaria nº 719, de 07 de abril de 2011, o Programa Academia da Saúde:

- a) A academia contará com um professor que disponibilizará aulas mensais para orientação e avaliação.
- b) O instrutor deverá ser contratado pelo MS e terá que selecionar os praticantes já acostumados com as atividades.
- c) O principal objetivo é contribuir para a promoção da saúde da população a partir de infraestrutura, equipamentos e quadro de pessoal qualificado para a orientação de práticas corporais e atividade física e de lazer e modos de vida saudáveis.
- d) A academia terá uma equipe multidisciplinar que deverá selecionar jovens capacitados para desenvolver o esporte.
- e) Tem como objetivo descobrir novos talentos e incentivar o hábito da prática esportiva.

12) Os planos de saúde tiveram em 2012 cinco importantes alterações, dentre elas podemos citar:

- a) Nova listagem de coberturas obrigatórias e Mapa da Rede Conveniada na Internet.
- b) Tempo Máximo para Atendimento e Desconto para reabilitação à Saúde.
- c) Criação de um Sistema de consulta para a lista de procedimentos e Desconto para tratamento à Saúde

d) Tempo Mínimo para Atendimento e Mapa da Rede Conveniada na Internet.

e) A e D estão corretas.

13) No dia 10/07/2012, a Assembléia Legislativa do Estado do Maranhão aprovou, por unanimidade, um substitutivo apresentado pela deputada Valéria Macedo ao Projeto de Lei nº 159/2011, de sua autoria, que estabelece:

a) Fixar piso para as categorias da enfermagem em todo o território maranhense.

b) Fixar piso para as categorias da enfermagem em todo o território maranhense bem como a jornada de trabalho de 30 horas semanais.

c) A jornada de trabalho de 30 horas semanais.

d) A jornada de trabalho de 30 horas semanais, fixar piso salarial para as categorias da enfermagem em todo o território nacional.

e) Todas estão corretas.

14) Sobre o Programa de Redução de Danos coloque V (verdadeiro) ou F (falso):

() São , ações preventivas, como a substituição de cachimbos.

Tentar regularizar a alimentação e o sono, o que reduz o risco de anemia e desnutrição e impede o agravamento de doenças físicas e mentais.

() A valorização e estímulo a vivência das habilidades e potencialidades do usuário deverá ficar para outro momento, agora o mais importante é afastá-lo da droga.

() Incentivar o dependente de crack a cuidar de si, sendo necessário que ele interrompa totalmente o uso da droga, é a estratégia central das ações de Redução de Danos à saúde do usuário.

() O esforço é pela preservação da vida. Do mesmo modo, as estratégias de redução de danos se caracterizam pela tolerância, pois evitam o julgamento moral sobre os comportamentos relacionados ao uso do crack e às práticas sexuais, assim como intervenções autoritárias e preconceituosas.

() Oferecer estes serviços de abordagem, na própria rua e nos contextos de uso da droga, também pode evitar a exposição a outras situações de risco e aproximar o usuário das instituições de saúde.

Marque a opção que tem a sequência correta:

a) V,V,V,V,V,V

b) V,V,F,,F,F,F

c) F,F,V,V,F,V

d) F,F,F,F,F,V

e) V,V,F,F,V,V

15) Marque a alternativa INCORRETA quanto aos benefícios do Cartão Saúde SUS:

a) O profissional da saúde terá acesso à varias informações do paciente, tais como: Diagnósticos anteriores, Remédios indicados, Datas de últimas consultas, dentre outras informações.

b) O usuário poderá retirar medicamentos em farmácias básicas.

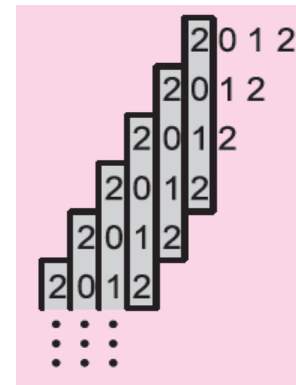
c) Marcas exames e consultas com agilidade.

d) Identifica o usuário.

e) Serve para atendimento em todas as redes de hospitais públicos e privados.

RACIOCÍNIO LÓGICO

16) José Roberto escreveu diversas vezes o ano de 2012 horizontalmente, como mostra na figura abaixo. Após, ele desenhou 2012 retângulos, cada um ao redor de cada um dos números 2012 que podiam ser lidos verticalmente. Qual é a soma de todos os algarismos escritos por José Roberto?



a) 10000

b) 10060

c) 12012

d) 20120

e) 10075

17) Em uma caixa contém bolas verdes e azuis. Jonathan retirou 60% das bolas, observou que 55% dessas bolas eram verdes e devolveu todas as bolas para a caixa. Qual é o maior percentual possível de bolas verdes na caixa?

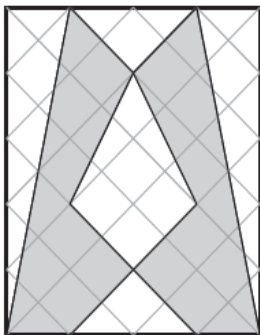
a) 60%

b) 73%

c) 65%

- d) 68%
- e) 75%

18) O retângulo abaixo, que foi recortado de uma folha de papel quadriculado, mede 4 cm de largura por 5 cm de altura. Determine qual é o espaço da região cinzenta.

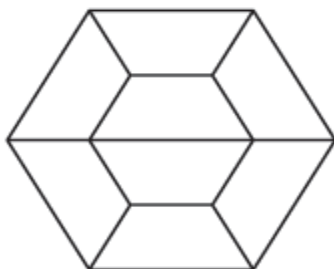


- a) 11 cm²
- b) 12,5 cm²
- c) 13 cm²
- d) 10 cm²
- e) 14,5 cm²

19) Laura anotou cinco números em uma folha de papel. Escondendo cada um deles e somando os outros quatro, ela obteve os seguintes resultados: 29, 32, 35, 39 e 41. Qual é a soma do maior com o menor dos números que Laura escreveu?

- a) 10
- b) 18
- c) 12
- d) 15
- e) 20

20) A figura abaixo mostra que, foi composta por oito trapézios isósceles idênticos, cuja base maior mede 10 cm. Qual é a medida, em centímetros, da base menor de cada um desses trapézios?



- a) 4
- b) 4,5
- c) 5,5
- d) 6
- e) 5

CONHECIMENTOS ESPECÍFICOS

21) O indivíduo que se encontra com doença renal, possui as proteínas da sua dieta alimentar selecionadas da seguinte forma:

- a) ½ de alto valor biológico e ½ de baixo valor biológico.
- b) 2/3 de alto valor biológico e 1/3 de baixo valor biológico.
- c) 1/3 de alto valor biológico e 2/3 de baixo valor biológico.
- d) 2/4 de alto valor biológico e 1/4 de baixo valor biológico.
- e) 100 % de alto valor biológico.

22) O pigmento necessário para os processos de oxidação na carne escura e que está ausente na carne branca é:

- a) Mioglobina.
- b) Hematina.
- c) Hemoblogina.
- d) Miosina.
- e) Cianocobalamina.

23) Para um adequado funcionamento do Serviço de Nutrição e Dietética (SND) é necessário um correto dimensionamento de recursos humanos. Em um hospital de 500 leitos, com 1000 funcionários, o percentual ideal de funcionários para o serviço de nutrição é:

- a) 5 %.
- b) 15 %.
- c) 10 %.
- d) 20 %.
- e) 25 %.

24) A mortalidade infantil é um índice altamente usado em Saúde Pública para o diagnóstico nutricional das comunidades. Tal índice significa taxa de mortalidade de crianças na faixa etária de:

- a) 0 a 12 meses.
- b) 0 a 5 dias.
- c) 0 a 7 dias.
- d) 0 a 28 dias.
- e) Acima de 24 meses.

25) Um homem de 70 kg, com 40 % de superfície corpórea queimada, em hipometabolismo, hipoventilação, hipovolemia e hipercapnia deverá receber aproximadamente uma dieta com aporte calórico por volta de:

- a) 3400 cal / dia, imediatamente para cumprir as necessidades nutricionais.
- b) Iniciar imediatamente com 2400 cal / dia, para cumprir parcialmente as necessidades nutricionais.
- c) Aguardar estabilidade hemodinâmica para início de terapia nutricional.
- d) 4100 cal / dia, para cumprir as necessidades nutricionais.
- e) 1800 cal / dia, para cumprir as necessidades nutricionais.

26) Para a perda de um quilo de gordura corporal é necessária uma restrição calórica de aproximadamente:

- a) 2500 cal.
- b) 3500 cal.
- c) 7700 cal.
- d) 9000 cal.
- e) 1500 cal.

27) É de suma importância promover adequado armazenamento de gêneros alimentícios para evitar a proliferação de microorganismos e deterioração de matérias primas dentro de uma Unidade de Alimentação e Nutrição (UAN). A temperatura dos frigoríficos deverá ser:

- a) Carnes – 0º C, laticínios – 4º C, frutas e verduras – 10ºC.
- b) Carnes – 3º C, laticínios – 4º C, frutas e verduras – 18ºC.
- c) Carnes – 0º C, laticínios – 5º C, frutas e verduras – 20ºC.
- d) Carnes – 0º C, laticínios – 8º C, frutas e verduras – 5º C.
- e) Carnes – 5º C, laticínios – 10º C, frutas e verduras – 15ºC.

28) A qualidade de uma proteína está em função:

- a) Do seu tempo de cocção.
- b) De sua digestibilidade.
- c) De sua origem.
- d) De seu peso molecular.
- e) Da composição de aminoácidos essenciais.

29) O zinco é um micronutriente extremamente importante, que irá compor mais de 300 metaloenzimas e proteínas, com funções no sistema imunológico, reprodutor e na constituição do material genético humano. Neste contexto, são fontes alimentares de zinco:

- a) Raízes e tubérculos.
- b) Pescados, carnes, leite e leguminosas.
- c) Óleos vegetais.
- d) Hortaliças e cereais.
- e) Frutas de amarelo intenso.

30) Assinale a alternativa CORRETA de acordo com a associação entre os trechos que se seguem:

A utilização de glutamina na terapia nutricional do paciente criticamente enfermo, principalmente via parentérica, é comprovadamente benéfica para este público.

Por que:

Reduz tempo de hospitalização, aumenta resposta imunológica e massa magra metabolicamente ativa.

- a) As duas proposições estão incorretas.
- b) A primeira proposição esta correta e a segunda está incorreta.
- c) As duas proposições estão corretas e a segunda é a justificativa da primeira.
- d) A primeira proposição esta incorreta e a segunda está correta.
- e) As duas proposições estão corretas, mas a segunda não é a justificativa correta da primeira.

31) Para um paciente vítima de AVC, índice de massa corporal de 15 kg / m², prega cutânea do tríceps abaixo de 70 % de adequação, proeminências ósseas visíveis. Foi estabelecido um aporte calórico de 2000 cal. Para iniciar a terapia nutricional neste paciente é recomendado:

- a) Aporte de 2/3 das necessidades estabelecidas, afim de evitar síndrome da realimentação.
- b) Aporte de ½ das necessidades estabelecidas, afim de evitar síndrome da realimentação.
- c) Aporte de 1/3 das necessidades estabelecidas e observar a tolerância do paciente, afim de evitar síndrome da realimentação.
- d) Suspender terapia nutricional, afim de evitar síndrome da realimentação.

e) Não há alternativa correta entre as anteriores.

32) O Programa de Alimentação do Trabalhador (PAT) determina que o desjejum e o lanche deverão fornecer um mínimo de:

- a) 600 cal e 4 % de NDpCal.
- b) 750 cal e 10 % de NDpCal.
- c) 300 cal e 6 % de NDpCal.
- d) 900 cal e 6 % de NDpCal.
- e) Não há alternativa correta entre as anteriores.

33) Em uma dieta básica para um escolar com VET = 1920 cal / dia, proteína bruta = 62,4 g, proteína líquida = 37,44 (corrigida pela NPU). Qual o NDpCal %?

- a) 9,1%.
- b) 7,0%.
- c) 7,8%.
- d) 8,3%.
- e) 8,5%.

34) Segundo o Ministério da Saúde, para detectar desnutrição crônica na população infantil e para acompanhamento da evolução nutricional de adolescentes, os melhores métodos de avaliação nutricional são respectivamente:

- a) Peso por idade e índice de massa corporal por idade.
- b) Estatura por idade e índice de massa corporal por idade.
- c) Peso por idade e estatura por idade.
- d) Índice de massa corporal por idade e peso por idade.
- e) Estatura por idade e peso por idade.

35) No processo de industrialização do leite, o alimento é acondicionado em embalagens, com forros de folhas de alumínio, devido a alta sensibilidade do produto à luz direta favorecer a perda de vitamina C e riboflavina. A porcentagem de perda é, respectivamente, de:

- a) 50 % e 3 % a 8 %.
- b) 2 % e 50 % a 60 %.
- c) 25 % e 9 % a 12 %.
- d) 35 % e 15 % a 20 %.
- e) 40 % e 10 % a 15 %.

36) O fator de correção é uma constante para cada alimento que permite ao nutricionista prever o quantitativo real a ser utilizado, ou seja, livre de aparas. A fórmula matemática para encontrarmos o fator de correção, onde PB (Peso bruto) e PL (Peso líquido), é:

- a) $PL \times PB$.
- b) $PL \times PB \times 100$.
- c) $PB / PL \times 100$.
- d) PB / PL .
- e) $PB / PL \times 6,25$.

37) São atividades obrigatórias na área de nutrição clínica, segundo a Resolução nº 380 do CFN (2005), EXCETO:

- a) Integrar a EMTN (Equipe Multiprofissional de Terapia Nutricional), conforme legislação em vigor.
- b) Elaborar o diagnóstico nutricional, com base nos dados clínicos, bioquímicos, antropométricos e dietéticos.
- c) Determinar e dar a alta nutricional.
- d) Solicitar exames laboratoriais necessários à avaliação nutricional, à prescrição dietética e à evolução nutricional do cliente / paciente.
- e) Definir, planejar, organizar, supervisionar e avaliar as atividades de assistência nutricional aos clientes/pacientes, segundo níveis de atendimento em Nutrição.

38) “Realizar e divulgar estudos e pesquisas relacionados à sua área de atuação, desenvolvendo o intercâmbio técnico-científico”, é atividade complementar, segundo a Resolução nº 380 do CFN (2005), da área de:

- a) Docência em nutrição.
- b) Alimentação Coletiva.
- c) Marketing na área de Alimentação e Nutrição.
- d) Nutrição Clínica.
- e) Saúde Coletiva.

39) O produto cálcio versus fósforo, permite ao profissional nutricionista avaliar no plano alimentar de paciente renais crônicos, a necessidade de quelante alimentar. Neste sentido, quelante alimentar, será adicionado ao plano terapêutico de um paciente, cujo produto cálcio versus fósforo for:

- a) Superior a 64.
- b) Igual ou superior a 54 e menor que 64.
- c) Igual ou superior a 64.
- d) Superior a 54.
- e) Igual ou superior a 54.

40) A definição mais fidedigna de *per capita* alimentar é:

- a) Quantidade individual em massa (g) ou volume (ml) de alimento cozido.
- b) Quantidade individual em massa (g) ou volume (ml) de alimento cru.
- c) Quantidade individual em massa (g) de alimento cozido.
- d) Quantidade individual em massa (g) de alimento cru.
- e) Quantidade individual em volume (ml) de alimento cozido.