

## Concurso Público / Edital n. 01/2012

### Auxiliar de Saúde e Telefonista Códigos 106 e 107

---

**LEIA COM ATENÇÃO AS INSTRUÇÕES DESTE CADERNO.**  
**Elas fazem parte da sua prova.**

---

Este caderno contém as questões de Língua Portuguesa, Matemática e Conhecimentos Gerais/Legislação.

Ao receber a **Folha de Respostas**:

- confira seu nome, número de inscrição e cargo de opção;
- assine, **A TINTA**, no espaço próprio indicado.

	A	B	C	D
01	<input checked="" type="checkbox"/>	<input type="checkbox"/>	<input type="checkbox"/>	<input type="checkbox"/>
02	<input type="checkbox"/>	<input checked="" type="checkbox"/>	<input type="checkbox"/>	<input type="checkbox"/>
03	<input type="checkbox"/>	<input type="checkbox"/>	<input checked="" type="checkbox"/>	<input type="checkbox"/>
04	<input type="checkbox"/>	<input type="checkbox"/>	<input type="checkbox"/>	<input checked="" type="checkbox"/>

Ao transferir as respostas para a **Folha de Respostas**:

- use apenas caneta esferográfica azul ou preta;
- preencha, sem forçar o papel, toda a área reservada à letra correspondente à resposta solicitada em cada questão;
- assinale somente uma alternativa em cada questão. Sua resposta não será computada se houver marcação de mais de **uma alternativa**, **questões não assinaladas** ou **questões rasuradas**.

**NÃO DEIXE NENHUMA QUESTÃO SEM RESPOSTA.**

A **Folha de Respostas** não deve ser dobrada, amassada ou rasurada.

**CUIDE BEM DELA. ELA É A SUA PROVA.**

**ATENÇÃO** – Poderá, ainda, ser eliminado o candidato que: “[...] portar arma(s) no local de realização das provas, ainda que de posse de documento oficial de licença para o respectivo porte; [...] portar, mesmo que desligados, durante o período de realização das provas, quaisquer equipamentos eletrônicos como relógio digital, calculadora, *walkman*, *notebook*, *palm-top*, [...], ou instrumentos de comunicação interna ou externa, tais como telefone celular, *bip*, *pager* entre outros, ou deles fizer uso; [...]” (itens 8.1.29 “d”, “e”)

---

## DURAÇÃO MÁXIMA DA PROVA: QUATRO HORAS

---



Fundação de  
Desenvolvimento  
da Pesquisa

## ATENÇÃO

Sr.(a) Candidato(a).

Antes de começar a fazer a prova, confira se este caderno contém, ao todo, **30 (trinta) questões objetivas** – cada uma constituída de **4 (quatro) alternativas** – assim distribuídas: **Língua Portuguesa** — 13 (treze) questões, **Matemática** — 7 (sete) questões e **Conhecimentos Gerais/Legislação** — 10 (dez) questões, todas perfeitamente legíveis.

Identificando algum problema, informe ***imediatamente*** ao aplicador de provas para que ele tome as providências necessárias.

Caso V.Sa. não observe essa recomendação, ***não lhe caberá qualquer reclamação ou recurso posteriores.***

## Língua Portuguesa

**INSTRUÇÃO** – As questões de 1 a 7 relacionam-se com o texto abaixo. Leia-o com atenção antes de responder a elas.

### QUANDO A TECNOLOGIA PROVOCA INVOLUÇÃO

O avanço tecnológico, em vez de aproximar as pessoas, na verdade está afastando-as. As maiores vítimas da tecnologia são os nossos jovens. Em virtude disso, muitos garotos têm dificuldades de se relacionar em grupo e têm poucos amigos. Seus únicos amigos são seus familiares.

5 Ninguém é uma ilha. O homem é um ser social, avesso ao isolamento e raramente encontra a felicidade sem compartilhar seu espaço com seu semelhante. No dia a dia, constatamos que a alienação social, o consumismo excessivo, o uso exagerado do computador, dos jogos eletrônicos, da TV e a superproteção dos pais têm criado situações de isolamento e falta de iniciativa dos jovens nas práticas  
10 esportivas. Eles dependem dos pais para tudo, até para as coisas mais corriqueiras do cotidiano. A ânsia por proteção aos filhos acaba levando muitos pais a isolá-los do mundo.

O pouco tempo livre dos jovens e adultos é dedicado à internet, onde, a cada dia, surgem novos sites de relacionamento. Da mesma forma, as mensagens por  
15 e-mail e as TVs a cabo podem colaborar para que os adolescentes se isolem cada vez mais, principalmente depois da moda de cada quarto ter o seu aparelho de TV. Alguns anos atrás, quando não tínhamos acesso a esse tipo de tecnologia, éramos muito mais próximos e amigos uns dos outros.

Esse comportamento virtualiza os relacionamentos e cria uma atmosfera de  
20 sociabilidade que é falsa, pois faz com que as pessoas vivenciem um mundo de amigos e relacionamentos virtuais, que causam uma alienação perigosa e irreal, levando-as a um distanciamento do mundo real. Uma pessoa que não desenvolve relações de amigos torna-se uma pessoa amarga e infeliz. No mundo virtual, para se resolverem quaisquer conflitos, basta clicar no mouse do computador para que os  
25 problemas e pessoas indesejáveis desapareçam. Estratégia que, definitivamente, não funciona no mundo real.

O avanço tecnológico trouxe grandes benefícios para a humanidade. No entanto, o seu uso indiscriminado pode acarretar mais prejuízos do que benefícios para os nossos filhos. Precisamos inverter essa equação.

Carlos Eduardo Guilherme. *Jornal Estado de Minas*, 23/02/2012 (texto adaptado).

### Questão 1

O texto “Quando a tecnologia provoca involução” faz uma comparação entre

- A) o modo de vida atual e o modo de vida idealizado pela sociedade.
- B) a qualidade de vida e a falta de compreensão dos pais hoje em dia.
- C) o que acontece no mundo real e no mundo virtual.
- D) as vantagens das novas tecnologias e a inveja de quem não as domina.

### Questão 2

O termo alienação social descrito no texto se refere a

- A) falta de domínio das pessoas de hoje em relação às tecnologias.
- B) perda da capacidade de as pessoas se relacionarem no mundo real.
- C) dificuldade de relacionamento entre as pessoas que não usam as redes sociais.
- D) falta de compromisso das pessoas em relação às ações da sociedade.

### Questão 3

Analise as seguintes afirmativas sobre a virtualização dos relacionamentos e assinale com **V** as **verdadeiras** e com **F** as **falsas**.

- ( ) O uso exagerado do computador, da TV e dos jogos eletrônicos causa alienação social.
- ( ) A privação do convívio com outras pessoas tem efeitos benéficos à saúde física e à saúde mental.
- ( ) O isolamento provocado pela internet afeta a criatividade e a iniciativa das pessoas.
- ( ) O autor considera mais fácil resolver os problemas com pessoas indesejáveis no mundo real.

Assinale a alternativa que apresenta a sequência de letras **CORRETA**.

- A) (V) (F) (F) (V)
- B) (F) (F) (V) (V)
- C) (V) (F) (V) (F)
- D) (V) (V) (F) (F)

#### Questão 4

De acordo com o texto, são exemplos de problemas gerados pelo uso excessivo das novas tecnologias, **EXCETO**

- A) falta de criatividade.
- B) superproteção dos pais em relação aos filhos.
- C) isolamento.
- D) socialização precoce.

#### Questão 5

O autor finaliza o texto afirmando “Precisamos inverter essa equação.” (linha 29)

Assinale a alternativa que apresenta o que ele quis dizer com essa frase.

- A) Que precisamos impedir o avanço das novas tecnologias.
- B) Que precisamos de mais tempo livre para nos dedicarmos à internet.
- C) Que precisamos usar as novas tecnologias com cautela.
- D) Que precisamos proibir o acesso dos jovens à internet e a jogos eletrônicos.

#### Questão 6

O texto lido

- A) faz uma crítica.
- B) faz uma descrição.
- C) narra uma história.
- D) anuncia um produto.

#### Questão 7

“O homem é um ser social avesso ao isolamento [...]” (linha 5)

A palavra sublinhada na frase acima pode ser substituída por

- A) favorável.
- B) de acordo
- C) contrário.
- D) fadado.

### Questão 8

Numere a **COLUNA II** de acordo com a **COLUNA I** relacionando as palavras sublinhadas em cada frase com a sua função.

#### COLUNA I

1. Nomear um ser
2. Indicar uma ação
3. Qualificar um nome
4. Substituir um nome

#### COLUNA II

- ( ) O avanço tecnológico afasta as pessoas.
- ( ) Eles dependem dos pais para tudo.
- ( ) São relacionamentos virtuais.
- ( ) O computador faz os jovens se isolarem.

Assinale a alternativa que apresenta a sequência de números **CORRETA**.

- A) (2) (3) (4) (1)
- B) (3) (2) (1) (4)
- C) (2) (4) (3) (1)
- D) (1) (4) (3) (2)

### Questão 9

“Alguns anos atrás, quando não tínhamos acesso a esse tipo de tecnologia, éramos muito mais próximos e amigos uns dos outros.” (linhas 17-18)

As palavras sublinhadas no trecho acima são classificadas como

- A) adjetivos.
- B) verbos.
- C) substantivos.
- D) artigos.

### Questão 10

Assinale a alternativa em que **há** erro de acentuação gráfica.

- A) termômetro – remédio
- B) alô – você
- C) cipó – alguém
- D) médico – telefonista

### Questão 11

Assinale a opção que apresenta período composto.

- A) O jovem fica horas atento à internet.
- B) O computador estragou e não liga mais.
- C) Os pais superprotegem seus filhos.
- D) Antigamente éramos mais felizes.

### Questão 12

Assinale a alternativa que apresenta **erro** de **concordância nominal**.

- A) Os seguranças continuam atentos.
- B) Alugam-se casas.
- C) Faz quinze dias que não acesso a internet.
- D) Ela mesmo se isola dos amigos.

### Questão 13

Caros(as) internautas,  
favor desligar o computador quando terminarem  
de acessar a internet.

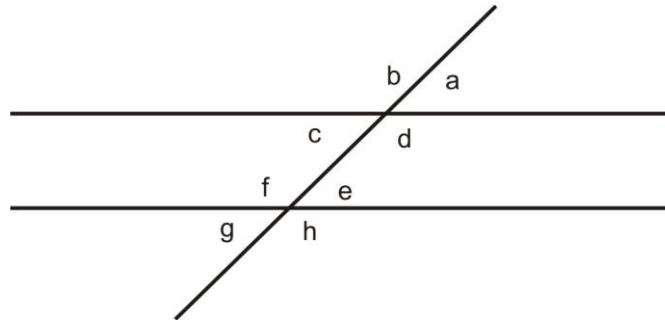
Esse texto é

- A) um anúncio.
- B) um bilhete.
- C) um aviso.
- D) um telegrama.

## Matemática

### Questão 14

Analise o seguinte desenho.



Com base na análise feita, assinale com **V** as afirmativas **verdadeiras** e com **F** as **falsas**.

- ( ) A soma dos ângulos **a** e **c** é igual a  $90^\circ$ .
- ( ) Os ângulos **f** e **g** são suplementares.
- ( ) Os ângulos **b** e **e** são opostos pelo vértice.
- ( ) Os ângulos **f** e **h** são congruentes.

Assinale a alternativa que apresenta a sequência de letras **CORRETA**.

- A) (F) (V) (V) (F)
- B) (F) (V) (F) (V)
- C) (V) (F) (F) (V)
- D) (V) (V) (F) (F)

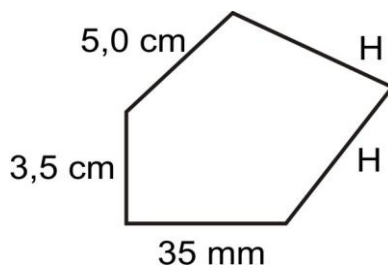
### Questão 15

Um comerciante adiciona 6% no preço à vista de suas mercadorias, para vender a prazo e dividir em quatro parcelas iguais. Sendo o valor da mercadoria à vista R\$ 180,00, o valor de cada parcela será de

- A) R\$ 41,40
- B) R\$ 49,80
- C) R\$ 42,40
- D) R\$ 47,70



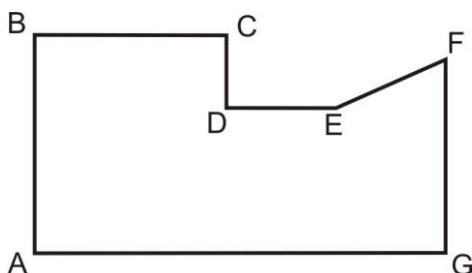
### Questão 16



Sabendo-se que o perímetro da figura acima é 21,00 cm, a medida dos lados **H** será

- A) 4,5 cm
- B) 5,5 cm
- C) 6,5 cm
- D) 6,0 cm

### Questão 17



Assinale a área da figura acima, sabendo-se as medidas dos segmentos  $AB=100\text{mm}$ ,  $BC=4\text{cm}$ ,  $CD=3\text{cm}$ ,  $DE=2\text{cm}$ ,  $FG=8\text{cm}$  e  $AG=110\text{mm}$ .

- A)  $82,4\text{ cm}^2$
- B)  $85,6\text{ cm}^2$
- C)  $95,2\text{ cm}^2$
- D)  $91,5\text{ cm}^2$

### Questão 18

Assinale o preço pago em um terreno retangular de perímetro 84m e que um dos lados é o dobro do outro, sabendo-se que o preço do metro quadrado do terreno é R\$ 20,00.

- A) R\$ 10.800,00
- B) R\$ 11.300,00
- C) R\$ 12.000,00
- D) R\$ 13.200,00

### Questão 19

Ana tinha um valor em sua conta bancária. Ela depositou  $\frac{1}{5}$  do que tinha na segunda-feira e, dois dias depois, depositou mais R\$ 185,00, ficando com um saldo de R\$ 650,00.

Assinale o valor que Lúcia tinha em sua conta bancária.

- A) R\$ 350,25
- B) R\$ 470,50
- C) R\$ 387,50
- D) R\$ 392,25

### Questão 20

Carlos havia marcado uma reunião para as 13h e 15 min. Devido ao trânsito, houve um atraso de 27 minutos.

Nesse caso, a reunião aconteceu as

- A) 14h e 32 min.
- B) 13h e 53 min.
- C) 13h e 22 min.
- D) 13h e 42 min.

## Conhecimentos Gerais

### Questão 21

Meio ambiente diz respeito à ecologia e aos ecologistas e **NÃO** se ocupa

- A) da poluição.
- B) da preservação da fauna e da flora.
- C) da conservação dos pesticidas.
- D) dos recursos naturais.

### Questão 22

“O prognóstico é desolador: o planeta Terra, como que fechado em uma redoma de gases, fica a cada ano mais quente que no anterior” (KLOETZEL, 1998, p. 46).

Comprovam as profundas modificações que afetam o ecossistema:

- I. florestas tropicais transformadas em desertos;
- II. tundras e estepes recobertas por matas;
- III. terras fertilizadas;
- IV. pastagens devastadas.

Completam **corretamente** o enunciado acima

- A) apenas as afirmativas I e II.
- B) apenas as afirmativas III e IV.
- C) apenas as afirmativas I, II e III.
- D) apenas as afirmativas I, II e IV.

### Questão 23

Analise a seguinte situação.

Paulo tentou subornar um funcionário oferecendo dinheiro para ser atendido em primeiro lugar no Posto de Saúde do Município de Patrocínio.

Assinale a alternativa que apresenta uma atitude que **NÃO** condiz com a realizada por Paulo na situação analisada.

- A) Irresponsabilidade
- B) Ética
- C) Injustiça
- D) Corrupção

### Questão 24

Leia o trecho a seguir.

“A ética é uma ciência prática, que trata, portanto, de uma questão prática da \_\_\_\_\_, e não apenas do discurso” (VALLS, \_\_\_\_\_, p. 68).

Assinale a alternativa que completa **corretamente** a lacuna do trecho lido.

- A) ação
- B) teoria
- C) formalidade
- D) estética

### Questão 25

Acidente do trabalho é o que ocorre pelo exercício do trabalho a serviço da empresa ou pelo exercício do trabalho dos segurados previdenciários.

**NÃO** é considerado benefício previdenciário no caso do acidente do trabalho:

- A) o auxílio-doença.
- B) o auxílio-acidente.
- C) a aposentadoria por invalidez.
- D) a estabilidade permanente.

### Questão 26

De acordo com o Decreto n. 3.048/99, art. 338, a empresa é responsável pela adoção e uso das medidas coletivas e individuais de proteção e saúde do trabalhador.

É **INCORRETO** afirmar que é dever da empresa

- A) cumprir as disposições legais e regulamentares sobre segurança e medicina do trabalho.
- B) divulgar as obrigações e proibições que os empregados devam conhecer e cumprir.
- C) elaborar ordens de serviço sobre segurança do trabalho.
- D) prestar informações superficiais sobre os riscos da operação a executar.

### Questão 27

**NÃO** é considerado acidente do trabalho aquele sofrido pelo segurado no local e horário do trabalho, em consequência de

- A) ato de agressão praticado por terceiro.
- B) desabamento ou inundação.
- C) ato de imprudência de terceiro.
- D) ofensa física não intencional por motivo de disputa no trabalho.

### Questão 28

A Lei n. 3.533/2002 da Prefeitura Municipal de Patrocínio institui o programa de

- A) Educação Ambiental.
- B) Saúde da Mulher.
- C) Combate à Violência.
- D) Prevenção às Drogas.

### Questão 29

De acordo com a Lei complementar n. 61/2009 do Município de Patrocínio, ocorrendo empate na classificação dos candidatos à promoção, esta recairá nos servidores abaixo, na seguinte ordem:

- ( ) com maior idade;
- ( ) com mais tempo de serviço público municipal de Patrocínio;
- ( ) de melhor nível de escolaridade.

Assinale a alternativa que apresenta a sequência de números **CORRETA**.

- A) (1) (2) (3)
- B) (2) (3) (1)
- C) (3) (1) (2)
- D) (3) (2) (1)

### Questão 30

De acordo com o art. 45 da Lei Complementar n. 61/2009 do Município de Patrocínio, a avaliação de desempenho visa, fundamentalmente, apurar a eficiência do servidor e a qualidade de seu trabalho, em função dos objetivos específicos de seu cargo, bem como analisar seu potencial.

Assinale a alternativa que **NÃO** se enquadra no processo avaliativo.

- A) Adaptação
- B) Comprometimento
- C) Motivação
- D) Relacionamento pessoal

**ATENÇÃO:  
AGUARDE AUTORIZAÇÃO  
PARA VIRAR O CADERNO DE PROVA.**