

MUNICÍPIO DE PARAÓPEBA MINAS GERAIS

CONCURSO PÚBLICO EDITAL N° 001/2012



Servente Escolar

TARDE

Organizador:



CARGO: SERVENTE ESCOLAR

Texto

Água, cultura e civilização

Misteriosa, santificada, purificadora, essencial. Através dos tempos, a água foi perdendo o caráter divino ressaltado na mitologia e na religiosidade dos povos primitivos e assumindo uma face utilitarista na civilização moderna. Cada vez mais desprezada, desperdiçada e poluída, atingiu um nível perigoso para a saúde pública. Divina ou profana, ninguém nega sua importância para a sobrevivência do homem, seu maior predador. Como se ensiasse um suicídio, a humanidade está matando e extinguindo o elemento responsável pelo fim do mundo da tradição bíblica. E não haverá arca de Noé capaz de salvar aqueles que lutam ou se omitem na defesa do meio ambiente. Escolha a catástrofe: novo dilúvio universal com o derretimento da calota polar; envenenamento da humanidade com as substâncias tóxicas nos mananciais; chuva ácida; ou simplesmente a sede internacional pelo desaparecimento de água potável. *(Rainho, João Marcos. Planeta água. Educação, ano 26, nº 221, set. 1999, p. 48)*

01

De acordo com o texto, a água

- A) está matando o meio ambiente.
- B) atingiu um nível perigoso para a saúde pública.
- C) ganhou caráter divino na civilização moderna.
- D) não é importante para a sobrevivência do homem.
- E) desencadeia problemas pela falta de higiene.

02

De acordo com as ideias do texto, são características da água, EXCETO:

- A) Desperdiçada.
- B) Santificada.
- C) Prática.
- D) Poluída.
- E) Essencial.

03

“Divina ou profana, ninguém nega sua importância para a sobrevivência do homem, seu maior predador.” A palavra destacada apresenta como significado

- A) traidor.
- B) servilhador.
- C) conhecedor.
- D) destruidor.
- E) esmagador.

04

São palavras apresentadas no masculino, EXCETO:

- A) Suicídio.
- B) Fim.
- C) Dilúvio.
- D) Derretimento.
- E) Chuva.

05

Em “Misteriosa, santificada, purificadora, essencial.”, as vírgulas foram utilizadas para

- A) marcar pausa de longa duração.
- B) separar termos.
- C) encerrar o período.
- D) isolar citação textual.
- E) isolar explicação.

06

Assinale a afirmativa escrita INCORRETAMENTE.

- A) A água é vital para a sobrevivência da civilização.
- B) Ele se omite na defesa do meio ambiente.
- C) A água foi desperdiçada.
- D) A água tem caráter divino na religiosidade.
- E) Haverá desaparecimento da água potável.

07

A palavra “catástrofe” é acentuada pelo mesmo motivo que a seguinte palavra

- A) através.
- B) bíblica.
- C) substância.
- D) haverá.
- E) responsável.

08

“Escolha a catástrofe: novo dilúvio universal...” a palavra destacada apresenta como antônimo

- A) antigo.
- B) moderno.
- C) recente.
- D) abundante.
- E) direto.

09

Em “Divina ou profana, ninguém nega sua importância...”, a palavra destacada exprime ideia de

- A) soma. B) escolha. C) finalidade. D) tempo. E) proporção.

10

A palavra “essencial”, citada no texto, significa

- A) inércia; paralisação. D) limitação.
 B) cheio de respeito; submisso. E) convenção.
 C) indispensável; importante.

RACIOCÍNIO LÓGICO

11

O maior prédio de uma cidade possui 4 apartamentos em cada andar. É possível que o número total de apartamentos e andares desse prédio sejam, respectivamente,

- A) 78 e 16. B) 76 e 19. C) 66 e 14. D) 58 e 19. E) 44 e 12.

12

Observe as imagens a seguir.



A sequência das primeiras letras das figuras formam o nome de um(a)

- A) cidade. D) eletrodoméstico.
 B) instrumento musical. E) alimento.
 C) profissão.

13

Considere os 3 grupos de símbolos a seguir.

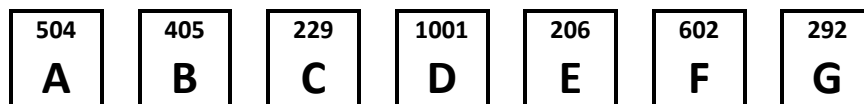
Grupo 01	Grupo 02	Grupo 03

Dos símbolos apresentados, quantos pertencem aos três grupos?

- A) Nenhum. B) Apenas 1. C) 2. D) 3. E) 4

14

As figuras representam cartões com uma letra e um número. Observe.



Dispondo-se esses cartões em ordem crescente dos números, obtém-se uma sequência de letras. Marque a alternativa que representa essa sequência corretamente.

- A) A – C – B – D – F – E – G
 B) C – G – B – A – D – F – E
 C) E – C – B – G – A – D – F
 D) F – A – D – C – G – E – B
 E) E – C – G – B – A – F – D

15

O mais novo de 3 irmãos tem 15 anos e o mais velho tem 22 anos. Se a soma das idades desses três irmãos é igual a 54 anos, quantos anos tem o irmão do meio?


- A) 17 B) 16 C) 19 D) 18 E) 20

16
Camilo vai de carro até seu local de trabalho diariamente e gasta meia hora no trajeto. No próximo ano, Camilo pretende se mudar para uma casa mais próxima do trabalho e o trajeto será reduzido pela metade. Quantos minutos ele levará de sua nova casa para chegar ao trabalho?
A) 10 minutos. B) 15 minutos. C) 18 minutos. D) 20 minutos. E) 25 minutos.

17
Qual das estrelas a seguir é diferente das demais?

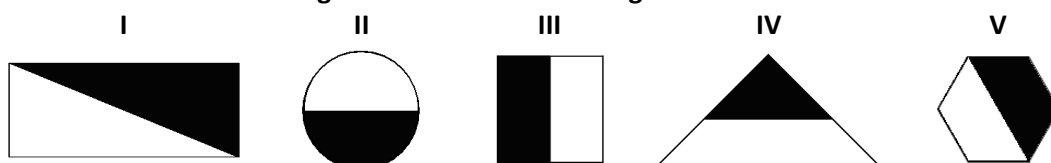


18
Qual dos itens NÃO pertence ao grupo?



19
Considere a sequência numérica.
“Trezentos e sessenta e cinco; cinquenta e três; oitocentos e sete; dez mil e quarenta e dois; mil e setenta e um.”
Ao escrever esses números utilizando algarismos e os dispo em ordem crescente, obtém-se
A) 53, 375, 807, 1.071, 10.042 D) 53, 87, 365, 1.071, 10.042
B) 53, 365, 807, 10.042, 10.071 E) 63, 365, 807, 1.061, 10.042
C) 53, 365, 807, 1.071, 10.042

20
As figuras foram divididas em duas regiões: em branco e em negro. Observe.



Qual das figuras apresenta região em negro com formato diferente da região em branco?
A) I B) II C) III D) IV E) V

CONHECIMENTOS GERAIS

21
Em sessão do Congresso Nacional (que reuniu deputados e senadores) foram oficializados em abril de 2012, os nomes dos parlamentares indicados pelos partidos para integrar a CPI mista, que objetiva apurar o envolvimento de políticos e empresários com o bicheiro Carlos Augusto Almeida Ramos, preso em fevereiro deste ano, pela Polícia Federal, vulgarmente conhecido por
A) Bid. D) Maninho.
B) Carlinhos Cachoeira. E) Turcão.
C) Marquinhos Maracanã.

22

“O líder terrorista Osama bin Laden, que liderou os ataques terroristas em 11 de setembro de 2001 à(aos) _____, foi morto no Paquistão por forças armadas deste mesmo país. Assinale a alternativa que completa corretamente a afirmativa anterior.

- A) China
B) Estados Unidos da América
C) França
D) Inglaterra
E) Rússia

23

Como é denominado o grupo formado exclusivamente pelo Brasil, Rússia, Índia, China e África do Sul?

- A) Brics. B) G-8. C) G-20. D) Mercosul. E) Unasul.

24

“Em 2011, morreu _____, vice-presidente da República do Brasil, durante os dois mandatos de Luiz Inácio Lula da Silva, tendo sido grande representante da área empresarial brasileira, oriundo de Minas Gerais.” Assinale a alternativa que completa corretamente a afirmativa anterior.

- A) Antônio Carlos Magalhães
B) Aureliano Chaves
C) Itamar Franco
D) José Alencar
E) Moacir Scliar

25

O estado em destaque no mapa possui a maior extensão territorial do Brasil com 1.570.745,7 km², sendo denominado

- A) Amazonas.
B) Minas Gerais.
C) Pará.
D) São Paulo.
E) Tocantins.



(www.google.com.br)

26

A imagem a seguir foi divulgada no Brasil, durante o *Reveillon* de 2012, no Rio de Janeiro, e será o símbolo de que grande evento internacional com sede nesta cidade?

- A) Copa das Confederações 2012.
B) Copa do Mundo de 2014.
C) Fórum Econômico Mundial de 2013.
D) Olimpíadas de 2016.
E) Rio+20.



27

“O presidente da Autoridade Nacional Palestina, *Mahmoud Abbas*, foi à _____ pleitear a criação de um Estado próprio e reconhecidamente soberano.” Assinale a alternativa que completa corretamente a afirmativa anterior.

- A) Liga das Nações
B) Organização das Nações Unidas
C) Organização do Tratado do Atlântico Norte
D) Reunião do G-20
E) União Europeia

28

Às pessoas com mais de 15 anos que não realizaram seus estudos em tempo adequado, para concluir o Ensino Fundamental, o governo federal oferece como opção para obtenção deste certificado, a avaliação

- A) Enade. B) Enceja. C) Enem. D) Capes. E) Prova Brasil.

29

Em que região se localiza o ponto geográfico extremo do Brasil a oeste?

- A) Norte. B) Nordeste. C) Centro-Oeste. D) Sudeste. E) Sul.

30

“Com crescimento acelerado, o(a) _____ já é a segunda maior economia por nação do planeta, ficando atrás apenas dos EUA.” Assinale a alternativa que completa corretamente a afirmativa anterior.

- A) Alemanha B) Brasil C) China D) Japão E) Índia

INSTRUÇÕES

1. Material a ser utilizado: caneta esferográfica azul ou preta. Os objetos restantes devem ser colocados em local indicado pelo fiscal da sala, inclusive aparelho celular desligado e devidamente identificado com etiqueta.
2. Não é permitido consulta, utilização de livros, códigos, dicionários, apontamentos, apostilas, calculadoras e etc. Não é permitido ao candidato ingressar na sala de provas sem a respectiva identificação e o devido recolhimento de telefone celular, bip e outros aparelhos eletrônicos.
3. Durante a prova, o candidato não deve levantar-se, comunicar-se com outros candidatos e nem fumar.
4. A duração da prova é de 03 (três) horas, já incluindo o tempo destinado à entrega do Caderno de Provas e à identificação – que será feita no decorrer da prova – e ao preenchimento do Cartão de Respostas (Gabarito).
5. Somente em caso de urgência pedir ao fiscal para ir ao sanitário, devendo no percurso permanecer absolutamente calado, podendo antes e depois da entrada sofrer revista através de detector de metais. Ao sair da sala no término da prova, o candidato não poderá utilizar o sanitário. Caso ocorra uma emergência, o fiscal deverá ser comunicado.
6. O Caderno de Provas consta de 40 (quarenta) questões de múltipla escolha para os cargos de nível superior, médio magistério ou normal superior, médio técnico, médio e fundamental completo, e de 30 (trinta) questões para os cargos de nível fundamental incompleto. Leia-o atentamente.
7. **As questões das provas objetivas são do tipo múltipla escolha, com 05 (cinco) opções (A a E) e uma única resposta correta.**
8. Ao receber o material de realização das provas, o candidato deverá conferir atentamente se o Caderno de Provas corresponde ao cargo a que está concorrendo, bem como se os dados constantes no Cartão de Respostas (Gabarito) que lhe foi fornecido, estão corretos. Caso os dados estejam incorretos, ou o material esteja incompleto ou tenha qualquer imperfeição, o candidato deverá informar tal ocorrência ao fiscal.
9. Os fiscais não estão autorizados a emitir opinião e prestar esclarecimentos sobre o conteúdo das provas. Cabe única e exclusivamente ao candidato interpretar e decidir.
10. O candidato poderá retirar-se do local de provas somente a partir dos 90 (noventa) minutos após o início de sua realização, contudo não poderá levar consigo o Caderno de Provas, somente sendo permitida essa conduta apenas no decurso dos últimos 30 (trinta) minutos anteriores ao horário previsto para o seu término.
11. Os 3 (três) últimos candidatos de cada sala somente poderão sair juntos. Caso o candidato insista em sair do local de aplicação da prova, deverá assinar um termo desistindo do Concurso Público e, caso se negue, deverá ser lavrado o Termo de Ocorrência, testemunhado pelos 2 (dois) outros candidatos, pelo fiscal da sala e pelo coordenador da unidade.

RESULTADOS E RECURSOS

- Os gabaritos oficiais preliminares das provas objetivas serão divulgados na Internet, no site www.idecan.org.br, às 16h00min do dia subsequente ao da realização da prova escrita.

- Os recursos deverão ser apresentados, conforme determinado no **item 8 do Edital de Concurso Público nº. 001/2012**, sendo observados os seguintes aspectos:

a) O candidato que desejar interpor recursos contra os gabaritos oficiais preliminares das provas objetivas disporá de **02 (dois) dias úteis**, a contar do dia subsequente ao da publicação, em requerimento próprio disponibilizado no link correlato ao Concurso Público no site www.idecan.org.br.

b) A interposição de recursos poderá ser feita **somente via Internet, através do Sistema Eletrônico de Interposição de Recursos**, com acesso pelo candidato com o fornecimento de dados referentes à sua inscrição, apenas no prazo recursal, ao IDECAN, conforme disposições contidas no site www.idecan.org.br, no link correspondente ao Concurso Público.