



CONCURSO PÚBLICO MUNICÍPIO DE CARANGOLA ESTADO DE MINAS GERAIS



EDITAL Nº. 001/2011

INSTRUÇÕES

- 01 - Material a ser utilizado: caneta esferográfica azul ou preta. Os objetos restantes devem ser colocados em local indicado pelo fiscal da sala, inclusive aparelho celular desligado e devidamente identificado com etiqueta.
- 02 - Não é permitido consulta, utilização de livros, códigos, dicionários, apontamentos, apostilas, calculadoras e etc. Não é permitido ao candidato ingressar na sala de provas sem a respectiva identificação e o devido recolhimento de telefone celular, bip e outros aparelhos eletrônicos.
- 03 - Durante a prova, o candidato não deve levantar-se, comunicar-se com outros candidatos e nem fumar.
- 04 - A duração da prova é de 03 (três) horas, já incluindo o tempo destinado à entrega do Caderno de Provas e à identificação – que será feita no decorrer da prova – e ao preenchimento do Cartão de Respostas (Gabarito).
- 05 - Somente em caso de urgência pedir ao fiscal para ir ao sanitário, devendo no percurso permanecer absolutamente calado, podendo antes e depois da entrada sofrer revista através de detector de metais. Ao sair da sala no término da prova, o candidato não poderá utilizar o sanitário. Caso ocorra uma emergência, o fiscal deverá ser comunicado.
- 06 - O Caderno de Provas consta de 40 (quarenta) questões objetivas de múltipla escolha. Leia-o atentamente.
- 07 - As questões das provas objetivas são do tipo múltipla escolha, com 05 (cinco) opções (A a E) e uma única resposta correta.**
- 08 - Ao receber o material de realização das provas, o candidato deverá conferir atentamente se o Caderno de Provas corresponde ao cargo a que está concorrendo, observando o nome do cargo na parte superior da próxima página, bem como se os dados constantes no Cartão de Respostas (Gabarito) que lhe foi fornecido, estão corretos. Caso os dados estejam incorretos, ou o material esteja incompleto ou tenha qualquer imperfeição, o candidato deverá informar tal ocorrência ao fiscal.
- 09 - Os fiscais não estão autorizados a emitir opinião e prestar esclarecimentos sobre o conteúdo das provas. Cabe única e exclusivamente ao candidato interpretar e decidir.
- 10 - O candidato poderá retirar-se do local de realização das provas levando o Caderno de Provas, no decurso dos últimos 30 (trinta) minutos anteriores ao horário previsto para o seu término. O candidato poderá retirar-se do local de provas somente a partir dos 90 (noventa) minutos, após o início de sua realização, contudo não poderá levar consigo o Caderno de Provas.
- 11 - Os 3 (três) últimos candidatos de cada sala somente poderão sair juntos. Caso o candidato insista em sair do local de aplicação da prova, deverá assinar um termo desistindo do Concurso Público e, caso se negue, deverá ser lavrado o Termo de Ocorrência, testemunhado pelos 2 (dois) outros candidatos, pelo fiscal da sala e pelo coordenador da unidade escolar.

RESULTADOS E RECURSOS

- Os gabaritos oficiais preliminares das provas objetivas serão divulgados na Internet, no site www.idecan.org.br, a partir das 16h00min do dia útil subsequente ao da realização da prova escrita (segunda-feira).
- Os recursos deverão ser apresentados, conforme determinado no item 8 do Edital nº. 001/2011, sendo observados os seguintes aspectos:
 - a) O candidato que desejar interpor recursos contra os gabaritos oficiais preliminares das provas objetivas disporá de **02 (dois) dias úteis**, a contar do segundo dia subsequente ao de sua divulgação (quarta-feira), em requerimento próprio disponibilizado no link correlato ao Concurso Público no site www.idecan.org.br.
 - b) A interposição de recursos poderá ser feita **somente via internet**, através do **Sistema Eletrônico de Interposição de Recursos**, com acesso pelo candidato com o fornecimento de dados referentes à sua inscrição, apenas no prazo recursal, ao IDECAN, conforme disposições contidas no site www.idecan.org.br, no link correspondente ao Concurso Público.

TEXTO:

Só no dicionário

Tem sentido, hoje, dizer de alguém que tem excelente caráter? Que é sincera? Que nela dá para confiar?

Quais as qualidades mais valorizadas nos dias de hoje?

Bem, como tudo mudou, vou falar de algumas, as que dão mais ibope, e não pela ordem.

É preciso ser ligado, antenado e, sobretudo bem informado; é aquele que presta atenção a tudo, a quem nada escapa.

Com esses predicados, é possível abrir as portas para uma carreira brilhante e um futuro promissor, e se tiver também alguma inteligência, o sucesso é garantido. Afinal, é por meio das boas informações que são feitos os grandes negócios e as tramas políticas acontecem.

Mas é preciso também ser esperto para usar essas informações na hora certa, com a pessoa certa.

Esperieza, essa sim, uma enorme qualidade. Quem tiver esse dom pode se tornar milionário e poderoso, o objetivo supremo de toda a humanidade de quase toda, digamos.

Cultura já esteve mais em alta, mas tem sua vez em algumas rodas, e conhecer profundamente um assunto – mesmo só um – costuma deixar as pessoas de queixo caído.

Mas não se esqueça: seja ele qual for, vá fundo e mostre-se um *expert*. Que seja algo de original: a civilização egípcia, por exemplo. Como poucas pessoas viram uma múmia de perto, esse é um belíssimo tema para ser jogado num jantar de seis pessoas – elas vão babar de admiração, e você vai brilhar sozinho.

Os mistérios do fundo do mar e a vida sexual dos cangurus também podem agradar, mas fuja da astrologia e da psicanálise, que já deram tudo o que tinham para dar. Astronomia, quem sabe? Vinhos, melhor beber do que falar deles, e de viagens, nem pensar.

Outra qualidade muito valorizada é a dos que leem os jornais – bem. Todos os do Rio e de São Paulo, claro, e talvez de mais uns quatro Estados. Mas tem que ser falado a sério, para poderem dizer, como quem não quer nada, que concordam – ou discordam, isso não tem a menor importância – com a divisão dos royalties do pré-sal.

Saber esgrimir com as palavras também faz grande sucesso, mas é perigoso: sempre pode haver alguém mais talentoso e ferrar você de vez.

Mas quando quiser falar mal de alguém, seja irônico – é mais cruel, não compromete, não dá processo – e nunca diga nada que possa ser repetido: fale bem, mas usando tons de voz e sorrisinhos que vão arrasar, de vez, aqueles de quem você não gosta.

Mas um dia você se lembra de que há muito, muito tempo, existiam qualidades bem diferentes dessas, e que hoje não fazem o menor sucesso. Tem sentido, hoje em dia, dizer de uma pessoa que ela tem um excelente caráter? Que é sincera? Que nela você pode confiar? Se você gosta de verdade dela, é melhor ficar calado, pois pega até mal dizer essas coisas de um amigo.

E existem ainda outras de que não se ouve falar há tanto tempo, mas tanto, que já virou até coisa de época. Passa pela cabeça dizer que uma pessoa é sensível, terna, delicada, bem educada, que tem um grande coração? Pega até mal; e passa pela sua cabeça que uma pessoa é bondosa?

Procure lembrar há quantos anos você ouve falar de um gesto de bondade, não recebe um olhar de bondade, não ouve nem pronuncia a palavra bondade – se é que isso ainda existe.

Se não souber do que se trata, procure no dicionário, e talvez encontre; talvez.

(Danuza Leão, Folha de São Paulo, 09/10/2011)

01) O objetivo do texto é

- A) ridicularizar a sociedade contemporânea.
- B) criticar as pessoas bem sucedidas.
- C) mostrar os assuntos interessantes nas rodas.
- D) incentivar o uso do dicionário.
- E) criticar a inversão de valores na sociedade atual.

02) NÃO pode ser comprovado pelo texto que

- A) ler jornal é qualidade valorizada nos dias de hoje.
- B) ser irônico, ao falar mal de alguém, não compromete quem fala.
- C) são valorizadas, nos dias de hoje, as qualidades: educação, bondade, ternura.
- D) mostrar cultura, em certas rodas, pode impressionar as pessoas.
- E) ser bem informado é necessidade nos dias de hoje.

03) As palavras “psicanálise”, “também”, “dicionário” e “até” levam acento gráfico, respectivamente, obedecendo às mesmas regras que as palavras

- A) irônico / alguém / múmia / você
- B) alguém / irônico / você / sério
- C) época / abdômen / caráter / há
- D) caráter / possível / negócio / só
- E) importância / sério / egípcia / pré



04) Assinale a alternativa em que há ERRO de grafia.

- A) O sucesso dos espertos é garantido na sociedade atual.
- B) Um gesto respeitoso é não falar mau das pessoas, por que isso pode dar processo.
- C) As pessoas são valorizadas por saberem ser espertas no momento certo.
- D) Os atos de bondade, há muito tempo, foram esquecidos.
- E) A autora mostra-se preocupada com os valores abandonados na sociedade atual.

05) Assinale a alternativa em que há ERRO de concordância verbal.

- A) É por meio das informações que os homens conseguem realizar bons negócios.
- B) As tramas políticas sempre aconteceram devido à esperteza das pessoas que estão no poder, colocadas pelas menos espertas.
- C) Poucas pessoas da nossa convivência já viram uma múmia.
- D) Podem haver pessoas talentosas no meio em que vivemos.
- E) Aqueles que prestam atenção a tudo, a quem nada escapa, têm possibilidades de se darem bem.

06) Quanto à regência assinale a opção INCORRETA.

- A) Um dia a pessoa se lembra que as qualidades eram diferentes.
- B) As qualidades a que a autora faz referência já são raras no mundo atual.
- C) As pessoas não sabem do que se trata.
- D) As pessoas em quem podemos confiar são raras na sociedade contemporânea.
- E) O lugar aonde as pessoas vão sempre tem muitas atrações.

07) Considerando o texto, assinale a alternativa em que a palavra dentro dos parênteses, ao substituir a grifada, altera-lhe o sentido original.

- A) “É preciso ser ligado, atenado e, sobretudo bem informado.” (3º§) (atento)
- B) “Com esses predicados, é possível...” (4º§) (atributos)
- C) “... costuma deixar as pessoas de queixo caído.” (7º§) (espantadas)
- D) “Saber esgrimar com as palavras...” (11º§) (abusar)
- E) “Mas quando quiser falar mal de alguém, seja irônico...” (12º§) (sarcástico)

08) Analise as afirmativas.

1. _____ muito tempo não se ouve falar de bondade; daqui _____ alguns anos será preciso buscar o significado de tal palavra no dicionário.
2. A leitura leva informação _____ pessoas.
3. Ficamos _____ espera de uma boa notícia que nos leve _____ ter esperanças de dias melhores, o que _____ muito tempo não acontece.

Assinale a alternativa que completa correta e sequencialmente as afirmações anteriores.

- A) Há / à / às / à / à / a
- B) Há / a / às / à / a / há
- C) Há / à / as / a / a / há
- D) À / à / às / à / a / há
- E) A / a / às / à / a / há

09) Assinale a alternativa cuja palavra grifada NÃO se refere a que está dentro dos parênteses.

- A) “... vou falar de algumas, as que dão mais ibope...” (2º§) (qualidades valorizadas nos dias de hoje).
- B) “Quem tiver esse dom pode se tornar milionário...” (6º§) (esperteza).
- C) “Mas não se esqueça: seja ele qual for, vá fundo e mostre-se um *expert*.” (8º§) (assunto).
- D) “... para ser jogado num jantar de seis pessoas – elas vão babar.” (8º§) (seis pessoas).
- E) “... mas usando tons de voz e sorrisinhos que vão arrasar, de vez...” (12º§) (sorrisinhos).

10) Assinale a alternativa em que a reescrita do texto NÃO mantém o sentido original.

- A) “Quais as qualidades mais valorizadas nos dias de hoje?” / Nos dias de hoje, quais as qualidades mais valorizadas?
- B) “Mas é preciso também ser esperto para usar essas informações na hora certa, com a pessoa certa.” / Mas, em certa hora, é preciso também usar essas informações, ser esperto para com certa pessoa.
- C) “Com esses predicados, é possível abrir as portas para uma carreira brilhante e um futuro promissor.” / É possível, com esses predicados, abrir as portas para uma carreira brilhante e um futuro promissor.
- D) “Os mistérios do fundo do mar e a vida sexual dos cangurus também podem agradar.” / Também a vida sexual dos cangurus e os mistérios do fundo do mar podem agradar.
- E) “Tem sentido, hoje em dia, dizer de uma pessoa que ela tem excelente caráter?” / Hoje, em dia, tem sentido dizer de uma pessoa que ela tem excelente caráter?

- 11) A função f , do 1º grau, é definida por $f(x) = 3x + k$. O valor de k para que o gráfico de f corte o eixo das ordenadas no ponto de ordenada 5 é
 A) 1 B) 2 C) 3 D) 4 E) 5
- 12) A função do 2º grau $y = ax^2 - 4x - 16$ apresenta uma de suas raízes igual a 4. A outra raiz é
 A) 1 B) -1 C) 2 D) -2 E) 3
- 13) A menor solução inteira da inequação-quociente $\frac{-6+x}{x+3} < 0$ é
 A) -4 B) -2 C) 5 D) -3 E) 0
- 14) Seja a sequência $\left(\frac{9}{4}, \frac{3}{2}, x, \frac{2}{3}, y\right)$. A soma dos valores de x e y para que a mesma seja uma progressão geométrica é
 A) $\frac{7}{6}$ B) $\frac{13}{9}$ C) $\frac{9}{8}$ D) $\frac{5}{9}$ E) $\frac{11}{8}$
- 15) Sejam as funções $f(x) = 2x + 3$ e $g(x) = 3x + 2$. O produto dos valores numéricos das inversas dessas funções para x igual a 11 é
 A) 12 B) 10 C) 8 D) 9 E) 15
- 16) Sejam $\log_3 m - \log_3 9 = 2$ e $\log_2 n + \log_2 32 = 9$. A diferença $m - n$ é
 A) 65 B) 43 C) 11 D) 72 E) 48
- 17) Sejam os conjuntos $A \cup B = \{a, b, x, y, z, w\}$
 $A \cap B = \{y, z\}$
 $A - B = \{a, b, x\}$
 O conjunto B é
 A) \emptyset B) $\{y, z\}$ C) $\{a, b, x, y\}$ D) $\{y, z, w\}$ E) $\{x, y, z\}$
- 18) O gráfico de uma função do 1º grau $f(x)$ intercepta o eixo x no ponto de abscissa - 2 e passa também pelo ponto (0, 2). Essa função é
 A) $f(x) = x - 2$ B) $f(x) = -x - 2$ C) $f(x) = -x + 2$ D) $f(x) = x + 2$ E) $f(x) = -2x + 1$
- 19) Os conjuntos A , B e $A \cup B$ tem respectivamente, 8,7 e 13 elementos. O número de elemento de $A \cap B$ é
 A) 2 B) 3 C) 4 D) 6 E) 8
- 20) Seja $f(g(x)) = -4x - 5$ e $f(x)$ uma função do 1º grau tal que $f(0) = 3$ e $f(1) = -1$. Assim, $g(2)$ é
 A) 1 B) 4 C) -6 D) 3 E) -2

CONHECIMENTOS ESPECÍFICOS

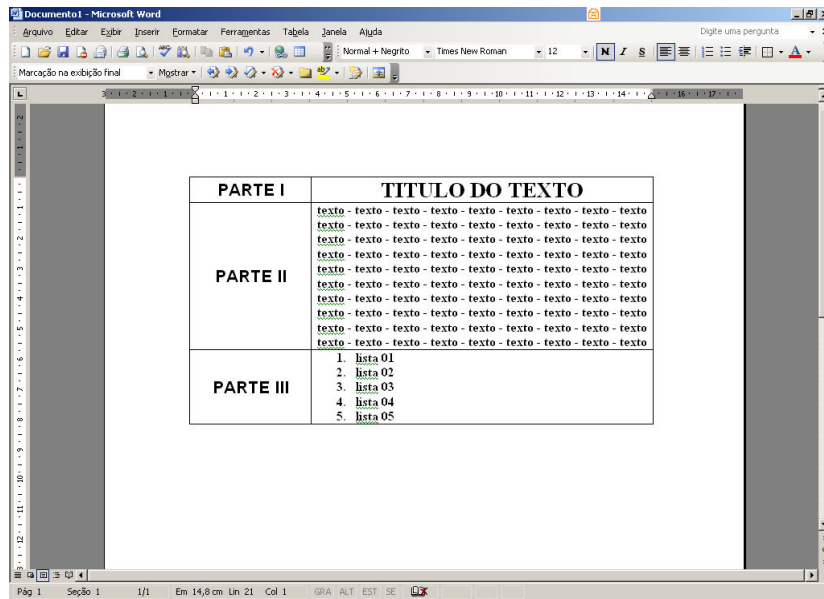
- 21) Relacione as colunas a seguir.
- () Escrito com o objetivo de esclarecer, interpretar e explicar um determinado tema.
 1. Parecer. () É uma opinião.
 () Trata-se de um relato.
 2. Laudo. () Realizado por um técnico ou especialista designado para avaliar determinada situação dentro de seus conhecimentos.
 () Deve ser acompanhado de um documento assinado com data, nome e registro do profissional.
- A sequência está correta em
 A) 2, 1, 1, 2, 2 B) 1, 2, 1, 2, 1 C) 1, 2, 2, 1, 1 D) 1, 2, 2, 1, 2 E) 2, 1, 2, 1, 1
- 22) Sobre delegação e descentralização, marque **V** para as afirmativas verdadeiras e **F** para as falsas.
 () A descentralização gera muitos problemas aos cargos hierárquicos.
 () A descentralização permite aos cargos superiores mais tempo para pensarem estrategicamente.
 () A delegação é a transferência de poderes para um subordinado, gerando maiores responsabilidades.
- A sequência está correta em
 A) V, V, V B) V, V, F C) F, F, F D) F, F, V E) F, V, V

CONCURSO PÚBLICO – MUNICÍPIO DE CARANGOLA/MG

23) O supervisor de dengue, na atribuição de suas funções deve, EXCETO:

- A) Observar. B) Ouvir. C) Criticar. D) Estimular. E) Elogiar.

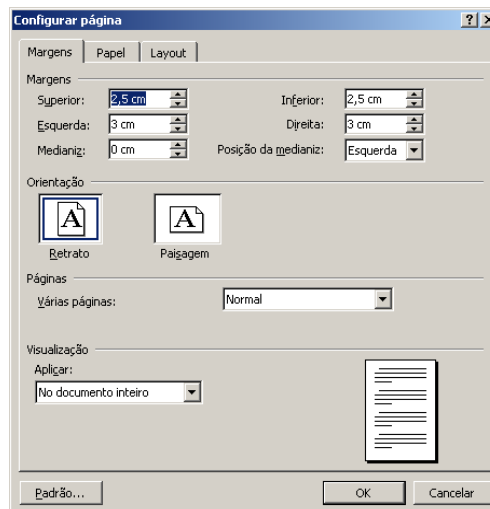
24) Observe o documento produzido utilizando o aplicativo Microsoft Office Word 2003 (configuração padrão).



Em relação à formatação utilizada em cada parte do documento, marque o correto.

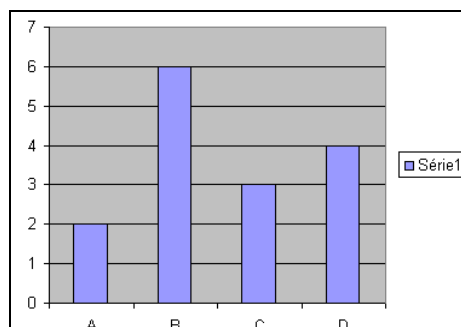
- A) Parte I: Alinhado à esquerda / Parte II: Alinhado à direita / Parte III: Centralizado
B) Parte I: Centralizado / Parte II: Centralizado / Parte III: Marcadores e numeração da categoria com marcadores
C) Parte I: Centralizado / Parte II: Justificado / Parte III: Marcadores e numeração da categoria numerada
D) Parte I: Alinhado à direita / Parte II: Centralizado / Parte III: Alinhado à direita
E) Parte I: Justificado / Parte II: Justificado / Parte III: Alinhado à esquerda
- 25) Considere a imagem que ilustra a opção configurar página do aplicativo Microsoft Office Word 2003 (configuração padrão). Este recurso está presente no menu

- A) Arquivo.
B) Editar.
C) Exibir.
D) Inserir.
E) Formatar.



26) No aplicativo Microsoft Office Excel 2003 (configuração padrão), o tipo de gráfico apresentado na figura a seguir é

- A) colunas.
B) barras.
C) linha.
D) pizza.
E) barra vertical.



CONCURSO PÚBLICO – MUNICÍPIO DE CARANGOLA/MG

27) Sobre o aplicativo Microsoft Office Word 2003 (configuração padrão), analise.

- I. A opção Abrir está localizada no menu Arquivo.
- II. A opção Selecionar Tudo está localizada no menu Inserir.
- III. As opções Recortar, Copiar e Colar estão localizadas no menu Formatar.
- IV. A opção Visualizar Impressão está presente no menu Arquivo.

Estão **INCORRETAS** apenas as afirmativas

- A) I, II B) I, III C) II, III D) II, IV E) III, IV

28) No aplicativo Microsoft Office Excel 2003 (configuração padrão), para imprimir apenas a área selecionada na imagem a seguir, deve-se clicar no menu

- A) Editar – Selecionar tudo.
- B) Arquivo – Área de Impressão – Definir área de impressão.
- C) Arquivo – Área de Impressão – Limpar área de impressão.
- D) Exibir – Limitar área de impressão.
- E) Formatar – Planilha – Selecionar área de impressão.

	A	B	C	D
1	ABC	ABC	ABC	ABC
2	ABC	ABC	ABC	ABC
3	ABC	IMP	IMP	ABC
4	ABC	IMP	IMP	ABC
5	ABC	IMP	IMP	ABC
6	ABC	ABC	ABC	ABC
7	ABC	ABC	ABC	ABC

29) Em relação à Lei Orgânica Municipal de Carangola, é vedada a acumulação remunerada de cargos públicos, exceto quando houver compatibilidade de horários

- I. de dois cargos de professores.
- II. a de um cargo de professor com outro de técnico ou científico.
- III. a de dois cargos privativos de médico.

Está(ão) correta(s) apenas a(s) alternativa(s)

- A) II B) I, II, III C) II, III D) I E) I, II

30) De acordo com o que dispõe a Lei Orgânica do município de Carangola, “o prazo de validade do concurso público será de até _____, prorrogável uma vez, por igual período”. Assinale a alternativa que completa corretamente a afirmação anterior.

- A) seis meses B) dois anos C) um ano D) três anos E) trinta dias

CONHECIMENTOS GERAIS

*Leia o texto e responda às questões 31, 32 e 33.

“(…) o Brasil por meio de instituições como o Ministério Público e a Polícia Federal começou a reagir de forma a tentar desbaratar essas quadrilhas. O primeiro passo para isso foi um amplo levantamento sobre a forma de atuar desses traficantes e as rotas que eles estabelecem. Hoje, sabe-se que as ações dos criminosos estão concentradas em pelo menos 520 municípios brasileiros. Nessas cidades, pessoas são aliciadas e ficam em hotéis, pequenos abrigos ou pontos de prostituição, como ilustra o caso de Brasília, até receber seus passaportes, não raro, falsos, e ser mandadas para sete Estados que servem de escala para o Exterior. São eles os seguintes estados: Amazonas, Bahia, Goiás, Minas Gerais, Rio de Janeiro, Roraima e São Paulo. Segundo o MP, além de Portugal, os destinos mais frequentes são Espanha, Itália e Venezuela. No total, o número de pessoas levadas para o exterior por traficantes já soma 70 mil.”

(Revista ISTOÉ, edição n.º 2189, de 26/10/2011, p. 59)

31) O tema central da reportagem é especificamente o tráfico de

- A) crianças. B) drogas. C) escravos. D) influências. E) tecnologias.

32) Considerando o número de municípios envolvidos e os estados citados como pontos de partida dos brasileiros, é possível afirmar que

- A) as ações se concentram em cerca de 10% dos municípios brasileiros.
- B) é de Brasília que saem do país grande parte das pessoas envolvidas nesta ação.
- C) há mais escalas na região Sul e Sudeste para o envio de pessoas ao exterior.
- D) os municípios envolvidos se concentram na região Norte e Nordeste.
- E) os traficantes possuem locais de escolas em todas as regiões do país.

33) Os destinos mais frequentes encontram-se na

- A) África. D) América do Sul.
- B) Ásia. E) Europa.
- C) América do Norte.



CONCURSO PÚBLICO – MUNICÍPIO DE CARANGOLA/MG

- 34) “Com tamanho próximo ao estado do Sergipe, a ilha _____ é a maior ilha exclusivamente fluvial do planeta e está localizada na região _____ do Brasil.” Assinale a alternativa que completa correta e sequencialmente a afirmativa anterior.
- A) de Anavilhanas / Centro-Oeste
B) de Fernando de Noronha / Nordeste
C) do Bananal / Norte
D) do Marajó / Norte
E) dos Patos / Sul
- 35) O Produto Interno Bruto – PIB é a soma de tudo o que foi produzido em um espaço pré-definido em determinado tempo, sendo considerado, em geral, a medida da produção de um país durante o período de um ano. Analise as afirmativas sobre o PIB brasileiro.
- I. Mesmo após a crise econômica, alcançou um crescimento significativo de 2009 para 2010.
II. O PIB *per capita* do Brasil vive um processo de desaceleração e retração nos últimos anos.
III. A alta no PIB brasileiro de 2010 resultou num dos melhores desempenhos entre as dez maiores economias mundiais.
IV. Calculado pela moeda interna, o PIB brasileiro é convertido para dólares, para que se possa comparar com outras economias internacionais.
- Estão corretas apenas as afirmativas
- A) I, II
B) III, IV
C) I, II, IV
D) I, III, IV
E) II, III, IV
- 36) São afirmações verdadeiras sobre a situação social do Brasil, segundo dados levantados pelo Censo 2010, EXCETO:
- A) A alfabetização em pessoas de 15 anos ou mais alcança seus piores resultados em alguns estados da região Nordeste.
B) A grande maioria de domicílios brasileiros é habitada por inquilinos que alugam o imóvel, pagando taxa mensal pela moradia.
C) A maioria dos domicílios brasileiros possui três moradores e quase 100% dispõe de banheiro ou sanitário.
D) Distrito Federal e Rio de Janeiro são as unidades federativas que concentram o maior número de habitantes por km².
E) Os estados da região Sul concentram a maior porcentagem de população branca e a menor, de negros do Brasil.
- 37) “Liderado pelo prefeito de São Paulo, Gilberto Kassab, o _____ surge com grande força política brasileira, conquistando uma das cinco maiores bancadas da Câmara dos Deputados, além da filiação de aproximadamente 700 prefeitos de todo o país.” Assinale a alternativa que completa corretamente a afirmativa anterior.
- A) PCB
B) PCC
C) PDB
D) PDS
E) PSD
- *Leia o texto e responda às questões 38, 39 e 40 sobre a última guerra dos EUA contra o Iraque.
- “O presidente dos EUA, Barack Obama, anunciou nesta sexta-feira (21) a retirada total de tropas norte-americanas do Iraque até o fim do ano. Segundo Obama, a volta das tropas vai ocorrer ‘como prometido’ por ele. ‘Depois de quase nove anos, a guerra dos EUA no Iraque vai terminar’, disse em declaração na Casa Branca.”
(G1-Globo.com – dia 21/10/2011)
- 38) Qual foi o motivo anunciado pelos EUA para dar início a esta guerra contra o Iraque?
- A) Disputa territorial pela Caxemira, região de grande produção petrolífera.
B) Invasão do Iraque ao Irã, na época aliado dos EUA.
C) Produção de armas de destruição em massa no Iraque.
D) Proteção de Bin Laden, líder da Al Qaeda, em território iraquiano.
E) Cancelamento da venda de petróleo iraquiano aos EUA.
- 39) Quando Barack Obama “prometeu”, como afirma na reportagem, o fim da guerra contra o Iraque?
- A) Em seu primeiro discurso como presidente na Organização das Nações Unidas.
B) Em sua campanha política pela presidência dos Estados Unidos.
C) Em visita ao Iraque quando ainda era candidato à presidência dos EUA.
D) Nas comemorações dos 10 anos dos atentados de 11 de setembro, nos EUA.
E) Na primeira reunião do G-20 que participou como presidente dos EUA.
- 40) “Quando a guerra teve início, o Iraque era governado por _____ e os Estados Unidos da América tinham como presidente _____.” Assinale a alternativa que completa correta e sequencialmente a afirmativa anterior.
- A) Mahmoud Ahmadinejad / Barack Obama
B) Mahmoud Ahmadinejad / George W. Bush
C) Mustafa Abdel Jalil / Barack Obama
D) Saddam Hussein / Bill Clinton
E) Saddam Hussein / George W. Bush



