

PREFEITURA MUNICIPAL DE GOIANÉSIA DO PARÁ

CONCURSO PÚBLICO 01/2012

PROVA PARA A CATEGORIA FUNCIONAL DE AUXILIAR EDUCACIONAL: PORTEIRO ESCOLAR

FRASE PARA EXAME GRAFOTÉCNICO

“O sucesso não vem; ele tem que ser conquistado”

(transcreva a frase acima nesta linha)

INSTRUÇÕES AO CANDIDATO

1. Coloque seu aparelho celular embaixo da carteira e o conserve desligado durante todo o transcurso da prova. Em cima da carteira poderão ficar somente a caneta, o caderno de prova, o cartão resposta e o cartão de identificação.
2. Certifique-se de que o caderno de questões que você recebeu é relativo ao cargo a que concorre e contém 06 páginas, sequencialmente numeradas.
3. Verifique se no seu Cartão-Resposta estão impressos o seu nome completo e o cargo para o qual você está concorrendo.
4. A entrega da prova só poderá ocorrer transcorrido o mínimo de 60 minutos do seu início.
5. Os três últimos candidatos, em cada sala, só poderão se retirar juntos.
6. Confira se este Caderno de Questões contém 30 (trinta) questões com o conteúdo distribuído conforme o quadro abaixo:

LÍNGUA PORTUGUESA

01 a 20

MATEMÁTICA

21 a 30

7. Assine o seu nome no Cartão-Resposta e nesta capa de Prova.
8. Para marcar sua resposta no Cartão, preencha totalmente o círculo que compreende a única alternativa correta de cada questão. **Marque assim:** ●
9. A marcação em mais de uma alternativa anula a questão; questão rasurada também é anulada.
10. Use **caneta esferográfica preta ou azul**, para a marcação das respostas no Cartão-Resposta.
11. Qualquer tentativa de comunicação entre os candidatos é motivo de anulação da prova de todos os candidatos envolvidos.
12. Não é permitido o uso de calculadoras, dicionário ou outro material de apoio.
13. Esta prova terá a duração de 3:00 h (três horas)..
14. Ao terminar a prova, devolva para o fiscal o Caderno de Questões, o Cartão-Resposta e assine a lista de presença.
15. O gabarito preliminar será divulgado 24h após a realização da prova, no endereço eletrônico www.coned.com.br.
16. O candidato que desejar cópia da prova que realizou poderá obtê-la, via internet, após a divulgação do gabarito.

BOA PROVA!

NOME DO CANDIDATO

CARGO

PREFEITURA MUNICIPAL DE GOIANÉSIA DO PARÁ – Concurso Público 01/2012
Prova para a Categoria Funcional de Auxiliar Educacional: PORTEIRO ESCOLAR

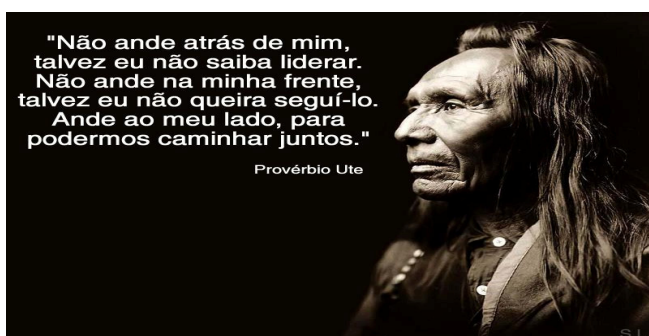
ASSINALE A ÚNICA ALTERNATIVA CORRETA EM CADA QUESTÃO

LÍNGUA PORTUGUESA

As questões de Língua Portuguesa estão baseadas nos pequenos textos dos quadrinhos que estão colocados antes delas.

Leia atentamente cada texto e responda às questões determinadas por ele.

Quadrinho 1 (Questões 1 a 3)



QUESTÃO 01

Este provérbio significa dizer que

- A) ser líder é andar com as pessoas em qualquer momento
- B) ao seguir o líder, as pessoas vão à frente dele
- C) andando juntas, as pessoas se sentem iguais umas às outras
- D) seguindo a liderança de alguém, as pessoas caminham juntas
- E) a liderança de uma pessoa faz as demais andarem sempre juntas

QUESTÃO 02

A única palavra que é um adjetivo é

- A) juntos
- B) atrás
- C) talvez
- D) mim
- E) meu

QUESTÃO 03

O provérbio chama alguém para andar consigo, lado a lado, por meio de um (a)

- A) comando
- B) sugestão
- C) súplica
- D) ordem
- E) conselho

Quadrinho 2 (Questões 4 e 5)



Eis o que está escrito nesse quadrinho:

“Aprendemos a voar como pássaros e o nadar como peixes, mas não aprendemos a conviver como irmãos” (Martin Luther King)

QUESTÃO 04

O autor deste pensamento mostra que os seres humanos

- I. voam, porque inventaram o avião e o paraquedas, imitando os pássaros
- II. nadam, porque construíram navios e praticam natação, imitando os peixes
- III. brigam entre si, porque, muitas vezes, não amam seus semelhantes

Está (estão) correta (s)

- A) apenas III
- B) apenas I e II
- C) apenas I e III
- D) apenas II
- E) todas as afirmações

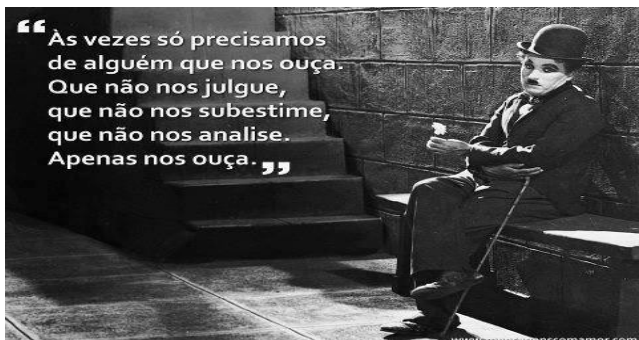
QUESTÃO 05

A palavra que está corretamente separada em sílabas é

- A) peixes → pe-i-xes
- B) irmãos → ir-mã-os
- C) voar → voar
- D) pássaros → pás-sa-ros
- E) aprendemos → apren-de-mos

PREFEITURA MUNICIPAL DE GOIANÉSIA DO PARÁ – Concurso Público 01/2012
Prova para a Categoria Funcional de Auxiliar Educacional: PORTEIRO ESCOLAR

Quadrinho 3 (Questões 6 a 8)



QUESTÃO 06

O pensamento conclui que o mais importante é uma pessoa se dispor a ouvir a outra, pois

- A) há muitos que só vivem apenas para “derrubar” os outros
- B) está tão difícil alguém ter tempo de dar a mínima atenção ao outro
- C) muita gente está precisando de alguém que lhe dê bons conselhos
- D) todas as pessoas agem com interesse próprio e tiram proveito disso
- E) há necessidade de receber uma palavra amiga de quem quer que seja

QUESTÃO 07

O autor do pensamento afirma que não se quer julgador, derrotista e analista da vida que uma pessoa leva, mas apenas alguém que ouça o que ela tem a dizer. Isso se deve ao fato de aquela pessoa querer sair da (o) _____ em que se encontra.

A situação que completa a lacuna é

- A) escuridão
- B) solidão
- C) preocupação
- D) desânimo
- E) descontentamento

QUESTÃO 08

Quanto ao número de sílabas, está correta a classificação das duas palavras

- A) alguém / analise (trissílabos)
- B) apenas / vezes (dissílabos)
- C) subestime / precisamos (polissílabos)
- D) nos / ouça (dissílabos)
- E) julgue / não (monossílabos)

Quadrinho 4 (Questões 9 a 11)



QUESTÃO 09

A conversa entre as duas mulheres define o tipo de homem que uma delas deseja, enquanto a outra identifica que esse tipo é mais apropriado a um cão. O vocábulo que, visivelmente, remete ao animal é

- A) leal
- B) fiel
- C) paciente
- D) bem-humorado
- E) atento

QUESTÃO 10

Os vocábulos, que são atribuídos ao tipo de homem desejado por uma das mulheres, pertencem à classe gramatical dos

- A) substantivos
- B) pronomes
- C) verbos
- D) adjetivos
- E) artigos

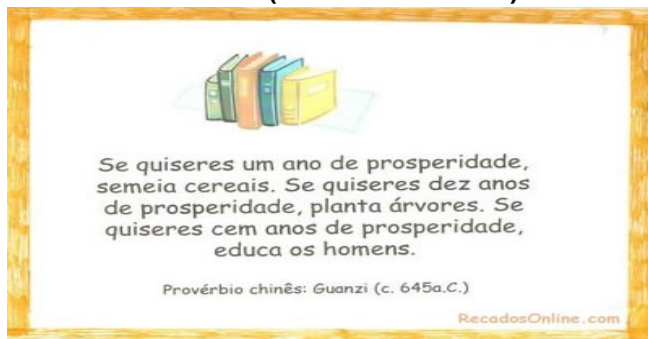
QUESTÃO 11

Em qual alternativa a palavra à direita é o plural da palavra à esquerda?

- A) fiel → fiéis
- B) homem → homens
- C) bem-humorado → bens-humorados
- D) leal → leiás
- E) cão → cãns

PREFEITURA MUNICIPAL DE GOIANÉSIA DO PARÁ – Concurso Público 01/2012
Prova para a Categoria Funcional de Auxiliar Educacional: PORTEIRO ESCOLAR

Quadrinho 5 (Questões 12 a 15)



QUESTÃO 12

Todas as ações nesse provérbio têm a ideia inicial de

- A) sugestão
- B) determinação
- C) convencimento
- D) afirmação
- E) condicionalidade

QUESTÃO 13

As palavras mais importantes, de cada frase, são

- A) um ano / dez anos / cem anos
- B) cereais / árvores / homens
- C) prosperidade / prosperidade / prosperidade
- D) semeia / planta / educa
- E) quiseres / quiseres / quiseres

QUESTÃO 14

Cada palavra é formada por uma ou mais sílabas, e cada sílaba só pode ter uma única vogal. Assim, está correta apenas a separação silábica da palavra

- A) se - me - ia
- B) ce - re - ais
- C) pro - sper - i - da - de
- D) qu - i - se - res
- E) ho - me - ns

QUESTÃO 15

Observe que, abaixo do texto, está escrito: **Provérbio chinês: Guanzi (c.645 a.C.)**. A última letra **C** está grafada em maiúscula porque

- A) as consoantes, quando estão sozinhas, devem ser escritas sempre em maiúsculas
- B) há um ponto em seguida colocado antes dessa letra
- C) inicia um novo período
- D) é um número algarismo romano
- E) é a inicial do nome Cristo, que é nome próprio

Quadrinho 6 (Questões 16 a 20)



QUESTÃO 16

Quando o provérbio fala em "dinheiro não pode ser comido", quer dizer que

- A) todos os valores ficam sujeitos ao dinheiro
- B) dinheiro algum se acaba, pois ele é eterno
- C) o valor do dinheiro desaparece se não há o que comprar com ele
- D) o homem pode comprar o que quiser, inclusive se faltar comida
- E) quem tem dinheiro, tudo pode

QUESTÃO 17

Este provérbio aborda o possível fim da existência humana, que será causado pelo grande _____ mal _____ denominado _____.

O termo que, corretamente, completa a lacuna é o (a)

- A) desmatamento das florestas
- B) envenenamento dos rios
- C) fome
- D) poluição dos rios
- E) aquecimento global

PREFEITURA MUNICIPAL DE GOIANÉSIA DO PARÁ – Concurso Público 01/2012
Prova para a Categoria Funcional de Auxiliar Educacional: PORTEIRO ESCOLAR

QUESTÃO 18

As palavras “última e árvore” estão acentuadas por serem

- A) paroxítonas terminadas em vogal
- B) proparoxítonas
- C) oxítonas terminadas em sílabas átonas
- D) paroxítonas com mais de duas sílabas
- E) oxítonas terminadas em vogais, independentemente se estão seguidas de s

QUESTÃO 19

Na última frase “ Somente então o homem descobrirá que dinheiro não pode ser comido”, há

- A) dois substantivos comuns
- B) um verbo regular
- C) três artigos
- D) dois adjetivos
- E) três verbos regulares

QUESTÃO 20

O verbo sublinhado em: “Somente então o homem descobrirá que o dinheiro não pode ser comido” está conjugado no

- A) presente do indicativo
- B) pretérito imperfeito do indicativo
- C) pretérito perfeito do indicativo
- D) futuro do presente
- E) futuro do pretérito

MATEMÁTICA**QUESTÃO 21**

Sobre o número 36 é correto afirmar que

- A) é múltiplo de 6 e divisor de 12
- B) é divisor de 6 e divisível por 12
- C) é maior que $\frac{3}{5}$ de 15
- D) possui apenas 8 divisores
- E) é um número primo

QUESTÃO 22

Carlito decidiu ir a um bar assistir ao jogo do clube de sua simpatia. Precavido, pegou o dinheiro que tinha e separou entre seus três bolsos. No primeiro bolso guardou um terço do que tinha; no segundo, a metade do que sobrou; no terceiro os R\$ 30,00 restantes.

Com quanto Carlito saiu para sua diversão?

- A) R\$ 84,00
- B) R\$ 75,00
- C) R\$ 190,00
- D) R\$ 100,00
- E) R\$ 90,00

QUESTÃO 23

Ao concluir seu curso superior, Terentino recebeu, na fábrica onde trabalha, um aumento de 64%, tendo seu salário passado para R\$ 1.722,00. O salário de Terentino, em reais, antes do aumento era

- A) R\$ 1.050,00
- B) R\$ 1.210,00
- C) R\$ 1.140,00
- D) R\$ 1.020,00
- E) R\$ 1.430,00

FAÇA SEUS CÁLCULOS

PREFEITURA MUNICIPAL DE GOIANÉSIA DO PARÁ – Concurso Público 01/2012
Prova para a Categoria Funcional de Auxiliar Educacional: PORTEIRO ESCOLAR

QUESTÃO 24

Carlos queria medir o comprimento da sala de aula em que estava estudando, mas para isso não tinha nenhum instrumento. Utilizando o próprio pé verificou que cabiam naquele comprimento 25 pés. Ao chegar em casa, com auxílio de uma fita métrica, viu que seu pé media 30 cm. Assim, concluiu que o comprimento da sala é igual a

- A) 4,40 m
- B) 750 cm
- C) 5 m
- D) 6 m
- E) 350 cm

QUESTÃO 25

Durante o mês de outubro, um funcionário faltou 8 vezes ao trabalho, só no período da tarde. Por cada período de falta é feito um desconto de meio dia de serviço. Quantos dias de serviço foram descontados do salário desse funcionário, em maio?

- A) 2
- B) 3
- C) 4
- D) 6
- E) 8

QUESTÃO 26

Uma sala tem a forma de um retângulo de perímetro igual a 35 m e uma das dimensões igual a 7,5 m. Para revestir esta sala com lajotas quadradas de 50 cm de lado, quantas lajotas serão necessárias?

- A) 300
- B) 240
- C) 380
- D) 450
- E) 320

QUESTÃO 27

Carla passa $\frac{1}{3}$ do dia dormindo, $\frac{1}{6}$ na escola, $\frac{3}{24}$ na academia de ginástica e $\frac{2}{5}$ das horas restantes na internet. Quanto tempo sobra, diariamente, para outras atividades?

- A) 6 h
- B) 4h 12 min
- C) 7 h
- D) 6h 54 min
- E) 5 h 24 min

FAÇA SEUS CÁLCULOS

PREFEITURA MUNICIPAL DE GOIANÉSIA DO PARÁ – Concurso Público 01/2012
Prova para a Categoria Funcional de Auxiliar Educacional: PORTEIRO ESCOLAR

QUESTÃO 28

A maior das frações $\frac{1}{2}$, $\frac{2}{3}$, $\frac{5}{6}$, $\frac{7}{12}$ e $\frac{3}{4}$ é

- A) $\frac{1}{2}$
- B) $\frac{2}{3}$
- C) $\frac{5}{6}$
- D) $\frac{7}{12}$
- E) $\frac{3}{4}$

QUESTÃO 29

Márcio vivia do que ganhava no pequeno comércio que tinha em um bairro de Goianésia. Um certo dia, foi a Tucuruí e comprou no Shopping 4 dúzias de copos de vidro a R\$ 36,00 cada dúzia. Seu neto, ao arrumá-los na prateleira da loja, deixou quebrar 6 desses copos.

Por quanto deve vender cada copo restante para que, ainda assim, tenha um lucro total de R\$ 66,00?

- A) 4
- B) 6
- C) 2
- D) 7
- E) 5

QUESTÃO 30

Uma compra de R\$ 1.200,00 pode ser paga em duas parcelas. A 1ª parcela tem um valor igual à metade do valor da compra. Se a loja cobra uma taxa a mais, correspondente a 12% sobre o saldo devedor, qual deverá ser o valor da 2ª parcela?

- A) R\$ 840,00
- B) R\$ 672,00
- C) R\$ 590,00
- D) R\$ 640,00
- E) R\$ 612,00

FAÇA SEUS CÁLCULOS